


شكراً لتحميلك هذا الملف من موقع المناهج العمانية



امتحان قصير ثاني

موقع المناهج ← المناهج العمانية ← الصف السادس ← علوم ← الفصل الأول ← الملف

التواصل الاجتماعي بحسب الصف السادس



روابط مواد الصف السادس على تلغرام

[الرياضيات](#)

[اللغة الانجليزية](#)

[اللغة العربية](#)

[التربية الاسلامية](#)

المزيد من الملفات بحسب الصف السادس والمادة علوم في الفصل الأول

ملخص المادة	1
نشاط درس الكائنات الدقيقة مع نموذج الإحابة	2
نشاط درس الكائنات الدقيقة والغذاء	3
حل كتاب النشاط	4
نموذج أسئلة الاختبار الرسمي لمحافظة (الظاهرة)	5

صفي الجميل:

انا المبدعة:

عدد الصفحات: 3 صفحات

زمن الامتحان: حصة واحدة.

1. من الآثار السلبية لعملية إزالة الغابات: (اختر الإجابة الصحيحة من بين البدائل المعطاة) (1)

- نقص نسبة ثاني أكسيد الكربون
○ الاحتباس الحراري
○ خصوبة التربة
○ زيادة نسبة الأوكسجين

2. ادرس المخطط الآتي ثم أجب عن الأسئلة التالية:

أ. كَوْن سلسلة غذائية تحتوي على :

(منتج، فريسة، مفترسان) (1)

.....
.....

ب. الكائن المفترس في الشكل: (ظلل اجابتك)

- العشب ○ الفراشة ○ الصقر

- فسر اجابتك:

.....

(1)

ج. على ماذا ترمز الأسهم الموجودة بين الكائنات؟

3. لديك مجموعة من المواد كما في الجدول ادناه، اكتب طريقة واحدة لإعادة تدويرها: (2)




المواد	قنينة ماء فارغة	علب زجاجية فارغة
طريقة إعادة التدوير		

4. اكتب طريقتين يمكن اتباعهم للحفاظ على الطاقة: (2)

1.

2.

5. الجدول الذي أمامك يوضح مجموعة من الكائنات، ادرسه جيداً ثم أجب:

		
(C)	(B)	(A)

- السلسلة الغذائية التي تصف الأشكال بطريقة صحيحة:

(1) اختر الإجابة الصحيحة من بين البدائل المعطاة)

$C \leftarrow A \leftarrow B$ $C \leftarrow B \leftarrow A$

$A \leftarrow C \leftarrow B$ $B \leftarrow A \leftarrow C$

(2) 6. أكمل الجمل التالية باستخدام الكلمات الموجودة في الصندوق:

الكربون - الحيوانات - الأمطار الحمضية - المباني - أكسيد الكبريت

- تموت الأشجار حول العالم لأسباب ما منها نوع من التلوث البيئي يطلق عليها
- تتشكل الأمطار الحمضية بسبب أكسيد النيتروجين و
- الأمطار الحمضية تسبب تآكل الصخور وتدمير
- تقتل الأمطار الحمضية النباتات و

7. أي من السلاسل الغذائية التالية تعتبر صحيحة؟ (ظلل الإجابة الصحيحة)

طائر -> سبانخ -> يرقة يرقة -> سبانخ -> طائر

سبانخ -> يرقة -> طائر طائر -> يرقة -> سبانخ

8. صل بين المصطلح الموجودة في العمود (أ)، مع المعنى المناسب له في العمود (ب):

(ب)	(أ)
الحيوان الذي يتغذى على الحيوانات الأخرى	الموطن الطبيعي
مكان تعيش فيه الكائنات الحية معاً	السلسلة الغذائية
مسمى آخر للمواد الغذائية	المفترس
علاقة غذائية بين الكائنات الحية	المغذي