

تم تحميل هذا الملف من موقع المناهج العمانية

الملف أسئلة موضوعية في درس حضارات بلاد الرافدين

[موقع المناهج](#) ← [المناهج العمانية](#) ← [الصف السابع](#) ← [اجتماعيات](#) ← [الفصل الأول](#)

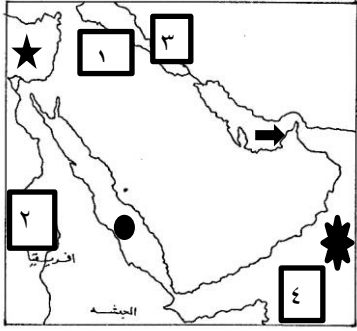
روابط مواقع التواصل الاجتماعي بحسب الصف السابع

روابط مواد الصف السابع على تلغرام			
الرياضيات	اللغة الانجليزية	اللغة العربية	التربية الاسلامية

المزيد من الملفات بحسب الصف السابع والمادة اجتماعيات في الفصل الأول

امتحان وإجابة الأسئلة الرسمية للفصل الدراسي الأول الدور الأول 20162017	1
ملخص الوحدة الاولى والثانية والثالثة	2
ملخص الوحدة الأولى الحضارات القديمة في عمان وشبه الجزيرة العربية	3
تحميل كتاب الطالب	4
ملف تحميل أسئلة الامتحانات الرسمية والأجوبة للسنوات السابقة	5

الوحدة الخامسة (حضارات مصر والهلل الخصب) حضارات بلاد الرافدين



١- موقع حضارات بلاد الرافدين اليوم في /

أ- سوريا ب- اليمن ج- العراق د- الاردن

٢- الرقم الذي يشير الى نهر الفرات في الخريطة الرقم /

أ- (١) ب- (٢) ج- (٣) د- (٤)

٣- يلتقيان نهري دجلة والفرات في مجرى واحد يعرف بـ /

أ- بحر العرب ب- منارة العرب ج- نهر العرب د- شط العرب

٤- الرمز الذي يشير الى مصب نهري دجلة والفرات /

أ- (★) ب- (→) ج- (●) د- (★)

٥- الشعوب التالية شعوب سامية هاجرت من شبه الجزيرة العربية واستقرت في بلاد الرافدين ما عدا /

أ- البابليون ب- الاشوريون ج- السومريون د- الاكاديون

٦- الشعب الذي استقر حيث الرمز (●) هم /

أ- الكلدانيون ب- الاشوريون ج- الاكاديون د- السومريون

٧- تقع بلاد الرافدين بالنسبة لقارة آسيا في جهة /

أ- الجنوب الغربي ب- الجنوب الشرقي ج- الشمال الشرقي د- الشمال الغربي

٨- استقر السومريون في بلاد الرافدين في الالف /

أ- الثانية ق.م ب- الثالثة ق.م ج- الرابعة ق.م د- الخامسة ق.م

٩- الصورة التي أمامك تعبر عن اللغة /

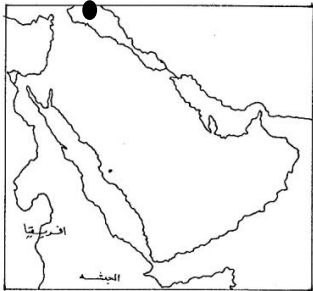
أ- الهيروغليفية ب- الفارسية ج- الاغريقية د- السومرية

١٠- ظهر في سومر نظام حكم عرف باسم /

أ- الحكم الذاتي ب- دويلات المدن ج- مدنات د- الامبراطورية

١١- المدن التالية جميعها مدن سومرية ما عدا /

أ- نينوى ب- لجش ج- كيش د- أور



- ١٢- اخترعت الكتابة السومرية من أجل /
- أ-كتابة النصوص المقدسة ب- لتأليف الكتب ج- لتسهيل المعاملات التجارية د- لترفيه
- ١٣- اتخذ من أكاد عاصمة لدولته /
- أ- سرجون الثاني ب- حمورابي ج- نوبخذ نصر الثاني د- سرجون الأول
- ١٤- ضعفت الدولة الاكادية بعد وفاة ملكها /
- أ- آشور بانيبال ب- سرجون الثاني ج- نارام سن د- سرجون الأول
- ١٥- تحتل الشعوب البابلية من حيث الاستقرار في بلاد الرافدين المرتبة
- أ-الاولى ب- الثانية ج- الثالثة د- الرابعة
- ١٦-باب إليم اسم مدينة كان يطلق زمن الاكاديون على مدينة /
- أ- سومر ب- بابل ج- أكاد د- آشور
- ١٧-الملك البابلي الذي حكم بابل عام ١٧٢٨ ق.م هو /
- أ- نارام سن ب- نابوبولاسر ج- نبوخذ نصر الثاني د- حمورابي
- ١٨- استمر حكم حمورابي حوالي /
- أ- ٤٠ سنة ب- ٤١ سنة ج- ٤٢ سنة د- ٤٣ سنة
- ١٩- تلقى حمورابي الاذن بتشريعاته من إله
- أ- القمر ب- الثريا ج- الشمس د- النيزك
- ٢٠-يوجد النصب الواضح أمامك في متحف اللوفر في /
- أ- باريس ب- برلين ج- ميونخ د- لندن
- ٢١- عرف الاشوريون بهذا الاسم نسبة الى إلههم /
- أ- عشتار ب- رع ج- آشور د- برعو
- ٢٢- العاصمة الاولى للأشوريون /
- أ- نينوى ب- آشور ج- أور د- كيش



٢٣- زود الجيش الآشوري بالعجلات الحربية

أ- سرجون الاول ب-حمورابي ج- سرجون الثاني د- نابوبولاسر

٢٤- حكم الامبراطورية الاشورية لمدة ٤١ سنة /

أ- نبوخذ نصر الثاني ب- آشوربانيبال ج- حمورابي د- سرجون الاول

٢٥- أهم ما تميز به آشوربانيبال إنشاء /

أ- بوابة عشتار ب- برج بابل ج- الحدائق المعلقة د- مكتبة نينوى

٢٦- جمعت علوم البابليين وآدابهم في عهد /

أ- سرجون الثاني ب- حمورابي ج- آشوربانيبال د- نبوخذ نصر الثاني

٢٧- مؤسس الدولة البابلية الثانية /

أ- نابوبولاسر ب- نبوخذ نصر الثاني ج- سرجون الاول د- سرجون الثاني

٢٨- الصورة التي أمامك تشير الى /

أ- حدائق بابل ب- برج بابل ج- بوابة عشتار د- نصب تشريعات حمورابي

٢٩- حكم نبوخذ نصر الثاني الدولة البابلية الثانية أكثر من /

أ- ١٠٠ عام ب- ٢٥ عام ج- ٧٥ عام د- ٥٠ عام

٣٠- من أهم أعمال نبوخذ نصر الثاني السياسية /

أ- اخضع العبرانيين ب- اخضع الآشوريون ج- اخضع السومريون د- اخضع الحوثيين

٣١- نقل نبوخذ نصر الثاني العبرانيين من القدس إلى /

أ- سومر ب- نينوى ج- بابل د- أكاد

٣٢- شيد برج بابل بارتفاع يصل إلى /

أ- ٥٠ م ب- ٦٠ م ج- ٧٠ م د- ٨٠ م

٣٣- مدخل ضخم يصل بين القصور والمعابد تشير اليه الصورة /



د



ج



ب



أ

٣٤- انشئت بوابة عشتار لتكون /

أ-ساحة للحرب ب-للاحتفالات الدينية ج-ميدان لسباق الخيول د-دور عبادة

٣٥-صنفت لتكون احدى عجائب الدنيا السبع /

أ- برج بابل ب- بوابة عشتار ج- مكتبة نينوى د- الحدائق المعلقة

٣٦-شيدت الحدائق المعلقة في عهد الدولة /

أ- البابلية ب- الكلدانية ج- الاكادية د- السومرية

٣٦- المعلم الذي يتوسط الحدائق المعلقة /

أ-المعابد ب- مساكن الوزراء ج-قصر الملكة د- النافورات

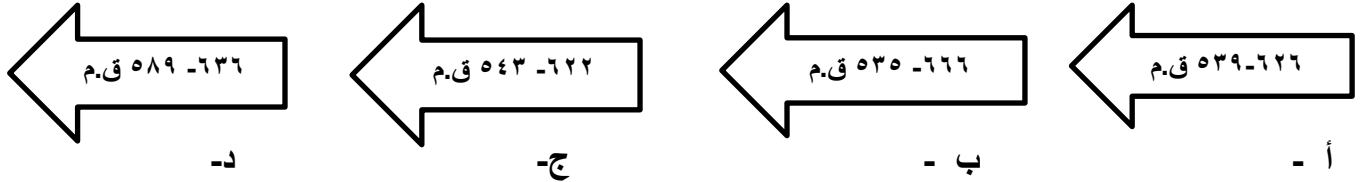
٣٧-تعرضت الدولة البابلية الثانية للغزو /

أ- الروماني ب- الفارسي ج- الاغريقي د-الفرعوني

٣٨-سقت الدولة الكلدانية عام /

أ- ٥٥٥ ق.م ب- ٥٣٤ ق.م ج- ٥٣٩ ق.م د- ٥٩٠ ق.م

٣٩-الفترة الزمنية التي يشير إليها الخط الزمني لحكم الدولة الكلدانية /



٤٠ - قوانين حمورابي في الاحوال الشخصية تضمنت الاحوال التالية ما عدا /

أ-الطلاق ب- الزواج ج- المواريث د- القصاص

انتهت الاسئلة

إعداد الاستاذة / وفاء العلوي