

تم تحميل هذا الملف من موقع المناهج العُمانية



*للحصول على أوراق عمل لجميع الصفوف وجميع المواد اضغط هنا

<https://almanahj.com/om>

* للحصول على أوراق عمل لجميع مواد الصف السابع اضغط هنا

<https://almanahj.com/om/7>

* للحصول على جميع أوراق الصف السابع في مادة اجتماعيات ولجميع الفصول, اضغط هنا

<https://almanahj.com/om/7social>

* للحصول على أوراق عمل لجميع مواد الصف السابع في مادة اجتماعيات الخاصة بـ الفصل الأول اضغط هنا

<https://almanahj.com/om/7social1>


* لتحميل كتب جميع المواد في جميع الفصول للـ الصف السابع اضغط هنا

<https://almanahj.com/om/grade7>

* لتحميل جميع ملفات المدرس علي بن محمد الحسان اضغط هنا

للتحدث إلى بوت على تلغرام: اضغط هنا

https://t.me/omcourse_bot



مذكرة إثرائية لمادة

الدراسات الاجتماعية

2020-2021

الصف السابع

الفصل الدراسي الأول

الوحدة الأولى

(الحضارات القديمة في عمان وشبه الجزيرة العربية)

سؤال وجواب

إعداد :

علي بن محمد الحسان

للتواصل :

99493923

Ali 47536@moe.om

{ درس : نشأة الحضارات القديمة في الوطن العربي }

السؤال الأول : ضع علامة (✓) أو (X) أمام العبارة المناسبة مع تصحيح ما تحته خط إذا كانت العبارة خطأ .

- ١- (X) عصور ما قبل التاريخ هي عصور طويلة قدرها العلماء بِعشرات الألوف من السنين . بمئات
- ٢- (✓) يعد اكتشاف النار أضخم إنجاز بشري في مرحلة العصر الحجري القديم .
- ٣- (X) العصور الحجرية هي العصور التي كان الإنسان يصنع أدواته من النحاس . الأحجار الصوانية
- ٤- (✓) يعتبر معدن البرونز أكثر صلابة من معدن النحاس .
- ٥- (X) بدأ الإنسان يستخدم النقود بدلاً من المقايضة في العصر البرونزي . الحديدي

السؤال الثاني : ضع دائرة على الإجابة الصحيحة من بين البدائل المعطاه .

- ١- عرف إنسان الوطن العربي القديم الكتابة خلال الألف قبل الميلاد .
(الثاني - الثالث - الرابع)
- ٢- تبدأ العصور التاريخية من معرفة الإنسان
(للزراعة - للكتابة - للتجارة)
- ٣- يعد اكتشاف أضخم إنجاز بشري حققه الإنسان في العصر الحجري القديم
(النار - الكتابة - الزراعة)
- ٤- استطاع إنسان العصر البرونزي من مزج النحاس بالقصدير فتوصل إلى إنتاج معدن
(الحديد - البرونز - الفضة)

السؤال الثالث : أكمل مايلي بعبارات مناسبة من عندك .

- ١- لقد استغل الإنسان قدراته لسد احتياجاته المعيشية الأساسية من مأكل وملبس ومسكن من البيئة المحيطة به .
- ٢- يقسم المؤرخون فترة حياة الإنسان على سطح الأرض إلى قسمين رئيسيين عصور ما قبل التاريخ و العصور التاريخية .
- ٣- نستمد معرفتنا عن عصور ما قبل التاريخ مما خلفه الإنسان من الأدوات وبقايا البيوت والمعابد والمقابر .
- ٤- نستمد معرفتنا عن العصور التاريخية من خلال كتاباته وما خلفه من آثار مادية .

السؤال الرابع : إختار الكلمة المناسبة من بين القوسين وضعها في الفراغ المناسب لها في القطعة التالية .

(الحيوانات - الأدوات - الأشجار - أسر - المغارات - الحيوانات - الاستقرار - الكتابة)

استغل الإنسان قدراته لسد احتياجاته المعيشية الأساسية فحصل على غذائه من ثمار الأشجار ولبس جلود الحيوانات وسكن الكهوف والمغارات ، وتدرج في حياته الاجتماعية فنظم في أسر وأسطاد الحيوانات وصنع الأدوات واخترع الكتابة ، ثم انتقل من حياة التنقل والترحال إلى حياة الاستقرار.

السؤال الخامس : علل مايلي " أذكر السبب "

١- تسمية العصر البرونزي بهذا الاسم .

لأن الإنسان استخدم معدن البرونز في صناعة أدواته وأسلحته .

٢- تسمية العصر الحديدي بهذا الاسم .

لأن الإنسان اكتشف معدن الحديد في صناعة أدواته وأسلحته .

السؤال السادس : صل بخط بين المنجز في العمود الأول والعصر المناسب له في العمود الثاني .

م	الحدث	العصر
١	مزج النحاس بالقصدير	الحجري القديم
٢	اكتشاف النار	البرونزي
٣	ظهور المدن التجارية واستخدام النقود	الحجري الحديث
٤	استقرار الإنسان القديم	الحديدي

السؤال السابع : عبر عن الصور التالية :


أسلحة برونزية



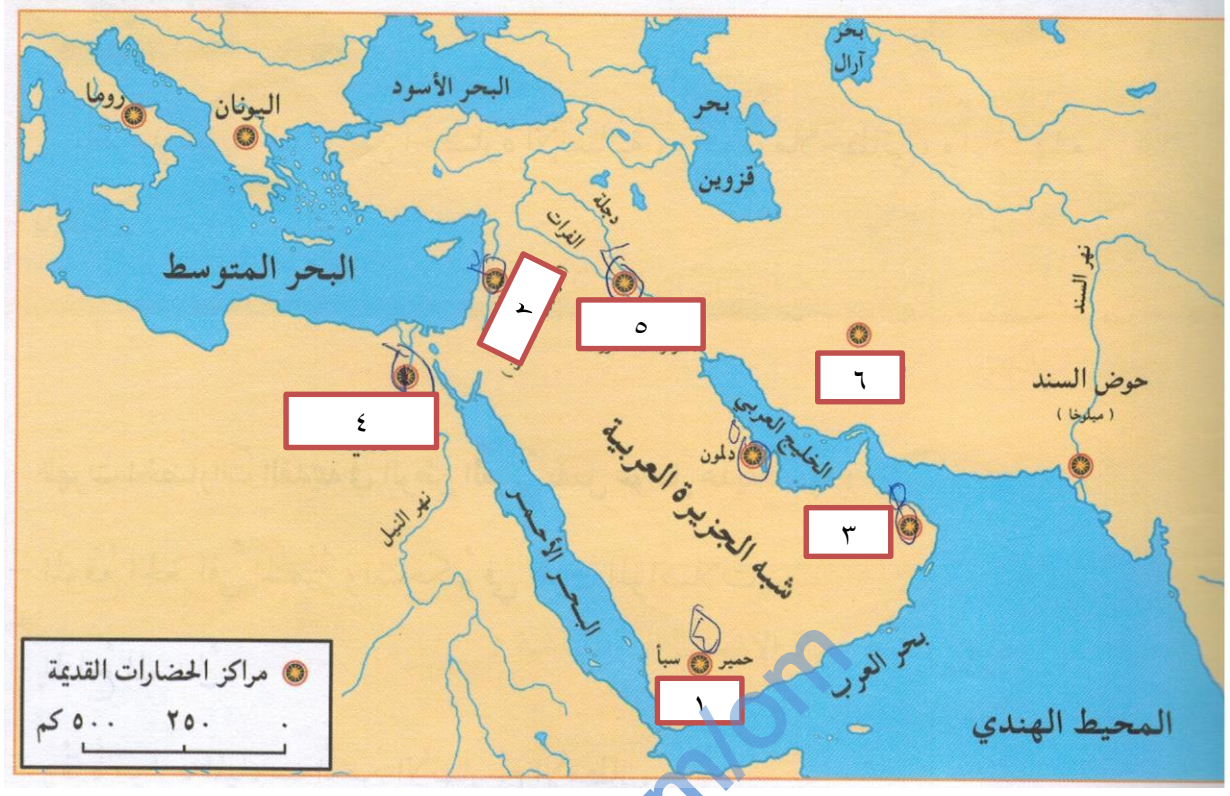
طريقة الحصول على النار



من أدوات الإنسان القديم



مرحلة الجمع والصيد



١- اليمن ٢- بلاد الشام ٣ مجان ٤- الحضارة المصرية ٥- بلاد الرافدين ٦ - بلاد فارس

السؤال الثامن : أجب عن الأسئلة التالية:

س ١ : " كرم الله تعالى الإنسان وميزه عن بقية المخلوقات بعدة أمور " أذكر أهم ميزتين ميزهما للإنسان ؟

ج ٢ : ١- القدرة على التفكير ٢- العمل باليد

س ٢ : عرف مفهوم الحضارة ؟

ج ٢ : الحضارة كل ما أوجده الإنسان من أجل سد احتياجاته سواء كان ذلك ماديا أو غير مادي .

س ٣ : مما تنتج الحضارة ؟

ج ٣ : تنتج الحضارة من تفاعل الإنسان مع مكونات بيئته .

س ٤ : " مرت مراحل تطور الحضارة القديمة الى أربعة عصور " أذكر مسميات هذه العصور ؟

ج ٤ : ١- العصر الحجري القديم ٢- العصر الحجري الحديث ٣- العصر البرونزي ٤- العصر الحديدي

س ٥ : بماذا تميز العصر الحجري الحديث ؟

ج ٥ : تميز بالجفاف وقلة الأمطار حيث نزل الإنسان إلى أودية الأنهار وعرف الزراعة والاستقرار واستئناس الحيوان .

س ٦ : " أضطر الإنسان في العصر الحجري الحديث إلى العيش على ضفاف الأنهار وسهولها الخصبة " ماذا كان من نتيجة ذلك ؟

ج ٦ : أهتدى إلى الزراعة وإنتاج الحبوب وأستأنس الحيوانات وعاش حياة الاستقرار بدل حياة التنقل والترحال .

س ٧ : ما أهم ماتوصل إليه الإنسان في العصر البرونزي ؟ أذكر ثلاث فقط

- ج ٧ : - معرفة البرونز
- استخدام الكتابة
- استخدام الطوب في البناء
- استخدام الأثاث الخشبي
- تقدم عدد من العلوم لاسيما الحساب والهندسة والطب والفلك .

س ٨ : ما أهم ماتميز به الإنسان في العصر الحديدي ؟ أذكر ثلاث فقط

- ج ٨ : - استخدم الحديد في صناعة الأدوات والأسلحة .
- تمكن من إزالة أجزاء من الغابات .
- إعداد الأرض للزراعة .
- بدأ الإنسان يستخدم النقود بدل المقايضة .
- زاد التبادل التجاري
- تحسنت صناعة السفن .
- ظهرت المدن التجارية .

س ٩ : ماذا يقصد بالمقايضة ؟

ج ٩ : يقصد به تبادل سلعة وأخذ عوضا عنها سلعة أخرى .

س ١٠ : " ظهرت الحضارات القديمة في الوطن العربي بفعل عدة عوامل " أذكر أهم هذه العوامل ؟

- ج ١٠ : - الموقع الجغرافي المتميز والمتحكم في طرق المواصلات
- المناخ المعتدل
- وفرة موارد المياه سواء من الأنهار أم الأمطار
- استغلال الإنسان لعقله وجهده في تطوير أدواته وأفكاره للاستفادة من الظروف الطبيعية المحيطة به ،

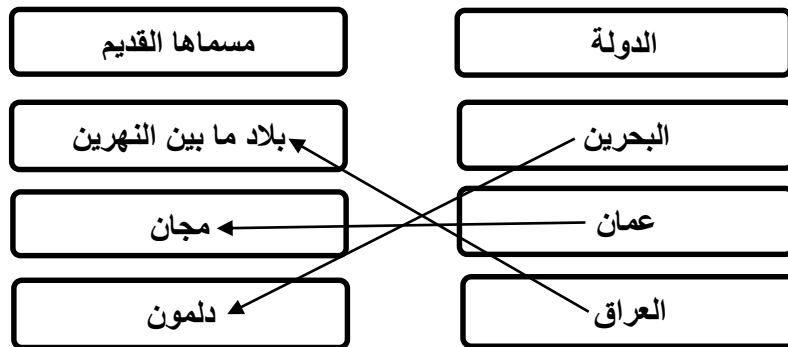
{ درس : الحضارات القديمة في عمان }

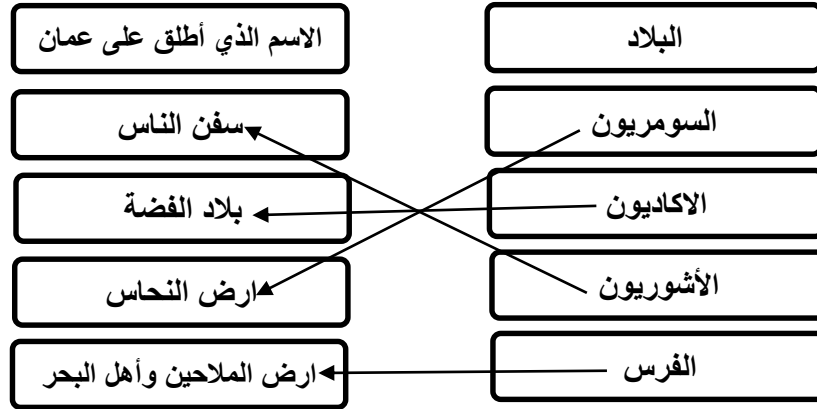
السؤال الأول : ضع علامة (✓) أو (X) أمام العبارة المناسبة مع تصحيح ما تمته خط إذا كانت العبارة خطأ .

- ١- (X) تم العثور على أدوات تنتمي إلى مرحلة العصر الحجري القديم في عمان . لم يتم العثور
 ٢- (✓) دلت الحفريات على أن الأهالي قديماً أقاموا مجتمعاً كبيراً منظماً .
 ٣- (X) الوسيلة التي اعتمدها العماني قديماً في زراعته كانت مياه الأفلاج . الأمطار
 ٤- (X) تم العثور على حوالي ٢٠٠ مقبرة مبنية من الحجر المحلي فوق سطح الأرض في بات . ١٠٠
 ٥- (✓) وجود الجرار المصنوعة من الفخار دليل على اعتقاد العماني القديم باستمرار الحياة في العالم الآخر.
 ٦- (✓) كانت هناك علاقات وطيدة بين بلاد مجان ودمون وبلاد ما بين النهرين وخاصة في المجال الاقتصادي .
 ٧- (X) كان للفراعنة المصريين علاقات كبيرة بظفار نتيجة وجود النحاس بها . اللبان
 ٨- (✓) من خصائص شجرة اللبان أنها تحتفظ بالرطوبة رغم وجودها في منطقة جافة .


السؤال الثاني : أكمل مايلي بعبارات مناسبة من عندك .

- ١- كان العماني قديماً يستخدم فحم الخشب كوقود لصهر النحاس .
 ٢- من الصناعات التي كان العماني يصنعها من النحاس صناعة الأسلحة والحلي .
 ٣- من أهم المواقع الأثرية الدالة على استخراج النحاس وتصنيعه كان في عرجاء والأصيل والواسط .
 ٤- يتضح لنا مدى تطور عمارة بناء المقابر في عمان قديماً والتي كانت على شكل خلية النحل .
 ٥- أطلق السومريون اسم مجان على عمان وتعني أرض النحاس .
 ٦- اتخذ الفرس من مدينة صحار مركزاً لتجارتهم البحرية .


السؤال الثالث : أ - صل بخط بين الدولة ومسامها قديماً :

السؤال الثالث : ب - صل بخط بين البلاد والإسم الذي اطلقوه على عمان قديما في العمود الثاني:**السؤال الرابع : ضع دائرة حول الإجابة الصحيحة**

- ١- العصر الذي بدأ فيه الإنسان العماني بالتعبير عن ذاته بالرسم على الصخور وجدران الكهوف هو (العصر الحجري القديم - العصر الحجري الأوسط - العصر الحجري الأعلى)
- ٢- يعد توافر معدن على نطاق واسع في عمان القديمة عنصرا حضاريا مهما في تاريخها الحضاري . (الحديد - النحاس - الفضة)
- ٣- تمكنت فرق التنقيب من العثور على العديد من المواقع الأثرية الدالة على إستخراج النحاس وتصنيعه بلغت (٣٢ - ٤٢ - ٥٢) موقع
- ٤- يعتبر موقع في عبري من اهم المواقع الأثرية لدراسة حياة الإنسان في عصر ما قبل الكتابة (سمد الشان - بات - راس الحد)
- ٥- من خلال التنقيب والترميم تم العثور في جامع قلعة بهلاء على حوالي قطعة فضية . (٢٧٠ - ٣٧٠ - ٤٧٠)
- ٦- كانت بلاد مجان تصدر النحاس وحجر لدلمون ومنه لبلاد ما بين النهرين . (الفوسفات - البازلت - الديوريت)
- ٧- عرفت عمان في النصوص الأكادية ببلاد (الفضة - الذهب - النحاس)
- ٨- كان اللبان ينقل من ظفار إلى أنحاء متفرقة من العالم القديم عبر ميناء (البليد - ريسوت - سمهرم)
- ٩- يصل ارتفاع شجرة اللبان في العادة الى (٢ - ٣ - ٤) أمتار
- ١٠- يبدأ المشتغلون بجمع اللبان بجرح الشجرة بأداة تسمى (الفاس - المنقار - المنقف)

السؤال الخامس : عبر عن الصور التالية :


شجرة اللبان



مقابر بات



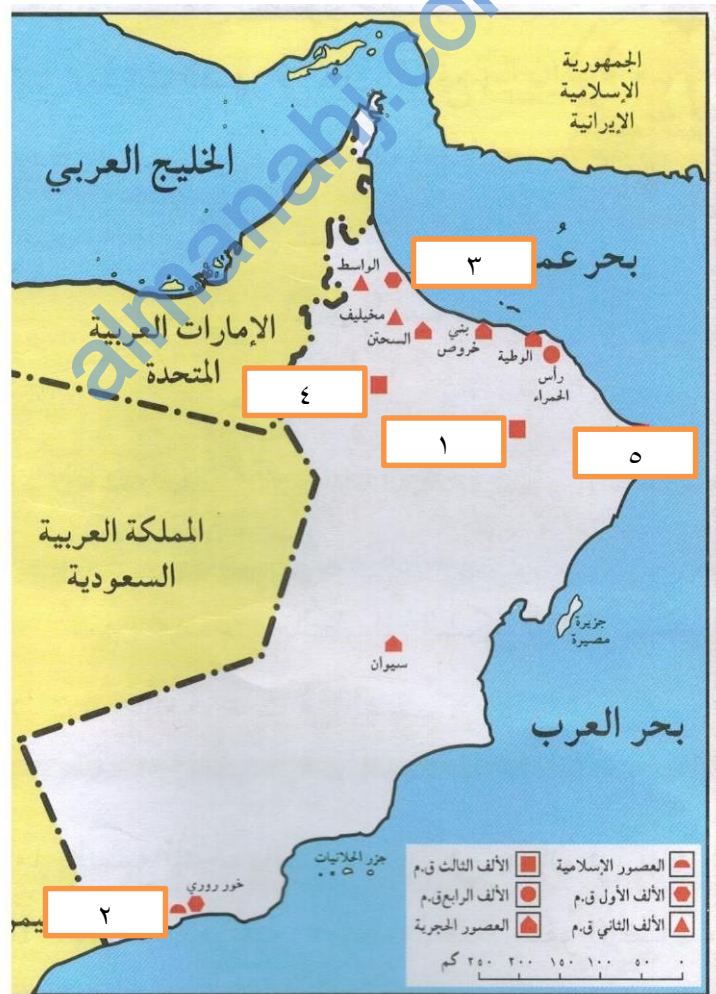
صهر النحاس



الرسم على الصخور

السؤال السادس : من خلال الخريطة التي أمامك ضع ارقام المواقع الأثرية التالية في أماكنها الصحيحة :

- ١- سمد الشأن ٢- البليد ٣- صحار ٤- بات ٥- راس الحد



السؤال السابع : علل " أذكر السبب " :

١- وجود بقايا ثمار النخيل المتحجرة في مواقع الحفر قديماً في سلطنة عمان .
هذا دليل على أن الإنسان العماني قديماً كان مستقراً وعرف الزراعة وبخاصة النخيل .

٢- حولت الفرس تجارة المحيط الهندي من البحر الأحمر إلى المحيط الهندي .
لأن منطقة الخليج العربي و عمان منطقة استراتيجية في التجارة العالمية .

٣- شغلت ظفار مساحة حضارية مهمة في التاريخ القديم .
لوجود شجرة اللبان الذي حظى باهتمام كبير عبر العصور التاريخية القديمة .

٤- يتم التخلص من السائل الناتج من الضربة الأولى في استخراج اللبان ؟
لأن نوعيته غير جيدة وكميته ليست تجارية

السؤال الثامن : اجب عن الأسئلة التالية :

س ١ : ما هي المكتشفات الأثرية التي وجدت في عمان في العصر الحجري الأوسط ؟

ج ١ : تم العثور على كميات من الشظايا تضمنت المكاشط والأدوات المتميزة بأطرافها الدقيقة .

س ٢ : مادور توافر معدن النحاس في عمان القديمة ؟

ج ٢ : نظرا لوجود كميات كبيرة من معدن النحاس فقد تمكن الإنسان من التوصل إلى تقنية صهر النحاس فاصبح المادة الأساسية لصنع أدوات الإنسان القديم .

س ٣ : كيف كانت التجمعات السكنية في عمان في فترة العصور الحجرية القديمة ؟

ج ٣ : دلت الحفريات على أن الأهالي أقاموا مجتمعا كبيرا ومنظما فقد استقر الإنسان واعتمد في زراعته على مياه الأمطار وأقام الخزانات للتحكم في المياه وعرفت زراعة النخيل .

س ٤ : " تمثل فترة عمان في عصر ما قبل التاريخ مرحلة مهمة في تاريخ عمان " وضح ذلك ؟

ج ٤ : لقد بدأت ملامح هذه الحضارة تتشكل في الألف الرابعة ق.م حيث أنها مهدت لانتقال الإنسان إلى مرحلة الاستقرار التي تميزت بتقدم الزراعة وبناء المدن ومعرفة الكتابة .

س ٥ : " كان للحضارة المصرية القديمة علاقات تجارية جيدة مع عمان " أذكر ماكانت تستورده من عمان قديماً ؟

ج ٥ : كانت تستورد الفضة والنحاس والأخشاب والصمغ واللبان .

س ٦ : تحدث باختصار عن كيفية استخراج اللبان في ظفار ؟

ج ٦ : تمر مرحلة استخراج اللبان بثلاث مراحل هي :

المرحلة الأولى : تسمى التوقيع حيث يتم كشط القشرة الخارجية لجذع الشجرة وأغصانها فيخرج سائل لزج حليبي اللون لا يلبث أن يتجمد

المرحلة الثانية : تتم بعد اسبوعين من المرحلة الأولى حيث يتم التخلص من السائل الناتج من الضربة الأولى لأن نوعيته غير جيدة وكميته ليست تجارية ثم تجرح الشجرة مرة ثانية .

المرحلة الثالثة : تتم بعد اسبوعين من عملية الجرح الثانية وتعتبر مرحلة الجمع الحقيقي للبان حيث تنقر الشجرة مرة ثالثة فيخرج سائل لباني مائل إلى الصفرة ذو نوعية جيدة وبكميات تجارية .

س ٧ : اذكر ثلاث من أهم استخدامات اللبان قديما ؟

ج ٧ : يستخدم في : ١- تحنيط الموتى كما فعل الفراعنة

٢- تبخير جثث الموتى والكنائس عند الرومان

٣- مطهر وعلاج لأمراض الربو والسعال المزمن وضيق التنفس وأوجاع الكلى.....

almanahj.com