

تم تحميل هذا الملف من موقع المناهج العمانية



الملف مراجعة درس موقع الوطن العربي

[موقع المناهج](#) ⇐ [المناهج العمانية](#) ⇐ [الصف الخامس](#) ⇐ [جغرافيا](#) ⇐ [الفصل الأول](#)

روابط مواقع التواصل الاجتماعي بحسب الصف الخامس



روابط مواد الصف الخامس على تلغرام

[الرياضيات](#)

[اللغة الانجليزية](#)

[اللغة العربية](#)

[التربية الاسلامية](#)

المزيد من الملفات بحسب الصف الخامس والمادة جغرافيا في الفصل الأول

الدرس الأول : موقع الوطن العربي

اختر الاجابة الصحيحة من بين البدائل المعطاة :

1 (تقدر مساحة الوطن العربي بحواليمليون كم2 .
أ – 12 ب – 13.5 ج – 15.5 ج – 20

2 (يبلغ عدد الدول العربية
أ – 12 ب – 14 ج – 22 د - 24

3 (يقع الوطن العربي بين دائرتي عرض

أ – 12 جنوبا و37.5 شمالا ب – 37.5 جنوبا و12 شمالا

ج – 17 غربا و 60 شرقا د – 20 جنوبا و 40 شرقا

4 (يقع الوطن العربي بين خطي طول

أ – 60 شرقا و 17 غربا ب – 17 غربا و 60 شرقا

ج – 12 جنوبا و37.5 شمالا د – 40 غربا و 70 شرقا

أجب عن الاسئلة التالية :

1 (عرف الموقع الجغرافي ؟

.....

2 (عرف الموقع الفلكي ؟

.....

3 (عرف خطوط الطول ودوائر العرض ؟

.....

4 (وضح استخدام شبكة خطوط الطول ودوائر العرض ؟

.....

5 (قارن بين خطوط الطول ودوائر العرض حسب الجدول الآتي :

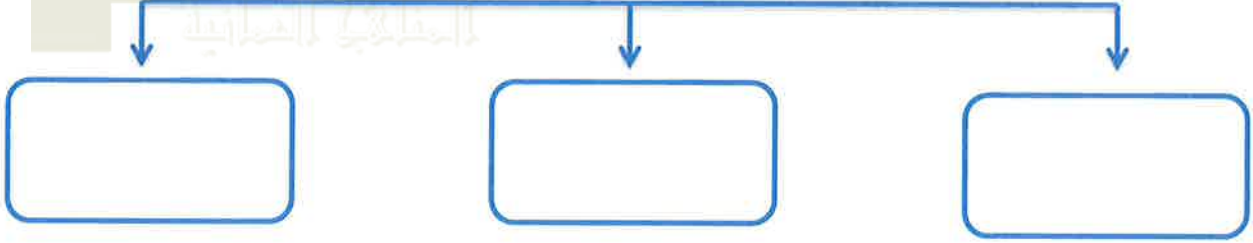
دوائر العرض	خطوط الطول	أوجه المقارنة
		المفهوم
		العدد
		الدائرة / الخط الرئيسي
		الفائدة

6 (صنف العبارات التالية التي توضح أهمية موقع الوطن العربي حسب الجدول التالي :
) إقامة العلاقات التجارية مع دول العالم - حلقة وصل بين قارات اوربا واسيا وافريقيا
 - سهل التواصل بين حضارات الوطن العربي والحضارات الأخرى)

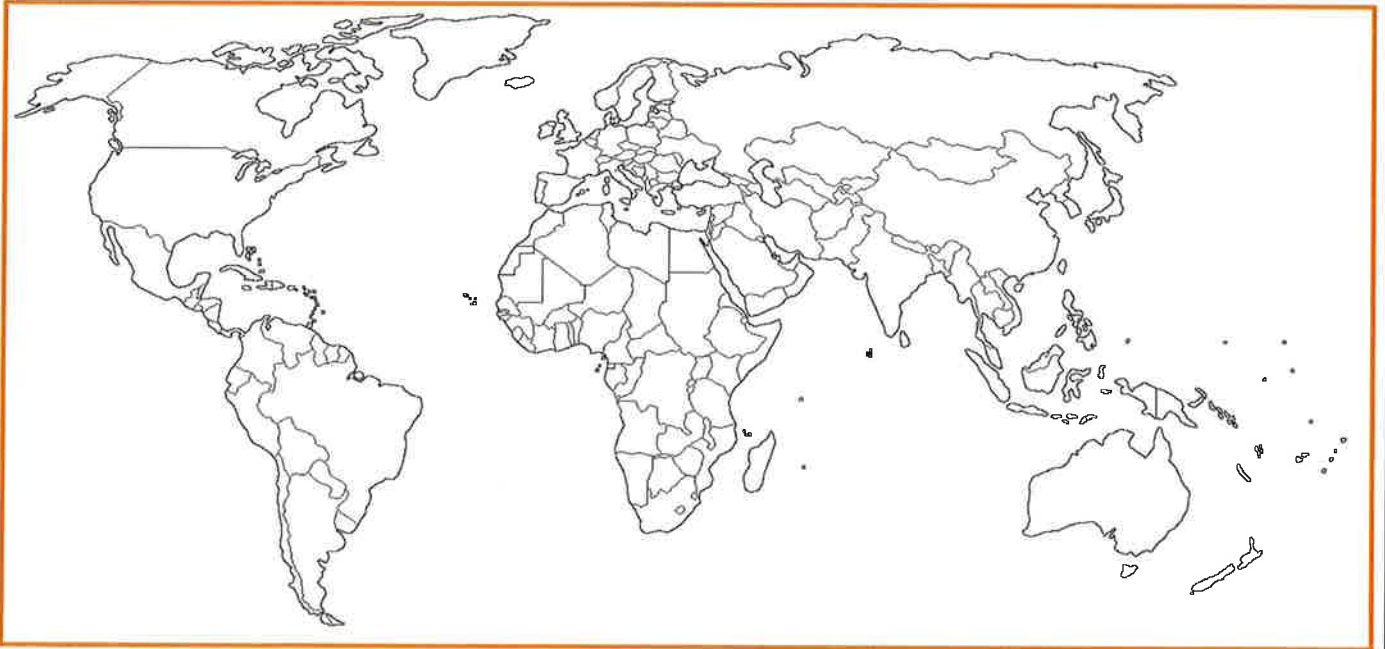
أهمية موقع الوطن العربي		
جغرافيا	اقتصاديا	حضاريا

7 (أكمل الشكل التالي :

الخصائص المشتركة بين العرب



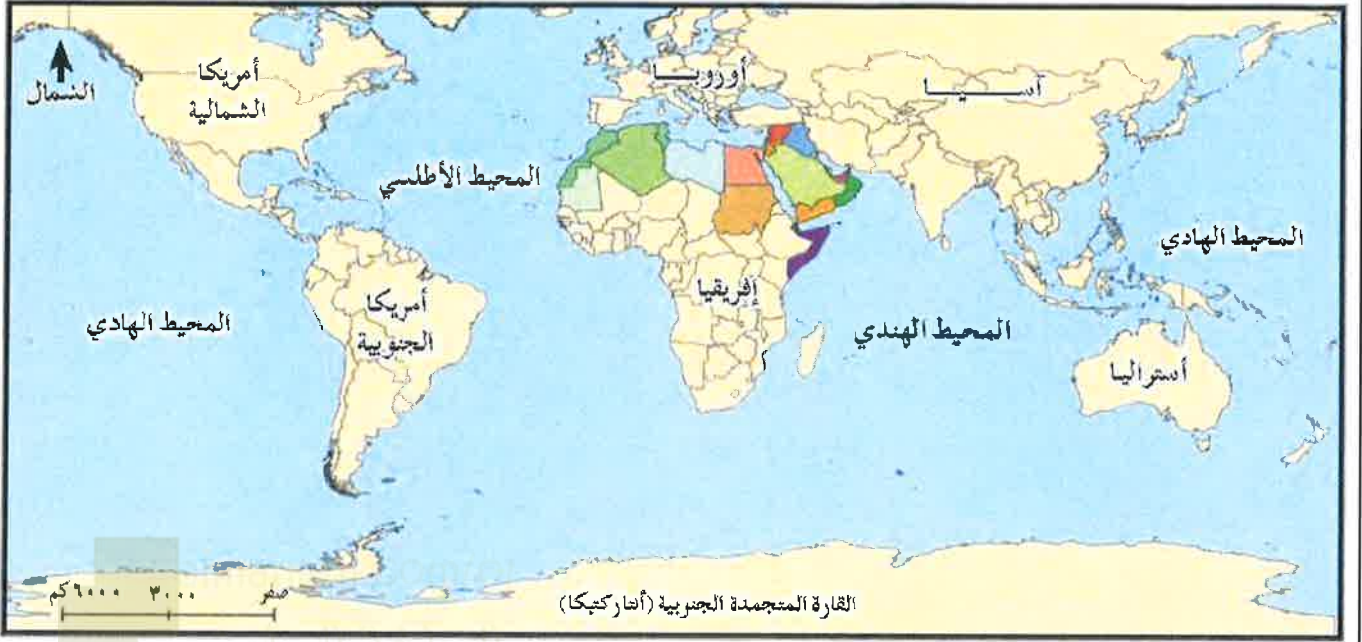
8 (أمامك خريطة العالم ادرسها جيدا ثم أجب عن الاسئلة التي تليها :



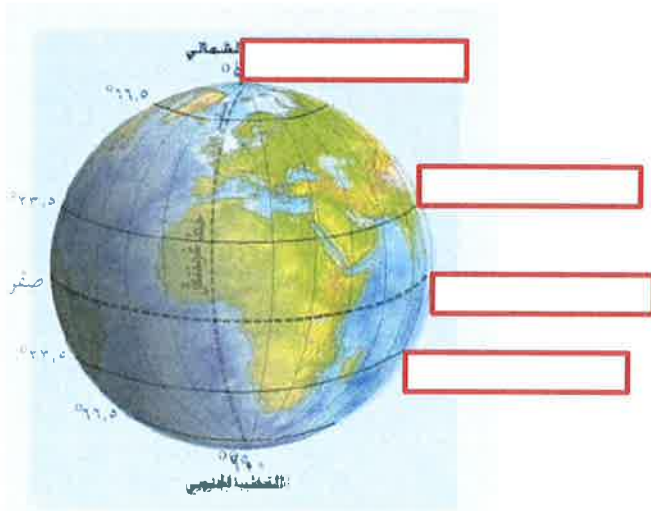
أ (باستخدام القلم الرصاص ضلل موقع الوطن العربي عليها .

ب (أكتب اسماء القارات والمحيطات على الخريطة .

9) أمامك خريطة ادرسها جيدا ثم أجب عن الاسئلة التي تليها :

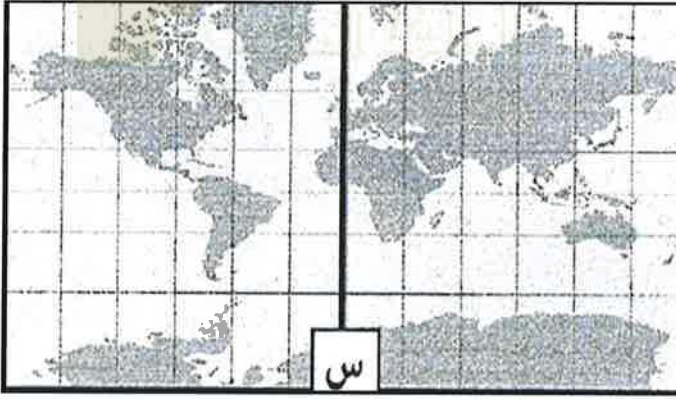
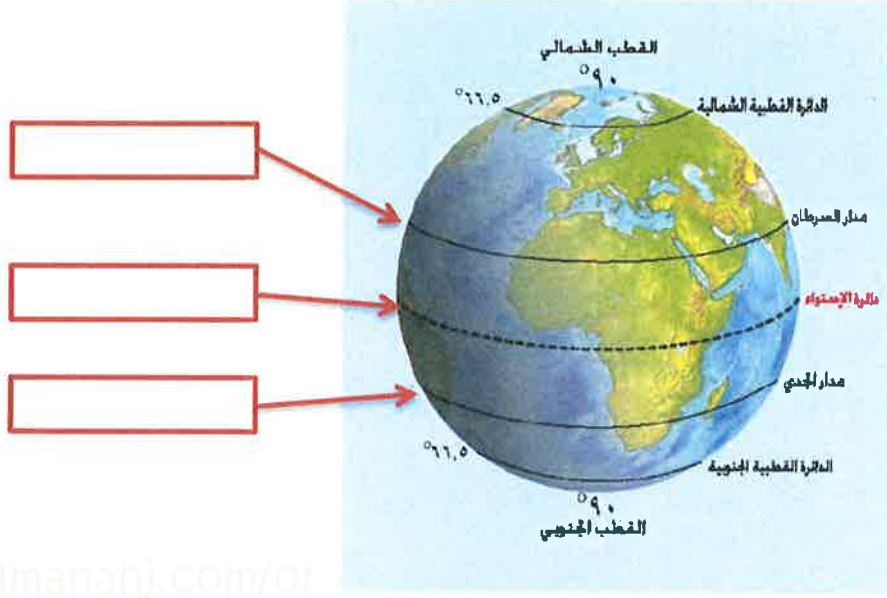


- أ) يقع الوطن العربي في قارتين هما و.....
- ب) يطل الوطن العربي على محيطين هما و.....
- 10) اكتب اسماء دوائر العرض وخط الطول الرئيسي في مكانها الصحيح على الشكل المقابل.



- (دائرة الاستواء - خط جرينتش
- مدار السرطان - مدار الجدي)

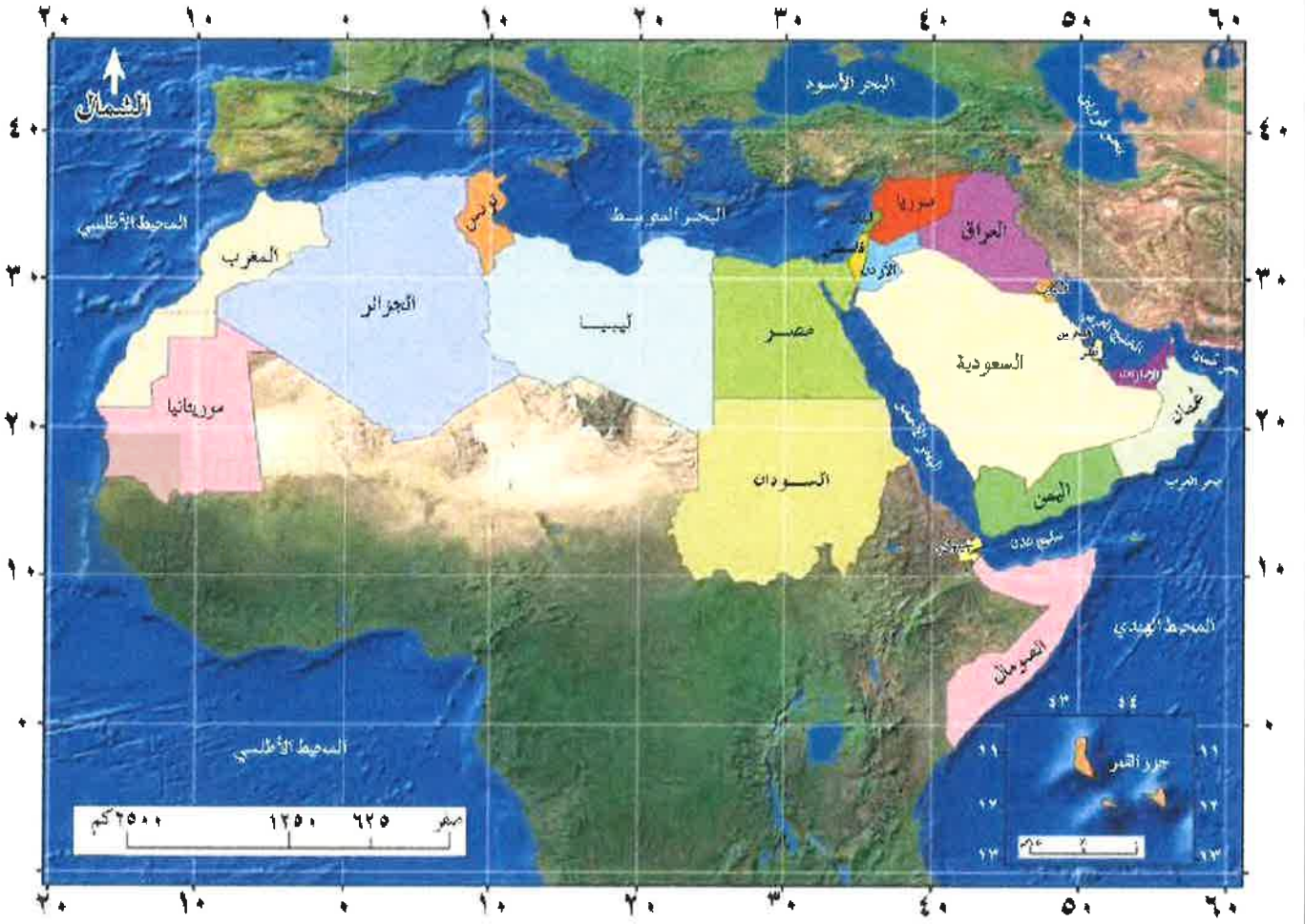
11) أكتب على الشكل المقابل الدرجات الصحيحة لدوائر العرض الرئيسية.



12) الرمز (س) في الخريطة يشر إلى

- أ - دائرة الاستواء
ب - مدار الجدي
ج - خط جرينتش
د - مدار السرطان

13 (أمامك خريطة ادرسها جيدا ثم أجب عن الاسئلة التي تليها :



أ - وقع عليها الموقع الفلكي للوطن العربي والذي يقع بين دائرتي عرض 12 جنوبا و 37.5 شمالا وبين خطي طول 17 غربا و 60 شرقا . (استخدم المسطرة والقلم)

ب - استنتج من الخريطة مايلي

- 1 - دولة عربية يمر بها خط جرينتش
- 2 - دولة عربية تمر بها دائرة الاستواء
- 3 - خط الطول 10 غربا يمر بدولتين عربيتين هما