


تم تحميل هذا الملف من موقع المناهج العمانية



الملف الدرس الثاني تضاريس الوطن العربي

[موقع المناهج](#) ← [المناهج العمانية](#) ← [الصف الخامس](#) ← [اجتماعيات](#) ← [الفصل الأول](#)

روابط مواقع التواصل الاجتماعي بحسب الصف الخامس



روابط مواد الصف الخامس على تلغرام

[الرياضيات](#)

[اللغة الانجليزية](#)

[اللغة العربية](#)

[التربية الاسلامية](#)

المزيد من الملفات بحسب الصف الخامس والمادة اجتماعيات في الفصل الأول

امتحان وإجابة الأسئلة الرسمية للفصل الدراسي الأول الدور الأول 2017/2016	1
امتحان وإجابة الأسئلة التدريبية في محافظة شمال الباطنة للفصل الدراسي الأول الدور الأول 2017/2016	2
امتحان وإجابة الأسئلة الرسمية في محافظة الظاهرة للفصل الدراسي الأول الدور الثاني 2015/2016	3
امتحان وإجابة الأسئلة الرسمية في محافظة جنوب الشرقية للفصل الدراسي الأول الدور الثاني 2015/2016	4
امتحان وإجابة الأسئلة الرسمية في محافظة شمال الباطنة للفصل الدراسي الأول الدور الأول 2015/2016	5

الدرس الثاني : تضاريس الوطن العربي

المفاهيم : التضاريس - السهول - السهول الساحلية - السهول الرسوبية (الفيضية) - الدلتا - السهولة الداخلية - الصحاري - الكثبان الهلالية - الكثبان الطولية - الهضاب - الجبال - السلسلة الجبلية.

س/ عرف المقصود بالتضاريس؟

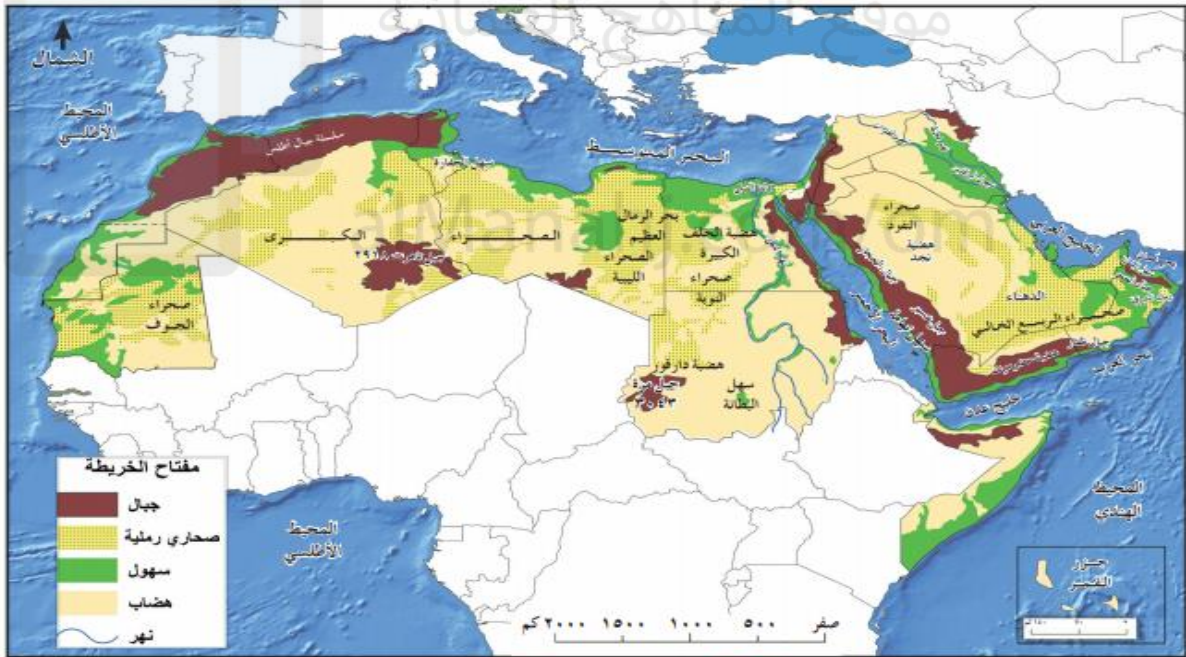
شكل سطح الارض من حيث الارتفاع والانخفاض

س/ أعط أمثلة على الأشكال الطبيعية من حيث الارتفاع والانخفاض

الارتفاع: الجبال - التلال - الهضاب - الانخفاض: السهول - الصحاري - المستنقعات

س/ فسر تنوع التضاريس في الوطن العربي

١- الموقع الجغرافي ٢- اتساع المساحة



س/ استخراج من الخريطة أبرز التضاريس الرئيسية الموجودة في الوطن العربي؟

السهول - الجبال - الصحاري - الهضاب

س/ أكمل العبارات الآتية بما يناسبها:

أ- يدل اللون الأخضر في الخريطة على السهول

ب- يغير عن الجبال في الخريطة باللون البني

س/صمم خريطة مفاهيمية توضح أبرز التضاريس الرئيسية الموجودة في الوطن العربي؟

التضاريس الرئيسية الموجودة في الوطن العربي



س/عرف المقصود بالسهول؟

هي الاراضي المنبسطة الواسعة المساحة وقليلة الانحدار

س/عدد أنواع السهول:

١-السهول الساحلية

٢-السهول الرسوبية (الفيضية)

٣-السهول الداخلية

أولا/السهول الساحلية

س/ قارن بين انواع السهول (الساحلية-الرسوبية-الداخلية) من حيث:

أ-المفهوم ب-الامثلة

السهول الداخلية	السهول الرسوبية	السهول الساحلية	وجه المقارنة
هي السهول التي تقع بعيدا عن سواحل البحار والمحيطات	هي السهول التي تتركز السهول الرسوبية على ضفاف ومصبات الأنهار الكبرى	هي السهول التي تمتد بمحاذاة سواحل البحار	المفهوم
سهول محافظتي الظاهرة والداخلية في سلطنة عمان	دلتا نهر النيل دلتا نهري دجلة والفرات	سهل الباطنة-سهول البحر الاحمر-سهول البحر المتوسط	الامثلة

س/ حدد اماكن وجود السهول الساحلية ؟ تمتد بمحاذاة سواحل البحار

س/أذكر أنواع السهول الساحلية؟

سهول ضيقة المساحة	سهول واسعة المساحة
مثل سهول البحر الاحمر وبعض السهول المطلة على البحر المتوسط	مثل سهل الباطنة في سلطنة عمان
 <p>الشكل (٨) سهل ساحلي ضيق في الجزائر</p>	 <p>الشكل (٧) سهل ساحلي واسع (سهل الباطنة) سلطنة عمان</p>

س/علل/ضيق مساحة بعض السهول الساحلية ؟ بسبب امتداد الجبال بالقرب من البحر

س/ استنتج مما تتكون السهول الساحلية في الوطن العربي؟

مواد حصوية أو رملية أو طينية ترسبها البحار والادوية والانهار الكبرى

س/فسر استغلت السهول الساحلية الساحلية منذ القدم في الزراعة؟

نظرا لخصوبة تربتها

س/استنتج أهمية السهول الساحلية ؟

الزراعة

نشأت عليها المدن والموانئ التجارية

التواصل التجاري والحضاري

ثانياً/- السهول الرسوبية (الفيضية)

س/إين تتركز السهول الرسوبية؟

ضفاف ومصاب الانهار الكبرى

س/كيف تتكون السهول الرسوبية؟

نتيجة ترسب الانهار كميات كبيرة من المواد الرملية والطينية عند المصب مكونة ما يسمى (الدلتا)

س/عرف المقصود بالدلتا؟

عبارة عن تكوينات فيضية تترسب عند مصبات الأنهار

س/ أعط أمثلة على دلتا الانهار في الوطن العربي؟

١-دلتا نهر النيل على ساحل البحر المتوسط

٢-دلتا نهر دجلة والفرات على ساحل الخليج العربي

س/فسر تعتبر السهول الرسوبية من أهم المناطق الزراعية التي يتركز فيها السكان؟
بسبب خصوبة تربتها ووفرة المياه فيها



حل نشاط ٣ ص ٢٨

النهر	المنصب	الدول العربية التي تجري فيها
النيل	البحر المتوسط	مصر والسودان
الفرات	الخليج العربي	سوريا العراق

ب-فسر تركيز سكان الوطن العربي على ضفاف الأنهار ومناطق الدلتا

بسبب خصوبة تربتها ووفرة المياه فيها

تم تحميل هذا الملف من

موقع المناهج العمانية

ثالثا: السهول الداخلية

س/ عرف المقصود بالسهول الداخلية؟

هي السهول الداخلية تقع بعيدا عن سواحل البحار والمحيطات

س/أذكر بعض خصائص السهول الداخلية؟

انخفاض عدد السكان

الجفاف وقلة الأمطار

س/علل/تتصف السهول الداخلية بانخفاض عدد السكان؟

بسبب الجفاف وقلة الأمطار

س/أذكر بعض مصادر المياه في السهول الداخلية؟

١- العيون

٢- الآبار

س/أذكر أمثلة على السهول الداخلية؟

السهول التي توجد في محافظتي الظاهرة والداخلية في سلطنة عمان

س/ ما دلالة الصورة التي امامك؟



سهل داخلي في سلطنة عمان

الصحري

س/ عرف المقصود بالصحاري؟

هي منطقة قاحلة حيث المطر قليل جداً، وبالتالي فظروف الطقس معادية للحياة النباتية والحيوانية. وإن انعدام الغطاء النباتي في الصحراء يعرض سطحها لعمليات التعرية (منطقة جغرافية تخلو أو يندر بها النبات)

س/ أذكر أكثر أنواع الصحاري إنتشاراً في الوطن العربي؟

الصحاري الرملية

س/ أعط امثلة على الصحاري الرملية في الوطن العربي؟

١-صحراء الربع الخالي في شبه الجزيرة العربية

٢-الصحراء الكبرى في شمالي أفريقيا

س/أهم الصحاري الرملية في سلطنة عمان ؟

الربع الخالي ورمال الشرقية

حل نشاط ٤ صفحة ٢٩

الصحراء	الدول العربية التي توجد فيها
الربع الخالي	السعودية - سلطنة عمان - الامارات - اليمن
بحر الرمال العظيم	مصر - ليبيا
صحراء النفوذ	السعودية
صحراء الجوف	موريتانيا

س/ عدد أهم الأشكال الرملية التي تظهر في الصحاري العربية؟

الكتبان الرملية الهلالية و الكتبان الرملية الطولية

س/ فرق بين مفهومي الكتبان الهلالية والكتبان الطولية؟

١-الكتبان الهلالية: هي الكتبان التي تشكلها الرياح وتأخذ شكل هلال

٢-الكتبان الطولية. هي الكتبان التي تشكلها الرياح وتأخذ شكل طولي ومتوازي

س/ قارن بين الكثبان الهلالية والكثبان الطولية من حيث : المفهوم والنشأة

وجه المقارنة	الكثبان الهلالية	الكثبان الطولية
المفهوم	هي الكثبان التي تشكلها الرياح وتأخذ شكل هلال	هي الكثبان التي تشكلها الرياح وتأخذ شكل طولي ومتوازي
النشأة	نتيجة هبوب الرياح من اتجاه واحد	نتيجة هبوب الرياح من عدة اتجاهات
الشكل		


س/ ما الاثار الناتجة عن تحرك الكثبان الرملية نتيجة الرياح؟

زحف الرمال نحو القرى والمزارع والطرق

س/ اقترح بعض الحلول المناسبة لمشكلة زحف الرمال

١-التشجير (زراعة أنواع خاصة من الأشجار لتغطية الكثبان الرملية ومنها أشجار الغاف)

٢-خلق نوع من الحواجز الأمامية والدفاعية



الهضاب

س/ عرف الهضاب مع ذكر أمثلة عليها.

الهضاب	
المفهوم	هي أراض منبسطة (قليلة الأنحدار) ترتفع عما يجاورها من أراض
أمثلة عليها	١- هضبة حضرموت ٢- هضبة نجد ٣- هضاب محافظة الوسطى
صورة توضح الهضاب	

حل نشاط ٦ صفحة ٣١

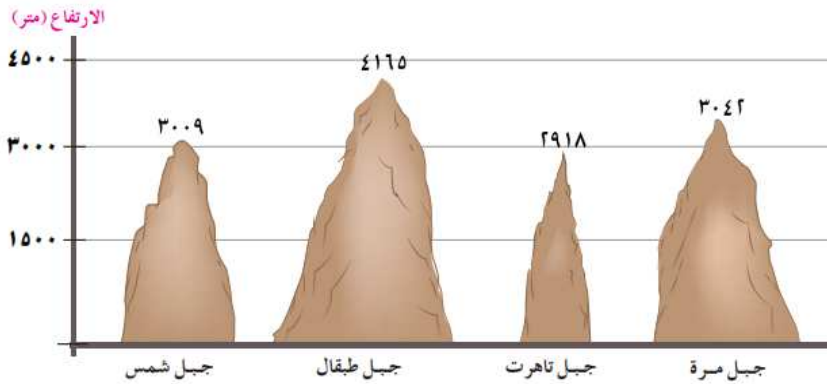
اسم الهضبة	الدولة العربية التي توجد فيها	الأهمية الاقتصادية
هضبة حضرموت	اليمن	الزراعة والرعي
هضبة نجد	السعودية	الواحات الزراعية
هضاب محافظة الوسطى	سلطنة عمان	استخراج النفط

الجبال

س/عرف المقصود بالجبال ؟ هي (أكثر التضاريس ارتفاعاً على سطح الأرض)

تضريس أرضي يرتفع عما حوله من الأرض في منطقة محددة. وتتميز بقمم صخرية حادة وسفوح شديدة الانحدار وبها أيضاً قمم مرتفعة

السلسلة الجبلية : مجموعة من الجبال متصلة بعضها ببعض ومتتالية

الجبال	
أكثر التضاريس ارتفاعاً على سطح الأرض	المفهوم
١- الارتفاع ٢- شديدة الانحدار ٣- صخور حادة	خصائصها
جبال طبقال في المغرب سلسلة جبال ظفار وسلسلة جبال الحجر في سلطنة عمان	أمثلة عليها
 <p>أكثر الجبال ارتفاعاً في الوطن العربي</p>	شكل يوضحها

نشاط ٧ ص ٣٢

أ- مفهوم السلسلة الجبلية مجموعة من الجبال متصلة بعضها ببعض ومتتالية

ب-

٤	٣	٢	١	اسم الجبل
جبل تاهرت	جبل شمس	جبل مرة	جبل طبقال	
الجزائر	سلطنة عمان	السودان	المغرب	الدولة التي يوجد فيها

س/فسر يختلف نمط حياة السكان في المناطق الجبلية عنه في المناطق السهلية أو المنخفضة

بسبب شدة الانحدار حيث استخدام سكان المناطق الجبلية المدرجات الزراعية لممارسة الزراعة مثل المدرجات الزراعية في اليمن ومدرجات الجبل الاخضر في سلطنة عمان

س/عدد أهم المهن التي يمارسها السكان في المناطق الجبلية ؟

١-الزراعة

٢-الرعي

س/فسر استغلال بعض الجبال في الوطن العربي في السياحة؟

نظرا لمناخها المعتدل ومناظرها الخلابة

يُعدُّ الجبل الأخضر بولاية نزوى (الشكل ١٥) وجهة سياحية متميزة، حيث يتصف مناخه بالاعتدال صيفًا والبرودة شتاءً، وهو جزء من سلسلة جبال الحجر الغربي ويقع على ارتفاع ٣٠٠٠ متر تقريبًا عن مستوى سطح البحر. وتتنوع المنتجات الزراعية في الجبل الأخضر مثل: المشمش، والخوخ، والتين، والعنب، والرمان، والتفاح. كما يشتهر بزراعة الجوز والورد. ويستطيع الزائر مشاهدة المدرجات الزراعية التي تنتشر في بعض مناطق الجبل الأخضر.



حل نشاط ٨ صفحة ٣٣ من

١- ما اسم المحافظة التي يقع فيها الجبل الأخضر؟

محافظة الداخلية

٢- لماذا تنتشط السياحة في الجبل الأخضر؟

حيث يتصف مناخه بالاعتدال صيف والبرودة شتاء

٣- أفسر استخدام المدرجات في الجبل الأخضر؟

بسبب الارتفاع وشدة الانحدار وضيق المساحة

٤- اعط أمثلة ع تنوع المحاصيل المنتجات الزراعية في الجبل الأخضر

المشمس - الخوخ - التين - العنب - الرمان - التفاح - الجوز - الورد