

تم تحميل هذا الملف من موقع المناهج العُمانية



* للحصول على أوراق عمل لجميع الصفوف وجميع المواد اضغط هنا

<https://almanahj.com/om>

* للحصول على أوراق عمل لجميع مواد الصف السادس اضغط هنا

<https://almanahj.com/om/6>

* للحصول على جميع أوراق الصف السادس في مادة اجتماعيات ولجميع الفصول, اضغط هنا

<https://almanahj.com/om/6social>

* للحصول على أوراق عمل لجميع مواد الصف السادس في مادة اجتماعيات الخاصة بـ الفصل الأول اضغط هنا

<https://almanahj.com/om/6social1>

* لتحميل كتب جميع المواد في جميع الفصول للـ الصف السادس اضغط هنا

<https://almanahj.com/om/grade6>

* لتحميل جميع ملفات المدرس عمر العزري اضغط هنا

للتحدث إلى بوت على تلغرام: اضغط هنا

https://t.me/omcourse_bot



امتحان مادة : الدراسات الإجتماعية

للف : السادس

للعام الدراسي ١٤٣٨/١٤٣٩ هـ - ٢٠١٧/٢٠١٨ م

الدور الأول - الفصل الدراسي الأول

- زمن الامتحان : (ساعة ونصف) ● عدد صفحات أسئلة الامتحان : (٦) صفحات.
- الإجابة في الدفتر نفسه .

		اسم الطالب
الصف		المدرسة

التوقيع بالاسم		الدرجة		السؤال
المصحح الثاني	المصحح الأول	بالحروف	بالأرقام	
				١
				٢
				٣
				٤
مراجعة الجمع	جمعه			المجموع
				المجموع الكلي

(١)

المادة : الدراسات الاجتماعية الصف : السادس الدور الأول - الفصل الدراسي الأول - العام الدراسي ٢٠١٧/٢٠١٨م


أجب عن جميع الأسئلة الآتية

السؤال الأول: ضع دائرة حول رمز الإجابة الصحيحة لكل مفردة من المفردات الآتية:

١- الرمز الدال على الأمطار الرعدية في النشرة الجوية:



-د



-ج



-ب



-أ

٢- يوجد مسجد المضمار في مدينة :

أ- صحار ب مسقط

٣- الترتيب الصحيح لعمليات التعرية :

أ- ب- ج- د-

د- نزوى

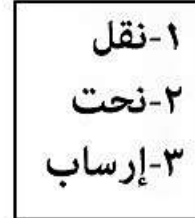
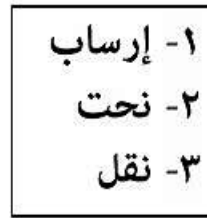
ج- سمائل

-د


-ج

-ب

-أ



٤- تتراوح درجة قوة الزلزال الواضح في الصورة على مقياس ريختر :



أ- ٥ - ٦

ب- ٦ - ٧

ج - ٧ - ٨

د - أكبر من ٨

(٢)

المادة : الدراسات الإجتماعية الصف : السادس الدور الأول - الفصل الدراسي الأول - العام الدراسي ٢٠١٧/٢٠١٨م

تابع السؤال الأول:

٥- الصورة التي تمثل الغلاف الحيوي :



ب-



أ-



د-



ج-

٦- يفضل الطيارون قيادة الطائرات في أجواء طبقة :

أ - التروبوسفير ب - الاستراتوسفير ج - الميزوسفير د - الثيرموسفير

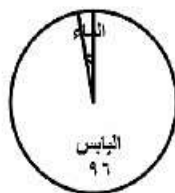
٧- نسبة توزيع اليابس والماء في الكرة الأرضية :

د

ج

ب

أ



٨- أولى محاولة للطيران في التاريخ كانت من قبل :

أ - ابن رشد ب - ابن حزم ج - أبو القاسم الزهراوي د - عباس بن فرناس

(٣)

المادة : الدراسات الاجتماعية الصف : السادس الدور الأول - الفصل الدراسي الأول - العام الدراسي ٢٠١٧/٢٠١٨م

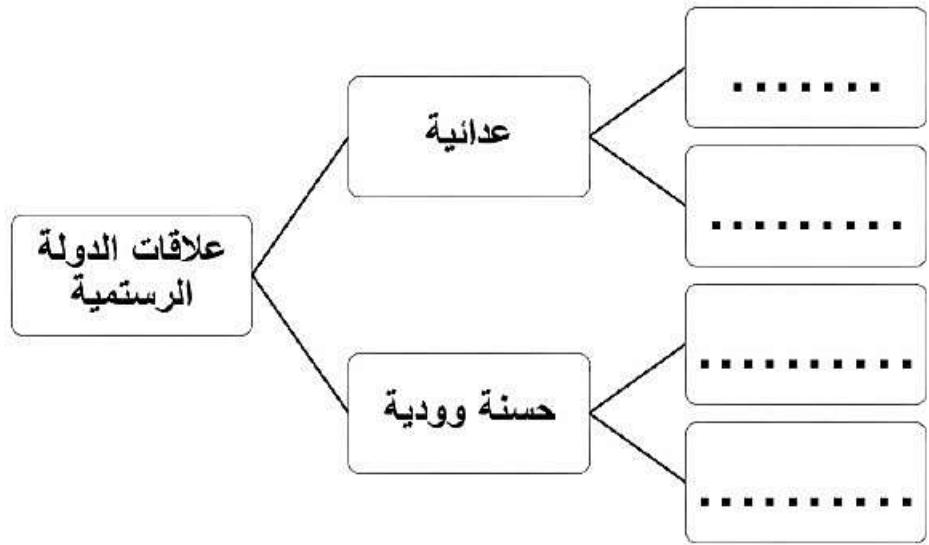
السؤال الثاني : اجب عن الأسئلة التالية :

أولا : قارن بين البركان الغطائي والبركان المخروطي :

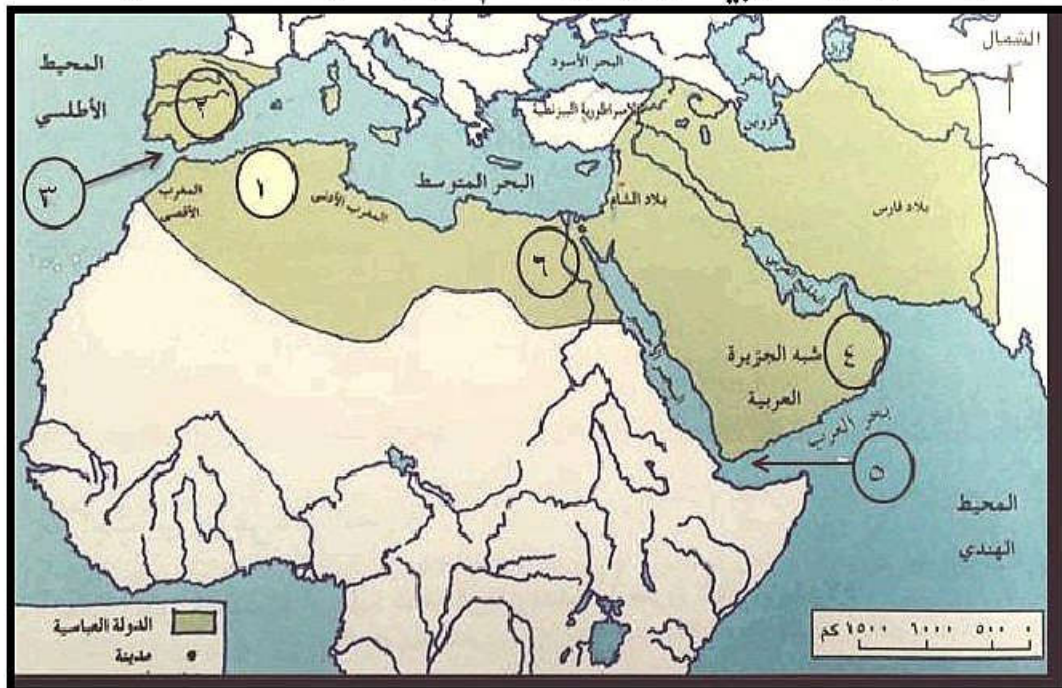
وجه المقارنة	البركان الغطائي	البركان المخروطي
الإرتفاع		
درجة ميل الجوانب		

ثانيا : اكمل الشكل التالي بما يناسبه من بين القوسين :

(الدولة العباسية - الدولة الرستمية - دولة الأدارسة - الدولة الأموية في الأندلس)



ثالثا : امامك خارطة الوطن العربي ادرسها جيدا ثم اجب عن الأسئلة التالية :



(٤)

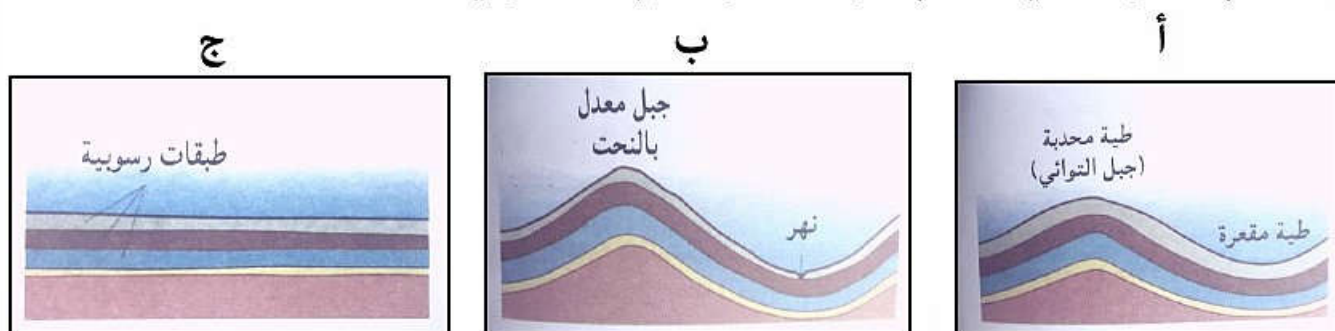
المادة : الدراسات الاجتماعية الصف : السادس الدور الأول - الفصل الدراسي الأول - العام الدراسي ٢٠١٧/٢٠١٨م

تابع السؤال الثاني:

- أ- الرقم الذي يشير الى موقع الإمامة في عمان (.....).
 ب- الرقم الذي يشير الى مضيق جبل طارق (.....).
 ج- الرقم الذي يشير الى بلاد الأندلس (.....).
 د- الرقم الذي يشير الى عاصمة الدولة الفاطمية (.....).

السؤال الثالث: اجب عن الأسئلة التالية :

أولاً: رتب الصور التالية حسب مراحل نشوء الجبال الالتوائية :

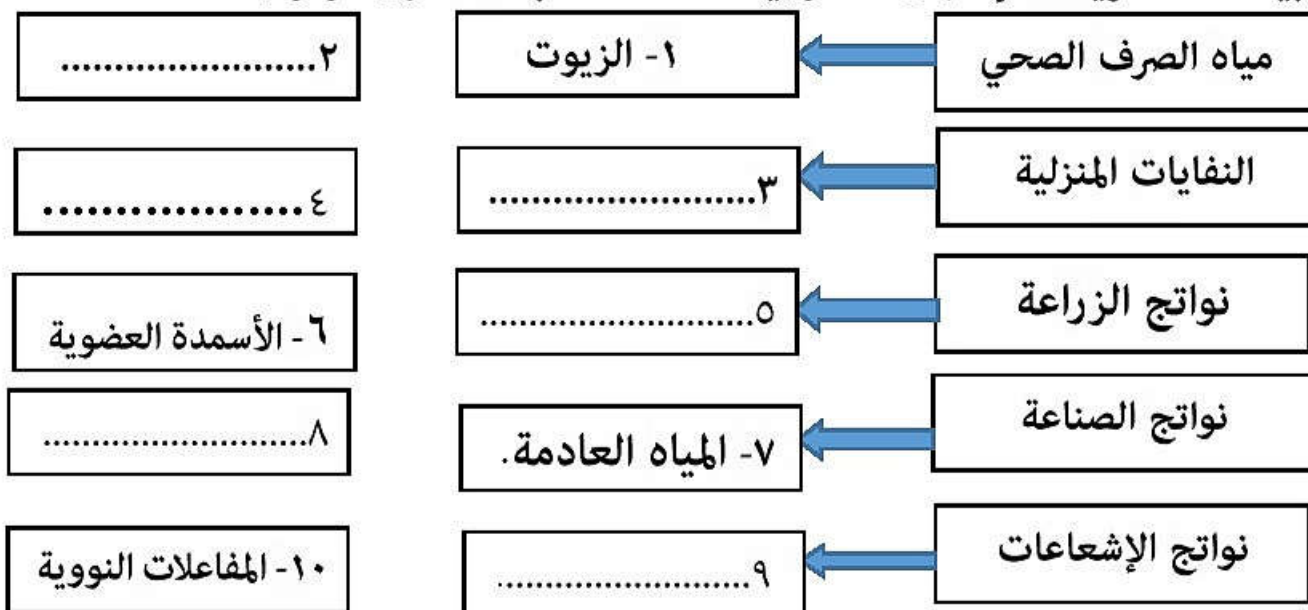


(.....)

(.....)

(.....)

ثانياً: من خلال دراستك لمصادر التلوث التي تتعرض لها المياه السطحية بفعل الأنشطة البشرية اكمل المخطط التالي بالإستعانة بما بين القوسين (الكرتون _ مساحيق الغسيل - المبيدات الحشرية - الانفجارات النووية _ مخلفات البناء - حرق الوقود)



(٥)

المادة: الدراسات الاجتماعية الصف : السادس الدور الأول - الفصل الدراسي الأول - العام الدراسي ٢٠١٧/٢٠١٨م

تابع السؤال الثالث:

ثالثا : علل ما يلي :

أ- تسمية نزوي ببيضة الإسلام .

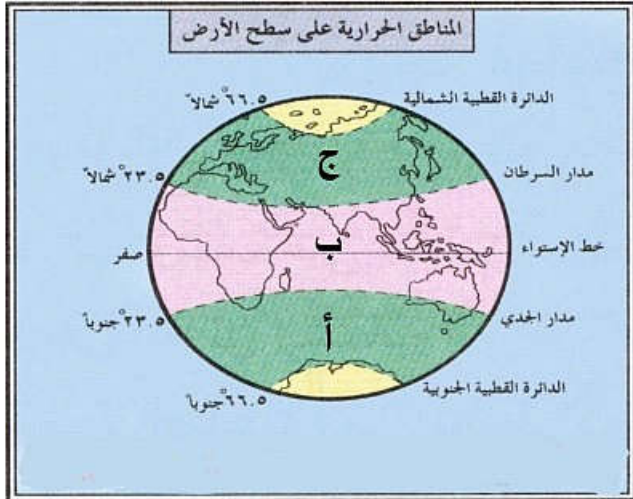
.....

ب- بناء الفاطميين للجامع الأزهر .

.....

السؤال الرابع: اجب عن الأسئلة التالية:

أولا: ادرس الشكل الآتي ثم اكمل ما يلي:



أ-الرمز الدال على المنطقة المعتدلة الجنوبية (.....).

ب-الرمز الدال على المنطقة الحارة (.....).

ج- شكل الأشعة التي تصل الى المنطقة الباردة الشمالية

أختر بعلامة √

عمودية	مائلة
<input type="checkbox"/>	<input type="checkbox"/>

ثانيا: صنف حالات الماء الآتية (صلبة، غازية، سائلة) في الجدول التالي:

الثلوج
النهر
بخار الماء

(٦)

المادة: الدراسات الاجتماعية الصف : السادس الدور الأول - الفصل الدراسي الأول -العام الدراسي ٢٠١٧/٢٠١٨م

تابع السؤال الرابع:

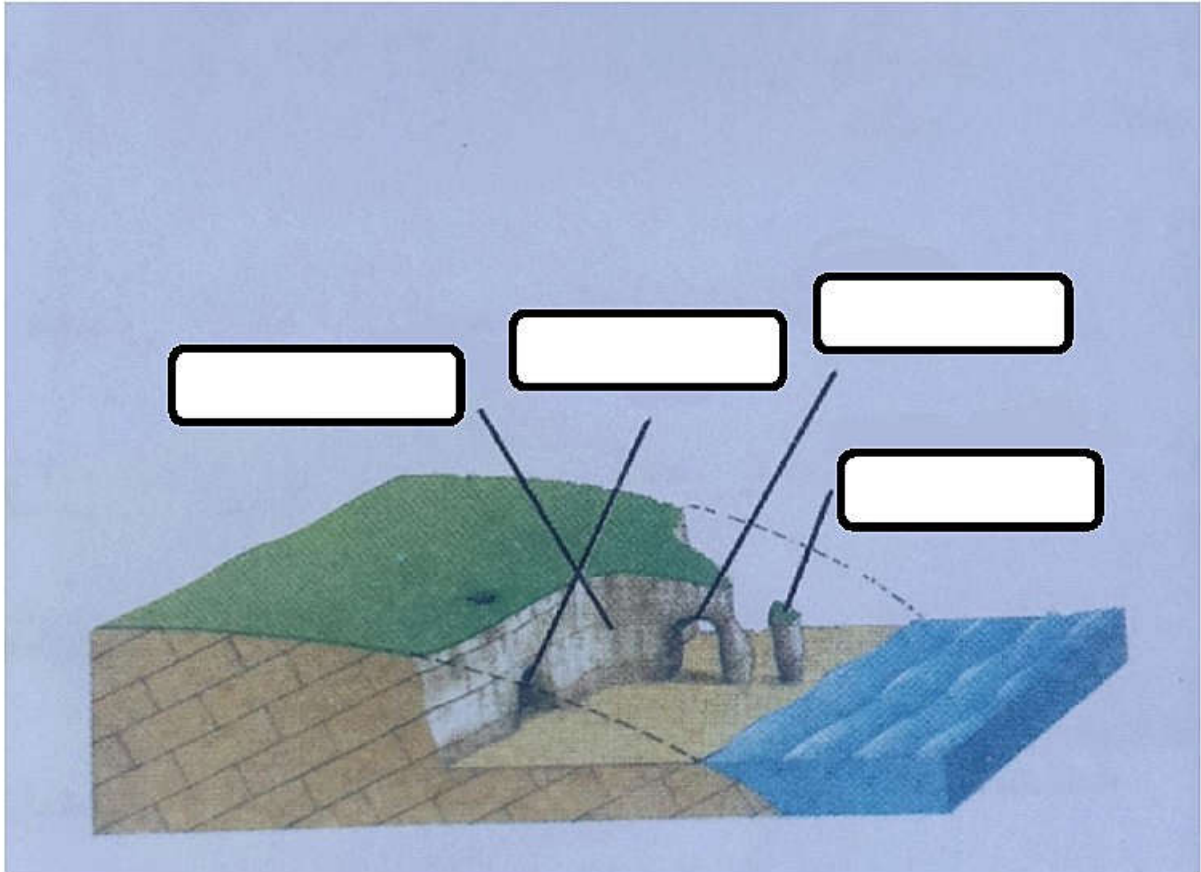
ثالثا: اكتب أسماء الأشكال الناتجة عن عمليات النحت بفعل الأمواج على الشكل التالي :

١-الكهف

٢-الجرف

٣-مسلة صخرية

٤-القنطرة



انتهت الأسئلة مع الدعاء للجميع بالتوفيق والنجاح.



نموذج إجابة امتحان الصف السادس
للعام الدراسي ١٤٣٨/١٤٣٩ هـ - ٢٠١٧/٢٠١٨ م
الدور الأول - الفصل الدراسي الأول

الدرجة الكلية: (٤٠) درجة.

المادة: الدراسات الإجتماعية

تبيئه: نموذج الإجابة في (٤) صفحات.

أولاً: إجابة السؤال الموضوعي:

إجابة السؤال الأول

المستوى المعرفي	المخرج التعليمي	الصفحة	الدرجة	الإجابة	البديل الصحيح	المفردة
المعرفة	التعامل مع الرموز	١٢٥	٢		ب	١
المعرفة	التذكر	٦٣	٢	سمائل	ج	٢
التركيب	ترتيب	٣٢	٢	١- نحت ٢- نقل ٣- إرسال	د	٣
التطبيق	تطبيق	١٧	٢	٧-٨	ج	٤
الفهم	التعامل مع الصور	١٣	٢		أ	٥
المعرفة	تذكر	٩٨	٢	الإستراتوسفير	ب	٦
التركيب	التعامل مع الأشكال	١٢٨	٢		أ	٧
المعرفة	تذكر	٥٧	٢	عباس بن فرناس	د	٨
			١٦	المجموع		

(٢)

تابع نموذج إجابة امتحان الصف السادس
للعام الدراسي ١٤٣٩/١٤٣٨ هـ - ٢٠١٧/٢٠١٨ م
الدور الأول - الفصل الدراسي الأول
المادة : الدراسات الإجتماعية

ثانيا: إجابة الأسئلة المقالية:

الدرجة الكلية: (٨) درجة				إجابة السؤال الثاني				
المستوى المعرفي	المخرج التعليمي	الصفحة	الدرجة	الإجابة الصحيحة			المفردة	الجزئية
التحليل	التعامل مع الجداول	٢١	درجتان لكل مفردة نصف درجة	البركان المخروطي	البركان الغطائي	وجه المقارنة الإرتفاع		اولا
				كبير او ما يدل على المعنى	قليل أو ما يدل على المعنى			
				كبير او ما يدل على المعنى	قليل او ما يدل على المعنى	درجة ميل الجوانب		
التحليل	التصنيف	٧٨	درجتان لكل مفردة درجة	عدائية : الدولة العباسية - الأغلبية ودية : دولة الأدارسة - الدولة الأموية بالأندلس				ثانيا
الفهم	التعامل مع الخرائط	٦٥ ٦١ ٦١ ٨٦	اربع درجات لكل مفردة درجة	أ-٤ ب-٣ ج-٢ د-٦				ثالثا

(٣)

تابع نموذج إجابة امتحان الصف السادس
للعام الدراسي ١٤٣٨/١٤٣٩ هـ - ٢٠١٧/٢٠١٨ م
الدور الأول - الفصل الدراسي الأول
المادة : الدراسات الإجتماعية

تابع ثانيا: إجابة الأسئلة المقالية:

الدرجة الكلية: (٨) درجة

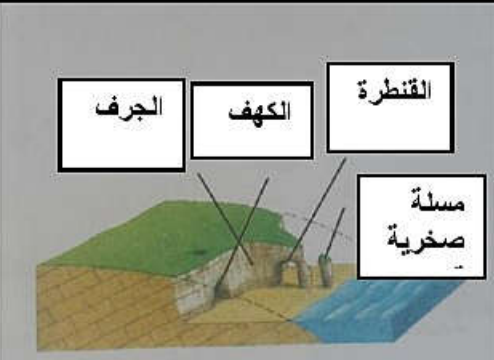
إجابة السؤال الثالث

المستوى المعرفي	المخرج التعليمي	الصفحة	الدرجة	الإجابة الصحيحة	المفردة	الجزئية
ترتيب	التعامل مع الصور	٢٨ ، ٢٧	ثلاث درجات لكل مفردة درجة	أ (٢) ب (٣) ج (١)		اولا
التحليل	التصنيف	١٣٣ ، ١٣٤	ثلاث درجات لكل مفردة نصف درجة	٢- مساحيق الغسيل ٣- الكرتون ٤- مخلفات البناء ٥- المبيدات الحشرية ٨- حرق الوقود ٩- الانفجارات النووية		ثانيا
الفهم	ذكر السبب	٦٧	درجة واحدة	لكثرة من كان فيها من العلماء واهل الصلاح	أ	ثالثا
الفهم	ذكر السبب	٨٦	درجة واحدة	ليكون مركزا للدعوة الشيعية	ب	

(٤)

تابع نموذج إجابة امتحان الصف السادس
للعام الدراسي ١٤٣٨/١٤٣٩ هـ - ٢٠١٧/٢٠١٨ م
الدور الأول - الفصل الدراسي الأول
المادة : الدراسات الإجتماعية

تابع ثانيا: إجابة الأسئلة المقالية:

الدرجة الكلية: (٨) درجة				إجابة السؤال الرابع		
المستوى المعرفي	المخرج التعليمي	الصفحة	الدرجة	الإجابة الصحيحة	المفردة	الجزئية
التحليل	التعامل مع الخرائط	١٠٣	درجة واحدة	أ	أ	اولا
التحليل	التعامل مع الخرائط	١٠٣	درجة واحدة	ب	ب	
التطبيق	معرفة نوع الأشعة	١٠٢	درجة واحدة	مائلة	ج	
التركيب	تصنيف	١٢٨	ثلاث درجات درجة لكل مفردة	صلبة سائلة غازية		ثانيا
التركيب	التعامل مع الأشكال	٤١	درجتان نصف درجة لكل مفردة			ثالثا

نهاية نموذج الإجابة



امتحان مادة : الدراسات الإجتماعية

للف : السادس

للعام الدراسي ١٤٣٨/١٤٣٩ هـ - ٢٠١٧/٢٠١٨ م

الدور الثاني - الفصل الدراسي الأول

- زمن الامتحان : (ساعة ونصف) ● عدد صفحات أسئلة الامتحان: (٦) صفحات.
- الإجابة في الدفتر نفسه .

		اسم الطالب
الصف		المدرسة

التوقيع بالاسم		الدرجة		السؤال
المصحح الثاني	المصحح الأول	بالحروف	بالأرقام	
				١
				٢
				٣
				٤
مراجعة الجمع	جمعه			المجموع
				المجموع الكلي

(١)

المادة : الدراسات الاجتماعية الصف : السادس الدور الثاني الفصل الدراسي الأول -العام الدراسي ٢٠١٧/٢٠١٨م

أجب عن جميع الأسئلة الآتية

السؤال الأول: ضع دائرة حول رمز الإجابة الصحيحة لكل مفردة من المفردات الآتية:

١- الصورة التي تدل على الابتعاد عن المباني عند حدوث الزلزال:



-د



-ج



-ب



-أ

٢- تقع جبال الهملايا في قارة :

-د أمريكا الجنوبية

-ج أمريكا الشمالية

-ب افريقيا

-أ اسيا

٣- التواريخ الصحيحة لقيام الدول التالية :

ب

أ

١٣٢هـ قيام امامة عمان
١٣٨هـ قيام الدولة الفاطمية
٢٩٧هـ قيام الدولة الأموية في
الأندلس

١٣٢هـ قيام الدولة الفاطمية
١٣٨هـ قيام الدولة الأموية
في الأندلس
٢٩٧هـ قيام امامة عمان

د

ج

١٣٢هـ امامة عمان
١٣٨هـ قيام الدولة الأموية في
الأندلس
٢٩٧هـ قيام الدولة الفاطمية

١٣٢هـ قيام الدولة الأموية في
الأندلس
١٣٨هـ قيام امامة عمان
٢٩٧هـ قيام الدولة الفاطمية

٤- الإمام الذي قام بإنشاء اول اسطول بحري بعمان :

أ- الوارث بن كعب ب- غسان بن عبدالله ج- المهنا بن حيفر د- الصلت بن مالك

(٢)

المادة : الدراسات الإجتماعية الصف : السادس الدور الثاني - الفصل الدراسي الأول - العام الدراسي ٢٠١٧/٢٠١٨م

تابع السؤال الأول:

٥- الغلاف الذي تمثله الصورة التالية:



أ- الجوي

ب-المائي

ج - الحيوي

د - الصخري

٦- الطبقة الجوية التي تتميز بالارتفاع الكبير لدرجات الحرارة :

أ - التروبوسفير ب - الاستراتوسفير ج - الميزوسفير د - الثيرموسفير

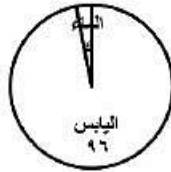
٧- نسبة توزيع اليابس والماء في الكرة الأرضية :

د

ج

ب

أ



٨- مبنى سكني يبلغ ارتفاعه ٣٠٠ متر فإذا كانت درجة الحرارة في أسفل المبنى

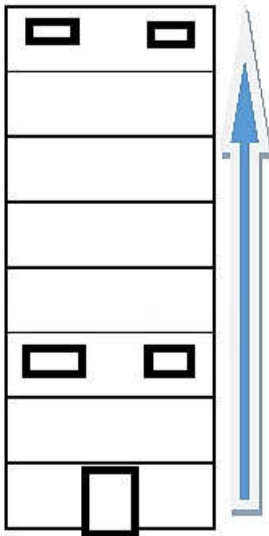
٢٥ درجة سيليزية فإن درجة الحرارة في أعلى المبنى سوف تكون :

أ- ٢٦

ب- ٢٧

ج- ٢٨

د- ٢٩



يتبع ٣/

(٣)

المادة : الدراسات الاجتماعية الصف : السادس الدور الثاني - الفصل الدراسي الأول - العام الدراسي ٢٠١٧/٢٠١٨م

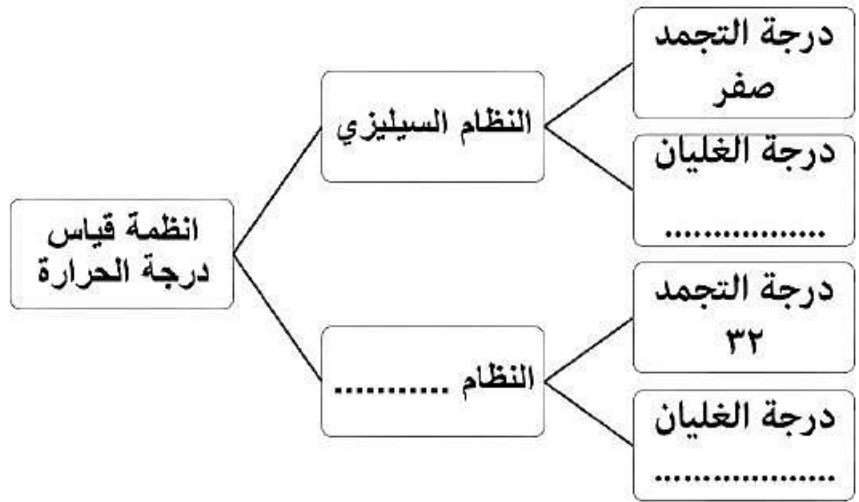
السؤال الثاني : اجب عن الأسئلة التالية :

أولا : قارن بين البركان الغطائي والبركان المخروطي :

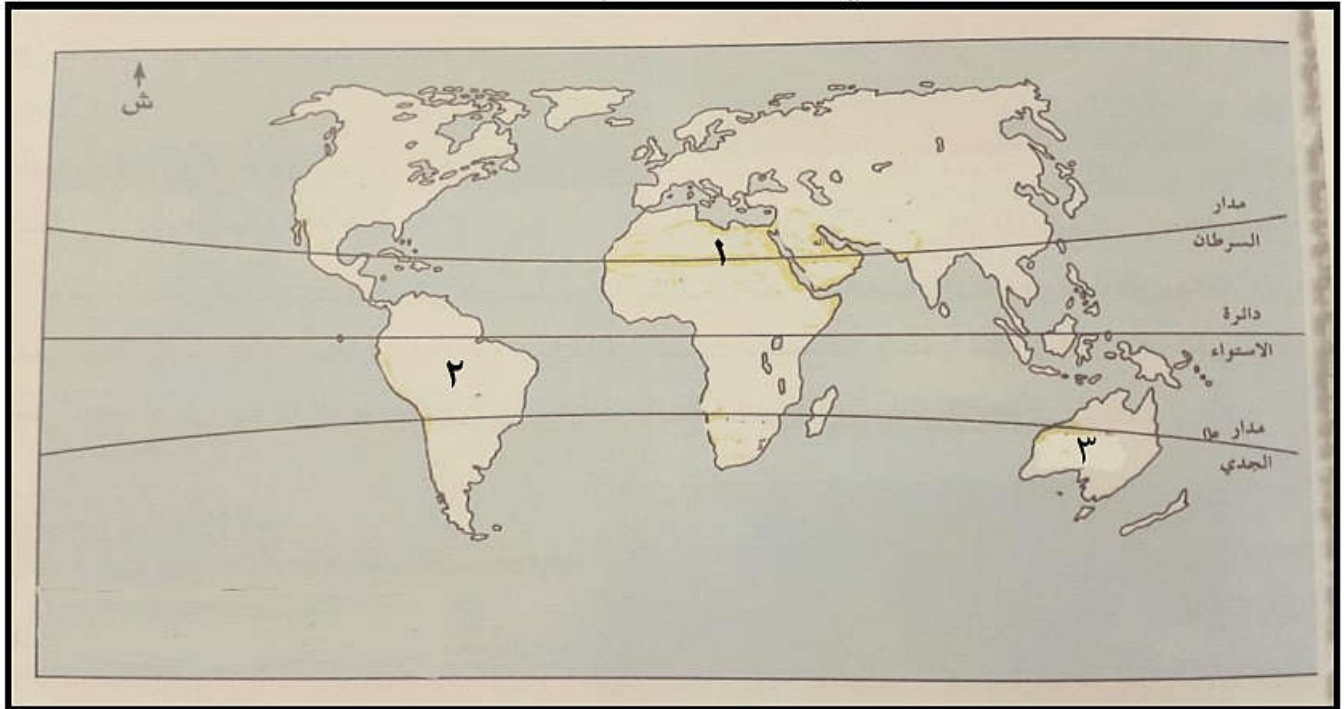
وجه المقارنة	البركان الغطائي	البركان المخروطي
الإرتفاع		
درجة ميل الجوانب		

ثانيا : اكمل الشكل التالي بما يناسبه من بين القوسين :

(١٠٠ درجة - الفهرنهايتي - ٢١٢ درجة)



ثالثا : امامك خارطة الوطن العربي ادرسها جيدا ثم اجب عن الأسئلة التالية :



(٤)

المادة : الدراسات الاجتماعية الصف : السادس الدور الثاني - الفصل الدراسي الأول - العام الدراسي ٢٠١٧/٢٠١٨م

تابع السؤال الثاني:

- أ- الرقم الذي يشير الى الصحراء الكبرى (.....).
 ب- اكتب على الخريطة جبال الروكي في الموقع الصحيح.
 ج- توجد جبال الأطلس في قارة

السؤال الثالث:

- اولا: صنف الأحداث التاريخية التالية في المسطرة الزمنية الآتية:
 (بداية الإمامة الثانية في عمان - استشهاد الإمام عزان بن قميم - قيام دولة الأغالبة - حملة خازم بن خزيمه على عمان).

--	--	--	--

٥٢٨٠هـ

١٨٤هـ

١٧٧هـ

١٣٤هـ

ثانيا: علل ما يلي :

- أ- تسمية نزوى ببيضة الإسلام .

.....

- ب- تسمية العمانيين محمد بن نور بمحمد بن بور .

.....

ثالثا: فرق بين الطقس والمناخ.

.....

.....

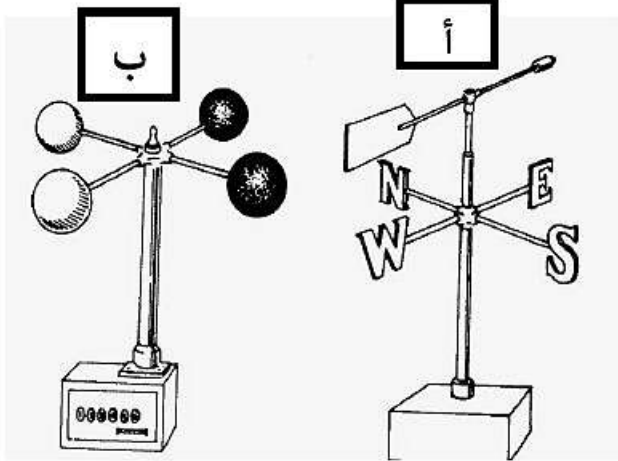
.....

.....

(٥)

المادة: الدراسات الاجتماعية الصف : السادس الدور الثاني - الفصل الدراسي الأول - العام الدراسي ٢٠١٧/٢٠١٨م

السؤال الرابع: اجب عن الأسئلة التالية:
أولا: قارن بين الجهازين (أ) و (ب) حسب الجدول الآتي:



وجه المقارنة	الصورة (أ)	الصورة (ب)
اسم الجهاز		
وظيفته		

ثانيا: اكتب عمليات التعرية التالية امام الصورة المناسبة:
(النحت - الإرساب)



.....



.....

(٦)

المادة: الدراسات الاجتماعية الصف : السادس الدور الثاني - الفصل الدراسي الأول - العام الدراسي ٢٠١٧/٢٠١٨م

تابع السؤال الرابع:

ثالثاً: ١- عرف ما يلي :

أ- حملة العلم

.....

.....

ب- الإخشيدون

.....

.....

٢- اجب عن الأسئلة الآتية :

أ- تتعرض بعض المناطق في سلطنة عمان الى فيضانات مدمرة أحيانا. برأيك ما افضل وسيلة للحماية منها؟

.....

.....

ب- ما العوامل التي تؤثر على قوة الفيضانات؟ (يكتفى بذكر عامل واحد فقط).

.....

انتهت الأسئلة مع الدعاء للجميع بالتوفيق والنجاح.



نموذج إجابة امتحان الصف السادس
للعام الدراسي ١٤٣٨/١٤٣٩ هـ - ٢٠١٧/٢٠١٨ م
الدور الثاني- الفصل الدراسي الأول

الدرجة الكلية: (٤٠) درجة.

المادة: الدراسات الإجتماعية
تنبيهه: نموذج الإجابة في (٤) صفحات.

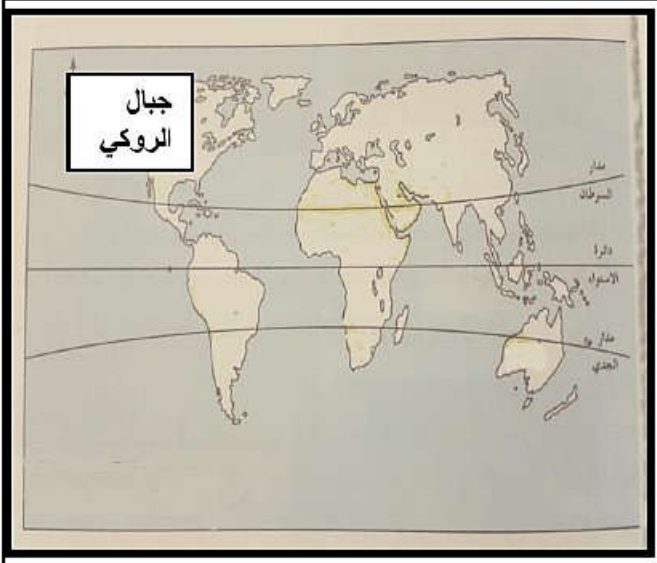
أولاً: إجابة السؤال الموضوعي:

إجابة السؤال الأول						
المستوى المعرفي	المخرج التعليمي	الصفحة	الدرجة	الإجابة	البديل الصحيح	المفردة
التطبيق	التعامل مع الصور	١٩	٢		ب	١
المعرفة	تذكر	٢٥	٢	اسيا	أ	٢
التركيب	ترتيب الأحداث	٦٦ ٥٠ ٨٣	٢	١٣٢هـ قيام امامة عمان ١٣٨هـ قيام الدولة الأموية بالأندلس ٢٩٧هـ قيام الدولة الفاطمية	د	٣
المعرفة	تذكر	٦٨	٢	غسان بن عبدالله	ب	٤
الفهم	التعامل مع الصور	١٣	٢	الجوي	أ	٥
التطبيق	استخراج درجة الحرارة	٩٧	٢	الثيرموسفير	د	٦
التركيب	التعامل مع الأشكال	١٢٨	٢		أ	٧
التطبيق	استخراج درجة الحرارة	٩٧	٢	٢٧	ب	٨
			١٦ درجة	المجموع		

(٢)

تابع نموذج إجابة امتحان الصف السادس
للعام الدراسي ١٤٣٨/١٤٣٩ هـ - ٢٠١٧/٢٠١٨ م
الدور الثاني - الفصل الدراسي الأول
المادة : الدراسات الإجتماعية

ثانيا: إجابة الأسئلة المقالية:

الدرجة الكلية: (٨) درجة				إجابة السؤال الثاني											
المستوى المعرفي	المخرج التعليمي	الصفحة	الدرجة	الإجابة الصحيحة	المفردة	الجزئية									
التطبيق	التعامل مع الجداول	٢١	درجتان لكل مفردة نصف درجة	<table border="1"> <tr> <td>وجه المقارنة الإرتفاع</td> <td>البركان الغطائي</td> <td>البركان المخروطي</td> </tr> <tr> <td>درجة ميل الجوانب</td> <td>قليل أو ما يدل على المعنى</td> <td>كبير أو ما يدل على المعنى</td> </tr> <tr> <td></td> <td>قليل أو ما يدل على المعنى</td> <td>كبير أو ما يدل على المعنى</td> </tr> </table>	وجه المقارنة الإرتفاع	البركان الغطائي	البركان المخروطي	درجة ميل الجوانب	قليل أو ما يدل على المعنى	كبير أو ما يدل على المعنى		قليل أو ما يدل على المعنى	كبير أو ما يدل على المعنى		اولا
وجه المقارنة الإرتفاع	البركان الغطائي	البركان المخروطي													
درجة ميل الجوانب	قليل أو ما يدل على المعنى	كبير أو ما يدل على المعنى													
	قليل أو ما يدل على المعنى	كبير أو ما يدل على المعنى													
التحليل	التعامل مع خرائط المفاهيم	١٠٥	ثلاث درجات لكل مفردة درجة واحدة	١٠٠ درجة النظام الفهرنهايتي ٢١٢ درجة		ثانيا									
الفهم	التعامل مع الخرائط	٤٥	درجة واحدة	(١)	أ	ثالثا									
الفهم	التعامل مع الخرائط	٢٥	درجة واحدة		ب										
الفهم	التعامل مع الخرائط	٢٥	درجة واحدة	افريقيا	ج										

(٣)

تابع نموذج إجابة امتحان الصف السادس
للعام الدراسي ١٤٣٨/١٤٣٩ هـ - ٢٠١٧/٢٠١٨ م
الدور الثاني - الفصل الدراسي الأول
المادة : الدراسات الإجتماعية

تابع ثانيا: إجابة الأسئلة المقالية:

الدرجة الكلية: (٨) درجة						إجابة السؤال الثالث	
المستوى المعرفي	المخرج التعليمي	الصفحة	الدرجة	الإجابة الصحيحة	المفردة	الجزئية	
التطبيق	التعامل مع المسطرة الزمنية	٦٦ ٦٨ ٧٥ ٦٨	اربع درجات لكل مفردة درجة	١٣٤ هـ حملة خازم بن خزيمه عن عمان ١٧٧ هـ بداية الإمامة الثانية في عمان ١٨٤ هـ قيام دولة الأغالبة ٢٨٠ هـ استشهاد الإمام عزان بن تميم		اولا	
الفهم	ذكر سبب	٦٧	درجة واحدة	لكثرة من كان فيها من العلماء وأهل الصلاح او ما يدل المعنى	أ	ثانيا	
الفهم	ذكر سبب	٧٠	درجة واحدة	لإكثاره من القتل والإفساد او ما يدل المعنى	ب		
المعرفة	تذكر	١٠١	درجتان	الطقس هو حالة الجو خلال يوم واحد او ما يدل على المعنى المناخ هو حالة الجو في فترة زمنية طويلة او ما يدل على المعنى		ثالثا	

يتبع ٤/

تابع نموذج إجابة امتحان الصف السادس
للعام الدراسي ١٤٣٩/١٤٣٨ هـ - ٢٠١٧/٢٠١٨ م
الدور الثاني - الفصل الدراسي الأول
المادة : الدراسات الإجتماعية

تابع ثانيا: إجابة الأسئلة المقالية:

الدرجة الكلية: (٨) درجة							إجابة السؤال الرابع	
المستوى المعرفي	المخرج التعليمي	الصفحة	الدرجة	الإجابة الصحيحة			المفردة	الجزئية
التطبيق	التعامل مع الجداول	١٠٦	درجتان لكل مفردة درجة واحدة	وجه المقارنة	الصورة (أ)	الصورة (ب)		اولا
				اسم الجهاز	دوارة الرياح	الأموميتر		
				وظيفته	تحديد اتجاه الرياح	قياس سرعة الرياح		
التطبيق	التعامل مع الصور	٤٧	درجتان درجة لكل مفردة					ثانيا
		٤٧	درجتان درجة لكل مفردة					
المعرفة	تذكر	٦٥	درجة واحدة	أ-هم الذين تلقوا العلم على يد الإمام ابي عبيدة في البصرة مدة خمس سنوات وارسلوا لنشر المذهب الاباضي الى مناطق مختلفة او ما يدل على المعنى ب-دولة حكمت مصر باسم الخلافة العباسية تنسب الى محمد بن طغج الإخشيد ومن حكامها كافور الإخشيدي او ما يدل على المعنى			١	ثالثا
تقييم معرفة	التعبير عن الرأي	١٤٠	درجة واحدة	أ-السدود او أي فكرة او مقترح منطقي ب-١- قوة الأعاصير ٢-شدة ميل السفوح الجبلية ٣-قلة تسرب مياه الأمطار ٤-ضيق مجاري الأودية (يكتفى بذكر عامل واحد فقط)			٢	
	تذكر	١٣٨	درجة واحدة					