

تم تحميل هذا الملف من موقع المناهج العُمانية



\* للحصول على أوراق عمل لجميع الصفوف وجميع المواد اضغط هنا

<https://almanahj.com/om>

\* للحصول على أوراق عمل لجميع مواد الصف السابع اضغط هنا

<https://almanahj.com/om/7>

\* للحصول على جميع أوراق الصف السابع في مادة اجتماعيات ولجميع الفصول, اضغط هنا

<https://almanahj.com/om/7social>

\* للحصول على أوراق عمل لجميع مواد الصف السابع في مادة اجتماعيات الخاصة بـ الفصل الأول اضغط هنا

<https://almanahj.com/om/7social1>

\* لتحميل كتب جميع المواد في جميع الفصول للـ الصف السابع اضغط هنا

<https://almanahj.com/om/grade7>

\* لتحميل جميع ملفات المدرس نور بنت أحمد الكثيري اضغط هنا

للتحدث إلى بوت على تلغرام: اضغط هنا

[https://t.me/omcourse\\_bot](https://t.me/omcourse_bot)

سلطنة عمان

وزارة التربية والتعليم

المديرية العامة للتربية والتعليم بمحافظة ظفار

مدرسه منبع الحكمة للتعليم الاساسي بنات ( ٥ \_ ١٠ )



دفتر الانشطة لماده  
الدراسات الاجتماعيه  
للسف السابع  
الفصل الدراسي الاول  
( الوحدہ الاولی )

اعداد الاستاذہ : نور بنت أحمد الكثيري

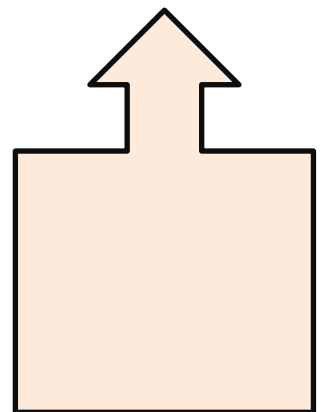
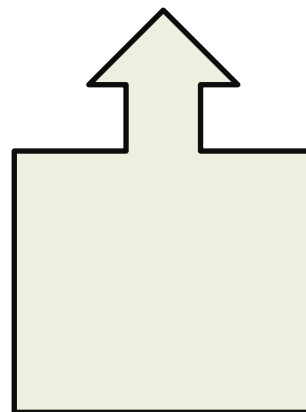
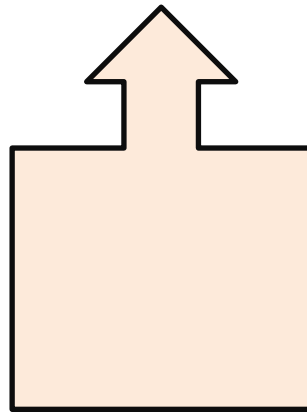
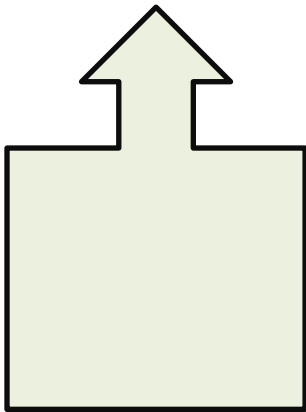

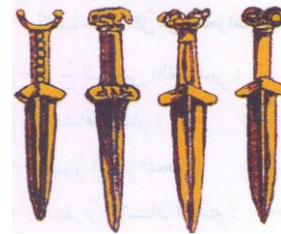
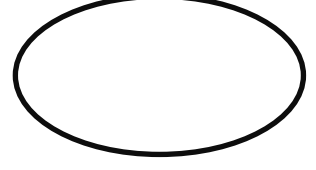

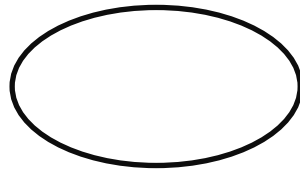
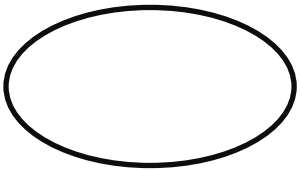
عنوان الدرس ..... التاريخ .....

قارني بين أقسام مراحل حياة الانسان على سطح الارض من حيث :

ما المقصود بالحضاره ??

وجه المقارنه	.....	.....
الفترة الزمنيه		
مصادر التعرف عليها		

اربطي بين الصور الاتيه بالعصر الذى تنتمي اليه ، ثم اكتب انجاز الانسان فى كل عصر:



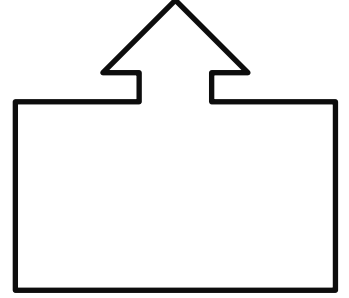
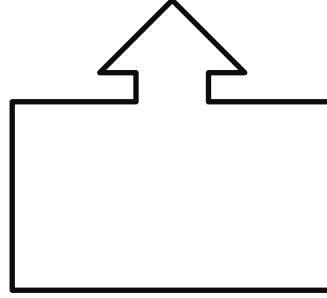
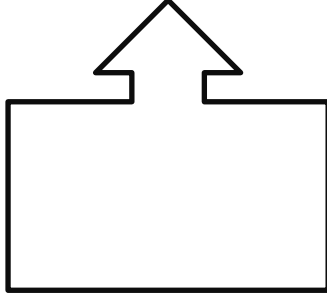
فسري / تسميه العصر البرونزى والحديدي  
والحجرى بهذه الاسماء ؟

متى عرف انسان الوطن العربى القديم الكتابه ؟

عنوان الدرس ..... التاريخ .....

أكتب في المسطره الزمنية الآتيه الاحداث التي تمت في التواريخ الآتيه :

( ١٣٥٠ ق . ) ( الالف الرابعه ق . م ) ( 3500 ق . م )



عرفي العصور الحجريه

قارني بين العصور الحجريه القديمه والعصور

الحجريه الحديثه وفق الجدول الآتي :

وجه المقارنه	العصر الحجري القديم	العصر الحجري الحديث
الظروف الطبيعيه		
حياه الانسان		



صف النظام الاقتصادي الذي ظهر قبل العصر الحديدي والذي تمثله الصورة المقابله

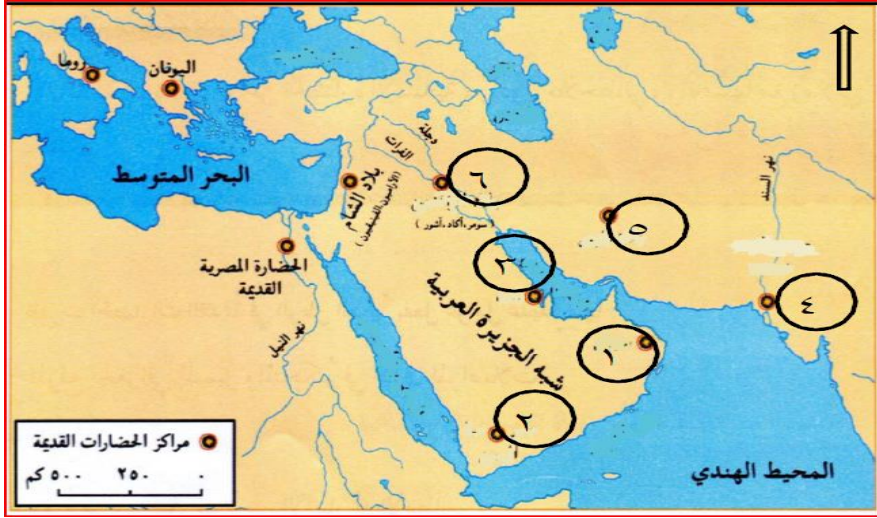
قله الامطار في العصر الحجري الحديث

استخدام النقود في العصر الحديدي

ما النتيجة المترتبه على مما يلي :

## التاريخ

## عنوان الدرس



أ- ما الاسم الذي أطلقه السومريون على الحضارة المشار إليها بالرقم ( ١ ) .

ب- ما الجهة الرئيسية التي تقع فيها الحضارة المصرية بالنسبة للبحر المتوسط.

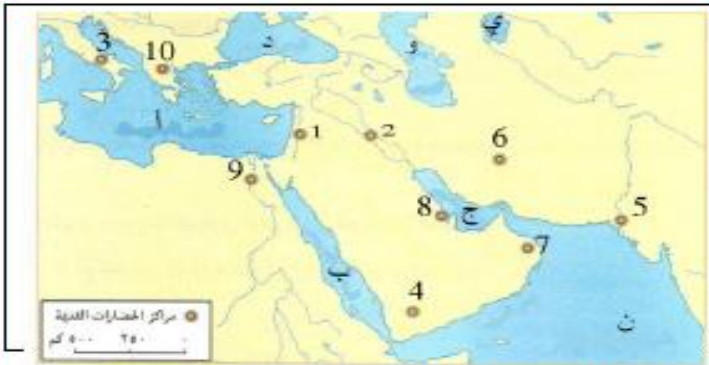
ج- أكتب أسم البحر الأحمر في موقعه الصحيح على الخريطة.

### عددي عوامل قيام الحضارات القديمة في الوطن العربي ؟

- ١ - .....
- ٢ - .....
- ٣ - .....
- ٤ - .....

بالنظر الى الخريطة المقابلة ، أكتب ما تشير اليه الارقام والحروف على الخريطة :

- |          |         |
|----------|---------|
| ..... ٢  | ..... ١ |
| ..... ٤  | ..... ٣ |
| ..... ٦  | ..... ٥ |
| ..... ٨  | ..... ٧ |
| ..... ١٠ | ..... ٩ |
| ..... ب  | ..... أ |
| ..... د  | ..... ج |
| ..... و  | ..... ن |
| ..... ي  | .....   |



١ ( الرقم الذي يشير إلى موقع حضارة مجان

٢ ( الرقم الذي يشير إلى موقع حضارات بلاد الرافدين

٣ ( الحضارة المشار إليها بالرقم ( ٩ ) هي

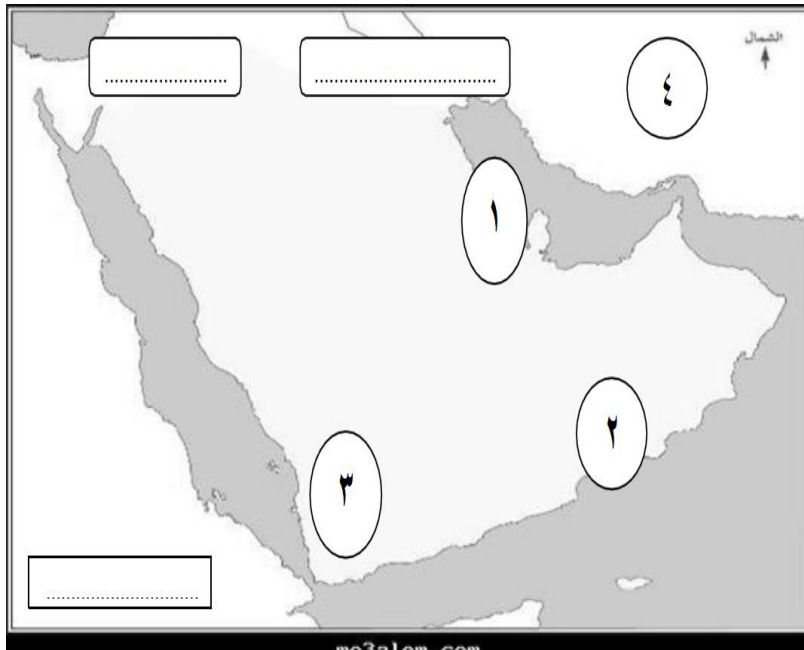
٤ ( المسطح المائي المشار إليه بالحرف

(ج) .....





عنوان الدرس ..... التاريخ .....



أدرس الخريطة الآتية جيدا ثم أجب عما يلي :

أ - الرقم الذي يشير إلى موقع البليد الأثري هو

.....

ب - موقع حضاره دلمون في البحرين يشار إليه

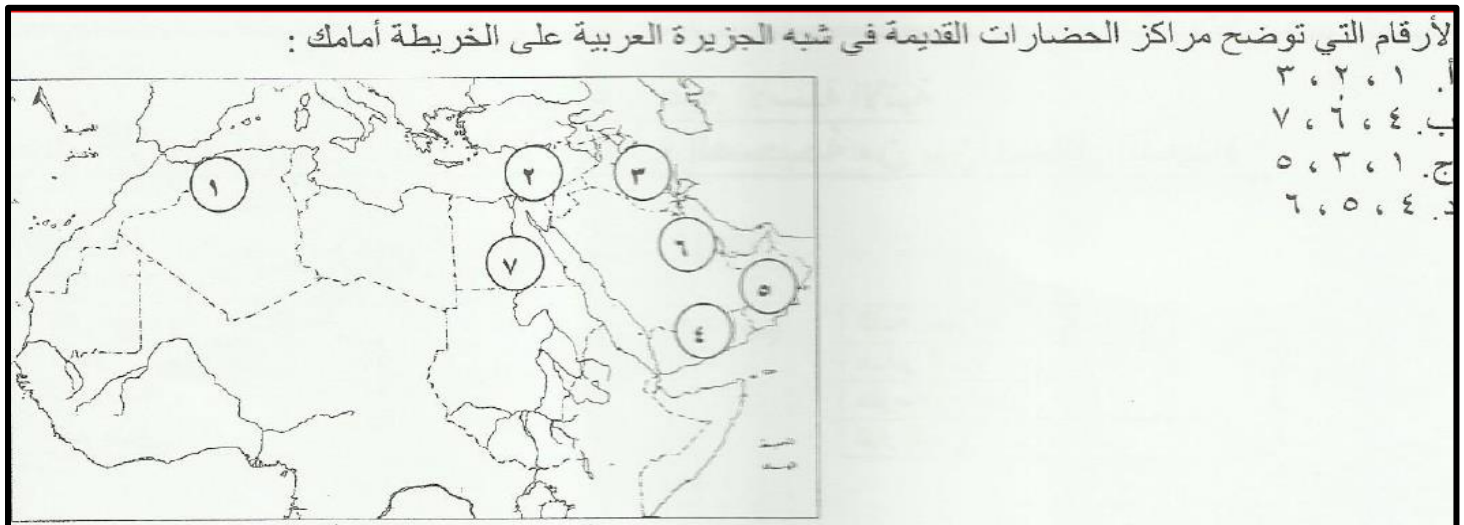
بالرقم .....

ج - حضاره سبأ تقع في الموقع المشار إليه

بالرقم .....

د - اكتب حضاره بلاد الرافدين في مكانها

الصحيح على الخريطة



كيف تتوقع أن تكون حياة الإنسان لو لم يهتدي إلى الزراعة وتربيته الحيوانات ؟

.....

.....

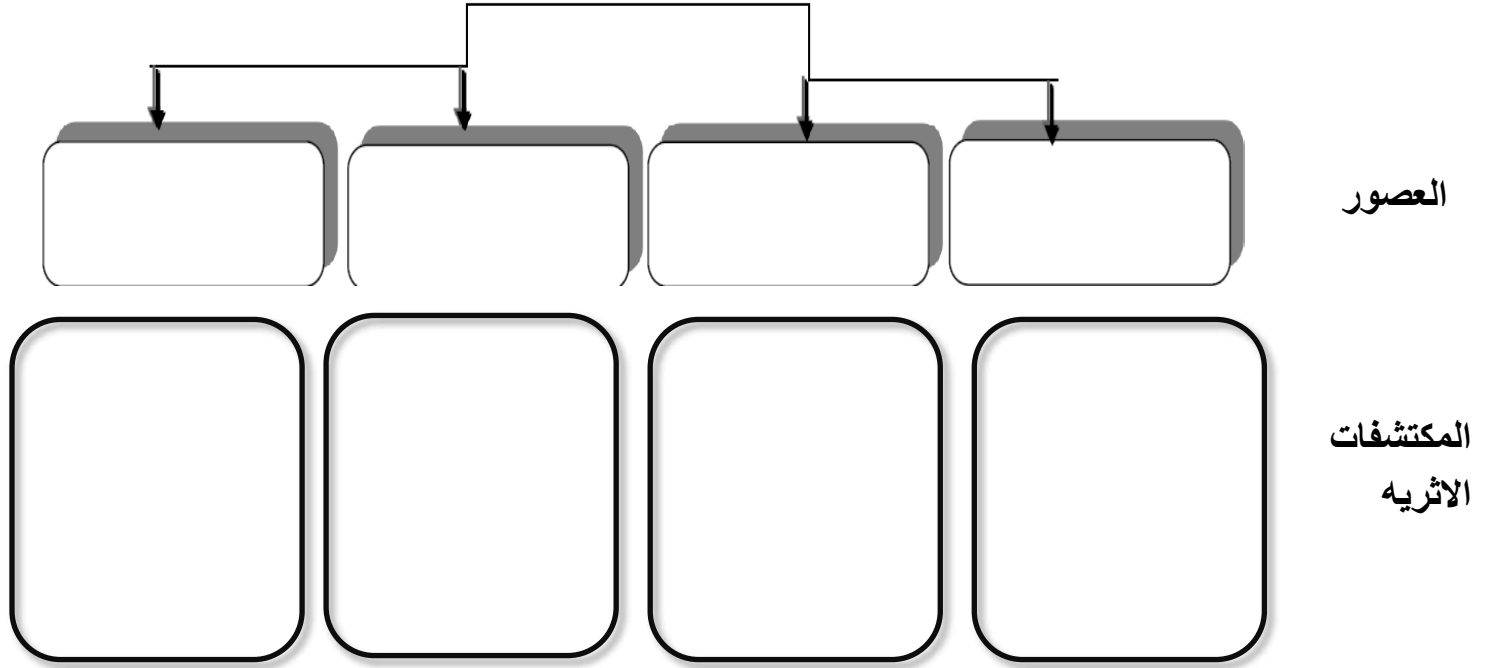
.....

.....

.....

عنوان الدرس ..... التاريخ .....

رتب العصور الحجريه المختلفه فى الشكل الاتي ، ثم أكتب أسفل كل عصر المكتشفات الاثريه التى عثر عليها فى عمان وتنتمى اليه :



دلل على ما يلى :

زراعه النخيل فى عمان قديما

استخراج النحاس وتصنيعه فى عمان قديما



عنوان الدرس ..... التاريخ .....



من خلال خريطة المواقع الاثريه فى سلطنة عمان  
التي أمامك أدرسها جيدا ثم أجيب عما يلي :

١- من خلال ملاحظتك للخريطة هل تتركز المواقع  
الاثريه فى عمان فى:

شمالها  أم جنوبها  اختاري  
الاجابه

فسري

٢ - عدد موقع واحد ينتمي الى الفترات الاتيه :

العصور الحجرية .....

الالف الرابعه ق . م .....

الالف الثاني ق . م .....

العصور الاسلاميه .....

**أجب عما يلي :**

١ - انتظم الانسان العماني فى تجمعات سكنيه كبيره ومنتظمه فى العصر .....


٢ - من وسائل الري التي اعتمد عليها الانسان العماني فى زراعته .....

٣ - من أهم المواقع الاثريه التي تقوم باستخراج النحاس وتصنيعه هي .....

٤ - الفحم المستخدم فى عمليه صهر النحاس هو .....

٣ - ما أثر اكتشاف النحاس فى العصر الحجري الحديث ؟

عنوان الدرس ..... التاريخ .....



ثالثاً - ادرس الصورة التي أمامك جيداً، ثم اجب على الأسئلة التي تليها : ←

- ١- حدد إلى ما تشير هذه الصورة ؟.....
- ٢- دلل على اعتقاد الإنسان القديم بالبعث؟.....

ب/ ما الولاية العمانية التي ينتمي إليها هذا الموقع الأثري .

ج/ أذكر أهم المكتشفات الأثرية التي عُثر عليها بهذا الموقع .

٦- الموقع الأثري الذي عُثر فيه على حوالي (١٠٠) مقبرة مبنية من الحجر المحلي في شبه الجزيرة العربية:



- ١ (أ)
- ٢ (ب)
- ٣ (ج)
- ٤ (د)

على ماذا يدل وجود  
هذه المكتشفات  
الأثرية في عمان ؟

عدد الآثار العمانية التي تعود إلى الألف الثالثة ق . م

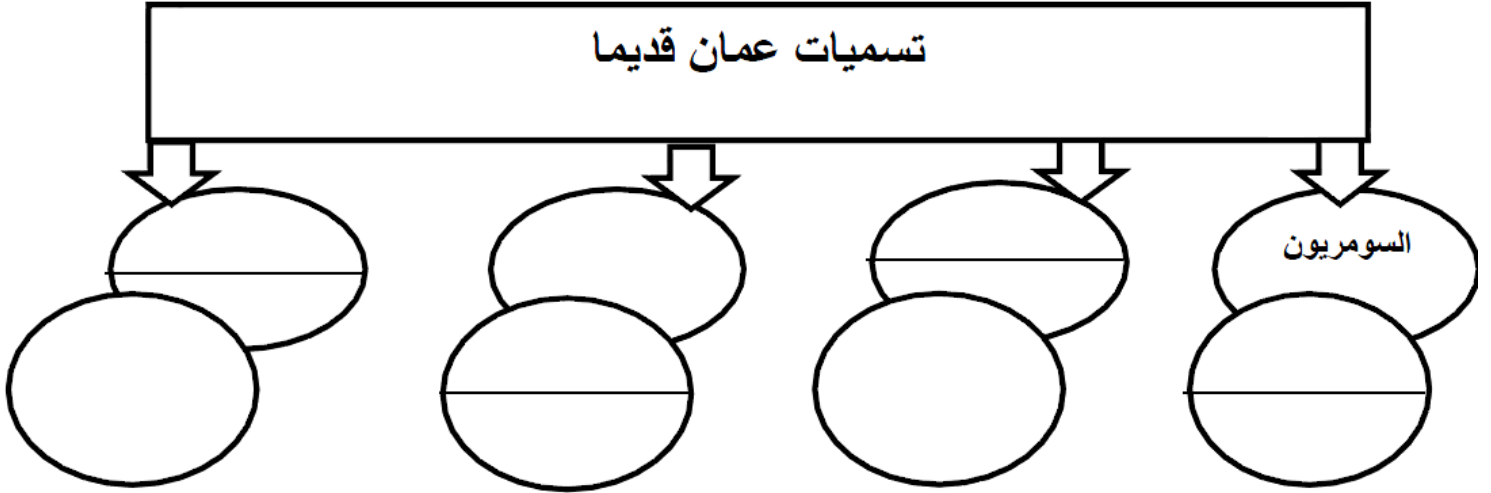
عنوان الدرس ..... التاريخ .....

فسري / سعي الدوله الساسانيه الى تحويل طريق تجاره المحيط الهندي من البحر الاحمر الى الخليج العربي ؟

فسري / استيراد أشور بانبيال الاخشاب من أرض مجان

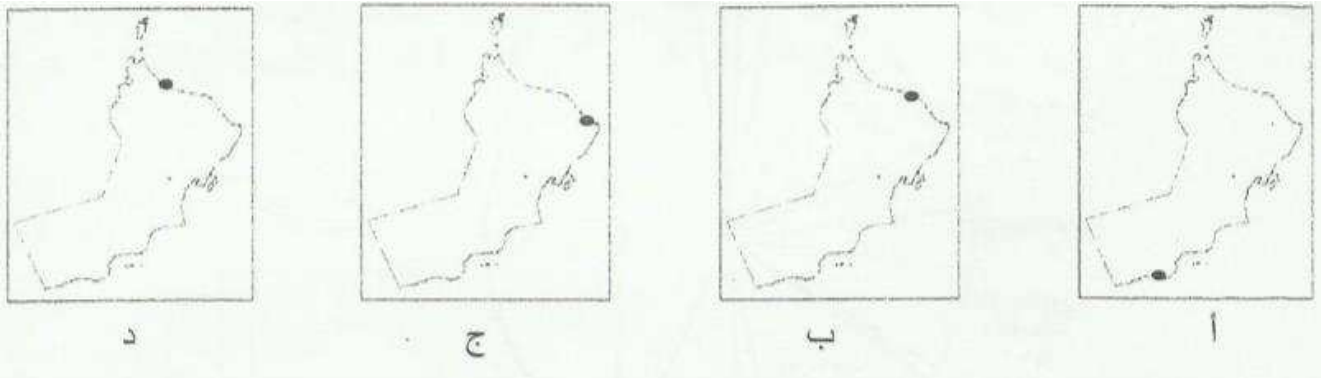
أكمل المخطط الاتي لمسميات عمان قديما لدى الشعوب المختلفه :

تسميات عمان قديما



الخريطه الصحيحه المحدده لموقع المدينه العمانية التي اتخذها الفرس مركزا لتجارتهم البحريه

هي



عنوان الدرس ..... التاريخ .....

ما هي السلع المستورده بين مجان والحضاره الفرعونه ؟

بما تفسري / قوه العلاقات التجاربه بين ظفار والحضاره الفرعونه ؟

### مفاهيم

التوقع

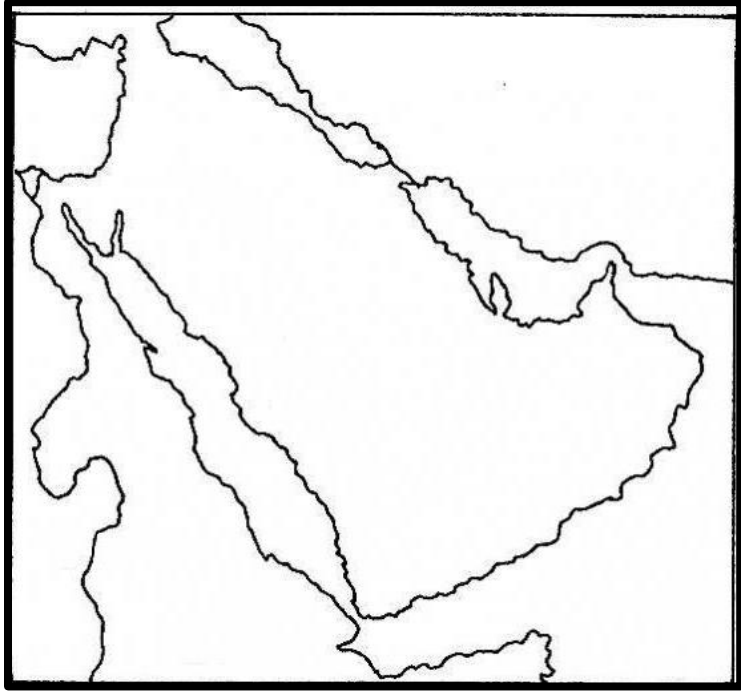
المنقف

أكمل ما يلي :

- ١- يبدأ المشتغلون بجمع اللبان في شهر .....
- ٢ - يتم ضرب الشجره في عده مواضع تتراوح بين .....الى موضع .....

صف شجره اللبان

عنوان الدرس ..... التاريخ .....



أدرس الخريطة الاتيه جيدا ثم أجب عما يلي :

١- صف حركة تجاره اللبان من ظفار الى الحضارات المجاوره عبر العصور المختلفه ؟

.....

.....

.....

.....

.....

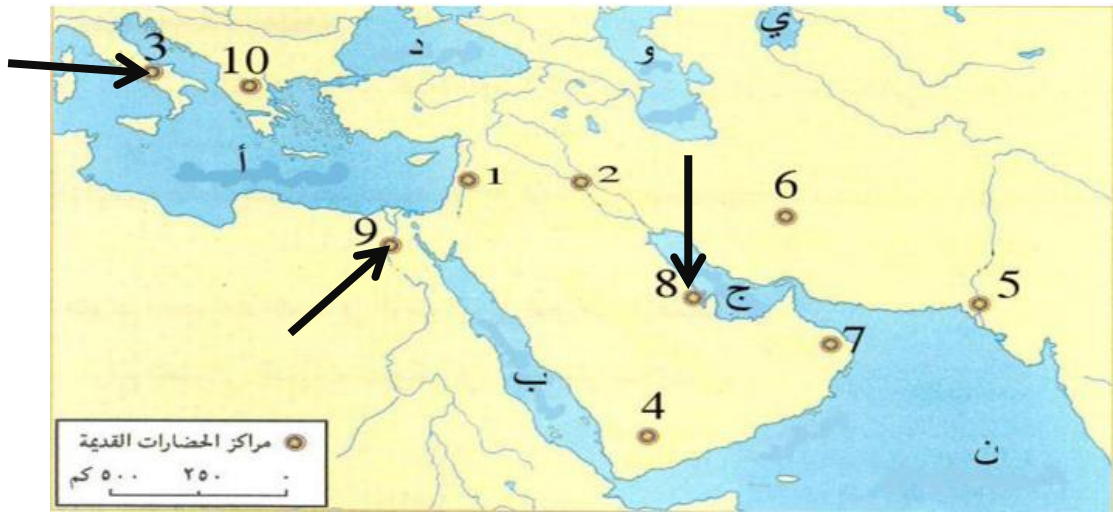
٢- تتبع على الخريطة التي أمامك الطريق البري لنقل اللبان العماني

قارن بين إنتاج اللبان في الضربة الأولى والضربة الثالثة حسب أوجه المقارنة الواردة بالجدول التالي:

وجه المقارنه	جودة اللبان	كمية الإنتاج
الضربه الاولى		
الضربه الثانيه		

دلل على استخدام اللبان لدى المسلمين منذ القدم كتطهير ؟

عنوان الدرس ..... التاريخ .....



من خلال الخريطة السابقة سم الحضارات المشار إليها ثم اكتب استخدامها للبان العماني في الجدول الاتي :

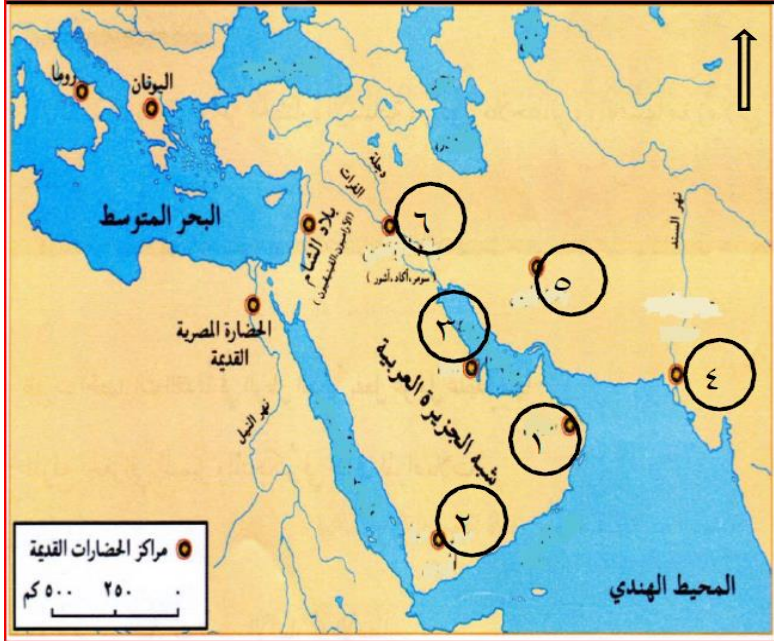
الرقم	اسم الحضاره	استخدامات اللبان

عددي مراحل استخراج اللبان في المربعات الاتيه :



التاريخ

عنوان الدرس



أدرس الخريطة الآتية جيدا ثم أجب عما يلي :

١- ما اسم الحضارة المشار إليها بالرقم ٣ .....

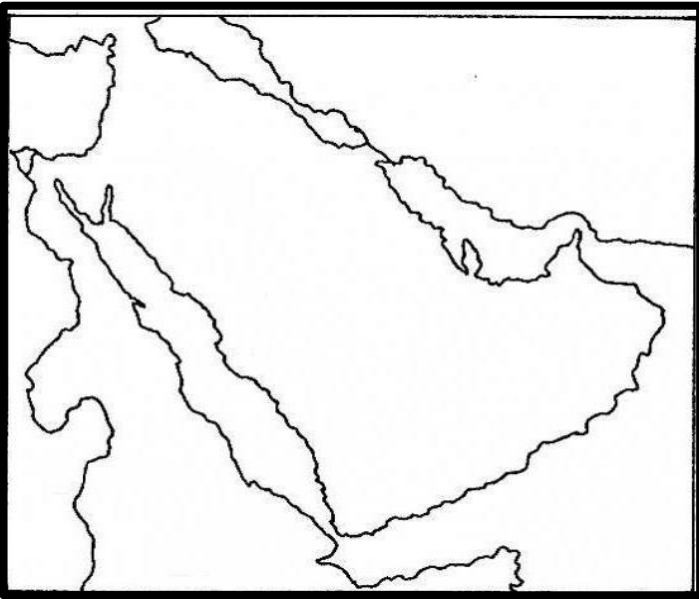
٢- اذكر مسمياتها :

قبل التاريخ.....

عبر التاريخ.....

٣- فسري تمثل تلك الحضارة مركزا استراتيجيا  
مهما ؟

.....  
.....  
.....



تتبعي بالشرح مع التحديد على الخريطة حدود حضارة  
دلمون؟؟

.....  
.....  
.....  
.....

دلل على تسميه دلمون بهذا  
الاسم

.....  
.....  
.....

.....  
.....  
.....

عنوان الدرس ..... التاريخ .....

عدد أهم الآثار المكتشفه فى دلمون




أدرس الصور الاتيه جيدا ثم قارن بينها من حيث الاسم والحضاره التى تنتمى اليها والشكل :

الشكل	الحضاره التى ينتمى اليها	اسم المعلم

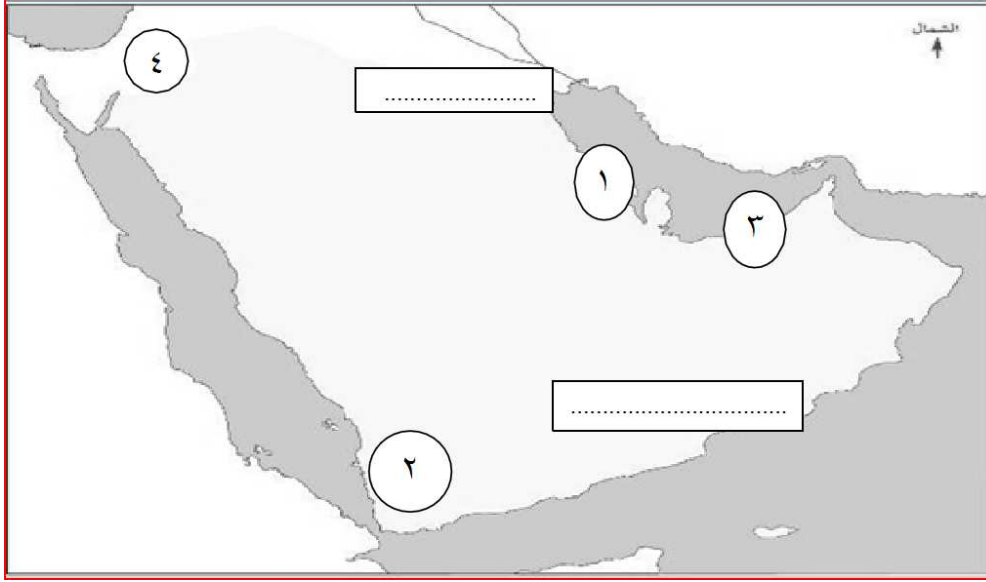


الصوره الثانيه



الصوره الاولى

عنوان الدرس ..... التاريخ .....



ادرس الخريطة الاتيه جيدا ثم  
أجب عما يلي :

- أ ( موقع أثري عثر فيه على آثار تنتمي إلى حضارة أم النار يشار إليه بالرقم ( ..... ) )  
ب) مقبرة عالي توجد في الموقع المشار إليه بالرقم ( ..... )  
ج) حضارة تقع في أقصى جنوب غربي شبه الجزيرة العربية يشار إليها بالرقم ( ..... )  
د ( اكتب على الخريطة موقع خور روري الأثري .

علل / شهرة دلمون بأنها الارض المباركة؟؟

.....  
=.....



ادرس الصورة الاتيه جيدا ثم أجب عما يلي :

- ١- الى ماذا تشير الصورة ؟ .....  
٢- تنسب هذه الصورة الى حضاره .....  
٣- ما هي استخداماتها ؟ .....

عنوان الدرس ..... التاريخ .....



أدرس الخريطة الآتية جيدا ثم أجب عما يلي :

- ١- ضع دائرة حول اسم الحضارة التي أطلقت على البحرين مسمى ( أوال ).
- ٢- أكتب اسم حضارة مجان في موقعها الصحيح على الخريطة .
- ٣- تقع حضارة بلاد الشام بالنسبة للبحر المتوسط في جهة \_\_\_\_\_ ( أكمل ) .

أولا: ١- قارن بين حضارة مجان وحضارة دلمون من حيث :

وجه المقارنة	حضارة مجان	حضارة دلمون
الاسم الذي أطلقه الفرس عليها	.....	.....
مسماتها في الوقت الحاضر	.....	.....



١- الى ماذا تشير الصورة التي أمامك ؟ .....

٢- اعطي وصفا لها ؟ .....

٣- ما الاهمية التاريخيه لها؟ .....

أكمل العبارات الآتية :

- ١- كان نظام الحكم في البحرين قديما .....
- ٢- السلعة الرئيسية لتجاره دلمون هي .....
- ٣- توجد آثار المعابد التي بناها أهل البحرين في منطقه .....
- ٤- كانت البحرين ارضا زراعيه بسبب ..... و.....
- ٥- هاجم البحرين وأحرق مدينتها الاولى واخضعها لسيطرته هو .....

عددي السلع التجاريه التي  
كانت تتاجر بها دلمون ؟

.....  
.....  
.....

...

دلل على أن البحرين كانت  
تخضع لحكام بلاد الرافدين

.....  
.....  
.....

.....



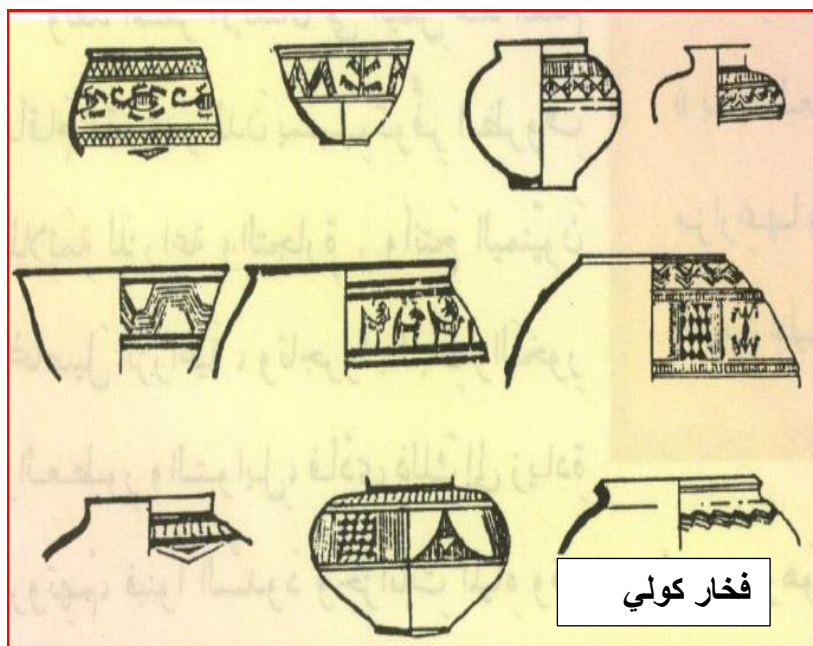




عنوان الدرس ..... التاريخ .....



- ١- ينتمي هذا الفخار الى حضاره .....
- ٢- ويرجع الى الالف .....
- ٣- يتميز هذا الفخار ب.....و.....



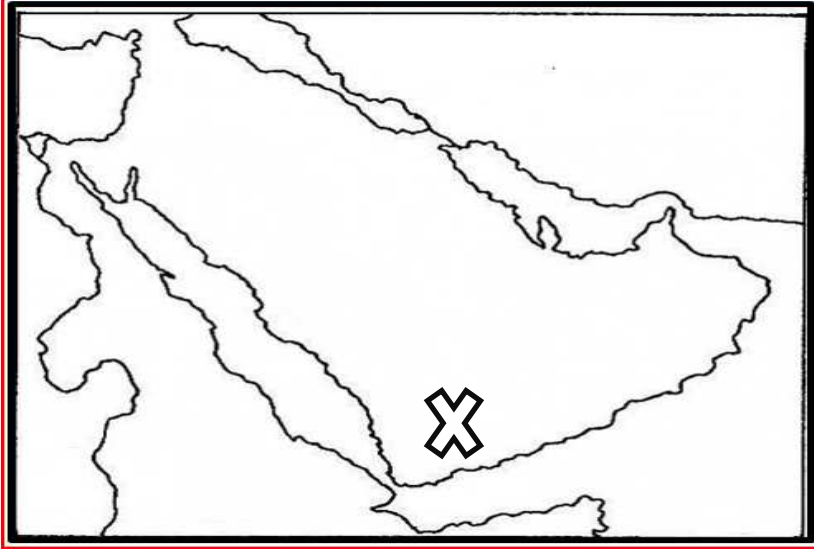
ادرس الصور جيدا ثم أجب :

قارني بين فخار الخليج العربي وفخار حضاره كولي من حيث التشابه في النقش المنحوت على الاواني

١- تقع حضاره كولي في .....

وقد ازدهرت حضارتها في الالف .....

عنوان الدرس ..... التاريخ .....



١- سم الحضاره المشار اليها بالرمز X

.....

٢- صف موقعها بالنسبه لشبه الجزيره العربيه.....

.....

٢- اكتب على الخريطه المنافذ البحريه التى تطل عليها .

٣- ما الذى يفصل بين المنفذين السابقين .....؟  
( اكتبه على الخريطه )

فسر / أسباب ازدهار الزراعة وتقدم البلاد فى اليمن قديما ؟

.....  
.....  
.....

ما النتيجة المترتبه على اشتغال اليمنيين منذ القدم بالزراعه والتجاره ؟

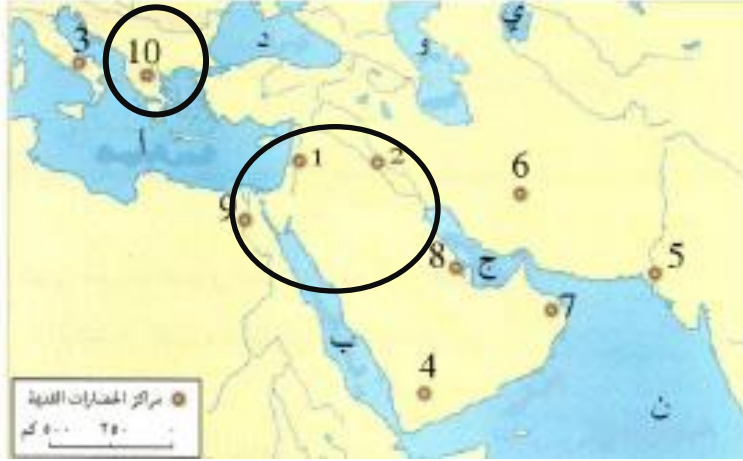
.....  
.....  
.....

فسر / استقرار الانسان فى اليمن منذ القدم فى المدن والقرى ؟

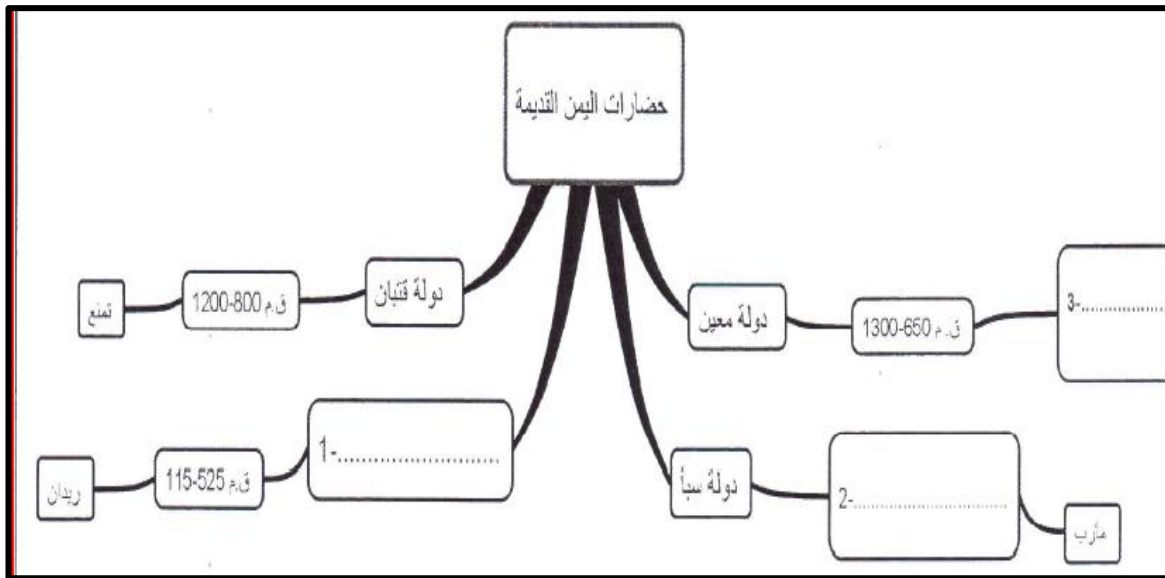
.....  
.....  
.....  
.....

عنوان الدرس ..... التاريخ .....

ادرس الخريطة ثم اكتب الدول المشار اليها وتسميتها لليمن في الجدول



الدولة	الاسم الذي اطلقوه على اليمن	التفسير



أكمل الخريطة الذهنية الاتية

عنوان الدرس ..... التاريخ .....

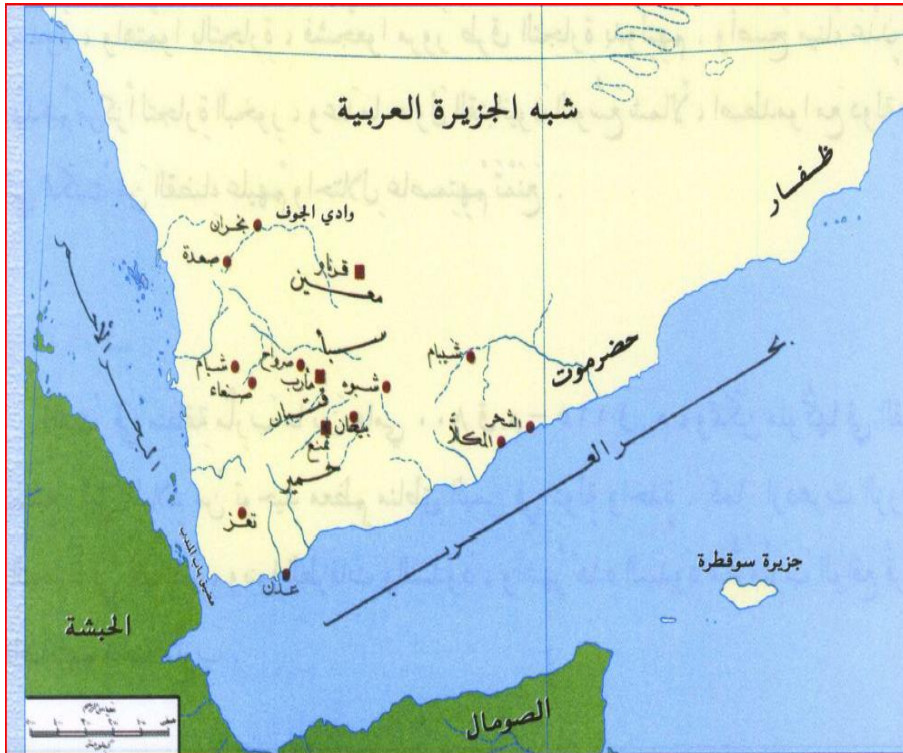
قارنى بين الدول التى قامت فى اليمن من خلال الجدول الاتى :

الدولة التى قضت عليها	المنجزات	النشاط الاقتصادي	العاصمه	الموقع	سنه قيامها	الدوله

أدرس الخريطة جيدا ثم أجب عما يلى :

- ١- ضع دائره فى الخريطة على ما يلى :
  - أ - عاصمه دوله معين .
  - ب - الميناء الذى اصبح فى عهد القتبانيون مركزا لتجاره البخور .
- ٢- مدينه بنى بها السبئيون أشهر سد فى حضاره اليمن .....
- ٣- فسر / هجره القبائل اليمنيه الى أطراف شبه الجزيرة العربيه بعد سقوط مملكه سبأ ؟

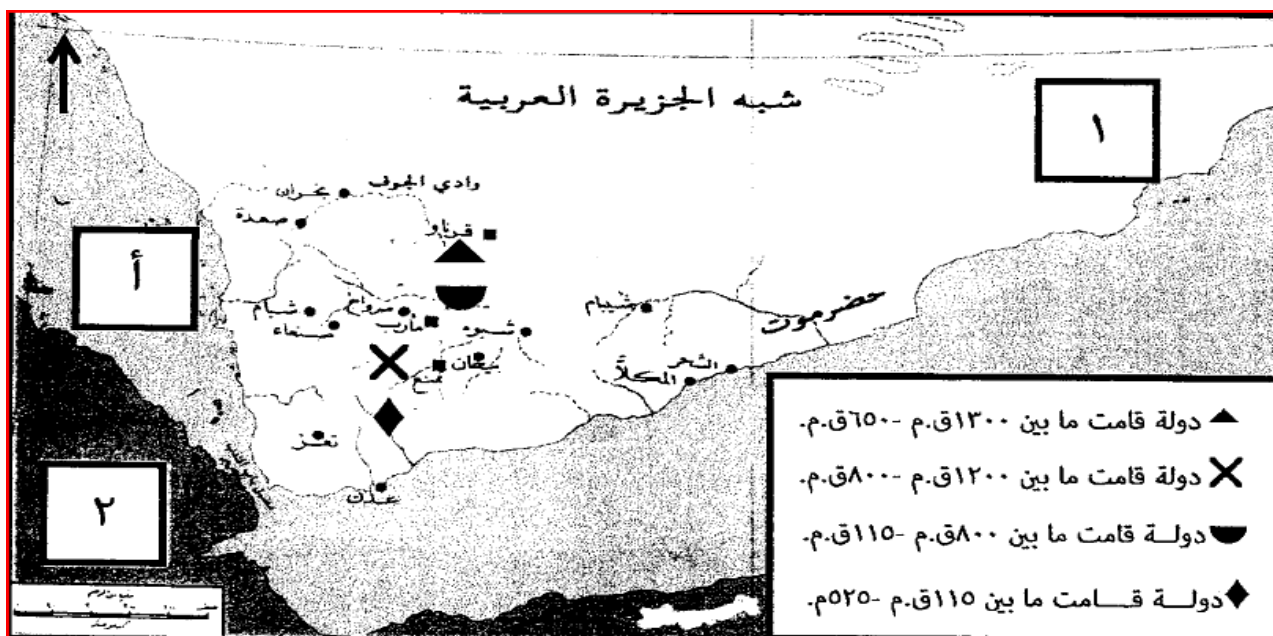
.....



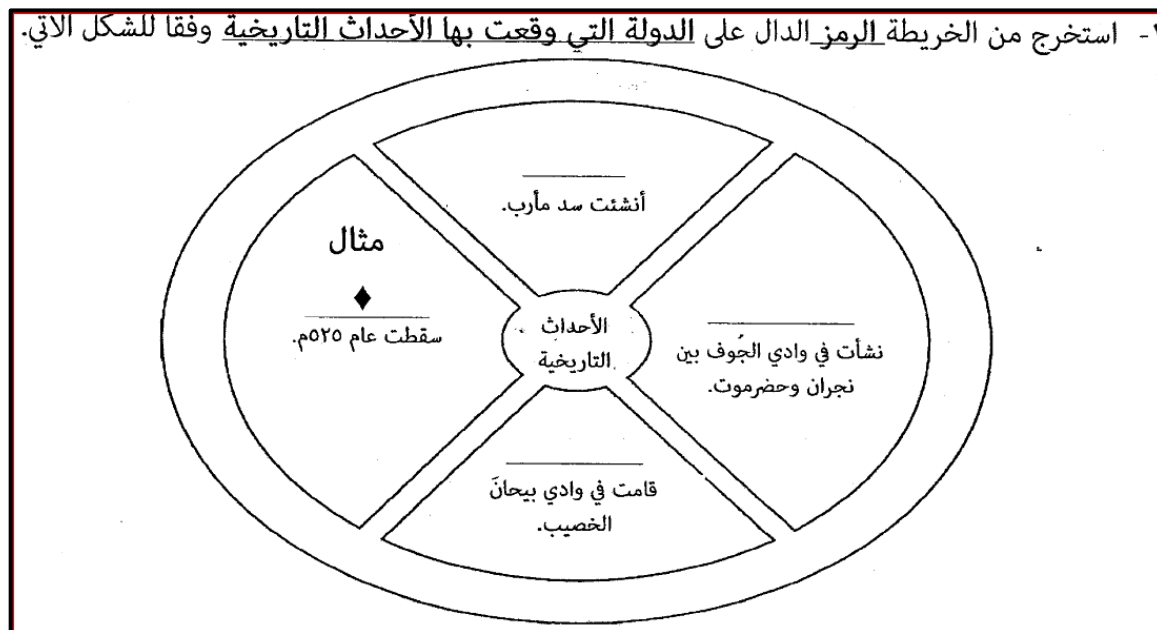


عنوان الدرس ..... التاريخ .....

أمامك خريطة الحضارات القديمة في اليمن ادرسها جيدا ثم أجب عما يلي



١- استخراج من الخريطة الرمز الدال على الدولة التي وقعت بها الأحداث التاريخية وفقا للشكل الآتي.



٢- ما الرقم الدال على موقع الحبشة؟

٣- اكتب الجهة الأصلية التي يقع فيها المسطح المائي المشار إليه بالرمز (أ) بالنسبة لليمن.

عنوان الدرس ..... التاريخ ..... ٢٥

ثانياً : أمامك مجموعة من المعطيات في الجدول الآتي . ضع العلامة ( x ) تحت العبارة التي تنطبق على الدولة :

العبارة	عاصمتها	ظهرت في الفترة	قامت في وادي	أنشأت سد مأرب	بلقيس أشهر	بفضلها أصبح
قنات	قرناتو	(١١٥ ق.م - ٥٢٥ م)	بيحان	أنشأت سد مأرب	ملوكها	ميناء عدن
سبأ						مركزا لتجارة
حضر						البخور
معين						

فسر / ما هي الاسباب التي أدت الى ضعف دوله سبأ ؟

.....

.....

.....

علل / فشل الرومان في السيطرة على اليمن ؟

.....

.....

ما النتائج المترتبة على انهيار سد مأرب ؟

.....

.....

عددي الدول التي سيطرت على اليمن وكيف تخلصت اليمن منها ؟

.....

.....

.....

.....



عنوان الدرس ..... التاريخ .....

من أشهر ملوك دولة اليمن  
وورد ذكرها في القرآن هي  
.....

قامت الرومان بإرسال  
حملة بحرية إلى اليمن في  
عام .....

تعرضت اليمن إلى غزو الأحباش وبسطوا نفوذهم عليها ، ثم حاولوا السيطرة على مكة وشنوا  
حملة عليها ..... من خلال الفقره السابقه أجب عما يلي :

١- الأحباش حاليا هي دولة .....

٢- ما اسم الحملة التي قامت بها الأحباش على مكة ؟ ..... وهل نجحت تلك الحملة  
.....؟

رتب قيام الدول اليمنية التالية من الأقدم للأحدث ( سبأ ،  
حمير ، معين ، قنبان )

رتب الأحداث التاريخية التالية من الأقدم للحدث :  
( ... ) تعرض اليمن لهجوم الأحباش و بسط نفوذهم  
عليها .  
( ... ) ظهرت الدولة الإسلامية و دخول اليمن للإسلام و  
أصبحت جزءا منها .  
( ... ) فرض الفرس سيطرتهم على اليمن .  
( ... ) فشل الحملة البرية الرومانية التي أرسلت  
للسيطرة على اليمن .