

تم تحميل هذا الملف من موقع المناهج العمانية



الملف مذكرة إثرائية وأسئلة اختبارية في الوحدة الثانية ( جغرافية السكان )

موقع المناهج ← المناهج العمانية ← الصف السابع ← اجتماعيات ← الفصل الأول

روابط مواقع التواصل الاجتماعي بحسب الصف السابع



روابط مواد الصف السابع على تلغرام

[الرياضيات](#)

[اللغة الانجليزية](#)

[اللغة العربية](#)

[التربية الاسلامية](#)

المزيد من الملفات بحسب الصف السابع والمادة اجتماعيات في الفصل الأول

<a href="#">امتحان وإجابة الأسئلة الرسمية للفصل الدراسي الأول الدور الأول 20162017</a>	1
<a href="#">ملخص الوحدة الاولى والثانية والثالثة</a>	2
<a href="#">ملخص الوحدة الأولى الحضارات القديمة في عمان وشبه الجزيرة العربية</a>	3
<a href="#">تحميل كتاب الطالب</a>	4
<a href="#">ملف تجميع أسئلة الامتحانات الرسمية والأجوبة للسنوات السابقة</a>	5

الصف السابع

الدراسات الاجتماعية

2021-2022

مذكرة إثرائية

أسئلة

الفصل الدراسي الأول

الوحدة الثانية

(جغرافية السكان)

محتوى الوحدة الثانية

٣- النمو السكاني

٢- مفهوم بنية السكان

١- مفهوم جغرافية السكان

٥- المشكلة السكانية

٤- الكثافة السكانية

للتواصل :

99493923

اعداد :

علي بن محمد الحسان

Ali 47536@moe.om



## { درس : مفهوم جغرافية السكان }

**السؤال الأول : ضع علامة (✓) أو (X) أمام العبارة المناسبة مع تصحيح ما تحته خط إذا كانت العبارة خطأ .**

- ١- ( ) المصدر الأول والرئيسي لدراسة السكان وبنيتهم هو سجلات الهجرة .
- ٢- ( ) تم التعداد الثالث للسكان في سلطنة عمان عام ٢٠١٠ .
- ٣- ( ) تختص جغرافية السكان بدراسة خصائص السكان وتوزيعه الجغرافي .

**السؤال الثاني : ظلل الإجابة الصحيحة من بين البدائل المعطاه .**

- ١- تم أول تعداد شامل في سلطنة عمان عام .....
- ١٩٩١  ١٩٩٢  ١٩٩٣
- ٢- زيادة أعداد السكان بصورة كبيرة تفوق الزيادة في الموارد الطبيعية يقصد به .
- التعداد السكاني  الانفجار السكاني  النمو السكاني
- ٣- العملية الشاملة لحصر الأفراد والتعرف على حالتهم الاقتصادية والاجتماعية في الدولة وفي زمن معين يقصد به .
- التعداد  بنية السكان  نمو السكان

**السؤال الثالث : أكمل ما يلي بعبارات مناسبة من عندك .**

- ١ - يجري التعداد على فترات منتظمة كل ..... سنوات أو ..... سنوات .
- ٢- تشمل الإحصاءات الحيوية على سجلات المواليد وسجلات ..... وحالات ..... و .....
- ٣- سجلات الهجرة وتشمل حصر اعداد ..... من الدولة و .....

**السؤال الرابع : " هناك العديد من المصادر لدراسة السكان إلا أن أهمها ثلاثة مصادر " أذكرها ؟**

**السؤال الخامس : أجب عن الأسئلة التالية:**

س ١ : بماذا تختص جغرافية السكان ؟

ج ١ : .....

س ٢ : " تتلخص خصائص جغرافية السكان بثلاثة جوانب رئيسية " ماهي ؟

ج ٢ : .....

س ٣ : " تكمن أهمية دراسة السكان في ثلاثة أشياء " أذكرها ؟

ج ٣ : .....

almanahj.com/om

## { درس : بنية السكان }

**السؤال الأول : ضع علامة (✓) أو (X) أمام العبارة المناسبة مع تصحيح ما تحته خط إذا كانت العبارة خطأ .**

- ١- ( ) الفئة المنتجة في المجتمع والأكثر قدرة على الحركة والهجرة هي كبار السن .
- ٢- ( ) الأسرة المكونة من الأب والأم والأطفال والجد والجددة يطلق عليها أسرة متوسطة .
- ٣- ( ) الهرم الذي يمثل المجتمع المسن و تنخفض فيه نسبة صغار السن هو الهرم ذو القاعدة الضيقة.

**السؤال الثاني : صل بخط بين نوع البنية في العمود الأول ومعناها في العمود الثاني .**

معناها	البنية
دراسة السكان حسب فئات العمر	البنية العمرية
نسبة عدد الذكور إلى الإناث في المجتمع	البنية النوعية
يقصد بها الخصائص الاجتماعية للسكان في المجتمع من حيث الحالة الزوجية والمستوى التعليمي وحجم الأسرة	البنية الاقتصادية
يقصد بها ملامح النشاط الاقتصادي في المجتمع وارتباطها بظروف البيئة الجغرافية	البنية الاجتماعية

**السؤال الثالث : ظلل الإجابة الصحيحة من بين البدائل المعطاه .**

- ١- نسبة الأفراد المنتجين " العاملين " إلى الأفراد غير المنتجين أو العاملين يقصد به
- نسبة الإعالة ○ القوى العاملة ○ الهرم السكاني
- ٢- شكل بياني يبين توزيع السكان من حيث العمر والنوع يقصد بها
- نسبة الإعالة ○ القوى العاملة ○ الهرم السكاني
- ٣- الأفراد في سن العمل من الذكور والإناث سواء أكانوا عاملين أم باحثين عن العمل يقصد به
- نسبة الإعالة ○ القوى العاملة ○ الهرم السكاني

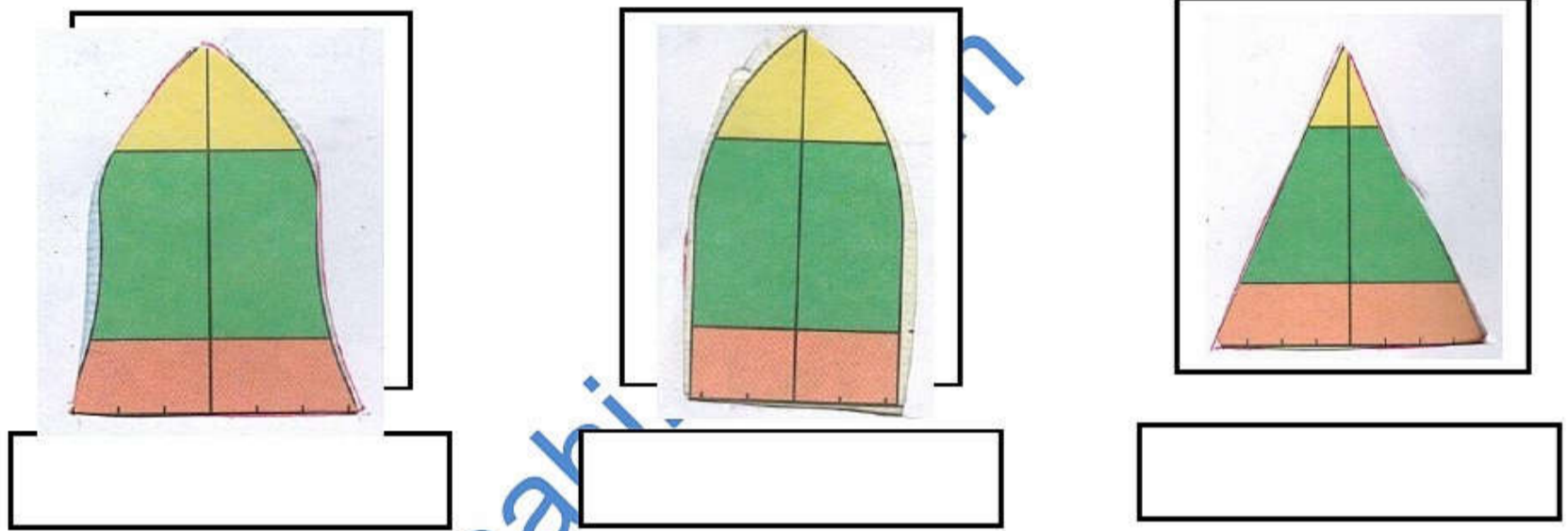
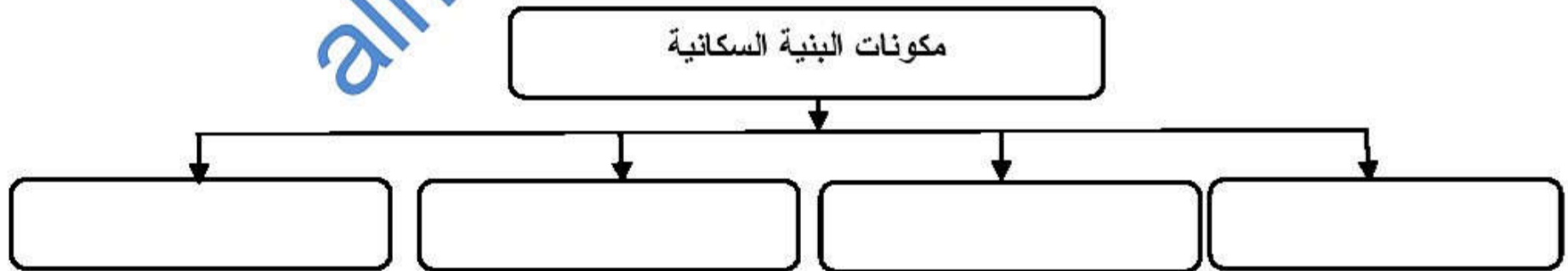
**السؤال الرابع : أكمل ما يلي بعبارات مناسبة من عندك .**

- ١ - الخصائص السكانية تتأثر بعوامل حيوية مثل معدل ..... و ..... ومعدلات ..... في المجتمع
- ٢- دراسة الخصائص السكانية المتعلقة بالنوع والسن تساعد على فهم ..... ودراسة الأوضاع ..... في المجتمع .
- ٣- القوى غير العاملة تشمل ..... و .....

**السؤال الخامس : اختر من بين القوسين المصطلح الدال على ما يلي وضعه أمام العبارة المناسبة .**

( البنية النوعية - الهرم السكاني - بنية السكان - نسبة الإعالة )

- ١- ( ) دراسة خصائص السكان في المجتمع من حيث العمر والنوع والنشاط الاقتصادي والاجتماعي .
- ٢- ( ) نسبة عدد الذكور إلى الإناث في المجتمع ؟
- ٣- ( ) نسبة الأفراد المنتجين " العاملين " إلى الأفراد غير المنتجين أو العاملين .
- ٤- ( ) شكل بياني يبين توزيع السكان من حيث العمر والنوع .

**السؤال السادس : أكتب تحت كل هرم اسمه الصحيح :****السؤال السادس : اكمل الشكل التالي بكتابة مكونات البنية السكانية**

**السؤال السابع : أجب عن الأسئلة التالية:**

س ١ : " ينقسم السكان إلى ثلاث فئات عمرية " ماهي ؟

- ج ١ : ١- .....  
 ٢- .....  
 ٣- .....

س ٢ : كيف يتم حساب نسبة الإعاقة ؟ x

- ج ٢ : .....

س ٣ : كيف يتم حساب نسبة النوع ؟

- ج ٣ : .....

س ٤ : ما المقصود بأن نسبة النوع في معظم الدول ( ١٠٥-١٠٠ ) ؟

- ج ٤ : .....

س ٥ : " تتأثر نسبة النوع في المجتمعات بعوامل عدة " أذكر أهم هذه العوامل ؟

- ج ٥ : .....  
 .....  
 .....

س ٦ : تقسم الأهرامات السكانية إلى ثلاثة أنواع رئيسية " ماهي ؟

- ج ٦ : ١- .....  
 ٢- .....  
 ٣- .....

س ٧ : " تنقسم القوى البشرية في المجتمع إلى نوعين من القوى " ماهي ؟

- ج ٧ : ١- .....  
 ٢- .....

## { درس : النمو السكاني }

**السؤال الأول : ضع علامة (✓) أو (X) أمام العبارة المناسبة مع تصحيح ما تحته خط إذا كانت العبارة خطأ .**

- ١- ( ) يمكن معرفة أنواع الهجرة من خلال معرفة المكان ومدة الإقامة والرغبة.
- ٢- ( ) انخفاض معدل وفيات الرضع يدل على التقدم الصحي والاجتماعي للمجتمع.
- ٣- ( ) يرتفع معدل أمد الحياه في الدول التي تفتقر إلى شبكة الخدمات العامة .
- ٤- ( ) تعتبر الهجرة مصدرا رئيسيا لتغير السكان .

**السؤال الثاني : ( أ ) أكمل ما يلي بعبارات مناسبة من عندك .**

- ١- ترتفع معدلات المواليد في المجتمعات ..... التقليدية بينما تقل في المجتمعات .....
- ٢- إذا كان عدد المواليد أكبر من عدد الوفيات فإنها تكون الزيادة .....
- ٣- إذا كان عدد المواليد أقل من عدد الوفيات فإنها تكون الزيادة .....

**السؤال الثاني : ( ب ) أكمل ما يلي لأنواع الهجرة من حيث :**

- ١- المكان : حيث أنها تكون : داخلية أو .....
- ٢- مدة الإقامة : حيث أنها تكون : دائمة أو .....
- ٣- الرغبة : حيث أنها تكون : اختيارية أو .....

**السؤال الثالث : علل " أذكر السبب "**

- ١ - تختلف معدلات المواليد بين الدول من دولة لأخرى .

.....

- ٢ - تتفاوت الزيادة الطبيعية من دولة لأخرى .

.....

**السؤال الرابع : صل بخط بين المصطلح ومعناه**

تعريفه	المصطلح
هي انتقال السكان من مكان إلى آخر مع تغيير محل الإقامة ولو لفترة محدودة	المواليد
يقصد به عدد السنوات التي يعيشها الفرد الواحد	أمد الحياة
هم عدد الأطفال الذين ولدوا أحياء في السنة	الهجرة



**السؤال الخامس : ظلل الإجابة الصحيحة من بين البدائل المعطاه .**

١- من أهم العوامل التي تؤثر في حجم السكان ونموهم .

- المواليد  الوفيات  الهجرة

٢- الفرق بين أعداد المواليد وأعداد الوفيات للسكان في مجتمع ما في فترة محددة يقصد به .

- الزيادة الطبيعية  أمد الحياة  الهجرة

**السؤال السادس : أجب عن الأسئلة التالية:**

س١ : ما ذا يقصد بالنمو السكاني ؟

ج١ : .....

س٢ : كيف يتم حساب معدل المواليد الخام ؟

ج٢ : .....

س٣ : " تحدث الوفيات نتيجة لعدة عوامل " اذكر ثلاثة من هذه العوامل ؟

ج٣ : .....

س٤ : كيف يتم حساب معدل الوفيات الخام ؟

ج٤ : .....

س٥ : " من الأسباب التي تؤدي إلى الهجرة عوامل الجذب " ماذا يقصد بعوامل الجذب ؟ مع ذكر مثالين عليها ؟

ج٥ : .....

س٦ : ماذا عملت السلطنة من أجل الحد من الهجرة من الريف إلى المدينة ؟

ج٦ : .....

## { درس : الكثافة السكانية }

**السؤال الأول : ضع علامة (✓) أو (X) أمام العبارة المناسبة مع تصحيح ما تحته خط إذا كانت العبارة خطأ .**

- ١ - ( ) يتوزع سكان العالم على سطح الأرض بشكل متساو .  
 ٢ - ( ) يقل عدد السكان في المناطق الغنية بالموارد الطبيعية .  
 ٣ - ( ) عدد القارات في العالم القديم ثلاث قارات فقط .

**السؤال الثاني : ظلل الإجابة الصحيحة من بين البدائل المعطاه .**

١- معظم سكان العالم يعيشون فوق مساحة لاتزيد عن .... من مساحة العالم .

- ١٠%      ○ ٢٠      ○ ٣٠%

٢- سكان العالم القديم يمثلون مانسبته ..... من سكان العالم .

- ربع      ○ ربعين      ○ ثلاثة ارباع

٣- غالبية سكان العالم يتركزون في نصف الكرة ...

- الجنوبي      ○ الشمالي      ○ الغربي

٤- تعد السهول ..... من أكبر مناطق العالم إزدحاما بالسكان

- الساحلية      ○ الداخلية      ○ النهرية

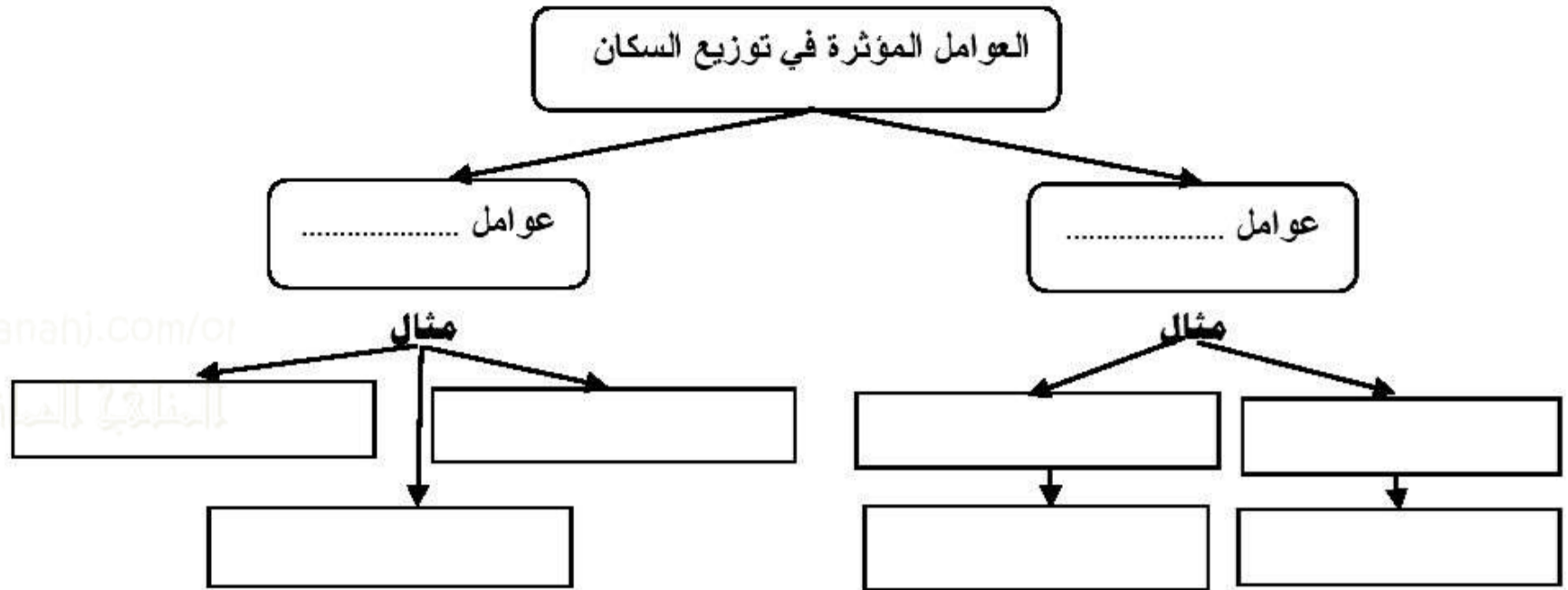
**السؤال الثالث : أكمل ما يلي بعبارات مناسبة من عندك .**

- ١- توصف المناطق المزدحمة بالسكان بانها مناطق ذات كثافة سكانية .....
- ٢- توصف المناطق قليلة السكان بانها ذات كثافة سكانية .....
- ٣- يساعد عنصر ..... في ارتفاع الكثافة السكانية في العديد من مناطق العالم .

**السؤال الرابع : علل " أذكر السبب "**

١ : يفضل الإنسان العيش في المناطق السهلية على المناطق الجبلية ؟

٢- يميل الإنسان الى الانتشار في المناطق التي تشرف على المسطحات المائية أو القريبة منها ؟

**السؤال الخامس : أكمل الجدول التالي :****السؤال السادس : أجب عن الأسئلة التالية:**

س ١ : ما ذا يقصد بالكثافة السكانية ؟

ج ١ : .....

س ٢ : تقسم العوامل التي تؤثر في وتوزيع سكان العالم الى قسمين ما هما ؟

ج ٢ : ١ - .....

س ٣ : عرف الكثافة السكانية ؟ وكيف تحسب ؟

ج ٣ : .....

## { درس : المشكلة السكانية }

**السؤال الأول : ضع علامة (✓) أو (X) أمام العبارة المناسبة مع تصحيح ما تحته خط إذا كانت العبارة خطأ .**

- ١ - ( ) كلما كان الافراد أقل تعليماً وثقافةً أدى ذلك الى ظهور المشكلة السكانية .
- ٢ - ( ) من أبرز مشكلات النمو السريع للسكان الضغط على الخدمات وظهور ما يعرف بالبطالة .
- ٣ - ( ) يطلق على نقص كمية الغذاء عن الحد الأدنى المقبول للفرد بمشكلة الغذاء .

**السؤال الثاني : ظلل الإجابة الصحيحة من بين البدائل المعطاه**

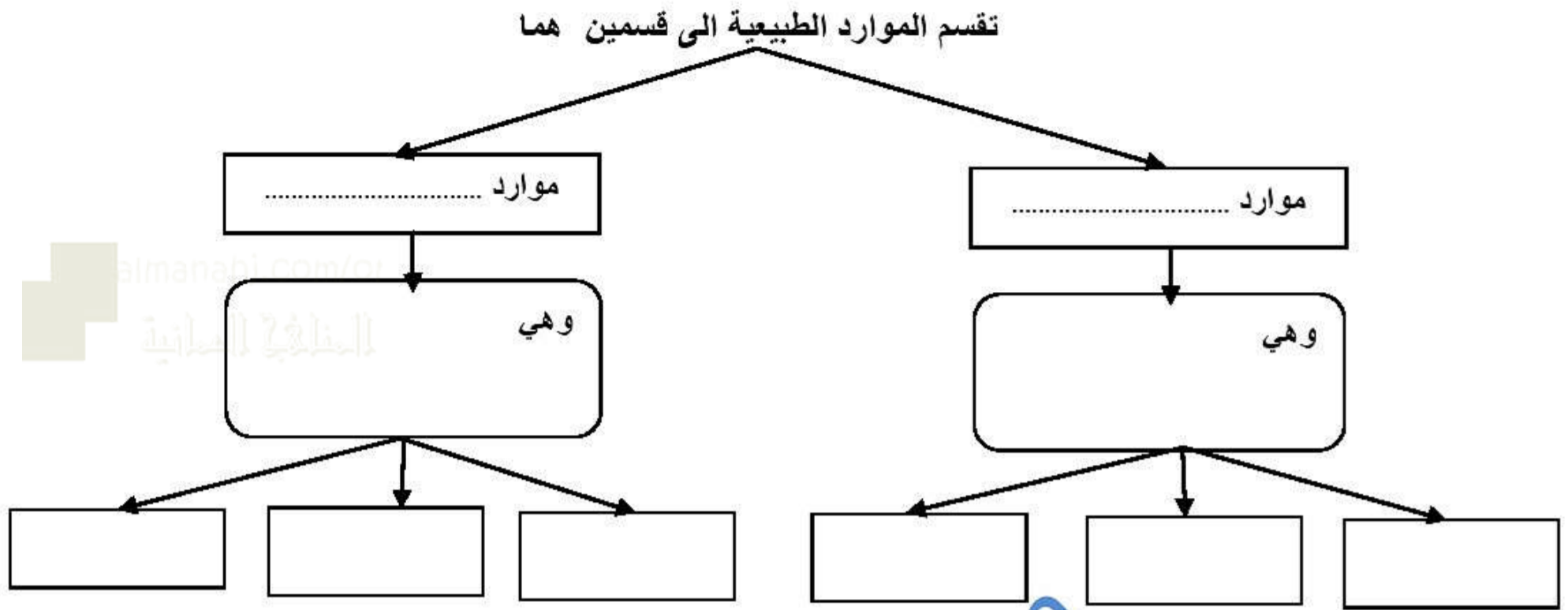
- ١- من الموارد الطبيعية الغير متجددة .
- الماء  الهواء  النفط
- ٢- إفتقار الغذاء للعناصر الغذائية المطلوبة للجسم يقصد به .
- سوء الهضم  سوء التغذية  مشكلة الجوع
- ٣- أكبر مصدر لتهديد البيئة البحرية يتركز في الدول .....
- الصناعية  التجارية  الزراعية
- ٤- خصت الأمم المتحدة يوم ..... من كل عام للاحتفال بيوم الغذاء العالمي .
- ١٤ أكتوبر  ١٥ أكتوبر  ١٦ أكتوبر

**السؤال الثالث : أكمل ما يلي بعبارات مناسبة من عندك .**

- ١- يظهر النمو السكاني السريع بصورة كبيرة في المجتمعات .....
- ٢- للموارد الطبيعية نوعان موارد متجددة وموارد .....
- ٣- تهديد الأراضي الزراعية والحياة النباتية الطبيعية تتركز في الدول .....

**السؤال الرابع : ضع المصطلح الدال على المعنى بين القوسين في العبارات التالية .**

- ١- ( ) زيادة أعداد السكان بصورة تفوق الموارد الطبيعية المتاحة في منطقة ما أو في العالم بشكل عام .
- ٢- ( ) ارتفاع معدل النمو السكاني بفعل تأثير عوامل اجتماعية واقتصادية .
- ٣- ( ) نقص كمية الغذاء عن الحد الأدنى المقبول للفرد .

**السؤال الخامس : أكمل الشكل التالي :****السؤال السادس : أجب عن الأسئلة التالية:**

س ١ : إلى ماذا تؤدي المشكلة السكانية ؟

ج ١ : .....

س ٢ : " للمشكلة السكانية عدة أبعاد " اذكرها مع شرح واحد منها ؟

ج ٢ : ١- .....

.....

..... ٢-

.....

..... ٣-

.....

س ٣ : ما الفرق بين الموارد المتجددة والموارد غير المتجددة ؟

ج ٣ : الموارد المتجددة هي .....

..... الموارد غير المتجددة هي .....

س ٤: " تعد مشكلة الغذاء من المشكلات السكانية المعاصرة " أذكر ثلاث من مشاكل الغذاء ؟

ج ٤: .....

س ٥: " للنقص الغذائي العالمي أسباب عديدة " أذكر أربعة منها ؟

ج ٥: .....

almanahj.com/om

المنهج الحياتي

almanahj.com/om