

تم تحميل هذا الملف من موقع المناهج العمانية



الملف أجوبة المذكرة الإثرائية والأسئلة الملخصة في الوحدة الثانية ( جغرافية السكان )

[موقع المناهج](#) ← [المناهج العمانية](#) ← [الصف السابع](#) ← [اجتماعيات](#) ← [الفصل الأول](#)

روابط مواقع التواصل الاجتماعي بحسب الصف السابع



روابط مواد الصف السابع على تلغرام

[الرياضيات](#)

[اللغة الانجليزية](#)

[اللغة العربية](#)

[التربية الاسلامية](#)

المزيد من الملفات بحسب الصف السابع والمادة اجتماعيات في الفصل الأول

[امتحان وإجابة الأسئلة الرسمية للفصل الدراسي الأول الدور الأول 20162017](#)

1

[ملخص الوحدة الاولى والثانية والثالثة](#)

2

[ملخص الوحدة الأولى الحضارات القديمة في عمان وشبه الجزيرة العربية](#)

3

[تحميل كتاب الطالب](#)

4

[ملف تحميل أسئلة الامتحانات الرسمية والأجوبة للسنوات](#)

5

المزيد من الملفات بحسب الصف السابع والمادة اجتماعيات في الفصل الأول

[السابقة](#)

الصف السابع

الدراسات الاجتماعية

2021-2022

مذكرة إثرائية

سؤال وجواب

الفصل الدراسي الأول

الوحدة الثانية

( جغرافية السكان )

محتوى الوحدة الثانية

٣- النمو السكاني

٢- مفهوم بنية السكان

١- مفهوم جغرافية السكان

٥- المشكلة السكانية

٤- الكثافة السكانية

للتواصل :

99493923

اعداد :

علي بن محمد الحسان

Ali 47536@moe.om



## { درس : مفهوم جغرافية السكان }

**السؤال الأول : ضع علامة ( ✓ ) أو ( X ) أمام العبارة المناسبة مع تصحيح ما تحته خط إذا كانت العبارة خطأ .**

- ١- ( X ) المصدر الأول والرئيسي لدراسة السكان وبنيتهم هو سجلات الهجرة . التعداد
- ٢- ( ✓ ) تم التعداد الثالث للسكان في سلطنة عمان عام ٢٠١٠ .
- ٣- ( ✓ ) تختص جغرافية السكان بدراسة خصائص السكان وتوزيعه الجغرافي .

**السؤال الثاني : ظلل الإجابة الصحيحة من بين البدائل المعطاه .**

١- تم أول تعداد شامل في سلطنة عمان عام .....

١٩٩٣ ●

١٩٩٢ ○

١٩٩١ ○

٢- زيادة أعداد السكان بصورة كبيرة تفوق الزيادة في الموارد الطبيعية يقصد به .

○ النمو السكاني

● الانفجار السكاني

○ التعداد السكاني

٣- العملية الشاملة لحصر الأفراد والتعرف على حالتهم الاقتصادية والاجتماعية في الدولة وفي زمن معين يقصد به .

○ نمو السكان

○ بنية السكان

● التعداد

**السؤال الثالث : أكمل ما يلي بعبارات مناسبة من عندك .**

- ١ - يجري التعداد على فترات منتظمة كل عشر سنوات أو خمس سنوات .
- ٢ - تشمل الإحصاءات الحيوية على سجلات المواليد وسجلات الوفيات وحالات الزواج والطلاق .
- ٣ - سجلات الهجرة وتشمل حصر اعداد المهاجرين من الدولة واليها .

**السؤال الرابع : " هناك العديد من المصادر لدراسة السكان إلا أن أهمها ثلاثة مصادر " أذكرها ؟**

سجلات الهجرة

البيانات الحيوية

التعداد



**السؤال الخامس : أجب عن الأسئلة التالية:**

س ١ : بماذا تختص جغرافية السكان ؟

ج ١ : تختص بدراسة خصائص السكان وبنية السكان وتوزيعهم الجغرافي والنمو السكاني .

س ٢ : " تتلخص خصائص جغرافية السكان بثلاثة جوانب رئيسية " ماهي ؟

ج ٢ : ١- بنية السكان ( البنية النوعية والعمرية والاقتصادية والاجتماعية )

٢- نمو السكان ( المواليد والوفيات والهجرة )

٣- توزيع السكان والكثافة السكانية

س ٣ : " تكمن أهمية دراسة السكان في ثلاثة أشياء " أذكرها ؟

ج ٣ : ١- متابعة الزيادة المطردة في أعداد السكان ومراقبة ما يعرف بالانفجار السكاني .

٢- إيجاد الحلول المناسبة لمشكلة ندرة الموارد اللازمة لسد احتياجات الأعداد المتزايدة من جراء الانفجار السكاني

٣- دراسة تزود الدولة ببيانات مهمة للأغراض التنموية المتعددة .

almanahj.com/or  
المنهاج  
العلمية

## { درس : بنية السكان }

**السؤال الأول : ضع علامة (✓) أو (X) أمام العبارة المناسبة مع تصحيح ما تحته خط إذا كانت العبارة خطأ .**

- ١- ( X ) الفئة المنتجة في المجتمع والأكثر قدرة على الحركة والهجرة هي كبار السن . " متوسطي العمر "
- ٢- ( X ) الأسرة المكونة من الأب والأم والأطفال والجد والجدة يطلق عليها أسرة متوسطة . " كبيرة "
- ٣- ( ✓ ) الهرم الذي يمثل المجتمع المسن و تنخفض فيه نسبة صغار السن هو الهرم ذو القاعدة الضيقة.

**السؤال الثاني : صل بخط بين نوع البنية في العمود الأول ومعناها في العمود الثاني .**

معناها	البنية
دراسة السكان حسب فئات العمر	البنية العمرية
نسبة عدد الذكور إلى الإناث في المجتمع	البنية النوعية
يقصد بها الخصائص الاجتماعية للسكان في المجتمع من حيث الحالة الزوجية والمستوى التعليمي وحجم الأسرة	البنية الاقتصادية
يقصد بها ملامح النشاط الاقتصادي في المجتمع وارتباطها بظروف البيئة الجغرافية	البنية الاجتماعية

**السؤال الثالث : ظلل الإجابة الصحيحة من بين البدائل المعطاة**

١- نسبة الأفراد المنتجين " العاملين " إلى الأفراد غير المنتجين أو العاملين يقصد به

- نسبة الإعاقة      ○ القوى العاملة      ○ الهرم السكاني

٢- شكل بياني يبين توزيع السكان من حيث العمر والنوع يقصد بها

- نسبة الإعاقة      ○ القوى العاملة      ● الهرم السكاني

٣- الأفراد في سن العمل من الذكور والإناث سواء أكانوا عاملين أم باحثين عن العمل يقصد به

- نسبة الإعاقة      ● القوى العاملة      ○ الهرم السكاني

**السؤال الرابع : أكمل ما يلي بعبارات مناسبة من عندك .**

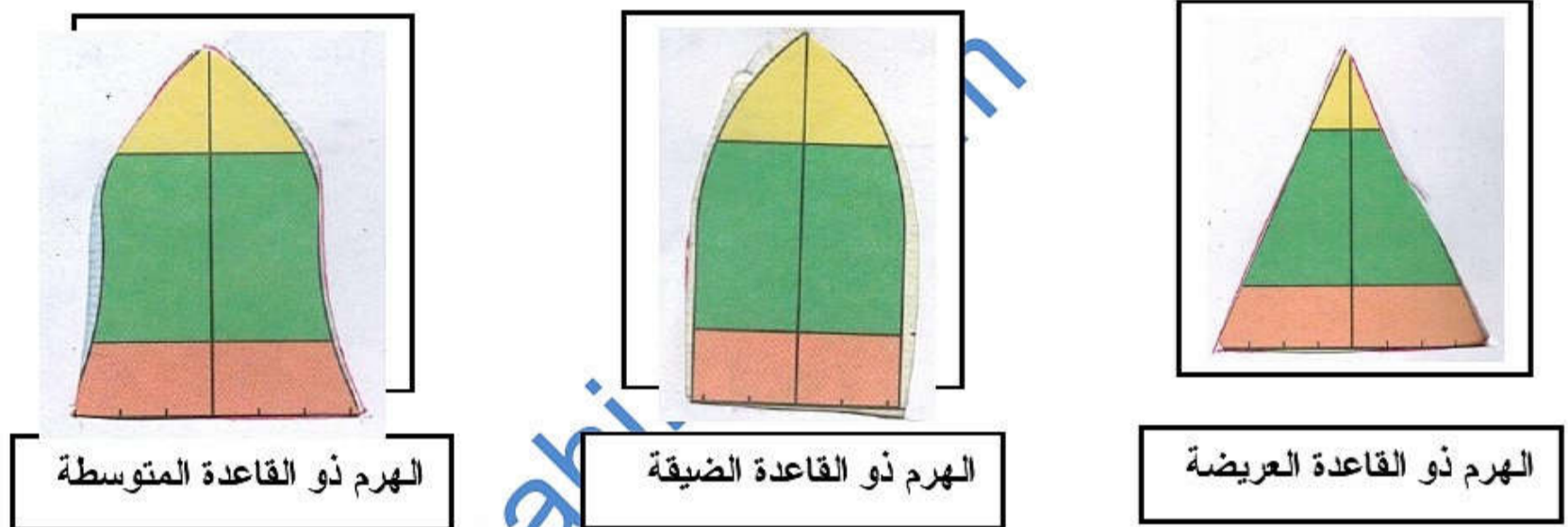
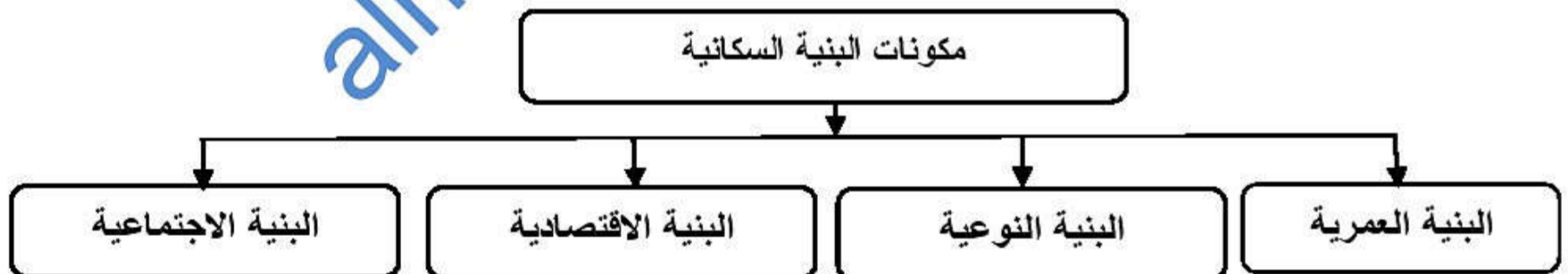
- ١ - الخصائص السكانية تتأثر بعوامل حيوية مثل معدل المواليد والوفيات ومعدلات الهجرة في المجتمع .
- ٢ - دراسة الخصائص السكانية المتعلقة بالنوع والسن تساعد على فهم النمو السكاني ودراسة الأوضاع الاقتصادية والاجتماعية في المجتمع .
- ٣ - القوى غير العاملة تشمل الأطفال وكبار السن .



**السؤال الخامس : أختَر من بين القوسين المصطلح الدال على ما يلي وضعه أمام العبارة المناسبة .**

( البنية النوعية - الهرم السكاني - بنية السكان - نسبة الإعالة )

- ١- بنية السكان دراسة خصائص السكان في المجتمع من حيث العمر والنوع والنشاط الاقتصادي والاجتماعي .
- ٢- البنية النوعية نسبة عدد الذكور إلى الإناث في المجتمع ؟.
- ٣- نسبة الإعالة نسبة الأفراد المنتجين " العاملين " إلى الأفراد غير المنتجين أو العاملين .
- ٤- الهرم السكاني شكل بياني يبين توزيع السكان من حيث العمر والنوع .

**السؤال السادس : أكتب تحت كل هرم اسمه الصحيح :****السؤال السادس : اكمل الشكل التالي بكتابة مكونات البنية السكانية**

**السؤال السابع : أجب عن الأسئلة التالية:**

س ١ : " ينقسم السكان إلى ثلاث فئات عمرية " ماهي ؟

- ج ١ : ١- فئة صغار السن ( أقل من ١٥ سنة ) وتتميز بأنها غير منتجة .  
 ٢- فئة متوسطي العمر ( ١٥-٦٥ سنة ) وتتميز بأنها فئة منتجة والأكثر قدرة على الحركة والهجرة .  
 ٣- فئة كبار السن ( ٦٥ سنة فأكثر ) وتتميز بقلة الإنتاج .

س ٢ : كيف يتم حساب نسبة الإعالة ؟ x

ج ٢ : عدد السكان المعالين " غير العاملين "   
 نسبة الإعالة =  $\frac{\text{عدد السكان المعالين}}{\text{عدد السكان العاملين}} \times 100$

س ٣ : كيف يتم حساب نسبة النوع ؟

ج ٣ : عدد الذكور   
 نسبة النوع =  $\frac{\text{عدد الذكور}}{\text{عدد الإناث}} \times 100$

س ٤ : ما المقصود بأن نسبة النوع في معظم الدول ( ١٠٥-١٠٠ ) ؟

ج ٤ : أي أنه يولد ١٠٥ من الذكور مقابل كل ١٠٠ من الإناث .  
 س ٥ : " تتأثر نسبة النوع في المجتمعات بعوامل عدة " أذكر أهم هذه العوامل ؟

- ج ٥ : ١- التفاوت في معدلات الهجرة حيث تزيد الهجرة بين الذكور .  
 ٢- تباين معدل الوفيات بين الذكور والإناث .  
 ٣- الأخطاء في البيانات التي يشملها التعداد مثل النقص في تسجيل عدد الإناث  
 ٤- الحروب التي تؤدي إلى زيادة في وفيات الذكور.

س ٦ : تقسم الأهرامات السكانية إلى ثلاثة أنواع رئيسية " ماهي ؟

- ج ٦ : ١- الهرم ذو القاعدة العريضة والجوانب المنحدرة : وهو يمثل المجتمع الفتى حيث تزيد فيه نسبة صغار السن  
 ٢- الهرم ذو القاعدة الضيقة : ويمثل المجتمع المسن " الهرم " حيث تنخفض فيه نسبة صغار السن  
 ٣- الهرم ذو القاعدة المتوسطة : ويمثل المجتمع الذي تزيد فيه نسبة متوسطي السن .

س ٧ : " تنقسم القوى البشرية في المجتمع إلى نوعين من القوى " ماهي ؟

- ج ٧ : ١- القوى العاملة النشطة أو المنتجة اقتصاديا والباحثين عن عمل .  
 ٢- القوى غير العاملة وتشمل الأطفال وكبار السن .



## { درس : النمو السكاني }

**السؤال الأول : ضع علامة ( ✓ ) أو ( X ) أمام العبارة المناسبة مع تصحيح ما تحته خط إذا كانت العبارة خطأ .**

- ١- ( ✓ ) يمكن معرفة أنواع الهجرة من خلال معرفة المكان ومدة الإقامة والرغبة.
- ٢- ( ✓ ) انخفاض معدل وفيات الرضع يدل على التقدم الصحي والاجتماعي للمجتمع.
- ٣- ( X ) يرتفع معدل أمد الحياه في الدول التي تفتقر إلى شبكة الخدمات العامة . " يقل "
- ٤- ( ✓ ) تعتبر الهجرة مصدرا رئيسيا لتغير السكان .

**السؤال الثاني : ( أ ) أكمل ما يلي بعبارات مناسبة من عندك .**

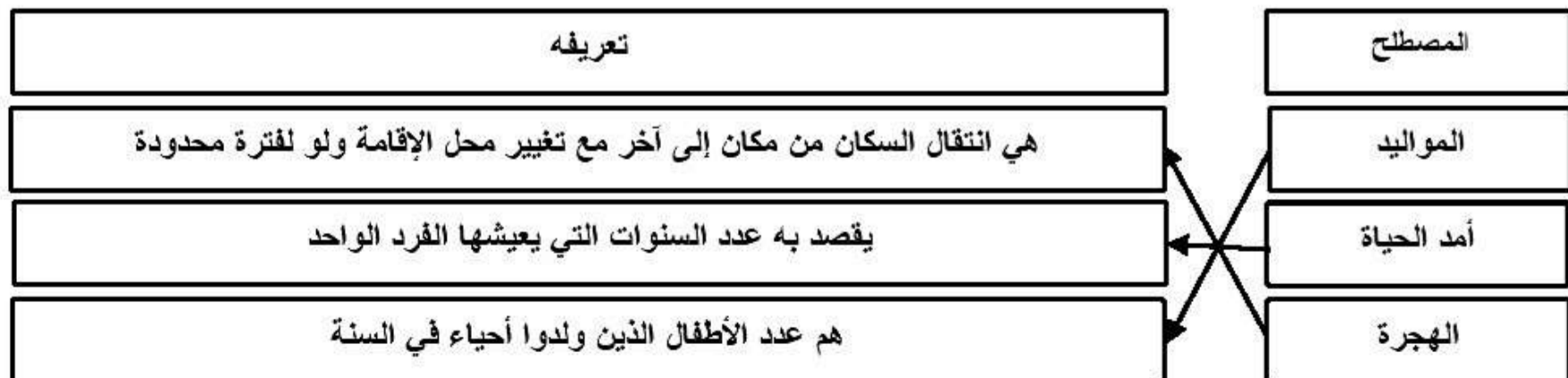
- ١- ترتفع معدلات المواليد في المجتمعات الزراعية التقليدية بينما تقل في المجتمعات الصناعية .
- ٢- إذا كان عدد المواليد أكبر من عدد الوفيات فإنها تكون الزيادة موجبة .
- ٣- إذا كان عدد المواليد أقل من عدد الوفيات فإنها تكون الزيادة سالبة .

**السؤال الثاني : ( ب ) أكمل ما يلي لأنواع الهجرة من حيث :**

- ١- المكان : حيث أنها تكون : داخلية أو خارجية .
- ٢- مدة الإقامة : حيث أنها تكون : دائمة أو مؤقتة .
- ٣- الرغبة : حيث أنها تكون : اختيارية أو إجبارية .

**السؤال الثالث : علل " أذكر السبب "**

- ١ - تختلف معدلات المواليد بين الدول من دولة لأخرى .  
بسبب اختلاف الأوضاع الاقتصادية والاجتماعية والثقافية بين الدول .
- ٢ - تتفاوت الزيادة الطبيعية من دولة لأخرى .  
بسبب اختلاف العوامل المؤثرة في معدلات المواليد والوفيات .

**السؤال الرابع : صل بخط بين المصطلح ومعناه**

**السؤال الخامس : ظلل الإجابة الصحيحة من بين البدائل المعطاه .**

١- من أهم العوامل التي تؤثر في حجم السكان ونموهم .

- المواليد      ● الوفيات      ○ الهجرة

٢- الفرق بين أعداد المواليد وأعداد الوفيات للسكان في مجتمع ما في فترة محددة يقصد به .

- الزيادة الطبيعية      ○ أمد الحياة      ○ الهجرة

**السؤال السادس : أجب عن الأسئلة التالية:**

س١ : ما ذا يقصد بالنمو السكاني ؟

ج١ : هو التطور الحاصل في أعداد السكان نتيجة الزيادة الطبيعية ( المواليد - الوفيات ) والهجرة .

س٢ : كيف يتم حساب معدل المواليد الخام ؟

عدد المواليد الأحياء

ج٢ : معدل المواليد الخام  $\frac{\text{عدد المواليد الأحياء}}{1000 \times \text{عدد السكان في منتصف العام}}$

س٣ : " تحدث الوفيات نتيجة لعدة عوامل " اذكر ثلاثة من هذه العوامل ؟

ج٣ : عوامل طبيعية - أمراض - حوادث - حروب .....

س٤ : كيف يتم حساب معدل الوفيات الخام ؟

عدد الوفيات خلال السنة

ج٤ : معدل الوفيات الخام  $\frac{\text{عدد الوفيات خلال السنة}}{1000 \times \text{اجمالي السكان في منتصف العام}}$

س٥ : " من الأسباب التي تؤدي إلى الهجرة عوامل الجذب " ماذا يقصد بعوامل الجذب ؟ مع ذكر مثالين عليها ؟

ج٥ : عوامل الجذب هي العوامل التي تشجع السكان على الانتقال إلى مكان آخر ،

من أمثلتها : تهيئة فرص عمل بأجور مرتفعة - توفر خدمات تعليمية واجتماعية وصحية ومستوى معيشة أفضل

س٦ : ماذا عملت السلطنة من أجل الحد من الهجرة من الريف إلى المدينة ؟

ج٦ : عملت على إقامة المشاريع التنموية والاقتصادية والاجتماعية والصحية في مختلف المحافظات .



## { درس : الكثافة السكانية }

**السؤال الأول : ضع علامة (✓) أو (X) أمام العبارة المناسبة مع تصحيح ما تحته خط إذا كانت العبارة خطأ .**

- ١ - ( X ) يتوزع سكان العالم على سطح الأرض بشكل متساوٍ . غير متساوي
- ٢ - ( X ) يقل عدد السكان في المناطق الغنية بالموارد الطبيعية . يزداد
- ٣ - ( ✓ ) عدد القارات في العالم القديم ثلاث قارات فقط .

**السؤال الثاني : ظلل الإجابة الصحيحة من بين البدائل المعطاه .**

١- معظم سكان العالم يعيشون فوق مساحة لاتزيد عن .... من مساحة العالم .

- ١٠%      ○ ٢٠      ○ ٣٠%

٢- سكان العالم القديم يمثلون مانسبته ..... من سكان العالم .

- ربع      ○ ربعين      ● ثلاثة ارباع

٣- غالبية سكان العالم يتركزون في نصف الكرة ...

- الجنوبي      ● الشمالي      ○ الغربي

٤- تعد السهول ..... من أكبر مناطق العالم إزدحاما بالسكان

- الساحلية      ○ الداخلية      ● النهرية

**السؤال الثالث : أكمل ما يلي بعبارات مناسبة من عندك .**

- ١- توصف المناطق المزدحمة بالسكان بانها مناطق ذات كثافة سكانية عالية .
- ٢- توصف المناطق قليلة السكان بانها ذات كثافة سكانية منخفضة .
- ٣- يساعد عنصر المطر في ارتفاع الكثافة السكانية في العديد من مناطق العالم .

**السؤال الرابع : علل " أذكر السبب " .**

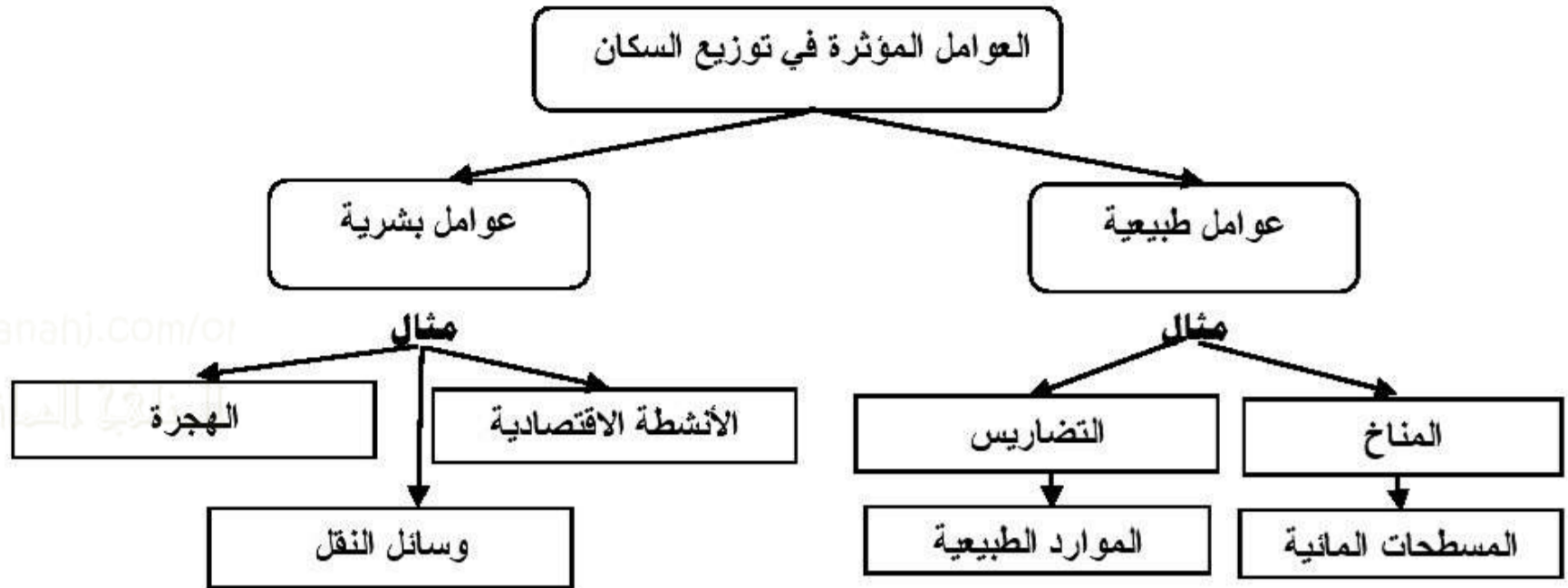
١ : يفضل الإنسان العيش في المناطق السهلية على المناطق الجبلية ؟

لسهولة الوصول إليها وملاءمتها لبناء المسكن وقيام الزراعة

٢- يميل الإنسان الى الانتشار في المناطق التي تشرف على المسطحات المائية أو القريبة منها ؟

لاعتدال مناخها وتوافر الثروات البحرية فيها



**السؤال الخامس : أكمل الجدول التالي :****السؤال السادس : أجب عن الأسئلة التالية:**

س ١ : ما ذا يقصد بالكثافة السكانية ؟

ج ١ : عدد السكان في الكيلو متر المربع الواحد .

س ٢ : تقسم العوامل التي تؤثر في وتوزيع سكان العالم الى قسمين ماهما ؟

ج ٢ : ١- العوامل الطبيعية ٢- العوامل البشرية

س ٣ : عرف الكثافة السكانية ؟ وكيف تحسب ؟

ج ٣ : الكثافة السكانية هي عدد السكان في الكيلو متر المربع الواحد .

جملة عدد السكان في منطقة ما

حساب الكثافة السكانية

المساحة الكلية للمنطقة ( كم ٢ )

## { درس : المشكلة السكانية }

**السؤال الأول : ضع علامة ( ✓ ) أو ( X ) أمام العبارة المناسبة مع تصحيح ما تحته خط إذا كانت العبارة خطأ .**

- ١ - ( ✓ ) كلما كان الافراد أقل تعليماً وثقافةً أدى ذلك الى ظهور المشكلة السكانية .
- ٢ - ( ✓ ) من أبرز مشكلات النمو السريع للسكان الضغط على الخدمات وظهور ما يعرف بالبطالة .
- ٣ - ( X ) يطلق على نقص كمية الغذاء عن الحد الأدنى المقبول للفرد بمشكلة الغذاء . الجوع .

**السؤال الثاني : ظلل الإجابة الصحيحة من بين البدائل المعطاه**

- ١- من الموارد الطبيعية الغير متجددة .
- الماء ○ الهواء ● النفط
- ٢- إفتقار الغذاء للعناصر الغذائية المطلوبة للجسم يقصد به .
- سوء الهضم ● سوء التغذية ○ مشكلة الجو
- ٣- أكبر مصدر لتهديد البيئة البحرية يتركز في الدول .....
- الصناعية ○ التجارية ○ الزراعية
- ٤ - خصصت الأمم المتحدة يوم ..... من كل عام للاحتفال بيوم الغذاء العالمي .
- ١٤ أكتوبر ○ ١٥ أكتوبر ● ١٦ أكتوبر

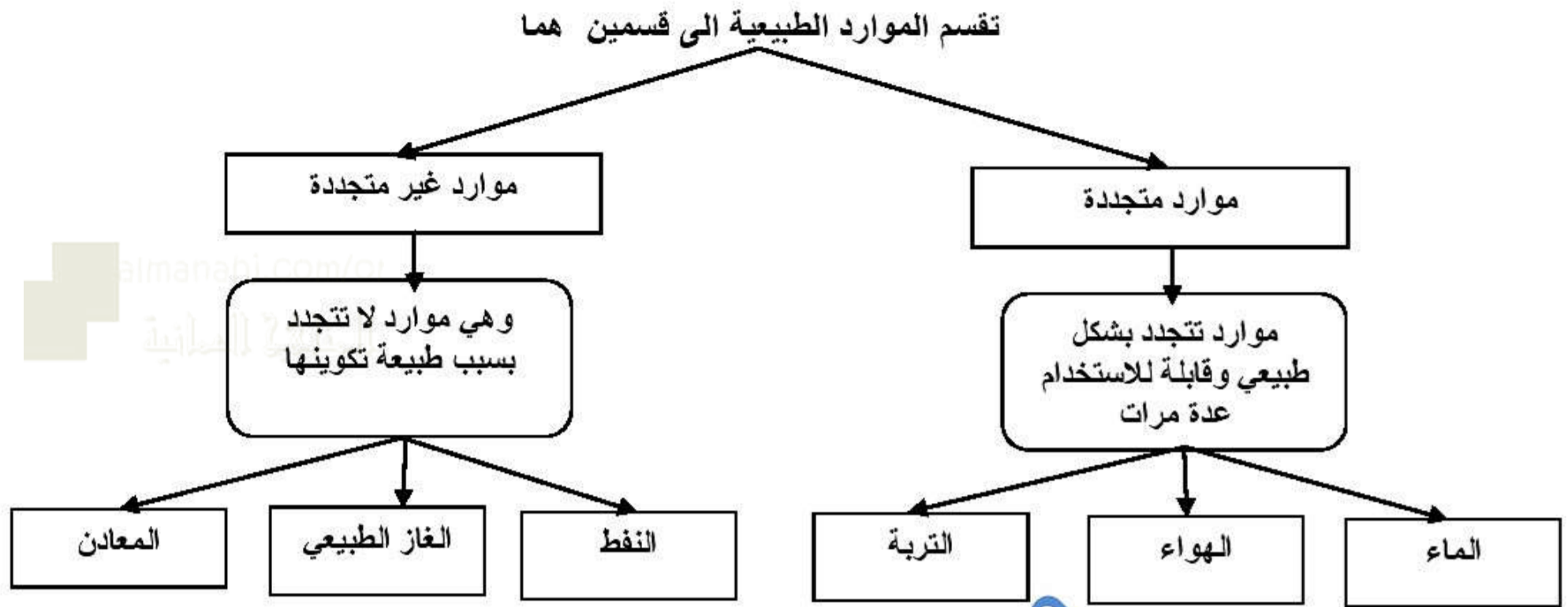
**السؤال الثالث : أكمل ما يلي بعبارات مناسبة من عندك .**

- ١- يظهر النمو السكاني السريع بصورة كبيرة في المجتمعات الفقيرة .
- ٢- للموارد الطبيعية نوعان موارد متجددة وموارد غير متجددة .
- ٣- تهديد الأراضي الزراعية والحياة النباتية الطبيعية تتركز في الدول الفقيرة

**السؤال الرابع : ضع المصطلح الدال على المعنى بين القوسين في العبارات التالية .**

- ١- (المشكلة السكانية) زيادة أعداد السكان بصورة تفوق الموارد الطبيعية المتاحة في منطقة ما أو في العالم بشكل عام .
- ٢- ( النمو السكاني السريع ) ارتفاع معدل النمو السكاني بفعل تأثير عوامل اجتماعية واقتصادية .
- ٣- ( مشكلة الجوع ) نقص كمية الغذاء عن الحد الأدنى المقبول للفرد.



**السؤال الخامس : أكمل الشكل التالي :****السؤال السادس : أجب عن الأسئلة التالية:**

س ١ : إلى ماذا تؤدي المشكلة السكانية ؟

ج ١ : تؤدي إلى تدني مستوى المعيشة وانتشار الفقر وسوء التغذية

س ٢ : " للمشكلة السكانية عدة أبعاد " اذكرها مع شرح واحد منها ؟

ج ٢ : ١- النمو السكاني السريع : ويقصد به ارتفاع معدل النمو السكاني بفعل تأثير عوامل اجتماعية واقتصادية ويظهر هذا النمو السريع في المجتمعات الفقيرة مما يؤدي إلى ظهور العديد من المشكلات منها الضغط على الخدمات الاجتماعية في قطاعات عدة كالتعليم والتوظيف وظهور ما يعرف بالبطالة .

٢- التوزيع السكاني : حيث يوجد تباين كبير في توزيع السكان سواء على مستوى قارات العالم او بين الدول في القارة الواحدة مما يؤدي الى الضغط على الموارد الطبيعية في المناطق كثيفة السكان .

٣- خصائص السكان : وتتمثل في المستوى التعليمي والصحي والثقافي والقدرة المهنية للأفراد في المجتمع فاذا كان الأفراد أقل تعليماً وثقافة ظهرت المشكلة السكانية .

س ٣ : ما الفرق بين الموارد المتجددة والموارد غير المتجددة ؟

ج ٣ : الموارد المتجددة هي الموارد المتجددة بشكل طبيعي وقابلة للاستخدام عدة مرات .  
الموارد غير المتجددة هي الموارد التي لا تتجدد بسبب طبيعة تكوينها .



س ٤: " تعد مشكلة الغذاء من المشكلات السكانية المعاصرة " أذكر ثلاث من مشاكل الغذاء ؟

- ج ٤: ١- انتشار الأمراض      ٢- ارتفاع معدلات وفيات الأطفال      ٣- تكرار حدوث المجاعات  
٤- تزايد حجم الموارد الغذائية المستوردة      ٥- استخدام الغذاء سلاحا في أيدي الدول الكبرى .

س ٥: " للنقص الغذائي العالمي أسباب عديدة " أذكر أربعة منها ؟

- ج ٥: ١- ارتفاع مستوى المعيشة في بعض الدول      ٢- الزيادة السكانية الكبيرة والسريعة  
٣- التقنيات الزراعية التقليدية البدائية      ٤- السلوكيات الغذائية وقلة الوعي الغذائي  
٥- الظروف الاقتصادية والسياسية      ٦- الفاقد الغذائي نتيجة الحشرات والأمراض  
٧- التقلبات المناخية      ٨- التلوث البيئي

almanahj.com/om