





- ❖ **بم ميز الله تعالى الإنسان عن غيره من المخلوقات ؟**
  - القدرة على التفكير
  - استخدام اليد
- ❖ **استخدم الإنسان القدرات التي ميزه الله بها لسد احتياجاته الأساسية وضح ذلك ؟**
  - حصل غذائه من ثمار الأشجار
  - لبس جلود الحيوانات
  - سكن في الكهوف والمغارات
- ❖ **عدد أهم أشكال التطورات الاجتماعية التي مر بها حياة الإنسان ؟**
  - انتقل من حياة التنقل والترحال إلى حياة الاستقرار
  - تعاون الناس مع بعضهم لأننتاج احتياجاتهم
  - نشأت علاقات اجتماعية وتكونت الأسر وتعلموا من بعض
  - ظهرت الأنظمة السياسية والاقتصادية والآداب والفنون
- ❖ **عرف الحضارة ؟**
  - كل ما اوجده الإنسان من أجل سد إحتياجاته سواء كان ذلك ماديا أو غير مادي
- ❖ **كيف تنتج الحضارة ؟**
  - تنتج من تفاعل الإنسان مع مكونات بيئته
- ❖ **يقسم المؤرخون فترة حياة الإنسان على سطح الأرض إلى قسمين رئيسيين . اذكرهما ؟**

| وجه المقارنه              | عصور ما قبل التاريخ   | العصور التاريخية   |
|---------------------------|---|--|
| <b>المدة الزمنية</b>      | وهي عصور طويلة يقدرها العلماء بمئات الألوف من السنين وهي التي سبت معرفة الانسان الأول للكتابة | وتبدأ من معرفة الإنسان بالكتابة حتى وقتنا الحاضر وقد عرف إنسان الوطن العربي القديم الكتاتم، آثاره المادية به خلال الألف الرابعة من الميلاد |
| <b>كيفية التعرف عليها</b> | من خلال ما تركه الإنسان القديم من أدوات وبايقا البيوت والمعابد والمقابر                       | من خلال كتابات الإنسان القديم ، آثاره المادية  |

❖ مرت مراحل تطور الحضارة القديمة الى أربعة عصور. أذكر مسميات هذه العصور ؟

- العصر الحجري القديم - العصر الحجري الحديث
- العصر البرونزي - العصر الحديدي

❖ ما هي أهم خصائص العصر الحجري القديم ؟

- الأطول في تاريخ الإنسانية
- تحكمت الظروف الطبيعية في الإنسان لحد كبير
- شكلت الأودية الصحراوية الحالية أنهاراً جارية
- سكن الانسان في الكهوف والمغارات
- عاش الإنسان حياة بدائية
- اعتمد الإنسان في غذائه لى جمع الثمار وصيد الحيوانات والأسماك

❖ ما هي أهم اكتشافات العصر

الحجري القديم ؟

- اكتشاف النار



❖ ما هي أهم خصائص العصر الحجري الحديث ؟

- تميزت بالجفاف وقلّة الإمطار
- عاش الانسان على ضفاف الأنهار وفي السهول الخصبة
- استأنس الحوان واعتمد على تربة الماشية والماعز
- وعاش حياة الإستقرار بدل حياة التنقل والترحال

❖ ما أهم ما توصل إليه الانسان في هذا العصر ؟

- معرفة الزراعة - اختراع المحراث - تربية الحيوان

❖ عرف العصور الحجرية ؟

- هي العصور التي كان الإنسان يصنع فيها أدواته من الحجارة الصوانية البسيطة

❖ ما هي أهم خصائص العصر البرونزي ؟

- اكتشف الإنسان معدن النحاس حوالي 3500 ق.م
- قام بمزج النحاس مع القصدير فتوصل لاكتشاف البرونز
- استخدم معدن البرونز في صناعة أدواته المختلفة

❖ ما أهم ما توصل إليه الانسان في هذا العصر ؟


- معرفة البرونز

- استخدام الكتابة

- استخدام الطوب في البناء

- استخدام الأثاث الخشبي

- تقدم عدد من العلوم لاسيما الحساب والهندسة والطب والفلك



- ❖ ما هي أهم خصائص العصر الحديدي ؟
- استخدم الانسان معدن الحديد في صناعة أدواته منذ 1350 ق.م
- يعد استخدام الانسان للحديد ثورة حضارية كبيرة في التاريخ الإنساني

- ❖ ما أهم ما توصل إليه الانسان في هذا العصر ؟
- معرفة النقود
- زيادة التبادل التجاري
- ظهور المدن التجارية
- تطور صناعة السفن

- ❖ ما المقصود بالمقايضة ؟
- من اساليب البيع والشراء لا تستخدم فيه النقود ويقال قايضه إذا اعطاه سلعة واخذ عوضا عنها سلعة أخرى

- ❖ اذكر عوامل قيام الحضارات في الوطن العربي ؟
- الموقع الجغرافي المتميز
- المناخ المعتدل
- وفرة موارد المياه ( الأمطار ، الأنهار )
- استغلال الإنسان لقدراته العقلية وجهده في تطوير ادواته وافكاره للإفادة من الكائنات الطبيعية لبيئته

### ❖ (علل ما يلي) اذكر السبب:-

- تسمية العصر البرونزي بهذا الإسم ؟
- لأن الإنسان استخدم معدن البرونز في صناعة أدواته وأسلحته
- تسمية العصر الحديدي بهذا الإسم ؟
- لأن الإنسان اكتشف معدن الحديد في صناعة أدواته وأسلحته
- ❖ من خلال الصورة التي أمامك أجيب عن التالي:-

1- المرحلة التي تنتمي إليها الصورة التي أمامك هي العصر الحجري

2- منجزات الانسان في هذه المرحلة

- معرفة الزراعة
- اختراع المحراث



❖ أكتب مواقع الحضارات القديمة في داخل وخارج الوطن العربي ؟

| الحضارات القديمة خارج الوطن العربي  | الحضارات القديمة في الوطن العربي   |
|---|--|
| <ul style="list-style-type: none"> <li>- حضارة اليونان</li> <li>- حضارة الرومان</li> <li>- حضارة الفرس</li> <li>- حضارة ميلوخا</li> </ul> | <ul style="list-style-type: none"> <li>- الحضارة المصرية</li> <li>- حضارة بلاد الشام</li> <li>- حضارة بلاد الرافدين</li> <li>- حضارة اليمن</li> <li>- حضارات شبه الجزيرة العربية (دلمون - مجان)</li> </ul> |





## الحضارات القديمة في عمان

## الدرس الثاني

❖ ما هي أهم التحولات الحضارية ؟

| العصر الحجري الأعلى   | العصر الحجري الأوسط  | العصر الحجري  |
|---|--|---|
| عثر على مجموعة من الأدوات النصلية بدأ الإنسان العماني التعبير عن نفسه بالرسم على الصخور وجدران الكهوف | تم العثور على كميات من الشظايا التي تضمنت المكاشط والادوات المتميزة بأطرافها الدقيقة | لم يتم العثور حتى الآن على أدوات تنتمي لهذه المرحلة |

❖ يعد توافر معدن النحاس في عمان القديمة عنصرا حضاريا مهما في تاريخها الحضاري . دلل على ذلك ؟

- حيث ترتب عليه ظهور:-

- 1- ظهور الاسحلة والحلي بصورة متطورة عما سبقتها
- 2- أصبح النحاس مادة اساسية في صناعة أدوات الإنسان القديم خاصة بعد التوصل لتقنية صهر النحاس

❖ وضع كيف كانت عمليات صهر النحاس تتم في عمان قديما؟

- تحتاج عمليات صهر كبريتات النحاس لتقنية ومهارة فنية فائقة حيث يتم صهر كبريتات النحاس في مواقع خاصة باستخدام فحم الخشب الذي يتم جلبه من مواقع أخرى ليكون وقودا للصهر.



❖ كم عدد المصانع التي وجدت في عمان لاستخراج النحاس؟ وأين توجد هذه المواقع؟

- بلغت (32) موقعا واهم المواقع هي عرجا والاصيل والواسط

❖ كيف كانت التجمعات السكنية في عمان في فترة العصور الحجرية القديمة؟

- دلت الحفريات في عمان على أن الأهالي أقاموا مجتمعا كبيرا ومنظما حيث استقر الانسان العماني واعتمد في زراعته على مياه الأمطار واقام الخزانات للتحكم في المياه وعرفت زراعة النخيل

❖ بم تفسر إقام الخزانات؟

- للتحكم في مياه الامطار

متى استقر الانسان العماني في تجمعات سكنية؟

- بعد معرفة الزراعة

اعط دليلا واحد على اهتمام الانسان العماني القديم بزراعة النخيل

- وجود بعض ثمار النخيل متحجرة في مواقع الحفر.

ما وسائل الري التي اعتمد عليها الانسان العماني في زراعته؟

- مياه الأمطار(حيث اقام لها الخزانات

ما هي أهم المواقع الأثرية في عمان؟



| الموقع الاثري                | الفترة الزمنية    |
|------------------------------|-------------------|
| سيوان-السحتن-بني خروص-الوطية | العصور الحجرية    |
| راس الحمراء                  | الألف الرابعة ق.م |
| بات- رأس الحد سمدالشان       | الالف الثالثه ق.م |
| الواسط - مخيليف              | الألف الثانية ق.م |
| صحار - خور روي               | الألف الأولى ق.م  |
| البليد                       | العصور الإسلامية  |

عدد الآثار العمانية التي تعود إلى الألف الرابعة ق . م

- مقابر بات في محافظة الظاهرة ) حوالي مئة

- مقبرة ( مبنية من الحجر المحلي فوق سطح الأرض ، قرية الأحياء

بالقرب من موقع بات ، الجرار المصنوعة من الفخار ، 270 قطعة

فضية في جامع قلعة ولاية بهلا

اذكر اهم الاكتشافات الاثرية التي عثر عليها في موقع بات؟

- عثر بها حوالي مائة مقبرة مبنية من الحجر المحلي فوق سطح الأرض

- كما عثر بالقرب منها على قرية الأحياء المعتمدة على الإنتاج

الزراعي لوفرة المياه

- كما عثر في مقابر بات على بعض الجرار المصنوعة من الفخار ويتضح

في هذه المقبرة

- تطور عمارة المقابر التي اتخذت شكل خلية النحل

فسر استيراد آشور بانيبال الأخشاب من أرض مجان ؟

- لاستخدامها في صناعة السفن

- ❖ تعددت طرق تجارة اللبان في عمان قديما ، حدد أهم هذه الطرق ؟
- الطريق البحري :- عبر ميناء سمهرم (خورروي) الذي يجمع فيه المحصول للتصدير إلى اليمن وبلدان آسيا ومصر
  - الطريق البري :- من غربي ظفار إلى جنوبي شبه الجزيرة العربية ثم شمالا إلى نجران حتى غزة على ساحل البحر المتوسط
- ❖ دلل على أن بلاد مجان كان ملازمة حضارة دلمون في نصوص حضارات بلاد ما بين النهرين ( اللوحات السومرية و الأكادية؟
- وجد في النصوص أن مجان تصدر النحاس وحجر الديوريت ( صخور نارية شديدة الصلابة) عن طريق دلمون
- ❖ اذكر مسميات عمان قديما ولالاتها ؟

| نوع العلاقة | دلالة المسمى   | اسم عمان   | الحضارة         |
|-------------|--|------------|-----------------|
| تجارية      | <ul style="list-style-type: none"> <li>- أرض النحاس (لتصدير مجان النحاس إلى بلاد السومريين)</li> <li>- أشارت النصوص السومرية إلى أن (جوديا) ملك لاجاش(2600 ق.م) جلب الخشب وحجر الديوريت من مجان</li> </ul>   | مجان       | السومرية        |
| اقتصادية    | <ul style="list-style-type: none"> <li>- لكثرة وجود المعدن بها قديما</li> </ul>  | بلاد الفضة | الأكادية        |
| تجارية      | <ul style="list-style-type: none"> <li>- أشار(آشوربنيبال عام 668ق.م إلى انواع الاخشاب التي كان يستوردها من أرض مجان لصناعة السفن</li> </ul>  | سفن الناس  | الأشورية        |
| اقتصادية    | <ul style="list-style-type: none"> <li>- كانت تجارة الحضارة المصرية مع مجان تعتمد على استيراد الفضة والاششاب والنحاس والصبغ</li> <li>- استيراد اللبان من مصر</li> <li>- اشتملت مواد التجارة بين مواني البحر الاحمر في مصر وسواحل عمان على اصناف كثيرة من الطيب والبخور والتوابل واللبان</li> </ul> | مجان       | المصرية القديمة |
| سياسية      | <ul style="list-style-type: none"> <li>- كثرة المياه العذبة</li> <li>- مجان أرض الملاحين واهل البحر</li> </ul>   | مزون       | الفارسية        |



❖ ماذا حدث عند قيام الدولة الساسانية (الفارسية) في القرن الثالث الميلادي؟

- عملت على تحويل تجارة المحيط الهندي من البحر الأحمر إلى الخليج العربي واتخذت من صحار مركزا لتجارتهم البحرية
- ❖ اذكر اسم ما بين النهرين ؟ وما هي الحضارات التي ظهرت فيها؟
- هي العراق وقد ظهرت فيها الحضارات سومر و بابل وكاد وآشور
- ❖ ما الموطن الاصلي للبان ؟
- تعد ظفار موطن اللبان الاصلي والذي حظي باهتمام كبير عبر التاريخ

❖ صف حركة تجارة اللبان من ظفار إلى الحضارات المجاورة عبر العصور التاريخية القديمة؟


- كان اللبان ينقل من ظفار بالبر و البحر إلى أنحاء متفرقة عن طريق **الطريق البحري** : عبر ميناء سمهرم ( خور روري حيث يجمع فيه المحصول للتصدير لليمن و بلدان آسيا و مصر.
- الطريق البري** : ينقل اللبان من غربي ظفار إلى جنوبي شبه الجزيرة العربية ثم شمالا إلى نجران حتى غزة على ساحل البحر المتوسط

❖ صف شجرة اللبان ؟

- يصل ارتفاعها إلى 1 أمتار ، تتكيف مع البيئة التي تنمو فيها حيث تحتفظ بالرطوبة رغم وجودها في منطقة جافة.

❖ عدد مراحل استخراج اللبان ؟

- **المرحلة الاولى :-** الضربة الاولى وتسمى (التوقيع) ويقصد بها كشط القشرة الخارجية لجذع الشجرة وأغصانها فيخرج سائل لزج حليبي اللون لا يلبث أن يتجمد.
- **المرحلة الثانية :-** تبدأ بعد أسبوعين من المرحلة الأولى وتبدأ بالتخلص من السائل الناتج عن الضربة الأولى لأن نوعيته غير جيدة وكميته ليست تجارية ثم تجرح الشجرة مرة ثانية.
- **المرحلة الثالثة :-** مرحلة الجمع الحقيقي بعد أسبوعين من عملية الجرح الثانية حيث تجرح الشجرة مرة ثالثة فيخرج منها سائل لباني مائي إلى الصفرة ذو نوعية جيدة وبكميات تجارية.



## ❖ اذكر استخدامات اللبان لدى الشعوب قديما؟

|                      |  |
|----------------------|--|
| الرومان              | تبخير الكنائس وجثث الموتى  |
| الفراعنة             | تحنيط جثث الموتى   |
| الحضارة<br>الاسلامية | مطهر وعلاج الامراض كالربو والسعال المزمن<br>وضيق التنفس وأوجاع الكلى |

## ❖ ما المقصود بمصطلحات التالية:-

- **صهر النحاس :-**  
عملية صهر كبريتات النحاس لإنتاج معدن النحاس
- **الموقع الأثري :-**  
مكان لم يعد مسكونا وبه بقايا من نشاط بشري ماضٍ  
من أدوات ومدن
- **المنقف:-**  
آلة حادة ذات مقبض خشبي ورأس حديدي مستدير الشكل.
- **التوقيع :-**  
كشط القشرة الخارجية لجذع الشجرة وأغصانها فيخرج سائل  
لزج حليبي لا يلبث أن يتجمد
- **التوابل :-**  
عبارة عن مادة أو مجموعة مواد تضاف للطعام بكميات  
قليلة وذلك لإعطاء نكهة للاطعمة المختلفة وتصنع عادة  
من كافة أجزاء النبات كالبذور والثمار والأوراق

## ❖ دلل على صحة العبارات التالية :-

- 1- عرف الانسان العماني زراعة النخيل منذ القدم؟
  - العثور على ثمارها متحجرة في مواقع الحفر
- 2- اعتقاد الانسان العماني باستمرار الحياة في العالم الآخر؟
  - العثور على بعض الجرار المصنوعة من الفخار في مقابر "بات"
- 3- كان للبان دور هام أيام انتشار مرض الطاعون ؟
  - لانه كان يعدا مطهرا

## ❖ علل ما يلي :-

- 1- انتشار المواقع الأثرية العمانية شمالي سلطنة عمان وعلى سواحلها؟
  - بسبب قيام مجتمعات كبيرة ومنظمة - واستقرار الانسان واعتماده في الزراعة على مياه الامطار وإقامة
- 2- بدأت معالم عمان الحضارية تشكل في الألف الرابعة ق.م؟
  - لانتقال الانسان إلى مرحلة الاستقرار التي تميزت بتقدم الزراعة وبناء المدن ومعرفة الكتابة
- 3- سبب وجود بعض الجرار الفخارية في مقابر بات في عصور ما قبل التاريخ؟
  - بسبب اعتقاد الانسان العماني القديم باستمرار الحياة في العالم الآخر فكان يتم دفن أدواته معه لاستخدامها في الحياة الآخرة
- 4- يتم التخلص من اللبان عن جرح الشجرة في المرحلة الاولى؟
  - لان نوعيته غير جيدة وكميته ليست تجارية
- 5- يعد إنتاج اللبان في المرحلة الثالثة من جرح الشجرة ذا أهمية تجارية كبيرة؟
  - لانه ذو نوعية جيدة وبكميات تجارية



- ❖ ما الذي تشير إليه الصورة؟
  - موقع بات الأثري
- ❖ ما الولاية التي ينتمي إليها هذا الموقع الأثري؟
  - ولاية عبري
- ❖ اذكرهم أهم المكتشفات الأثرية التي عثر عليها بهذا الموقع؟
  - مائة مقبرة - الجرار المصنوعة من الفخار - قرية الاحياء



## ❖ لماذا اشتهرت دلمون عبر التاريخ؟

- اشتهرت عبر التاريخ بأنها الأرض المباركة التي تنمو فيها الثمار وتكثر فيها المياه العذبة وهي الموطن الطاهر الذي يحرم فيه القتل ولا يشكو فيه أحد من شئ يضايقه

## ❖ ما هي مظاهر حضارة البحرين القديمة؟

- نظام الحكم:- كان ملكي ، وكانت في معظم الأحيان تخضع لسيطرة حكام بلاد الرافدين
- العقيدة الدينية:- كانت لهم معابد خاصة و كانوا يقدمون القرابين و النذر لجلب رضا الآلهة ، توجد آثار هذه المعابد في منطقة باربار
- الزراعة :- كانت بلدا زراعيًا و افر المحاصيل نظرا لوفرة المياه العذبة و الرض الخصبة
- الصناعة :- صناعة الفخار و يتميز بأشكال ورسومات تختلف عن رسومات الحضارات المجاورة
- التجارة :- النحاس كان السلعة الرئيسية لتجارة دلمون و يأتي من حيث الأهمية بعد المنتجات الصوفية و الزيوت النباتية
- العمارة :- بناء الأسوار المحاطة بالمدن بالقرب من سواحل البحر و استخدموا الحجارة في البناء

## ❖ ما اسم الذي اطلقوا اليونان والفرس على البحرين ؟

- اليونان أطلقوا على البحرين اسم (تايلوس) بينما الفرس (أوال)

## ❖ أين تقع حضارة أم النار؟ وعلى ماذا كانت تعتمد في حياتها؟

- في جزيرة أم النار التابعة لدولة الامارات العربية المتحدة وكانت تعتمد في حياتها على التجارة البحرية

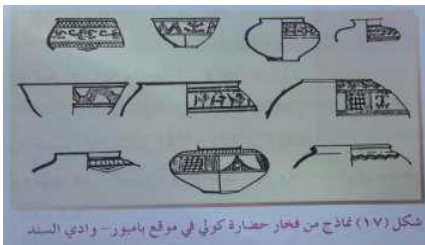
## ❖ عدد الآثار المكتشفة لحضارة أم النار؟

- المدافن والاوراق الفخارية الحجرية والأسلحة وأدوات الزينة وأكثر من خمسين مدفنا وينتمي فخار أم النار إلى الألف الثالثة ق.م والتي تتميز بتعدد الألوان والزخارف

## ❖ قارن بين نماذج من فخار الخليج العربي ونماذج

من فخار حضارة كولي من حيث التشابه في النقش المنحوت على الاواني الفخارية؟

- تتشابه فخاريات " أم النار" مع فخاريات حضارة "كولي" في بلاد السند وتقع كولي في مدينة كراتشي بباكستان



## ❖ تحدث عن موقع حضارة اليمن ؟

- تقع اليمن في أقصى جنوب غرب شبه الجزيرة العربية وتطل على منفذين بحريين مهمين وهما بحرب العرب والبحر الأحمر الذي يفصل بينهما مضيق باب المندب

## ❖ بماذا كان يتاجر اليمنيون مع من حولهم؟

- المحاصيل الزراعية - اللبان - البخور - العطور - التوابل

## ❖ ما هي أسباب التي أدت إلى ازدهار الزراعة عند اليمنيين القدماء؟

- زادت ثروتهم بسبب التجارة فبنوا السدود وخزانات المياه وقنوات الري

## ❖ ما هي العوامل التي أدت إلى قيام حضارة اليمن القديمة وازدهارها؟

- توافر المياه

- خصوبة التربة

- بناء السدود والقنوات

## ❖ اذكر مسميات اليمن قديماً؟

- سماها العرب باليمن الخضراء واليونان ببلاد اليمين السعيدة

## ❖ متى قامت حضارات في بلاد اليمن؟ اذكرها؟

- قامت في اليمن الحضارات في الفترة ما بين 1300 ق.م - 575 م دولة

## ❖ اذكر اهم الحضارات القديمة التي قامت في بلاد اليمن؟

- دولة معين (1300 ق.م - 650 ق.م)

|                    |  |
|--------------------|--|
| الموقع             | نشأت في وادي الجوف بين نجران وحضرموت في أرض خصبة تسقيها مياه الوديان |
| العاصمة            | قرناو  |
| الانشطة الاقتصادية | الزراعة والتجارة (سيطرت على طرق التجارة بين بلاد الشام واليمن)       |
| اسباب سقوطها       | استطاعت دولة سبأ القضاء عليها واخضاعها لسلطاتها                      |

- دولة قتبان (1200 ق.م - 800 ق.م)

|                    |   |
|--------------------|---|
| الموقع             | نشأت في وادي بيحان الخصب  |
| العاصمة            | تمنع  |
| الانشطة الاقتصادية | الزراعة حيث أقاموا مشروعات ري وشق القنوات وحفر الابار زبناء السدود                                  |
| اسباب سقوطها       | حاول القتبانيون التوسع شمالا ولكن اصطدموا بدولة سبأ التي تمكنت من القضاء عليهم واحتلال عاصمتهم تمنع |

- دولة سبأ (800 ق.م - 115 ق.م)

|  |                    |
|--|--------------------|
| منطقة مأرب   | الموقع             |
| مأرب   | العاصمة            |
| الزراعة- التجارة فبنوا الطرقات والسدود واشهرها سد مأرب في مدينة مأرب   | الانشطة الاقتصادية |
| شنوا الحروب على المناطق المجاورة واحتلوا المناطق التابعة لدولتي معين وقتبان وقد ألحقت هذه الحروب أضراراً كبيرة بسكان هذه المناطق واقتصادها بسبب تدميرها وقتل أهلها | توسعاتهم الخارجية  |
| تحول التجارة من الطرق البرية المارة بأراضي سبأ إلى الطرق البحرية عبر بحر العرب والبحر الأحمر   | اسباب سقوطها       |

- دولة حمير (115 ق.م - 525 ق.م)

شهدت اليمن فترة الحروب بين السبئيين والحميريين انتهت بسيطرة دولة حمير على المناطق السبئية

❖ ما هي اسباب التي أدت إلى ضعف دولة سبأ؟

- بسبب الحروب الكثيرة على المناطق المجاورة واحتلوا المناطق التابعة لدولتي معين وقتبان

- تحول التجارة من الطرق البرية المارة بأراضي سبأ إلى الطرق البحرية عبر بحر العرب والبحر الأحمر

❖ ما هي أسباب إنهيار سد مأرب؟

- اهمال حكام الدولة الحميرية بصيانتة مما أدى إلى تصدعه وانهاره

❖ ماذا ترتب على إنهيار سد مأرب؟

- خراب الأراضي الزراعية وهجرة القبائل اليمينية إلى أطراف شبه الجزيرة العربية

❖ ما هي أشهر ملوك سبأ؟

- الملكة بلقيس من أشهر ملوك سبأ وقد اشار القرآن الكريم إلى ازدهار دولة سبأ وانتعاش اقتصادها في ظل حكمها

❖ كيف استطاع اليمينيون من طرد الأحباش من اليمن؟

- ثاروا عليهم بمساعدة الفرس الذين أمدهم بجيش استطاعوا به هزيمة الاحباش وإخراجهم من اليمن

**1- عرفت دلمون بهذا الاسم عبر التاريخ؟**

- لأنها محاطة بالمياه من كل ناحية

**2- كانت دلمون بلدا زراعيا وفير المحاصيل؟**

- نظرا لوفرة المياه العذبة و الأرض الخصبة

**3- اصبحت دلمون في نظر سكانها بمثابة الموطن الطاهر؟**

- لأنها اشتهرت بالأرض المقدسة التي تنمو فيها الثمار وتكثر فيها المياه العذبة حيث جعلوها موطننا يحرم فيها القتل ولا يشكو فيه أحد من شئ يضايقه

**4- استقر الإنسان في اليمن منذ القدم فأقام القرى والمدن ؟**

- بسبب توفر الظروف الملائمة للزراعة والتجارة

**5- تسميه اليونان اليمن ببلاد العرب السعيدة؟**

- بسبب موقعا الجغرافي وخصوبة تربتها وامطارها الموسمية الصيفية

**6- تسمية العرب اليمن باليمن الخضراء؟**

- لكثرة مزارعها واشجارها وثمارها

**7- لم يستطع الرومان السيطرة على اليمن عام 25 ق.م؟**

- بسبب صعوبة الظروف المناخية والطبيعية وقلّة الماء في الطريق البري

**8- هجرة القبائل اليمنية إلى أطراف شبه الجزيرة العربية بعد سقوط مملكة سبأ؟**

- بسبب انهيار سد مأرب

- **الاختام الدلمونية:-** الأختام التي اشتهرت بها حضارة دلمون

وكانت تستخدم في المهام الرسمية

- **مقبرة عالي:-** مجموعة من التلال المتجانسة وتعتبر أكبر مقبرة

تاريخية في العالم حتى وقتنا الحاضر

- **حضارة كولي:-** تقع "كولي" إلى الشمال من مدينة كراتشي في

باكستان وقد ازدهرت حضارتها في الألف الثالثة قبل الميلاد

- **الملكة بلقيس:-** من أشهر ملوك سبأ وقد اشار القرآن الكريم إلى

إزدهار دولة سبأ وانتعاش اقتصادها في ظل

حكمها



❖ اكمل الجدول الاتي :-

| الدولة | سنة قيامها | سنة سقوطها | الدولة التي خضعت لها | أمثلة على ازدهارها               |
|--------|------------|------------|----------------------|----------------------------------|
| معين   | 1300 ق.م   | 650 ق.م    | دولة سبأ             | سيطرت على طرق التجارة            |
| قتبان  | 1200 ق.م   | 800 ق.م    | دولة سبأ             | أقامت مشاريع الري                |
| سبأ    | 800 ق.م    | 115 ق.م    | دولة حمير            | بناء السدود                      |
| حمير   | 115 ق.م    | 525 ق.م    | دولة الفرس           | سيطرتها على المناطق التابعة لسبأ |



# الوحدة الثانية

❖ ما المقود بـ جغرافية السكان ؟

- العلم الذي يهتم بدراسة حجم السكان وخصائصهم من حيث البنى العمرية والنوعية والاقتصادية والاجتماعية ونمو السكان وتوزيعهم

❖ ما خصائص جغرافية السكان ؟

- بنية السكان المتمثلة في البنية النوعية والعمرية والاقتصادية والاجتماعية

- نمو السكان ويشمل المواليد والوفيات والهجرة

- توزيع السكان والكثافة السكانية

❖ ما هي مصادر دراسة السكان ؟

- التعداد

- الاحصاءات الحيوية وسجلات الهجرة

❖ ما المقصود بالتعداد ؟

- العملية الشاملة لحصر الأفراد والتعرف على حالتهم الاقتصادية والاجتماعية في الدولة وفي زمن معين

❖ ما مدة التعداد السكاني ؟

- يجرى التعداد السكاني على فترات منتظمة ( كل عشر سنوات أو خمس سنوات)

❖ متى تم إجراء اول تعداد سكاني شامل في السلطنة؟

- تم أول تعداد في سلطنة عمان عام 1993م ثم التعداد الثاني عام 2003م ثم التعداد الثالث 2010م

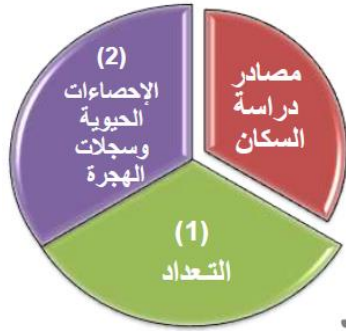
❖ على ماذا تشمل الإحصاءات الحيوية وسجلات الهجرة؟

- الإحصاءات الحيوية وتحتوي على ( سجلات المواليد - سجلات الوفيات - حالات الزواج والطلاق)

- سجلات الهجرة وهي حصر لأعداد المهاجرين من الدولة وإليها

❖ عرف الإنفجار السكاني ؟

- زيادة أعداد السكان بصورة كبيرة تفوق الزيادة في الموارد الطبيعية



## ❖ ما أهمية دراسة السكان؟

- متابعة الزيادة المطردة في أعداد السكان ومراقبة ما يعرف بالانفجار السكاني
- إيجاد الحلول المناسبة لمشكلة ندرة الموارد اللازمة لسد احتياجات الأعداد المتزايدة من السكان من جراء الانفجار السكاني
- دراسة السكان و تزويد الدولة ببيانات مهمة للأغراض التنموية المتعددة

## ❖ ناقش التوزيع الجغرافي للسكان؟

- المناطق التي يتركز فيها السكان والمناطق التي يقل فيها عدد السكان

## ❖ كم إجمالي عدد سكان السلطنة حسب نتائج تعداد عام 1993م؟

- 2340815 نسمة

## ❖ ما أكبر محافظات السلطنة من حيث عدد السكان؟

- الباطنة

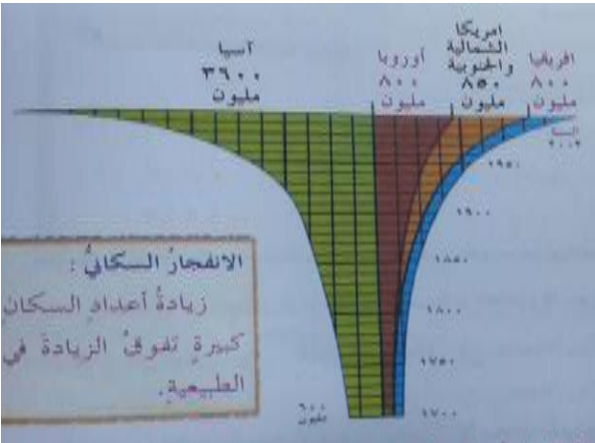
## ❖ ادرس الشكل و اجب عن ما يلي :-

### 1- دلالة الشكل المخروطي

- يدل الشكل على تطور نمو السكاني في العالم خلال الفترة من القرن الثامن عشر وحتى عام 2002م

### 2- أكبر قارة في عدد السكان واصغرها؟

- أكبر قرات العالم حسب بيانات الشكل المخروطي هي قارة آسيا واصغر القارات أوروبا وأفريقيا



## ❖ فسر العلاقة بين الانفجار السكاني وندرة الموارد؟

- يؤدي الانفجار السكاني إلى الضغط على الموارد المتاحة وبالتالي زيادة استهلاكها مما يؤدي إلى ندرتها

## ❖ فسر العلاقة بين دراسة السكان والمشاريع التنموية في الدولة؟

- تسهم دراسة السكان في توفير البيانات الخاصة بالسكان والتي تساعد المختصين والمسؤولين في الدولة على وضع الخطط التنموية المختلفة لتوفير الخدمات لكافة أفراد المجتمع من حيث توفير المستشفيات والمدارس والمأكول والمشرب

## ❖ بم تفسر :- شهد العالم تحولا تاريخيا في القرن الثامن عشر؟

- شهد العالم انفجار سكاني هائلا منذ أوائل القرن عشر إذ كان عدد سكان العالم 600 مليون نسمة عام 1700م ووصل عددهم لـ 6 مليارات نسمة تقريبا في عام 2002م

- ◆ في رايك متى تتحول الزيادة السكانية في أي دولة من دول العالم إلى مشكلة سكانية
- في حالة زيادة عدد السكان بصورة تفوق حجم الموارد والخدمات في الدولة
- ◆ قدم اقتراحين للحد من خطورة مشكلة الانفجار السكاني في العالم
- نشر الوعي بخطورة الانفجار السكاني
- التقليل من معدلات النمو السكاني في دول العالم
- ◆ اي المصادر التالية ( التعداد والاحصاءات الحيوية وسجلات الهجرة ) اكثر دقة في الحصول على المعلومات المتعلقة بالسكان؟ اكتب بعض الادلة التي تدعم رأيك؟
- التعداد السكاني يعد أكثر دقة في الحصول على المعلومات المتعلقة بالسكان حيث أنه يشمل جميع مفردات المجتمع وقت التعداد
- ◆ ما المؤسسات الحكومية التي يمكن اللجوء إليها في ولايتك للحصول على بيانات عن السكان؟
- المدارس والمستشفيات



## بنية السكان

## الدرس الثاني

- ❖ ما المقصود بـ بنية السكان؟
  - دراسة خصائص السكان في المجتمع من حيث العمر والنوع والنشاط الاقتصادي والاجتماعي
- ❖ ما هي العوامل التي تؤثر في بنية السكان؟
  - المواليد - الوفيات - الهجرة
- ❖ ما أهمية دراسة بنية السكان؟
  - تساعد على فهم النمو السكاني
  - تساهم في دراسة الأوضاع الاقتصادية والاجتماعية
- ❖ ما المقصود بـ البنية العمرية؟
  - ويقصد بها دراسة السكان حسب فئاتهم العمرية المختلفة
- ❖ ما هي الخصائص السكانية المتضمنة؟
  - العمر - النوع - الحالة الاجتماعية - الحالة الاقتصادية
- ❖ ما الفئات العمرية للسكان؟
  - صغار السن:-
    - أقل من 15 سنة
    - فئة غير منتجة
  - متوسط السن :-
    - ما بين (15 - 65) سنة
    - فئة منتجة وأكثر قدرة
  - كبار السن:-
    - 65 سنة فأكثر
    - فئة قليلة الإنتاج
- ❖ ما المقصود بـ نسبة الإعالة؟
  - يقصد بها الأفراد العاملين إلى الأفراد غير العاملين (فئتي صغار السن وكبار السن)
- نسبة الإعالة =  $\frac{\text{عدد السكان المعالين (غير العاملين)}}{\text{عدد السكان العاملين}} \times 100$

احسب نسبة الإعالة لسلطنة عمان إذا علمت أنه حسب تعداد عام 2003م بلغ عدد صغار السن (790013 نسمة) في حين بلغ عدد متوسطي السن (1487344 نسمة) وكان عدد كبار السن (61485 نسمة)

$$100 \times \frac{\text{عدد السكان المعالين (غير العاملين)}}{\text{عدد السكان العاملين}} = \text{نسبة الإعالة}$$

$$100 \times \frac{790013 + 61485}{1487344} = \text{نسبة الإعالة}$$

$$= 57.3 \%$$

ما المقصود بـ البنية النوعية؟

نسبة عدد الذكور لى الإناث في المجتمع

$$100 \times \frac{\text{عدد الذكور}}{\text{عدد الإناث}} = \text{نسبة النوع}$$

اذكر العوامل التي تؤثر على نسبة النوع في المجتمعات ؟

- التفاوت في معدلات الهجرة حيث تزيد الهجرة بين الذكور
- تباين معدل الوفيات بين الذكور والإناث
- الأخطاء في البيانات التي تشملها التعداد مثل التقص في تسجيل عدد الإناث

الحروب التي تؤدي إلى زيادة في وفيات الذكور

قم بحساب نسبة النوع لسلطنة عمان إذا علمت أنه طبقا لتعداد 2010م بلغ عدد الذكور العمانيين (990.590 نسمة) وبلغ عدد الإناث العمانيات (966.746 نسمة)؟

$$100 : 102 = 100 \times \frac{990.590}{966.746} = \text{نسبة النوع}$$

اذكر انواع الأهرامات السكانية؟

الهرم السكاني ذو القاعدة العريضة

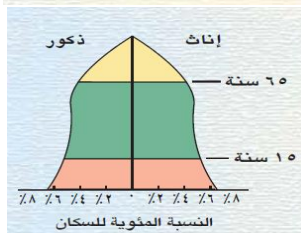
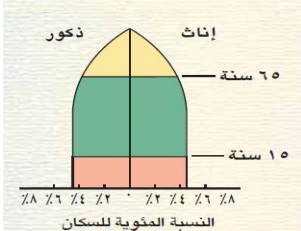
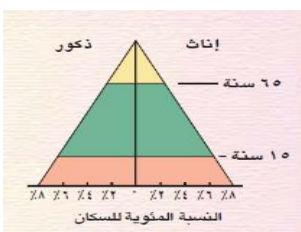
- يمثل المجتمع الفتى حيث تزيد فيه نسبة صغار السن بنحو 50%

الهرم ذو القاعدة المتوسطة

- يمثل المجتمع الذي تزيد فيه نسبة متوسطي السن

الهرم ذو القاعدة الضيقة

- يمثل المجتمع المسن وفيه تنخفض نسبة صغار السن وتزيد فيه نسبة كبار السن



❖ ما المقصود بـ البنية الاقتصادية؟

- يقصد بها ملامح النشاط الاقتصادي في المجتمع وارتباطها بظروف البيئة الجغرافية

❖ ما أهمية دراسة البنية الاقتصادية؟

- معرفة القوى العاملة النشطة والقوى غير العاملة  
- تحديد الأنشطة الاقتصادية المختلفة في المجتمع

❖ ما هي اقسام القوى البشرية في المجتمع؟

- القوى العاملة النشطة أو المنتجة اقتصاديا والباحثين عن العمل  
- القوى غير العاملة وتشمل الأطفال وكبار السن

❖ ما المقصود بـ السكان ذو النشاط الاقتصادي؟

- هم الأفراد الذين يشتركون في انتاج السلع الاقتصادية وتقديم الخدمات للمجتمع

❖ ما المقصود بـ القوى العاملة؟

- هم الأفراد في سن العمل من الذكور والإناث سواء أكانة عاملين أم باحثين عن عمل

❖ ما المقصود بـ البنية الإجتماعية؟

- دراسة الخصائص الإجتماعية للسكان في المجتمع من حيث الحالة الزوجية والمستوى العلمي وحجم الأسرة

❖ ما أنواع الأسر في المجتمع؟

- الأسرة الممتدة (الكبيرة):- وهي الأسرة التي تتكون من الأب والأم والأولاد والجد والجددة



- الأسرة الصغيرة (البسيطة):- وهي الأسرة التي تتكون من الأب والأم والأطفال



❖ ما المقصود بالهرم السكاني ؟

- عبارة عن رسم بياني يبين توزيع السكان من حيث النوع والعمر

❖ ما أهمية دراسة الهرم السكاني؟

- يغطي صورة واقعية لخصائص سكان أي مجتمع ويعادل مجموع الفئات العمرية والنوعية في الهرم السكاني (100%) من السكان

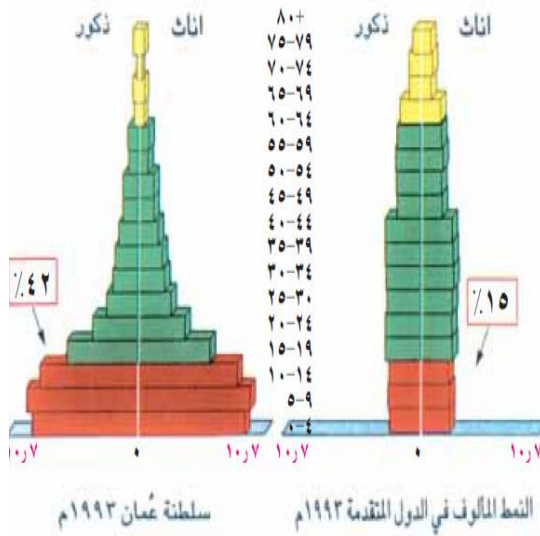
❖ ما أهمية معرفة المعلومات المتعلقة بالإعالة؟

- معرفة القوة الاقتصادية في المجتمع  
- تحديد أعداد الباحثين عن العمل



- ❖ ما العلاقة بين الحروب ونسبة النوع في المجتمعات؟
- تتأثر نسبة النوع في المجتمعات بعوامل عدة أهمها الحرب التي تؤدي لزيادة في الوفيات الذكور

❖ أنظر إلى الشكل واجب عن الاسئلة التالية:



- 1- ما نسبة صغار السن في سلطنة عمان؟  
- نسبة صغار السن في سلطنة عمان 42%
- 2- قارن هذه النسبة بمثلها في الدول المتقدمة؟  
- تزيد نسبة صغار السن في سلطنة عمان عن مثلها في العالم البالغة 15%
- 3- ما نوع الهرم السكاني في سلطنة عمان؟  
- ذو قاعدة عريضة



## النمو السكاني

## الدرس الثالث

### ❖ ما المقصود بالنمو السكاني ؟

- التطور الحاصل في أعداد السكان نتيجة الزيادة الطبيعية (المواليد - الوفيات) والهجرة
- ما المقصود بالمواليد؟
- هم الأطفال الذين ولدوا أحياء في السنة ويتم حساب المواليد بعدة طرق منها (معدل المواليد الخام)

$$\text{معدل المواليد الخام} = \frac{\text{عدد المواليد الأحياء}}{\text{عدد السكان في منتصف العام}} \times 1000$$

### ❖ ما هي اسباب اختلاف معدلات المواليد في العالم؟

- الأوضاع الاقتصادية والاجتماعية حيث :-
  - تقل معدلات المواليد في المجتمعات الصناعية حيث الاعتماد على الآلات في الصناعة
  - ترتفع معدلات المواليد في المجتمعات الزراعية نظر لحاجة الأسر في ذلك المجتمعات للأيدي العاملة في الزراعة
- الاوضاع الثقافية :-

- ترتفع معدلات المواليد في المجتمعات الأقل تعليماً وثقافة نظراً لعدم إدراكها لخطورة المشكلة بينما تقل معدلات المواليد في المجتمعات الأكثر تعليماً وثقافة

### ❖ في أي المناطق ترتفع معدل الوفيات ؟

- تختلف معدل الوفيات من مجتمع لأخر حيث ترتفع في المجتمعات النامية عن المجتمعات المتقدمة

### ❖ ما هي اسباب الوفيات في العالم ؟

- العوامل الطبيعية :- كالزلازل والبراكين والاعاصير والجفاف والامراض والمجاعات
- العوامل البشرية :- وحوادث المرورية والحروب
- كيف يتم حساب معدل الوفيات الخام ؟

$$\text{معدل الوفيات الخام} = \frac{\text{عدد الوفيات}}{\text{عدد السكان في منتصف العام}} \times 1000$$

## ❖ لماذا يعتبر معدل وفيات الرضع من أهم معدلات الوفيات؟

- لأنه أحد المؤشرات المهمة في قياس المستوى الصحي للمجتمع لا سيما بالنسبة للطفولة والامومة فانخفاض المعدل يدل على التقدم الصحي والإجتماعي للمجتمع
- ما المقصود بأمد الحياة ؟
- عدد السنوات التي يتوقع أن يعيشها الفرد

## ❖ بم تفسر يقل أمد الحياة في الدول النامية وترتفع في الدول المتقدمة؟

- يقل أمد الحياة في الدول النامية لأنها تفتقر لشبكة الخدمات العامة والمياه النقية والكهرباء والخدمات الصحية بينما يرتفع في الدول المتقدمة اقتصاديا واجتماعيا نظرا لارتفاع مستوى المعيشة وتوافر الخدمات الصحية لمواطنيها

## ❖ ما هي عوامل المؤثرة في أمد الحياه في سلطنة عمان؟

- اسباب ارتفاع أمد الحياة في سلطنة عمان ( ارتفاع مستوى الدخل وارتفاع مستوى المعيشة - توفير الخدمات الصحية في السلطنة)

## ❖ ما المقصود بزيادة الطبيعية؟

- الفرق بين أعداد المواليد والوفيات للسكان في مجتمع ما في فترة محددة

## ❖ ماذا نعني بزيادة طبيعية موجبة وبزيادة طبيعية سالبة؟

- زيادة طبيعية موجبة:- يكون فيه عدد المواليد أكبر من عدد الوفيات

- زيادة طبيعية سالبة:- يكون فيه عدد الواليد أقل من عدد الوفيات

## ❖ تتفاوت الزيادة الطبيعية من دولة لأخر. حسب العوامل المؤثر في ذلك في الواليد والوفيات . اذكر هذه العوامل

- المعيشة ودخل الفرد

- توافر الخدمات الصحية

## ❖ ما العلاقة بين أمد الحياة والخدمات الصحية؟

- علاقة طردية ، كلما تطورت الخدمات الصحية في الدولة ارتفع أمد الحياه ، و يقل أمد الحياه كلما تدنت الخدمات الصحية المقدمة في الدولة

## ❖ عرف الهجرة ؟

- انتقال السكان من مكان إلى آخر مع تغير محل الإقامة ولو لفترة محددة

## ❖ ما هي أنواع الهجرة؟

- من حيث المكان :- داخلية - خارجية
- من حيث مدة الإقامة:- دائمة - مؤقتة
- من حيث الرغبة:- اختيارية - اجبارية

❖ ما هي الاسباب الاساسية التي تؤدي إلى الهجرة؟

- لتوافر عوامل الجذب للسكان من مكان لآخر مثل

• فرص العمل بأجور مرتفعة

• توافر خدمات تعليمية واجتماعية وصحية

• مستوى افضل معيشيا

❖ ما هي جهود السلطنة لحد من الهجرة من الريف إلى المدينة؟

- إقامة مشاريع التنمية والاقتصادية والاجتماعية والصحية في مختلف المحافظات

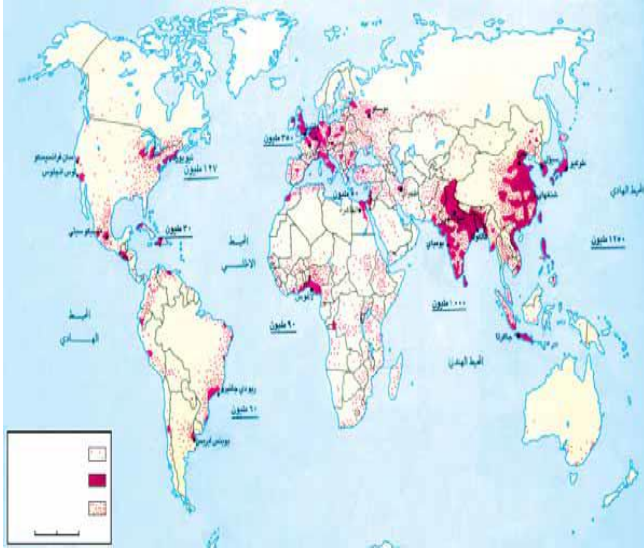
❖ ماذا يقصد بعوامل الجذب؟

- هي العوامل التي تشجع السكان على الإنتقال من مكان لآخر



## الكثافة السكانية

## الدرس الرابع



❖ أعط وصف جغرافيا لتوزيع سكان العالم كما تلاحظه في الخريطة؟

- يتوزع سكان العالم على سطح الأرض بشكل غير متساو، فنجد مناطق يزدحم فيها السكان ومناطق يقل فيها عدد السكان

❖ اذكر بعض المناطق التي يزدحم فيها السكان؟

- جنوب شرق آسيا - جنوب آسيا غرب أوروبا - شرق الولايات المتحدة الأمريكية

❖ اكتب المناطق التي يقل فيها عدد السكان؟

- شمال آسيا (سهول سبيريا) - أستراليا - كندا وألاسكا - شمال أوروبا - الصحراء الكبرى بأفريقيا

❖ أي القارات العالم تتميز بتركيز سكاني كبير. ولماذا؟

- قارة آسيا - بسبب زيادة عدد السكان في القارة

❖ ما هي العوامل المؤثرة في توزيع السكان؟

- العوامل الطبيعية:-

✓ المناخ

✓ التضاريس

✓ المسطحات المائية

✓ الموارد الطبيعية

- العوامل البشرية:-

✓ الأنشطة الاقتصادية

✓ الهجرة

✓ وسائل النقل

❖ بم تفسر ارتفاع الكثافة السكانية في شبه القارة الهندية؟

- بسبب غزارة الامطار

❖ تقل الكثافة السكانية في المناطق الصحراوية. بم تفسر ذلك؟

- بسبب الجفاف

- ❖ بم تفسر يفضل السكان العيش في المناطق السهلية والبعد عن المناطق الجبلية والمحراوية؟
- بسبب سهولة الوصول إليها وملاءمتها لبناء المساكن وقيام الزراعة
- ❖ اذكر اهم سهل يعتبر من اكبر المناطق في العالم ازداحاما بالسكان؟
- نعد السهول النهرية من أكبر مناطق العالم ازداحاما كما هو في سهل نهر النيل في مصر
- ❖ بم تفسر يميل السكان للتركز في المناطق الساحلية؟
- بسبب اعتدال المناخ وتوافر الثروات البحرية
- ❖ ما هي أهم الموارد الطبيعية التي تؤثر في توزيع السكاني ؟
- البترول أو الغاز الطبيعي
- ❖ اوجد العلاقة بين توزيع السكان والعوامل التالية:

| العلاقة   | العوامل المؤثرة في توزيع السكان |
|---|---------------------------------|
| هناك علاقة طردية بين ارتفاع التركيز السكاني و المناطق ذات الحرارة المعتدلة و المرتفعة في معدلات تساقط الأمطار                               | المناخ                          |
| تزيد التركيز السكان في المناطق السهلية وبشكل خاص على السهول النهرية و يقل التركيز السكاني في المناطق الجبلية                                | التضاريس                        |
| يتركز السكان في المناطق المشرفة على المسطحات المائية عن المناطق الداخلية التي لا تشرف عليها المسطحات المائية                                | المسطحات المائية                |
| تركز السكان في المناطق الغنية بالموارد الطبيعية بينما تقل في المناطق الفقيرة بالموارد الطبيعية  | الموارد الطبيعية                |
| يتركز السكان في المناطق التي يتركز بها الحرفة السائدة و الخدمات بينما يقل عدد السكان في المناطق التي يقل فيها ظهور الحرفة السائدة و الخدمات | الأنشطة الاقتصادية              |
| يتركز السكان في المناطق التي تتوفر فيها وسائل النقل و الطرق و يقل في المناطق التي يقل فيها ازدهار وسائل النقل و الطرق                       | وسائل النقل                     |

## ❖ عرف الكثافة السكانية؟

- عدد السكان ف الكيلو متر المربع الواحد
- الكثافة السكانية =  $\frac{\text{جملة عدد السكان في منطقة ما (نسمة)}}{\text{المساحة الكلية للمنطقة (كم2)}}$

## ❖ اكمل ما يلي :-

- 1- القرة التي تضم أكبر عدد من السكان هي قارة آسيا
- 2- يعيش معظم سكان العالم في مساحة من الارض تعادل 10%
- 3- يمثل سكان العالم القديم من جملة سكان العالم نحو ثلاث ارباع
- 4- غالبية سكان العالم يتركزون في نصف الكرة الشمالي
- 5- تصف المناطق المزدحمة بالسكان بأنها مناطق ذات كثافة سكانية عالية
- 6- المناطق قليلة السكان توصف بأنها ذات كثافة سكانية منخفضة



### عرف المشكلة السكانية؟

- زيادة أعداد السكان بصورة تفوق الموارد الطبيعية المتاحة في منطقة ما أو في العالم بشكل عام و هو ما يؤدي إلى تدني مستوى المعيشة و انتشار الفقر و سوء التغذية

### ماذا ينتج عن المشكلة السكانية؟

- تدني مستوى المعيشة
- انتشار الفقر
- سوء التغذية

### حدد ابعاد المشكلة السكانية مع شرح كلا منها بايجاز؟

- النمو السكاني السريع ويقصد به ارتفاع معدل النمو السكاني بفعل تأثير عوامل إجتماعية وإقتصادية ويظهر هذا النمو السريع في المجتمعات الفقيرة مما يؤدي إلى ظهور العديد من المشكلات منها الضغط على الخدمات الإجتماعية في قطاعات عدة كالتعليم والتوظيف وظهور مايعرف بالبطالة
- التوزيع السكاني حيث يوجد تباين كبير في توزيع السكان سواء على مستوى قارات العالم أو بين الدول في القارة الواحدة مما يؤدي الى الضغط على الموارد الطبيعية في المناطق كثيفة السكان
- خصائص السكان وتتمثل في المستوى التعليمي والصحي والثقافي والقدرة المهنية للأفراد في المجتمع فاذا كان الأفراد أقل تعليماً وثقافة ظهرت المشكلة السكانية

### ماذا يقصد بالنمو السكاني السريع؟

- يقصد به ارتفاع معدل النمو بفعل تأثير عوامل اجتماعية واقتصادية

### ماذا يترتب على ارتفاع النمو السكاني السريع ؟

- ظهور العديد من المشكلات ومن أبرزها الضغط على الخدمات الاجتماعية في قطاعات عديدة كالتعليم والتوظيف وظهور البطالة

### ما العلاقة بين توزيع السكاني وظهور المشكلة السكانية؟

- يتضح من دراسة التوزيع السكاني وجود اختلاف كبير في توزيع السكان سواء أكان مستوى قارات العالم أو داخل القارة الواحدة مما أدى إلى الضغط على الموارد الطبيعية في المناطق كثيفة السكان



❖ ناقش العبارة التالية: "تظهر المشكلة السكانية كلما كان الإنسان أقل تعليماً وثقافة" ؟

- حيث يكون الفر الاقل تعلما وثقافة أقل وعيا وإدراكا بخطورة زيادة معدلات الانجاب وأثرها الكبير على الفرد وعلى المجتمع بما يساهم في زيادة أثر المشكلة السكانية

❖ أوجد العلاقة بين أبعاد المشكلة السكانية (النمو السكاني ، السريع ، التوزيع السكاني ، خصائص السكان) والمشكلة السكانية ؟

| العلاقة مع المشكلة السكانية  | أبعاد المشكلة السكانية |
|--|------------------------|
| هناك علاقة طردية بين النمو السكاني السريع في المجتمعات الفقيرة و ظهور المشكلة السكانية المتمثل في زيادة الضغط على الخدمات و كالتعليم و التوظيف       | النمو السكاني السريع   |
| هناك علاقة طردية بين الكثافة السكانية و المشكلة السكانية   | التوزيع السكاني        |
| كلما تدني مستوى الخصائص السكانية المتمثل في (المستوى التعليمي و الصحي ، الثقافي و القدرة المهنية للأفراد المجتمع) كلما أسهم في ظهور المشكلة السكانية | خصائص السكان           |

❖ ما هي العلاقة بين حجم السكان والموارد الطبيعية؟

- يزداد عدد السكان في المناطق الغنية بالموارد الطبيعية والعكس صحيح ، كما في مناطق تواجد البترول والغاز الطبيعي

❖ ما هي أقسام الموارد الطبيعية ؟

- موارد متجددة :- موارد تتجدد بشكل طبيعي وقابلة للاستخدام عدة مرات ( الماء - الهواء - التربة )

- موارد غير متجددة :- موارد لا تتجدد بسبب طبيعة تكونها ( النفط - الغاز الطبيعي - المعادن)

❖ فسر تآثر الموارد الطبيعية بزيادة عدد السكان؟

- تتأثر الموارد الطبيعية سلبا بزيادة عدد السكان حيث تشكل الزيادة السكانية ضغطا على الموارد المتجددة واستنزافا للموارد غير المتجددة فتضعف قدرة هذه الموارد على تلبية الاحتياجات السكانية المتزايدة

❖ ما الفرق بين مشكلة الغذاء و مشكلة الجوع و سوء التغذية ؟

- مشكلة الغذاء: حدوث نقص واضح في كمية الغذاء و نوعيته عن المعدلات المقبولة

- مشكلة الجوع: نقص كمية الغذاء عن الحد الأدنى المقبول

- سوء التغذية: افتقار الغذاء للعناصر الغذائية المطلوبة للجسم

❖ للنمو السكاني السريع آثار سلبية في تحقيق الرفاهية الاجتماعية والإقتصادية " أذكر المشكلات الناتجة عنه؟

- مشكلة الغذاء
- مشكلة التدهور البيئي
- مشكلة التلوث

❖ ما المقصود بمشكلة الغذاء؟

- حدوث نقص واضح في كمية الغذاء ونوعيته عن المعدلات المقبولة

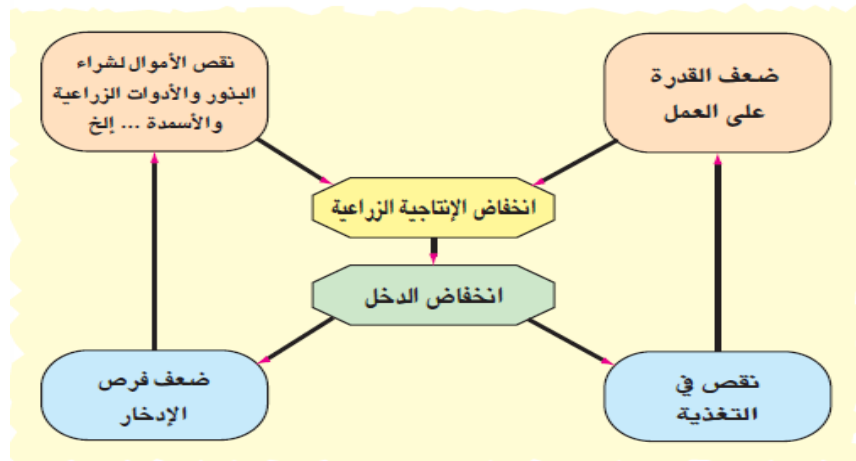
❖ ماهي مظاهر مشكلة الغذاء؟

- إنتشار الامراض - ارتفاع معدلات وفيات الأطفال - تكرار حدوث المجاعات - تزايد حجم الموارد الغذائية المستوردة - استخدام الغذاء سلاحا في أيدي الدول الكبرى ظهور ما يسمى بحلقة الفقر

❖ "لنقص الغذائي العالمي أسباب عديدة " أذكرها

- ارتفاع مستوى المعيشة في بعض الدول
- الزيادة السكانية الكبيرة والسريعة
- التقنيات الزراعية التقليدية البدائية
- السلوكيات الغذائية وقلة الوعي الغذائي
- الظروف الإقتصادية والسياسية
- الفاقد الغذائي نتيجة الحشرات والأمراض
- التقلبات المناخية
- التلوث البيئي

❖ وضع خريطة ذهنية لحلقة الفقر ؟



❖ ما المقصود بالتدهور البيئي؟

- حدوث خلل في النظام البيئي نتيجة تزايد أعداد السكان وزيادة الاستهلاك

❖ **دلل على حجم التدهور البيئي في كل من الدول النامية والدول المتقدمة؟**

- أكبر تهديد للبيئة البحرية يتركز في الدول الصناعية
- تهديد الاراضي الزراعية والحياه النباتية الطبيعية يتركز في الدول النامي



❖ **ما المقصود بمشكلة التلوث؟**

- زيادة النفايات في البيئة لدرجة لا تتمكن الطبيعة من تحليلها أو امتصاصها

❖ **ما هي نتائج التلوث؟**

- تدهور صحة الانسان
- حدوث التغيرات المناخية
- اختلال التوازن الطبيعي
- التأثير على إنتاج الغذاء

❖ **علل ما يلي :-**

**1-تظهر المشكلة السكانية بصورة كبيرة في المجتمعات الفقيرة؟**

- حيث أن النمو السكاني في المجتمعات الفقيرة يفوق معدلات التطور الاجتماعي والاقتصادي

**2-تخصيص الامم المتحدة يوما خاصا للغذاء العالمي؟**

- تعميق الوعي بخطورة المشكلة الغذائية

**3-ظهور البطالة في المجتمعات الفقيرة؟**

- لان النمو السكاني فيها لا يوازي التطور الاجتماعي والاقتصادي فيؤدي لعدد من المشكلات ومن أبرزها البطالة

مفاهيم في التربية السكانية

# الوحدة الثالثة

الدرس الأول

الدخل وترشيد الاستهلاك (نموذج الأسرة العمانية)

- ❖ ما المقصود بالدخل ؟
- الاموال التي يكتسبها الفرد من خلال عمله
- ❖ ما هي مصادر الدخل قديما؟
- تربية الحيوانات
- زراعة الخضروات والفاكهة
- ❖ لماذا كانت الاسر تربي الحيوانات قديما ؟
- لإنتاج الألبان ومشتقاتها والاستفادة من لحومها وأوبارها واصوافها
- ❖ اذكر بعض مصادر الدخل الحديثة ؟
- الوظائف الحكومية - الشركات الخاصة - الأعمال التجارية الحرة
- ❖ اذكر النتائج المترتبة على زيادة عدد السكان ؟
- كثرت المباني وتوسع شبكة النقل
- اصبحت الاراضي لا تكفي لتأمين حاجاته
- تحول الانسان إلى التصنيع لانتاج المواد الغذائية والملابس
- ❖ اذكر نتيجة واحد ترتبت على تنوع مصادر دخل الاسرة؟
- تعدد حاجات الانسان وتنوع مطالبه وارتفاع مستوى المعيشة
- ❖ ما معنى الاستثمار؟
- استغلال المال الزائد عن الحاجة لإقامة مشاريع تزيد الدخل
- ❖ وضع كيف تقوم الاسرة باستغلال دخلها؟
- صف جزء من الدخل على حاجات الاسرة ومتطلباتها ( الطعام - السكن - الملابس - الرعاية الصحية - التعليم)
- توفير ( ادخار) جزء من الاموال
- ❖ ما المقصود بالادخار؟
- توفير جزء من الاموال لانفاقها عند الضرورة
- ❖ اذكر بعض اشكال الاستثمار ؟
- في إقامة المشروعات الصناعية والتجارية المختلفة
- ❖ قارن بين مصادر دخل الأسرة قديما وحديثا ؟

| مصادر الدخل قديما   | مصادر الدخل حديثا     |
|---|-----------------------|
| - تربية الحيوانات لإنتاج الألبان ومشتقاتها و لحومها و أوبارها وجلودها | - الصناعة             |
| - زراعة الخضار والفواكه   | - الوظائف الحكومية    |
|   | - الشركات الخاصة.     |
|   | - أعمال التجارة الحرة |

❖ ما هي العواقب الناتجة عن عدم ترشيد الاستهلاك للفرد؟

- الوقوع في الديون

❖ عرف ترشيد نفقات الأسرة؟

- هو الانفاق وفق الحاجة على الحاجات الأساسية للأسرة بشكل واعي

❖ اذا كبرت في المستقبل و عملت طبيب و أصبحت رب أسرة ، كيف أحمي نفسي من الوقوع في الديون المالية؟

- من خلال ترشيد نفقات أسرتي ، و العمل على استثمار جزء من المال المدخر في مشاريع ناجحة

❖ سالم يخصص نصف مبلغ الادخار في كل شهر لشراء اسهم لشركة رائدة في السلطنة ماذا يطلق على هذا التصرف؟

- استثمار

❖ ما المقصود بالصحة ؟

- سلامة الفرد من أي مرض وقيامه بوظائفه على أكمل وجه وقدرته على ممارسة الأنشطة الاجتماعية والرياضية والثقافية في المجتمع

❖ ما هي مقومات الصحة الجيدة؟

- الابتعاد عن تناول الطعام المليء بالدهون
- تناول الوجبات الغذائية وخاصة الإفطار
- تجنب الوجبات الغذائية السريعة
- ممارسة الرياضة بانتظام
- تناول الأطعمة بشكل متوازن وعدم المبالغة فيه
- تجنب التدخين
- تجنب المشروبات الغازية

❖ ما هي اضرار التدخين ؟

- يسبب التدخين اضرار صحية ومادية بالغة في حياة الانسان وتتمثل في
  - تتسبب في أمراض خطيرة ومزمنة مثل ضيق النفس وسرطان الرئة
  - هدر الأموال المدخن ووقته

❖ ما هي طرق تجنب التدخين ؟

- استثمار وقت الفراغ
- قراءة الكتب المفيدة
- المشاركة في الاعمال التطوعية
- ممارسة الرياضة بانتظام
- أداء الشعائر الدينية

❖ ما هي الاثار الايجابية للابتعاد عن التدخين ؟

- المحافظة على صحة الفرد
- بيئة خالية من التلوث
- توفير المال
- زيادة القدرة على العمل وزيادة الانتاج
- زيادة اللياقة البدنية
- حياة أطول

❖ يسبب التدخين أضرار صحية بالغة في جسم الانسان . وضح ذلك؟

- ينتج عن التدخين بعض الأمراض الخطيرة مثل ضيق التنفس وسرطان الرئة وغيرها من الأمراض

❖ أهمية تناول الطالب للوجبة الغذائية السليمة ؟

- تعمل الوجبة الغذائية على النمو السليم للجسم و يساعد في التحصيل الدراسي

## الملخص الشامل لدورس الدراسات الاجتماعية الصف السابع - الفصل الأول إعداد: أ. لطيفه البلوشي



### ❖ ما المقصود بالامتلاكات العامة؟


- كل ما تملكه الدولة وتشرف عليه وترعاه من النواحي الإدارية والقانونية والمالية

### ❖ اذكر انواع الامتلاكات العامة ؟

- المؤسسات والوزارات والمرافق الحكومية (المستشفيات والمدارس)
- المعالم الأثرية والسياحية
- الموارد البشرية
- المشروعات الصناعية الكبرى
- الغابات والمحميات الطبيعية
- الحدائق العامة والطرق

### ❖ اذكر بعض النماذج من الامتلاكات العامة في سلطنة عمان ؟

- المشروعات الصناعية في المناطق الصناعية كالرسيل و نزوي وصحار ... إلخ
- الثروات المعدنية كالذهب و الفضة والكروم و الحجر الجيري و الفحم والرخام و الملح
- الموارد المائية و ما يتعلق بها من سدود و محطات تحلية مياه



- الوزارات و المؤسسات الحكومية كوزارة التربية والتعليم و وزارة الداخلية والمحاكم القضائية و جامعة السلطان قابوس
- القلاع و الحصون كقلعة الجلاي و قلعة الرستاق و حصن الحزم .. إلخ



### ❖ ماهي المؤسسات الخدمية التي تشرف عليها الدولة؟

- المدارس - المستشفيات - مراكز التعليم والتدريب المهني - الطرق - المواصلات - مباني الخدمات الإعلامية الماء - الكهرباء

### ❖ ما المقصود بالامتلاكات الخاصة؟

- كل ما ترجع ملكيته للفرد ويحق له التصرف فيه ( المنزل - سيارة)

### ❖ بم تفسر : أهمية دور المواطن في المحافظة على الامتلاكات العامة؟

- ضمان استمرارية تقديم الخدمات للمواطنين

### ❖ ما الفرق بين الامتلاكات العامة والامتلاكات الخاصة ؟



- الممتلكات العامة تملكه الدولة و ذات نفع عام للمواطنين و المقيمين في الدولة ، الممتلكات الخاصة خاصة بالأفراد كالسيارات و المنازل و المحلات التجارية الخاصة

### ❖ ما هو دور المواطن في الحفاظ على الممتلكات العامة للدولة؟

- المحافظة على جمال البيئة وعدم تلويثها بالملوثات والنفايات
- المحافظة على أجهزة الطاقة وعدم تخريبها لأنها ملك للأجيال كلها
- المحافظة على تجهيزات المياه وأجهزة الإتصالات العامة
- المحافظة على المال العام للدولة وترشيد النفقات

### ❖ ما هي اهمية الممتلكات العامة ؟

#### - الموارد الطبيعية :-

- مصدر للدخل القومي من ( نפט - غاز - نحاس - ذهب وغيرها )
- تساهم في توفير المال
- تمكن الدولة من الانفاق على المشروعات
- تسهم في تحسين المعيشة مثل ( شق الطرق - توفير الخدمات الصحية - التعليم - توصيل الماء والكهرباء )

#### - الاثار التاريخية :-

- تنشيط السياحة
- تعد شواهد على الحضارات

#### - الغابات :-

- حفظ مياه الامطار من التبخر
- تحسين حالة الطقس
- تعد مناطق للجذب السياحي

## الدرس الرابع

## التوعيتية والسلامة المرورية



### ما المقصود بالمرور؟

- هو نظام السير على الطرقات سواء للمركبات أم للمشاة ، والمركبات تسلك طرق خاصة بها أما المشاة فيسلكون ممرات خاصة بهم أما القواعد المرورية فتحددها الجهات الرسمي

### ما أهمية المرور؟

- تكمن أهمية المرور للدولة في تنظيم حركة السير على الطرقات

### ما هي العوامل التي أدت إلى زيادة المركبات في السلطنة؟

- التقدم الحضاري للدولة
- الزيادة المطردة للسكان
- تحسن المستوى المعيشي للأفراد حيث جعلهم قادرين على امتلاك السيارات على نطاق واسع

### ما المقصود بالتوعية المرورية؟

- الوعي بقواعد المرور و السلوك الصحيح لتطبيقها ، وتسهم في الحد من حوادث الطرق عند جميع فئات المجتمع

### عدد فوائد التوعية المرورية؟

- تعريف الأفراد بقواعد و أنظمة المرور و قواعد السلامة العامة
- احترام النظام و القانون و اتباع الأساليب الآمنة و الصحيحة.
- تعريف الأفراد بالتعامل الصحيح مع المركبة والطريق ، واستخدام الممرات الخاصة بالمشاة و الالتزام بالإشارات المرورية لعبور الطريق الآمن

### ما هي الأخلاقيات التي يجب أن يتحلى بها سائق المركبة؟

- الالتزام بالقوانين و الأنظمة و التعليمات
- التوازن وهدوء الأعصاب
- التعاون
- الصدق والأمانة

### ما أهمية التوعية المرورية بالنسبة للإنسان

- انها تحد من حوادث الطرق عند جميع الفئات
- تزيد الوعي المروري بين فئات المجتمع
- تحسن التوجيه والرقابة بين الافراد
- تقلل من حوادث الطرق

❖ ما الاساليب التي تتبعها شرطة عمان السلطانية فيما يتعلق بالتوعية والسلامة المرورية

- اصدار النشرات الارشادية المتعلقة بالتوعية المرورية مثل ارشادات التجاوز

- إقامة برامج التوعية الاعلامية في الاذاعة والتلفاز والصحف او عن طريق المحاضرات

- توعية أصحاب المركبات بضرورة الإلتزام بشروط الأمان للمركبة

❖ عندما أسلك الطريق واجد لوحة ارشادية امامي كما هو واضح في الشكل التالي

❖ ما سم هذا النظام المروري

- الاشارات الضوئية

❖ كيف أتصرف مع هذا النظام المروري ؟

- تخفيف السرعة والوقوف التام إذا كانت لاشارة الضوئية حمراء و الوقوف في الجهة التي سوف أسلكها ثم اذا تحولت الإضاءة للون الأصفر أستعد للانطلاق ، و إذا أنيرت الاشارة الخضراء أنطلق بالسير للجهة المطلوبة

❖ ما هو اسم الادارة المسؤولة عن التوعية المرورية بشرطة عمان السلطانية؟

- الادارة العامة للمرور

❖ تقوم شرطة عمان السلطانية بتوعية أصحاب المركبات بضررة الإلتزام بشروط الأمان للمركبات " أذكر تلك التوعيات

- التأكد من صلاحية المصابيح الأمامية والاشارات الجانبية

- التأكد من مساحات الزجاج

- فحص الاطارات و بخاصة الإطار الاحتياطي

- التأكد من مستوى ماء المبرد

- التأكد من صلاحية بطارية المركبة

- التأكد من مستوى زيت المحرك.

- التاكد من مستوى زيت الفرامل

❖ ماهي النتائج المترتبة من حوادث الطرق؟

- كثرة الوفيات

- كثرة الاصابات الجسمية

- ظهور كثير من الاعاقات بين الناس وخاصة فئة الشباب

- وجود خسائر مادية كثيرة اثرت على الإقتصاد الوطني



# تم بحمد الله

هذه مراجعة بسيطة لمادة الدارسات الاجتماعية .. الصف السابع  
.. الفصل الاول

يرجوا من الطلبة الاعتماد على الكتاب المدرسي وعدم الاعتماد  
كلياً على المخلص وترك مذاكرة الكتاب

مع تمنياتي للجميع بالتوفيق



أم ناصر