

تم تحميل هذا الملف من موقع المناهج العُمانية



*للحصول على أوراق عمل لجميع الصفوف وجميع المواد اضغط هنا

<https://almanahj.com/om>

* للحصول على أوراق عمل لجميع مواد الصف السادس اضغط هنا

<https://almanahj.com/om/6>

* للحصول على جميع أوراق الصف السادس في مادة علوم ولجميع الفصول, اضغط هنا

<https://almanahj.com/om/6science>

* للحصول على أوراق عمل لجميع مواد الصف السادس في مادة علوم الخاصة بـ الفصل الأول اضغط هنا

<https://almanahj.com/om/6science1>

* لتحميل كتب جميع المواد في جميع الفصول للـ الصف السادس اضغط هنا

<https://almanahj.com/om/grade6>

للتحدث إلى بوت على تلغرام: اضغط هنا

https://t.me/omcourse_bot

1-1 أعضاء الجسم

بعد دراسة هذا الدرس سوف:

- أستطيع أن أسمى على الأقل ستة من الأعضاء الرئيسية في الجسم.
- أستطيع أن أصف أين توجد على الأقل أربعة من الأعضاء الرئيسية في الجسم.

مُفردات للتعلم:

- الأعضاء
- أجهزة الجسم

□ إذا نظرنا إلى جسم الانسان على أنه مدينة. ما الأشياء التي تحتاجها البلدة أو المدينة لكي تعمل؟

- ما أجهزة الجسم التي يمكن أن تقوم بهذه الوظائف في أجسادنا؟
- أين في اعتقادك يقع كل عضو من أعضاء الجسم وما وظيفته؟
- هل تعلم ما الذي يحتويه جسمك من الداخل؟

□ **الأعضاء** هي (الأجزاء الداخلية للجسم). وتقوم أعضاء الجسم بوظائف مختلفة لإبقائك على قيد الحياة وبصحة جيدة. تعمل الأعضاء المختلفة معًا لتشكل أجهزة الجسم.

□ أهم وظيفتين للكبد

أ- تخزين الطاقة.

ب- تخلص الجسم من المواد السامة.

﴿وَفِي أَنْفُسِكُمْ أَفَلَا تُبْصِرُونَ﴾
«سورة الذاريات: الآية ٢١»

الدماغ

الرئتان

القلب

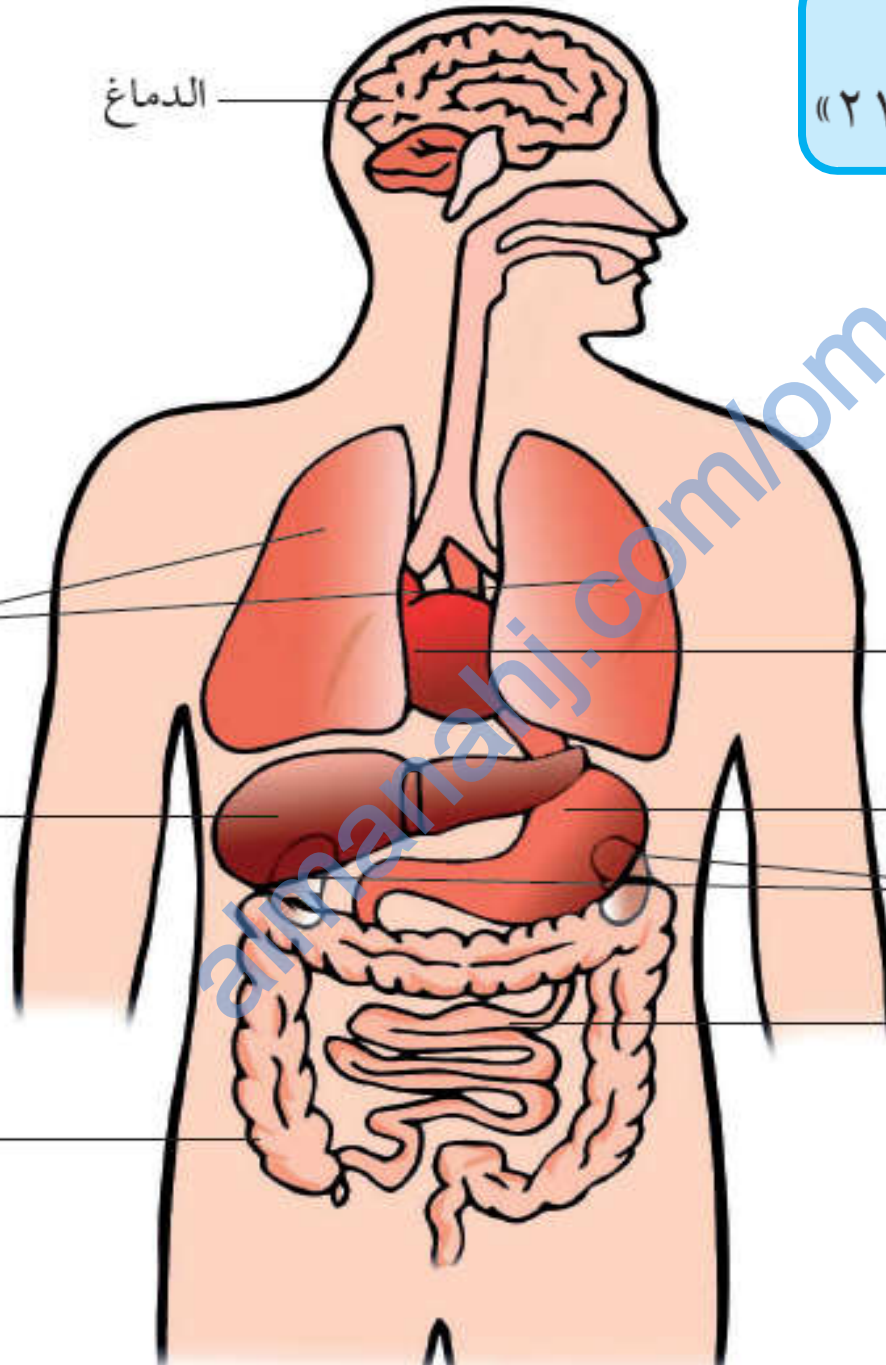
الكبد

المعدة

الكليتان

الأمعاء الدقيقة

الأمعاء الغليظة



ستحتاج إلى:

- ورق مقوى • ورقة بيضاء • أقلام تلوين
- أقلام شمعية • غراء • مقص

تحديد موقع أعضاء الجسم.

- ألصق الورق المقوى على الحائط، وقف أمام الورقة معطيًا ظهرك للورقة.

- اطلب إلى زميلك أن يرسم محيط جسمك فقط دون رسم ما حول الذراعين والساقين.

- ارسم محيط أعضاء الجسم الآتية على الورقة البيضاء:

• المعدة

• الأمعاء

• القلب

• الكُلَيْتَان

• الدماغ

• الرئتان

- تأكد أن حجم كل عضو مناسب لمخطط الجسم الذي رسمته.

- اكتب اسم كل عضو ولونه.

- قص الأعضاء وألصقها في المكان المناسب بالجسم.



- (1) ما العضو الموجود في الرأس؟
- (2) ما الأعضاء الموجودة في الصدر؟
- (3) ما الأعضاء الموجودة على هيئة زوج من الأعضاء؟
- (4) ما الأعضاء الموجودة في منطقة البطن؟
- (5) في اعتقادك، ما وظيفة كلِّ عضوٍ في الجسم؟

بعض الحيوانات لا تمتلك أعضاء جسم، وإنما تمتلك أجزاءً أكثر بساطة تؤدي وظائف الجسم، مثل قناديل البحر.

الاسئلة ص 11

- (1) الدماغ.
 - (2) القلب، الرئتان.
 - (3) الرئتان، الكليتان.
 - (4) المعدة والأمعاء والكليتان.
 - (5) الدماغ - يتحكم في وظائف الجسم ويسمح لنا بالتفكير والتحدث والإحساس بالمشاعر.
- الرئتان - التنفس.
- القلب - تدوير الدم في الجسم.
- الكليتان - الإخراج.
- المعدة والأمعاء - الهضم.

تحدّث عن!

كيف تتم حماية أعضاء الجسم؟

ماذا تعلّمت؟

- الأجزاء الداخلية للجسم يطلق عليها أعضاء.
- أعضاء الجسم الرئيسية هي القلب، والمعدة، والأمعاء، والرئتان، والكليتان، والدماع.

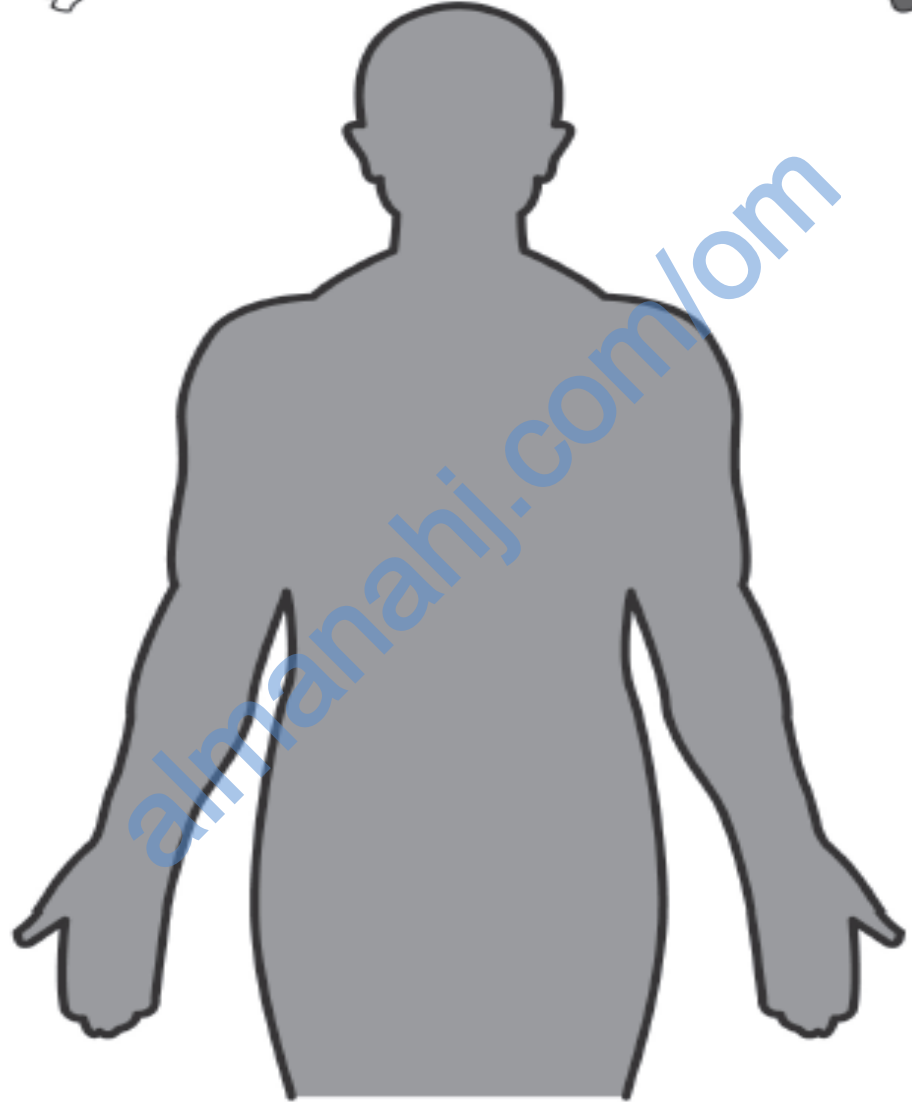
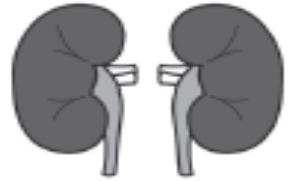
تمرين 1-1 ?

أعضاء الجسم.

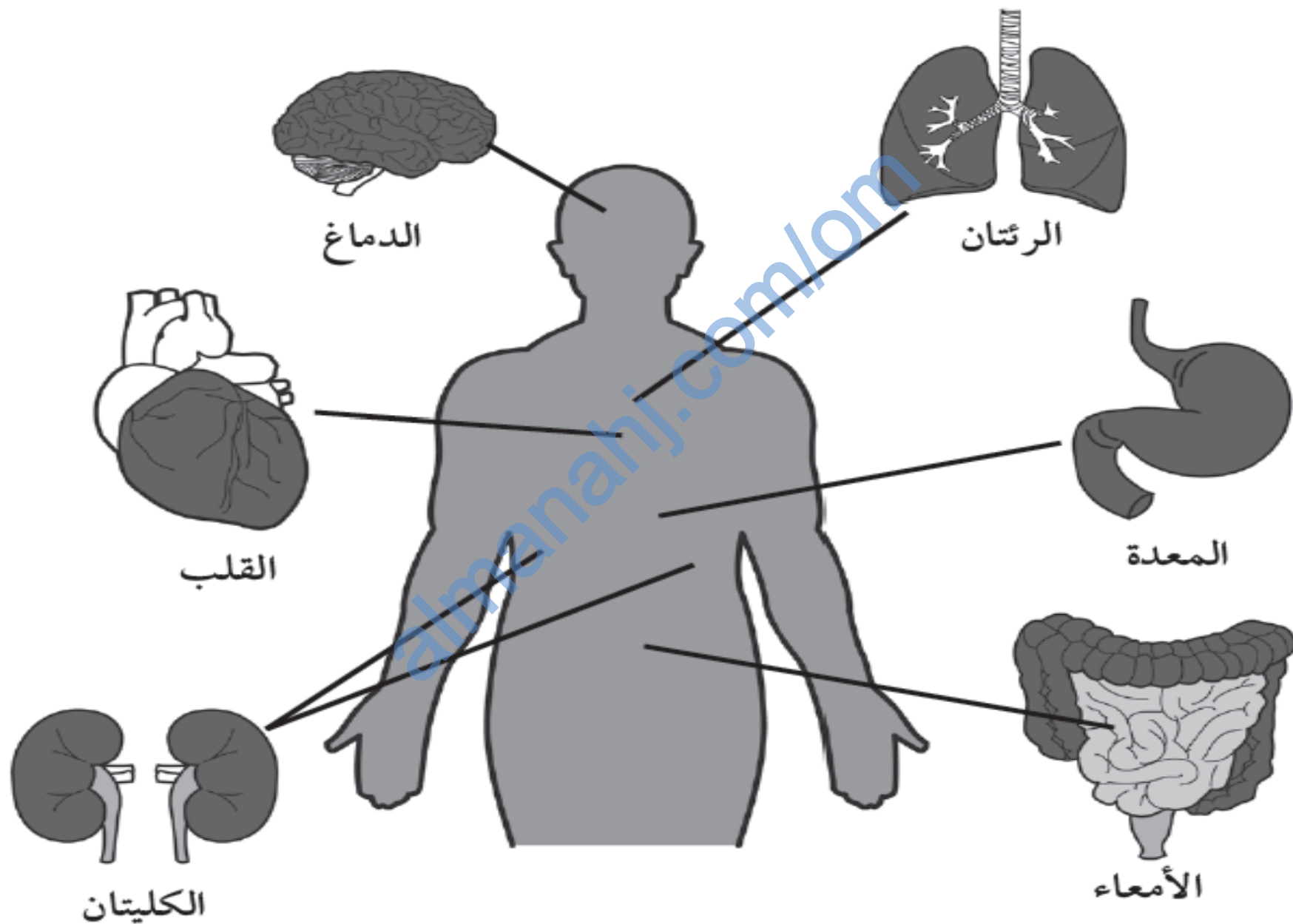
في هذا التمرين، ستُحدّد أسماء أعضاء الجسم وموقعها بالجسم:

(1) بعض أعضاء الجسم موضّحة بالرسومات الآتية. اكتب اسم العضو أسفل كلّ رسم.

(2) ارسم خطًّا يصل بين كلّ عضو وموقعه الصحيح بالجسم.



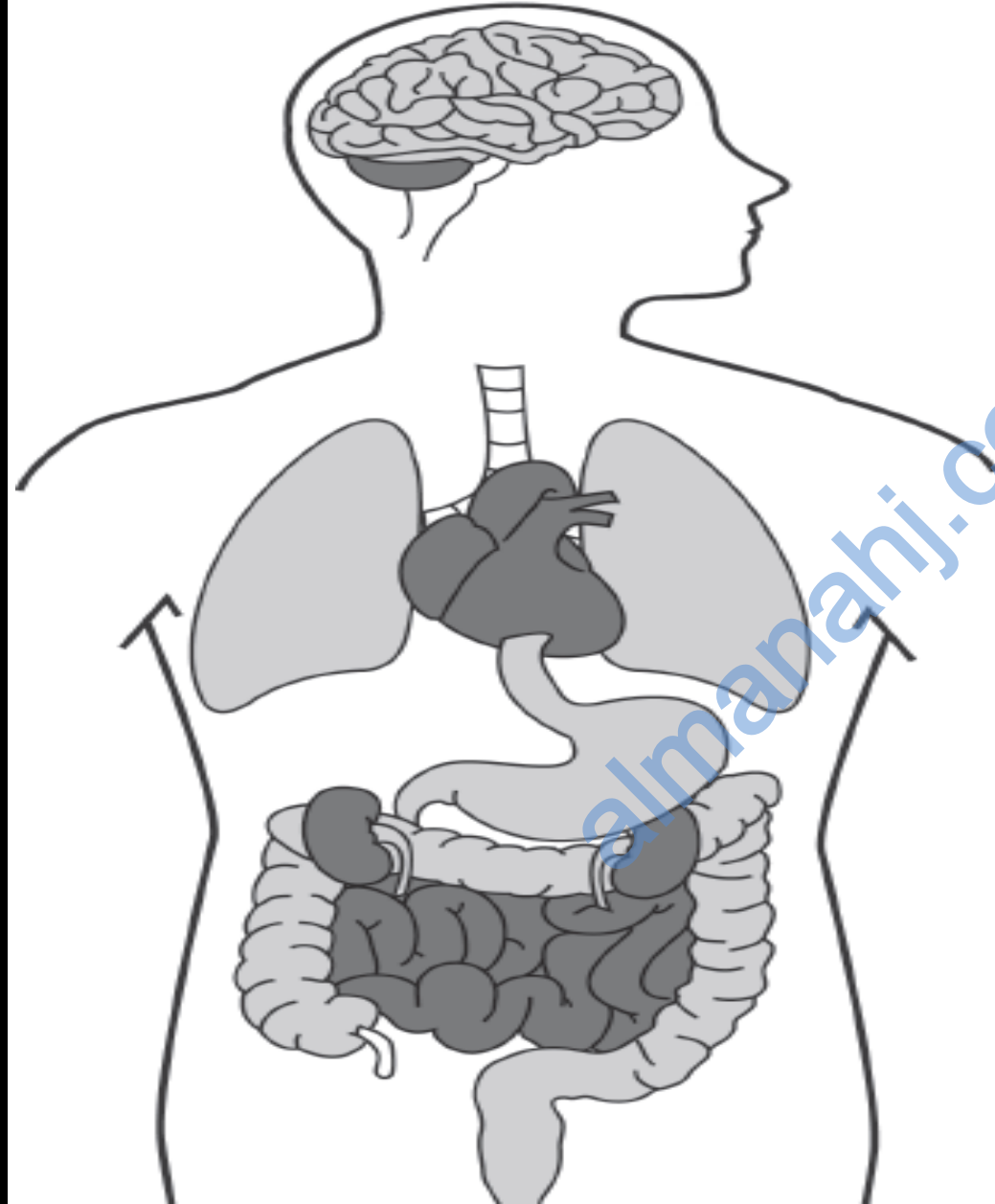
تمرين 2-2



ورقة العمل 1-1

تسمية أعضاء الجسم.

سم رسومات أعضاء الجسم،
استخدم الكلمات في الصندوق
لمساعدتك.



القلب

الدماغ

الكليتان

الأمعاء

الرئتان

الكبد

المعدة

ورقة عمل 1-1

