

شكراً لتحميلك هذا الملف من موقع المناهج العمانية



## نموذج أسئلة الاختبار الرسمي

[موقع المناهج](#) ⇨ [المناهج العمانية](#) ⇨ [الصف السادس](#) ⇨ [اجتماعيات](#) ⇨ [الفصل الأول](#) ⇨ [الملف](#)

## التواصل الاجتماعي بحسب الصف السادس

[الرياضيات](#)

[اللغة الانجليزية](#)

[اللغة العربية](#)

[التربية الاسلامية](#)

## روابط مواد الصف السادس على تلغرام

## المزيد من الملفات بحسب الصف السادس والمادة اجتماعيات في الفصل الأول

<a href="#">ملخص شامل للمادة</a>	1
<a href="#">مراجعة الدرسين نشأة الجبال والدولة الأموية في الأندلس</a>	2
<a href="#">مراجعة الوحدة الثالثة الغلاف الجوي والمائي</a>	3
<a href="#">حل أنشطة المادة</a>	4
<a href="#">نموذج أسئلة الاختبار الرسمي (جنوب الشرقية)</a>	5

العدد	المكان	الصف	أرقام الجلوس	رقم اللجنة
		المسحون	من	إلى

(3)  
 المادة: الدراسات الاجتماعية  
 الدور الأول - الفصل الدراسي الأول - العام الدراسي 2023/2022 م  
 الصف: السادس

تابع السؤال الأول:  
 12- الأمير الأندلسي الذي تلقب بالناصر لدين الله وبنى مدينة الزهراء غربي قرطبة:  
 أ- هشام الثالث ب- عبدالرحمن الثالث ج- عبد الرحمن الداخل د- مروان الثاني

السؤال الثاني:

- أولاً: اكتب اسم المصطلح الدال على كل عبارة من العبارات التالية بين القوسين:  
 أ - (.....) هزات أرضية قصيرة سريعة متتالية تضرب سطح الأرض.  
 ب - (.....) بناء هندسي يقام على مجرى مائي بهدف حجز المياه للاستفادة منها.  
 ج - (.....) حالة الجو خلال فترة زمنية قصيرة.  
 د - (.....) كتل صخرية شديدة الحرارة تقذفها البراكين أثناء الثوران.

ثانياً: يوضح الجدول الذي أمامك بعض الزلازل القوية وما يترتب عليها من خسائر في العالم، ادرسه جيداً، ثم أجب عن الاسئلة التالية:

عدد القتلى (تسعة)	قوة الزلازل بالممرجات	سنة حدوث الزلازل	المدينة/ الدولة
٧٠٠	٨,٢٥	١٩٠٦	- سان فرانسيسكو (الولايات المتحدة)
١٧٠٠	٨,٩	١٩٦٠	- تشيلي
٢٤٠٠٠٠	٨,٥	١٩٧٦	- تانغ شان (الصين)
٢٣٠٠٠	٦,٨	١٩٨٢	- زمار (اليمن)
٢٥٠٠٠	٦,٩	١٩٨٨	- أرمينيا (الاتحاد السوفيتي سابقاً)
٥٠٠٠	٧,٢	١٩٩٥	- جوبي (اليابان)

- أ- تبلغ قوة الزلزال الذي ضرب سان فرانسيسكو عام 1906 م .....
- ب- حدث الزلزال الذي بلغت قوته 8.9 في دولة ..... عام .....
- ج- أكبر الخسائر في الأرواح كانت بسبب الزلزال الذي حدث عام .....

ثالثاً: علل ما يأتي:

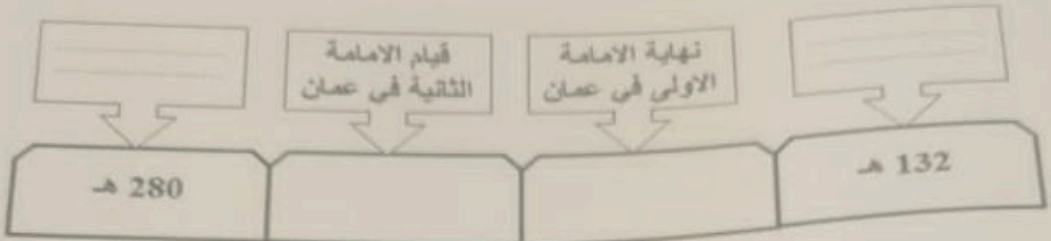
أ - احتراق الشهب والنيازك في طبقة الميزوسفير.

ب- تسمية نزوى ببيضة الاسلام.

يتبع

(4)  
المادة: الدراسات الاجتماعية الصف: السادس  
الدور الأول - الفصل الدراسي الأول - العام الدراسي 2023/2022م

السؤال الثالث:  
أولاً: اكمل المسطرة الزمنية الآتية:



ثانياً: اذكر مثالا على كل من:  
أ- الموارد الطبيعية الموجودة في الغلاف المائي.

ب- أحد أنواع الأمطار.

ثالثاً: أجب عن الاسئلة التالية  
أ- صنف الأجهزة التالية حسب محطة الرصد التابعة لها:  
( أجهزة قياس درجة الحرارة - البالون - جهاز قياس المطر - الاقمار الصناعية )

محطات قياس ارضية	مصادر أخرى

تابع السؤال الأول:

- 5 - أول مدينة عمانية دخلها الإسلام على يد مازن بن عضوية:  
 أ- نزوى      ب- آدم      ج- الحمراء      د- سعال
- 6 - إذا علمت أن نسبة اليابسة في الكرة الأرضية 29 % فإن نسبة الماء تشكل:  
 أ- 71      ب- 73      ج- 75      د- 77

7- المخطط الذي يوضح الترتيب الصحيح لطبقات الغلاف الجوي ابتداءً من سطح الأرض:  
 أ-      ب-      ج-      د-

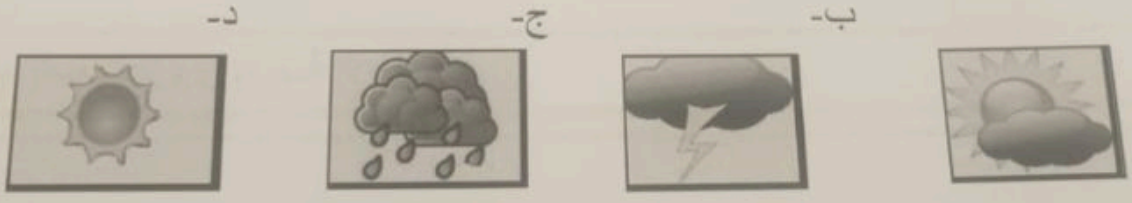
1- الأستراتوسفير	1- التروبوسفير	1- الأستراتوسفير	1- الميزوسفير
2- التيرموسفير	2- الأستراتوسفير	2- التيرموسفير	2- الأستراتوسفير
3- الميزوسفير	3- الميزوسفير	3- التروبوسفير	3- التروبوسفير
4- التروبوسفير	4- التيرموسفير	4- الميزوسفير	4- التيرموسفير

8- العام الميلادي الذي تعرضت فيه السلطنة للإعصار المداري جونو:  
 أ- 2006      ب- 2007      ج- 2008      د- 2009

9- استطاع بنو الأحمر إقامة دولة لهم في غرناطة استمرت:  
 أ- قرنين      ب- قرنين ونصف      ج- ثلاثة قرون      د- ثلاثة قرون ونصف

10- الدولة التي يطلق فيها على الأعاصير اسم التايفون:  
 أ- اليابان      ب- جزر الكاريبي      ج- الولايات المتحدة الأمريكية      د- كوبا

11- الصورة المعبرة عما شاهده محمد في النشرة الجوية وأدرك أنه من المتوقع سقوط أمطار على محافظة مسقط هي:



(1)  
 المادة: الدراسات الاجتماعية الصف: السادس  
 الدور الأول - الفصل الدراسي الأول - العام الدراسي 2022/2023م

أجب عن جميع الأسئلة الآتية


السؤال الأول: ضع دائرة حول رمز الإجابة الصحيحة لكل مفردة من المفردات الآتية:  
 1- الرقم الذي يشير إلى سلسلة جبال الهملايا في الخريطة المقابلة:



- أ- 1      ب- 2      ج- 3      د- 4

2- الطبقة التي يفضلها الطيارون لقيادة الطائرات:  
 أ- الترموسفير      ب- الميزوسفير      ج- الاستراتوسفير      د- التروبوسفير

3- الصورة المعبرة عن المرحلة الثانية من مراحل تكون الجبال الالتوائية:  
 أ-      ب-      ج-      د-



4- الدائرة العرضية التي تقسم الكرة الأرضية إلى نصفين شمالي وجنوبي:  
 أ- مدار الجدي      ب- مدار السرطان      ج- دائرة الإستواء      د- الدائرة القطبية

يتبع/2

مراقب دور					
الاحتياط					

(7)

المادة: الدراسات الاجتماعية الصف: السادس  
الدور الأول - الفصل الدراسي الأول - العام الدراسي 2023/2022م

تابع السؤال الخامس:

ثانياً: انظر إلى الخريطة التي أمامك ثم أجب عن الأسئلة التي تليها:



أ - ظلل على الخريطة المنطقة التي قامت فيها الدولة الأموية في الأندلس.

ب- اكتب الرقم الدال على المضيق الذي عبره الأمويون إلى الأندلس: (.....)

ج- وقع على الخريطة ( البحر المتوسط ) في مكانه الصحيح.



د- اسم الدولة التي وصل إليها حملة العلم لنشر المذهب الإباضي والمشار إليها بالرقم (4):  
.....

انتهت الأسئلة مع الدعاء للجميع بالتوفيق والنجاح.

المادة: الدراسات الاجتماعية (6)  
الدور الأول - الفصل الدراسي الأول - العام الدراسي 2023/2022م  
الصف: السادس

تابع السؤال الرابع :

ثانياً: من خلال دراستك للأجهزة التي امامك اكمل الجدول التالي :-

			
			اسم الجهاز
			نوع الاستخدام

السؤال الخامس:

أولاً: (بعد اعصار شاهين من الاعاصير الحديثة التي تعرضت لها السلطنة)، في ضوء العبارة السابقة أجب عن التالي:  
أ - كيف تم التنبؤ بهذا الاعصار و مراقبة مساره ؟

ب- صف الآثار التي تنتج عن هذه الاعاصير في المناطق التي تتعرض لها؟

(5)  
المادة: الدراسات الاجتماعية الصف: السادس  
الدور الأول - الفصل الدراسي الأول - العام الدراسي 2023/2022م

تابع السؤال الثالث:  
ب - بالاستعانة بالجدول الذي أمامك، رتب الغازات المكونة للغلاف الجوي بدءًا من الغازات الأعلى نسبة إلى الغازات الأقل نسبة.

الغاز	النسبة المئوية
الأوكسجين	21 %
الأرجون	0.8 %
ثاني أكسيد الكربون	0.03 %
النيتروجين	78 %

( ثاني أكسيد الكربون - الأوكسجين - النيتروجين - الأرجون )  
.....

السؤال الرابع :  
أولاً: أمامك مخطط يوضح مصادر تلوث المياه السطحية، ادرسه جيداً، ثم اكمل الفراغات بما يناسبها فيما بين القوسين:  
( الاشعاع - النفايات المنزلية الصلبة - المبيدات الحشرية )

