

شكراً لتحميلك هذا الملف من موقع المناهج العمانية



مراجعة شاملة لكتاب الطالب

[موقع المناهج](#) ← [المناهج العمانية](#) ← [الصف الخامس](#) ← [اجتماعيات](#) ← [الفصل الأول](#) ← [الملف](#)

التواصل الاجتماعي بحسب الصف الخامس



روابط مواد الصف الخامس على تلغرام

[الرياضيات](#)

[اللغة الانجليزية](#)

[اللغة العربية](#)

[التربية الاسلامية](#)

المزيد من الملفات بحسب الصف الخامس والمادة اجتماعيات في الفصل الأول

[نموذج امتحان نهاية الدور الأول نسخة جديدة](#)

1

[نموذج امتحان نهاية الدور الأول نسخة جديدة](#)

2

[أسئلة الاختبار الرسمي مسقط](#)

3

[أسئلة الاختبار الرسمي جنوب الشرقية](#)

4

[أسئلة الاختبار الرسمي الداخلية](#)

5

مراجعة شاملة لكتاب الدراسات الاجتماعية الصف الخامس الأسئلة الموضوعية

1 - تقدر مساحة الوطن العربي بحوالي:

13 مليون ونصف كم.

2_ الأراضي المنبسطة الواسعة قليلة الانحدار مصطلح يطلق على:

السهول

3- صنف النباتات التالية بالوطن العربي حسب نوع البيئة التي تنتمي إليها:

(الصنوبر / السمر / حشائش السافانا)

نبات البحر المتوسط	الصنوبر
نبات صحراوي	السمر
نبات مداري	حشائش السافانا

4- احد قادة المسلمين في نشر الاسلام وتوفي عام 82هـ:

المهلب بن أبي صفرة

5 - فسر تسمية مناخ البحر المتوسط بهذا الاسم:

لأنه يطل على البحر المتوسط

6- عماني تولى قضاء مدينة البصرة في عهد الخليفة عمر بن الخطاب:

كعب بن سور

7- الديانة السائدة في شبة الجزيرة العربية قبيل الإسلام:

الوثنية

8- وضح السلوك التي قامت به مريم عند مساعدتها لاحد كبار السن في عبور

الشارع:

التكافل

9- الوزارة التي يتبعها معهد عمر بن الخطاب للمكفوفين بولاية السيب:

وزارة التربية والتعليم

10- التجارة التي كانت تنشط في فترة ظهور الإسلام بالميناء المشار اليه بالرقم (1) على الخريطة الآتية:

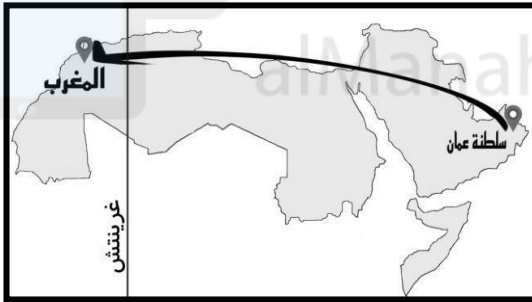


الخيول

11 يطلق على المكان الذي يلتقي أبناء الحي في أوقات الافراح و الاحزان بـ:

السبلة
موقع المناهج العُمانية

12 خط الطول الذي سيمر به طالب الصف الخامس في رحلته من سلطنة عمان الى دولة المغرب:



غرينتش

الأسئلة المقالية:

الوحدة الأولى

أولاً: اذكر المصطلح ادا ل على العبارة التالية:

1- موقع المكان بالنسبة لخطوط الطول ودوائر العرض.

الموقع الفلكي

2- دوائر مكتملة تحيط بالكرة الارضية.

دوائر العرض

ثانياً: يبين الشكل التالي اسباب نقص المياه في الوطن العربي وكيفية مواجهة تلك المشكلة وحلولها.



ثالثاً: قارن بين خطوط الطول ودوائر العرض من حيث الفائدة .

خطوط الطول ودوائر العرض	خطوط الطول	دوائر العرض
الفائدة	تحديد الوقت	معرفة المناخ

رابعاً: أذكر اثنتين من الهضاب في الوطن العربي؟

١/ هضبة نجد

٢/ هضبة حضرموت


خامساً: أكتب أمام كل صورة المفهوم المناخي الدال عليها:



مطر



غائم جزئياً




سادسا: ما الأسلوب الواضح في الصورة
والذي استخدمه سكان الجبل الأخضر
لممارسة الزراعة؟

أسلوب المدرجات الزراعية

سابعا: "لا يعاني الوطن العربي من العجز المائي"
هل هذه العبارة صحيحة أم خاطئة؟ أبدى رأيك

عبارة خاطئة، لأن الوطن العربي يعاني من مشكلة نقص المياه

ثامنا: حدد نوع السهل الواضح في الصورة
المقابلة.



سهل ساحلي

الأسئلة المقالية

الوحدة الثانية

أولاً: أقرأ النص التالي ثم أكمل الجدول الذي يليه.

"...ومن الشخصيات العمانية في عهد النبوة الصحابي زهير بن قرضم المهري وهو من مدينة مرباط. ألتقى بالنبى صلى الله عليه وسلم وأسلم على يديه وتوفي وهو على دين الإسلام. أما التابعى كعب بن سور الأزدي فهو من مدينة دبا والتقى بالصحابة رضوان الله عليهم شارك في الفتوحات الإسلامية وتولى قضاء مدينة البصرة في عهد الخليفة عمر بن الخطاب رضي الله عنه..."

وجه المقارنة	زهير بن قرضم المهري	كعب بن سور الأزدي
المدينة التي ينتمي إليها	مرباط	دبا
الفترة الزمنية	عهد النبوة	عهد الخلافة الراشدة

ثانياً: من هو مصقلة بن رقة؟

خطيب عماني عاش قبيل الإسلام اشتهر بالفصاحة والبلاغة

ثالثاً: أكمل البطاقة التعريفية بالشخصية التالية :-

الاسم:	الصحابي كعب بن برشة الطاحي
المدينة:	صحار.....
الأعمال:	التقى بالرسول ﷺ في المدينة المنورة وآمن به، ثم عاد إلى عُمان داعياً أهلها إلى الإسلام.
الصفات:	اطلاعه على الكتب السماوية ومعرفة اللغة الفارسية.....

رابعاً: اكتب المصطلح الدال على العبارات التالية:
أ/ اسواق سنوية يتم تبادل السلع والبضائع المختلفة وتقام فيها الملتقيات الادبية.

أسواق العرب

ب/ الاسم الذي يطلق على ظفار قديماً

شحر عمان

خامساً: فسر، يطلق على كعب بن سور مسمى التابعي.

لأن أسلم والتقى بالصحابه ولم يلتقي بالرسول صلى الله عليه وسلم

سادساً: مرور السفن القادمة من الهند والصين بالموانئ العمانية قبل توجهها إلى موانئ الخليج العربي، وضح هذه العبارة؟
للراحة والتزود بالماء والطعام، ولأنها أقرب للهند والصين من موانئ الخليج العربي

سابعاً: استنتج: اسباب اهتمام العمانيين بعلم الملاحة البحرية.
بسبب تميز بعض المدن العمانية بتجارها البحرية مع عدد من الحضارات والدول الأخرى

الأسئلة المقالية

الوحدة الثالثة

أولاً: تعد الأسرة أساس بناء المجتمع لذلك اهتم الإسلام بها واقامها على اسس اذكر اثنين من هذه الاسس:

١/ رعاية الأطفال واعدادهم للحياة

٢/ غرس العادات الحسنة والأخلاق الحميدة

ثانياً: أنظر إلى الصورة المقابلة ثم أجب عن الأسئلة التي تليها؟

1-ماذا تعني هذه الإشارة؟



المكان مخصص لذوي الإعاقة

تم تحميل هذا الملف من

2- ما واجبي تجاه الأشخاص الذين تخدمهم هذه الإشارة؟

احترامهم وعدم استخدام الأماكن المخصصة لهم

ثالثاً: وضح أهمية جائزة السلطان قابوس طيب الله ثراه للعمل التطوعي.

١/ نشر ثقافة العمل التطوعي في سلطنة عمان.

٢/ إبراز دور مؤسسات المجتمع المدني والأفراد في مجال العمل التطوعي

رابعاً: اكتب المصطلح امام العبارة التالية:

(عمل اجتماعي غير ربحي يقوم به الافراد او الجماعات لتحقيق منفع للمجتمع)

العمل التطوعي

خامساً: عدد أشكال العمل الاجتماعي؟

١/ التعاون

٢/ التكافل الإجتماعي



سادساً: تأمل الصورة التالية، ثم استنتج مظهر العمل الاجتماعي الذي توضحه الصورة:

تعاون الصيادين في استخراج الأسماك
من شباك الصيد