

تم تحميل هذا الملف من موقع المناهج العُمانية



*للحصول على أوراق عمل لجميع الصفوف وجميع المواد اضغط هنا

<https://almanahj.com/om>

* للحصول على أوراق عمل لجميع مواد الصف الخامس اضغط هنا

<https://almanahj.com/om/5>

* للحصول على جميع أوراق الصف الخامس في مادة اجتماعيات ولجميع الفصول, اضغط هنا

<https://almanahj.com/om/5social>

* للحصول على أوراق عمل لجميع مواد الصف الخامس في مادة اجتماعيات الخاصة بـ الفصل الأول اضغط هنا

<https://almanahj.com/om/5social1>


* لتحميل كتب جميع المواد في جميع الفصول للـ الصف الخامس اضغط هنا

<https://almanahj.com/om/grade5>

* لتحميل جميع ملفات المدرس علي بن محمد الحسان اضغط هنا

للتحدث إلى بوت على تلغرام: اضغط هنا

https://t.me/omcourse_bot



مذكرة إثرائية لمادة
الدراسات الاجتماعية

2020-2021

الصف الخامس

الفصل الدراسي الأول
الوحدة الأولى

أسئلة

إعداد :

علي بن محمد الحسان

للتواصل :

99493923

Ali 47536@moe.om

درس : موقع للوطن العربي**السؤال الأول : ضع علامة (✓) أو (X) أمام العبارة المناسبة مع تصحيح ما تمته خط إذا كانت العبارة خطأ .**

- ١- () دوائر العرض وخطوط الطول هي خطوط حقيقية على الكره الأرضية .
- ٢- () تقع سلطنة عمان من الوطن العربي في أقصى الشمال .
- ٣- () تشرف سلطنة عمان على مدخل الخليج العربي عبر مضيق باب المندب .
- ٤- () يمر بسلطنة عمان مدار السرطان .

السؤال الثاني : ضع دائرة حول الإجابة الصحيحة من بين البدائل المعطاه .

١- تقدر مساحة الوطن العربي حوالي
(١٣,٥ - ١٤,٥ - ١٥,٥) مليون كم ٢

٢- يضم الوطن العربي دولة عربية .
(٢٠ - ٢١ - ٢٢)

٣- دوائر العرض هي دوائر مكتملة يبلغ عددها
(١٨٠ - ١٦٠ - ١٤٠)

٤- خطوط الطول عبارة عن أنصاف دوائر يبلغ عددها
(٣٨٠ - ٣٦٠ - ٣٤٠)

٥- درجة دائرة الاستواء وخط غرينتش هو
(صفر - ١٠ - ٢٠)

السؤال الثالث : أكمل الجدول التالي بعمل مقارنه بين خطوط الطول ودوائر العرض في المجالات التالية :

دوائر العرض	خطوط الطول	مجال المقارنة
		شكلها
		عددها
		الدائره الرئيسية
		درجة الحرارة
		الاتجاه
		فائدته

السؤال الرابع : أكمل مايلي بعبارات مناسبة من عندك .

- ١- يعيش العرب على مساحة واسعة من الأرض تعرف بـ
- ٢- من الخصائص والسمات المشتركة بين أبناء الوطن العربي الدين واللغة والتاريخ
- ٣- المحيطان اللذان يطل عليهما الوطن العربي هما المحيط والمحيط
- ٤- البحار التي يطل عليها الوطن العربي بحر وبحر والبحر والبحر
- ٥ - المضائق والممرات التي يشرف عليها الوطن العربي مضيق ومضيق باب ومضيق جبل

السؤال الخامس : (لموقع الوطن العربي أهمية كبيرة) : أكمل الجدول بأهميته في المجالات التالية :

جغرافيا	اقتصاديا	حضاريا

السؤال السادس : اجب عن الأسئلة التالية :

س ١ : ماذا يقصد بالموقع الجغرافي ؟

ج ١ :

س ٢ : ماذا يقصد بالموقع الفلكي ؟

ج ٢ :

س ٣ : " يعتبر الوطن العربي حلقة وصل بين ثلاث قارات " ماهي ؟

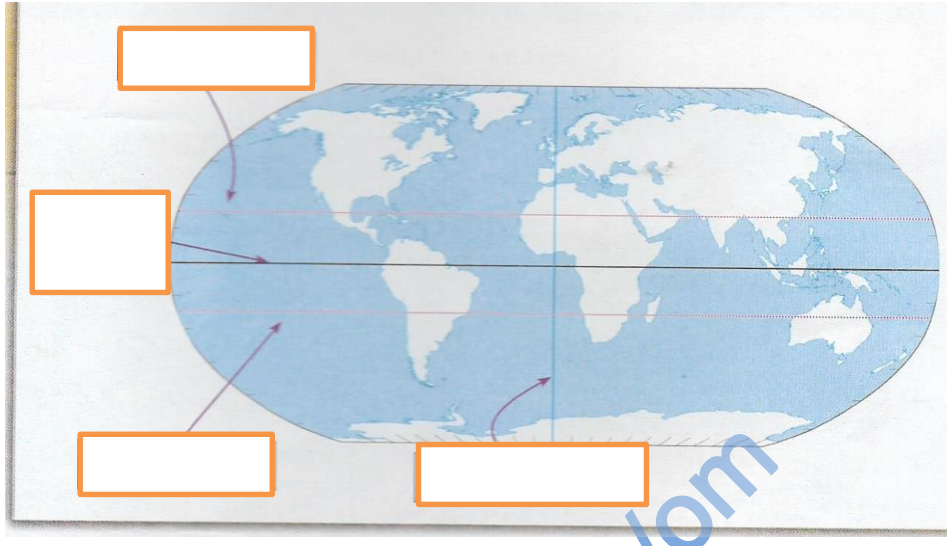
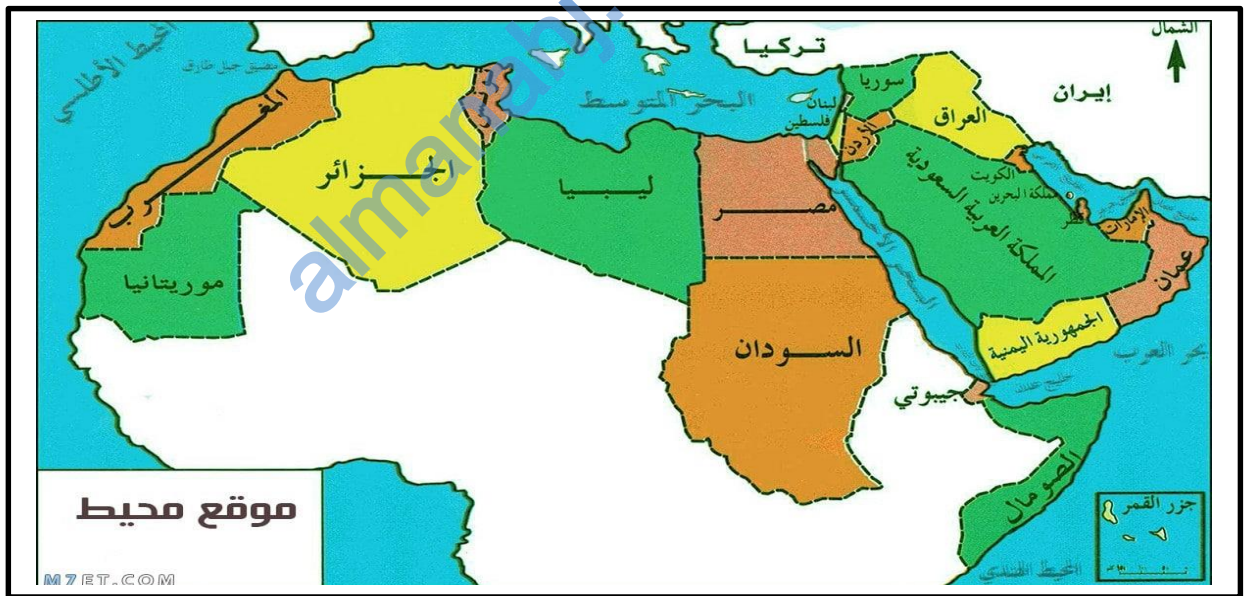
ج ٣ :

س ٤ : " تطل سلطنة عمان على ثلاثة مسطحات مائية " ماهي ؟

ج ٤ :

السؤال السابع : من خلال الخريطة التي أمامك ضع البيانات التالية في أماكنها الصحيحة

(دائرة الإستواء - مدار السرطان - مدار الجدي - خط غرينتش)

**السؤال الثامن : من خلال الخريطة التي أمامك أكمل العبارات التالية :**

- ١ : يقع الوطن العربي في قارتي و
- ٢ : عدد الدول العربية في قارة آسيا دولة وفي قارة في أفريقيا دول .
- ٣ : تقع سلطنة عمان وفلسطين في قارة أما مصر والمغرب فتقع في قارة
- ٤ : أكبر مساحة للوطن العربي تقع في قارة

درس: تضاريس الوطن العربي**السؤال الأول : ضع علامة (✓) أو (X) أمام العبارة المناسبة مع تصحيح ما تحته خط إذا كانت العبارة خطأ.**

- ١- () تغطي الصحاري مساحات متوسطة من أراضي الوطن العربي .
- ٢- () تشكل الكثبان الرملية خطراً على القرى والمزارع والطرق .
- ٣- () يستخرج النفط في الوقت الحاضر في سلطنة عمان من هضاب محافظة مسقط .
- ٤- () يختلف نمط حياة السكان في المناطق الجبلية عنه في المناطق السهلية أو المنخفضة .
- ٥- () بعض الجبال يزيد ارتفاعها عن ٤٠٠٠ متر مثل جبل طبقال في المغرب .

السؤال الثاني : ضع دائرة حول الإجابة الصحيحة من بين البدائل المعطاه

- ١- من أشهر السهول الساحلية في سلطنة عمان سهل
(الباطنة - جريبب - مسقط)
- ٢- تستغل السهول الساحلية منذ القدم في
(الصناعة - الزراعة - التجارة)
- ٣- الأراضي المنبسطة الواسعة المساحة وقليلة الانحدار يطلق عليها
(السهول - الهضاب - الجبال)
- ٤- من أبرز أنواع الصحاري إنتشاراً في الوطن العربي مايسمى بالصحاري
(الحجرية - الحصوية - الرملية)
- ٥- الذي يؤثر في شكل الكثبان الرملية وأحجامها هي
(الامطار - الانهار - الرياح)

السؤال الثالث : أكمل الفراغ بالكلمات المناسبة لها من بين القوسين :

(الواحات الزراعية - النفط - الزراعة والرعي)

من الهضاب في الوطن العربي هضبة حضرموت التي يمارس السكان فيها وهضبة نجد وتنتشر فيها وهضاب محافظة الوسطى في سلطنة عمان التي يستخرج منها

السؤال الرابع : أكمل الفقرة التالية بكلمات مناسبة .

يمتلك الوطن العربي بيئة جغرافية متنوعة التضاريس فقد حباها الله عز وجل بالسهول والصحاري
والجبال والهضاب

السؤال الخامس : على ماذا تدل الألوان التالية في الخريطة

- ١- اللون الأخضر
- ٢- اللون البني
- ٣- اللون الأصفر

السؤال السادس : أكتب بين القوسين المصطلح الدال على العبارات التالية .

- ١- (أراضي منبسطة " قليلة الإنحدار " ترتفع عما يجاورها من أراضي .)
- ٢- (عبارة عن تكوينات فيضية تترسب عند مصبات الأنهار .)

السؤال السابع : أكمل مايلي بكلمات مناسبة من عندك

- ١- تتنوع التضاريس في الوطن العربي لأسباب عدة منها موقعه الجغرافي و
- ٢- من أشهر الدلتا في الوطن العربي دلتا على ساحل البحر المتوسط ودلتا نهرى دجلة و على ساحل الخليج العربي
- ٣- من أشهر السهول الداخلية في سلطنة عمان توجد في محافظتي الظاهرة و
- ٤- من أبرز أنواع الصحاري إنتشاراً في الوطن العربي صحراء في شبه الجزيرة العربية و في شمالي إفريقيا.
- ٥- تنتشر الصحاري الرملية في أنحاء مختلفة من سلطنة عمان أهمها الربع الخالي ورمال
- ٦- من أهم الأشكال الرملية التي تظهر في الصحاري العربية الكثبان والكثبان
- ٧- يمارس السكان في هضبة اليمن الزراعة و
- ٨- من أشهر السلاسل الجبلية في سلطنة عمان سلسلة جبال ظفار وجبال
- ٩- استخدم سكان المناطق الجبلية المدرجات الزراعية مثل المدرجات الزراعية في اليمن ومدرجات في سلطنة عمان.

السؤال الثامن : علل " أذكر السبب "

س ١ : " استغلت السهول الساحلية منذ القدم في الزراعة "

ج ١ :

س ٢ : تعتبر السهول الرسوبية من أهم المناطق الزراعية

ج ٢ :

س ٣ : تركز السكان في الوطن العربي على ضفاف الأنهار ومناطق الدلتا

ج ٣ :

س ٤ : تتميز السهول الداخلية عموماً بانخفاض عدد السكان

ج ٤ :

س ٥ : استغلت بعض الجبال في الوطن العربي في السياحة .

ج ٥ :

السؤال التاسع : اجب عن الأسئلة التالية :س ١ : ماهي أشكال التضاريس الرئيسية في الوطن العربي ؟

ج ١ :

س ٢ : " يوجد في الوطن العربي عدة أنواع من السهول " أذكر أهم ثلاثة سهول ؟


ج ٢ :

س ٣ : مم تتكون السهول الساحلية في الوطن العربي ؟

ج ٣ :

السؤال العاشر : ماذا تمثل لك الصور التالية :**السؤال الحادي عشر : من خلال الرسمة التي أمامك ضع الأسماء التالية في أماكنها الصحيحة :**

(سهل - جبل - هضبة - نهر)



درس : " مناخ الوطن العربي "**السؤال الأول : ضع علامة (✓) أو (X) أمام العبارة المناسبة مع تصحيح ما تحته خط إذا كانت العبارة خطأ.**

- ١- () تعد المديرية العامة للأرصاد الجوية بالهيئة العامة للطيران المدني هي المسؤولة عن متابعة حالة الجو في السلطنة.
- ٢- () يعد الجبل الأخضر في سلطنة عمان مثلاً واضحاً لمناخ البحر المتوسط .
- ٣- () عند سقوط الأمطار في المناطق الصحراوية تكون غزيرة ولمدة طويلة من الزمن .
- ٤- () تسقط الأمطار في المناطق الموسمية في فصل الشتاء .
- ٥- () يسمى موسم هطول الأمطار صيفاً على جبال محافظة ظفار محلياً باسم الربيع .
- ٦- () تتميز المناطق الجبلية بأنها أقل حرارة من المناطق السهلية .
- ٧- () حالة الجو لفترة زمنية قصيرة لا تتجاوز عدة أيام فقط يقصد به المناخ .

السؤال الثاني : ضع دائرة حول الإجابة الصحيحة من بين البدائل المعطاه :

- ١- متوسط حالة الجو لفترة زمنية طويلة قد تكون شهراً أو فصلاً أو سنةً أو أكثر (الطقس - المناخ)
- ٢- تقع المساحة الكبرى من الوطن العربي في المنطقة (الحارة - المعتدلة)
- ٣- تقع سلطنة عمان في المنطقة (الحارة - المعتدلة) من العالم .
- ٤- تتميز المناطق الساحلية صيفاً بأنها (أقل - أكثر) حرارة من المناطق الداخلية .
- ٥- تعتبر الدول المطلة على البحر المتوسط مناطق (طرد - جذب) سياحي في فصل الصيف .
- ٦- يغطي المناخ الصحراوي مساحات (كبيرة - صغيرة) من أراضي الوطن العربي .
- ٧- أكثر المناطق الجبلية مطراً في فصل الصيف في سلطنة عمان (الجبل الأخضر - جبال ظفار)

السؤال الثالث : أكمل مايلي بكلمات مناسبة من عندك :

- ١- يساعد القرب من المسطحات المائية على درجة حرارة الجو في المناطق الساحلية صيفاً .
- ٢- المناطق المرتفعة تتميز درجات الحرارة في فصل الصيف .
- ٣- تتميز المناطق البعيدة عن البحر درجة الحرارة .
- ٤- يتميز مناخ البحر المتوسط بأنه حار وجاف ومعتدل ممطر
- ٥- يتركز المناخ الصحراوي في الوطن العربي حول مدار.....
- ٦- يتميز المناخ الصحراوي بارتفاع درجات الحرارة ومعدلات التبخر في فصل
- ٧- ينتج من سقوط الأمطار الفجائية في الصحراء تكون أودية جارفة و
- ٨- تسقط الأمطار في المناطق الموسمية بين شهري يوليو و
- ٩- يوجد المناخ الموسمي في سلطنة عمان في جبال

السؤال الرابع : علل " اذكر السبب " :

س ١ : تتباين درجة الحرارة والأمطار من مكان إلى آخر في الوطن العربي .

ج ١ :

س ٢ : تنشط السياحة في دول البحر المتوسط في فصل الصيف .

ج ٢ :

س ٣ : يتميز المناخ الموسمي بحرارته المعتدلة نسبيا صيفا مع ارتفاع معدلات سقوط الامطار بين شهري يوليو وأغسطس .

ج ٣ :

السؤال الخامس : اجب عن الأسئلة التالية :

س ١ : " يمكن متابعة حالة الطقس عن طريق عدة وسائل " أذكر ثلاث من هذه الوسائل ؟

ج ١ :





س ٢ : ماهي العوامل التي يتأثر بها المناخ في الوطن العربي .

ج ٢ :

س ٣ : " يظهر المناخ الموسمي في مناطق محدودة من الوطن العربي " أذكر هذه المناطق ؟

ج ٣ :

السؤال السادس : صل بخط بين الكلمة والصورة المناسبة لها :

الصورة	الكلمة
	صحو
	غانم كليا
	ممطر
	غانم جزئيا

:

السؤال السابع : أكتب في المربع في الشكل التالي نوع المناخ السائد في الوطن العربي

