

مراجعة شاملة للصف الخامس

في مادة الدراسات الاجتماعية

٢٠١٨ - ٢٠١٩ م



مدرسة شليم للتعليم الأساسي (١-١٢)

اعداد .الأستاذة شريفة المعشنية

الوحدة الأولى

جغرافية الوطن العربي الطبيعية



- الدرس الأول : موقع الوطن العربي .
- الدرس الثاني : تضاريس الوطن العربي .
- الدرس الثالث : مناخ الوطن العربي .
- الدرس الرابع : الموارد الطبيعية في الوطن العربي .



أولا : موقع الوطن العربي

نشاط (١)

١- ما اسم القارات التي يمتد فيها وطننا العربي

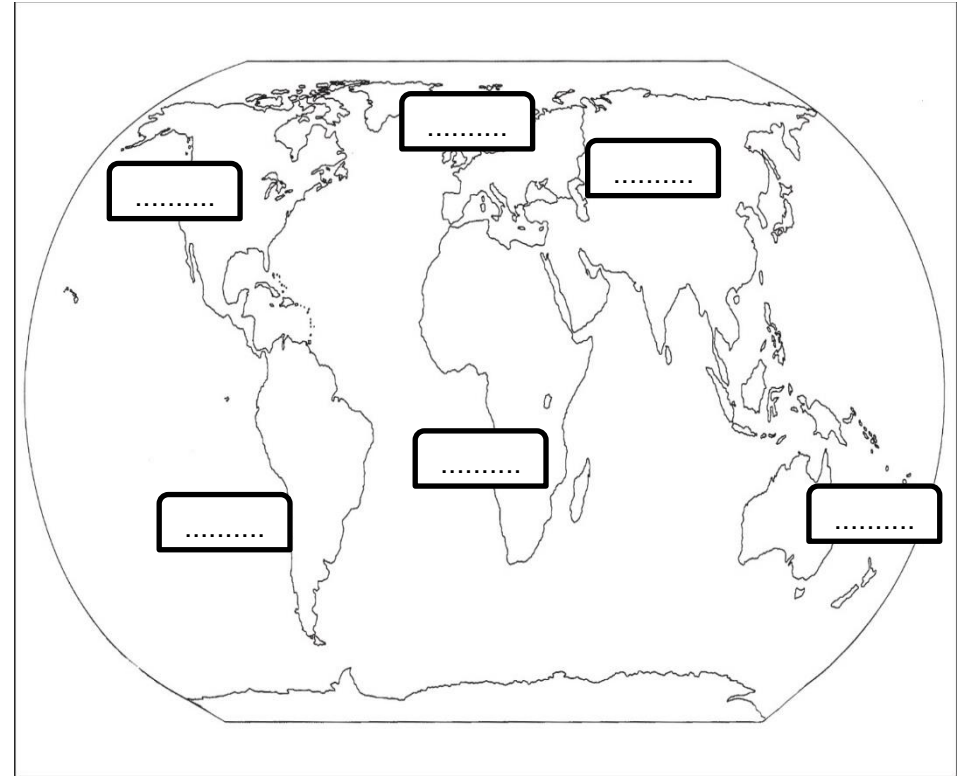
.....و.....

٢- ما موقع الوطن العربي بالنسبة لقارات العالم ؟

.....

٣- قم بتلوين الوطن العربي على الخريطة بلونك المفضل.

٤- قم بتدوين أسماء قارات العالم على الخريطة .





الدولة	اللغة الرسمية	الدين
سلطنة عمان	اللغة العربية	الإسلام
مملكة المغرب	اللغة العربية	الإسلام
مملكة الأردن	اللغة العربية	الإسلام

نشاط ٢



ماذا تستنتج من الجدول السابق؟

نستنتج أن سكان الوطن العربي :

تربطهم سمات وخصائص مثلو.....والتاريخ المشترك



نشاط ٣



ما البحر الذي يفصل الجناح الآسيوي
عن الجناح الأفريقي ؟

.....
.....



صنف الدول العربية الآسيوية والأفريقية في الجدول التالي :

													الدول العربية الآسيوية
													الدول العربية الأفريقية



نشاط ٤



فكر و لون

قم بتلوين الدول العربية الآسيوية باللون الأحمر والدول الأفريقية باللون الأخضر



نستنتج أن :

مجموع الدول العربية الآسيوية عددها

مجموع الدول العربية الأفريقية عددها

عدد دول الوطن العربي

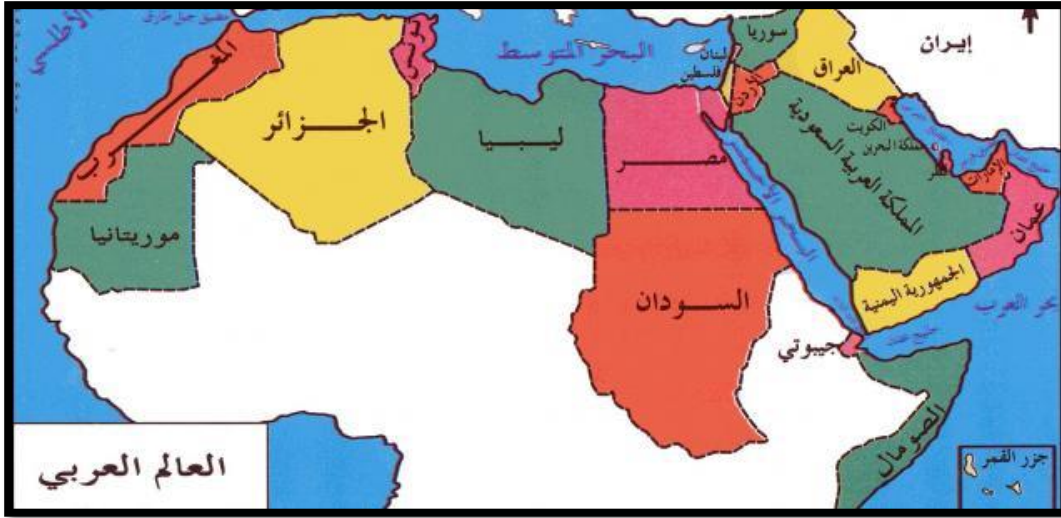
.....	أكبر دولة عربية من حيث المساحة
.....	أصغر دولة عربية من حيث المساحة



تساؤل: لماذا يتمتع الوطن العربي بموقع استراتيجي مهم تتجدد أهميته على مر العصور؟

نشاط ٥

الموقع الجغرافي للوطن العربي



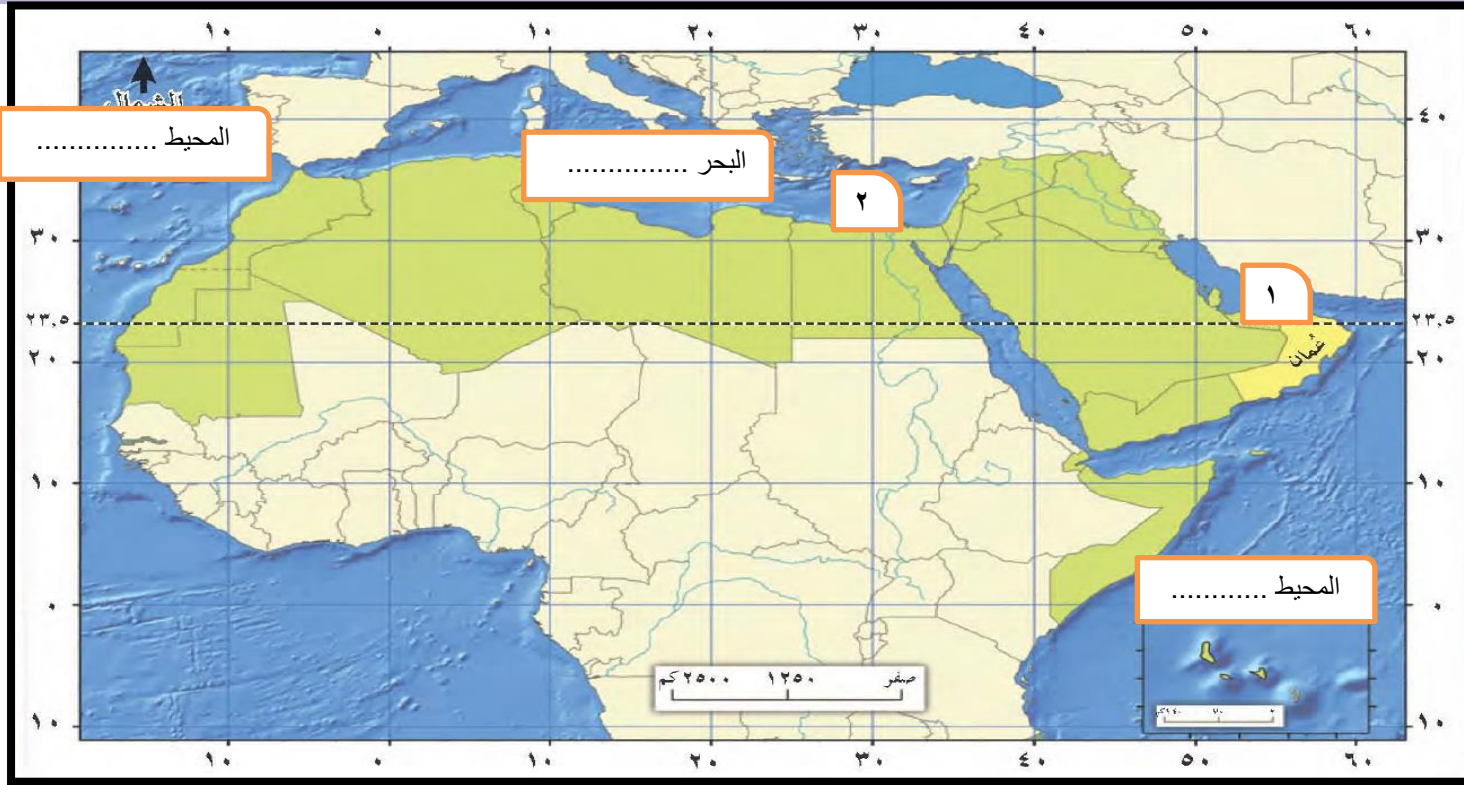
قارن بين

الموقع الجغرافي

الموقع الفلكي

إجابة التساؤل :

لأنه يقع في وسط العالم ويتحكم بمنافذ التجارة ويطل على عدة مسطحات مائية



نشاط ٦

مهارة التحديد
على الخريطة

- ١- يقع الوطن العربي في قارتي و.....
- ٢- يطل الوطن العربي على محيطين هما و.....
- ٣- تقدر مساحة الوطن العربي حوالي
- ٤- في أي قارة يمتد القسم الأكبر من الوطن العربي
- ٥- الخليج الذي يشير إليه بالرقم ١ على الخريطة هو
- ٦- يطلع الوطن العربي على عدة بحار مثل و..... و.....
- ٧- البحر الذي يحد الوطن العربي من جهة الشمال والمشار إليه بالرقم ٢
- ٨- البحر الذي يحد الوطن العربي من جهة الشرق
- ٩- تقع قناة السويس في



المضائق في الوطن العربي

مهارة تحليل
الخريطة

نشاط ٧





ادرس خريطة الوطن العربي ثم أجب على النشاط التالي :

نشاط ٨



مضيق

وهذا.....

المضيق يصل بين البحر

.....والمحيط

.....



قناة

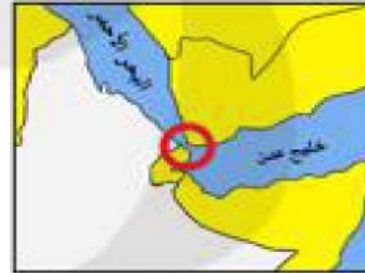
.....

وهذه القناة تصل بين البحر

.....

والبحر

.....



مضيق

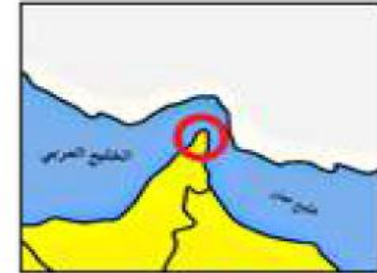
.....

وهذا المضيق يصل بين

.....خليج

والبحر

.....



مضيق

.....

وهذا المضيق يصل بين

.....الخليج

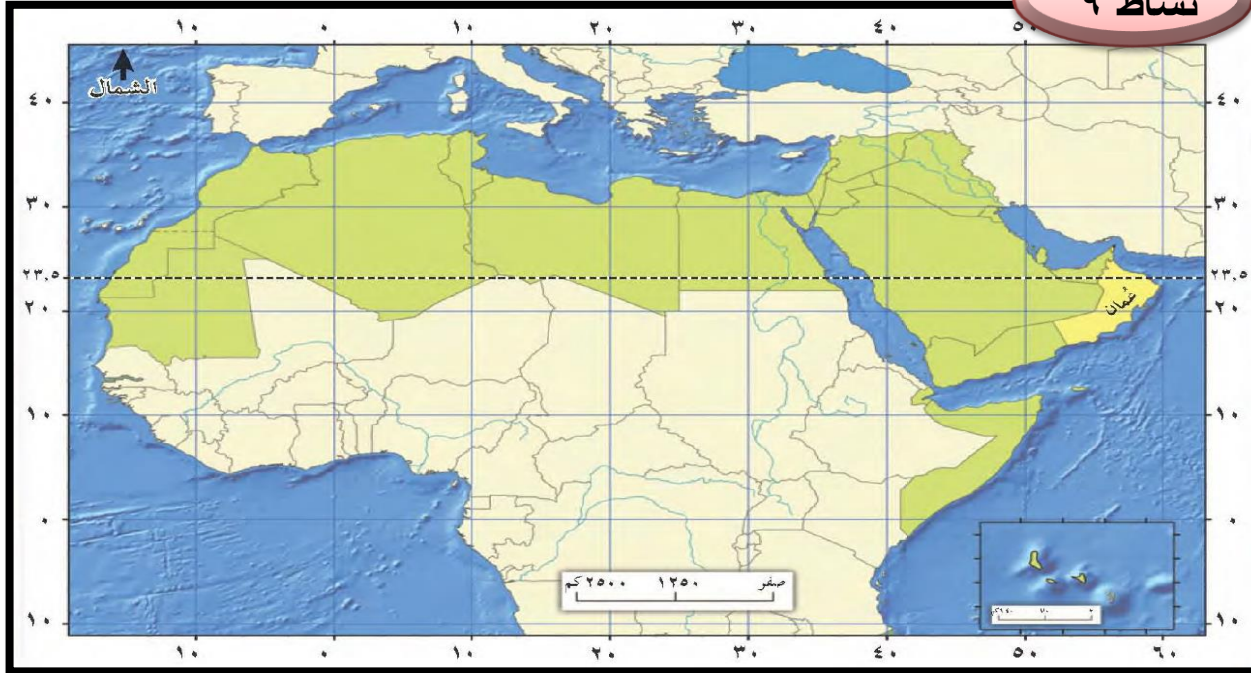
.....وبحر

.....



الموقع الفلكي للوطن العربي

نشاط ٩



مهارة التحديد
على الخريطة

١. يمر بسلطنة عمان مدار
٢. يمر خط جرينتش على دولة
٣. يمر السعودية خط طول شرق خط جرينتش.
٤. تقع دولة مصر في جهة من دائرة الاستواء .



- ١- تقع دولة الكويت على خط ٤٩ شرق جرينتش
- ٢- يحد بحر المتوسط ليبيا من جهة الشمال
- ٣- تقع المغرب غرب ليبيا
- ٤- يمر مدار السرطان على سلطنة عمان
- ٥- يقع خليج عدن شمال الصومال
- ٦- تمر دائرة الاستواء على الصومال

أنا أستطيع التمييز بين الموقع الفلكي والموقع الجغرافي .

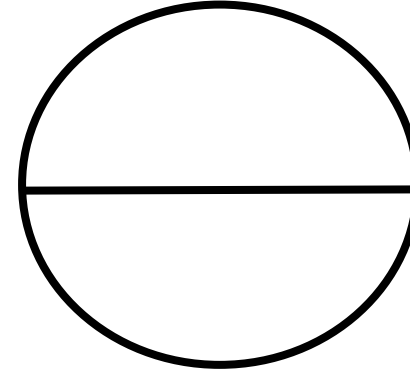

أكمل النشاط التالي وميز أيهما وصف لموقع فلكي وأيها وصف لموقع جغرافي ..



نشاط ١٠

ارسم خط
جرينتش

ما اسم خط الأساس في الدائرة
.....



قص والصق مايلي في مكانه الصحيح في الشكل التالي:



مدار الجدي

دائرة الاستواء

مدار السرطان

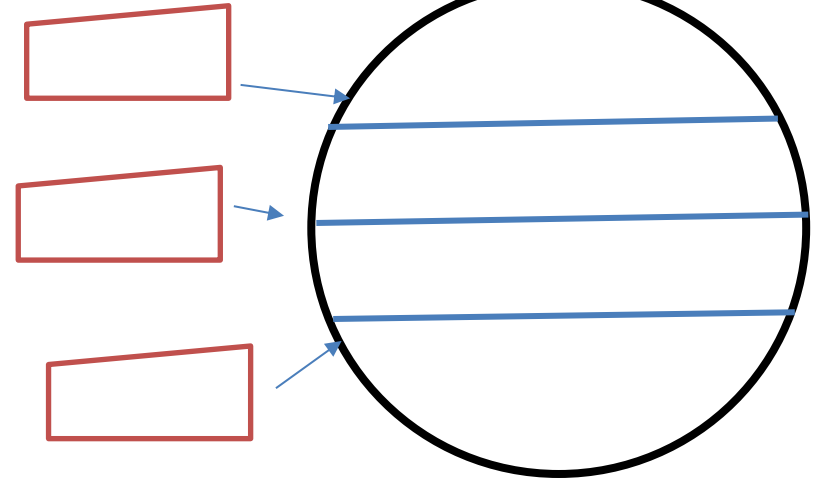
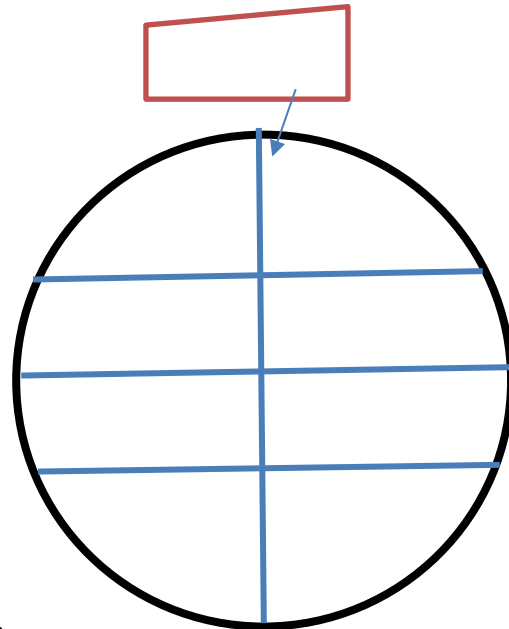
خط جرينتش

عدد خطوط الطول =

عدد دوائر العرض =

يفيدنا في معرفة المناخ
.....

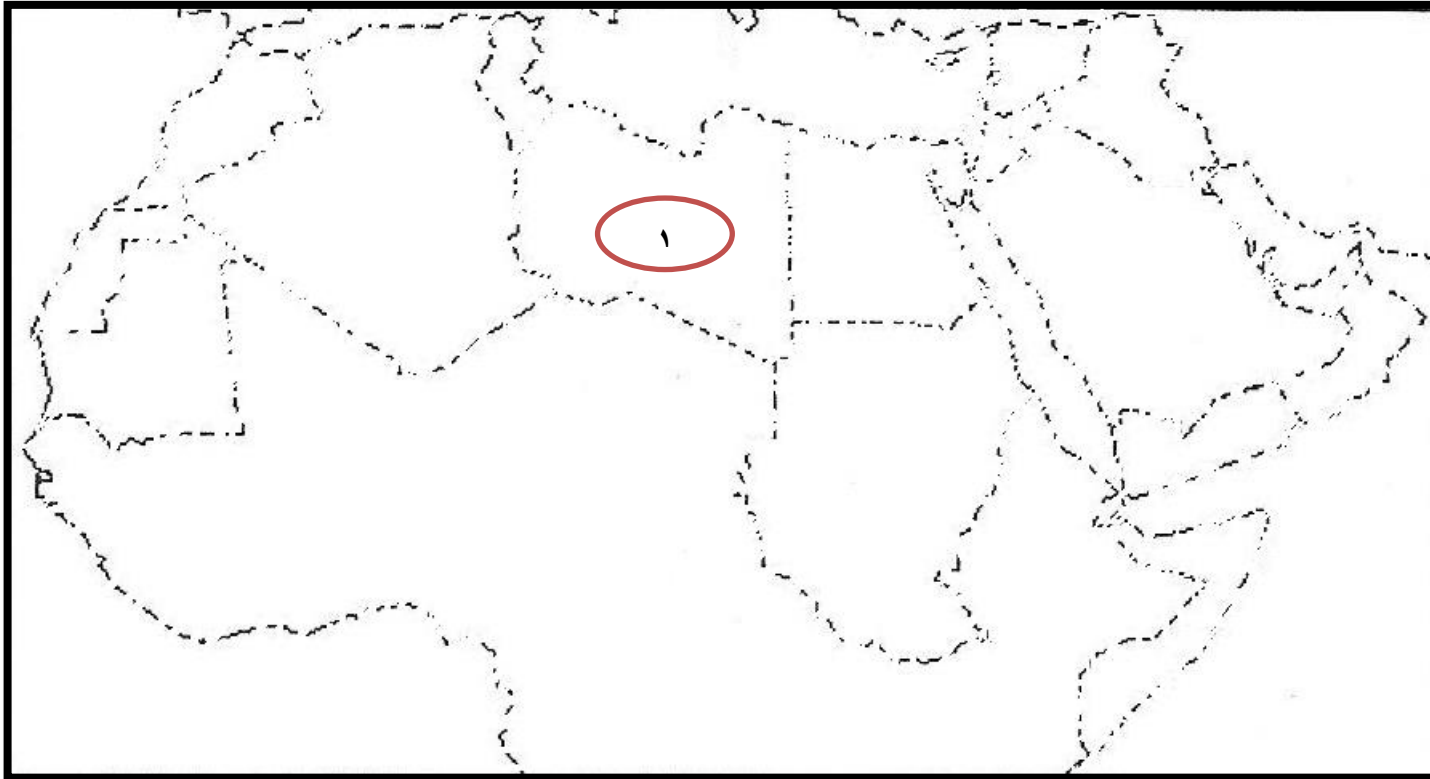
يفيدنا في تحديد الوقت
.....





التدريب على مهارة الخريطة

مهارة رسم
الخريطة



- ١ قم بتوصيل النقاط ثم استنتج الشكل الذي ظهر لك
- ٢ قم بتلوين المنطقة المشار إليها بالرقم ١ باللون المفضل لديك . ثم اكتب الاسم الذي ظهر لك



أراد محمد وخالد السفر من مطار مسقط الدولي إلى مطار تونس الدولي:

- هل تستطيع مساعدة محمد وخالد في رسم مسار رحلة الطائرة على الخريطة ؟
- أكتب أسماء الدول العربية التي سوف تمر الطائرة على أجوائها .
- يمكنك استخدام برنامج جوجل إيرث





التضاريس في الوطن العربي

ساعد خالد في التمييز بين التضاريس في الوطن العربي:



الهضاب	الجبال	السهول	أوجه المقارنة
			التعريف
			الرسم

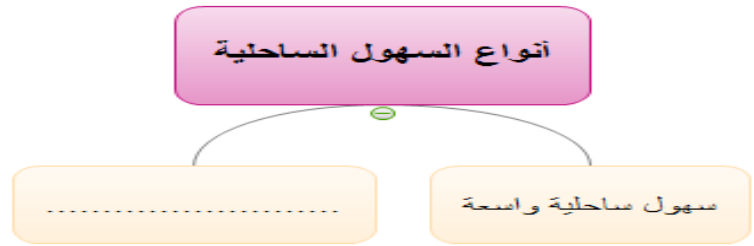


السهول في الوطن العربي

نشاط ١٤

السهول في الوطن العربي

-
-
-

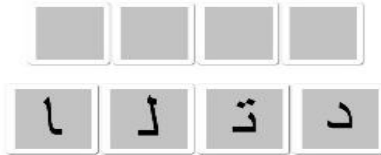


موقعها	تمتد بمحاذاة
مكوناتها	تتكون من مواد
أهميتها	منذ القدم كانت تستغل ل..... بسبب خصوبة أراضيها ، كما نشأت عليها المدن والموانئ التجارية .



نشاط ١٥

ادرس الصورة جيدا ثم اكتب اسم الشكل في
المربعات الموجودة أسفل الصورة من خلال
الحروف المبعثرة



عرف السهول الرسوبية (الفيضية):

عرف السهول الداخلية:



سهول تمتد على السواحل
تكون واسعة أو ضيقة
المساحة بسبب امتداد
الجبال بالقرب من
البحر:

سهول تقع بعيدا
عن الساحل
وتتميز
بانخفاض في
عدد السكان

سد حيا ل ا

ل حيا ل ا خ ل



تعد من أهم السهول وأكثر المناطق الزراعية
التي يتركز فيها السكان بسبب خصوبة تربتها
ووفرة المياه فيها



نشاط ١٧

قم بالصاق أسماء السهول في مكانها المناسب على الخريطة:



مهارة
الخريطة

يقع نهر دجلة في

دولة.....

يقع نهر النيل في

دولة

.....

سهول الساحلية لبحر الأحمر

سهول ليبيا

سهول نهر دجلة والفرات

سهل الباطنة



الصحاري في الوطن

قم بالصاق أسماء الصحاري في مكانها المناسب على الخريطة:



فكر

أكثر التضاريس التي تغطي مساحة واسعة من الوطن العربي هي:
.....

صحراء الجوف

صحراء الربع الخالي

صحراء النفود

صحراء الرمال العظيم



الهضاب في الوطن العربي

ميز بين أشكال الكثبان الرملية في الصحاري العربية



ساعد خالد في إيجاد حلول ليستخدمها لوقف مشكلة زحف الرمال في منطقتة :

.....*.....*



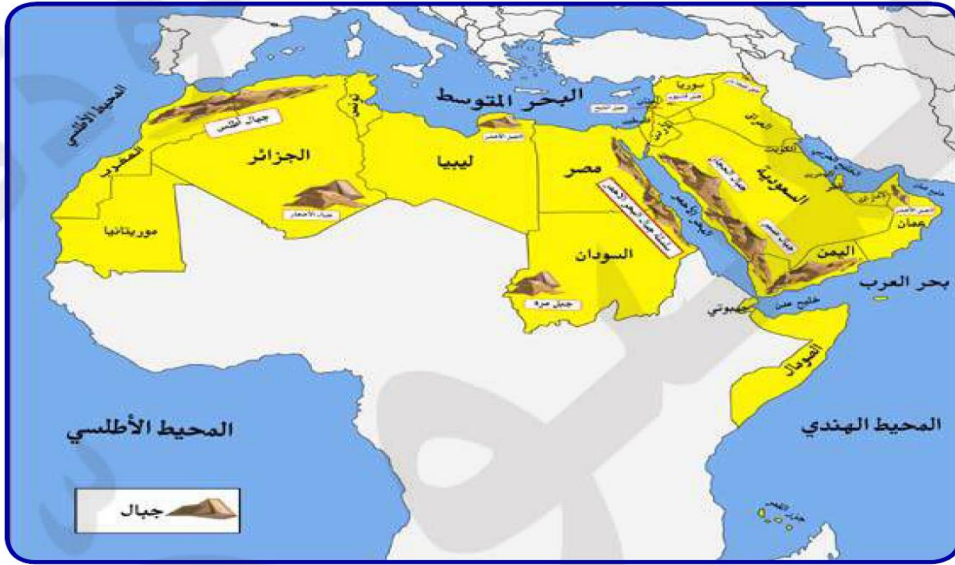
١. ادرس الخريطة ثم أجب عما يلي :

- ✓ تقع هضبة اليمن في
- ✓ تقع هضبة حضرموت في
- ✓ تقع هضبة محافظة الوسطى في



الجبال في الوطن العربي

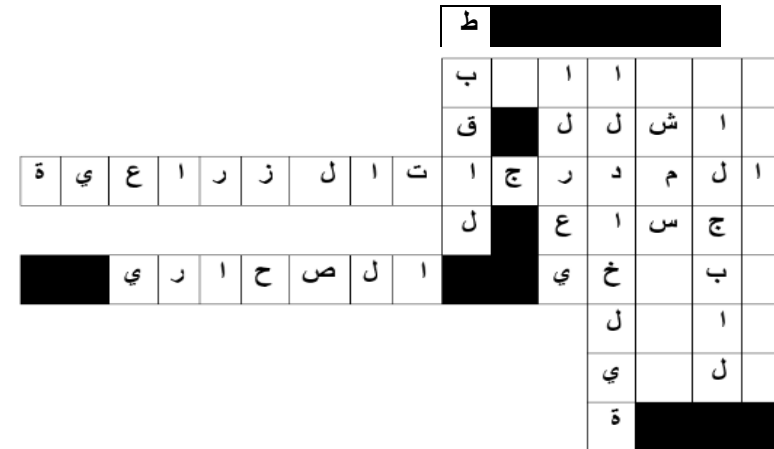
نشاط ٢١



ادرس الخريطة ثم أكمل الجدول التالي :

				اسم الجبل
				الدولة التي يوجد بها

- ١- تعتبر من أكثر التضاريس ارتفاعا .
- ٢- جبال يوجد في سلطنة عمان وهو من أكثر الجبال ارتفاعا في السلطنة .
- ٣- يعد من أكثر الجبال ارتفاعا في الوطن العربي .
- ٤- من أهم الأساليب التي استخدمها سكان الجبال للزراعة .
- ٥- المحافظة التي يوجد بها جبل الأخضر ...
- ٦- من المهن التي يمارسها سكان الجبال إضافة إلى الزراعة .
- ٧- أكثر التضاريس منتشرة في مساحة واسعة من الوطن العربي .





مناخ الوطن العربي

نشاط ٢٢

قارن بين الطقس والمناخ

المناخ

الطقس

من هي الجهة المسؤولة عن متابعة حالة الجو في السلطنة؟

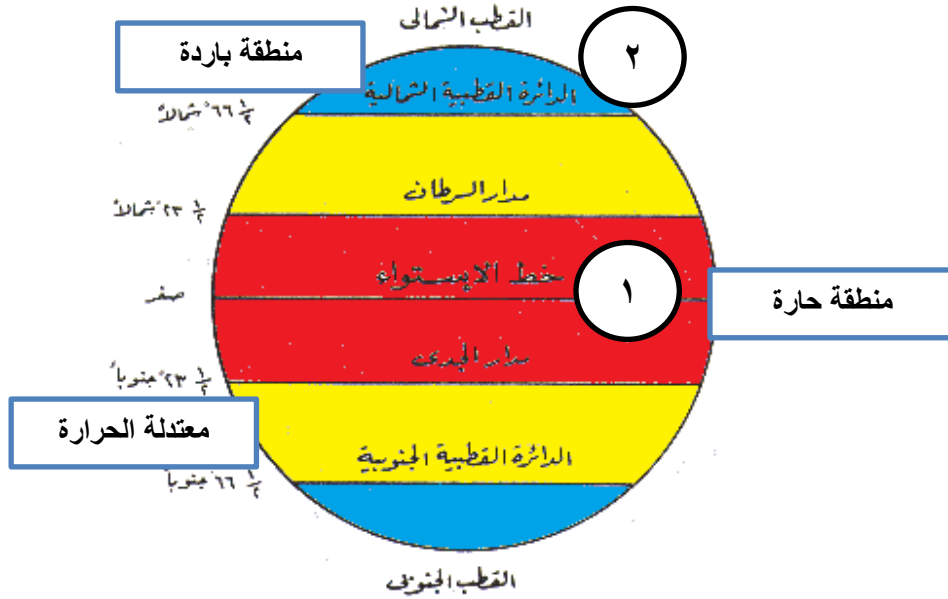
.....
.....
.....

.....
.....
.....



العوامل المؤثرة في المناخ

١- الموقع الفلكي :



يؤثر الموقع الفلكي على المناخ فالمناطق التي تسقط عليها أشعة الشمس بصورة عمودية ترتفع فيها درجات الحرارة مثل المنطقة الاستوائية المشار إليها بالرقم (١) في الشكل المقابل .
والمناطق التي تسقط عليها أشعة الشمس بصورة مائلة تنخفض فيها درجات الحرارة كما في المناطق القطبية المشار إليها بالرقم ٢ .
يمتد الوطن العربي بين دائرتي عرض ١٢ جنوباً و ٣٧,٥ شمالاً مما أدى إلى وقوع مساحة واسعة منه في المنطقة الحارة ، ومساحة أخرى في المنطقة المعتدلة .

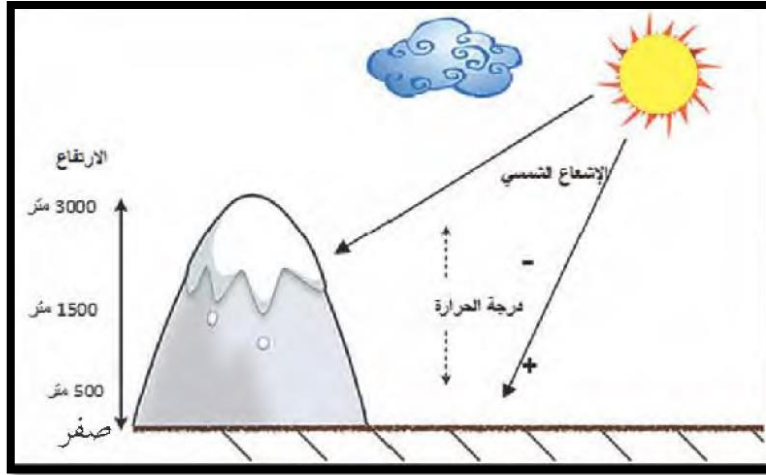
٢- توزيع اليابس والماء :

يؤثر القرب والبعد من المسطحات المائية في المناخ فالمناطق الساحلية أكثر اعتدالاً في الحرارة صيفاً وأدفاً في الشتاء .
بينما المناطق البعيدة من البحر تتميز بارتفاع في درجات الحرارة .






٣- التضاريس :



تؤثر التضاريس في المناخ بصورة مباشرة من ناحية (درجة الحرارة وتوزيع كمية الأمطار) ، فعلى سبيل المثال : ترتفع درجة الحرارة في بعض المدن مثل الرياض والقاهرة ، وتنخفض في بعض المناطق في الفصل نفسه في المناطق المرتفعة مثل جبال سوريا ، ولبنان .

نشاط ٢٣



١- المناطق القريبة من المنطقة الاستوائية تتميز بارتفاع في درجات الحرارة على مدار السنة . علل :

٢- ما العلاقة بين درجات الحرارة والارتفاع ؟

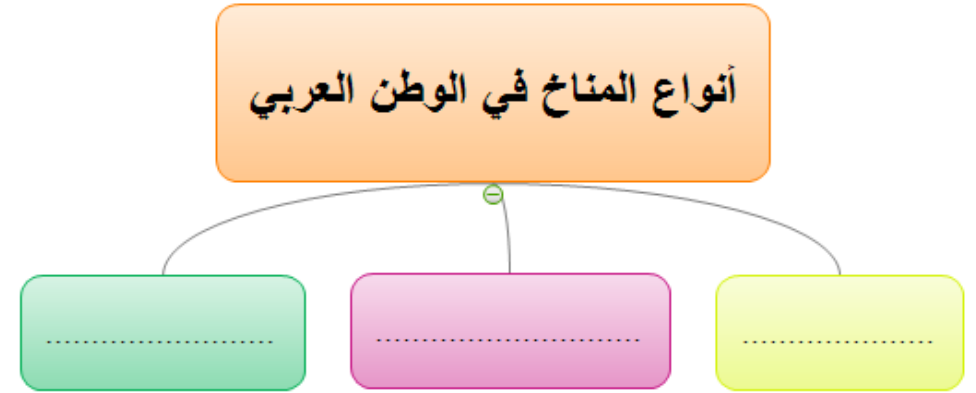
٣- تقع سلطنة عمان في المنطقة (الحارة - المعتدلة - الباردة) اختر الإجابة الصحيحة.



الدول العربية التي يظهر عليها مناخ البحر المتوسط

نشاط ٢٤

Four empty blue rounded rectangular boxes for writing answers.



١- علل : تسمية مناخ البحر المتوسط بهذا الاسم :

.....

٢- اذكر مميزات مناخ البحر المتوسط :

.....

.....

يظهر مناخ البحر المتوسط في سلطنة عمان في



قم بتظليل الدول التي يظهر عليها المناخ الصحراوي في الوطن العربي:





قم بتظليل المناطق التي يظهر عليها المناخ الموسمي في الوطن العربي:

يسمى موسم
سقوط الأمطار
على جبال
ظفار محليا
.....





نشاط ٢٧

الموارد الطبيعية في الوطن العربي

١-الموارد المائية

أنواع الموارد الطبيعية في الوطن العربي

النباتات الطبيعية

التربة

أنواع الموارد المائية في الوطن العربي

المياه السطحية في الوطن العربي

مؤقتة الجريان



- ١- يعد من أكبر السدود في سلطنة عمان
- ٢- يقع سد العالي في دولة
- ٣- عرف المياه السطحية :
- ٤- من الأمثلة على المياه الجوفية في السلطنة.....و.....
- ٥- فسر : يعاني الوطن العربي من مشكلة نقص المياه:



نشاط ٢٨

٢- التربة

أنواع التربة في الوطن العربي

.....

.....

.....

عرف المادة العضوية :

عرف التربة:

المشكلات التي تواجه التربة في الوطن العربي

.....

.....

.....

١- اذكر الحلول والمقترحات المناسبة لمشكلات التربة :

.....
.....

٢- تعد من الأشجار الضارة بالبيئة العمانية :

أ- السمر ب- السدر ج- المسكيت



نشاط ٢٩

٣-النباتات الطبيعية

١ عرف النباتات الطبيعية :

.....

٢ علل : تسمية النباتات الطبيعية بهذا الاسم

.....

٣ علل : قلة النبات الطبيعية في الصحاري.

.....

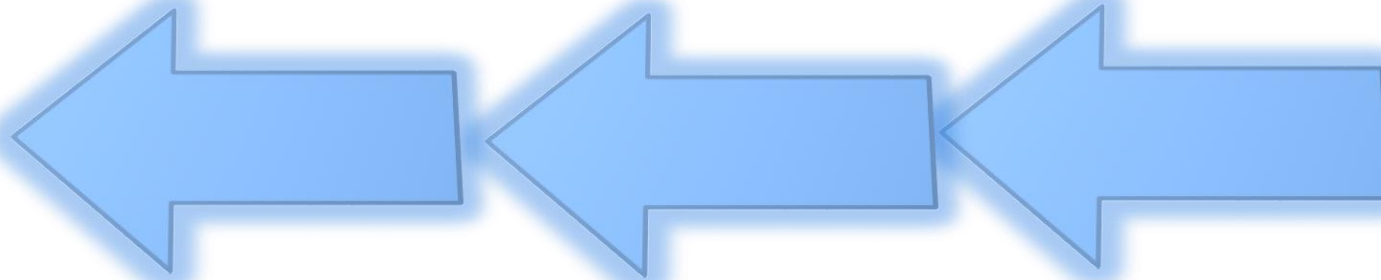
.....

.....

.....

أنواع النباتات في الوطن العربي

اذكر أهم المشكلات التي تواجه النباتات الطبيعية في الوطن العربي





الوحدة الثانية

عُمان قبيل الإسلام وحتى
نهاية عصر الخلفاء الراشدين



- الدرس الأول: عُمان وشبه الجزيرة العربية قبيل الإسلام .
- الدرس الثاني: مدن عُمانية فترة ظهور الإسلام .
- الدرس الثالث: شخصيات عُمانية في عهد النبوة والخلافة الراشدة .



نشاط ١

عمان وشبه الجزيرة العربية قبيل الإسلام

الحياة الاقتصادية

- ١- من المهن التي مارسها سكان شبه الجزيرة العربية
.....١
- ٢-٢
- ٣-٣
- ٢- تميزت بعض المدن مثل صحار ومرباط بتجارته البحرية وكانت أهم السلع التي تنتشر بها
.....١

الحياة السياسية

- ١- أحد أنظمة الحكم والإدارة في مناطق كثيرة من شبه الجزيرة العربية
.....
- ٢- قامت دول وممالك في مناطق أخرى من شبه الجزيرة العربية مثل (عمان و).
- ٣- كانت عاصمة عمان فترة ظهور الإسلام مدينة.....
- ٤- كان يحكم عمان فترة ظهور الإسلام ملوك.....

- ١- وقع على الخريطة عاصمة عمان فترة ظهور الإسلام
.....
- ٢- من الدول التي تجاور شبه الجزيرة العربية والمشار إليها بالرقم ١
.....
- ٣- من الدول التي تجاور شبه الجزيرة العربية والمشار إليها بالرقم ٢
.....
- ٤- من ممالك اليمن القديمة مملكة.....





نشاط ٢

الحياة الدينية والفكرية

١- من الديانات التي انتشرت في شبه الجزيرة :

١-.....

٢-.....

٣-.....

٢- فسر : كانت القبائل العربية تحج إلى مكة قبيل الإسلام .

.....

٣- من العلوم التي اهتم بها العرب قديما :

١-.....

٢-.....



أوجه المقارنة	الحياة البدوية	الحياة الحضرية
المسكن		
النشاط الاقتصادي		



نشاط ٣

مهارة
الخريطة

أكمل مايلي :

- ١- انتشرت الزراعة في بعض واحات شبه الجزيرة العربية قديما مثل (اليمامة) والتي تقع في.....كما تشير الخريطة.
- ٢- يطلق على بلاد فارس اليوم.....
- ٣- تعد الموطن الأول للعرب.....





نشاط ٤

مهارة
الخريطة



مدن عمانية فترة ظهور الإسلام

استعن بالخريطة ثم ساعد أحمد على تدوين أهم المدن العمانية التي ازدهرت فترة ظهور الإسلام . في المخطط التالي :

- ١- قم بتظليل وتوقيع اسم المحافظة التي كان يطلق عليها شحر عمان قديما على الخريطة.
- ٢- ضع الرمز ## على عاصمة عمان فترة ظهور الإسلام .
- ٣- ضع الرمز // على المدينة التي كان يقام بالقرب منها سوق شحر .
- ٤- ضع الرمز ○ على مدينة توأم توأم بوابة عمان .



نشاط ٥

شخصيات عمانية في عهد النبوة والخلافة الراشدة

أكمل المخطط التالي بما يناسبه :



١ عرف التابعي:

.....:

٢ عرف الصحابي:

.....

٣ تولى الخلافة عثمان بن عفان بعد.....

٤ ينتمي زهير بن قرضم المهري لمدينة.....

٥ ينتمي التابعي كعب الأزدى لمدينة.....

١ أول الخلفاء الراشدين.....

٢ امتد عصر الخلفاء الراشدين.....سنة.

٣ عاصمة الدولة الإسلامية في عهد النبوة والخلافة الراشدة.

٤ علل : يعد كعب بن برشه الطاحي أحد الصحابة رضوان
الله عليهم .

.....



الوحدة الثالثة

العمل الاجتماعي في بلادنا



- الدرس الأول: العمل الاجتماعي .
- الدرس الثاني: مظاهر العمل الاجتماعي .
- الدرس الثالث: مؤسسات العمل الاجتماعي



نشاط ١

صل بخط بين المفهوم والمصطلح بما يناسبه :

التكافل الاجتماعي

١- تقديم الخدمات للآخرين بصورة فردية أو من خلال جماعة منظمة حكومية .

المواطن الايجابي

٢- الفرد الذي يشعر بانتمائه لوطنه ، ويسهم في خدمته.

العمل الاجتماعي

٣- عمل مشترك يقوم به الأفراد والجماعات لتحقيق أهداف معينة .

التعاون

٤- رعاية ومساعدة أفراد المجتمع بعضهم لبعض ، لاسيما الفقراء والأيتام ، وكبار السن، والأشخاص ذوي الإعاقة .

العمل الاجتماعي

أشكال العمل الاجتماعي

.....

.....



نشاط ٢



شاهد الصورة ثم أجب عما يلي :

١- استنتج مظهر العمل الاجتماعي الذي توضحه الصورة:

.....

٢- عرف هذا المظهر :

.....

٣- ما مهمة كل من :

أ- الرجال :

ب- النساء :

مظاهر العمل الاجتماعي

مظاهر العمل الاجتماعي في المجتمع العماني

.....

.....

.....

.....

عرف السبلة العمانية :



مؤسسات العمل الاجتماعي

نشاط ٣

- ١- من الخدمات الاجتماعية التي تقدمها وزارة التنمية الاجتماعية معاش شهري يتم صرفه لفئات معينة من المواطنين يعرف بـ
- ٢- يعانون من نقص في بعض قدراتهم الذهنية أو الحسية أو الجسدية
- ٣- من الخدمات التي تقدمها مؤسسات المجتمع المدني
✓
✓
- ٤- عرف مؤسسات العمل المدني :
.....
- ٥- معهد عمر بن الخطاب للمكفوفين بولاية السيب من المراكز التابعة لوزارة :
أ- التنمية الاجتماعية ب- التربية والتعليم ج- الاسكان

١- تطور العمل الاجتماعي منذ فجر النهضة المباركة عام

٢- الوزارة المسؤولة عن العمل الاجتماعي في السلطنة هي وزارة

وتتعاون مع بعض المؤسسات الحكومية في الدولة لتقديم الخدمات مثل:

✓ وزارة

✓ وزارة

✓ وزارة

٣- الخدمات التي تقدمها وزارة التنمية لمختلف فئات المجتمع مثل :

✓ المساعدات الاجتماعية .

✓

✓



نشاط ٤



انظر إلى الصورة المقابلة ثم أجب عما يلي :

١- على ماذا يدل هذا الشعار ؟

٢- إلى ماذا تهدف هذه الجائزة ؟

٣- من وجهة نظرك ما أهمية العمل التطوعي للفرد للمجتمع :

انظر إلى الصورة المقابلة ثم أجب عما يلي :

٤- أين أشاهد هذه الإشارة ؟

٥- ماذا تعني هذه الإشارة ؟

٦- ما واجبي تجاه الأشخاص الذين تخدمهم هذه الإشارة؟



تطبيق مهارات الخرائط



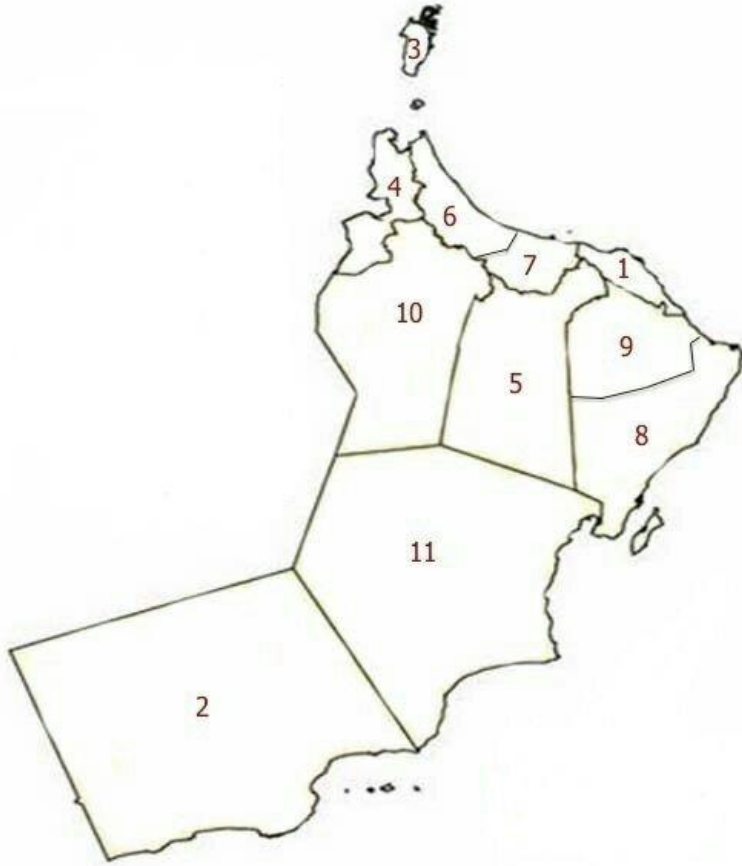


أسئلة عامة على الوحدة الأولى لتطبيق
مهارة الخريطة

مهارة
الخريطة

ادرس خريطة سلطنة عمان ، ثم أجب عما يلي :

- ١- تمر دائرة الاستواء على دولة ووقعها على الخريطة.
- ٢- الدولة العربية التي تقع في أقصى الشرق من الوطن العربي ظللها باللون الأخضر.
- ٣- دولة عربية يمر عليها خط جرينتش (حددها على الخريطة).
- ٤- المحيط الذي يقع على الغرب من الوطن العربي
- ٥- تطل سلطنة عمان على ثلاث مسطحات مائية (حددهم على الخريطة)
أ- ب- ج-
- ٦- الدولة التي تمر فيها قناة السويس هي
- ٧- المضيق الذي يصل بين بحر المتوسط والمحيط الأطلسي
- ٨- يصب نهر دجلة والفرات في دولة
- ٩- قم بتحديد هضبة نجد على الخريطة .



ادرس خريطة سلطنة عمان ، ثم أجب عما يلي :

١- المناخ الصحراوي يظهر في :

(أ- ٥ ب- ١١ ج- ٥)

٢- مناخ البحر المتوسط يظهر فيه :


(أ- ١١ ب- ٥ ج- ٢)

٣- المناخ الموسمي يظهر في :

(أ- ٢ ب- ١١ ج- ٥)




أسئلة عامة على الوحدة الثانية لتطبيق
مهارة الخريطة



ادرس خريطة سلطنة عمان ، ثم أجب عما يلي :

- ١- التجارة التي كانت تنشط في الميناء المشار إليه بالرمز ##.
- أ- الزيتون ب- الخيول ج- العاج
- ٢- المدينة التي ينتمي إليها التابعي كعب بن سور الأزدي..... والتي تقع في المحافظة المشار إليها بالرقم
- ٣- المدينة التي ينتمي إليها الصحابي زهير بن قرضم المهري..... والتي تقع في المحافظة المشار إليها بالرقم
- ٤- قم بتوقيع الرمز ## على المدينة التي ينتمي إليها القائد المهلب بن أبي صفرة .
- ٥- قم بتوقيع الرمز ☺ على المحافظة التي كان يطلق عليها قديما شحر عمان .
- ٦- البحر الذي تطل عليه مدينة مرباط
- ٧- حدد على الخريطة موقع مدينة صحار .




أسئلة عامة على الوحدة الثالثة لتطبيق مهارة الخريطة

مهارة الخريطة

درس خريطة سلطنة عمان ، ثم أجب عما يلي :

- ١٢- المحافظة التي يقع فيها معهد عمر بن الخطاب للمكفوفين يشير إليها الرقم
- ١٣- أحد مظاهر العمل الاجتماعي في بلادي موسم قطاف الورد في الجبل الأخضر:
أ- يقع الجبل الأخضر في محافظة
- ب- قم بتظليلها على الخريطة .
- ١٤- ضمن الجهود الإنسانية التي تقوم بها سلطنة عُمان في العمل الاجتماعي، الهيئة العُمانية للأعمال الخيرية .
أ- المقر الرئيسي لموقع الهيئة العامة للأعمال الخيرية محافظة
- ب- قم بتظليلها على الخريطة .



١- ارسم كل مما يلي على الشكل المقابل :

أ- دائرة الاستواء .

ب- خط جرينتش

ت- مدار السرطان

ث- مدار الجدي

٢- عدد خطوط الطول التي تقع شرق خط جرينتش تساوي

.....

٣- عدد خطوط الطول التي تقع غرب خط جرينتش تساوي

.....

٤- مجموع خطوط الطول تساوي

٥- مجموع دوائر العرض تساوي

٦-..... دائرة عرض تقع في شمال دائرة الاستواء

و..... دائرة عرض تقع في جنوب دائرة الإستواء .

٧-يساعدنا في تحديد الوقت

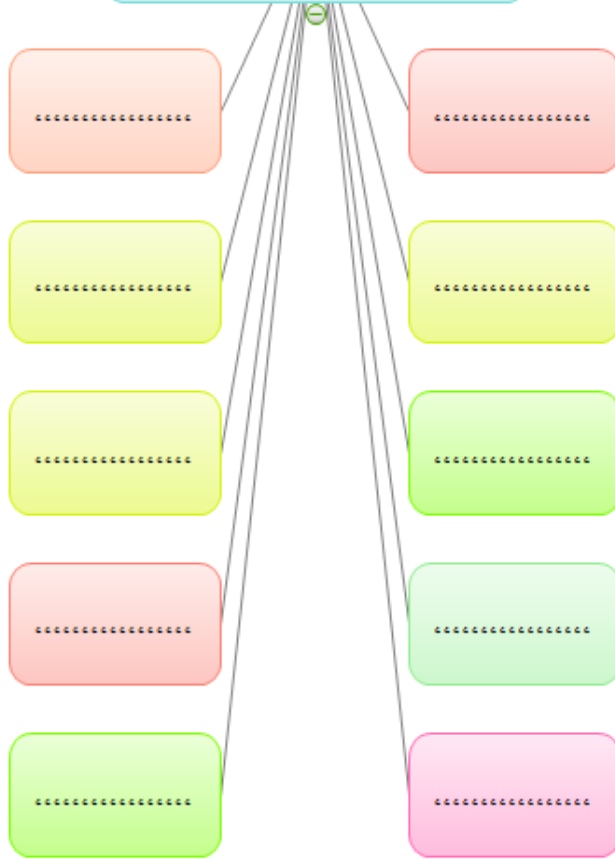
٨- يساعدنا في معرفة المناخ

الخرائط الذهنية

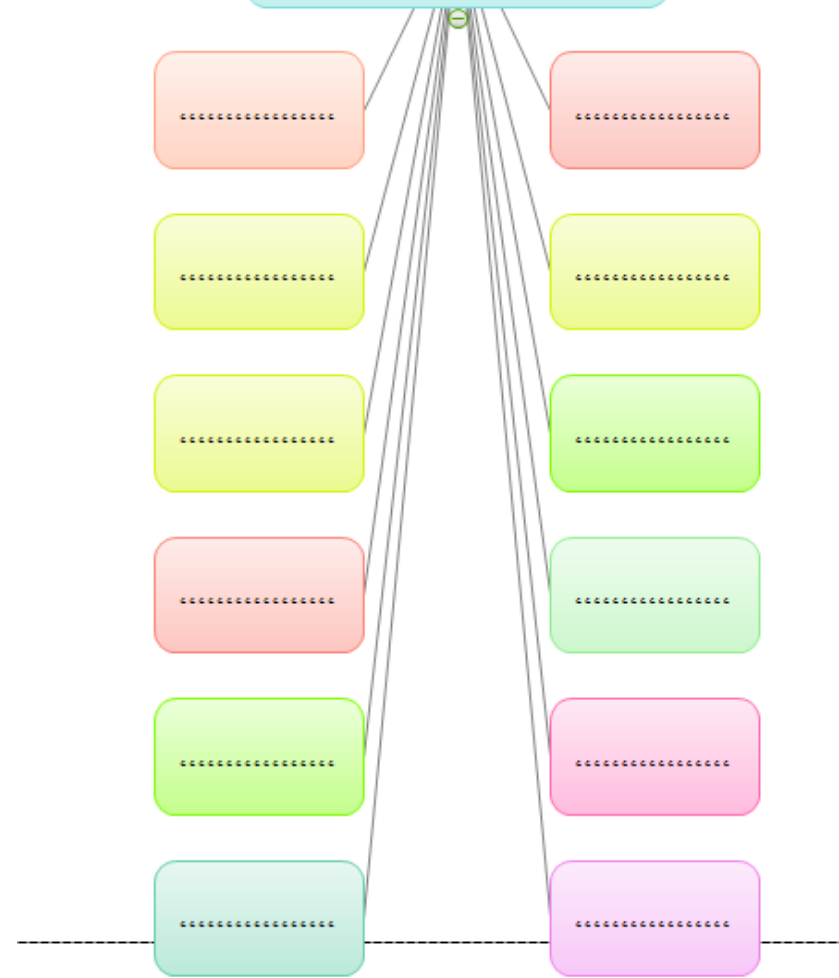


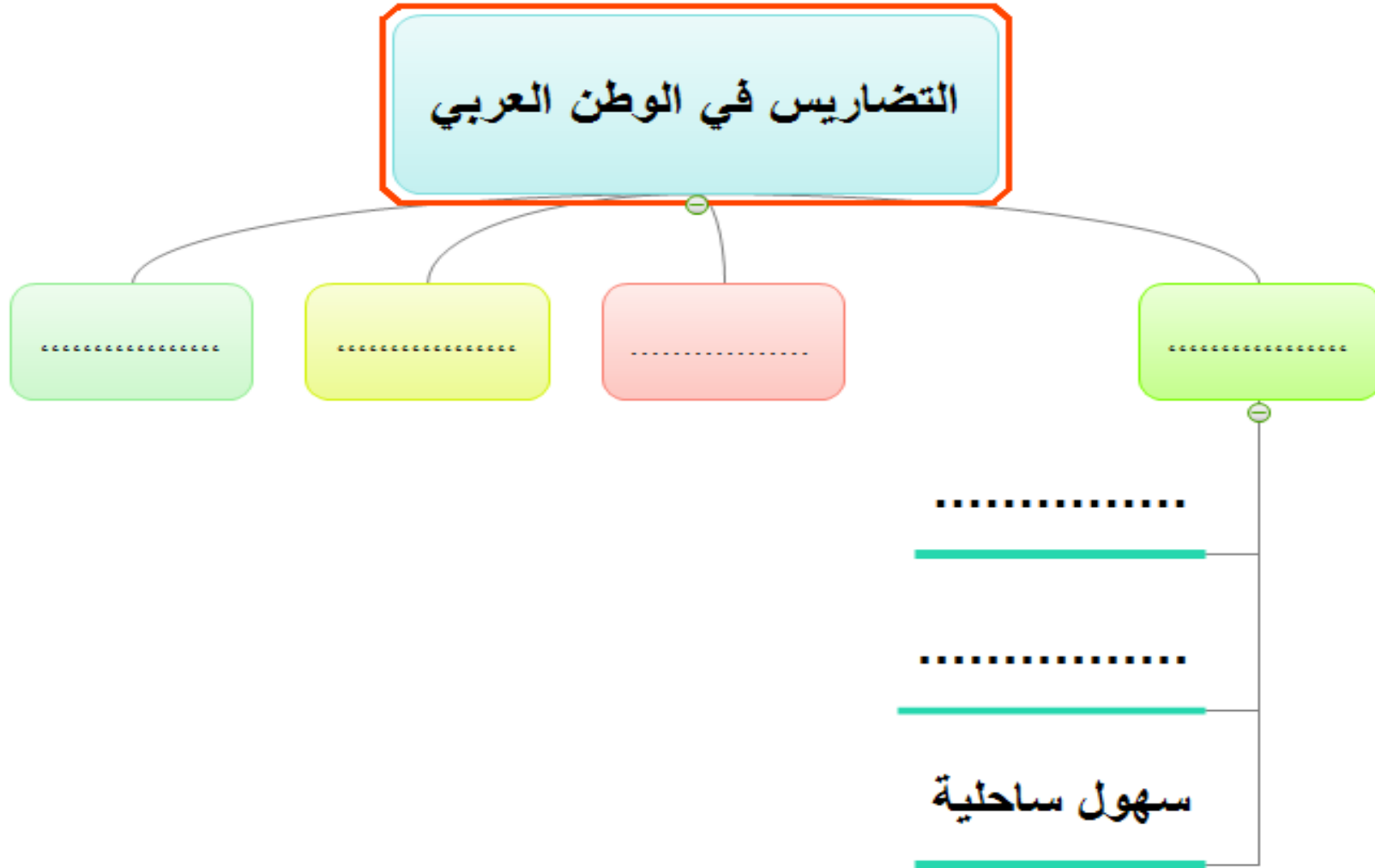


الدول العربية الأفريقية



الدول العربية الآسيوية







ارسم خريطة ذهنية لأنواع المناخ في الوطن العربي



ارسم خريطة ذهنية لأنواع النباتات في الوطن العربي