

تم تحميل هذا الملف من موقع المناهج العُمانية



* للحصول على أوراق عمل لجميع الصفوف وجميع المواد اضغط هنا

<https://almanahj.com/om>

* للحصول على أوراق عمل لجميع مواد الصف الخامس اضغط هنا

<https://almanahj.com/om/5>

* للحصول على جميع أوراق الصف الخامس في مادة اجتماعيات ولجميع الفصول, اضغط هنا

<https://almanahj.com/om/5social>

* للحصول على أوراق عمل لجميع مواد الصف الخامس في مادة اجتماعيات الخاصة بـ الفصل الأول اضغط هنا

<https://almanahj.com/om/5social1>

* لتحميل كتب جميع المواد في جميع الفصول للـ الصف الخامس اضغط هنا

<https://almanahj.com/om/grade5>

* لتحميل جميع ملفات المدرس نعيمة الصوافي اضغط هنا

للتحدث إلى بوت المناهج العُمانية على تلغرام: اضغط هنا

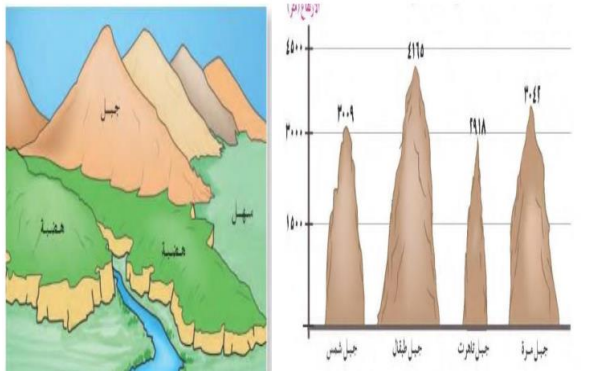
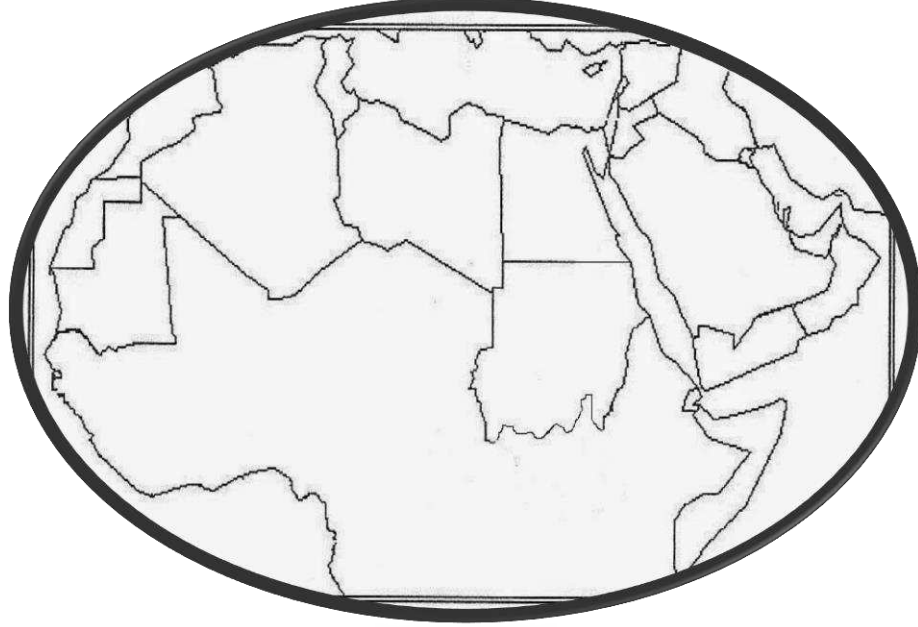
https://t.me/omcourse_bot

سلطنة عمان

وزارة التربية والتعليم

المديرية العامة للتربية والتعليم لمحافظة الظاهرة

مدرسة أمجاد عمان للتعليم الأساسي ٧ - ١



أنشطة الوحدة الأولى
للمستوى الخامس الأساسي

إعداد / الاستاذة نعيمة الصوافي

معلمة جغرافيا

عنوان الدرس / موقع الوطن العربي

ما الخصائص المشتركة التي تجمع سكان الوطن العربي

/١

/٢

/٣

/٤

أجب عن اسئلة الحوار
التالي

ما المقصود
بالموقع الجغرافي

ما المقصود
بالموقع الفلكي

كم تبلغ مساحة
الوطن العربي ؟
وكم عدد الدول
العامة


خطوط الطول ودوائر العرض

قارن بين خطوط الطول ودوائر العرض


دوائر العرض	خطوط الطول	وجه المقارنة
		المفهوم
		العدد
		الدائرة والخط الرئيسية
		الأهمية



ارسم في الشكل
المقابل خط
غرينتش



ارسم في الشكل
المقابل دوائر العرض



ضع الأهمية المناسبة في موقعها الصحيح



حضارية




جغرافية



اقتصادية

أهمية موقع الوطن العربي



الإجابة

سهل التواصل بين حضارات
الوطن العربي والحضارات
الأخرى في العالم


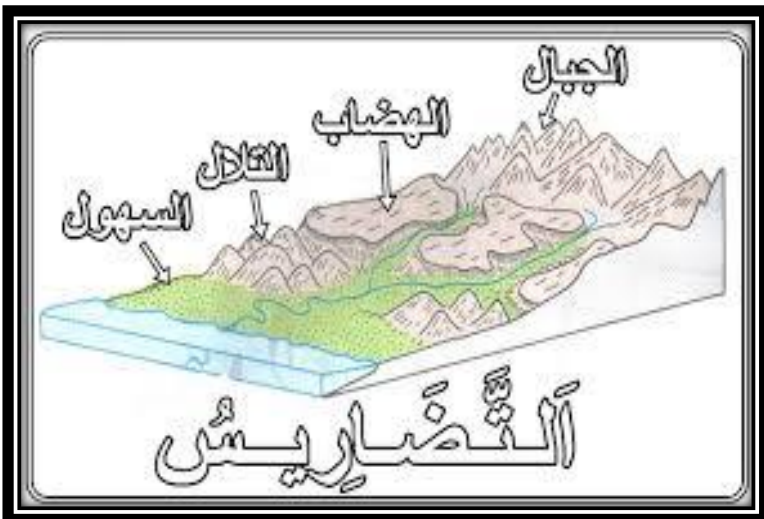


ساعد على إقامة العلاقات
التجارية مع دول العالم

يعتبر الوطن العربي
حلقة الوصل بين
قارات آسيا وأوروبا
وأفريقيا

التضاريس


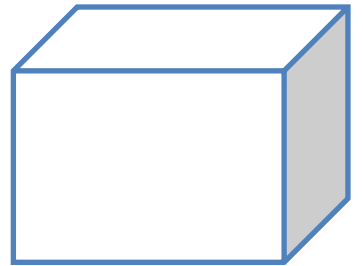

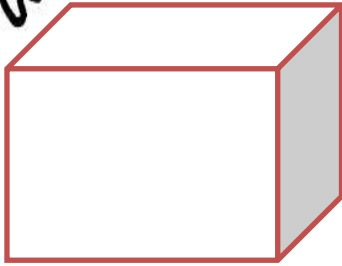

مفهومها /

أشكال التضاريس



تعريف السهول :


أنواع السهول



أكمل الجدول

	موقع السهول الساحلية
	أمثلة على السهول الساحلية
	المواد المكونة للسهول الساحلية
	الأعمال التي يمارسها سكان السهول الساحلية

ما السبب أن
بعض السهول
الساحلية تكون
ضيقة



أنواع السهول



السهول
الداخلية

السهول الرسوبية

السهول الساحلية

موقعها تقع بعيدا عن سواحل البحار
والمحيطات
تتصف بانخفاض عدد السكان بسبب
الجفاف وقلة الامطار

موقعها /

موقعها تمتد بمحاذاة
سواحل البحار

قد تكون واسعة
المساحة مثل سهل
الباطنة

مكوناتها من

قد تكون ضيقة
المساحة بسبب امتداد
الجبال من البحر مثل
سهول البحر الأحمر

مكوناتها

أهميتها /

أهميتها /



اكتب أسماء بعض
الصحاري في الوطن

أبرز الصحاري انتشاراً في الوطن
العربي

الرملية

الحصوية

لون الدائرة
الصحيحة

ارسم أشكال الكثبان الرملية

اقترح بعض الحلول لحل مشكلة زحف الرمال

عرف الهضاب

.....
.....
.....



اذكر أمثلة للهضاب في الوطن العربي

/١

/٢

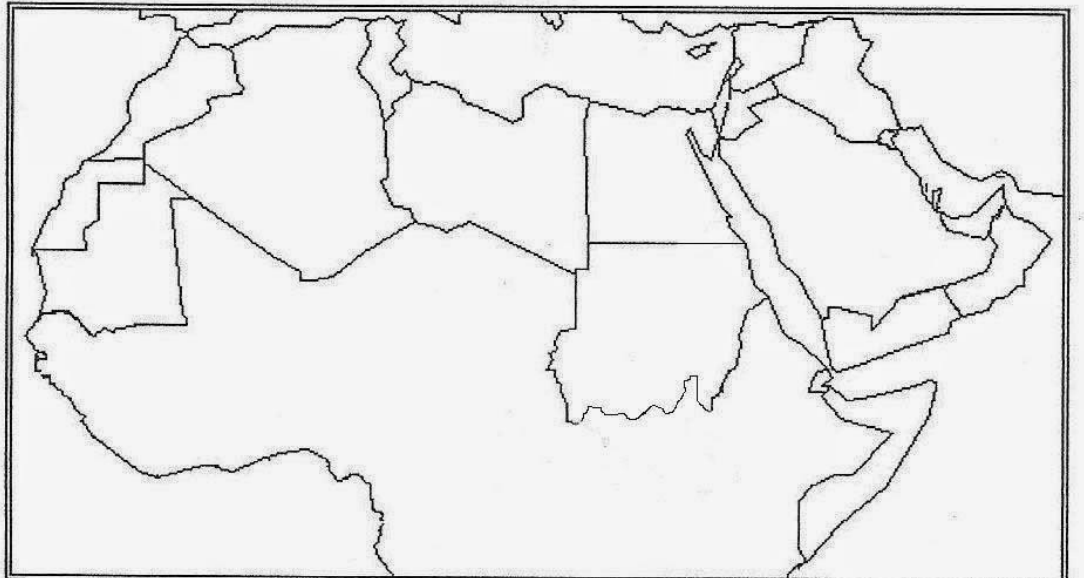
/٣



لون الدولة التي توجد فيها الهضاب التالية

/١ هضبة حزموت (باللون الأزرق)



/٢ هضبة نجد (باللون الأخضر)





قارن بين الطقس
والمناخ من حيث
المفهوم

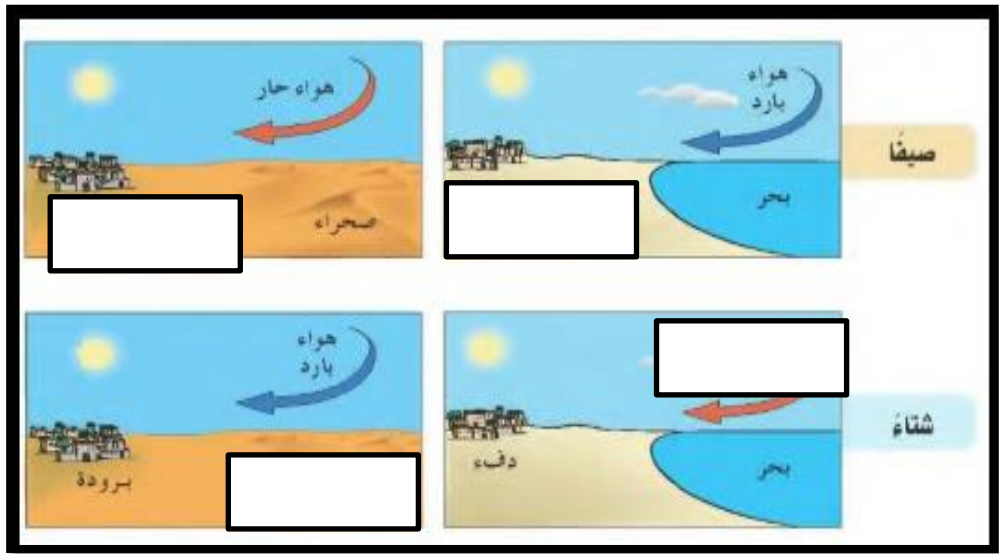
المناخ	الطقس	من حيث
		المفهوم



ما دلالة الرموز التالية

العوامل المؤثرة في المناخ

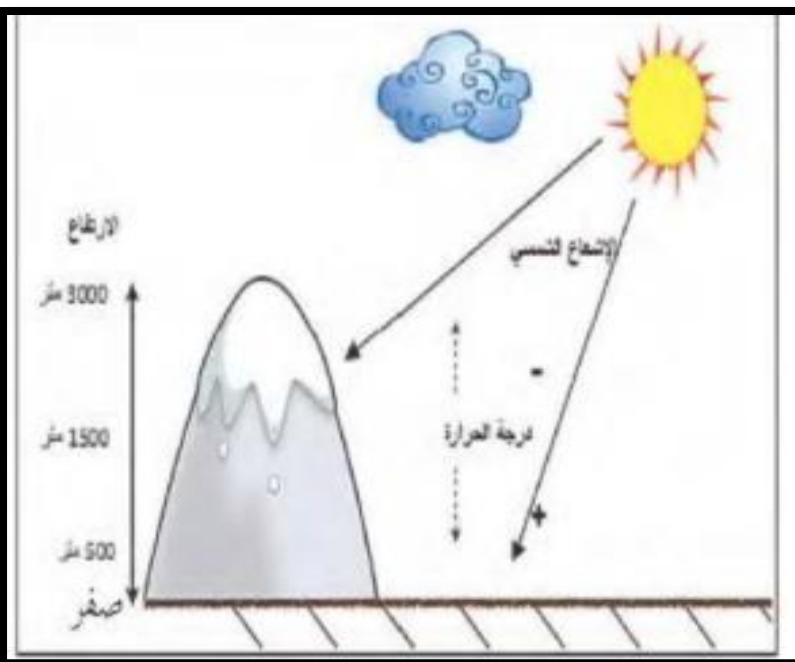
أكمل البيانات الناقصة في الشكل



ما العامل الظاهر في الصورة

ز.

بماذا يتميز المناخ في هذا المكان في فصل الصيف؟



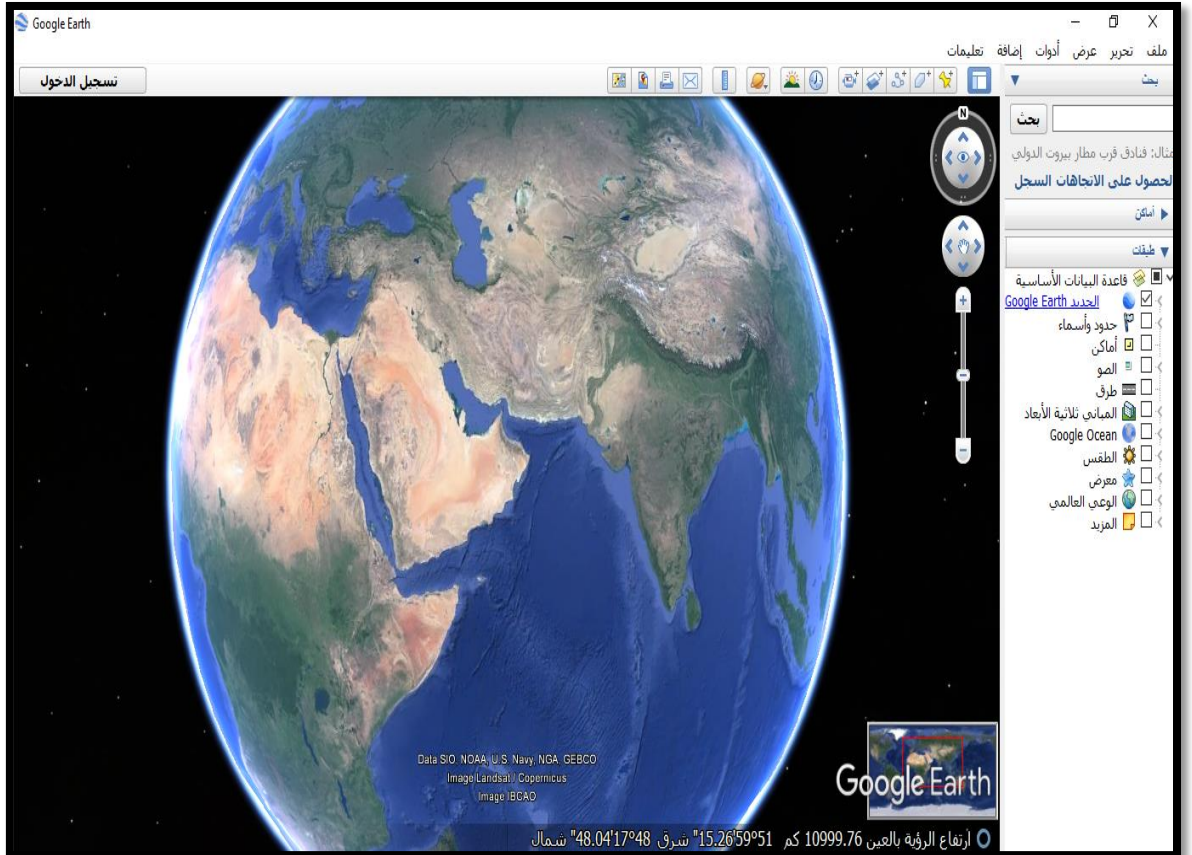
تنصيب
البرنامج

يمكن تنصيب البرنامج من خلال الرابط التالي

<http://www.google.com/earth/index.html>

وجود اتصال بشبكة
الانترنت

متطلبات
البرنامج



واجهة
البرنامج

شريط
الأدوات

إشارة الشمال

محرك
البحث

لوحة العرض

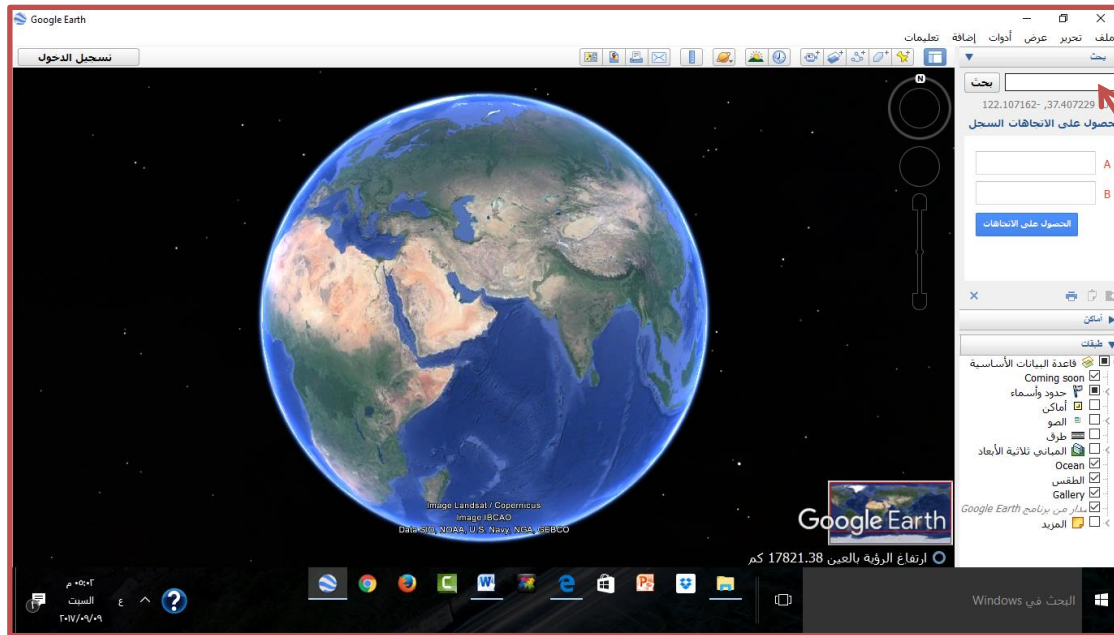


مؤشر درجة
الوضوح

قارئ
الاحداثيات
والارتفاع

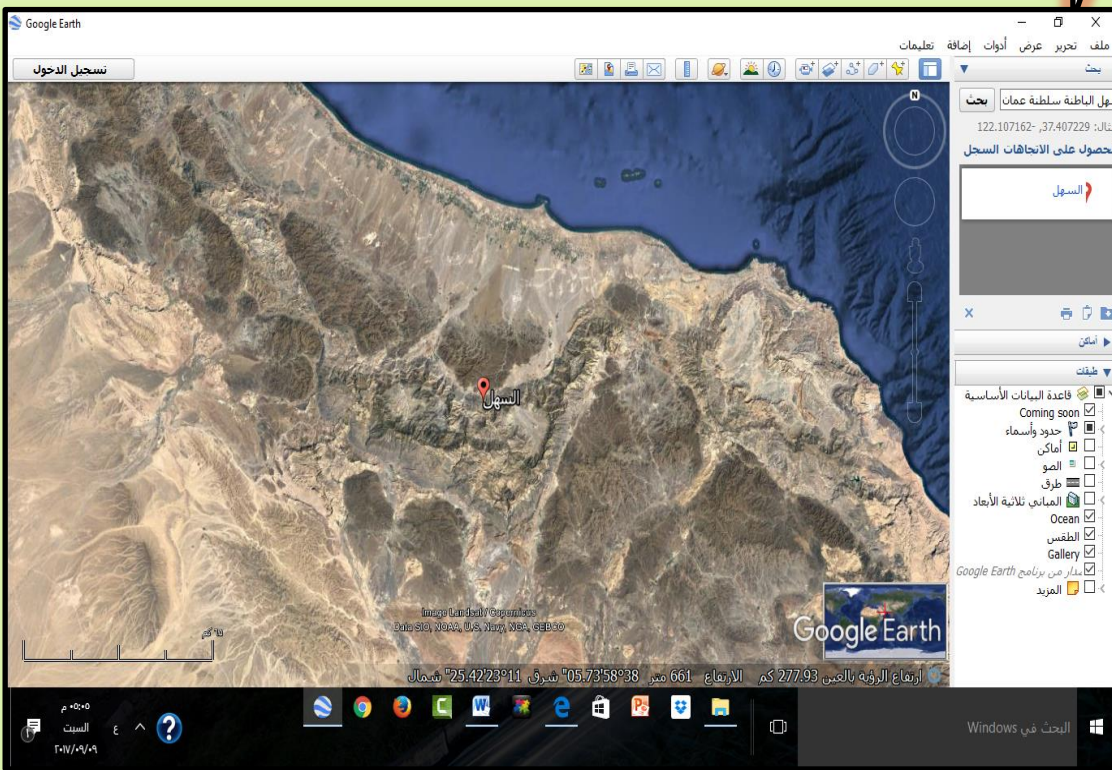
عناصر التحكم في
سحب وتكبير وتصغير
الخريطة







كتابة سهل
الباطنة في خانة
البحث



يظهر الموقع تلقائيا





حل هذا
النشاط

نشاط ٣


أ- أَسْتَعِدُّمُ ومجموعتي تحت إشراف معلمي برنامج جوجل إيرث (Google Earth) للتعرف إلى:

١. شبكة خطوط الطول ودوائر العرض.

The screenshot shows the Google Earth application window. The main view is a 3D globe of Earth, centered on the Middle East region. The interface includes a top menu bar with options like 'ملف' (File), 'عرض' (View), 'أدوات' (Tools), 'إضافة تعليمات' (Add Instructions), and 'تحرير' (Edit). A 'نسخة الدخول' (Login Version) button is visible in the top left. On the right side, there is a 'طبقات' (Layers) panel with various icons for layers like 'قاعدة' (Base Layer), 'الفضاء الجوي' (Aerial Imagery), 'الشمس' (Sun), 'صور تاريخية' (Historical Imagery), 'سطح الماء' (Water Surface), 'استكشاف' (Discover), and 'إعادة تعيين' (Reset). The bottom status bar shows the date '12/14/2015' and coordinates: 'شمال 00.01'21'00" شرق 59.99'56"59" كم ارتفاع الرؤية بالعين 10999.76'. The Windows taskbar is visible at the bottom with the search bar and system tray.





أنواع المناخ



الخصائص	المناخ



مرحبا أنا صديقكم الشجرة
ساعدوني على الاجابة على
الاسئلة التالية



علل قلة النباتات الطبيعية في الصحاري

اذكر أنواع النباتات الطبيعية

..... /١



..... /٢

..... /٣

عرف النباتات الطبيعية

.....
.....
.....

استنتج من الصور المشكلات التي تعاني منها النباتات
الطبيعية





عرفي التربة

.....

.....

.....

.....

.....

.....

.....

ما المقصود بالمادة العضوية

.....

.....

.....




.....

.....




.....

.....

من أنواع التربة



مشكلات
التربة






عرف المفاهيم
التالية

تدهور خصوبة:

التملح:

الحلول المقترحة



اسم المشكلة

.....

الاسباب

