

تم تحميل هذا الملف من موقع المناهج العُمانية



* للحصول على أوراق عمل لجميع الصفوف وجميع المواد اضغط هنا

<https://almanahj.com/om>

* للحصول على أوراق عمل لجميع مواد الصف السادس اضغط هنا

<https://almanahj.com/om/6>

* للحصول على جميع أوراق الصف السادس في مادة اجتماعيات ولجميع الفصول, اضغط هنا

<https://almanahj.com/om/6social>

* للحصول على أوراق عمل لجميع مواد الصف السادس في مادة اجتماعيات الخاصة بـ الفصل الأول اضغط هنا

<https://almanahj.com/om/6social1>

* لتحميل كتب جميع المواد في جميع الفصول للـ الصف السادس اضغط هنا

<https://almanahj.com/om/grade6>

* لتحميل جميع ملفات المدرس سلمى العلوية اضغط هنا

للتحدث إلى بوت المناهج العُمانية على تلغرام: اضغط هنا

https://t.me/omcourse_bot

سلطنة عمان

وزارة التربية والتعليم

المديرية العامة لتربية والتعليم لمحافظة الشرقية شمال

مدرسة سيح العافية بنات (5-9)

النشطة دروس الوحدة الأولى للصف السادس

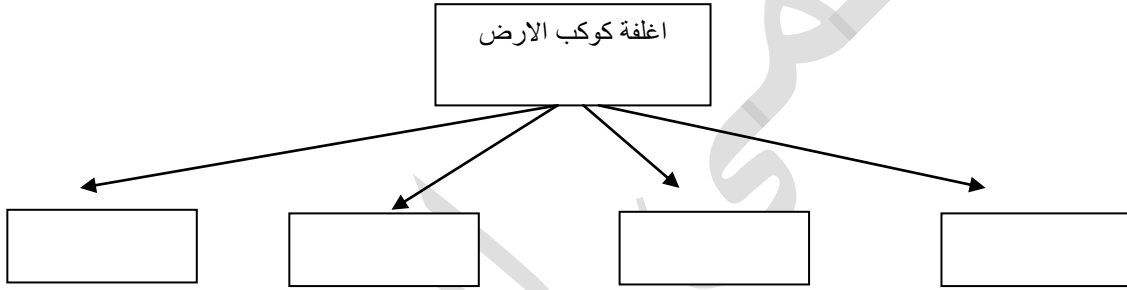
الفصل الدراسي الأول

مادة الدراسات الاجتماعية

1- ماهي الاغلفة التي يتكون منها النظام الارضي



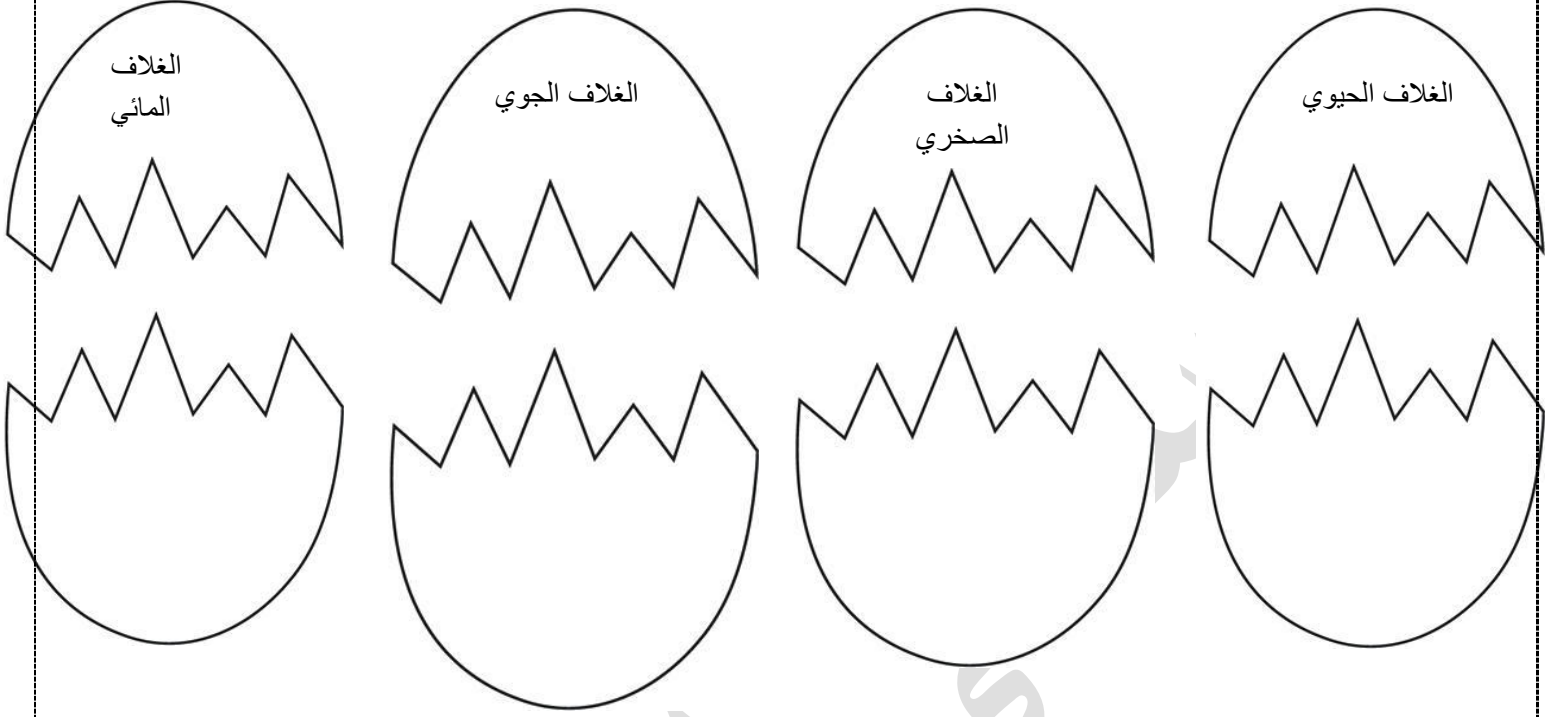
2- اكمل خرائط المفاهيم التالية



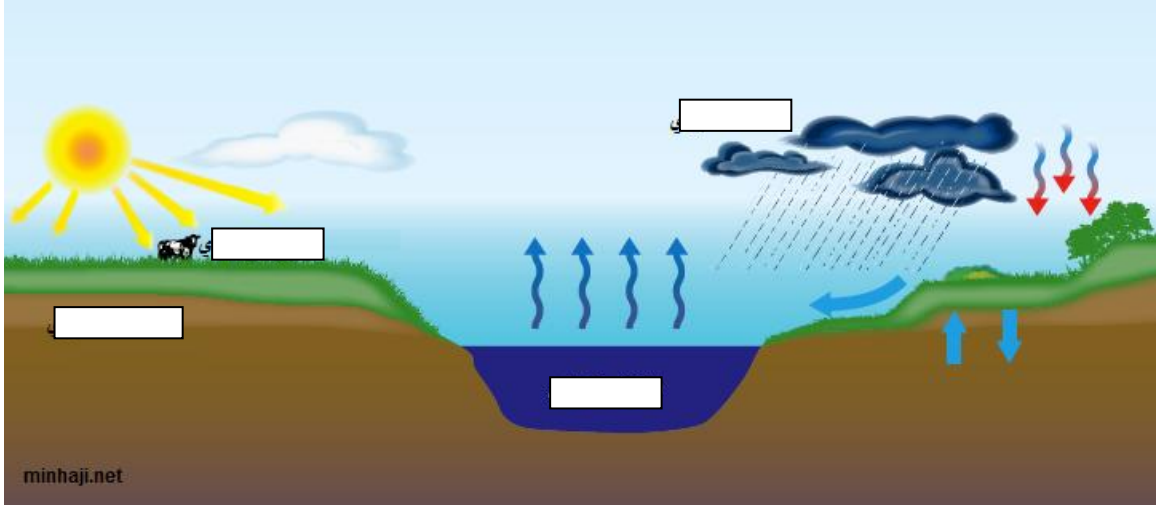
3- املا الفراغ بما يناسبه

الموارد الطبيعية	اغلفة النظام الارضي
	الصخري
	الجوي
	المائي
	الحيوي

4- اكتب في الطرف الاخر للبيضة المشاكل التي تواجه كل غلاف




5- وقي اسماء اغلفة النظام الارضي في الشكل التالي:



5- ما هي نتيجة تزايد اعداد السكان

المرتتبة على النظام الارضي؟





6- انظري الى الشكل واجيبي:.

أ- انا مورد طبيعي اصنف الى الغلاف

ب- ما اهمية الغلاف الذي انتمي اليه

ج- اعطي مفهوم لغلافي ؟

.....

.....

.....

.....

.....

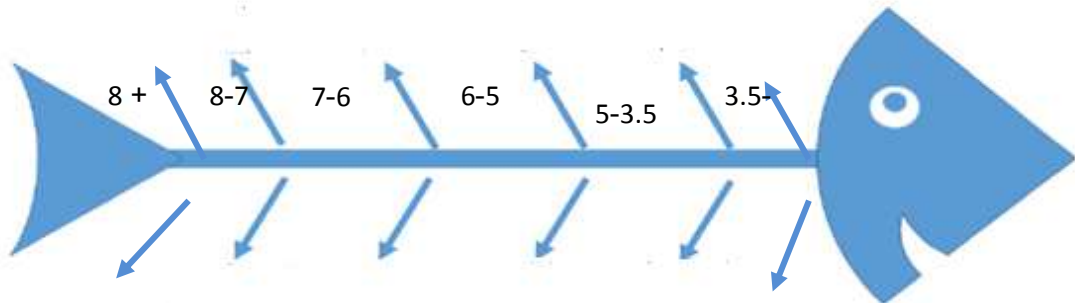
الدرس الثاني : الزلازل والبراكين

1- عرفي الزلازل؟

2-كيف يمكن قياس قوة الزلازل؟

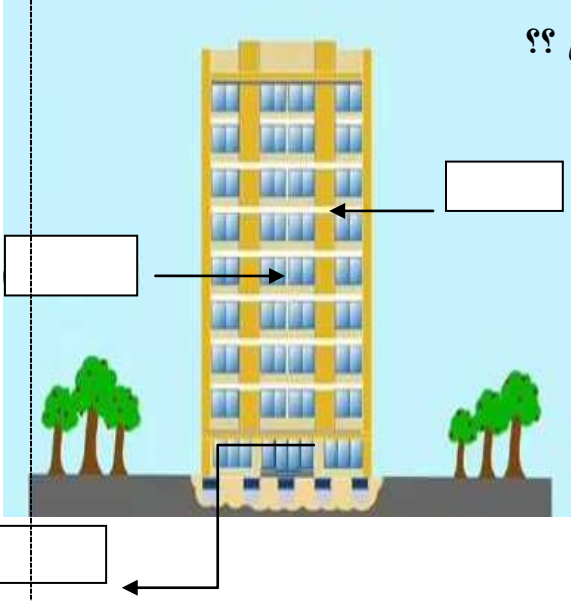
3-كيف تحدث الزلازل؟

5-اكتبي على عظم السمكة الاثار التدميرية لكل درجة حسب مقياس ريختر



اعداد الاستاذة سلمى العلوية

6- ما هو المركز الذي يقوم برصد الزلازل في سلطنة عمان؟؟



7- انظري الى الشكل وأجيبى عما يليه

أماذا يطلق على هذا النوع من المباني؟

ب-اي من الدول التي اتبعت هذا النظام لتقليل الخسائر

المادية؟..... و.....

ج-اكتبي على الشكل ما تشير اليه الاسهم؟

8- تخيلي حدوث زلزال في منطقتك ماهي اهم التدابير لمواجهة خطر الزلازل

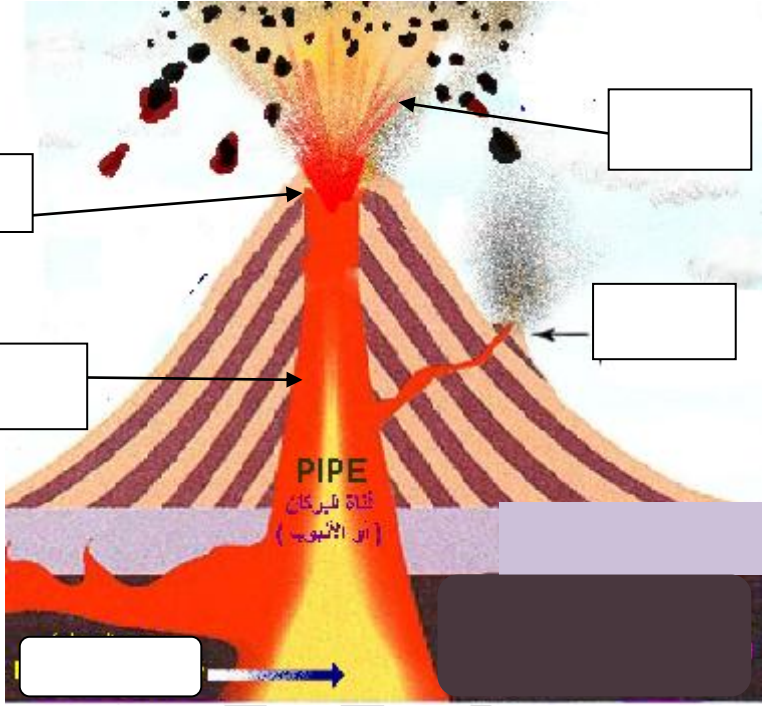
9-ماذا تتوقعي ان يحدث بعد وقوع زلازل بقوة 8

10- من انا؟

كيف تكونت؟

ماهي المواد التي اقذفها اثناء ثوراني؟

يوجد مني نوعان فما هما؟



اكتبي اجزاء البركان

11- ما الفرق بين الحمم البركانية والصهير؟

12- املأ الفراغ بما يناسبه

البركان المخروطي	البركان الغطائي	اوجه المقارنة
		الشكل
		درجة الحرارة
		درجة الميل
		طبيعة المواد البركانية
		ارتفاع البركان

13- املأ الفراغ بما يناسبه

مخاطره	فوائده	اوجه المقارنة
		البركان

14- عللي ما يلي

- تستخدم الصخور البركانية في رصف الطرق ؟
.....
- تعد المناطق البركانية ذات جذب سياحي
.....
- تربة المناطق البركانية صالحة لزراعة.
.....
- ارتفاع عدد القتلى جراء البركان الذي حدث في اندونيسيا .
.....
- حدوث الزلازل .
.....
- تسمية مقياس ريختر بهذا الاسم ؟
.....
- انشأت جامعة السلطان قابوس عدد من محطات رصد الزلازل في مناطق مختلفة من السلطنة .
.....
- ظهور الزلازل والبراكين في المناطق نفسها من العالم
.....
- اجيبي عما يلي :
.....
- ما هو الحل الذي اتبعته كل من اليابان والولايات المتحدة لتصدي لزلازل ؟
.....
- كم كانت قوة الزلازل الذي ضرب سان فرانسيسكو عام 1906 م .
.....
- كم عدد البراكين النشطة في العالم ؟
.....
- اين تتوزع البراكين والزلازل في العالم .
.....
- اذكري نتيجة ظهور ينابيع المياة الساخنة من البراكين.
.....
- اكلمي ما يلي
.....
- تصنف قوة الزلازل عندما تتمايل الاشجار وتتارجح الاشياء المعلقة حوالي
.....
- تصل درجة الزلازل عند تشقق المباني والجسور الى
.....

17- انظري الى الخريطة ثم اجيبي عما يلي



- أ- عددي الاغلفة الموجودة في المنطقه المشار اليها بالرقم 1
ب- الدول المشار اليها بالرمز أ - ب توصلت لحل لتصدي للزلازل فما هو الحل ؟
ت- لوني على الخريطة الدول التي استخدمت ينابيع المياه الساخنة لتوليد الطاقة الكهربائية؟
ث- وضح سبب ارتفاع القتلى نتيجة حدوث زلازل في الدولة المشار اليها بالرقم 2

الدرس الثالث :. نشأة الجبال

18- تأملي الخريطة ثم اجيبي عما يلي


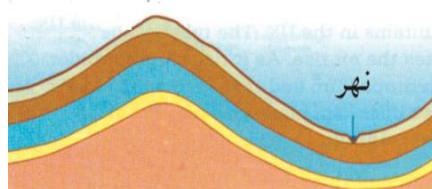
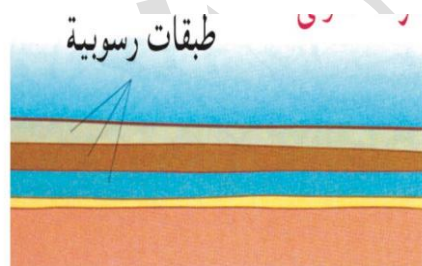


- أ- وفعي على الخريطة اسماء القارات في العالم؟
ب- اكتبني عليها اشهر السلاسل الجبلية في العالم ؟

القارات	اسماء الجبال
	الالب
	الهملايا
امريكا الشمالية	
	الانديز
استراليا	
	الاطلس ومرتفعات اثيوبيا



21-رتبي مراحل تكون الجبال ؟



22- اجيبي عما يلي:

- كيف تتكون الجبال؟

.....
- ما هي النتيجة المترتبة عند تعرض الطيات المحدبة لنحت المائي والجليدي؟

.....
- ما هي النتيجة المترتبة عند تعرض الطيات المقعرة لنحت المائي والجليدي؟

.....
- سمي الجبال الموجودة في سلطنة عمان؟

.....
- قارني بين جبال عمان واشهر جبال العالم

23- اكمل ما يلي

.....
- الاجزاء المرتفعة من الطبقات الصخرية بعد الانثناء تسمى

.....
- الاجزاء المنخفضة من الطبقات الصخرية بعد الطي تسمى

.....
- تظهر الجبال الشاهقة في العالم على الصفائح الارضية .

.....
- تكونت الجبال بسبب عمليات باطنية مثل الالتواءات و

.....
- تقع جبال الانديز في قارة.....

.....
- اشهر السلاسل الجبلية في قارة اوروبا هي

24- ارسمي مراحل تكون الجبال الالتوائية؟



25- قارني بالرسم بين البراكين المخروطية والغطائية

