

تم تحميل هذا الملف من موقع المناهج العُمانية



*للحصول على أوراق عمل لجميع الصفوف وجميع المواد اضغط هنا

<https://almanahj.com/om>

* للحصول على أوراق عمل لجميع مواد الصف الخامس اضغط هنا

<https://almanahj.com/om/5>

* للحصول على جميع أوراق الصف الخامس في مادة علوم ولجميع الفصول, اضغط هنا

<https://almanahj.com/om/5science>

* للحصول على أوراق عمل لجميع مواد الصف الخامس في مادة علوم الخاصة بـ الفصل الأول اضغط هنا

<https://almanahj.com/om/5science1>

* لتحميل كتب جميع المواد في جميع الفصول للـ الصف الخامس اضغط هنا

<https://almanahj.com/om/grade5>

للتحدث إلى بوت على تلغرام: اضغط هنا

https://t.me/omcourse_bot

اسم الطالب : التاريخ: / / ٢٠١٨.

[1]

١) ظلل الاجابة الصحيحة من بين البدائل المعطاة :

جزء البذرة الذي ينمو لنبات جديد

الجنين

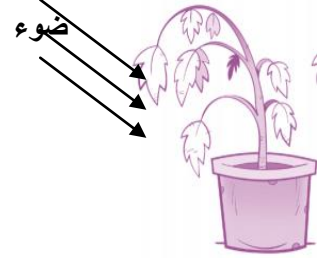
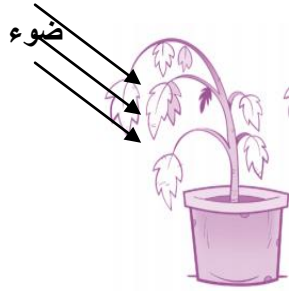
مخزن الغذاء

النديبة

غلاف البذرة

[1]

٢) ادرس الشكل التالي ثم اجب عما يلي :



الري مرة اسبوعيا

الري مرة اسبوعيا

الري مرتين اسبوعيا

الري مرتين اسبوعيا

(د)

(ج)

(ب)

(أ)

- ما رمز النبتة التي تنمو بشكل اسرع ؟

- فسر اجابتك ؟

[2]

٣) اذكر ثلاث طرق لانتشار البذور ؟

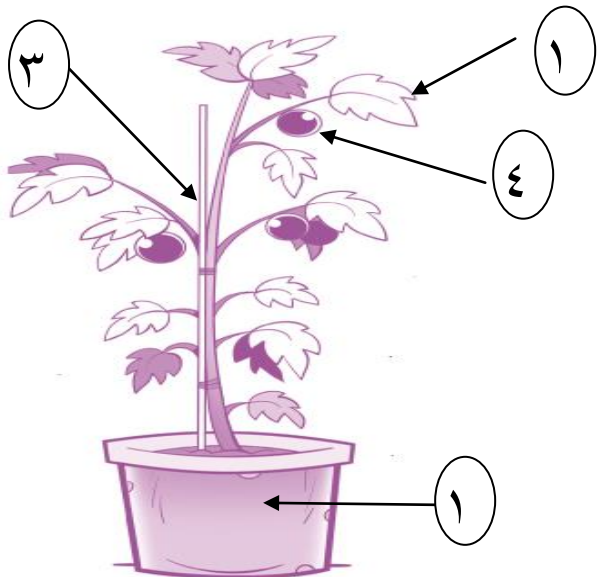
.....

.....

.....

[2]

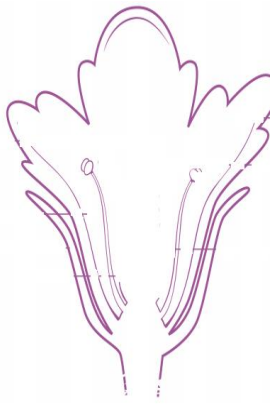
٤) من الشكل المقابل ، صل العمود (أ) ما يناسبه من العمود (ب)



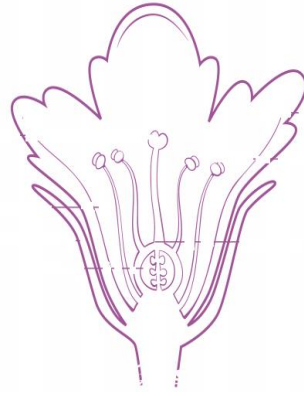
(ب)
تقوم بعملية التمثيل الضوئي
يحمل البذور بداخله
امتصاص الماء والاملاح

(أ)
١
٢
٣
٤

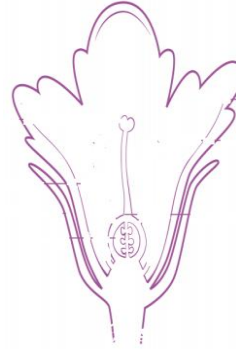
٥) أي الأشكال التالية تتكون فيها بذور :



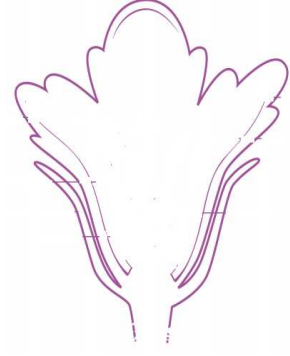
(د)



(ج)



(ب)



(أ)

[1]

ضع دائرة حول الرمز الصحيح ؟

[1]

٦) ضع علامة (✓) أمام العبارة الصحيحة وعلامة (□) أمام الخطأ:

(□)	(✓)		
		يبدأ النبات دورة حياته كثمرة	١
		ينتج النبات الناضج الأزهار	٢

[2]

٧) استخدم مفردات الصندوق التالي لإكمال الجدول بشكل صحيح ؟

التخصيب - الانبات - التلقيح - إنتاج البذور

انتقال حبوب اللقاح من المتك الي الميسم	١
نمو الجنين في البذرة	٢
اندماج حبة اللقاح مع البويضة	٣

مع تمنياتنا لكم بالتوفيق ،،،