

تم تحميل هذا الملف من موقع المناهج الإماراتية



الملف أسئلة الامتحان النهائي الورقي بريدج

[موقع المناهج](#) ← [المناهج الإماراتية](#) ← [الصف السابع](#) ← [علوم](#) ← [الفصل الثالث](#)

روابط مواقع التواصل الاجتماعي بحسب الصف السابع



روابط مواد الصف السابع على تلغرام

[الرياضيات](#)

[اللغة الانجليزية](#)

[اللغة العربية](#)

[التربية الاسلامية](#)

المزيد من الملفات بحسب الصف السابع والمادة علوم في الفصل الثالث

[أسئلة الامتحان النهائي الالكتروني بريدج](#)

1

[تجميع أسئلة وفق الهيكل الوزاري الجديد انسابير](#)

2

[حل أسئلة متوقعة في الهيكل الوزاري](#)

3

[ملزمة المراجعات النهائية للفصل الثالث](#)

4

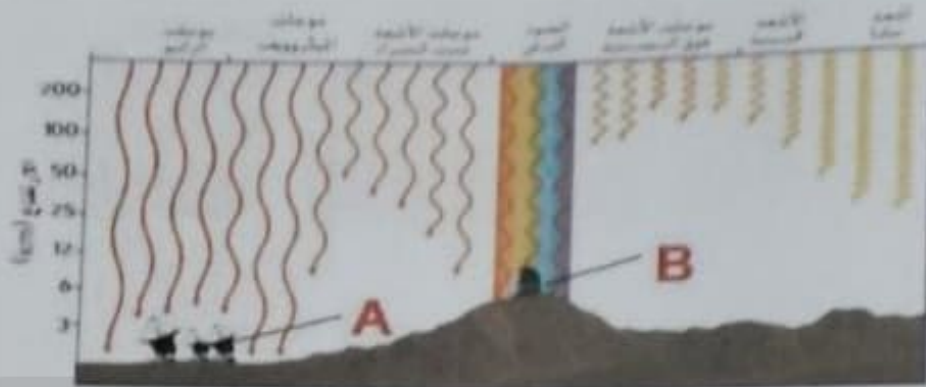
[نموذج الهيكل الوزاري الجديد انسابير](#)

5

Q1

السؤال الأول

مُستخدماً الشكل أدناه ، أجب عن الأسئلة التي تليه:

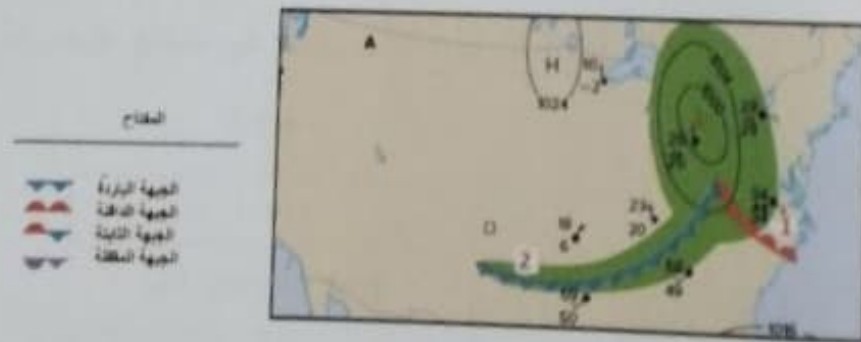


- 1- ما نوع التلسكوب الذي يُشير إليه الحرف A في الشكل ؟
- 2- ما نوع التلسكوب الذي يُشير إليه الحرف B في الشكل ؟
- 3- ما سبب التقاط صور الأشعة السينية فقط باستخدام التلسكوبات الموجودة فوق الغلاف الجوي للأرض؟
- 4- ما صفات المواقع التي تُعتبر جيدة لإقامة التلسكوب الذي يُشير إليه الحرف A؟

Q2

السؤال الثاني

مُستخدماً خريطة الطقس أدناه ، أجب عن الأسئلة التي تليها:



- 1- حدد نوع الطقس الذي يجب أن نتوقعه في المنطقة رقم 1 .
- 2- ما نوع الجبهة الهوائية التي ستصل أولاً إلى المنطقة رقم 2 ؟
- 3- أي نوعي أنظمة الضغط (المرتفع أم المنخفض) له صلة مع السماء الصافية؟
- 4- متى تتكون معظم أنظمة الضغط المنخفض (L) ؟






Q3

السؤال الثالث

مستخدماً الأشكال أدناه ، أجب عن الأسئلة التي تليها:



1- ما المنطقة التي تم تمييزها بعلامة X الظاهرة في الشكل رقم 1 ؟

2- ما سبب تكوّن سلسلة جبلية في الشكل رقم 2 ؟

3- ما اسم الحدود الظاهرة في الشكل رقم 3 ؟

4- ما وجه الشبه بين الشكل رقم 1 والشكل رقم 2 ؟

Q4

السؤال الرابع

أكمل خارطة المفاهيم التالية مُستخدماً المفردات أدناه:

التعرية	الترسيب	التجوية	التربة	الرواسب
---------	---------	---------	--------	---------

تؤدي التغيرات التي تطرأ على سطح الأرض إلى

عملية

.....

تفتت الصخور إلى

.....

والتي من خلال خلطها
مع المواد المعدنية
والمواد العضوية تكون

.....

والتي يتم إزالتها من
أحد الأماكن بفعل

.....

وترسبت في موقع جديد بفعل عمليات

.....

BONUS QUESTIONS

الأسئلة الإضافية

Q5

السؤال الخامس

استخدم الرسم البياني أدناه ، أكمل فروع العبارات التالية:

درجات الحرارة العالمية وثنائي أكسيد الكربون



خلال 120 سنة الماضية كما وازداد تركيز ثنائي أكسيد الكربون _____ درجات الحرارة العالمية

الارتفاع في معدل درجة حرارة سطح الأرض خلال السنوات العدة الماضية يُسمى _____

غاز ثنائي أكسيد الكربون من الغازات _____

من مصادر غاز ثنائي أكسيد الكربون الناجمة عن نشاط الإنسان _____

تقع درجات الحرارة العالمية بحلول العام 2100 أن _____

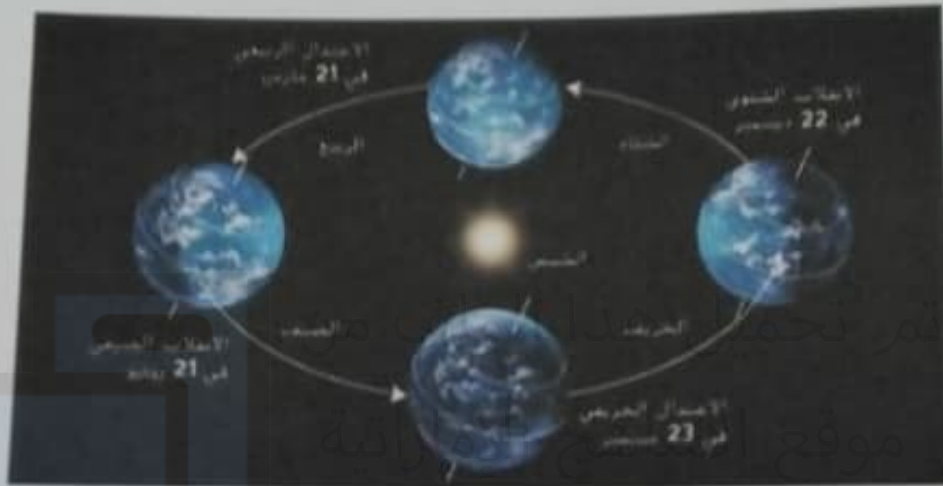
BONUS QUESTIONS

الأسئلة الإضافية

Q6

السؤال السادس

مُستخدماً الشكل أدناه ، أجب عن الأسئلة التي تليه:



1- ما أسباب حدوث الفصول الأربعة ؟

alManahj.com/ae

أ-

ب-

2- متى يتساوى عدد ساعات الليل مع عدد ساعات النهار في كل مكان على الأرض؟

- يُعتبر تغيير الفصول من الأمثلة على التغيرات المناخية (الدورات) المدى

انتهت الأسئلة