

تم تحميل هذا الملف من موقع المناهج الإماراتية



*للحصول على أوراق عمل لجميع الصفوف وجميع المواد اضغط هنا

<https://almanahj.com/ae>

* للحصول على أوراق عمل لجميع مواد الصف السابع اضغط هنا

<https://almanahj.com/ae/7>

* للحصول على جميع أوراق الصف السابع في مادة رياضيات وجميع الفصول, اضغط هنا

<https://almanahj.com/ae/7math>

* للحصول على أوراق عمل لجميع مواد الصف السابع في مادة رياضيات الخاصة بـ الفصل الثاني اضغط هنا

<https://almanahj.com/ae/7math2>

* لتحميل كتب جميع المواد في جميع الفصول للـ الصف السابع اضغط هنا

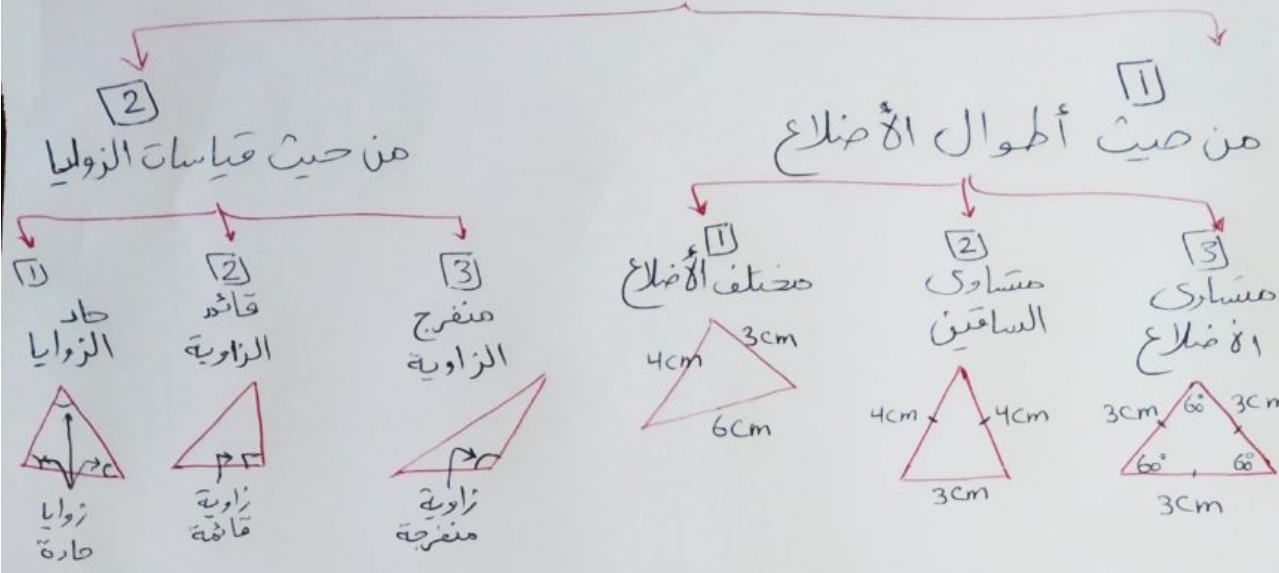
<https://almanahj.com/ae/grade7>

للتحدث إلى بوت المناهج على تلغرام: اضغط هنا

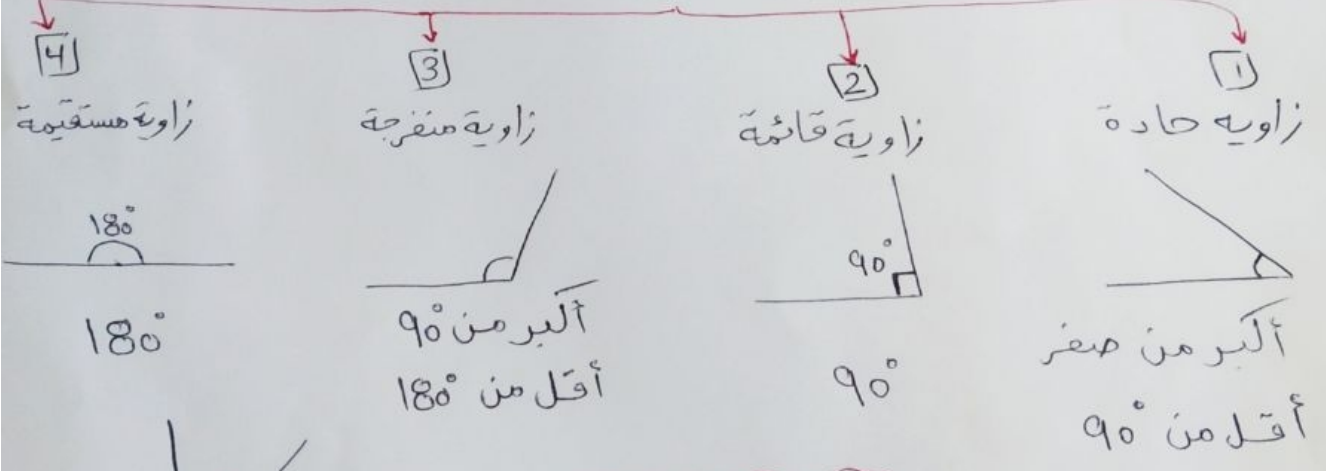
https://t.me/almanahj_bot

صفحة

تصنيف الزوايا المثلث



تصنيف الزوايا

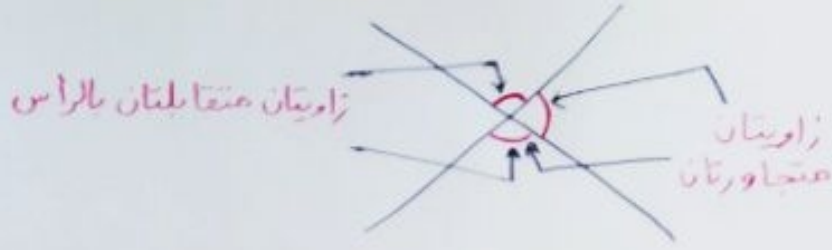


← الزاويتان المتتامتان مجموعهما 90°

← الزاويتان المتكاملتان مجموعهما 180°

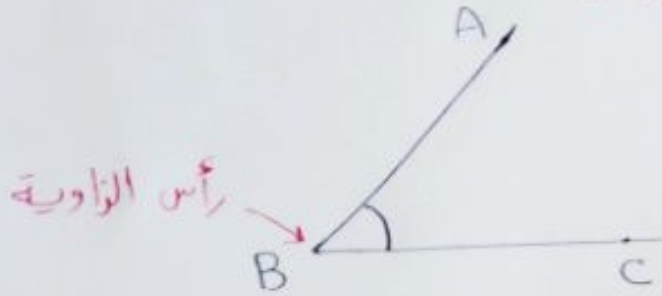
← مجموع قياسات زوايا المثلث = 180°

Mr. Estam
0521410527



← الزاويتان المتقابلتان بالرأس متساويتان من القياس

طريقة قراءة الزاوية:



$\angle ABC$, $\angle CBA$, $\angle B$

مقياس الرسم :-

$$\frac{\text{الطول في الرسم}}{\text{الطول الحقيقي}} = \text{معامل المقياس}$$

Mr. Eslam
0521410527



إنسخ رابط القناة في

تليغرام

t.me/MB6MB