

جمع الأعداد الكسرية وطرحها

السؤال الأساسي



ملا بحدث عند جمع الكسور وطرحها
وشرحها واستنتجها؟

ممارسات رياضية

1, 2, 4

مسائل من الحياة اليومية



الهوكي فيما يلي عصا الهوكي اللتان يستخدمهما الصغار والكبار.



1. استخدم التعبير $4 \frac{5}{6} - 3 \frac{2}{3}$ لإيجاد كم تزيد عصا هوكي الكبار في الطول عن عصا هوكي الصغار.

أعد تسمية الكسرين باستخدام البسط المشترك الأصغر.
اطرح الكسرين. ثم اطرح المدين الطبيعيين.

$$4 \frac{5}{6} - 3 \frac{4}{6} = 1 \frac{1}{6}$$

2. اشرح طريقة إيجاد قيمة $3 \frac{7}{10} - 2 \frac{2}{5}$ ثم اطرح فرضية لإيجاد الفرق.

الإجابة النموذجية: اكتب الكسرين اللذين لديهما مقام مشترك. واطرح

الكسرين أولاً ثم العددين الصحيحين: $1 \frac{3}{10}$

ما الممارسات الرياضية التي استخدمتها؟

ظلل الدائرة (الدوائر) التي تنطبق.

- | | |
|--------------------------|--------------------------------|
| ① المتابعة في حل المسائل | ⑤ استخدام أدوات الرياضيات |
| ② التفكير بطريقة تجريبية | ⑥ مراعاة الدقة |
| ③ بناء فرضية | ⑦ الاستفادة من البنية |
| ④ استخدام خدع الرياضيات | ⑧ استخدام الاستنتاجات المتوقعة |

جمع الأعداد الكسرية وطرحها

لجمع الأعداد الكسرية أو طرحها، اجمع الكسور أولاً أو اطرحها، وأعد تسميتها باستخدام النظام المشترك الأصغر. إذا لزم الأمر، ثم اجمع الأعداد الصحيحة أو اطرحها، وحول لأبسط صورة إذا لزم الأمر.

في بعض الأحيان، عند طرح الأعداد الكسرية، يكون الكسر في العدد الكسري الأول أصغر من الكسر في العدد الكسري الثاني. في هذه الحالة، أعد تسمية أحد الكسرين أو كلاهما للتقيام بعملية الطرح.

أمثلة

1. أوجد ناتج $7\frac{4}{9} + 10\frac{2}{9}$ اكتب في أبسط صورة.

$$\text{ناتج الجمع} = 17 + 10 = 27$$

$$\begin{array}{r} 7\frac{4}{9} \\ + 10\frac{2}{9} \\ \hline \end{array}$$

$$17\frac{6}{9} = 17\frac{2}{3} \quad \text{حول لأبسط صورة}$$

$$\text{نتحقق من مدى صحة العمل} \quad 17 + 17\frac{2}{3} = 34\frac{2}{3} \quad \checkmark$$

2. أوجد ناتج $2\frac{1}{3} - 2\frac{1}{6}$ اكتب في أبسط صورة.

$$\text{ناتج الجمع} = 7 - 2 = 5$$

$$\begin{array}{r} 2\frac{2}{6} \\ - 2\frac{1}{6} \\ \hline \end{array}$$

أعد تسمية الكسر باستخدام العامل المشترك الأصغر، ثم اطرح.

حول لأبسط صورة

$$6\frac{3}{6} \text{ أو } 6\frac{1}{2}$$

$$\text{نتحقق من مدى صحة العمل} \quad 5 + 6\frac{1}{2} = 11\frac{1}{2} \quad \checkmark$$

تأكد من فهمك! أوجد حلولاً للمسائل التالية لتتأكد أنك فهمت.

اجمع أو اطرح. اكتب في أبسط صورة.

a. $6\frac{1}{8} + 2\frac{5}{8}$

b. $5\frac{1}{5} + 2\frac{3}{10}$

c. $1\frac{5}{9} + 4\frac{1}{6}$

d. $5\frac{4}{5} - 1\frac{3}{10}$

e. $13\frac{7}{8} - 9\frac{3}{4}$

f. $8\frac{2}{3} - 2\frac{1}{2}$

يمكن كتابة الخواص

بالصيغة $120\frac{1}{3} + 40\frac{1}{3}$
 $(120 + \frac{1}{3}) + (40 + \frac{1}{3})$
 ثم يمكن استخدام خاصية التباديل والتجميع لإعادة ترتيب أو تجميع الأعداد لإيجاد ناتج الجمع.



a. $8\frac{3}{4}$ _____

b. $7\frac{1}{2}$ _____

c. $5\frac{13}{18}$ _____

d. $4\frac{1}{2}$ _____

e. $4\frac{1}{8}$ _____


f. $6\frac{1}{6}$ _____

مثال

3. أوجد ناتج $2\frac{1}{3} - 1\frac{2}{3}$

الطريقة 1 إعادة تسمية الأعداد الكسرية

$$2 - 1\frac{1}{2} = \frac{1}{2}$$

بما أن $\frac{1}{3}$ أصغر من $\frac{2}{3}$. فأعد تسمية $2\frac{1}{3}$ قبل الطرح.

$$1\frac{4}{3} + \frac{1}{3} - 1\frac{2}{3} = 2\frac{1}{3}$$

أعد تسمية $2\frac{1}{3}$ إلى $1\frac{4}{3}$

اطرح العددين الطبيعيين أولاً ثم الكسرين.

$$\begin{array}{r} 1\frac{4}{3} \rightarrow 2\frac{1}{3} \\ -1\frac{2}{3} \rightarrow -1\frac{2}{3} \\ \hline 2\frac{1}{3} \end{array}$$

تنتج من مبنى صحت العمل $\frac{2}{3} > \frac{1}{3}$ ✓

الطريقة 2 اكتب في صورة كسور ممتدة

$$2\frac{1}{3} \rightarrow 2\frac{1}{3} \text{ اكتب } 2\frac{1}{3} \text{ في صورة } \frac{7}{3}$$

$$1\frac{2}{3} \rightarrow 1\frac{2}{3} \text{ اكتب } 1\frac{2}{3} \text{ في صورة } \frac{5}{3}$$

حول لأبسط صورة

$$\begin{array}{r} \frac{7}{3} \rightarrow 2\frac{1}{3} \\ -\frac{5}{3} \rightarrow -1\frac{2}{3} \\ \hline 2\frac{1}{3} \end{array}$$

$$2\frac{1}{3} - 1\frac{2}{3} = 2\frac{1}{3}$$

باستخدام أي من الطريقتين، الإجابة هي $\frac{2}{3}$.

تأكد من فهمك! أوجد حلولاً للمساكن التالية لتتأكد أنك فهمت.

اطرح. اكتب في أبسط صورة.

g. $7 - 1\frac{1}{2}$

h. $5\frac{3}{8} - 4\frac{11}{12}$

i. $11\frac{2}{5} - 2\frac{3}{5}$

j. $8 - 3\frac{3}{4}$

k. $3\frac{1}{4} - 1\frac{3}{4}$

l. $16 - 5\frac{5}{6}$

الكسور الأكبر من الواحد

كسر يمثل بسطه أكبر من نظام
أو مقامه. ومن بين الأمثلة على
الكسور الممتدة $2\frac{1}{3}$ و $5\frac{2}{3}$

g. $5\frac{1}{2}$

h. $\frac{11}{24}$

i. $8\frac{4}{5}$

j. $4\frac{1}{4}$

k. $1\frac{1}{2}$

l. $10\frac{1}{8}$

اختيار عملية حسابية

اجمع الكسور غير المتشابهة أو طرحها لحل مسائل من الحياة اليومية.

مثال



4. مخطط للمناطق الحضرية يضم حديقة للتزلج على الأنواع. يبلغ طول حديقة التزلج $120\frac{1}{2}$ قدم. ويبلغ طول مكان صف السيارات $40\frac{1}{3}$ قدم. ما الطول الإجمالي للحديقة ومكان صف السيارات معًا؟

$$120\frac{1}{2} + 40\frac{1}{3} = 120\frac{3}{6} + 40\frac{2}{6}$$

$$= 160 + \frac{5}{6}$$

$$= 160\frac{5}{6}$$

الطول الإجمالي يساوي $160\frac{5}{6}$ قدم.

أمد صيغة $\frac{1}{2}$ إلى $\frac{3}{6}$ و $\frac{1}{3}$ إلى $\frac{2}{6}$

اجمع المدينين الطبيعيين والكسرين بشكل متصل.

حوّل لأبسط صورة.



تبرين موجه

اجمع أو اطرح. اكتب في أبسط صورة. (العدد 13)

1. $8\frac{1}{2} + 3\frac{4}{5} = \underline{12\frac{3}{10}}$

2. $7\frac{5}{6} - 3\frac{1}{6} = \underline{4\frac{2}{3}}$

3. $11 - 6\frac{3}{8} = \underline{4\frac{5}{8}}$

4. سيارة مريم يمكن لخزان الوقود فيها استيعاب $11\frac{9}{10}$ جالون بنزين.

وهو يحتوي الآن على $8\frac{3}{4}$ جالون بنزين. ما كمية البنزين الإضافية المطلوبة لملء الخزان؟ (كتب $1\frac{1}{20}$ جالون)

5. الاستفادة من السؤال الأساسي كيف يمكنك طرح عددين كسريين

عندما يكون الكسر في الممدد الكسري الأول أصغر من الكسر في الممدد الكسري الثاني؟ الإجابة النموذجية: أهد تصفية الكسر في الممدد الكسري الأول أو اكتب كلا العددين الكسريين في صورة كسرين مركبين.

قِيم نفسك!

ما مدى فهمك لجميع الأعداد الكسرية وطرحها؟ ظلل الحلقة المناسبة.



تارين ذاتية

اجمع أو اطرح. اكتب في أبسط صورة. (الأنشطة 1-3)

1. $2\frac{1}{9} + 7\frac{4}{9} = 9\frac{5}{9}$

2. $8\frac{5}{12} + 11\frac{1}{4} = 19\frac{2}{3}$

3. $10\frac{4}{5} - 2\frac{1}{5} = 8\frac{3}{5}$

4. $9\frac{4}{5} - 2\frac{3}{10} = 7\frac{1}{2}$

5. $11\frac{3}{4} - 4\frac{1}{3} = 7\frac{5}{12}$

6. $9\frac{1}{5} - 2\frac{3}{5} = 6\frac{3}{5}$

7. $6\frac{3}{5} - 1\frac{2}{3} = 4\frac{4}{15}$

8. $14\frac{1}{6} - 7\frac{1}{3} = 6\frac{5}{6}$

9. $8 - 3\frac{2}{3} = 4\frac{1}{3}$

11. ابرار الاستنتاجات في التمرين 10 و 11 اختر عبارة صحيحة لحل التمرين. اشرح استنتاجك. ثم قدم حلاً للمعادلة اكتب إجابتك في أبسط صورة. (مسألة 4)

10. إذا تجول سعيد وهدى على طول المسارين المذكورين في الجدول. فبا مقدار المسافة التي تجولاها؟

الجميع: تحتاج إلى إيجاد مسافة التجول الإيجابية: $6\frac{1}{2}$ mi

المسار	الطول (mi)
حديقة الصور	$3\frac{2}{3}$
حديقة الصفا	$2\frac{3}{6}$

11. يبلغ طول حديقة جهاد $4\frac{5}{8}$ قدم. أوجد عرض حديقة جهاد إذا كان أقصر بمقدار $2\frac{7}{8}$ قدم من الطول.

الطرح: العرض أقصر من الطول: $1\frac{3}{4}$ ft

12. استيقظت خديجة في تمام الساعة A.M. 6:00 واستغرقت $1\frac{1}{4}$ ساعة للاستحمام وارتداء ملابسها وتبشيط شعرها. كما استغرقت $\frac{1}{2}$ ساعة في تناول الإفطار وغسل أسنانها وترتيب فراشها. ما الوقت الذي تكون فيه مستعدة للذهاب إلى المدرسة؟

7:45 ص

اجمع أو اطرح. اكتب في أبسط صورة.

13. $-3\frac{1}{4} + (-1\frac{3}{4}) = \underline{-5}$

14. $3\frac{1}{2} + 4\frac{2}{3} = \underline{3\frac{1}{30}}$

15. $6\frac{1}{3} + 1\frac{2}{3} + 5\frac{5}{9} = \underline{13\frac{5}{9}}$

16. $3\frac{1}{4} + 2\frac{5}{6} - 4\frac{1}{3} = \underline{1\frac{3}{4}}$

مهارات التفكير العليا



17. استخدام نماذج الرياضيات اكتب مسألة من الحياة اليومية يمكن تمثيلها بالتعبير

$$5\frac{1}{2} - 3\frac{7}{8}$$

الإجابة النموذجية: إذا أردنا قطع لوح خشبي طوله $3\frac{7}{8}$ قدم من لوح كبير طوله

$$5\frac{1}{2} \text{ قدم. فما طول اللوح الخشبي المتبقي بعد التقطع؟ } 1\frac{5}{8} \text{ ft}$$

18. المتابرة في حل المسائل تم قطع خيط إلى نصفين. وألقي أحد النصفين بعيدًا وقُطع

خمس النصف المتبقي من الخيط وألقي بعيدًا وأصبحت القطعة المتبقية طولها 8 أقدام. فكم

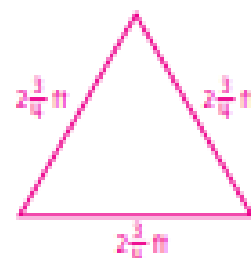
كان طول الخيط في البداية؟ علق إجابتك.

الإجابة النموذجية: إذا كان طول الخيط 20 قدمًا وقُطع إلى نصفين، فكل نصف يساوي

10 أقدام. وعند قطع خمس 10 أقدام، يتم قطع قدمين. وسيكون طول الجزء المتبقي 8 أقدام.

19. استخدام نماذج الرياضيات باستخدام ثلاثة أعداد كسرية باختيارها أطوال أضلاع. رسم

مثلث متساوي الأضلاع بحيث $8\frac{1}{4}$ قدم. الإجابة النموذجية:



تمرين إضافي

اجمع أو اطرح. اكتب في أبسط صورة.

20. $6\frac{3}{4} - 2\frac{3}{4} = 3\frac{1}{2}$

$$6\frac{1}{4} - 2\frac{3}{4} = 5\frac{5}{4} - 2\frac{3}{4}$$

$$= 3\frac{2}{4}$$

$$= 3\frac{1}{2}$$

21. $8\frac{3}{8} + 10\frac{1}{3} = 18\frac{17}{24}$

22. $13 - 5\frac{5}{8} = 7\frac{1}{8}$

23. $3\frac{2}{7} + 4\frac{3}{7} = 7\frac{5}{7}$

24. $4\frac{3}{10} - 1\frac{3}{4} = 2\frac{11}{20}$

25. $12\frac{1}{2} - 6\frac{5}{8} = 5\frac{7}{8}$

26. تبرير الاستنتاجات اختر عملية حسابية لحل كل مسألة. اشرح استنتاجك. ثم قدم حلاً للمسألة. اكتب إجابتك في أبسط صورة.

27. استخدم زايد إجمالي $7\frac{1}{4}$ كوب دقيق لإعداد ثلاث فطائر. واستخدم $2\frac{1}{4}$ كوب دقيق للفطيرة الأولى و $2\frac{1}{3}$ كوب للفطيرة الثانية. فبا كمية الدقيق التي استخدمها زايد لإعداد الفطيرة الثالثة؟


الطرح مرتان: كمية الدقيق أصغر من الكمية الأصلية:

$$2\frac{2}{3}$$

28. كان يبلغ طول شعر خلود $9\frac{3}{4}$ بوصة. بعد قس شعرها. أصبح طولها $6\frac{1}{2}$ بوصة. كم عدد البوصات التي قطعتها؟

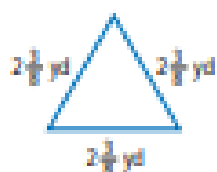
الطرح: أصبح شعر خلود أقصر بعد قصه: $3\frac{1}{4}$ بوصة.

28. صنعت مريم الحلين التاليين. إذا كان العقد أطول بمقدار $10\frac{5}{8}$ بوصة من السوار. فكم يبلغ طول العقد؟



الجمع: العقد أطول بمقدار $10\frac{5}{8}$ من السوار. $17\frac{7}{8}$ in.

29. أوجد محيط الشكل. اكتب إجابتك في أبسط صورة.



$$7\frac{1}{8} \text{ yd}$$

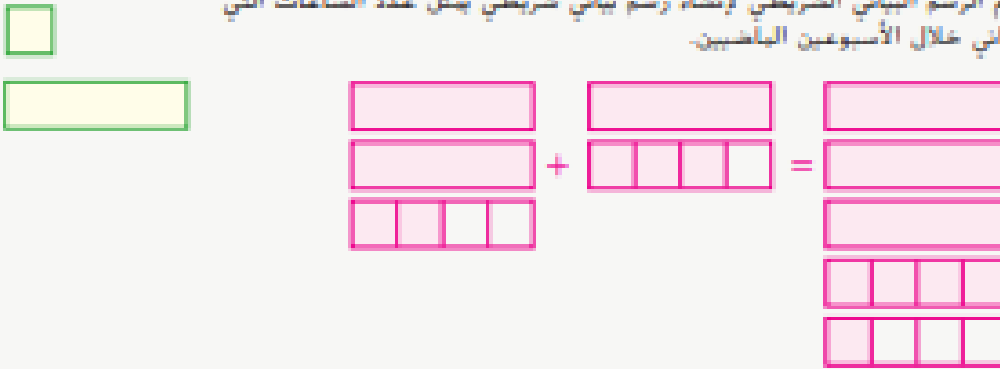
30. لتفرض أنك تريد وضع رف طوله $30\frac{1}{3}$ بوصة في منتصف جدار عرضه $45\frac{3}{4}$ بوصة. فكم يبلغ البعد التقريبي الذي ينبغي أن يكون الرف عليه عن حائطي الجدار؟ حوالي 8 in.

انطلق! تهرين على الاختبار

31. تتطلب وصفة لمزيج من الوجبات الخفيفة وجود $4\frac{3}{4}$ كوب حبوب. وتبلغ كمية الفول السوداني المطلوبة $1\frac{2}{3}$ كوب أصغر من كمية الحبوب المطلوبة. أكمل كلا التريمين أثناء لجعل الجملة صحيحة.

تشير الوصفة إلى استخدام $3\frac{1}{12}$ كوب من الفول السوداني.
هو إجمالي أكواب الفول السوداني والتبج المطلوبة. $7\frac{5}{6}$

32. تهرنت أماني على البيانو لمدة $2\frac{1}{2}$ ساعة بالأسبوع الماضي و $1\frac{3}{4}$ ساعة هذا الأسبوع. استخدم أقسام الرسم البياني الشريطي لإنشاء رسم بياني شريطي يمثل عدد الساعات التي تهرنت فيها أماني خلال الأسبوعين الماضيين.



كم عدد الساعات التي تهرنت فيها أماني على البيانو خلال الأسبوعين الماضيين؟

$$4\frac{1}{4} \text{ h}$$

مراجعة شاملة

قرب كل عدد كسري إلى أقرب عدد طبيعي. ثم قدر كل ناتج ضرب.

$$33. 5\frac{1}{4} \times 7\frac{2}{3} = 5 \times 8 = 40$$

$$34. 1\frac{1}{11} \times 8\frac{14}{15} = 1 \times 9 = 9$$

35. يبلغ متوسط سرعة زيب في الركض حوالي $6\frac{4}{5}$ ميل في الساعة. بافتراض أن زيب ركضت لمدة $1\frac{3}{4}$ ساعة. فما المسافة التي ركضتها تقريبًا؟ اشرح.

$$14 \text{ mi: الإجابة النموذجية: } 6\frac{4}{5} = 7 \text{ و } 7 \times 2 = 14 \text{ و } 1\frac{3}{4} = 2$$