



## الدَّرْسُ الثَّالِثُ: جُمْهُورِيَّةُ الصِّينِ الشَّعْبِيَّةِ

### نَوَاتِجُ التَّعَلُّمِ:

- يتعرَّفُ المفاهيمَ والمصطلحاتَ الواردةَ في الدرسِ.
- يحلُلُ الخصائصَ الطبيعيَّةَ لسطحِ الأرضِ ومدى تأثيرها على حياةِ السُّكَّانِ في جُمْهُورِيَّةِ الصِّينِ الشَّعْبِيَّةِ.
- يفسِّرُ التفاعلَ بين السكانِ والبيئةِ (الأنشطة الاقتصادية - توزيع السكان - المدن).
- يصمِّمُ تقريرًا مصورًا لأبرزِ مظاهرِ التعاونِ والعلاقاتِ القائمةِ بين دولةِ الإماراتِ العربيَّةِ المتَّحدةِ وجُمْهُورِيَّةِ الصِّينِ الشَّعْبِيَّةِ.

### الفكرةُ الرئيسيَّةُ

تعدُّ جُمْهُورِيَّةُ الصِّينِ من أقدمِ دولِ العالمِ وأبرزها حضارةً منذُ آلافِ السنين، وتمتازُ بتنوُّعِ تضاريسها وثرواتها الطبيعيَّةِ وأنشطتها البشريَّةِ، وترتبطُ مع دولةِ الإماراتِ العربيَّةِ المتَّحدةِ بعلاقاتٍ تعاونٍ وصدائقةٍ منذُ الزيارة التي قام بها الباني المؤسس المغفورُ له -ياذن الله- الشيخُ زايدُ بنُ سلطانٍ آل نهيانٍ عام 1990م، وتوثقت فيما بعدُ عُرى الصداقةِ والتعاونِ بعلاقاتٍ شراكةٍ.

### المفاهيمُ والمصطلحاتُ:

- الغاباتُ النفطيَّةُ.
- الأقلياتُ.
- الاستثمارُ.
- النموُّ الاقتصاديُّ.
- المحاصيلُ النقديةُ.

### قيمٌ ومواطنَةٌ:

- الحوارُ والتواصلُ.
- التعاونُ.
- التسامحُ.
- الحفاظُ على البيئةِ.
- حمايةُ التراثِ الثقافيِّ والطَّبيعيِّ.

### مخطَّطُ الدَّرْسِ

## جُمْهُورِيَّةُ الصِّينِ الشَّعْبِيَّةِ.



أولًا: الملامحُ الطبيعيَّةُ.

ثانيًا: الملامحُ البشريَّةُ.

ثالثًا: العلاقةُ مع دولةِ الإماراتِ العربيَّةِ المتَّحدةِ.

# أولاً: الملامح الطبيعية الموقع الجغرافي:



▷ سور الصين العظيم

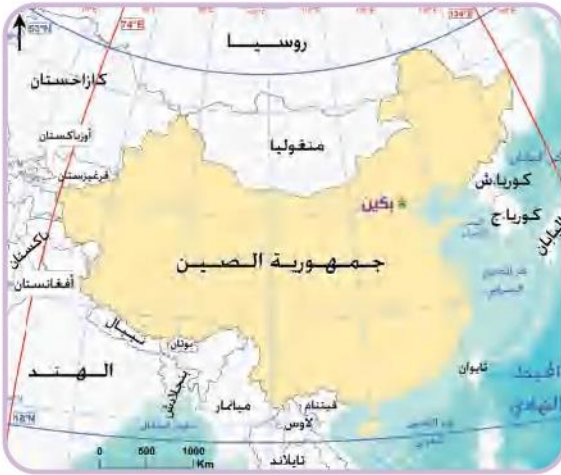
\* الصين واحدة من أقدم الحضارات في العالم وتمتد من سور الصين العظيم شمالاً إلى حدودها الجنوبية المطلة على بحر الصين.

\* تقع جمهورية الصين الشعبية في الجزء الشمالي من نصف الكرة الأرضية الشرقي، وتحتل القسم الشرقي من قارة آسيا على الساحل الغربي للمحيط الهادي بين دائرتي عرض (18° - 53°) شمالاً، وبين خطي طول (74° - 134°) شرقاً.

\* تبلغ مساحة الصين (9.6) مليون كم<sup>2</sup>، وهي أكبر ثالث دولة مساحةً بعد روسيا وكندا.

\* تحده الصين اثنتا عشرة دولة من مختلف الجهات.

\* يقدر طول الصين من الشمال إلى الجنوب حوالي (5500) كم، ويقدر عرضها من الغرب إلى الشرق حوالي (5200) كم، مما أدى إلى تفاوت الوقت بين المناطق الواقعة في أقصى الغرب عنه في المناطق الواقعة في أقصى الشرق حيث يزيد فرق التوقيت عن أربع ساعات.



▷ خريطة الصين السياسية

## مظاهر السطح الطبيعية:

تحيط المظاهر الطبيعية بالصين والتي جعلت منها واحة كبيرة تحف بها أكبر العقبات الطبيعية مثل جبال الهيماليا التي تعد أضخم الجبال وأعلاها، والمحيط الهادي والهضاب من الجنوب والغرب وصحراء جوبي في الشمال.

ألاحظ خريطة تضاريس الصين وأتعرف الآتي:

■ **السلاسل الجبلية:** تشكل حوالي (32%) من مساحة الصين ومن أبرزها جبال هيماليا في الغرب التي تقع بها أعلى قمة في العالم.



▷ خريطة تضاريس الصين

■ **الهضاب:** تشكّل حوالي (34%) ومن أبرزها هضبة التّبت التي تعدّ أعظم هضاب العالم مساحةً وأكثرها ارتفاعاً حيث يزيد ارتفاعها أحياناً عن (5000) متر ومنها تنبع مجموعة من الأنهار مثل «هوانجو» و«يانجستي» في الصّين.

■ **السهول وأحواض الأنهار:** تُشكّل السهول الرّسوبيّة أكثر من (14%) من مساحة الصّين ومن أبرزها:

- **سهل الصّين العظيم:** وهو أحد مواطن الحضارة الصّينية القديمة.
- **سهل اليانجستي:** ويجري في هذا السهل نهر «اليانجستي» (الأزرق) الذي ينبع من هضبة التّبت.
- **سهل سكيانج (اللؤلؤ):** ويجري فيه نهر «سكيانج» وهو نهر وطنيّ منبعاً ومصباً.



### الباندا العملاق

تعدّ الصّين الموطن الأصلي لحيوان الباندا العملاق، وهو يعيش في وسط وجنوب الصّين ويعد من الثدييات، ويتميز بالبقع حول العينين والأذنين وعلى جسمه بالكامل، ويهدد الباندا بخطر الانقراض بسبب الصيد الجائر والقضاء على معظم الغابات في الصّين.



أربط بالعلوم



خريطة الأقاليم المناخية والنباتية

### المناخ والنبات الطبيعيّ:

تتنوع الأقاليم المناخية في الصّين نتيجة امتدادها على 35 دائرة عرضية وتتنوع مظاهر السطح فيها وتتضح فيها الفصول الأربعة، وتحتل المنطقة المعتدلة والاستوائية معظم أراضي الصّين.

من أبرز الأقاليم المناخية السائدة في الصّين من الجنوب إلى الشّمال:

- **المناخ الموسميّ المداري:** ويسود في جنوب الصّين وتتمو فيه الغابات الموسمية المدارية التي من أهمّ أشجارها السّاج.
- **مناخ الإقليم الصيني:** ويسود شمال المناخ الموسميّ السابق، وتتمو فيه الغابات التي من أهمّ أشجارها الرّان.
- **المناخ اللورنسي:** ويسود في الشّمال من الإقليم الصيني وتتمو فيه الغابات النفضية والصنوبرية التي أزيلت معظمها.

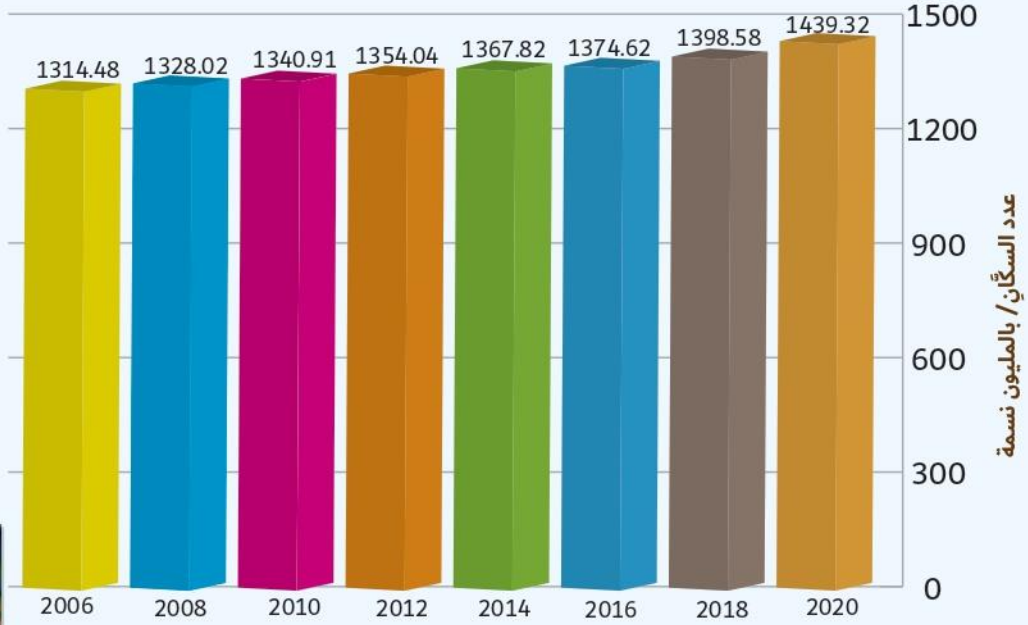
### → مفاهيم جغرافية

الغابات النفضية: كلمة "نفضية" تعني «تسقط» أو «الخروج في موسم معين»، وهذا يفسّر لنا لماذا تنفض الغابات أوراقها، أي تتساقط أوراق الأشجار عندما يأتي فصل الشتاء.

## ثانيًا: الملامح البشرية

### سُكَّانُ الصِّينِ:

الأحظُّ الرِّسْمُ البيانيُّ الذي يوضِّحُ عددُ سُكَّانِ الصِّينِ بالمليونِ نسمةً، ثمَّ أُجِيبُ عنِ الأسئلةِ التاليةِ:



1. أستنتج حقيقةً تتعلق بعدد سُكَّانِ الصِّينِ.

2. أحسبُ نسبةَ سُكَّانِ الصِّينِ في عام 2020م إلى سُكَّانِ العالمِ البالغِ عددهم (7.7) مليار نسمةً.

#### → مفاهيمٌ ومصطلحاتٌ

الأقليات: جَمَاعَةٌ تَرَبُّطُهَا أَوْاصِرُ القَرَابَةِ وَالأَصْلِ لُغَةٌ وَدِينًا وَوَطَنًا، تَعِيشُ وَسَطَ شَعْبٍ يَفُوقُهَا عَدَدًا.

\* يعيشُ على أراضِي الصِّينِ أكبرُ عددٍ من سُكَّانِ العالمِ، ويتعايشُ فيها (56) قوميةً بانسجامٍ ووثاقٍ.

\* اللُّغَةُ الرِّسْمِيَّةُ هي لُغَةُ هانَ، ولمعظمِ الأَقْلِيَّاتِ القوميةِ لُغَاتُهَا وَأَطْعَمَتُهَا وَعَادَاتُهَا وتقاليدُهَا ولُغَاتُهَا الخاصَّةُ بِهَا.

\* تطبَّقُ الصِّينُ سياسةَ حُرِّيَّةِ الاعتقادِ الدِّينِيِّ، وتتواجدُ فيها أديانٌ كثيرةٌ، منها الإسلامُ الذي دخلَ إليها في أواسطِ القرنِ السابعِ الميلادي.

\* بلغتِ نسبةُ الزيادةِ السَّكَّانِيَّةِ (0.6%) نتيجةً لتبنيِ الحُكُومَةِ الصِّينِيَّةِ سياسةَ الطِّفْلِ الواحدِ في أواخرِ السبعينياتِ من القرنِ الماضي.

## النشاط البشري:

تنوع الأنشطة البشرية في جمهورية الصين، التي تعدُّ من الدول الكبرى من حيث الإنتاج، وهي من أكبر عشر دول من حيث الناتج المحلي الإجمالي.

### → مفاهيم اقتصادية

الاستثمار: توظيف رأس المال بهدف تحقيق العائد أو الدخل أو الربح.  
النمو الاقتصادي: الزيادة المحققة المستمرة في الدخل الحقيقي للدولة على المدى الطويل.



### رافد إثنائي

#### الاقتصاد الصيني

تنفذ الحكومة الصينية خطة خمسية تستمر إلى عام 2020م بهدف تسريع وتيرة الإصلاحات الاقتصادية ومحاربة الفساد وتشجيع الاستثمار، وفتح مزيد من الأسواق أمام الصادرات الصينية، كان الرئيس الصيني قد أطلق عام 2013م مبادرته الشهيرة (حزام واحد، طريق واحد) وهي خطة طموحة لإحياء طريق الحرير القديم على طرق التجارة الدولية التي تربط بين الشرق والغرب ونجحت المبادرة في اجتذاب أكثر من (60) دولة وعدد كبير من المنظمات.

من أبرز الأنشطة التي يمارسها السكان:

#### ○ الزراعة وتربية الحيوان:

تحتل الصين مراكز متقدمة على المستوى العالمي في إنتاج:

- **الحبوب الغذائية:** يعدُّ القمح والأرز عماد الزراعة الصينية، فالقمح هو المحصول الرئيس، تليه الذرة، وتحتل الصين المركز الأول عالمياً في زراعة القمح والأرز والثانية في الذرة.
- **المحاصيل النقدية:** ويأتي القطن في مقدمتها، وتنتج الصين كميات كبيرة من الفواكه وتزرع نخيل الزيت وجوز الهند والمطاط والشاي.

### → مفاهيم جغرافية

المحصول النقدي: في الزراعة هو المحصول الذي يزرع من أجل الربح.

تعدُّ الصين من أغنى دول العالم في أنواع الحيوانات مثل الأبقار

والجواميس والأغنام والماعز والخيول، كما تُعدُّ الدولة الأولى في العالم في إنتاج الأسماك، وتقوم بتربية دودة القز لإنتاج الحرير الطبيعي حيث تعدُّ جزيرة شانججوك أكبر موطن للحرير الطبيعي في العالم.

#### ○ الثروة المعدنية ومصادر الطاقة:

الصين غنيّة بمواردها المعدنية، وتحتلُّ في بعضها مركز الصدارة في الإنتاج والاحتياطي العالمي مثل القصدير والحديد. كما أن الصين غنيّة بمصادر الطاقة، مثل النفط، والغاز الطبيعي. لقد أصبحت رائدة العالم في تكنولوجيا الطاقة الشمسية والرياح.



خريطة المعادن في الصين

## ○ الصناعة:



حققت الصناعة الصينية تطورًا واضحًا، وبخاصة في الصناعة المعلوماتية وإنتاج البرمجيات وصناعة طيران الفضاء، حيث تعدّ الصين الدولة الخامسة عالميًا في إنتاج واطلاق الأقمار الصناعية، والدولة الأولى عالميًا في صناعة المستهلكات، مثل إنتاج الدراجات وماكينات الخياطة والبطاريات والأجهزة الكهربائية والمنسوجات بأنواعها.



## المستقبل العالمي للذكاء الاصطناعي

### دولة الإمارات تستحدث منصب "وزير الذكاء الاصطناعي" في تعديلات وزارية

أعلن صاحب السمو الشيخ محمد بن راشد آل مكتوم، نائب رئيس الدولة، رئيس مجلس الوزراء، حاكم دبي -رعاه الله، عن إطلاق استراتيجية الإمارات للذكاء الاصطناعي، كأول مشروع ضخم ضمن مئوية الإمارات 2071م، والذي يمثل الموجة الجديدة بعد الحكومة الذكية، بحيث ستعتمد عليها الخدمات والقطاعات والبنية التحتية المستقبلية في الدولة. وتم تعيين عمر بن سلطان العلماء، وزير دولة للذكاء الاصطناعي، وهو بعمر 27 عامًا حيث نجح في قيادة القمة العالمية للحكومات واستراتيجية الدولة للذكاء الاصطناعي.



الصين تسعى إلى صدارة العالم في الذكاء الاصطناعي بحلول العام 2030م تتطلع الصين وفقًا لخطة الجديدة إلى أن تصبح في صدارة العالم في مجال الذكاء الاصطناعي بحلول العام 2030م. إذ حددت هذه الخطة الوطنية لتطوير الذكاء الاصطناعي جدولًا زمنيًا لنموّ الصناعات المتعلقة بالذكاء الاصطناعي. المنصة المعرفية لمؤسسة دبي للمستقبل

## هل تعلم؟

انضمت الصين إلى اتفاقية حماية التراث الثقافي والطبيعي عام 1985م، وفي المؤتمر 38 للتراث العالمي 2014م تم إدراج طريق الحرير ضمن قائمة التراث العالمي للتربية والعلوم والثقافة (اليونسكو)، ومن أبرز معالم التراث الطبيعي والثقافي في الصين: سور الصين العظيم وقصور الأباطرة والقناة الكبرى في بكين وجبل لوشان والمصيف الجبلي الإمبراطوري.

## ثالثًا: العلاقة مع دولة الإمارات العربية المتحدة

### اقرأ بتأن التقرير الآتِي:

حققت العلاقات السياسية والاقتصادية والتجارية بين دولة الإمارات العربية المتحدة وجمهورية الصين تطورًا واضحًا حيث تشير الأرقام إلى أن حجم التبادل التجاري بين البلدين قفز من (63) مليون دولار عام 1985م إلى (48.67) مليار دولار عام 2019م، فيما تخطى عدد الشركات الصينية المسجلة في الدولة الـ (4200) شركة صينية و(356) وكالة تجارية صينية وأكثر من (2500) علامة تجارية مسجلة، وبلغ رصيد الاستثمارات المباشرة للشركات الصينية في دولة الإمارات العربية المتحدة بين عامي 2018-2019م أكثر من (6.44) مليار دولار. وقد انضمت دولة الإمارات في إبريل 2015م كعضو مؤسس إلى البنك الآسيوي للاستثمار في البنية التحتية، الذي أعلنت الصين تأسيسه لدعم مشروعات البنية التحتية في البلدان الآسيوية النامية، كما تنظر دولة الإمارات العربية المتحدة إلى الصين باعتبارها حليفًا استراتيجيًا وطرفًا أساسيًا في معادلة تحقيق الانتعاش الاقتصادي والاستقرار والاستثمار الأمثل لمواردها.



وانطلاقًا من هذه الرؤية المشتركة، شهدت العلاقات بين البلدين تطورات مهمة على مختلف الأصعدة، تمثلت أبرز مظاهرها في الآتي:

1. تبادل الزيارات الرسمية على أعلى المستويات؛ بهدف تنسيق المواقف وتطوير العلاقات، وبدأت هذه الزيارات بزيارة رسمية قام بها الرئيس الصيني، آنذاك، لدولة الإمارات العربية المتحدة خلال شهر ديسمبر

1989م، فيما قام المغفور له -ياذن الله- الشيخ زايد بن سلطان آل نهيان بزيارة الصين خلال شهر مايو 1990م، ووجه الباني المؤسس -رحمه الله- أثناء زيارته التاريخية؛ بتأسيس مركز الشيخ زايد بن سلطان آل نهيان لدراسة اللغة العربية والدراسات الإسلامية في بكين، وذلك بهدف دعم مسيرة



تعليم اللغة العربية والدراسات الإسلامية في الصين، ومن أجل أن يكون المركز جسرًا متينًا يربط الحضارة الصينية بالحضارة العربية، ويعمل على تعميق مفاهيم الحوار. وخلال عام 2008م قام صاحب السمو الشيخ محمد بن راشد آل مكتوم -رعاه الله- بزيارة مهمة للصين التقى خلالها كبار المسؤولين الصينيين.

### رافدٌ إثنائيٌّ


#### الاقتصاد الصيني

شاركت دولة الإمارات في إكسبو شنغهاي عام 2010م الذي كان موضوعه «مدينة أفضل لحياة أفضل»، وتولى المجلس الوطني للإعلام مسؤولية تنظيم جناح الدولة في المعرض بالتعاون مع عدد من الوزارات والمؤسسات الوطنية وشركة مصدر. استوحى تصميم جناح الإمارات العربية المتحدة من الكثبان الرملية.

2. توّقت عرى الصداقة والتعاون بين البلدين بعلاقاتٍ شراكةٍ خلال الزيارة التي قام بها سموه للصين في ديسمبر 2015م.



3. التوافق السياسي إزاء قضايا المنطقة والعالم؛ حيثُ تتبنى الدولتان مواقفَ متشابهةً ولعلّ ما يعزّزُ هذا التفاهمَ هو وجودُ لجنةٍ إماراتيةٍ-صينيةٍ مشتركةٍ تعملُ على تطوير العلاقات الثنائية بين الدولتين إلى مستوى أفضلٍ من خلال التنسيق والتشاور، فضلاً عن تعزيز التعاون في مكافحة الإرهاب والقضاء على الجريمة.



4. منح صاحب السمو الشيخ خليفة بن زايد آل نهيان، رئيس الدولة -حفظه الله- الرئيس الصيني شي جين بينغ «وسام زايد» خلال زيارته التاريخية لدولة الإمارات العربية المتحدة، في شهر يوليو 2018م، ناقش خلالها مع صاحب السمو الشيخ محمد بن راشد آل مكتوم، نائب

رئيس الدولة رئيس مجلس الوزراء حاكم دبي - رعاه الله، وصاحب السمو الشيخ محمد بن زايد آل نهيان، ولي عهد أبوظبي نائب القائد الأعلى للقوات المسلحة - حفظه الله - سبل تعزيز الشراكة الإستراتيجية بين البلدين وفتح آفاق جديدة للعمل المشترك في مختلف القطاعات.



5. تعدُّ دولة الإمارات أكبرَ سوقٍ للمنتجات الصينية في منطقة الشرق الأوسط،

6. تركّز دولة الإمارات العربية المتحدة على فتح مجالاتٍ تعاونٍ جديدةٍ بين البلدين في إطار الشراكة الثنائية القائمة على إستراتيجية «حزام واحد، طريق واحد»، الذي تأملُ الدولة أن يمثل إطاراتٍ تفعيلٍ دورها الإقليمي وتعزيز علاقاتها الاقتصادية والتجارية مع الدُول المنضمة إلى هذه المبادرة.

## تدريس اللغة الصينية في دولة الإمارات العربية المتحدة:

توجهت وزارة التربية والتعليم إلى تدريس اللغة الصينية في بعض مدارسها ويبلغ عدد الطلبة الدارسين للغة الصينية في المدارس الحكومية للعام الدراسي 2020-2021م (30620) طالب، وطالبة في (118) مدرسة وعدد المعلمين (209) وينبغُ هذا التوجُّه من الأهمية التي تمثلها الصين والعلاقات التاريخية بين البلدين، فضلاً عما تمثله الصين الشعبية من أهميةٍ وثقلٍ عالميٍّ في التجارة والصناعة العالمية.



وتهدفُ المبادرة إلى تخريج طلبةٍ مواطنين يتمتعون بمهاراتٍ لغويةٍ متعددةٍ تؤهلهم في المستقبل لكونوا ممثلين وسفراء بلادهم في الخارج.



## الفهم والاستيعاب

أولاً

→ أفسر الآتي:

- تفاوت الوقت بين المناطق الواقعة في غرب الصين والمناطق الواقعة في شرقها.  
بسبب اتساع وامتداد الصين على 5200 كم من الغرب للشرق وعلى خطوط طول عديدة يبلغ عددها 60 خط طول
- أهمية هضبة التبت.  
تعد اعظم هضاب العالم مساحة وأكثرها ارتفاعا أحيانا عن 5000 م ومنها تتبع مجموعة من الأنهار مثل هوانجو ويانجسى في الصين
- تنامي العلاقات الإماراتية-الصينية منذ الزيارة التي قام بها الشيخ زايد بن سلطان آل نهيان -رحمه الله- للصين عام 1990 م.  
رغبة البلدين ونظرة دولة الإمارات العربية المتحدة الى الصين باعتبارها حليفا استراتيجيا وطرفا أساسيا في المعادلة تحقيق الانتعاش الاقتصادي والاستقرار والاستثمار الأمل لمواردها

→ أخص في نقاطٍ مظاهر تطور العلاقات التي شهدتها دولة الإمارات العربية المتحدة وجمهورية الصين الشعبية.

→ أقرن بين الإقليم الصيني، والإقليم الموسمي المداري وفق الجدول الآتي:



خريطة الأقاليم المناخية والنباتية

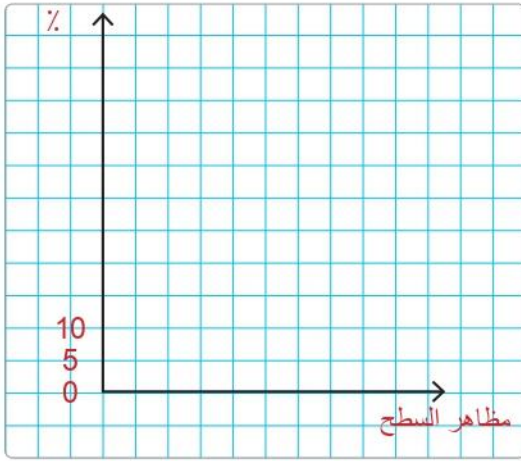
وجه المقارنة	الإقليم الصيني	الإقليم الموسمي المداري
الجهات التي يسود فيها	يسود الى الشمال من المناخ الموسمي	يسود في جنوب الصين تنمو فيه الغابات الموسمية المدارية التي من اهم اشجارها الساج
نوع النبات الطبيعي	تنمو فيه الغابات التي من اهم المدارية اشجارها الزان	تنمو فيه الغابات الموسمية التي من اهم اشجارها الساج

→ أوظف الأطلس الإلكتروني وأستخلص من خريطة جمهورية الصين دلالات الأرقام الآتية: أستعين بـ (GOOGLE EARTH)، لأرى صورة جوية لجمهورية الصين الشعبية):



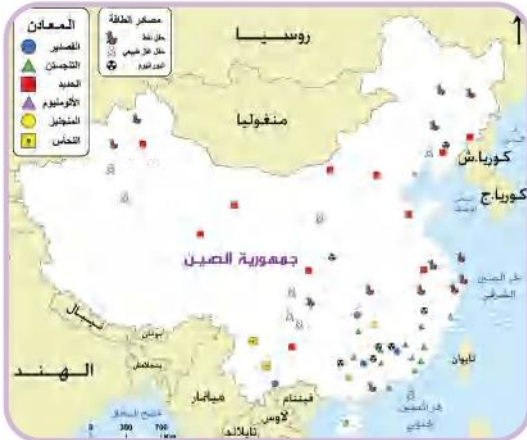
1. دولة مجاورة من جهة الشمال ..... **منغوليا**
2. عاصمة جمهورية الصين ..... **بكين**
3. مسطح مائي ..... **بحر الصين الشمالي**
4. إقليم مناخي .....

→ أمثل بيانياً - بطريقة الأعمدة - النسب التي تُمثّلها مظاهر السطح الرئيسية الثلاث في الصين (الجبال، الهضاب، السهول)، وأستخلص حقيقة واحدة من الرسم.



- .....
- .....
- .....

→ ألاحظ خريطة الثروة المعدنية ومصادر الطاقة في الصين، وأجيب عن الآتي:



1. أفسر توافر جميع أنواع المعادن ومصادر الطاقة في الصين.

..... **اتساع مساحة الصين وامتدادها الشاسع**

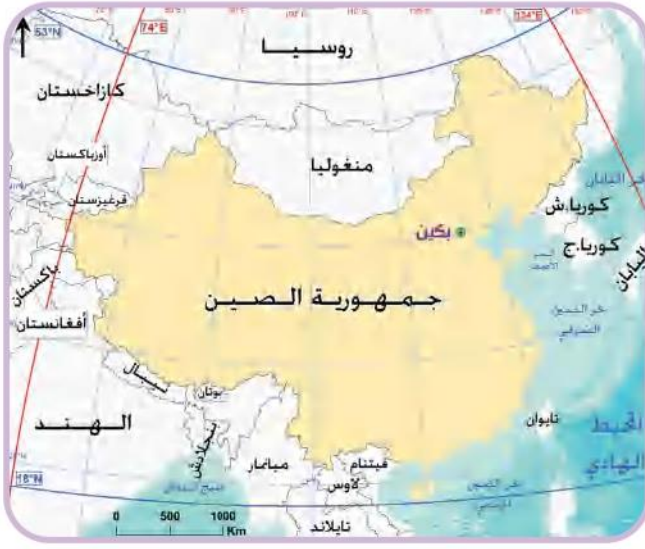
2. أستخلص أبرز المعادن ومصادر الطاقة التي تنتجها الصين.

..... **القصدير ولتجستن والحديد**

3. أبحث في مصادر التعليم المختلفة عن أهم المنتجات الصينية الموجودة في أسواق دولة الإمارات العربية المتحدة.

- .....
- .....

→ ألاحظ خريطة جمهورية الصين، ثم أجب عن الآتي:



1. أحدد على الخريطة المسطحة المائية التي تطل عليها جمهورية الصين.

2. أكتشف دولة واحدة تجاور الصين من جهة:

▪ الجنوب: فيتنام

▪ الغرب: روسيا الاتحادية الهنديا باكستان

3. أوجد مجموع عدد دوائر العرض وخطوط الطول التي تمتد عليها جمهورية الصين الشعبية.

▪ دوائر العرض 35

▪ خطوط الطول 60

→ أصنف الظاهرات الجغرافية الواردة في خريطة الصين، وفق الجدول الآتي:

سلاسل جبلية	هضاب	سهول رسوبية	أحواض أنهار
كون لون	التبت	البليستي	هوانجھو

