

# 2020

## 19 العام الدراسي

Academic Year



# امتحان الفصل الدراسي الأول

## End of Term 1 Exam

		رقم الطالب / Student No
		اسم الطالب / Student Name
		اسم المدرسة / School Name
السادس / جميع المسارات	الشعبة / Class	الصف والمسار / Grade & Stream
الدراسات الإجتماعية والتربية الوطنية		المادة / Subject

This table is to be filled by markers

يملأ هذا الجدول بدقة تامة من قبل لجنة التقدير.

المراجع Reviser	المقَدِّر 2 2 Marker	المقَدِّر 1 Marker 1	الدَّرْجَة Mark		رقم السَّوْال Question No.
			كُتَابَة In Words	رَقْمًا In Figures	
					الدَّرْجَة المَسْتَحَقَّة Allotted Mark

G6	SS
	الدراسات الإجتماعية

- يحظر تصوير أو تداول الورقة الامتحانية قبل أو أثناء أو بعد الامتحان من خلال البريد الالكتروني أو وسائل التواصل الاجتماعي أو أي وسيلة أخرى ومن يخالف ذلك سيتخذ في حقه الإجراءات القانونية المتبعة.

- على إدارات المدارس ولجان الامتحانات ومراكز التقدير مراعاة ذلك، ورصد المخالفات، واتخاذ الإجراءات اللازمة.

- It is prohibited to photocopy or circulate the exam paper before / during and after the exam through e-mail, social media or any other means; and whoever violates this will be subject to the followed legal proceedings.

- School Administrations, Exam Committees and Marking Centers shall take this into account, monitor violations and take necessary measures



**أولاً: أقرأ النص والشكل ، ثم أجب:**

**اليوم العالمي  
للعمل الإنساني**

١٩ آب/أغسطس

شعار حملة اليوم العالمي للعمل الإنساني لعام 2019م هو المرأة في العمل الإنساني ومع الاحتفال بهذا اليوم نكرم النساء العاملات في طواقم الإغاثة الإنسانية، ذلك النشاط الهادف إلى تقديم المساعدة والإغاثة للأفراد الذين يواجهون خطراً يهدد حياتهم، وتكمن أهمية العمل الإنساني في العمل بإخلاص لإسعاد الآخرين وتعزيز شعور العطاء لدى الإنسان. ونستذكر عطاء النساء ممن عالجن جرحى الحرب في أفغانستان، وساهمن في تخفيف معاناة انعدام الأمن الغذائي، وساعدن من فقدوا منازلهم وسبل عيشهم في أماكن عديدة حول العالم، كجمهورية أفريقيا الوسطى وجنوب السودان وسوريا واليمن وغيرها. والنساء يشكلن عددًا كبيرًا من الذين يعملون في مجال الإغاثة ويخاطرون بحياتهم لإنقاذ الآخرين، وغالبًا ما تكون النساء أول من يستجيب للمساعدة وآخر من يغادر الميدان، واليوم نحن بحاجة ماسة إليهن للعمل في مجال العمل الإنساني أكثر من أي وقت مضى لتعزيز الاستجابة الإنسانية العالمية لجميع الفئات.

■ - اختر الإجابة الصحيحة من بين البدائل وضع خطأ تحتها :

1 - يطلق على النشاط الذي يهدف إلى تقديم المساعدة والإغاثة للأفراد الذين يواجهون خطراً يهدد حياتهم:

a- العمل الإلزامي      b - العمل الروتيني      c- العمل الإنساني      d- العمل المجاني

2 - يصادف الاحتفال بـ " يوم العمل الإنساني " في كل عام:

a- 18 أغسطس      b - 19 أغسطس      c- 20 أغسطس      d- 21 أغسطس

3 - شاركت النساء في علاج جرحى الحرب في:

a- الصومال      b - لبنان      c- باكستان      d- أفغانستان

4 - شعار حملة اليوم العالمي للعمل الإنساني لعام 2019م يسمي:

a- المرأة في العمل الإنساني      b - الأفراد والعمل الإنساني      c- طواقم الإغاثة الإنسانية      d- التطوع

■ - استخلص من النص اثنين لكل مما يلي :

5- مفاهيم ومصطلحات.

.....

6 - أهمية العمل الإنسان.

.....

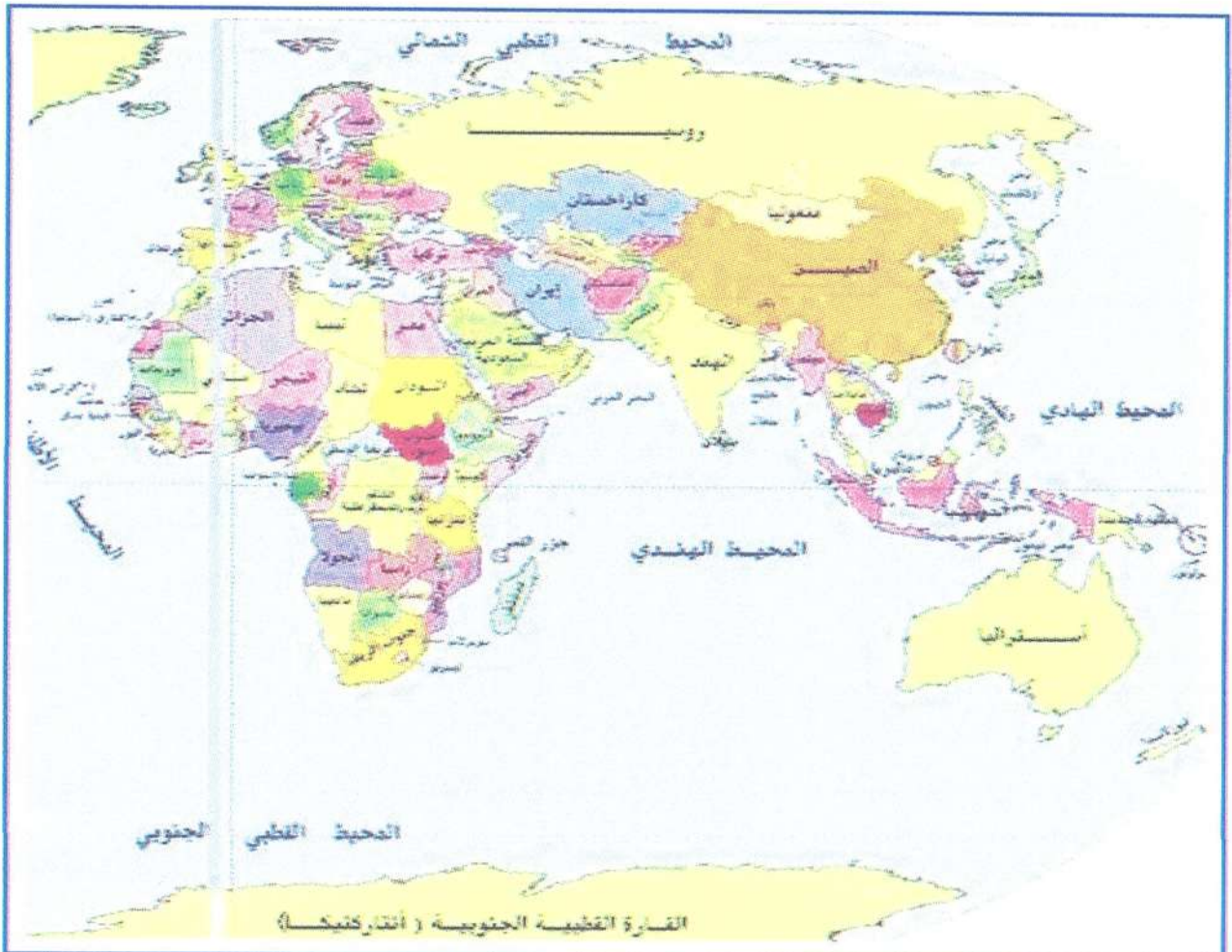
7 - أعمال النساء في طواقم الإغاثة.

.....

8 - قيم إيجابية.

.....

■ 9 - لاحظ الخريطة التي أمامك وضع دائرة حول دولتين من الدول التي ذكرت في النص.




## ثانياً: أقرأ النص ، ثم أجب:

الثورة المعلوماتية هي التدفق الهائل من المعلومات في شتى مجالات المعرفة، وإتاحة وتوفير المعلومة والوصول إليها وتبادلها وحفظها واسترجاعها بكل سهولة وسرعة، وارتبطت الثورة المعلوماتية بتطور جهاز الحاسوب، ومن أشكال الشبكة المعلوماتية الإنترنت والبريد الإلكتروني والتجارة الإلكترونية والحكومة الإلكترونية، والشخص الذي يحمل هاتفاً مدعوماً بخدمة الإنترنت يستطيع أن يبحث عما يشاء من المعلومات ويرسلها صوتاً وصورة ومقاطع فيديو، وللثورة المعلوماتية إيجابيات حيث تساعد في الوصول إلى المعلومات بسرعة ويسر، وسهلت التواصل بين الأفراد، وأسهمت في تنمية العلاقات الإنسانية، واختصرت الوقت والجهد، وساعدت الطلبة في الدراسة في المدارس والجامعات، ونتيجة الاستخدام المغلوط لهذه التقنيات ظهرت سلبيات مثل استغلال الأطفال ونشر معلومات غير صحيحة وبيث القيم والعادات السلبية، والأعمال المنافية للأداب والأخلاق، كما وقللت من قيمة الرجوع للكتاب كمصدر مهم للمعلومة، لذلك لابد من تعزيز مفهوم الرقابة الذاتية بالتوعية والتربية الدينية.

■ - استكمل العبارات الآتية بالكلمات المناسبة:

- 10- يطلق على التدفق الهائل من المعلومات في شتى مجالات المعرفة.....
- 11 - ارتبطت الثورة المعلوماتية بتطور جهاز.....
- 12 - ساعدت الثورة المعلوماتية في التواصل وتنمية العلاقات.....
- 13 - يستطيع الشخص الذي يحمل هاتفاً أن يرسل معلومات كيف ما يشاء إذا توافرت لديه خدمة.....
- - أكتب أسفل كل صورة ما تدل عليه أشكال الثورة المعلوماتية:



■ - استخلص من النص اثنتين من الإيجابيات، والسلبيات التي ترتبت على الثورة المعلوماتية:

..... .....	الإيجابيات	17 -
..... .....	السلبيات	18 -

■ - اكتب اثنتين لكل مما يلي:

19- الفئات التي تستخدم الثورة المعلوماتية.

20- مؤسسات تعتمد على الثورة المعلوماتية.

21- توصيات عند استخدام الانترنت.

18

ثالثاً: أقرأ النص ، ثم أجب:



يقع متحف ساروق الحديد بمنطقة الشندغة في بر دبي، ويرجع تاريخ تشييده إلى عام 1928م ويحتوي مكتشفات أثرية وجدت في دبي قبل 4000 عام، وقد تم اكتشاف هذه الآثار في الصحراء ، التي تمثل حقبة من تاريخ دولة الإمارات ، بموقع " ساروق الحديد " اكتشفه صاحب السمو الشيخ محمد بن راشد آل مكتوم – رعاه الله -

بنفسه عام 2002م في منطقة المرموم ، ويشتمل الموقع على منطقة أثرية واسعة تحوي كميات كبيرة من خامات المعادن وآلاف القطع الأثرية النادرة كالسيوف والخناجر وأدوات وأواني المتنوعة ، وقد صُمم شعار إكسبو 2020م دبي من مشغولات ذهبية، وهو رسالة تؤكد أن شعب دولة الإمارات ذو حضارة ضاربة في التاريخ، ورسالة للعالم بأننا كنا وسنبقى أهل تواصل ومحطة لالتقاء الحضارات وعاصمة للإبداع، وشعار إكسبو 2020 دبي عبارة عن تجميع لأنماط من نقوش ومشغولات ذهبية أبدعتها الحضارة الإماراتية، ونسجت خيوط توصلها مع حضارات أخرى ، ومنها حضارة دلمون والفرعنة والرافدين وحضارة ما وراء النهرين والسند والهند.

■ - استكمل الفراغ المقابل لكل عبارة من العبارات الموجودة في الجدول:

الرقم	العبارات	الفراغ
22 -	- يقع موقع ساروق الحديد في منطقة	.....
23 -	- يرجع تاريخ تشييد متحف ساروق الحديد لعام	.....
24 -	- مكتشف موقع ساروق الحديد الأثري هو	.....
25 -	- صُمم شعار إكسبو 2020م دبي من	.....
26 -	- يحتوي متحف ساروق الحديد على مكتشفات أثرية وجدت قبل	.....

■ - قدم إجابة واحدة لكل مما يلي :

27 - رسالة يقدمها شعار إكسبو 2020 دبي للعالم.

.....

28 - إلى ماذا يرمز له شعار إكسبو 2020 دبي.

.....

29 - من محتويات موقع ساروق الحديد.

.....

30 - تتعدد الحضارات التي تواصلت مع الحضارة الإماراتية مثل:

.....

18



رابعاً: أقرأ الأشكال الآتية ، ثم أجب:

31 - استنتج اثنين من عناصر الخريطة

غير موجودة على الخريطة.

.....

.....

32 - يشير السهم إلى جهة الشمال، وغالباً

ما يرمز له بمؤشر في أعلى الخريطة

يسمى: .....

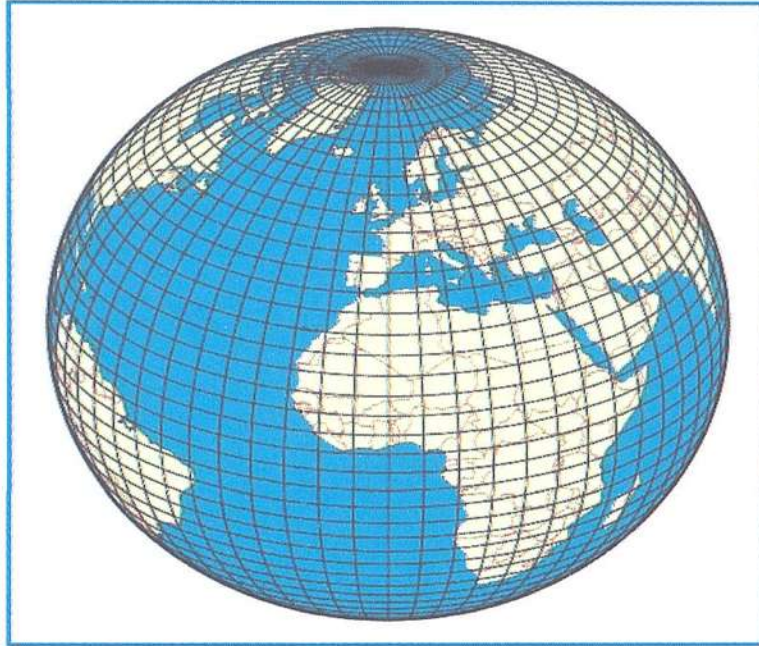
33 - الخرائط التي تمثل الظواهر التي خلقها الله سبحانه وتعالى، ولا دخل للإنسان في نشأتها يطلق عليها مفهوم: .....



34 - خطوط وهمية ترسم على أنموذج الكرة الأرضية وتبدو على شكل دوائر تامة الاستدارة هي: .....

35 - من فوائد خطوط الطول: .....

.....  
.....



36 - المسافة بالكيلومترات بين كل درجتين عرض متتاليتين تساوي: .....

37 - ينطبق خط طول (180) شرقاً وغرباً ليكونا خطاً واحداً يعرف باسم: .....

انتهت الأسئلة، دعواتنا لكم بالتوفيق والنجاح

