

تم تحميل هذا الملف من موقع المناهج الإماراتية

الملف اختبار تشخيصي الفصل الأول 2022-2023

[موقع المناهج](#) ⇨ [المناهج الإماراتية](#) ⇨ [الصف السادس](#) ⇨ [اجتماعيات](#) ⇨ [الفصل الأول](#)

روابط مواقع التواصل الاجتماعي بحسب الصف السادس



روابط مواد الصف السادس على تلغرام

[الرياضيات](#)

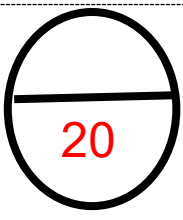
[اللغة الانجليزية](#)

[اللغة العربية](#)

[التربية الاسلامية](#)


المزيد من الملفات بحسب الصف السادس والمادة اجتماعيات في الفصل الأول

اجتماعيات تحميل كتاب الطالب	1
تحميل دليل المعلم	2
أوراق عمل	3
مراجعة درس الحضارة تعريف الحضارة- عوامل نشوء - سبب ازدهار	4
ورقة عمل المواطنة الإيجابية	5



مدرسة الأمل للصم
الاسم /
المادة : الدراسات الاجتماعية
الصف : التربية الخاصة (سادس)
التاريخ : / /

اختبار تشخيصي الفصل الدراسي الأول (2022-2023) التربية الخاصة سادس



السؤال الأول : أكمل الفراغات في الجمل التالية بكلمات مناسبة :-

(النباتات الطبيعية - التراثية - المناخ المعتدل - طب الأعشاب - الصحراء)

المناخ الإطمانية

1- ينطبق على مفهوم الطب البديل.....

2- تنمو..... من تلقاء نفسها.

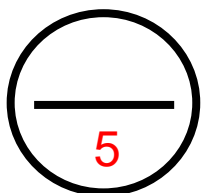
3- منطقة جغرافية قاحلة تتميز بندرة الأمطار، وقلّة الغطاء النباتي فيها.....

4- العامل الذي يجعل دولة ما غنية بالنباتات الطبيعية ، بينما دولة أخرى تكون فقيرة

منها هو.....

5- سبب اختيار شجرة الغاف لتكون رمزاً وشعاراً لعام التسامح 2019 يرجع إلى أهميتها

.....



السؤال الثاني: ضع المصطلح عند المفاهيم التالية:-

(المقايضة - العرصة - الطواش - النقود المعدنية - السوق)

المصطلح	المفهوم
	مكان التقاء البائع والمشتري لإتمام عملية البيع والشراء
	استبدال المنتجات بغيرها من المنتجات الأخرى بشكل مباشر لتوفير الحاجات
	التاجر الذي يبيع اللؤلؤ
	نقود استخدمت في صنعها المعادن ووضعت عليها صور الحكام ونقوش وأختام
	سوق يقع في قلب إمارة الشارقة ويعد من أشهر الأسواق في الإمارات

السؤال الثالث : (أ) أخترا الإجابة الصحيحة

سجل أنواع الأسواق المتخصصة في دولة الإمارات العربية المتحدة أسفل الصور الآتية

(الخضار - السمك - الذهب - الأقمشة)

4



المطبخ الإماراتية

.....

.....

.....

.....

(ب) أخترا الإجابة الصحيحة

1- من النباتات المعمرة

السدرو السمر والغاف

الحماض والفقع

العريون

1