

قِرَاءَةُ التَّمثِيلَاتِ البَيَانِيَّةِ بِالْأَعْمَدَةِ

الدَّرْسُ 6

السُّؤالُ الأَسَاسِيُّ

مِمَّنْ أَرَادَ التَّمَلُّقَ البَيَانِيَّةَ
وَأَقْرَبَهَا؟

هل أنت مُتَمَلِّقٌ
للتدريبات؟

الإِسْتِكْشَافُ والشَّرْحُ



1

6

4

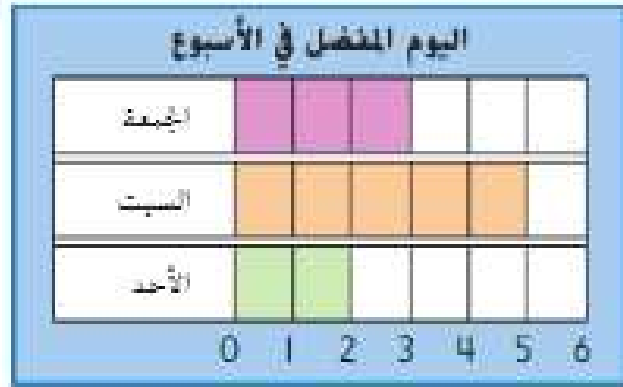


شخصاً 11

توجيهات التعلُّق: اشفرة ■ في توضيح قدم الأشعار أتمعت اعتباراً التمامات تصادق الألعاب كمشاهدة، التعلُّق. أكتب حصة من اعتباراً كل نشاط في عالم الألعاب أكتب حصة من شاركوا في استطلاع الرأي إجمالاً



تمثل الأعمدة العدد في التمثيل البياني بالأعمدة.
أنظر أين ينتهي كل عمود. اقرأ العدد.



الأحد 2

السبت 5

الجمعة 3

استخدم التمثيل البياني أعلاه في الإجابة عن الأسئلة الآتية.

1. كم شخصًا اختار يوم الأحد؟ 2
2. كم شخصًا اختار الجمعة والسبت؟ 8
3. أي يوم يُفضل عن يوم الجمعة بصوت واحد؟ الأحد
4. أي يوم يُفضل عن يوم الجمعة بصوتين؟ السبت
5. كم شخصًا شارك في استطلاع الرأي؟ 10

لم تنتهِ التمثيل البياني المُوضَّح أعلاه باسم
تمثيل بياني بالأعمدة؟

ممارسات الرياضيات



أَعْتَبِدُ عَلَى نَفْسِي

إِسْتُخْدِمِ التَّمثِيلَ الْبَيَانِيَّ فِي الْإِجَابَةِ عَنِ الْأَسْئَلَةِ.

6. كَمْ شَخْصًا اخْتَارَ شَرَايِحَ اللَّحْمِ الرَّومِيِّ؟

3

7. كَمْ زَيْدٌ قَدَّعَ عَنِ اخْتَارِهَا زَيْدَةُ الْفُولِ السُّودَانِيَّ عَقِبَ اخْتَارِهَا شَرَايِحَ اللَّحْمِ الرَّومِيِّ؟

$$8 - 3 = 5$$

8. هَلْ عَنِ اخْتَارِهَا (التُّونَةَ) أَكْثَرَ أَمْ عَنِ اخْتَارِهَا شَرَايِحَ اللَّحْمِ الرَّومِيِّ؟

التونة

9. مَا تَوَجَّعَ الشَّطِيرَةَ الْأَكْثَرَ تَفْضِيلًا مِنْ (التُّونَةَ)؟

زبدة الفول السوداني

10. هَلْ اخْتَارَ الْقَدَّعُ الْأَقْلَّ زَيْدَةُ الْفُولِ السُّودَانِيَّ أَمْ شَرَايِحَ اللَّحْمِ الرَّومِيِّ؟

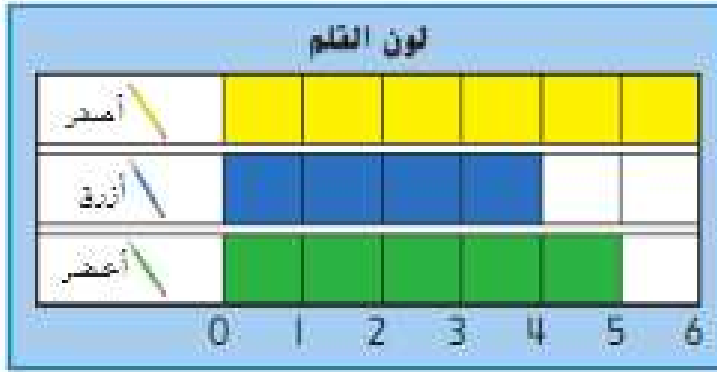
شرائح اللحم الرومي

16

11. كَمْ شَخْصًا شَارَكَ فِي اسْتِطْلَاعِ الرَّأْيِ؟



12. رسم طَلَاتِ الضَّفِّ تَمَثِيلًا تِيَارِيًّا بِالْأَصْبَةِ عَنْ أَلْوَانِ أَقْلَامِ الرِّصَاصِ الَّتِي يَسْتُخْدِمُونَهَا. مَا لَوْنُ قَلَمِ الرِّصَاصِ الَّتِي حَضَلَ عَلَى أَصْوَابِ أَقْلٍ مِنَ الْأَخْضَرِ؟



الأزرق

مسألة مهارات التفكير العليا ما نوع نبات الصبار الذي حصل على أصوات أكثر من صبار القنفذ؟ كيف عرفت؟ تفسر؟



صبار الساجوارو ، لأن صبار الساجوارو حصل على 5 أصوات و صبار القنفذ 3 . و العدد 5 اكبر من العدد 3

الدرس 6

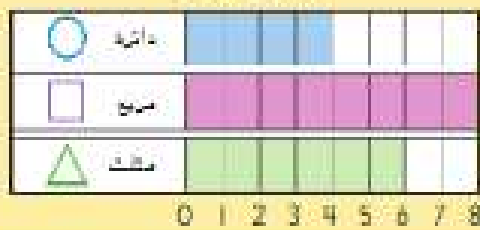
قراءة التمثيلات البيانية
بالأعمدة

واجباتي المنزلية

مُساعدُ الواجب المنزلي

مُنقِلُ الأعمدة في التمثيل البياني بالأعمدة القَدْو. أَنْظِرْ أَيْنَ تَنْتَهِي كُلُّ عمود. اِفْتَرِ العُدَّة.

الشكل المفضل



ما الشكل الذي حصلنا
أكثر الأصوات؟
الترتيب.

تَمارين

اِسْتَحْدِمِ التَّمثِيلَ البَيَانِيَّ فِي الإِجَابَةِ عَنِ الأَسْئَلَةِ.



2

1. كم طالبا يحب الرسم؟

2. ما النشاط الذي حصل على عدد أصوات أقل من اللعب؟

الرسم

إِسْتَحْدِمِ التَّمثِيلَ البَيَانِيَّ فِي الإِجَابَةِ عَنِ الأَسْئَلَةِ.



3. كم طالبًا صوّت لصالح قلم الرصاص؟

6

4. ما الأداة المدرسية التي حصلت على أقلّ من 3 أصوات؟
حقيبة الكتب

5. كم يزيد عدد الطلاب الذين صوّتوا لصالح أقلام الرصاص

$$6 - 2 = 4$$

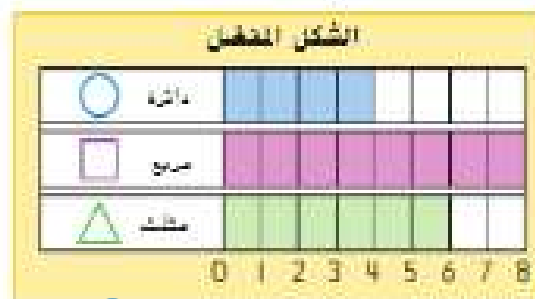
عن الطلاب الذين صوّتوا لصالح الحقيبة؟

13

6. ما إجمالي عدد الطلاب الذين شاركوا في استطلاع الرأي؟

تدريب على الاختبار

7. ما إجمالي عدد الأشخاص الذين شاركوا في استطلاع الرأي؟



20

18

8

6

الرياضيات في المنزل رسم تخطيطي باستخدام الأعداد بين فعل الشد التي يحدّها أفراد عائلته. اسأل عائلتك أسئلة تتعلق بالشخصيات بالأعداد.

