



امتحان الصف السابع  
للعام الدراسي ١٤٣٧/١٤٣٨ هـ - ٢٠١٦/٢٠١٧ م  
الدور الأول - الفصل الدراسي الثاني

- المادة: الدراسات الاجتماعية.
- زمن الإجابة: ساعة ونصف.
- عدد صفحات أسئلة الامتحان: ( ٨ ) صفحات.
- الإجابة في الورقة نفسها.

			اسم الطالب
	الصف		المدرسة

التوقيع بالاسم		الدرجة		السؤال
المصحح الثاني	المصحح الأول	بالحروف	بالأرقام	
				١
				٢
				٣
				٤
مراجعة الجمع	جمعه			المجموع
				المجموع الكلي

(١)

امتحان الصف السابع  
للعام الدراسي ١٤٣٧/١٤٣٨هـ - ٢٠١٦/٢٠١٧م  
الدور الأول - الفصل الدراسي الثاني  
المادة: الدراسات الاجتماعية

### أجب عن جميع الأسئلة الآتية

السؤال الأول: ضع دائرة حول رمز الإجابة الصحيحة لكل مفردة من المفردات الآتية:

(١) مرحلة التطور البشري التي تصفها تغريدة حساب الصف السابع المقابلة:



أ. الجمع والالتقاط.

ب. الصيد والرعي.

ج. الزراعة.

د. التجارة.

(٢) يُطلق على مناطق الاستقرار في القرى الصغيرة أو الكبيرة:

أ. الحضر. ب. الريف. ج. الزحف الحضري. د. التنمية الريفية.

(٣) الأرقام الدالة على المشكلات الاجتماعية التي تواجه الريف في الدول النامية وفقاً للجدول:

م	مشكلات تواجه الريف في الدول النامية
١	ضعف التقيد بالعادات والتقاليد.
٢	ضعف إنتاجية الأراضي الزراعية.
٣	خروج الأبناء عن نطاق الأسرة الكبيرة.
٤	ظاهرة التصحر نتيجة الرعي الجائر.

أ. (١، ٢)

ب. (٣، ٤)

ج. (١، ٣)

د. (٢، ٤)

(٤) مؤسس الدولة البابلية الثانية:

أ. نارام سن. ب. سرجون الثاني. ج. آشور بانيبال. د. نابوبولاسر.

(٥) هاجر الآراميون من شبة الجزيرة العربية قبل الميلاد، عام:

د. ١٢٠٠

ج. ٢٢٠٠

ب. ٣٢٠٠

أ. ٤٢٠٠

(٢)

امتحان الصف السابع

للعام الدراسي ١٤٣٧/١٤٣٨ هـ - ٢٠١٦/٢٠١٧ م

الدور الأول - الفصل الدراسي الثاني

المادة: الدراسات الاجتماعية

تابع السؤال الأول:



٦) الخدمة التي توفرها الحكومة العُمانية حسب الصورة المقابلة:

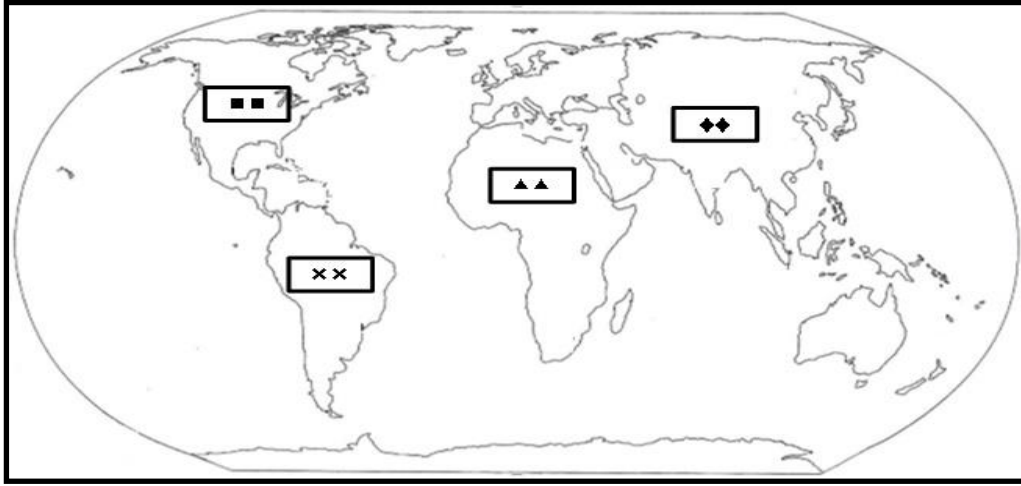
أ. المياه.

ب. التعليم.

ج. الطرق.

د. الاتصالات.

٧) الرمز النقطي الدال على القارة التي توجد بها المدينة الأسرع في النمو السكاني على مستوى العالم:



د.



ج.

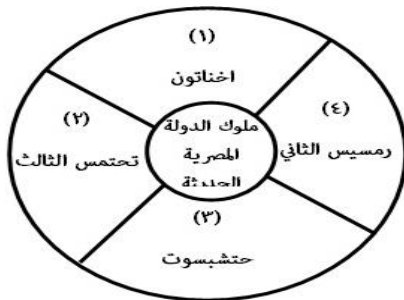


ب.

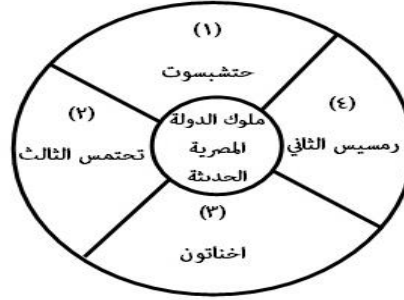


أ.

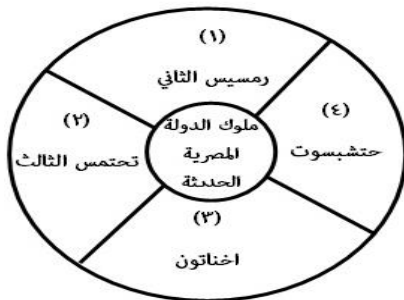
٨) الشكل الصحيح لترتيب ملوك الدولة المصرية الحديثة من الأقدم إلى الأحدث:



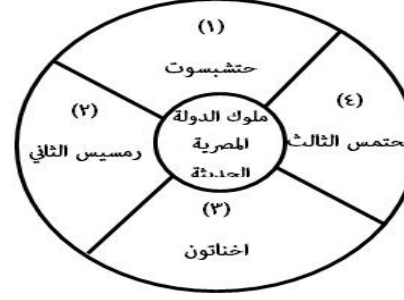
ب.



أ.



د.



ج.

(٣)

امتحان الصف السابع  
للعام الدراسي ١٤٣٧/١٤٣٨ هـ - ٢٠١٦/٢٠١٧ م  
الدور الأول - الفصل الدراسي الثاني  
المادة: الدراسات الاجتماعية

السؤال الثاني:

(أ)

١. وضح أهمية الطرق كأحد الخدمات الأساسية التي تقدمها الحكومة العُمانية للمواطن.

---

---

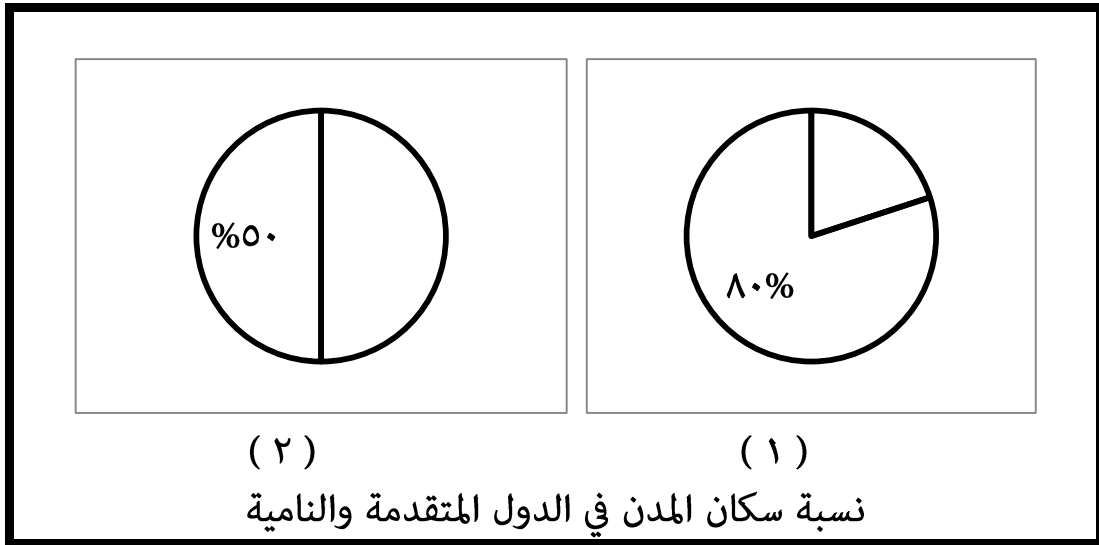
٢. صف مدن الأكواخ.

---

---

---

(ب) أمامك شكل يوضح (نسبة سكان المدن في الدول المتقدمة والنامية) ادرسه، وأجب عن الأسئلة الآتية.



١. الشكل رقم (٢) يعبر عن نسبة سكان المدن في الدول:

النامية.  المتقدمة.  ظلل الشكل المقترن بالإجابة الصحيحة)

٢. نسبة سكان المدن في الدول المتقدمة يعبر عنها الشكل رقم:

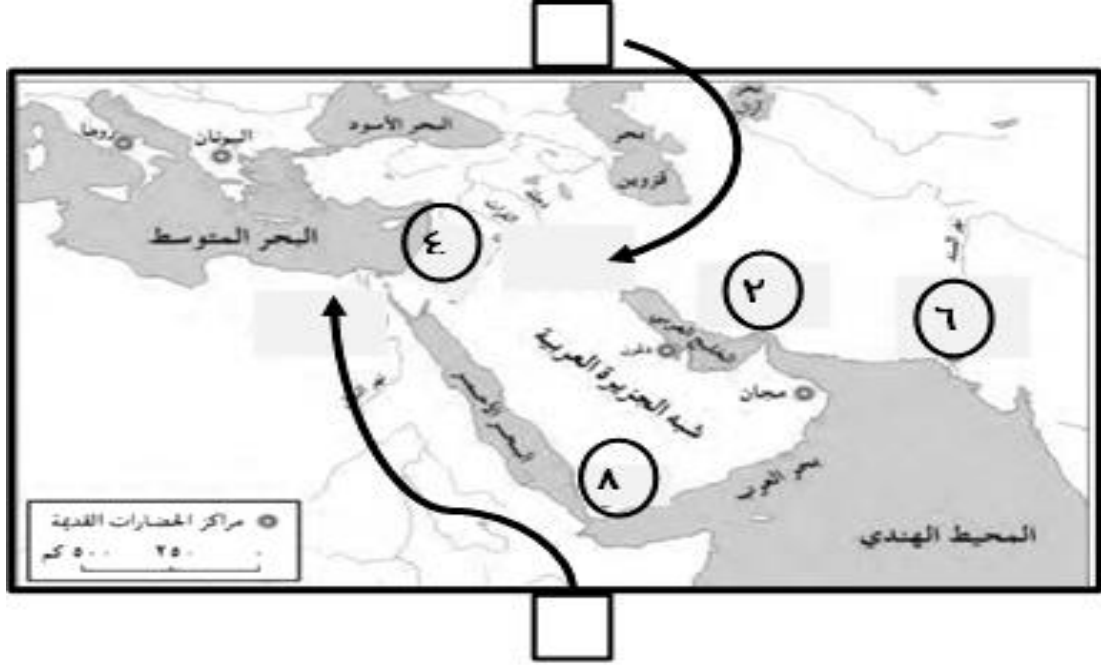
(١).  (٢).  ظلل الشكل المقترن بالإجابة الصحيحة)

(٤)

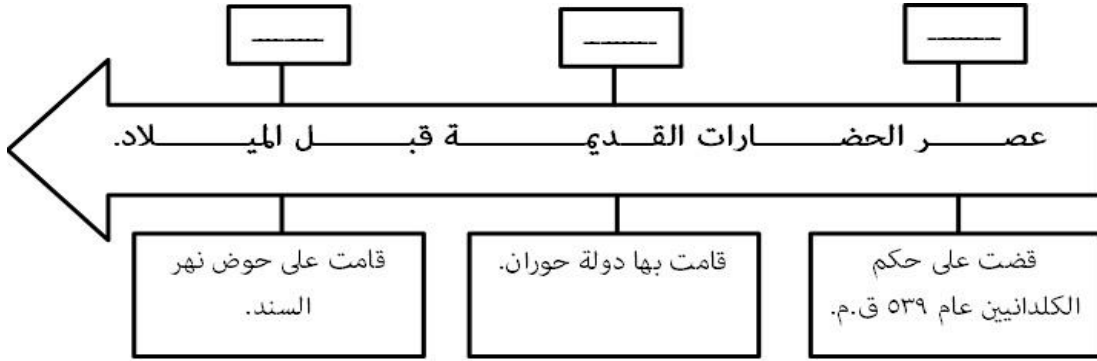
امتحان الصف السابع  
للعام الدراسي ١٤٣٧/١٤٣٨ هـ - ٢٠١٦/٢٠١٧ م  
الدور الأول - الفصل الدراسي الثاني  
المادة: الدراسات الاجتماعية

تابع السؤال الثاني:

(ج) أمامك خريطة (مراكز الحضارات القديمة) ادرسها، ثم أجب عن الأسئلة الآتية:



١- استخراج من الخريطة الرقم الدال على الحضارة التي وقعت بها الأحداث التاريخية وفقاً للمسطرة الزمنية الآتية.



٢- اكتب على الخريطة رمز كل صورة داخل المربع الدال على الموقع الصحيح للحضارة التي أنجزته.



(ب)



(أ)

يتبع/٥

(٥)

امتحان الصف السابع  
للعام الدراسي ١٤٣٧/١٤٣٨ هـ - ٢٠١٦/٢٠١٧ م  
الدور الأول - الفصل الدراسي الثاني  
المادة: الدراسات الاجتماعية

السؤال الثالث:

(أ) سمّ.

١. أقدم الشعوب التي استقرت في السهل الجنوبي للعراق منذ الألف الرابع قبل الميلاد.

٢. المحافظة العُمانية التي عُقدت فيها ندوة التصحر في مارس عام ٢٠٠٢ م.

(ب)

١. أصدر حكماً على العبارتين الآتيتين، وفقاً للجدول الآتي.

التعليل	صحيحة أو خاطئة	العبرة
		اتخذ الملك مينا لقب صاحب التاجين.
		تؤدي الهجرة من الريف إلى الحضر إلى تنمية القطاع الزراعي.

٢. لاحظ الصورة التي نشرت على حساب الصف السابع في الفيس بوك، وأكمل الجدول الآتي.



اسم الاختراع.	اسم مرحلة التطور البشري لاستخدام الاختراع.	نتيجة واحدة ترتبت على استخدام الاختراع.

(٦)

امتحان الصف السابع

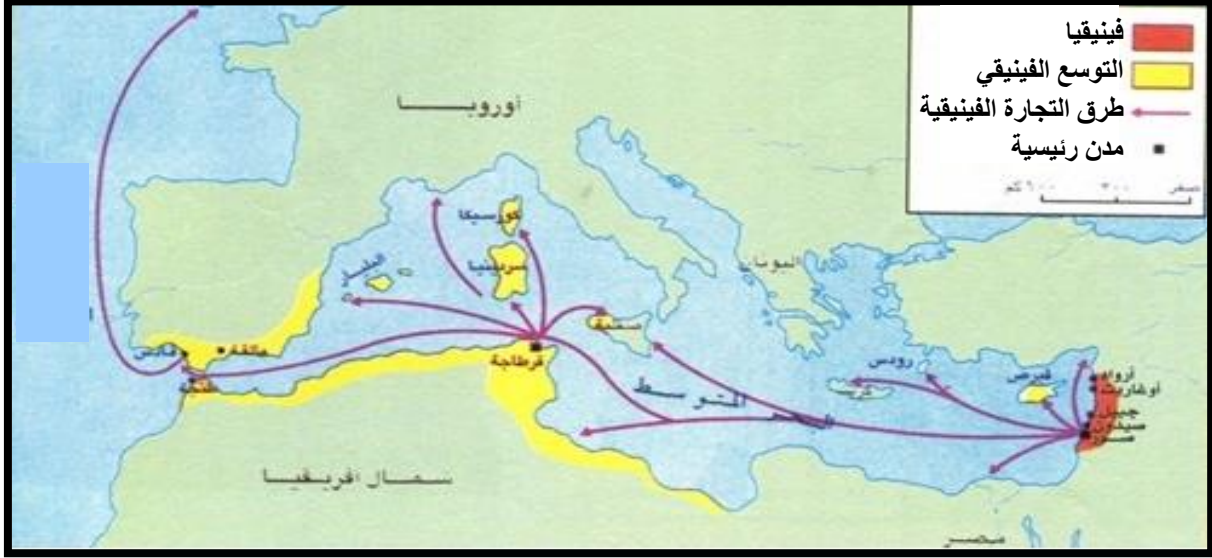
للعام الدراسي ١٤٣٧/١٤٣٨ هـ - ٢٠١٦/٢٠١٧ م

الدور الأول - الفصل الدراسي الثاني

المادة: الدراسات الاجتماعية

تابع السؤال الثالث:

ج) أمامك خريطة (المدن والمستعمرات الفينيقية) ادرسها، ثم أجب عن الأسئلة الآتية:



١. استخراج من الخريطة دلالات الرموز الموضحة في الجدول.

دلالة الرمز	شكل الرمز
_____	←
_____	■

٢. اكتب على الخريطة (المحيط الأطلسي) في الموقع الصحيح.

السؤال الرابع:

(أ)

١. أذكر واحداً من أعمال الملك حمورابي.

٢. فسر: إيجاد حكومة سلطنة عُمان برنامج المساعدات السكنية ضمن برامج الإسكان الاجتماعي.

(٧)

امتحان الصف السابع  
للعام الدراسي ١٤٣٧/١٤٣٨ هـ - ٢٠١٦/٢٠١٧ م  
الدور الأول - الفصل الدراسي الثاني  
المادة: الدراسات الاجتماعية

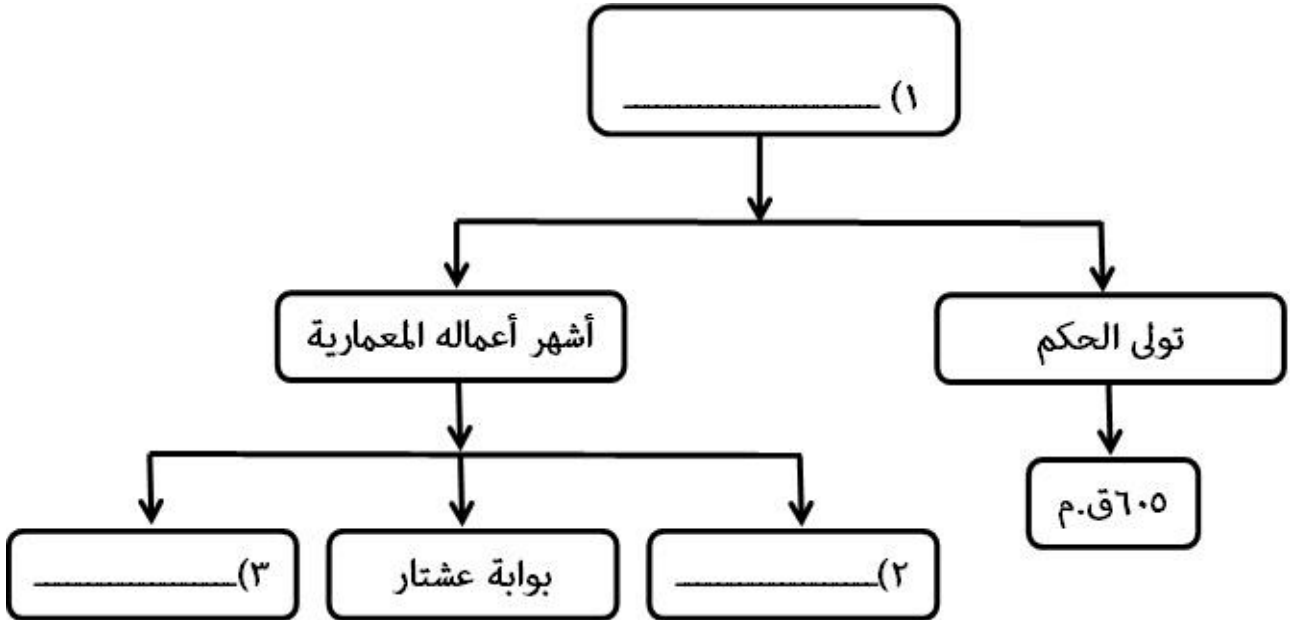
تابع السؤال الرابع:

(ب)

١. قارن بين معركة مجدو ومعركة قادش من حيث الآتي.

المعركة.	مجدو	قادش
وجه المقارنة.		
الدولة التي وقعت فيها.	_____	_____
أطراف المعركة.	_____ × حلف بعض أمراء الشام وزعماء قبائل البدو.	رسميس الثاني. × _____

٢. أكمل تصميم مخطط الشخصية التاريخية الآتية.





(٨)

امتحان الصف السابع

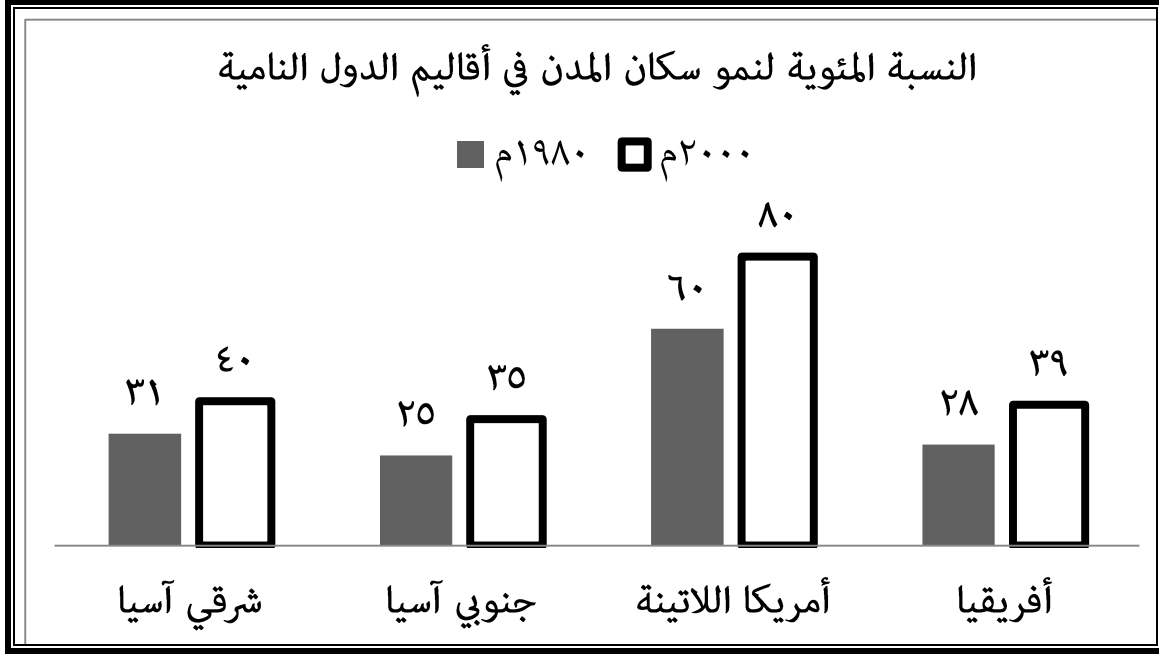
للعام الدراسي ١٤٣٧/١٤٣٨ هـ - ٢٠١٦/٢٠١٧ م

الدور الأول - الفصل الدراسي الثاني

المادة: الدراسات الاجتماعية

تابع السؤال الرابع:

١. أمامك شكل بياني (النسبة المئوية لنمو سكان المدن في أقاليم الدول النامية في العالم)، ادرسه وأجب عن الأسئلة الآتية.



٢. كم بلغت نسبة سكان المدن في إقليم جنوبي آسيا عام ٢٠٠٠م؟

٣. سمِّ الإقليم الذي يُمثل النسبة الأعلى لسكان المدن عام ١٩٨٠م.

٤. ما المرتبة التي احتلها إقليم أفريقيا عام ٢٠٠٠م؟

٥. استخراج الفرق في نسبة نمو سكان مدن إقليم شرقي آسيا بين عامي ١٩٨٠ م و ٢٠٠٠ م.

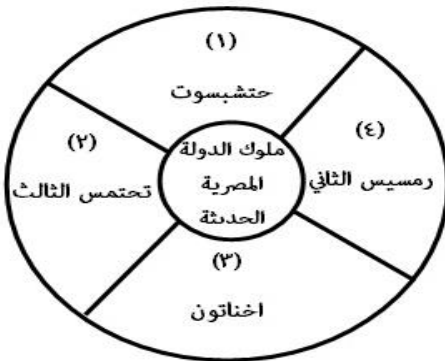
انتهت الأسئلة مع الدعاء للجميع بالتوفيق والنجاح.



نمذجة إجابة امتحان الصف السابع  
للعام الدراسي ١٤٣٧/١٤٣٨ هـ - ٢٠١٦/٢٠١٧ م  
الدور الأول - الفصل الدراسي الثاني

المادة: الدراسات الاجتماعية. الدرجة الكلية: (٤٠) درجة.  
تبيئه: نمذجة الإجابة في (٧) صفحات.

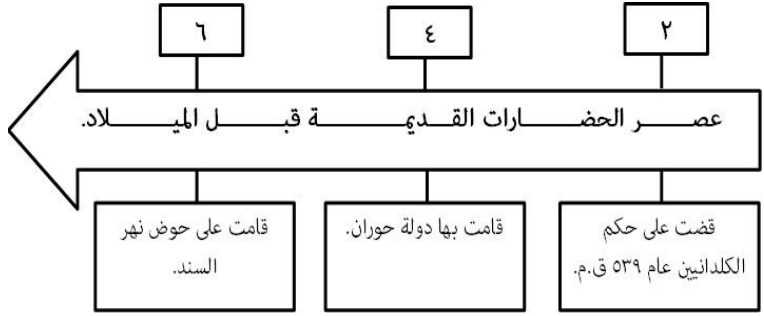
أولاً: إجابة السؤال الموضوعي:

الصفحة	الدرجة	الإجابة	البديل الصحيح	المفردة
١١	٢	الصيد والرعى.	ب	١
١٤	٢	الريف.	ب	٢
٢١	٢	(٣، ١)	ج	٣
٥٩	٢	نابوبولاسر.	د	٤
٦٥	٢	١٢٠٠.	د	٥
٣٣	٢	التعليم.	ب	٦
٢٥	٢	××	ج	٧
٤٩-٤٧	٢		أ	٨
١٦		المجموع		

(٢)

تابع نموذج إجابة امتحان الصف السابع  
للعام الدراسي ١٤٣٧/١٤٣٨ هـ - ٢٠١٦/٢٠١٧ م  
الدور الأول - الفصل الدراسي الثاني  
المادة: الدراسات الاجتماعية


ثانياً: إجابة الأسئلة المقالية:

الدرجة الكلية: (٨) درجة			إجابة السؤال الثاني		
الصفحة	الدرجة	الإجابة الصحيحة	المفردة	الجزئية	
٣٥	1/2	تربط بين التجمعات السكانية بالمدن.	١	أ	
	1/2	تربط مواقع الإنتاج بأسواق الاستهلاك والتصدير.			
لكل نصف	1/2	تعد مؤشراً على التحضر في الدولة.	٢		
	لكل نصف	ربط الدولة بالدول المجاورة. (يكتفى باثنتين)			
٢٨ - ٢٧	1/2	يراعى ما يفيد المعنى ضمن سياق الإجابات السابقة.	٢		
	لكل نصف	بناء المنزل من بقايا الخشب أو الصفيح الذي يتم الحصول عليه من مكبات النفايات أو مواضع البناء.			
٢٣	١	تفتقر المنازل إلى التخطيط (عشوائيات)، وتنمو بسرعة كبيرة نظراً لازدحامها بالسكان المهاجرين من الريف.	١		ب
	١	تنقصها الخدمات الأساسية كالمياه والصرف الصحي والكهرباء والشوارع وجمع القمامة والنفايات. (يكتفى باثنتين)			
٢٣	١	يراعى ما يفيد المعنى ضمن سياق الإجابات السابقة.	٢		
	١	النامية.			
٢٣	١	النامية.	١		
	١	النامية.			
ب (١ و ٢) - يقبل أي نوع من التظليل يدل على الإجابة الصحيحة. -تظليل الإجابتين تعتبر إجابة خاطئة.					
٥٩ ٦٣ ٥٤ (الخريطة)	١ ١ ١ لكل درجة		١	ج	

(٣)

تابع نموذج إجابة امتحان الصف السابع  
للعام الدراسي ١٤٣٧/١٤٣٨ هـ - ٢٠١٦/٢٠١٧ م  
الدور الأول - الفصل الدراسي الثاني  
المادة: الدراسات الاجتماعية

تابع ثانيا: إجابة الأسئلة المقالية:

الدرجة الكلية: (٨) درجة		تابع إجابة السؤال الثاني		
الصفحة	الدرجة	الإجابة الصحيحة	المفردة	الجزئية
٥٣	1/2	<p>أ</p>  <p>ب</p>	٢	ج
٤١	1/2	<ul style="list-style-type: none"><li>● كتابة الرمز في الموقع الصحيح على الخريطة، تعتبر إجابة صحيحة.</li><li>● كتابة اسم المنجز مقترن بالموقع الصحيح على الخريطة، تعتبر إجابة صحيحة. (الكتابة المسمارية - حضارة بلاد الرافدين) (الكتابة الهيروغليفية - الحضارة المصرية القديمة)</li></ul>		

يتبع / ٤١

(٤)

تابع نموذج إجابة امتحان الصف السابع  
للعام الدراسي ١٤٣٧/١٤٣٨ هـ - ٢٠١٦/٢٠١٧ م  
الدور الأول - الفصل الدراسي الثاني  
المادة: الدراسات الاجتماعية

تابع ثانياً: إجابة الأسئلة المقالية:

الدرجة الكلية: (٨) درجة		إجابة السؤال الثالث			
الصفحة	الدرجة	الإجابة الصحيحة		المفردة	الجزئية
٥٢	١			١	أ
٢٢	١			٢	
٤٠	$1/2+1/2$	التعليل	صحيحة أو خاطئة	العبارة	١
		لأنه اتخذ تاجاً مزدوجاً من تاج الشمال وتاج الجنوب. (تراعى لغة الطالب)	صحيحة	اتخذ الملك مينا لقب صاحب التاجين.	
١٨	$1/2+1/2$	لأن الريف يفقد كثيراً من القوى العاملة. (يراعى ما يفيد المعنى)	خاطئة	تؤدي الهجرة من الريف إلى الحضر - إلى تنمية القطاع الزراعي.	ب
١٢	٢ درجة	نتيجة واحدة ترتبت على استخدام الاختراع.	اسم مرحلة التطور البشري لاستخدام الاختراع.	اسم الاختراع.	
		تقدم الزراعة/استقرار الإنسان في تجمعات/ زيادة عدد السكان (يكتفى بوحدة) (درجة)	الزراعة (نصف درجة)	المحراث (نصف درجة)	

(٥)

تابع نموذج إجابة امتحان الصف السابع  
للعام الدراسي ١٤٣٧/١٤٣٨ هـ - ٢٠١٦/٢٠١٧ م  
الدور الأول - الفصل الدراسي الثاني  
المادة: الدراسات الاجتماعية

تابع ثانيا: إجابة الأسئلة المقالية:

الدرجة الكلية: (٨) درجة		تابع إجابة السؤال الثالث			
الصفحة	الدرجة	الإجابة الصحيحة		المفردة	الجزئية
٦٨	1/2	دلالة الرمز	شكل الرمز	١	
	1/2	<u>طرق التجارة الفينيقية</u>	←		
		<u>مدينة رئيسية</u>	■		
٦٨	١			٢	ج

يتبع ٦/

(٦)

تابع نموذج إجابة امتحان الصف السابع  
للعام الدراسي ١٤٣٧/١٤٣٨ هـ - ٢٠١٦/٢٠١٧ م  
الدور الأول - الفصل الدراسي الثاني  
المادة: الدراسات الاجتماعية

تابع ثانياً: إجابة الأسئلة المقالية:

الدرجة الكلية: (٨) درجة		إجابة السؤال الرابع											
الصفحة	الدرجة	الإجابة الصحيحة	المفردة	الجزئية									
٥٦-٥٥	1/2	<p>- توحيد بلاد ما بين النهرين.</p> <p>- الاهتمام بالزراعة والتجارة والصناعة.</p> <p>- تنظيم دولته، فأصدر القوانين والتشريعات المشهورة باسم "قوانين حمورابي".</p> <p>(يكتفى بواحد)</p> <p>• يُراعى ما يفيد المعنى ضمن سياق الإجابات السابقة.</p>	١	أ									
٣١	١	<p>- مساعدة الأسر ذات الدخل المحدود.</p> <p>- مساعدة الأسر المشمولة بالضمان الاجتماعي.</p> <p>(يكتفى بواحد)</p>	٢										
٤٨ - ٤٩	1/2+1/2	<table border="1"> <thead> <tr> <th>قادش</th> <th>مجدو</th> <th>المعركة. وجه المقارنة.</th> </tr> </thead> <tbody> <tr> <td>فلسطين/شمال فلسطين</td> <td>فلسطين</td> <td>الدولة التي وقعت فيها.</td> </tr> <tr> <td>رئيس الثاني. X الحيثيين</td> <td>تحتمس الثالث X حلف بعض أمراء الشام وزعماء قبائل البدو.</td> <td>أطراف المعركة.</td> </tr> </tbody> </table>	قادش	مجدو	المعركة. وجه المقارنة.	فلسطين/شمال فلسطين	فلسطين	الدولة التي وقعت فيها.	رئيس الثاني. X الحيثيين	تحتمس الثالث X حلف بعض أمراء الشام وزعماء قبائل البدو.	أطراف المعركة.	١	ب
قادش	مجدو	المعركة. وجه المقارنة.											
فلسطين/شمال فلسطين	فلسطين	الدولة التي وقعت فيها.											
رئيس الثاني. X الحيثيين	تحتمس الثالث X حلف بعض أمراء الشام وزعماء قبائل البدو.	أطراف المعركة.											

يتبع ٧/

(٧)

تابع نموذج إجابة امتحان الصف السابع  
للعام الدراسي ١٤٣٧/١٤٣٨ هـ - ٢٠١٦/٢٠١٧ م  
الدور الأول - الفصل الدراسي الثاني  
المادة: الدراسات الاجتماعية

تابع ثانيا: إجابة الأسئلة المقالية:

الدرجة الكلية: (٨) درجة		تابع إجابة السؤال الرابع		
الصفحة	الدرجة	الإجابة الصحيحة	المفردة	الجزئية
٥٩	1/2 1/2 1/2	<p>(١) بنوخذ نصر الثاني</p> <p>أشهر أعماله المعمارية</p> <p>تولى الحكم</p> <p>٦٠٥ ق.م</p> <p>(٢) برج بابل</p> <p>(٣) الحدائق المعلقة</p> <ul style="list-style-type: none"> <li>لا يشترط الترتيب في إجابة (أشهر أعماله المعمارية).</li> <li>(المعابد والقصور) تعتبر إجابة صحيحة.</li> </ul>	٢	ب
٢٤	1/2		١	ج
٢٤	١		٢	
٢٤	١		٣	
٢٤	1/2	<p>٤٠ - ٣١ = ٩% (تسعة بالمئة)</p> <ul style="list-style-type: none"> <li>المطلوب القيمة العددية، ولا يشترط إجراء العملية الحسابية.</li> </ul>	٤	

نهاية نموذج الإجابة