

تم تحميل هذا الملف من موقع المناهج العُمانية



\*للحصول على أوراق عمل لجميع الصفوف وجميع المواد اضغط هنا

<https://almanahj.com/om>

\* للحصول على أوراق عمل لجميع مواد الصف الثاني اضغط هنا

<https://almanahj.com/om/2>

\* للحصول على جميع أوراق الصف الثاني في مادة رياضيات ولجميع الفصول, اضغط هنا

<https://almanahj.com/om/2math>

\* للحصول على أوراق عمل لجميع مواد الصف الثاني في مادة رياضيات الخاصة بـ الفصل الثاني اضغط هنا

<https://almanahj.com/om/2math2>

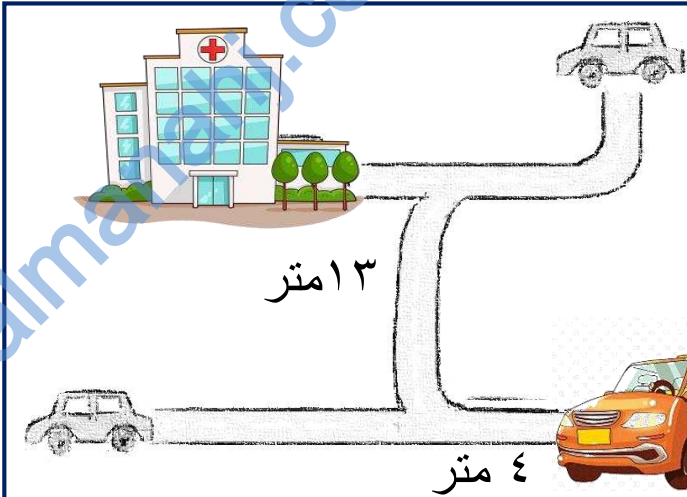
\* لتحميل كتب جميع المواد في جميع الفصول للـ الصف الثاني اضغط هنا

<https://almanahj.com/om/grade2>

للتحدث إلى بوت على تلغرام: اضغط هنا

[https://t.me/omcourse\\_bot](https://t.me/omcourse_bot)

## استقصاء



قطع ناصر مسافة ٤ متر  
ثم قطع مسافة ١٣ متر لكي  
يصل الى المستشفى  
احسب المسافة التي قطعها ناصر؟  
.....



يريد حسن و علي حساب سعة كل من دلوهما يستخدم علي وحسن  
ابريقا سعة لتر واحد لملء الدلو بالماء .

- ١- كم ابريقا يحتاج حسن لملئ الدلو ؟..... ابريق
- ٢- كم ابريقا يحتاج علي لملئ الدلو ؟..... ابريق
- ٣- اذا اراد علي استخدام ابريق سعة ٢ لتر كم يحتاج لملء  
دلوه ؟..... ابريق

أحمد



يقول احمد ان لديه  
واحد كيلو غرام

سالم



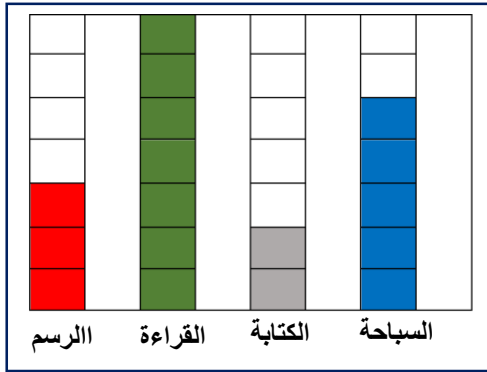
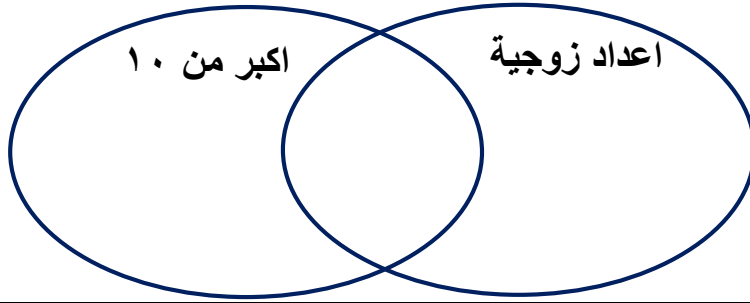
يقول سالم ان لديه  
واحد كيلو غرام

- ٢- أيهما علي حق؟.....
- ٣- وضح ذلك؟.....

سؤال قصير ٣ الصف الثاني رياضيات

الاسم ..... الصف .....

١ ضع الاعداد التالية في مخطط فن ( ٤ - ٨ - ١٢ - ١٥ - ١٦ )

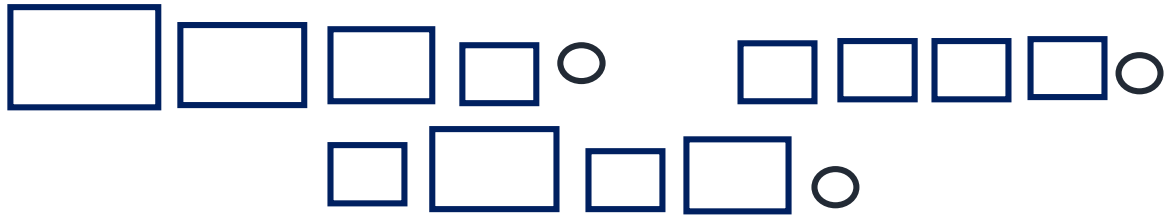


٢ من خلال الرسم البياني اجب عن الأسئلة التالية

١- كم عدد التلاميذ الذين يفضلون السباحة؟

٢- ما الهواية الأكثر تفضيلا بين الطلاب؟

٣ اختر التراكيب التي تتداخل مع بعضها البعض



٤ باستخدام المسطرة ارسم خط بطول ٥ سم

٥ كم غرام في الكيلو غرام؟

١٠٠ غرام

١٠٠٠٠ غرام

١٠٠٠ غرام