

تم تحميل هذا الملف من موقع المناهج العمانية



الملف أسئلة الاختبار النهائي الرسمي

[موقع المناهج](#) ⇨ [المناهج العمانية](#) ⇨ [الصف الثاني عشر](#) ⇨ [هذا وطني](#) ⇨ [الفصل الثاني](#)

روابط مواقع التواصل الاجتماعي بحسب الصف الثاني عشر



روابط مواد الصف الثاني عشر على تلغرام

[الرياضيات](#)

[اللغة الانجليزية](#)

[اللغة العربية](#)

[التربية الاسلامية](#)

المزيد من الملفات بحسب الصف الثاني عشر والمادة هذا وطني في الفصل الثاني

ملخص شرح درس صناعه السياحه العمانية بين التنوع والاستدامة	1
ملخص هذا وطني في العراق والمجد	2
كراسة أنشطة وأسئلة واختبارات امتحانية شاملة	3
مذكرة أنشطة وأسئلة هامة من مقتطفات نماذج إمتحانية	4
مقرر الدروس المحذوفة والمطلوبة حسب وثيقة المحتوى التدريسي في ظل جائحة الكورونا	5



مركز القياس والتقويم التربوي
The Center for Educational Assessment
and Measurement (CEAM)



سَلْطَنَةُ عُومَانِ
وَزَارَةُ التَّرْبِيَةِ وَالتَّعْلِيمِ

امتحان دبلوم التعليم العام للعام الدراسي ١٤٤٢ هـ - ٢٠٢٠ / ٢٠٢١ م الدور الأول

- تنبيه:**
- المادة: الدراسات الاجتماعية (هذا وطني في العراقة والمجد).
 - الأسئلة في (١٤) صفحة.
 - زمن الإجابة: ثلاث ساعات.
 - الإجابة في الورقة نفسها.

تعليمات مهمة:

- يجب على الممتحن التأكد من استلام دفتر امتحانه، مغلفاً بغلاف بلاستيكي شفاف وغير ممزق، وهو مسؤول عنه حتى يسلمه لمراقبي اللجنة بعد الانتهاء من الإجابة.
- يجب الالتزام بضوابط إدارة امتحانات دبلوم التعليم العام وما في مستواه وأية مخالفة لهذه الضوابط تعرضك للتدابير والإجراءات والعقوبات المنصوص عليها بالقرار الوزاري رقم ٥٨٨ / ٢٠١٥.
- يقوم المتقدم بالإجابة عن أسئلة الامتحان المقالية بقلم الحبر (الأزرق أو الأسود).
- يقوم المتقدم بالإجابة عن أسئلة الاختيار من متعدد بتظليل الشكل () وفق النموذج الآتي:
س - عاصمة سلطنة عمان هي:
القاهرة () الدوحة ()
مسقط () أبوظبي ()
- ملاحظة: يتم تظليل الشكل () باستخدام القلم الرصاص وعند الخطأ، امسح بعناية لإجراء التغيير.
- يجب على الممتحن الامتثال لإجراءات التفتيش داخل المركز طوال أيام الامتحان.
- يجب إحضار أصل ما يثبت الهوية وإبرازها للعاملين بالامتحانات.
- يجب الالتزام بالزي (الدشداشة البيضاء والمصر أو الكمة للذكور) والزي المدرسي للطالبات، ويستثنى من ذلك الدارسون من غير العمانيين بشرط الالتزام بالذوق العام، ويمنع على جميع المتقدمين ارتداء النقاب داخل المركز وقاعات الامتحان.
- يحظر على الممتحنين اصطحاب الهواتف النقالة وأجهزة النداء الآلي وآلات التصوير والحواسيب الشخصية والساعات الرقمية الذكية والآلات الحاسبة ذات الذاكرة التخزينية والمجلات والصحف والكتب الدراسية والدفاتر والمذكرات والحقائب اليدوية والآلات الحادة أو الأسلحة أيّاً كان نوعها وأي شيء له علاقة بالامتحان.

صحيح () غير صحيح ()
صحيح () غير صحيح ()
صحيح () غير صحيح ()
صحيح () غير صحيح ()
صحيح () غير صحيح ()
صحيح () غير صحيح ()

مُسَوِّدَةٌ، لا يتم تصحيحها

almanahj.com/om

أجب عن جميع الأسئلة الآتية

أولاً: الأسئلة الموضوعية:

ظلل الشكل (○) المقترن بالإجابة الصحيحة لكل مفردة من المفردات الآتية:

(١) الدولة التي عيّنت سعيد بن خلفان البوسعيدي قنصلاً لها بمسقط عام ١٨٤١م:

○ بريطانيا. ○ فرنسا.

○ اليابان. ○ الصين.

(٢) الخريطة الصحيحة التي توضح مواقع أحواض بناء السفن في عهد السيد سعيد بن سلطان:



○



○



○



○

لا تكتب في هذا الجزء

تابع أولًا: الأسئلة الموضوعية:

(٣) الجدول الصحيح الذي يربط بين المواقع والأحداث التاريخية لحياة الإمام أحمد بن سعيد:

الموقع	الحدث التاريخي
صحار	ولادته
أدم	واليا عليها
الرستاق	عاصمته

○

الموقع	الحدث التاريخي
أدم	ولادته
صحار	واليا عليها
الرستاق	عاصمته

○

الموقع	الحدث التاريخي
الرستاق	ولادته
أدم	واليا عليها
صحار	عاصمته

○

الموقع	الحدث التاريخي
صحار	ولادته
الرستاق	واليا عليها
أدم	عاصمته

○

(٤) المخطط الصحيح الذي يربط بين العلماء ومؤلفاتهم:



○

○

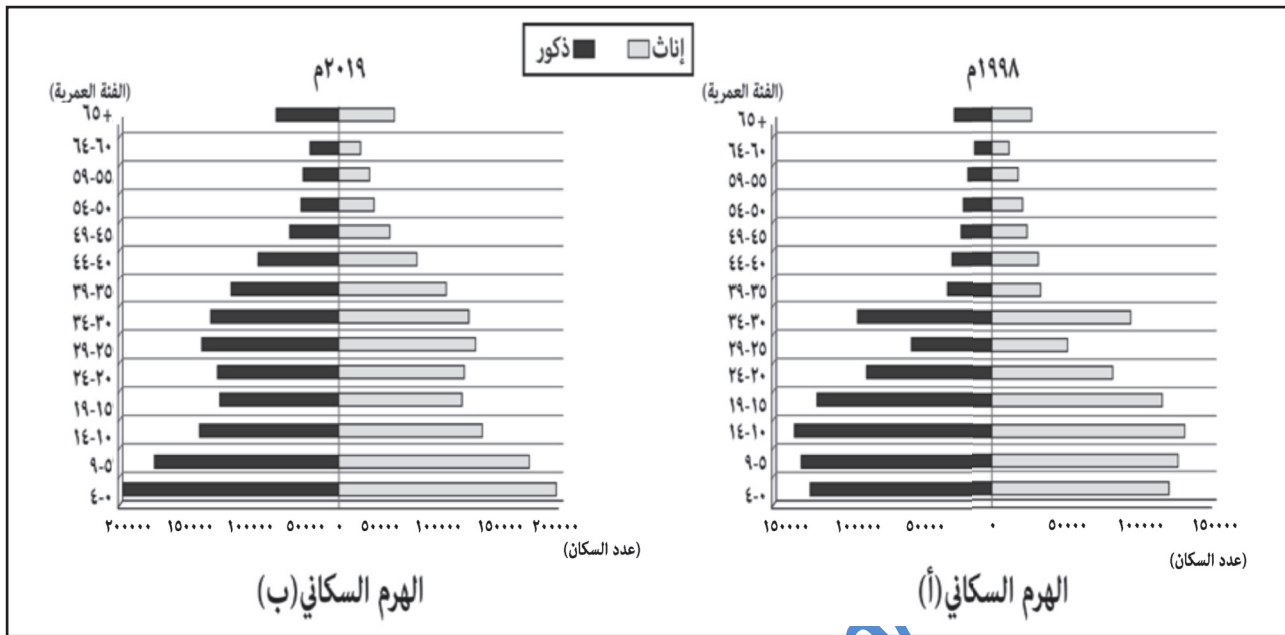
○

○

لا تكتب في هذا الجزء

تابع أولاً: الأسئلة الموضوعية:

٥) الجدول الصحيح الذي يصف الوضع السكاني لسلطنة عُمان كما يوضحه الهرم السكاني الآتي لعامي ١٩٩٨م و ٢٠١٩م:

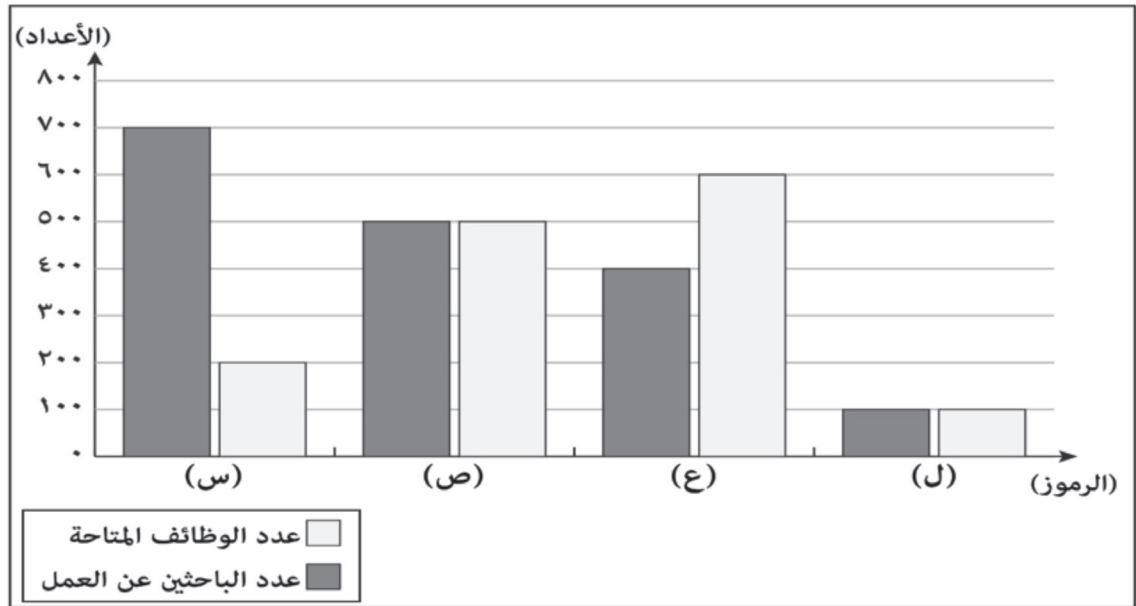


الهرم السكاني	(أ)	(ب)	
الفئة العمرية الأكثر في عدد السكان	سنة (١٩-١٥)	سنة (١٤-١٠)	<input type="radio"/>
الفئة العمرية الأقل في عدد السكان	سنة (٥٩-٥٥)	سنة (٥٤-٥٠)	<input type="radio"/>
الهرم السكاني	(أ)	(ب)	
الفئة العمرية الأكثر في عدد السكان	سنة (١٤-١٠)	سنة (٤-٠)	<input type="radio"/>
الفئة العمرية الأقل في عدد السكان	سنة (٦٤-٦٠)	سنة (٦٤-٦٠)	<input type="radio"/>
الهرم السكاني	(أ)	(ب)	
الفئة العمرية الأكثر في عدد السكان	سنة (١٤-١٠)	سنة (٩-٥)	<input type="radio"/>
الفئة العمرية الأقل في عدد السكان	سنة (٥٤-٥٠)	سنة (٥٩-٥٥)	<input type="radio"/>
الهرم السكاني	(أ)	(ب)	
الفئة العمرية الأكثر في عدد السكان	سنة (٩-٥)	سنة (١٩-١٥)	<input type="radio"/>
الفئة العمرية الأقل في عدد السكان	سنة (٥٤-٥٠)	سنة (٥٤-٥٠)	<input type="radio"/>

لا تكتب في هذا الجزء

تابع أولاً: الأسئلة الموضوعية:

- (٦) الوزارة التي تتبع لها المديرية العامة للتشغيل في سلطنة عُمان:
- الاقتصاد. العمل.
- المالية. الداخلية.
- (٧) القطاع الاستثماري الذي يمثله مشروع (مدينة خزائن الاقتصادية) في سوق العمل العماني:
- الصناعات التحويلية. التعدين.
- الخدمات اللوجستية. السياحة.
- (٨) الرمز الذي ينطبق عليه مفهوم سوق العمل الراكد كما في الرسم البياني الآتي:



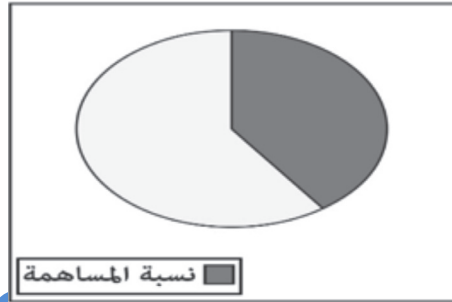
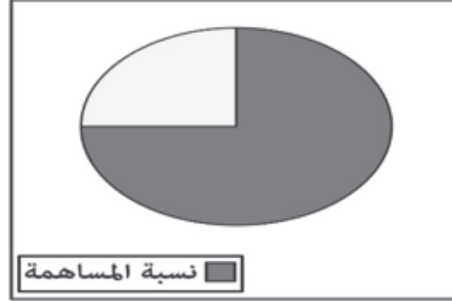
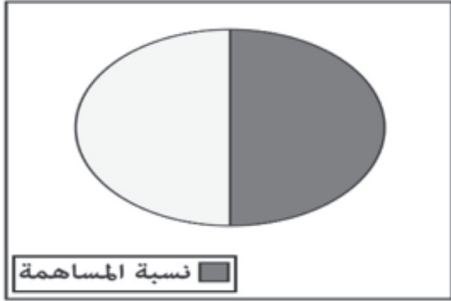
- ل ع
- ص س

- (٩) تصنف أي مؤسسة ضمن المؤسسات المتوسطة إذا بلغ حجم إيراداتها السنوية بالريال العماني:
- أقل من (١٥٠,٠٠٠)
- من (١٥٠,٠٠٠) إلى أقل من (١,٢٥٠,٠٠٠)
- من (١,٢٥٠,٠٠٠) إلى أقل من (٥,٠٠٠,٠٠٠)
- أكثر من (٥,٠٠٠,٠٠٠)


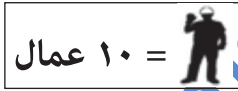
لا تكتب في هذا الجزء

تابع أولاً: الأسئلة الموضوعية:

١٠) الدائرة البيانية التي تمثل النسبة التقريبية لمساهمة المؤسسات الصغيرة والمتوسطة في الناتج المحلي الإجمالي للولايات المتحدة الأمريكية عام ٢٠١٧م:



١١) الشكل الذي يمثّل مؤسسة صناعية صغيرة وفقاً لمعيار أعداد العاملين المعتمد لتصنيف المؤسسات الصغيرة والمتوسطة في سلطنة عُمان حسب المفتاح الآتي = ١٠ عمال :



لا تكتب في هذا الجزء

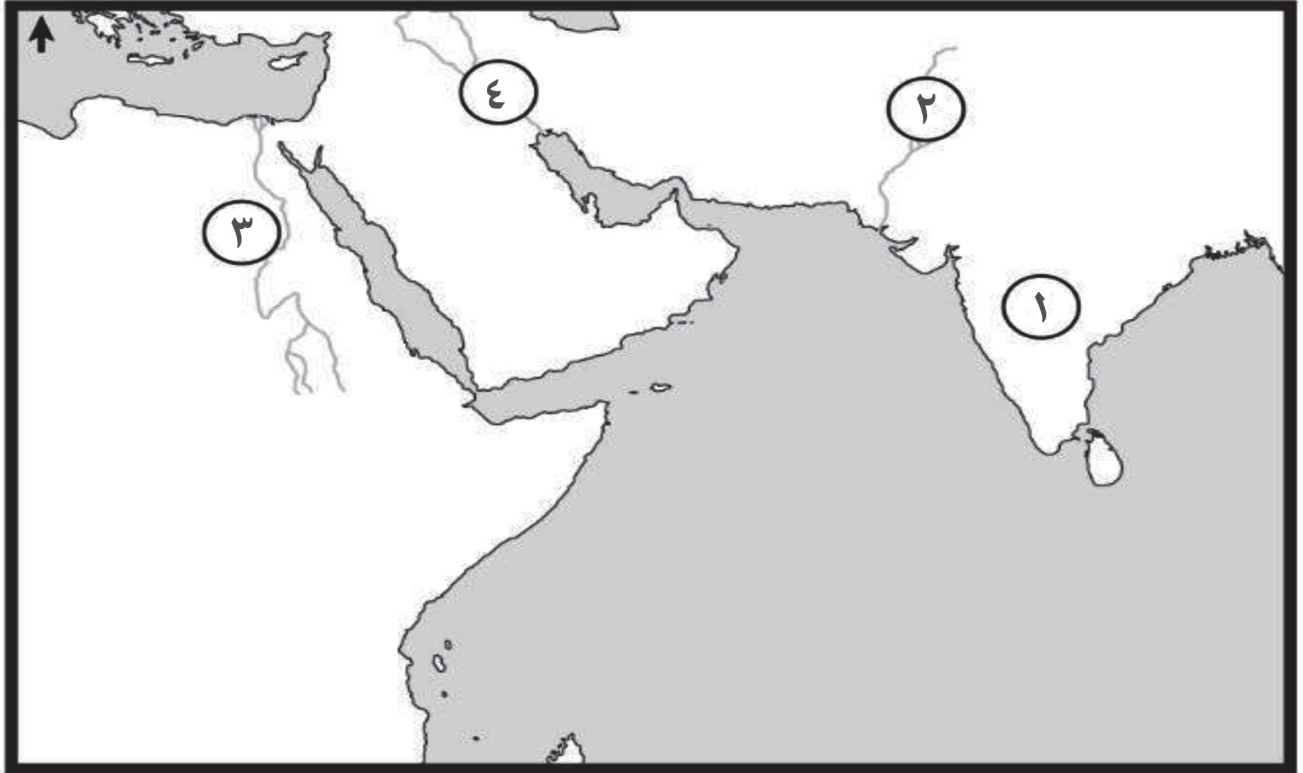
تابع أولًا: الأسئلة الموضوعية:

١٢) اليوم الذي تحتفل فيه القوات المسلحة العُمانية بيومها السنوي:

○ ١١ سبتمبر. ○ ٢١ سبتمبر.

○ ١١ ديسمبر. ○ ٢١ ديسمبر.

١٣) الجهات الصحيحة التي تقع فيها الحضارات القديمة المشار إليها بالأرقام على الخريطة بالنسبة لموقع عُمان:



○ ١ الغرب.
○ ٢ الشمال الشرقي.
○ ٣ الشرق.
○ ٤ الشمال الغربي.

○ ١ الشمال الغربي.
○ ٢ الغرب.
○ ٣ الشمال الشرقي.
○ ٤ الشرق.

○ ١ الشرق.
○ ٢ الشمال الغربي.
○ ٣ الغرب.
○ ٤ الشمال الشرقي.

○ ١ الشرق.
○ ٢ الشمال الشرقي.
○ ٣ الغرب.
○ ٤ الشمال الغربي.


لا تكتب في هذا الجزء

تابع أولاً: الأسئلة الموضوعية:

١٤) المصطلح الذي يعني الاستخدام المسؤول والأخلاقي والأمن لتكنولوجيا المعلومات والاتصالات:

- الفجوة الرقمية. الثورة الرقمية.
 المواطنة الرقمية. الشبكة الرقمية.

١٥) الأثر السلبي للثورة المعرفية على الجوانب الاجتماعية والذي تعبر عنه الصورة الآتية:



- تعزيز الهوية الوطنية.
 زيادة العزلة الاجتماعية.
 اكتساب القيم والاتجاهات.
 تقوية الروابط الأسرية.

ثانياً: الأسئلة المقالية:

١٦) أ. اذكر نتيجة واحدة إيجابية لكل من:

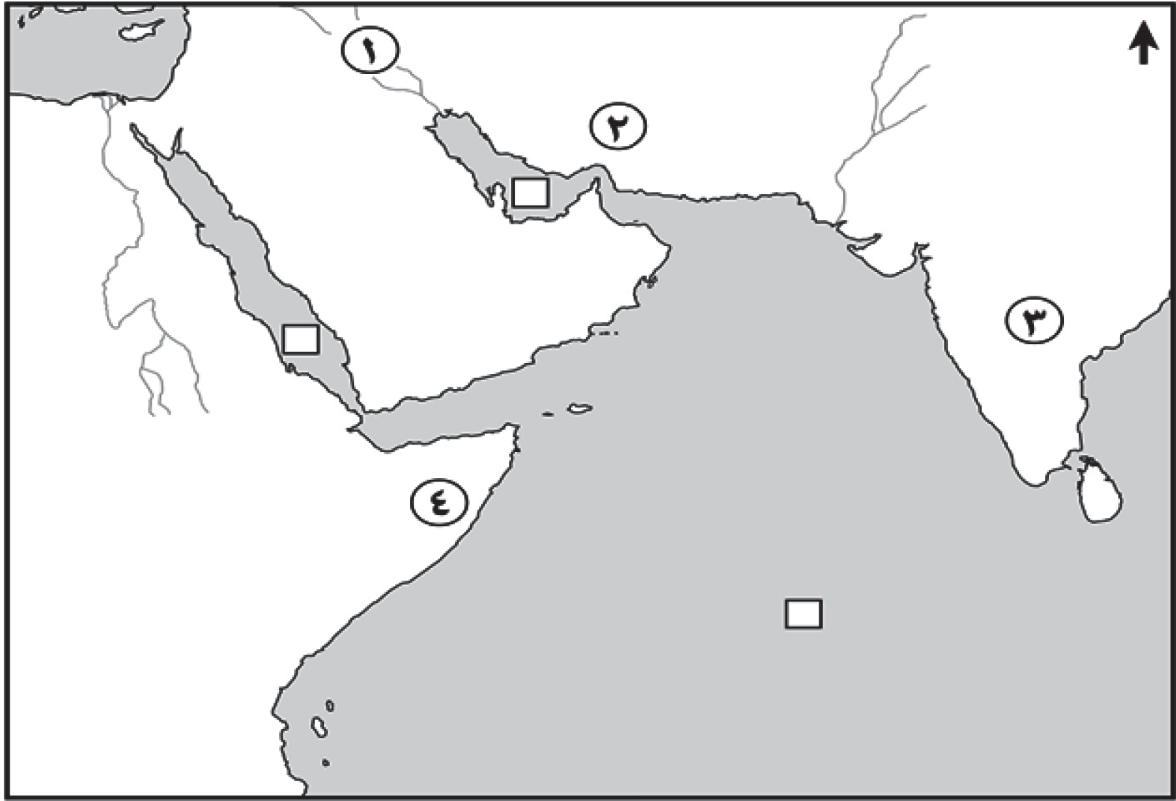
(١) الأوضاع السياسية غير المستقرة في عُمان في أواخر العصر اليعربي.

(٢) إدخال السيد سعيد بن سلطان زراعة محصول القرنفل إلى زنجبار عام ١٨٤٢م.

لا تكتب في هذا الجزء

تابع ثانيًا: الأسئلة المقالية:

ب. ادرس الخريطة الآتية، ثم أجب عن الأسئلة التي تليها.



(١) ما الرقم الذي يشير إلى البلد الذي استورد منه العُمانيون الملح في أواخر القرن الثامن عشر الميلادي؟

(٢) ما الرقم الذي يشير إلى الدولة التي عقد معها السلطان سعيد بن تيمور اتفاقية صداقة وعلاقات اقتصادية؟

(٣) ضع دائرة حول الجزيرة التي استقبل ميناؤها (٤١) سفينة تجارية أجنبية خلال الفترة (١٨٣٢-١٨٣٤) م.

(٤) ظلل المربع (□) الموجود في المسطح المائي الذي فرض الأسطول العُماني سيادته عليه في عهد السيد سلطان بن أحمد.

لا تكتب في هذا الجزء

تابع ثانيًا: الأسئلة المقالية:

(١٧) أ. ادرس النص الآتي، ثم أجب عن الأسئلة التي تليه.

"توسعت عُمان في علاقاتها في عهد السلطان قابوس بن سعيد - طيب الله ثراه - بفضل سياسة السلام التي اتبعها، حيث اتخذ السلم والحوار، وعدم التدخل في شؤون الغير منهاجًا في سياسته الخارجية، ودعا إلى حل جميع المشاكل الإقليمية والعالمية بالطرق السلمية، كما اتخذ السلطان دور الوسيط في حل الكثير من الخلافات إقليميًا وعالميًا؛ مما أكسب سلطنة عُمان محبة العالم وأصبحت مرسى السلام والأمان".

(١) استخراج من النص مبادئ سياسة السلام التي اتبعها السلطان قابوس (طيب الله ثراه).

(٢) ما الدور الذي قام به السلطان قابوس - طيب الله ثراه - لحل الخلافات الإقليمية والعالمية؟

(٣) استنتج من النص النتيجة المترتبة على سياسة السلام التي اتبعها السلطنة.

ب. برهن على العلاقات العُمانية البريطانية في عهد كُ من:

(١) السيد سلطان بن أحمد البوسعيدي.

(٢) السيد سعيد بن سلطان.

لا تكتب في هذا الجزء

تابع ثانيًا: الأسئلة المقالية:

ج. عدد ثلاثاً من نتائج حراك المؤسسات الكبرى لإعادة هيكلتها وتحقيق أرباح عالية لمواجهة المنافسة الدولية.

١٨ أ. اكتب اسم المفهوم أو المصطلح الدال على العبارات الآتية.

م	العبرة	المفهوم أو المصطلح
(١)	مجموعة من السمات والخصائص المشتركة؛ منها الثقافية والاجتماعية والجغرافية والتاريخية التي تُشعر الفرد بانتمائه وولائه لوطنه.	
(٢)	مؤسسة حكومية تُعنى بتطوير المؤسسات الصغيرة والمتوسطة والتخطيط والترويج لها بالتنسيق بين القطاعين الحكومي والخاص.	

لا تكتب في هذا الجزء

تابع ثانيًا: الأسئلة المقالية:

ب. ادرس خريطة المشاريع الاقتصادية لسلطنة عُمان، ثم أجب عن الأسئلة الآتية.



(١) استخراج من الخريطة اسم مشروع اقتصادي في قطاع التعدين.

(٢) اذكر اثنين من المحافظات التي يمر بها مشروع الطريق المشار إليه بالرمز (ص).

(٣) ما نوع القطاع الاستثماري الذي ينتمي إليه المشروع الموجود في ولاية صلالة حسب الخريطة؟

لا تكتب في هذا الجزء

تابع ثانيًا: الأسئلة المقالية:

١٩) أ. اعطِ مثالًا واحدًا على جهود سلطنة عُمان لتنمية المؤسسات الصغيرة والمتوسطة في المجالات الآتية:

(١) التشريعات والقوانين.

(٢) الدعم الحكومي.

(٣) التمويل.

ب. صنف العبارات الواردة في الجدول الآتي حسب نوع العامل المؤثر في سوق العمل العالمي، مستعينًا بالمثل الموضح أدناه.

م	العبارات	نوع العامل المؤثر في سوق العمل العالمي
مثال	زيادة نسبة الذكور عن الإناث في المجتمع.	ديموغرافي
(١)	بُعد مكان العمل عن مقر السكن الدائم للعمال.	
(٢)	سن العمل المسموح به في الدولة يتراوح ما بين (١٨ - ٦٠) سنة.	
(٣)	نسبة (٨٠%) من الباحثين عن عمل حاصلين على شهادة دبلوم التعليم العام.	

ج. علّل "أصبحت المؤسسات الصغيرة والمتوسطة الركيزة الأساسية للاقتصاد العالمي".

لا تكتب في هذا الجزء

تابع ثانيًا: الأسئلة المقالية:

٢٠) أ. اذكر العنصرين الأساسيين اللذين يتكون منهما سوق العمل.

ب. "يُعدّ الدين الإسلامي من المرتكزات الراسخة للهوية العُمانية" وضح ذلك.

ج. أكمل المخطط الآتي.

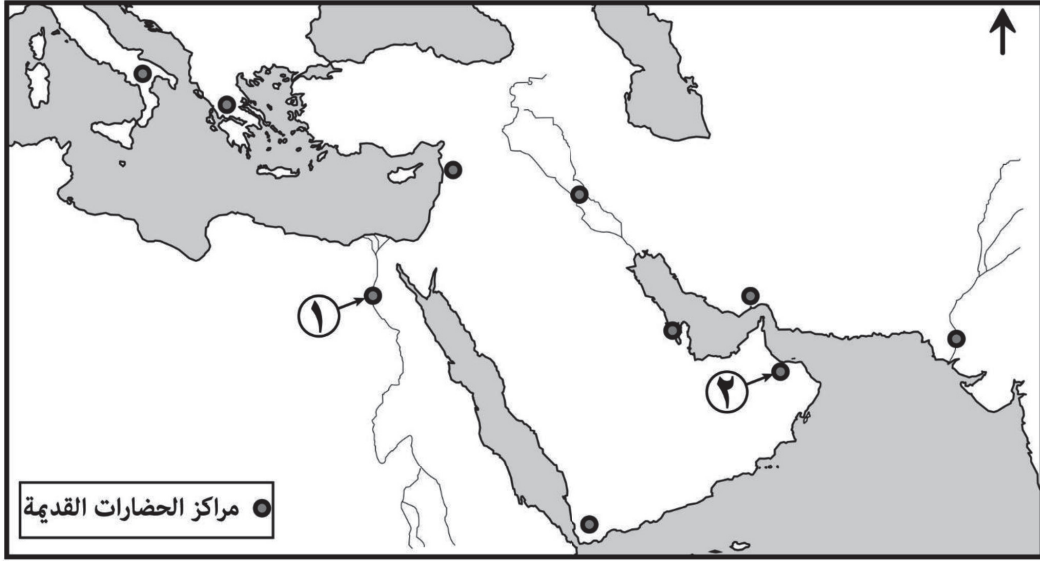


٢١) أ. بين أهمية التقنيات الحديثة متمثلة في شبكة المعلومات العالمية وتطبيقاتها المختلفة.

لا تكتب في هذا الجزء

تابع ثانيًا: الأسئلة المقالية:

ب. ادرس خريطة الحضارات القديمة الآتية، ثم أجب عن الأسئلة التي تليها.



(١) سمّ الحضارات القديمة المشار إليها:

- بالرقم (١).

- بالرقم (٢).

(٢) اكتب حضارة بلاد الرافدين في موقعها الصحيح على الخريطة.

انتهت الأسئلة تمنياتنا بالتوفيق والنجاح

لا تكتب في هذا الجزء

مُسَوِّدَةٌ

almanahj.com/om

لا تكتب في هذا الجزء

مُسَوِّدَةٌ

almanahj.com/om

لا تكتب في هذا الجزء