



امتحان الصف الحادي عشر  
للعام الدراسي ١٤٣٧/١٤٣٨ هـ - ٢٠١٦/٢٠١٧ م  
الدور الثاني - الفصل الدراسي الثاني

- المادة: الجغرافيا الاقتصادية.
- زمن الإجابة: ساعتان.
- عدد صفحات أسئلة الامتحان: (٩) صفحات.
- الإجابة في الورقة نفسها.

		اسم الطالب
الصف		المدرسة

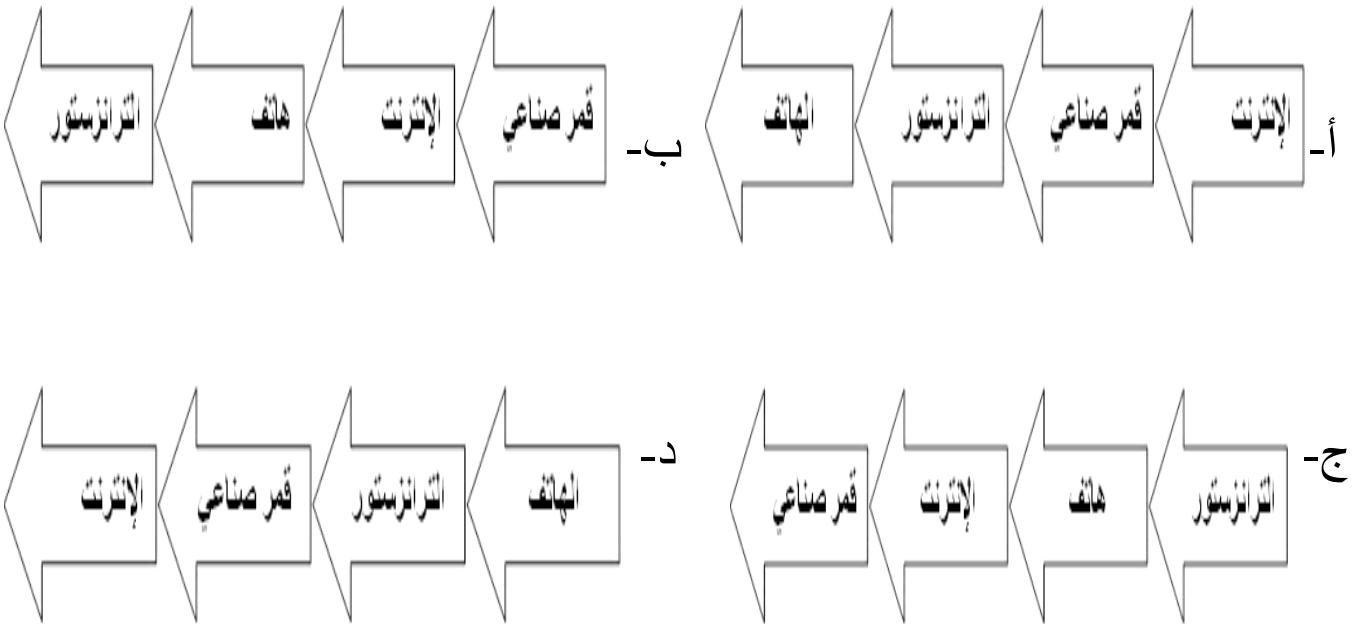
التوقيع بالاسم		الدرجة		السؤال
المصحح الثاني	المصحح الأول	بالحروف	بالأرقام	
				١
				٢
				٣
				٤
مراجعة الجمع	جمعه			المجموع
				المجموع الكلي

**أجب عن جميع الأسئلة الآتية**  
**السؤال الأول: ضع دائرة حول رمز الإجابة الصحيحة لكل مفردة من المفردات الآتية:**

- ١- التقنية الحديثة المستخدمة في تخطيط شبكات الطرق وإجراء دراسات تحليلية عنها:
- أ- GIS .  
ب- GPS .  
ج- RS .  
د- Google Earth .

- ٢- يربط خط راس الرجاء الصالح بين:
- أ- أوروبا وآسيا .  
ب- أمريكا وأستراليا .  
ج- أمريكا وآسيا .  
د- أوروبا وأستراليا .

- ٣- الترتيب الصحيح لتطور الاختراعات في مجال الاتصالات:



- ٤- انضمت سلطنة عمان إلى منظمة التجارة العالمية:

- أ- ١٩٩٨ م .  
ب- ٢٠٠٠ م .  
ج- ٢٠٠٢ م .  
د- ٢٠٠٤ م .

يتبع/ ٢

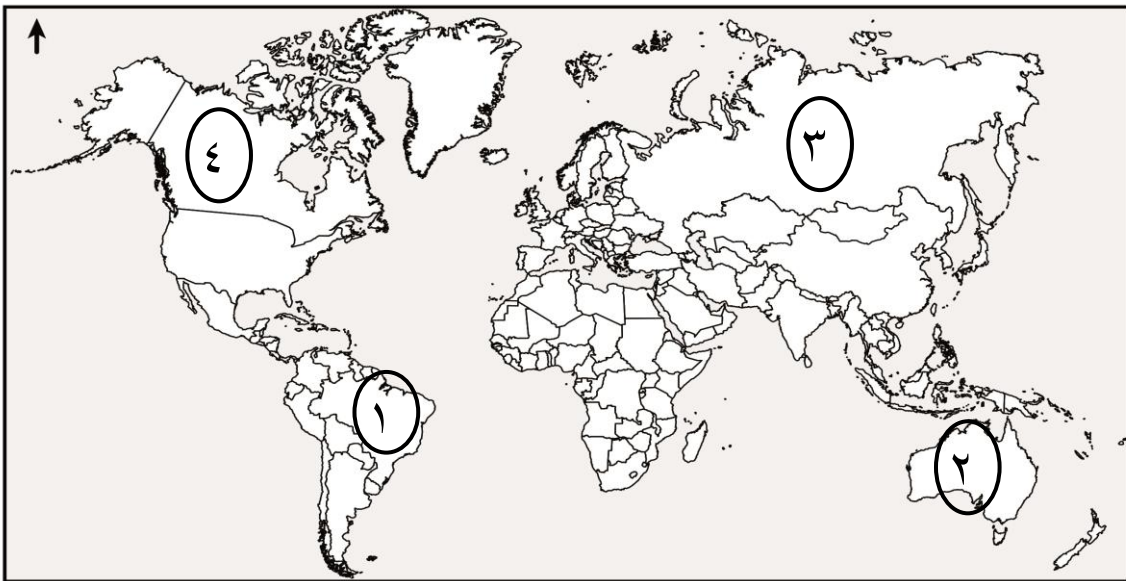
**تابع السؤال الأول:**

٥- " القيمة النقدية النهائية لجميع السلع والخدمات المنتجة في اقتصاد ما خلال فترة زمنية محددة" يقصد به:

- أ- التعرف الجمركية.  
ب- الناتج المحلي الإجمالي.  
ج- ميزان المدفوعات.  
د- الميزان التجاري.

٦- الرقم الذي يشير إلى الدولة التي تعد من أوائل الدول المطبقة لنظام الحسابات

السياحية:



ب- ٢.

أ- ١.

د- ٤.

ج- ٣.

٧- نوع السياحة في الصورة التي أمامك:



ب- رياضية.

أ- ثقافية.

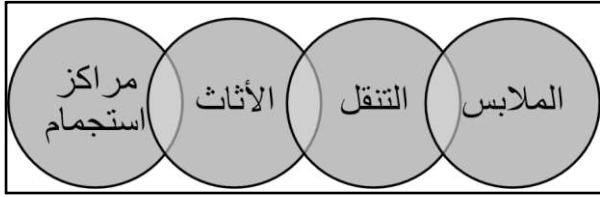
د- جيولوجية.

ج- علاجية.

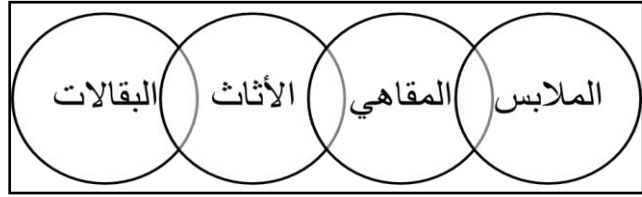
يتبع/ ٣

تابع السؤال الأول:

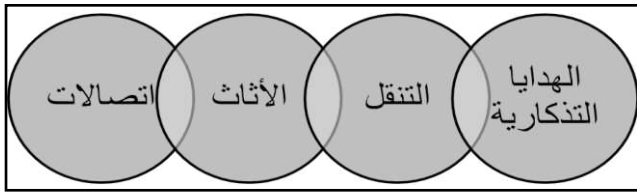
٨- الشكل الصحيح الذي يمثل تسهيلات الإمداد (الراحة) في الموقع السياحي:



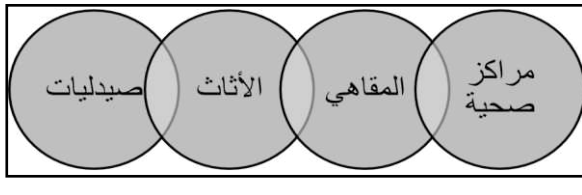
(ب)



(أ)



(د)



(ج)



٩- يوجد متحف التاريخ الطبيعي الواضح في الشكل الذي أمامك:

- أ- نيويورك.
- ب- كاليفورنيا.
- ج- واشنطن.
- د- لوس أنجلوس.

١٠- تعد من أنواع السياحة المكلفة والمحدودة سياحة:

- أ- رحلات السفاري.
- ب- تسلق الجبال.
- ج- الأعمال.
- د- الفضاء.

**تابع السؤال الأول:**

- ١١- من أكثر الشعوب القديمة شهرة في تمهيد شبكة كبيرة من الطرق البرية:  
أ- اليونان .  
ب- الفراعنة.  
ج- الرومان.  
د- الفرس.

- ١٢- من خلال الجدول الذي أمامك الدولة الأوربية الأكثر جذباً للسياح:

الدولة	عدد السياح/ مليون
الصين	٥٥,٧
إيطاليا	٤٧,٧
مصر	٩,٢
تركيا	٣٧,٨
بريطانيا	٣١,٢

- أ- بريطانيا. ب- الصين. ج- تركيا. د- إيطاليا.

**السؤال الثاني:**

- أ- عرّف المفاهيم الآتية:  
١- النقل المستدام.

- ٢- ميزان المدفوعات.

- ب- عدد اثنين لكل من:

- ١- أهمية النقل في المجال الاقتصادي.

- .....  
.....

## تابع السؤال الثاني:

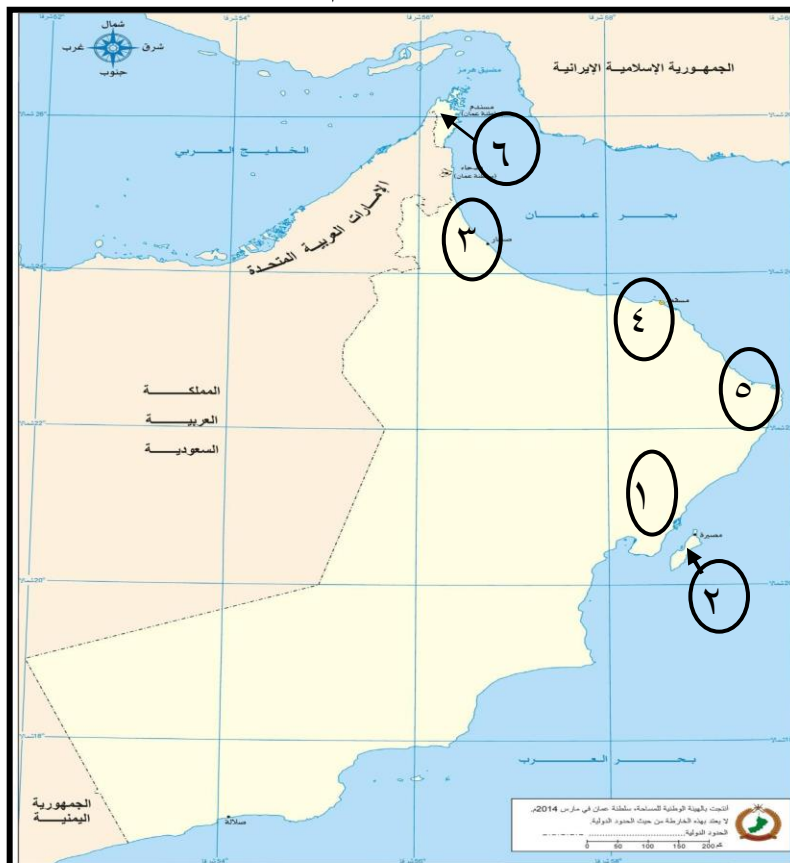
٢- العوامل المؤثرة في التجارة الدولية.


- ..... ■
- ..... ■

٣- أهمية السياحة بالنسبة للأفراد والمجتمعات.

- ..... ■
- ..... ■

ج- أمامك خريطة سلطنة عمان ادرسها جيداً ثم أجب عن الأسئلة التالية:



- ١- نوع المناخ في المنطقة المشار إليها بالرقم (٦). .....
- ٢- ما نوع وسيلة النقل السياحية المناسبة بين المنطقتين (١ و ٢). .....
- ٣- ظلل باستخدام الرمز  موقع محمية جبل سمحان.
- ٤- ما الرقم الذي يشير إلى موقع ميناء تصدير الغاز الطبيعي. ( ) .

يتبع/٦

### السؤال الثالث:

أ (١)- فسر ما يأتي:

أ- استخدام جهاز (GPS) في الملاحة البحرية.

ب- يجب أن يكون مصب النهر عريضاً لكي يكون صالحاً للملاحة.

أ (٢)- أمامك مجموعة من الأشكال تمثل أنواع السياحة المختلفة، ادرسها جيداً ثم أجب عن الأسئلة التالية:



(٢)



(١)

أ- كم تشكل نسبة السياحة التي يمثلها الشكل المشار إليها بالرقم (١) من إجمالي سوق السياحة.

ب- بماذا تتميز السياحة التي يمثلها الشكل المشار إليها بالرقم (٢).

ب (١) - وضح في جدول مميزات وعيوب النقل بالأنابيب.

عيوب النقل بالأنابيب	مميزات النقل بالأنابيب
..... ■ .....	..... ■ .....

يتبع/٧

### تابع السؤال الثالث:

ب (٢)- الشكل المقابل يوضح إحدى التقنيات الحديثة في مجال الاتصالات،



أدرسه جيداً ثم أجب عن الأسئلة الآتية:

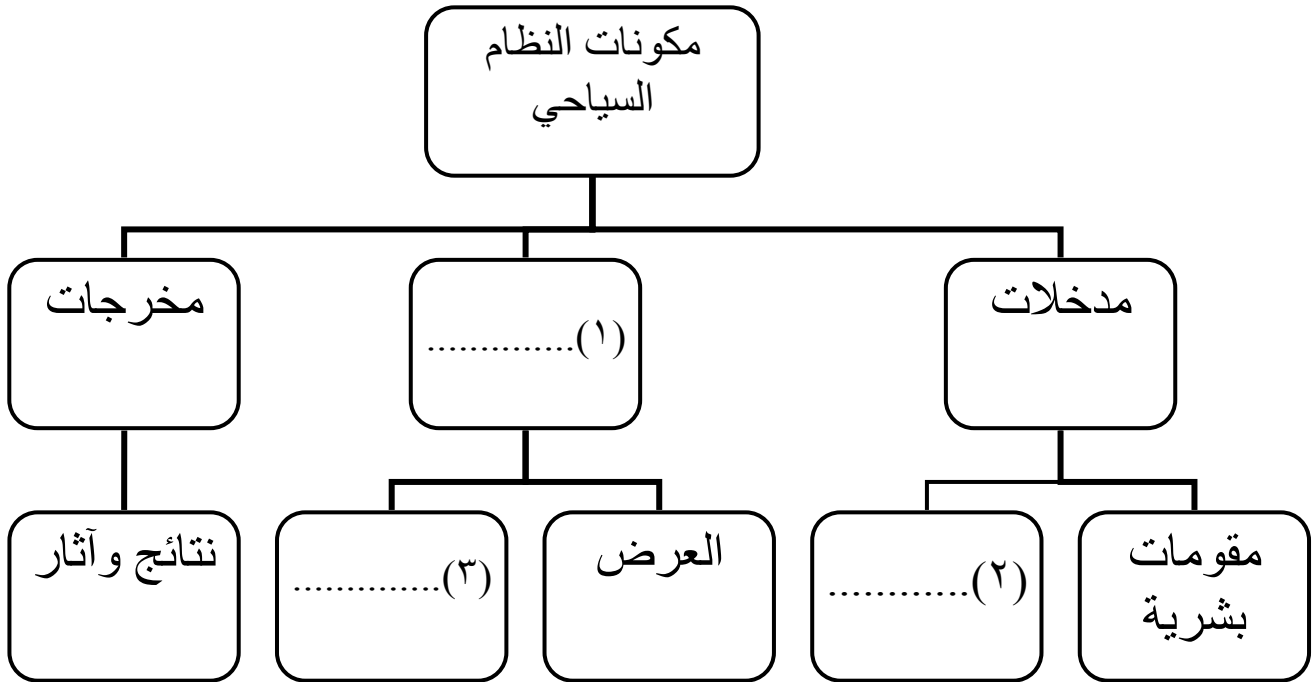
أ- عرف التقنية الموضحة في الشكل الذي أمامك.

.....  
.....

ب- وضح أثر هذه التقنية على مجال الاتصالات ونقل البيانات.

■ .....  
■ .....

ج- أكمل المخطط الآتي:





## السؤال الرابع:



أ (١)- ادرس الشكل المقابل جيداً ثم أجب عن الأسئلة الآتية:

أ- ما أسم المدونة التي يرمز لها الشعار الواضح في الشكل المقابل.

.....  
.....

ب- اذكر مجالاً واحداً من المجالات الرئيسية التي اشتملت عليها المدونة.

.....

أ (٢)- "قام محمد بشراء جهاز لاب توب عن طريق الأنترنت" في ضوء العبارة السابقة:

أ- ما نوع التجارة الواردة في النص.

.....

ب- وضح طريقة الدفع.

.....

ب- (١) فرق بين مفهوم كل من المسافر والسائح في الجدول التالي:

السائح	المسافر
.....	.....
.....	.....
.....	.....

تابع السؤال الرابع:

ب- (٢) وضح آثار السياحة على البيئة على كل من:  
أ- الغلاف الغازي.

ب- البيئة الجبلية.

ج- البيئة البحرية.

ج- صنف الأنشطة الترفيهية التالية حسب الدولة التي تمارس فيها (التزلج على الجليد- التزلج على الرمال- التزلج على الماء).

النشاط السياحي	الدولة
	١- الأردن
	٢- لبنان
	٣- سلطنة عُمان

انتهت الأسئلة مع الدعاء للجميع بالتوفيق والنجاح.

نموذج إجابة امتحان الصف الحادي عشر  
 للعام الدراسي ١٤٣٧/١٤٣٨ هـ - ٢٠١٦/٢٠١٧ م  
 الدور الثاني - الفصل الدراسي الثاني

المادة: الجغرافيا الاقتصادية  
 تنبيهه: نموذج الإجابة في ( ٤ ) صفحات.  
 الدرجة الكلية: ( ٦٠ ) درجة.

أولاً: إجابة السؤال الموضوعي:

إجابة السؤال الأول

المفردة	البديل الصحيح	الإجابة	الدرجة	الصفحة
١	أ	GIS	٢	١٠٦
٢	د	أوروبا وأستراليا.	٢	١١٥
٣	د		٢	١٢٢
٤	ب	٢٠٠٠م	٢	١٣٢
٥	ب	الناتج المحلي الإجمالي	٢	١٤٦
٦	د	٤	٢	١٤٨
٧	د	جيولوجية	٢	١٦٢
٨	ب		٢	١٧٣
٩	أ	نيويورك.	٢	١٨٧
١٠	د	الفضاء.	٢	١٥٩
١١	ج	الرومان.	٢	١٠٦
١٢	د	إيطاليا.	٢	١٧٨
المجموع		٢٤		

( ٢ )

تابع نموذج إجابة امتحان الصف الحادي عشر  
للعام الدراسي ١٤٣٧/١٤٣٨ هـ - ٢٠١٦/٢٠١٧ م  
الدور الثاني- الفصل الدراسي الثاني  
المادة : الجغرافيا الاقتصادية

ثانيا: إجابة الأسئلة المقالية:

إجابة السؤال الثاني		الرمز (/) يعني إجابة أخرى صحيحة	الدرجة الكلية: ( ١٢ ) درجة
الجزئية	المفردة	الإجابة الصحيحة	الدرجة
أ	١	استخدام وسائل نقل أقل تأثيراً على البيئة.	١
	٢	سجل يوضح جميع المعاملات الاقتصادية لدولة ما مع بقية دول العالم خلال فترة زمنية معينة عادة تكون سنة.	١
ب	١	<ul style="list-style-type: none"> <li>يساعد على ربط مناطق الإنتاج بمناطق الاستهلاك. / تأمين إنتقال الأفراد والمواد الخام والبضائع. / عاملاً مساعداً في استغلال الموارد الطبيعية. / يحقق التكامل الاقتصادي بين الدول. / مساهمته في تشغيل الأيدي العاملة. / توفير فرص العمل لشريحة كبيرة من السكان.</li> </ul> <b>(يكتفى بمفردتين، لكل مفردة درجة).</b>	٢
	٢	<ul style="list-style-type: none"> <li>البيئة الطبيعية.</li> <li>السكان.</li> <li>التطور الاقتصادي.</li> <li>النقل والاتصالات.</li> <li>الاتفاقيات التجارية.</li> <li>السياسات الحكومية</li> </ul> <b>(يكتفى بمفردتين، لكل مفردة درجة).</b>	٢
	٣	<ul style="list-style-type: none"> <li>تعزز روح الانتماء عند الوطن.</li> <li>توطد روح العمل الجماعي بين المشاركين في الرحلات.</li> <li>وسيلة مهمة لتحقيق التقارب بين الشعوب.</li> <li>تعمل على تطوير العلاقات الاجتماعية من خلال الانفتاح على العالم.</li> <li>تساعد على الاهتمام بالتراث والمحافظة عليه.</li> <li>تعمل على الترويج عن النفس.</li> </ul> <b>أي إجابة تفيد المعنى (يكتفى بمفردتين، لكل مفردة درجة).</b>	٢
ج	١	شبة صحراوي.	١
	٢	السياحة بواسطة السيارة وسفن العبور.	١
	٣	التظليل على محمية جبل سحان.	١
	٤	٥	١

يتبع / ٣

(٣)

تابع نموذج إجابة امتحان الصف الحادي عشر  
للعام الدراسي ١٤٣٧/١٤٣٨ هـ - ٢٠١٦/٢٠١٧ م  
الدور الثاني - الفصل الدراسي الثاني.  
المادة : الجغرافيا الاقتصادية.

تابع ثانيا: إجابة الأسئلة المقالية:

الدرجة الكلية: (١٢) درجة		الرمز (/) يعني إجابة أخرى صحيحة	إجابة السؤال الثالث				
الصفحة	الدرجة	الإجابة الصحيحة	المفردة				
١١٥	١	يساعد السفن على تحديد المواقع في البحار والمحيطات في مختلف الظروف الجوية عن طريق الاتصال بالأقمار الصناعية.	أ				
١١٣	١	كي يسهل حمل الرواسب التي قد تعيق الملاحة النهرية.	ب				
١٥٣	١	٣٧%.	أ				
١٥٨	١	بالاستمرارية دون انقطاع / يولد شعوراً بالراحة النفسية لدى الزائر.	ب				
١١١	٢	<table border="1"> <tr> <td>عيوب النقل بالأنابيب</td> <td>مميزات النقل بالأنابيب</td> </tr> <tr> <td>امتداد الأنابيب على أراضي عدة دول مما يجعلها عرضة لمخاطر الانقلابات السياسية في الدول التي تمتد عبرها/ الطاقة الاستيعابية محدودة ولا يمكن زيادتها إلا بعد زيادة قطر الأنبوب أو استخدام المضخات.</td> <td>أرخص أنواع النقل / تنخفض التكلفة كلما زاد قطر الأنبوب/ لا تقف الظروف الجوية أو التضاريس عائقاً أمام النقل/ إمكانية نقل الغاز أو النفط بسرعة ولمسافات طويلة.</td> </tr> </table>	عيوب النقل بالأنابيب	مميزات النقل بالأنابيب	امتداد الأنابيب على أراضي عدة دول مما يجعلها عرضة لمخاطر الانقلابات السياسية في الدول التي تمتد عبرها/ الطاقة الاستيعابية محدودة ولا يمكن زيادتها إلا بعد زيادة قطر الأنبوب أو استخدام المضخات.	أرخص أنواع النقل / تنخفض التكلفة كلما زاد قطر الأنبوب/ لا تقف الظروف الجوية أو التضاريس عائقاً أمام النقل/ إمكانية نقل الغاز أو النفط بسرعة ولمسافات طويلة.	
عيوب النقل بالأنابيب	مميزات النقل بالأنابيب						
امتداد الأنابيب على أراضي عدة دول مما يجعلها عرضة لمخاطر الانقلابات السياسية في الدول التي تمتد عبرها/ الطاقة الاستيعابية محدودة ولا يمكن زيادتها إلا بعد زيادة قطر الأنبوب أو استخدام المضخات.	أرخص أنواع النقل / تنخفض التكلفة كلما زاد قطر الأنبوب/ لا تقف الظروف الجوية أو التضاريس عائقاً أمام النقل/ إمكانية نقل الغاز أو النفط بسرعة ولمسافات طويلة.						
		يكتفى بمفردة لكل عنصر ( لكل مفردة درجة).					
١٢٤	١	هي ألياف مصنوعة من الزجاج النقي تكون طويلة ورفيعة ولا يتعدى سمكها سمك الشعرة.	أ				
١٢٤	٢	<ul style="list-style-type: none"> <li>▪ زيادة عدد المكالمات بين دول العالم.</li> <li>▪ تحسين نوعية الاتصال فأصبح أكثر نقاوة وسرعة.</li> </ul>	ب				
		( لكل مفردة درجة).					
١٦٦	٣	١- عمليات. ٢- مقومات طبيعية. ٣- الطلب.	ج				

(٤)

تابع نموذج إجابة امتحان الصف الحادي عشر  
للعام الدراسي ١٤٣٧/١٤٣٨ هـ - ٢٠١٦/٢٠١٧ م  
الدور الثاني - الفصل الدراسي الثاني.  
المادة : الجغرافيا الاقتصادية

تابع ثانيا: إجابة الأسئلة المقالية:

إجابة السؤال الرابع		الرمز (/) يعني إجابة أخرى صحيحة	الدرجة الكلية: (١٢) درجة								
الجزئية	المفردة	الإجابة الصحيحة	الدرجة								
أ (١)	أ	المدونة العالمية لأخلاقيات السياحة.	١								
	ب	المحافظة على الموارد البيئية / المحافظة على المجتمع وثقافته / تحقيق منافع اقتصادية مهمة. <u>يكتفى بمفردة واحدة</u>	١								
أ (٢)	أ	التجارة الإلكترونية.	١								
	ب	بطاقة الإنتمان.	١								
ب-(١)	<table border="1"> <thead> <tr> <th>المسافر</th> <th>السائح</th> </tr> </thead> <tbody> <tr> <td>هو كل شخص يخرج في رحلة بين دولتين أو أكثر أو بين موقعين أو أكثر داخل حدود بلده.</td> <td>شخص يسافر إلى أي مكان خارج نطاق بيئته العادية لمدة لا تقل عن ١٢ ساعة؛ بهدف ممارسة أنشطة لا تستهدف التكسب من المكان المزار.</td> </tr> </tbody> </table>		المسافر	السائح	هو كل شخص يخرج في رحلة بين دولتين أو أكثر أو بين موقعين أو أكثر داخل حدود بلده.	شخص يسافر إلى أي مكان خارج نطاق بيئته العادية لمدة لا تقل عن ١٢ ساعة؛ بهدف ممارسة أنشطة لا تستهدف التكسب من المكان المزار.	٢				
	المسافر	السائح									
هو كل شخص يخرج في رحلة بين دولتين أو أكثر أو بين موقعين أو أكثر داخل حدود بلده.	شخص يسافر إلى أي مكان خارج نطاق بيئته العادية لمدة لا تقل عن ١٢ ساعة؛ بهدف ممارسة أنشطة لا تستهدف التكسب من المكان المزار.										
		<u>لكل مفردة درجة</u>									
ب-(٢)	أ	ما تنتفثه عوادم السيارات من أكاسيد.	١								
	ب	حدوث التعرية والانهيارات الأرضية نتيجة استخدام الممرات الجبلية وتسلق الجبال من قبل أعداد كبيرة من السياح / تلوث التربة بالمواد السامة (الأكاسيد) نتيجة سير المركبات بسرعة بطئية.	١								
	ج	ما يقوم به الصيادون وصناع التحف من تدمير للشعاب المرجانية/ إلقاء كميات كبيرة من المخلفات في البحر مما يؤدي إلى تلوث الحياة البحرية وانتشار الأمراض.	١								
ج	<table border="1"> <tbody> <tr> <td>الدولة</td> <td>النشاط السياحي.</td> </tr> <tr> <td>١- الأردن.</td> <td>التزلج على الماء.</td> </tr> <tr> <td>٢- لبنان.</td> <td>التزلج على الجليد.</td> </tr> <tr> <td>٣- سلطنة عمان.</td> <td>التزلج على الرمال.</td> </tr> </tbody> </table>		الدولة	النشاط السياحي.	١- الأردن.	التزلج على الماء.	٢- لبنان.	التزلج على الجليد.	٣- سلطنة عمان.	التزلج على الرمال.	٣
	الدولة	النشاط السياحي.									
	١- الأردن.	التزلج على الماء.									
	٢- لبنان.	التزلج على الجليد.									
٣- سلطنة عمان.	التزلج على الرمال.										
		<u>لكل مفردة درجة</u>									