

الوحدة الثالثة : الأعداد العشرية والكسور العشرية

قسمة الأعداد العشرية والكسور العشرية

المعلم الألكتر وني الشامل

إعداد الأستاذة / فائزة أحمد آل سنان

فبراء مدرسة
عائشة بنت عبد الله الراحبية (V-0)

MATH
2021-2022

أنا أستطيع

أستطيع أن أقسم الأعداد العشريّة على
أعداد مكونة من رقم واحد مثال


$$43 \div 2 =$$




مفردات الدرس

الإلكتروني الشامل

القسم المختصرة





أوجد ناتج ما يلي بالقسمة المختصرة

$$84 \div 2$$

$$65 \div 5$$

$$219 \div 3$$


التعلم القبلي

المعلم الإلكتروني الشامل

: لقسمة عددٍ عشري أو كسر عشري على عددٍ مكوّن من رقمٍ واحدٍ

. استخدم القسمة المختصرة

. اترك الفاصلة العشريّة في السؤال واكتب الفاصلة العشريّة في الناتج






المعلم الإلكتروني
مثال (1) : أوجد ناتج القسمة كل مما يلي

$$45 \div 5,05$$

$$8 \div 2,26$$

$$8 \div 3,4$$

$$6 \div 3,3$$



نشاط جماعي (استراتيجية إشارة المرور)

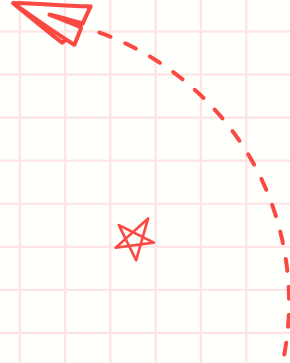
المعلم الإلكتروني الشامل

9 ÷ 7 ؟ ما ناتج

13

1, 3

0, 13



نشاط فردي: استراتيجية ساعي البريد

أنا ساعي البريد موظف مفيد أوزع الرسائل لمن يريد



أوجد ناتج

$$7,9 \div 4$$

أوجد ناتج

$$18 \div 6,66$$


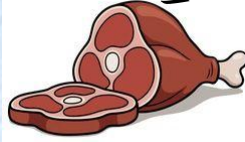
أوجد ناتج

$$6 \div 3,93$$

مثال (2)

رأى مهند هذه اللافتة في محل بيع اللحوم
فماذا تكلفه كل كيلو غرام من اللحم؟


كيلو المعظم والكترو ونوا
غرام من اللحم بسعر 5
ريالاً، 18 250




*
نشاط ثنائي : (حل المشكلات – اخبر زميل)

ريالات لشراء 8 م من الشريط ، دفعت ليلى 9 280
فما تكلفة شراء المتزواي الواحد منه ؟

المعلم الاكتر واني انا





تفريد لتعليم

(كتاب النشاط صفحة 49 رقم 6)

: أكمل عمليات القسمة في كل مما يلي

$$\square \div 3 = 3, \quad 5 \div \square = 9, \quad 3 \div \square = 5$$

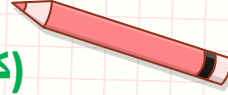
$$\square \div 3 = 1, \quad \square \div 7 = 7, \quad \square \div 7 = 1$$

$$\square \div 2 = \square, \quad 2 \div \square = 8, \quad \square \div 16 = 2$$

تفريد لتعليم

(كتاب النشاط صفحة 48)

المعلم الإلكتروني



أ- 1

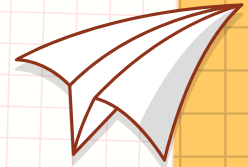
$$9 \div 3, 6$$

ب- 2

$$4 \div 2, 68$$

ج- 3

$$19 \div 5, 15$$



التقويم الختامي

(كتاب النشاط)



المعلم الإلكتروني

تمرين (5) صفحة 49

5،

تدف

روان 560

ريالات

عماني

مقابل 6 أكياس

خـرر

ما

تكاف

تمرين (4) صفحة 48

7،

يدف

كمال 450

ريالات

عماني

ة

مقابل 5 أكياس أسمنت

ما

تكاف

ة



التعلم الذاتي




المعلم الإلكتروني الشامل

لمشاهدة المزيد من شرح الدرس اضغط الرابط التالي


▶ <https://www.youtube.com/watch?v=kotYIOmnURc>

لحل المزيد من التمارين الممتعة اضغط الرابط التالي

▶ <https://wordwall.net/resource/24089730>



ما هو واجب اليوم يا أستاذ؟؟



المعلم الاكتر وني الشامل

كتاب النشاط


صفحة

(48)

رقم

(3-2-1)

المفردات (ج+و)



إلى اللقاء مع الجزء (2)

من تدريس

قسمة الأعداد العشرية

والكسور العشرية

المعلمة

