

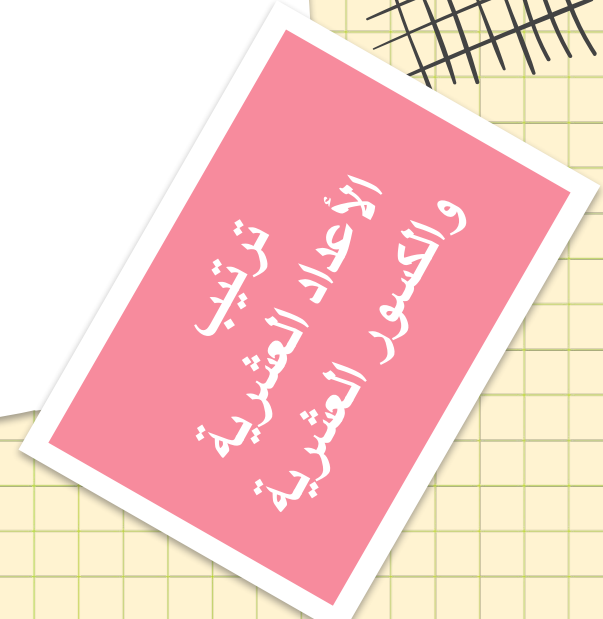


الوحدة الثالثة

ترتيب الأعداد العشرية والكسور العشرية

المعتمد
الالكتروني
الشمامل

إعداد الأستاذة / فائزة أحمد آل
سنان






أنا أستطيع




2

أستطيع أن أستخدم العلامات
< ، ≠ ،
المقارنة بين الأعداد العشرية
والقياسات



1

أستطيع أن أرتب الأعداد العشرية
والقياسات





العدد العشري هو العدد الذي

يتكوّن من
عدد كامل وكسر عشري يفصل بينهما الفاصلة
العشرية

عدد كامل

يقع يمين الفاصلة العشرية

كسر عشري

يقع يسار الفاصلة العشرية

اقرأ الأعداد الآتية:

15,347 7 ، 0 ، 91,06 5 ، 9





كيف يمكننا ترتيب الأعداد العشرية والكسور العشرية؟

ترتيب الأعداد العشرية.أفائزة آل سنان

إبراهيم

هاشم

انضغط هنا للمشاهدة

المعلم الإلكتروني الشامل



1





ترتيب الأعداد العشرية أو الكسور العشرية



، لترتيب الأعداد العشرية أو الكسور العشرية تصاعدياً أه تنازلياً
قارن العدد الكامل أولاً .



المعنى الإلكتروني الشامل

عندما تكون الأعداد التي ترتبها لها نف
العدد الكامل ،
... قارن الجزء من عشرة ثم الجزء من مائة وهكذا

مثال (2)

رتب الأعداد العشرية والكسور العشرية التالية تصاعديا (من الأصغر إلى الأكبر)

5,917 ، 2 ، 99,065 ، 49

، ، ،

23,665 ، 23 ، 659,592 ، 23 ، 661

، ، ،





نشاط ثنائي

(استراتيجية الدقيقة الواحدة)

تمارين (2)

رتب الأعداد العشرية والكسور العشرية التالية تصاعديا (من الأصغر إلى الأكبر)

0,009 0 ، 0 ، 102,084 0 ، ,107 أ

، ، ،

11 ,1 11 ، ,11 ، 02,032 11 ، ,302 ب

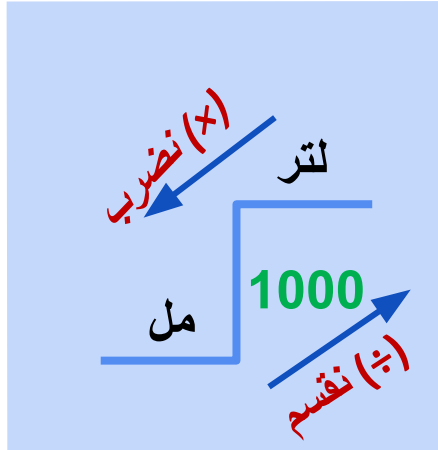
، ، ،

عند ترتيب القياسات العشرية ، يجب أن تتأكد من أن جميعها بنفس الو

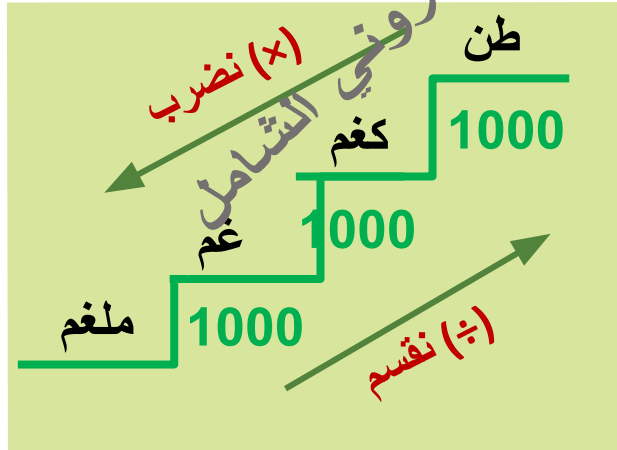


تذكّر
ر معاملات التحويل
الآتية

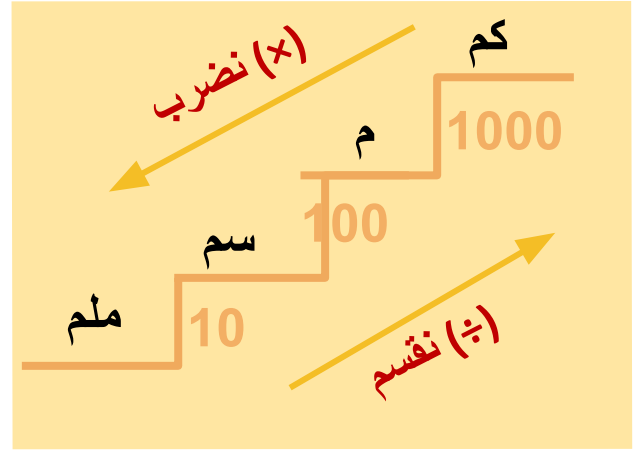
وحدات السعة



وحدات الكتلة



وحدات الطول





مثال (1) بال



رتب القياسات العشرية التالية تنازلياً (من الأكبر إلى الأصغر)


كغم ، 1950 غم، 2 كغم ، 780 غم ، 18 ، 23



سم ، 9 ملم، 5 سم ، 12 ملم ، 04,8



لتر ، 450 مل، 0 لتر ، 95 مل ، 0,9







رتب القياسات العشرية التالية تنازلياً (من الأكبر إلى الأصغر)

نشاط جماعي
استراتيجية
(السيبورة البيضاء)

م ، 53 سم، 12 م ، 650 سم 0 5



طن ، 50 كغم، 0 طن ، 920 كغم ، 15,08 0



التقويم الختامي

المعلم الختامي
: اكتب الرمز الصحيح (<أو>) في كل مما يلي (1)

أ 4 23 4 ,54 ب لتر 4 5, مل 2700

ج طن 045, 547 كغم د م 7800 كم 0 8,

: اكتب الرمز الصحيح (=أو=) في كل مما يلي (2)

أ لتر 6 7, مل 670 ب م , 0985 سم 985

ج سم, 14 5, ملم 145 د كغم , 085 غم 850

عند مقارنة الأعداد العشرية ،
يمكنك استخدام الرموز التالية :

"تعني "يساوي =
"تعني "لا يساوي =
"تعني "أكبر من >
"تعني "أصغر من <



تفريد التعليم



كتاب النشاط صفحة

41


رقم (5) م




كتاب النشاط صفحة

40

رقم (3) م



المعلم الإلكتروني الشامل



<https://wordwall.net/ar/resource/8787302>

<https://www.liveworksheets.com/of1735469ka>

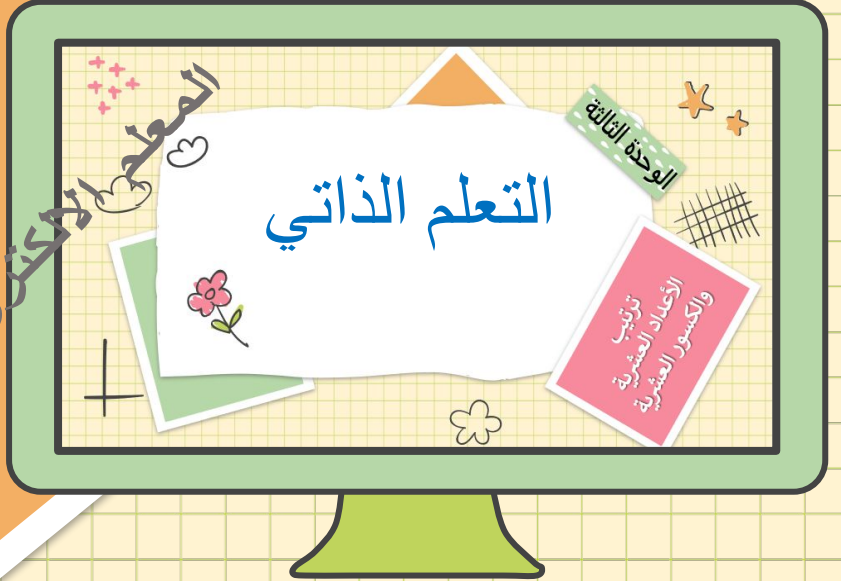
روابط شرح الدرس

https://youtu.be/qnuEBtuaQ_k

<https://youtu.be/HTIbEXzzOfc>



المعلم الإلكتروني الشامل



الواجب المنزلي



اهتمامك بكل الواجب المنزلي
يعزز من فهمك للنشاط



المعلم الإلكتروني

كتاب النشاط

صفحة (40) رقم (2)

صفحة (41) رقم (4)



المعلم الإلكتروني الشامل
انتهى الدرس

