

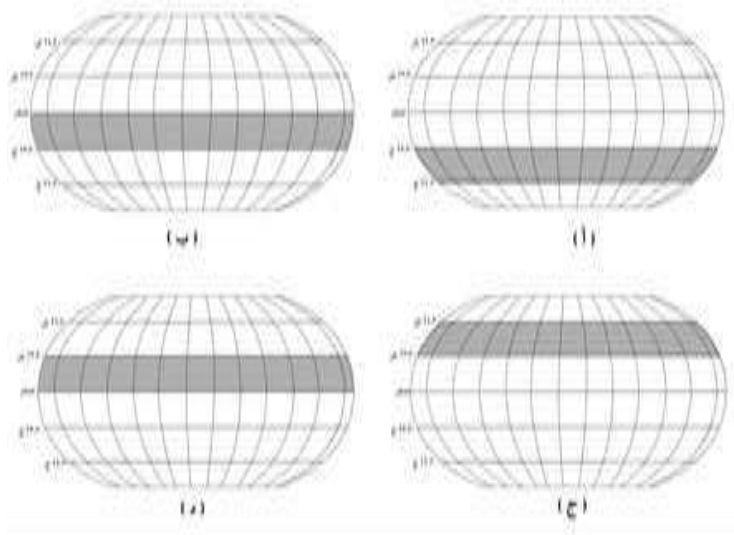
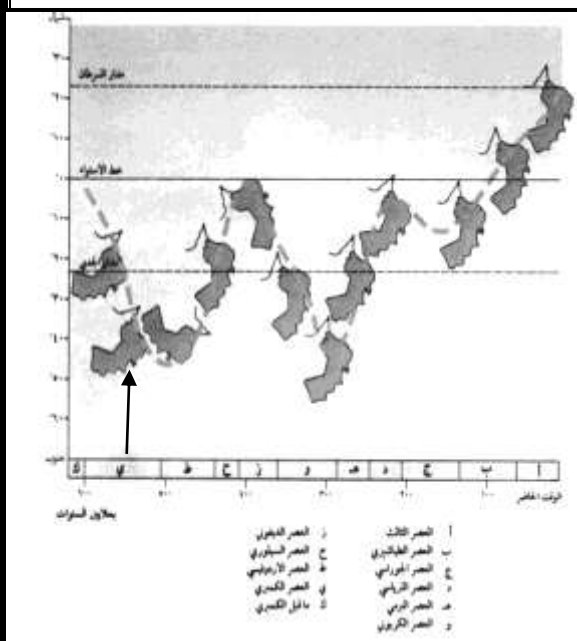
مديرية التربية والتعليم بمحافظة جنوب الباطنة
دائرة التقويم التربوي "قسم مراقبة وتقويم التحصيل الدراسي"
امتحان تدريبي الصف الحادي عشر للعام الدراسي ١٤٤٠/١٤٤١ هـ — ٢٠١٩/٢٠٢٠ م
الفصل الدراسي الأول - المادة: الدراسات الاجتماعية " هذا وطني "

السؤال الأول: ضع دائرة حول رمز الإجابة الصحيحة لكل مفردة من المفردات الآتية:

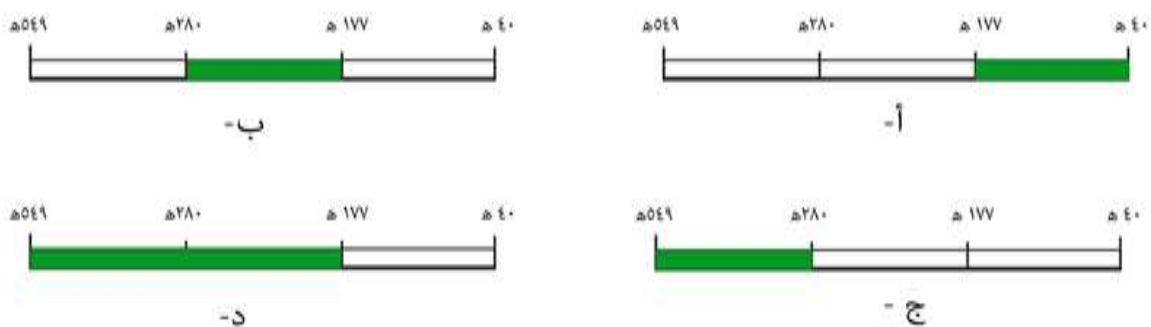
١- العام الميلادي الذي أعلنت فيه منطقة جبل سمحان محمية طبيعية:

أ- ١٩٩٥ ب- ١٩٩٦ ج- ١٩٩٧ د- ١٩٩٨

٢- الشكل الذي يوضح المنطقة الحرارية التي كانت تقع عليها عمان في منتصف عصر الكمبري حسب المسطرة الجيولوجية المقابلة:

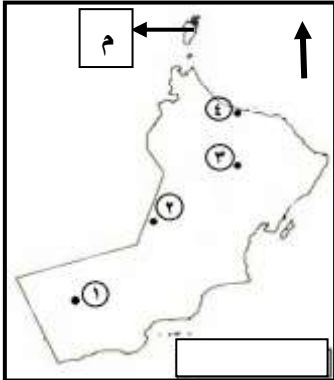


٣- المسطرة الزمنية التي تمثل فترة حكم الإمامة الإباضية الثانية في عمان:



تابع السؤال الأول: ضع دائرة حول رمز الإجابة الصحيحة لكل مفردة من المفردات الآتية:

(الإجابة على المفردتين (٤) و (٥) من خلال خريطة سلطنة عمان)



(٤) الرقم الذي يشير إلى موقع سبخة أم السميم:

أ- ١ ب- ٢

ج- ٣ د- ٤

(٥) الاسم الإداري القديم الذي اطلق على المنطقة المشار إليها بالرمز (م) في العصور الإسلامية:

أ- السر ب- الجوف ج- الصير د- الجو

(٦) أعلى قمة جبلية في سلطنة عمان:

أ- سمحان ب- شمس ج- القمر د- القرا

(٧) من المشكلات البشرية التي تواجه الغطاء النباتي الطبيعي:

أ- تملح التربة ب- قلة الأمطار ج- الرعي الجائر د- انجراف التربة

(٨) الإقليم الذي ينمو فيه نبات الرمرام:

أ- السبخات الساحلية ب- المرتفعات الجبلية ج- الصحاري د- الواحات

(٩) المرتكز الذي يقوم عليه المجتمع العماني وأكد عليه النظام الأساسي للدولة في الشكل المقابل:

أ- الوحدة الوطنية ب- القانون

ج- العادات والتقاليد د- اللغة العربية



تابع السؤال الأول: ضع دائرة حول رمز الإجابة الصحيحة لكل مفردة من المفردات الآتية:

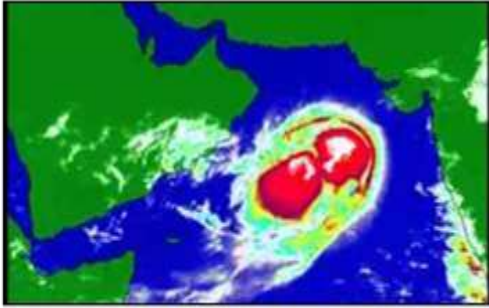
١٠) المدرسة التي ظهرت في عمان في القرن الرابع الهجري:

- أ- محمد بن كمال ب- راشد بن عزيز الخصبي ج- محمد بن علي باعلوي د- ابن بركة

١١) القبيلة العمانية التي مثلت سدس الجيش الذي ساهم في فتح مصر:

- أ- الحداني ب- المهرة ج- الكندة د- اليعمدي

١٢) الفصل الذي تؤثر فيه الحالة الجوية الواضحة في الشكل المقابل على السواحل الجنوبية والشرقية للسلطنة:



أ- الشتاء ب- الربيع

ج- الصيف د- الخريف

١٣) مؤسسة الثقافة العمانية الأهلية التي تعنى بتنقيح المخطوطات العمانية القديمة ونشرها:

- أ- النادي العلمي ب- مركز ذاكرة عمان ج- النادي الثقافي د- المنتدى الأدبي



١٤) تُصنف المعرفة للمؤلف الواضح في الشكل المقابل ضمن:

أ- الشريعة الإسلامية ب- التاريخ

ج- العلوم البحرية د- الفلك

١٥) القرن الهجري الذي أُرُخ فيه محراب جامع سعال بنزوى:

- أ- الخامس ب- السادس ج- السابع د- الثامن

تابع: الامتحان التدريبي للصف الحادي عشر للعام الدراسي ٢٠١٩ / ٢٠٢٠ م المادة " هذا وطني "

تابع السؤال الأول: ضع دائرة حول رمز الإجابة الصحيحة لكل مفردة من المفردات الآتية:

- ١٦) الإمام العماني الذي حرر جزيرة سقطرى من احتلال النصارى في القرن الثالث الهجري:
- أ- عزان بن تميم ب-سلطان بن سيف ج-عزان بن الهزير د-الصلت بن مالك
- ١٧) يصنف التمسك بالعادات والتقاليد المشتركة ضمن مقومات التفاعل:
- أ- الديني ب- الثقافي ج- الاقتصادي د- الجغرافي
- ١٨) الولاية العمانية التي يوجد فيها مكتبة مدرسة آل الرحيل:
- أ- بهلاء ب- سمائل ج- صحار د- الرستاق

السؤال الثاني: أجب عن جميع الأسئلة الآتية:

أ: عرف المصطلحات الآتية:

- ١- السنجار:
- ٢-الوقف:

ب: ١- اذكر دوراً واحداً قامت به كلا من الشخصيات النسائية العمانية في الجدول الآتي:

أ-الملكة شمساء الخليلي	ب-الفقيهة عائشة راشد الريامية	ج- الفقيهة عائشة عيسى الحارثية
------------------------	-------------------------------	--------------------------------

٢- فرق بين الأدوار الحضارية التي قامت بها السفن العمانية الآتية في الجدول:

اسم السفينة	الدور الحضاري الذي قامت به
أ- البوصي
ب- الشذاة



٣- استخرج النقوش الدالة على اسم (ازد) من خلال الشكل المقابل.



يتبع/٥

تابع: السؤال الثاني

ج: ١ - ادرس الشاهدان الآثرين ثم قارن بينهما حسب الجدول الآتي:

		المقارنة
ب	أ	
		اسم المحافظة التي يقع فيها
		تاريخ إدراجها لقائمة التراث العالمي

٢- ما دلالة إدراج كلا من:

أ- صورة صاحب الجلالة في غلاف عدد ٢٠١٦ م من مجلة المجتمع والدبلوماسية .

.....

ب- شخصية نور الدين السالمي ضمن برنامج الذكرى المئوية للأحداث والشخصيات المؤثرة عالمياً لليونسكو عام ٢٠١٥م.

.....

السؤال الثالث:- أجب عن جميع الأسئلة الآتية

أ- فسر كلا من:-

١- كان لهجرة بعض القبائل العربية إلى عمان أثراً كبيراً على الحياة الاقتصادية.

.....

٢- الأهمية البيئية لأفيوليت سمائل.

.....

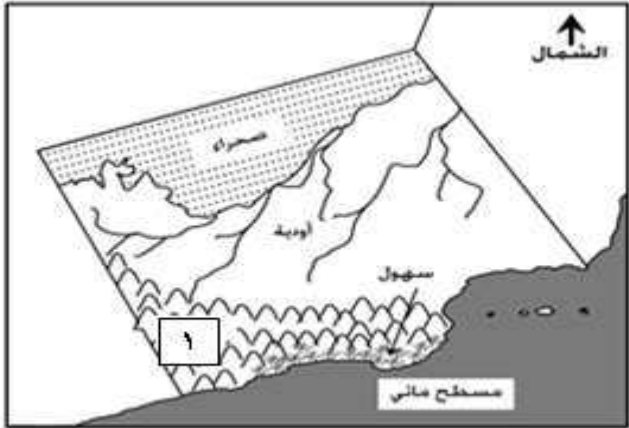
٣- إعلان جزر الديمانيات محمية طبيعية.

.....

يتبع/٦

تابع السؤال الثالث:

ب: أمامك خريطة لإحدى المحافظات العمانية ادرسها جيدا، ثم اجب عن الأسئلة التي تليها:



١- سم كلاً من الظواهر التضاريسية الواضحة

في الخريطة:

أ- الجزر القريبة من الساحل

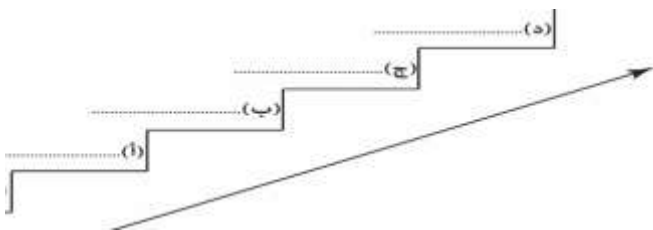
ب- السهل المشار إليه بالسهم

ج- كتلة جبلية في الجزء المشار إليه بالرقم (١)

.....

٢- اذكر اسم نبات طبيعي ينمو في منطقة صحاري المحافظة

ج- ١- رتب الأحداث التاريخية التالية من الأقدم إلى الأحدث بكتابتها على السلم التاريخي الآتي.



() المدرسة السلطانية الأولى

() تأليف موسوعة بيان الشرع.

() مكتبة حصن الشموخ

() طرد البويهيين من عمان .

٢- انسب المنجزات الحضارية الآتية إلى المدن العمانية التي تقع بها.

المنجز الحضاري	المدينة التي يقع بها
أ- مسجد المضمار	
ب- دار الأوبرا السلطانية	

السؤال الرابع: أجب عن جميع الأسئلة التالية:

أ- ادرس صور فنون العمارة العُمانية أمامك، ثم أجب عن الأسئلة التي تليها:



(ب)



(أ)

١- رمز الشكل الذي يظهر فيه فن بناء البومة.....


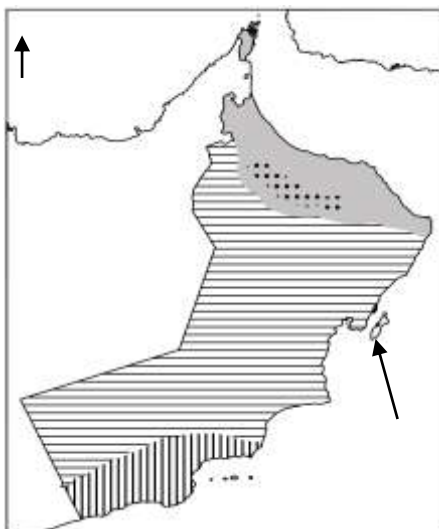
٢- اذكر اثنين من مواد البناء المستخدمة في بناء الشكل (ب).....

٣- سم الفن المعماري المرتبط بأشكال بناء النوافذ والأبواب.....

٤- ما أهمية تصميم المتاريس عند بناء الشكل (ب).....

ب- ادرس خريطة سلطنة عمان المقابلة ثم اجب عن الأسئلة الآتية:

١- اكتب دلالة رموز الأقاليم المناخية حسب موقعها في الخريطة



٢- ما أهمية الجزيرة المشار إليها بالسهم في الخريطة؟

٣- ضع رمز (*) على بداية ونهاية امتداد سهل الباطنة.

السؤال الخامس: أجب عن جميع الأسئلة الآتية:

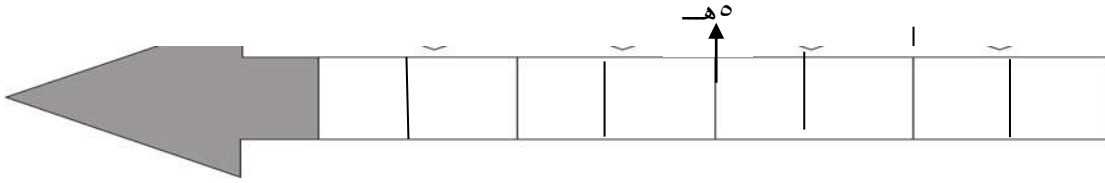
أ: ادرس النص الآتي ثم اجب عن الأسئلة التي تليه:

" أقدم دار اسلامية لضرب النقود في شبه الجزيرة العربية قد انشئت بعمان. فأقدم قطعة نقود معدنية وهي درهم فضي يعود لعهد الخليفة الأموي عبدالملك بن مروان، تحمل اسم عمان، و النقود المعدنية التي سكت بعمان في الفترة من القرن الثالث إلى القرن السادس الهجري مثلت مصدرا هاما من مصادر التاريخ العماني، فظهرت العديد من العملات النقدية" (مجلة نزوى)

١- ما أهمية المسكوكات النقدية القديمة التي عثر عليها في عمان.

.....
.....

٢- ظل الفترة الزمنية التي سك فيها العديد من العملات النقدية القديمة في عمان على المسطرة الزمنية



ب- انسب الكتب الآتية لمؤلفيها من العلماء العمانيين.

المؤلف	الكتاب
	١- كشف الغمة الجامع لأخبار الأمة
	٢- الجماهرة
	٣- الدلائل في اللوازم والرسائل
	٤- فاكهة ابن السبيل

ج- اذكر دليل واحد على كلا من:

١- استمرار دور المدارس التقليدية التي عرفت بأسماء العلماء إلى وقتنا الحاضر

.....

٢- ظهور أعمال تطوعية جديدة في المجتمع العماني.

.....

انتهت الأسئلة مع الدعاء للجميع بالتوفيق والنجاح

نموذج إجابة إمتحان مادة: هذا وطني الصف الحادي عشر
الدرجة الكلية: (٦٠) درجة.

أولاً: إجابة السؤال الموضوعي:

المفردة	البديل الصحيح	الإجابة	الدرجة	الصفحة
١	ج	١٩٩٧	١	٢٥
٢	أ		١	٢٠
٣	ب		١	٥٢
٤	ب	٢	١	٢٩-٢٣
٥	ج	الصير	١	٥٧
٦	ب	شمس	١	٢٤
٧	ج	الرعي الجائر	١	٤٢
٨	أ	السبخات الساحلية	١	٤١
٩	ب	القانون	١	٦٦
١٠	د	ابن بركة	١	٧٤
١١	ب	المهرة	١	٥١
١٢	ج	الصيف	١	٣٧
١٣	ب	مركز ذاكرة عمان	١	٧٨

يتبع/٢

تابع إجابة الأسئلة الموضوعية:

الصفحة	الدرجة	الإجابة الصحيحة	المفردة	الجزئية
٨١	١	الشريعة الإسلامية	أ	١٤
٨٥	١	السابع	ج	١٥
٥٤	١	الصلت بن مالك	د	١٦
٧٠	١	الثقافي	ب	١٧
٧٧	١	صحار	ج	١٨
	١٨	المجموع		

يتبع / ٣

ثانياً: إجابة الأسئلة المقالية:
السؤال الثاني

الدرجة الكلية : ١٢

الصفحة	الدرجة	الإجابة الصحيحة	المفردة	الجزئية
٥٥	١	قوافل السفن التجارية العمانية التي كانت تبحر قديماً في أساطيل كقوافل الإبل في الصحراء.	١	أ
٧٧	١	تخصيص شيء من ممتلكات الخير الميسورين لإنفاق عوائدها في أوجه الخير المخصص لها.	٢	
٤٤	١	حكمت مجان منذ ٤٠٠ سنة قبل الميلاد/ ابرمت اتفاقية مع الملك سرجون الأكادي لصد الأطماع الخارجية المحيطة بعمان	١-أ	ب
	١	أنشأت مدرسة في بهلا/ كانت معلمة وفقهية ومربية/ تخرج على يديها عدد من العلماء/ أنشأت مكتبة وجعلتها وفقاً. (يكتفى بذكر دور واحد)	١-ب	
	١	فقيهة وأديبة/ كتبت قصائد دينية (في رحلة الحج، المرأة في ميزان الإسلام) / قصائد في السلوك / ألقت كتاب من أيامي	١-ج	
٥٤	١	استخدمت للقضاء على قرصنة الميد	١-٢	ج
	١	استخدمت لتحرير جزيرة سقطرى من النصارى	٢-ب	
٤٨	١	ط	٣	
٤٧	٢ لكل نصف درجة	أ- المحافظة جنوب الشرقية ، تاريخ الإدراج: ٢٠١٨م. ب- المحافظة : الظاهرة، تاريخ الإدراج: ١٩٨٨م	١	ج
	١	أ-دور صاحب الجلالة في زرع التآلف والمحبة والانسجام بينه وبين أبناء شعبه/ وجود أنظمة سياسية واجتماعية في عمان ومثلت محل فخر وإعجاب / شخصية جلاله السلطان ودوره في نشر السلم على مستوى جميع الأصعدة. ب-دور نور الدين السالمي الفقهى والتأليف في الموسوعات يعد من العلماء الموسوعيين/ براعته في عدد من فنون العلم مثل العلوم الشرعية واللغوية والتاريخية/ تأليفه ٢٢ كتاباً/	٢	
٨٣-٦٨	١			

تابع إجابة الأسئلة المقالية:
السؤال الثالث

الدرجة: ١٠

الصفحة	الدرجة	الإجابة الصحيحة	المفردة	الجزئية
٤٨	١	كان لدخول القبائل على عمان اثر في إنعاش النشاط الاقتصادي إذ قامت بشق الأفلاج / شقت فلج الملكي في ولاية إزكي / اثرت في ازدهار النشاط الزراعي	١	أ
٢١	١	أفيوليت سمائل يمكنها امتصاص غاز ثاني أكسيد الكربون المسبب لظاهرة الاحتباس الحراري/ وفرت معلومات حول العمليات الجيولوجية التي حدثت ومازالت تحدث في أعماق المحيطات.	٢	
٣٢	١	لأنها تعد مركزا مهما لتكاثر أنواع من الطيور المهاجرة والمستوطنة /وجود العديد من المرجان/ وأسماك الشعاب المرجانية (كل التفسيرات السابقة يكفي بذكر واحد)	٣	
٢٣ ٢٥ ٢٦	٣ لكل درجة	- أجزر الحلانيات - ب-سهل صلالة/ جربيب - ج- جبال القمر	١	ب
٤٠	درجة	اللبن	٢	
٥٣ ٧٥ ٧٧	٢ لكل نصف درجة	(أ) طرد البويهيين من عمان. (ب) تأليف موسوعة بيان الشرع. (ج) المدرسة السلطانية الأولى. (د) مكتبة حصن الشموخ.	١	ج
٧٤ ٧٩	١ لكل نصف درجة	أ- سمائل ب-مسقط	٢	

تابع إجابة الأسئلة المقالية:
السؤال الرابع

الدرجة: ١٠

الصفحة	الدرجة	الإجابة الصحيحة	المفردة	الجزئية
٨٥	١	ب	١	أ
٨٤	٢ لكل درجة	الجص / الصاروج/ الطوب المصنوع من الطين/ الأخشاب مثل جذوع النخل (يكتفى باثنين)	٢	
٨٥	١	المشربيات / القمريات	٣	
٨٥	١	- حواجز توضع على الأبراج أو الأسوار تستخدم كفتحات لإطلاق النار أثناء عملية الدفاع عن القلعة أو الحصن	١	
٣٤	٣ لكل درجة	مناخ البحر المتوسط المناخ الصحراوي الجاف المناخ الموسمي	١	ب
٣٢	١	أهمية جزيرة مصيرة تعد من اكبر الجزر المأهولة بالسكان في عمان ومناسبة للاستقرار البشري/توجد بها العيون المائية/ شواطئها مناسبة لتعشيش السلاحف.	٢	
٢٥	١	يضع نجمة بداية سهل الباطنة من خطمة ملاحه إلى رأس الحمراء في محافظة مسقط	٣	

تابع إجابة الأسئلة المقالية:
السؤال الخامس

الدرجة: ١٠

الصفحة	الدرجة	الإجابة الصحيحة	المفردة	الجزئية
٨٥	١	مثلت مصدرا هاما من مصادر التاريخ العماني / عكست تقدم النشاط الاقتصادي في عمان في تلك الفترة/ بينت أهمية عمان ومانتها في شبه الجزيرة العربية/ النشاط التجاري في عمان	١	
٨٤	٢	 <p>(يتم التظليل من القرن ٣ هجري إلى ٦ هجري)</p>	٢	أ
٨٥	١	- حواجز توضع على الأبراج أو الأسوار تستخدم كفتحات لإطلاق النار أثناء عملية الدفاع عن القلعة أو الحصن	١	
٨١ ٨٢	٤ لكل درجة	١- سرحان بن سعيد الأزكوي ٢- أبو بكر محمد بن الحسن الأزدي ٣- درويش بن جمعة المحروقي ٤- راشد بن عميرة الرستاقى		ب
٧٥	١	- مدرسة حمود بن حميد الصوافي في سناو	١	ج
٧٠	١	- التبرع بالدم / تنظيف الحقائق إذا ذكر الطالب أي عمل تطوعي ظهر حديثا تعتبر إجابة صحيحة	٢	ج