



امتحان مادة : الدراسات الاجتماعية

للسف : العاشر

للعام الدراسي ١٤٤٤هـ - ٢٠٢٢/٢٠٢٣م

الدور الأول - الفصل الدراسي الثاني - الفترة المسائية

● عدد صفحات أسئلة الامتحان: ( ٩ ) صفحات.

● زمن الامتحان : ( ساعتان )

● الإجابة في الدفتر نفسه .

			اسم الطالب/ة
الصف			المدرسة

التوقيع بالاسم		الدرجة		السؤال
المصحح الثاني	المصحح الأول	بالحروف	بالأرقام	
				١
				٢
				٣
				٤
				٥
مراجعة الجمع	جمعه			المجموع
			٦٠	المجموع الكلي

## أجب عن جميع الأسئلة الآتية

السؤال الأول : ضع دائرة حول رمز الإجابة الصحيحة لكل مفردة من المفردات الآتية:

١- تعد الزلازل من الأخطار الطبيعية المدمرة عندما تتعدى قوتها حسب مقياس ريختر الدرجة :

(د) الخامسة

(ج) الرابعة

(ب) الثالثة

(أ) الثانية

٢- الصورة التي تمثل الصناعة التي عمل بها الإمام أبو عبيدة مسلم بن أبي كريمة التميمي:



(د)



(ج)



(ب)



(أ)

٣- العام الميلادي الذي وقعت فيه معاهدة ماسترخت بين دول أعضاء الاتحاد الأوربي :

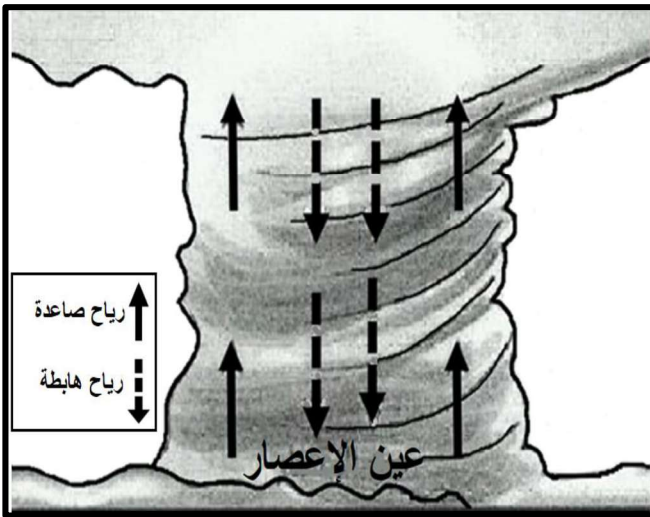
(د) ١٩٩٨

(ج) ١٩٩٦

(ب) ١٩٩٤

(أ) ١٩٩٢

٤- خصائص الرياح في الشكل المقابل لعين الإعصار من حيث درجة الحرارة:



(ب)

الصاعدة	دافئة
الهابطة	دافئة

(أ)

الصاعدة	باردة
الهابطة	دافئة

(د)

الصاعدة	باردة
الهابطة	باردة

(ج)

الصاعدة	دافئة
الهابطة	باردة

٥- يُشكل توزيع المناطق الجافة وشبه الجافة من مساحة اليابسة :

(د) الخمس

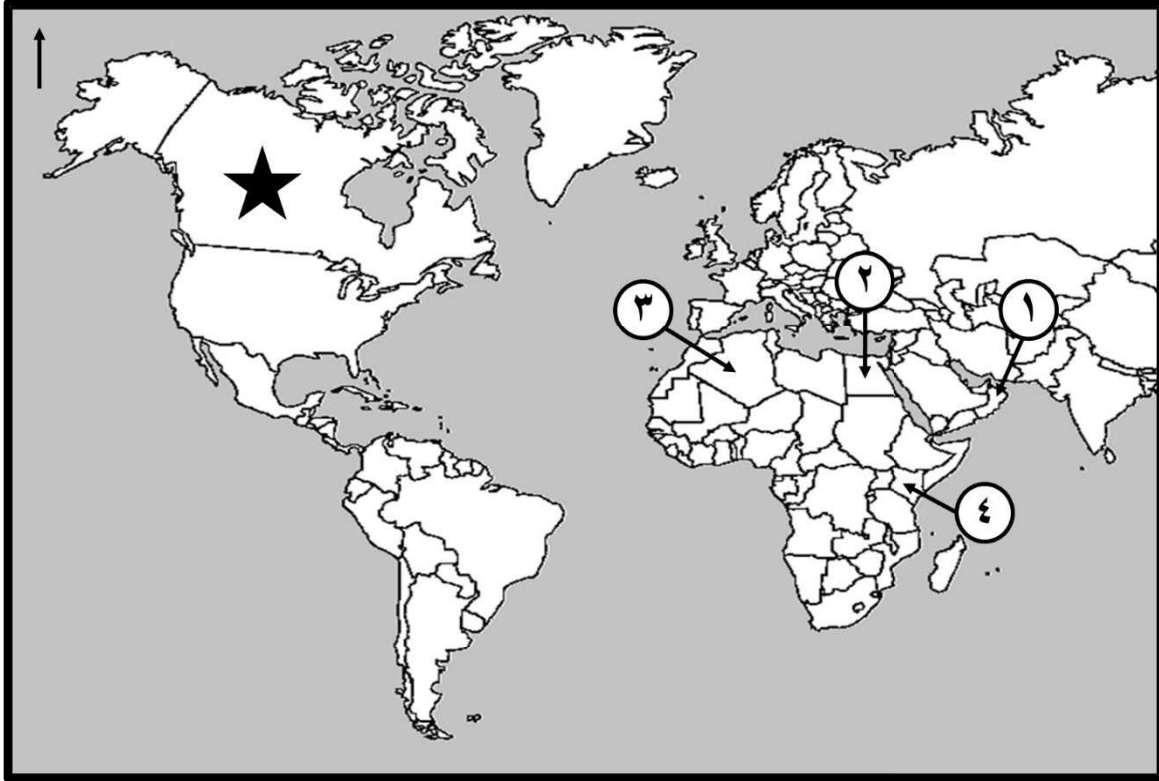
(ج) الربع

(ب) الثلث

(أ) النصف

## تابع : السؤال الأول:

-ادرس الخريطة التي أمامك ، ثم أجب عن المفردتين ( ٦ و ٧ ) :



٦-الرقم الذي يشير إلى الدولة التي أعادت تأهيل ضفاف نهر ثوجي بزراعة أشجار الخيزران:

- ١ ( أ )      ٢ ( ب )      ٣ ( ج )      ٤ ( د )

٧ - تمثل إحدى دول التكتل الاقتصادي ( النافتا ) والمشار إليها بالرمز ( ★ ) :

- ١ ( أ ) المملكة المتحدة      ٢ ( ب ) كندا      ٣ ( ج ) الولايات المتحدة الأمريكية      ٤ ( د ) روسيا

٨- "ضرب فيتنام صباح يوم الأربعاء ٢٨ سبتمبر (إعصار نورو ) بسرعة رياح تتراوح بين ( ١١٩ - ١٤٢ ) كيلومتراً في الساعة ". تصنف قوة الإعصار وفق المقياس الدولي للأعاصير:

- ١ ( أ ) خفيف      ٢ ( ب ) متوسط      ٣ ( ج ) قوي      ٤ ( د ) عنيف

٩- إحدى المواد البركانية التي يستفاد منها في إنتاج المواد الكيميائية :

- ١ ( أ ) رواسب طينية      ٢ ( ب ) حجر الخفاف      ٣ ( ج ) رواسب الكبريت      ٤ ( د ) الرماد البركاني

## تابع : السؤال الأول:

١٠- مصدر الطاقة الأكثر استهلاكاً في الولايات المتحدة الأمريكية وفق الرسم البياني الآتي:



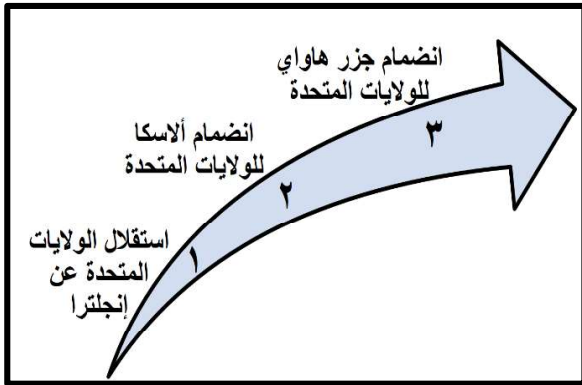
(أ) الغاز الطبيعي (ب) الفحم

(ج) الطاقة النووية (د) البترول

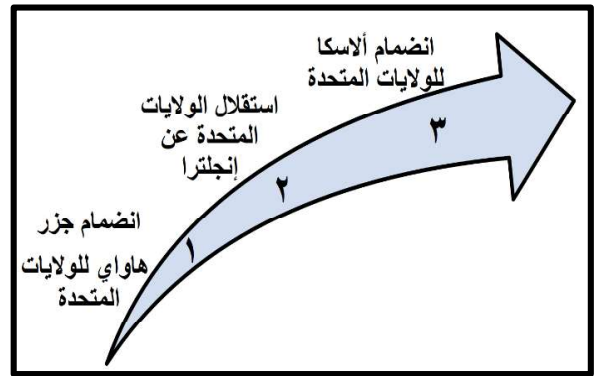
١١- المدينة التي وصفها الأحنف بن قيس بقوله: ( أنها أكثر ساجاً وعاجاً وديباجاً ونهراً عجاجاً ) .

(أ) الكوفة (ب) الأهواز (ج) البصرة (د) حضرموت

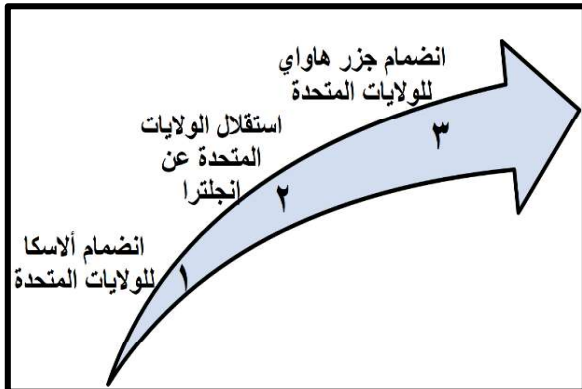
١٢- الترتيب الصحيح للأحداث التاريخية المرتبطة بالولايات المتحدة الإمريكية :



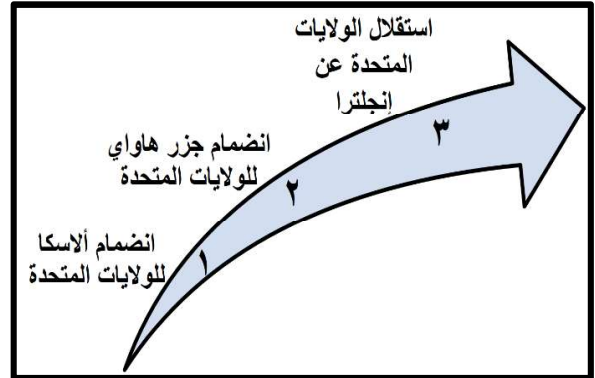
(ب)



(أ)



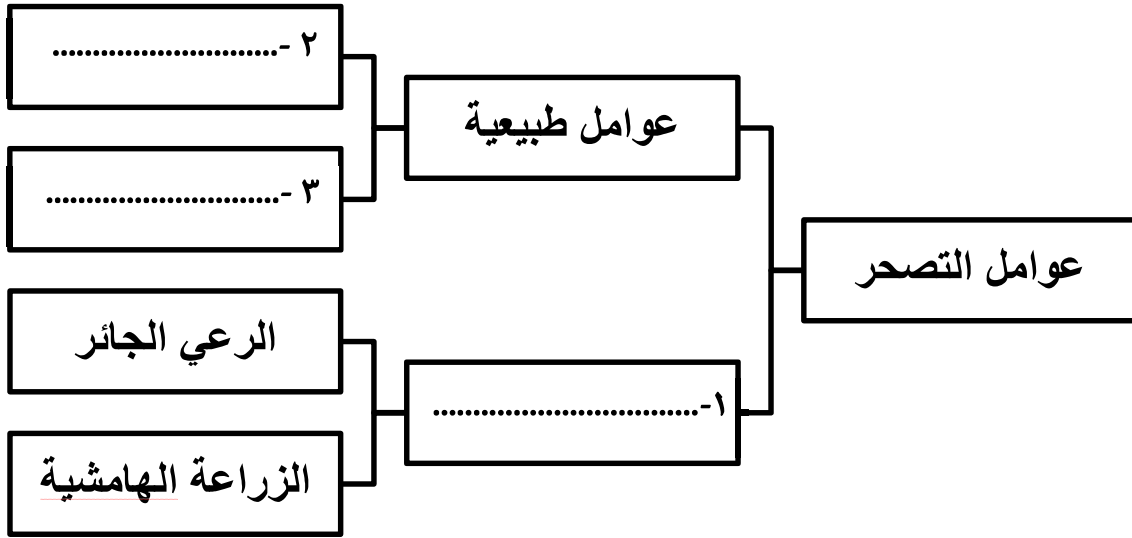
(د)



(ج)

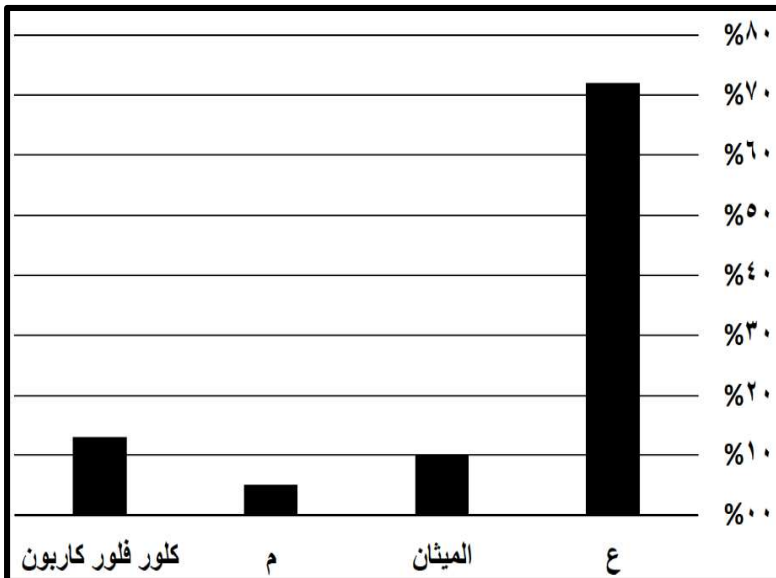
## السؤال الثاني :

أولاً: أ- اكمل المخطط المعرفي الآتي :



ب- وضع أهمية تكوين التكتلات الاقتصادية في العالم .

ثانياً : ادرس الشكل البياني الذي أمامك ثم أجب عن الآتي :



١- أكمل بيانات الجدول :

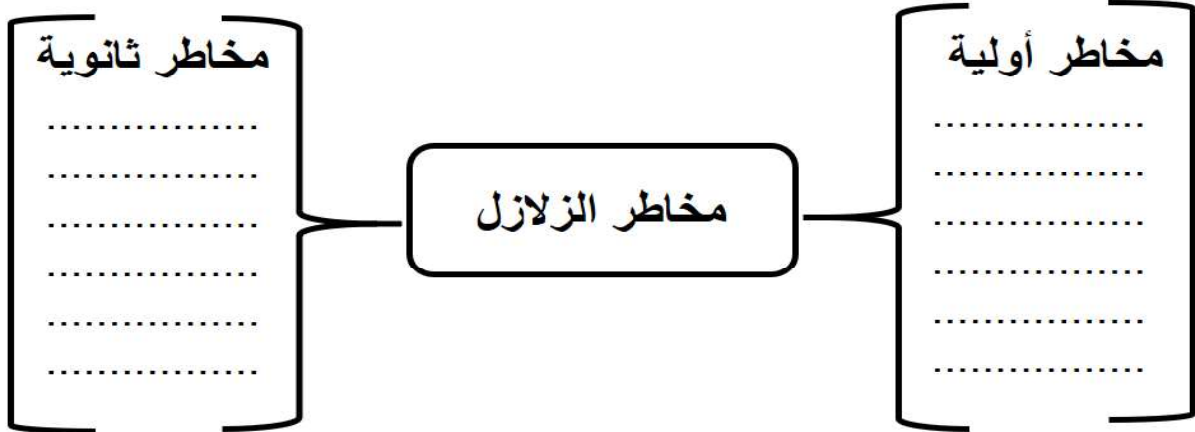
الغاز	النسبة
ع - .....	72%
الميثان	.....
م - .....	5%

٢- ما المشكلة البيئية الناتجة عن ارتفاع نسبة هذه الغازات في المناطق القطبية؟

**تابع السؤال الثاني:**

**ثالثاً:** صنف مخاطر الزلازل الآتية إلى مخاطر أولية وثانوية ، وفق المخطط الآتي :

( الحرائق - تطاير الزجاج - الفيضانات - قطع خطوط الكهرباء - الأمراض والأوبئة - توابع الزلزال )

**السؤال الثالث :**

**أولاً:** أ- اذكر اثنين لكل من:

١ - أعمال الامام أبو عبيدة مسلم بن أبي كريمة التميمي .

- ..... ●
- ..... ●

٢- بنود اتفاقية التجارة الحرة بين الولايات المتحدة الأمريكية وسلطنة عُمان .

- ..... ●
- ..... ●

ب- اعط تعريفاً لكل من:

١- الروبوت.

- .....
- .....

٢- جماعة القعدة.


- .....
- .....

## تابع : السؤال الثالث :

ثانياً: ادرس الخريطة التي أمامك ، ثم أجب عن الأسئلة الآتية :



١- اكتب على الخريطة موقع المحيط الهندي.

٢- تصنف المنطقة المشار إليها بالرمز المساحي  ضمن توزيع المناطق :

اختر الإجابة بوضع علامة (√)

جافة  شديدة الجفاف ٣- من خلال المنطقة المحددة بالرمز (  ) أجب عن الآتي :

أ- اسم التكتل الاقتصادي الذي نشأ في المنطقة (.....).

ب- الكارثة الطبيعية التي تعرضت لها دول المنطقة (.....).

ثالثاً: اكتب سبباً لكل نتيجة حسب الجدول الآتي :

النتيجة	السبب
تنوع أشكال السطح بشكل كبير في الولايات المتحدة الأمريكية .	أ- .....
التنوع العرقي في الولايات المتحدة الأمريكية .	ب- .....



## السؤال الرابع :

أولاً: اكتب مقابل كل عبارة في الجدول الآتي ( المفهوم /المصطلح ) الدال عليها :

المفهوم / المصطلح	العبارة	م
.....	تدهور خصوبة الأراضي المنتجة، سواء كانت مراعي طبيعية أم أراضي زراعية نتيجة لعوامل طبيعية وبشرية .	١
.....	الصراع السياسي بين الولايات المتحدة والاتحاد السوفييتي ( سابقاً ) بعد الحرب العالمية الثانية.	٢
.....	مجموع الأجور والأرباح و الإيجارات والفوائد التي تدفعها مؤسسة معينة لإنجاز عمل ما وتساوي ثمن المبيعات ناقص ثمن المواد التي استعملت في الإنتاج.	٣

ثانياً : أ-اقرأ النص الآتي ، ثم أجب عن الأسئلة التي تليه.

" إن ارتفاع درجة الحرارة السطحية لكوكب الأرض مع ارتفاع مستوى الغازات الدفيئة في الجو ساهمت في تدفئة جو الأرض السطحي ، وقد لوحظت الزيادة في متوسط درجة حرارة المناخ منذ منتصف القرن العشرين ، وعلى الرغم من أنها ظاهرة طبيعية تساعد على الحفاظ على درجة حرارة كوكب الأرض إلا أن زيادة تركيز الغازات الدفيئة الناتج عن النشاط البشري من خلال حرقه للوقود الأحفوري ، وإزالة الغابات وغيرها أدى إلى تحولها لمشكلة بيئية "

١- استنتج اسم المشكلة البيئية التي تحدث عنها النص السابق .

.....

٢ - دال على مساهمة الإنسان في زيادة خطورة هذه المشكلة .

.....

.....

ب- اذكر واحداً لكل من :

١- أدوات المسح المستخدمة لمكافحة مشكلة التصحر .

.....

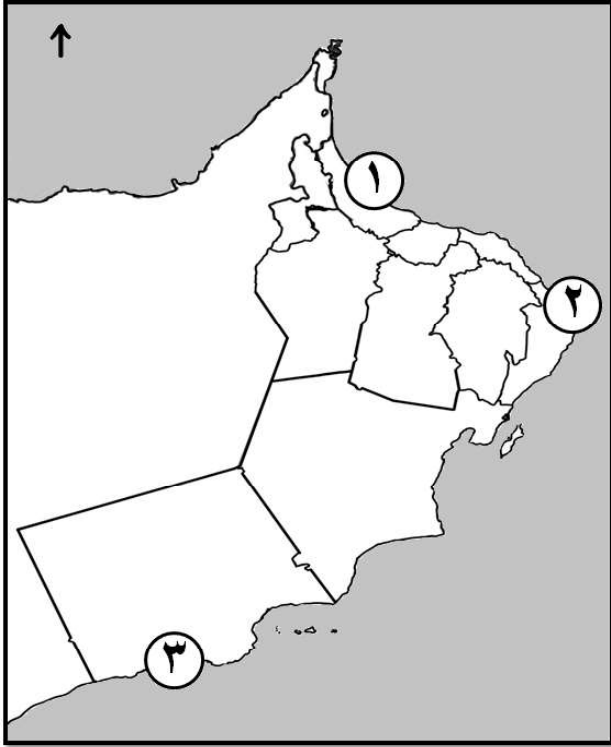
٢- الآثار التي تخلفها الأعاصير والعواصف المدارية .

.....

٣- الدول التي تستخدم الطاقة الحرارية الأرضية لإنتاج الطاقة الكهربائية .

.....



**تابع: السؤال الرابع:****ثالثاً:** ادرس خريطة سلطنة عُمان التي أمامك ، ثم أجب عن الأسئلة الآتية :

١- ظلل على الخريطة موقع المحافظة العمانية التي عقدت فيها ندوة التصحر عام ٢٠٠٢ م .

٢- اكتب على الخريطة اسم البحر الذي تشكل فيه إعصار فيت .

٣- الرقم الصحيح الدال على محطة الرصد الجوي في رأس الحد (.....).

**السؤال الخامس:****أولاً:** في ضوء دراستك لموضوع الولايات المتحدة الأمريكية ، أجب عن الآتي :

١ - سمّ القطاع الاقتصادي المبين في الصورة.

.....

٢- كم تبلغ نسبة مساهمته في الناتج القومي الإجمالي للاقتصاد الأمريكي ؟

.....

٣- اذكر عاملين ساهما في نجاح هذا القطاع الاقتصادي؟

..... ●

..... ●

..... ●

.....

## تابع: السؤال الخامس :

ثانياً: أ- رتب الأحداث التاريخية من الأقدم إلى الأحدث بكتابة الأرقام ( ١ ، ٢ ، ٣ ، ٤ ):

( ) ظهور طرابلس كمركز للأباضية في شمال أفريقيا .

( ) نكبة المهالبة .

( ) تمصير البصرة .

( ) دخول طالب الحق الحجاز .

ب- بين الآثار الإنسانية والاجتماعية التي تركها طالب الحق في تاريخ حضرموت واليمن .

.....


.....

## ثالثاً:

أ- اذكر واحداً من طرق مكافحة التصحر للدول الآتية :

الدولة	طرق مكافحة التصحر
الجزائر	١- .....
الهند	٢- .....

ب - استعن بالشكل الذي أمامك ، ثم أجب عن الأسئلة الآتية :



١- ما الهدف من إنشاء هذا النوع من المباني ؟

.....

٢- اكتب اسم مواصفات المبنى المشار إليها بالرمز .

• ( س ) .....

• ( ص ) .....

انتهت الأسئلة مع الدعاء للجميع بالتوفيق والنجاح .