

مراجعة الاختبار

جغرافيا / فصل ثاني

نتيجة الاختبار 0 / 19

f

📷

🐦

📞

📺

السؤال الأول

أذكر الآثار السلبية للزيادة السكانية الكبيرة

- الاجابة النموذجية
- 1- نقص الخدمات الإجتماعية والصحية.
 - 2-زيادة نسبة الأطفال من غير المتعلمين
 - 3-انتشار المساكن غير الصحية .
 - 4-ضعف الإهتمام بقطاع التنمية
 - 5-عدم توافر الخدمات التعليمية الكافية للسكان جميعا
 - 6-ازدياد معدلات الفقر ونقص التغذية

الشرح

أذكر الآثار السلبية للزيادة السكانية الكبيرة .

- 1- نقص الخدمات الإجتماعية والصحية.
- 2-زيادة نسبة الأطفال من غير المتعلمين
- 3-انتشار المساكن غير الصحية .
- 4-ضعف الإهتمام بقطاع التنمية
- 5-عدم توافر الخدمات التعليمية الكافية للسكان جميعا
- 6-ازدياد معدلات الفقر ونقص التغذية



السؤال الثاني

التركيب العمري هو تقسيم السكان الى فئات عمرية حسب العمر

True

False

الاجابة النموذجية

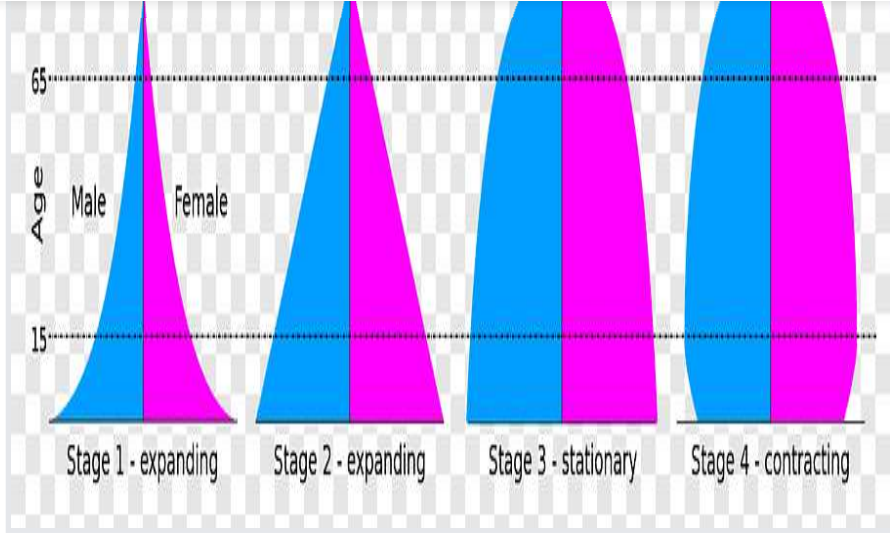
الشرح

التركيب العمري هو تقسيم السكان الى فئات عمرية حسب العمر
الإجابة صحيحة

السؤال الثالث

استعن بالشكل الوارد امامك
قارن بين الهرم السكاني في الدول النامية و الهرم السكاني في
الدول المتقدمة من حيث القاعدة و القمة وشكل الهرم و
تسمية المجتمع ؟





الإجابة النموذجية

الإجابة الصحيحة

المقارنة	الهرم السكاني للدول النامية	الهرم السكاني للدول المتقدمة
القاعدة	أكثر اتساعا بسبب ارتفاع نسبة الأطفال	ضيق القاعدة بسبب قلّة المواليد
القمة	ضيق القمة بسبب تناقص كبار السن	اتساع رأس الهرم بسبب كثرة كبار السن
شكل الهرم	يشبه شجرة السرو	يشبه الكأس المقلوب
مجتمع فتي	هرم	

الشرح

استعن بالشكل الوارد امامك
قارن بين الهرم السكاني في الدول النامية و الهرم السكاني في
الدول المتقدمة من حيث القاعدة و القمة و شكل الهرم و
تسمية المجتمع ؟

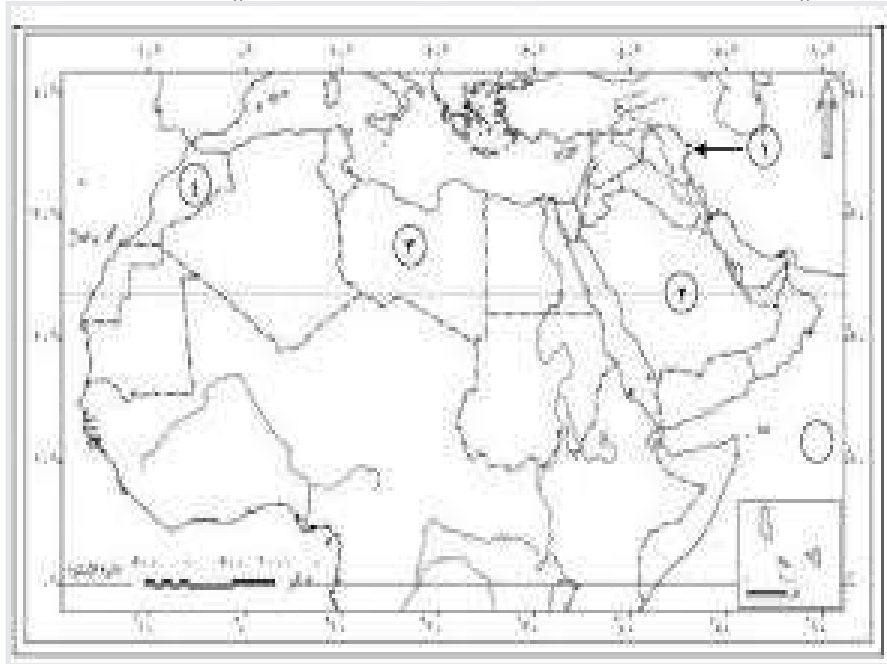


الموايد	ارتفاع نسبة الاطفال	الاعاده
اتساع رأس الهرم	ضييق القمة بسبب	القمة
بسبب كثرة كبار السن	تناقص كبار السن	شكل الهرم
يشبه الكأس المقلوب	يشبه شجرة السرو	مجتمع فتي
هرم		



السؤال الرابع

من خلال خارطة الوطن العربي اجب عما يلي
ما هي دلالة الأرقام الظاهرة امامكأي الدول العربية تمثل



- الاجابة النموذجية
- 1- العراق
 - 2- السعودية
 - 3- ليبيا
 - 4- المغرب



س من حارة الوطن العربي اجب حسب يني

ما هي دلالة الأرقام الظاهرة امامك أي الدول العربية تمثل

1- العراق

2- السعودية

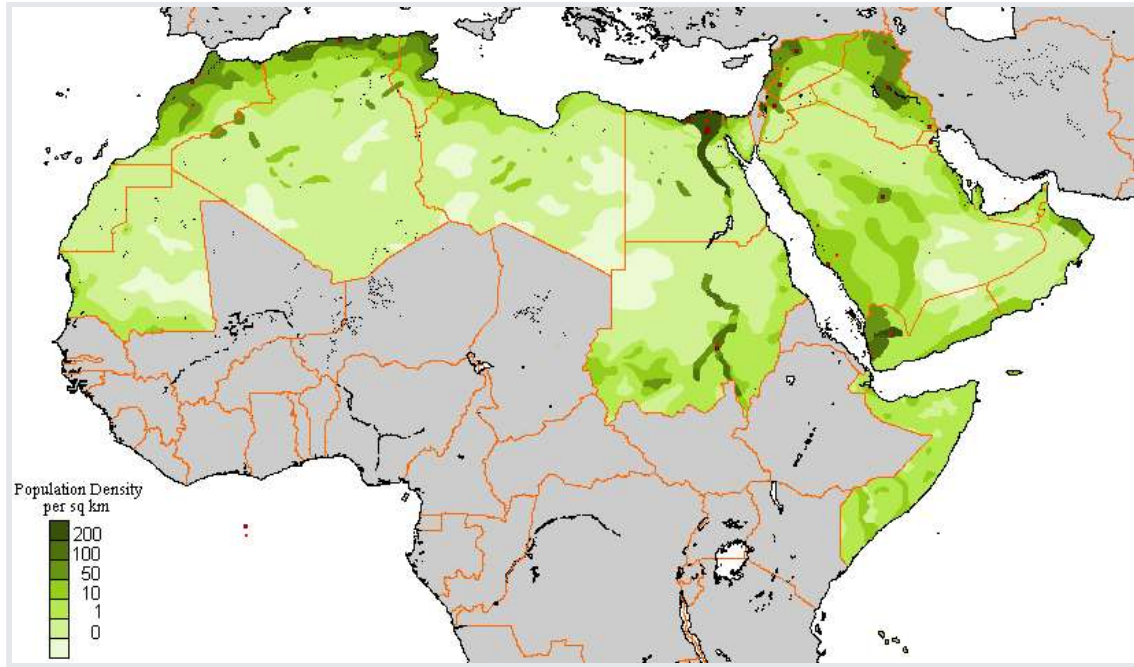
3- ليبيا

4- المغرب



السؤال الخامس

أين ترتفع الكثافة السكانية الظاهرة أمامك على خريطة الوطن العربي (اذكر خمس دول عربية)





2- السودان (السهول الفيضية)

3- العراق (حول نهري دجلة والفرات السهول الفيضية)

4- شمال المغرب (حول الأنهار)

5 شمال تونس (قريبة من تأثير البحر المتوسط) المناخ المتوسط



الشرح

أين ترتفع الكثافة السكانية الظاهرة أمامك على خريطة الوطن العربي (اذكر خمس دول عربية)

1- مصر (السهول الفيضية)

2- السودان (السهول الفيضية)

3- العراق (حول نهري دجلة والفرات السهول الفيضية)

4- شمال المغرب (حول الأنهار)

5 شمال تونس (قريبة من تأثير البحر المتوسط) المناخ المتوسط

السؤال السادس

احسب الكثافة السكانية لمحافظة معان اذا علمت ان عدد سكان المحافظة يساوي 175.000 نسمة و مساحة المحافظة تساوي 32.832.3 .

الاجابة النموذجية

الخطوة الاولى حسب القانون الكثافة السكانية = عدد السكان / مساحة المحافظة

$$175.000 / 32.832.3 = 5.178 \text{ تقريبا } 5 \text{ نسمة لكل كم}^2$$

الاجابة الصحيحة تساوي 5 نسمة لكل كم²



احسب الكثافة السكانية لمحافظة معان اذا علمت ان عدد سكان المحافظة يساوي 175.000 نسمة و مساحة المحافظة تساوي 32.832.3 .
الخطوة الاولى حسب القانون الكثافة السكانية = عدد السكان / مساحة المحافظة
$$32.832.3 / 175.000 = 5.178$$
 تقريبا 5 نسمة لكل كم2
الاجابة الصحيحة تساوي 5 نسمة لكل كم2



السؤال السابع

الفئة المنتجة اقتصاديا هي الفئة العمرية

الاطفال

الشباب

كبار السن

الشيوخ

الاجابة النموذجية

الشرح

الفئة المنتجة اقتصاديا هي الفئة العمرية
الشباب

السؤال الثامن

لماذا تشجع كندا الهجرة اليها ؟

الاجابة النموذجية



و أيضا قلة أعداد المواليد بسبب العزوف عن الزواج وعدم الرغبة في الانجاب بسبب ارتفاع تكاليف رعاية الاطفال .
تحتاج الى فئة الشباب المهاجرة لسد النقص

الشرح

لماذا تشجع كندا الهجرة اليها ؟
تعد مجتمع هرم , فئة كبار السن هي الاكثر عددا تحتاج هذه الفئة الى الرعاية الصحية و الطبية و هي غير منتجة
و أيضا قلة أعداد المواليد بسبب العزوف عن الزواج وعدم الرغبة في الانجاب بسبب ارتفاع تكاليف رعاية الاطفال .
تحتاج الى فئة الشباب المهاجرة لسد النقص

السؤال التاسع

من القارات التي ترتفع فيها الكثافة السكانية

افريقيا

امريكا الشمالية

اوروبا

استراليا

الاجابة النموذجية

الشرح

من القارات التي ترتفع فيها الكثافة السكانية
اوروبا





الدولة التي تحتل رقم واحد في عدد السكان حسب احصائيات 2015 هي الهند

True

False

الاجابة النموذجية

الشرح

الدولة التي تحتل رقم واحد في عدد السكان حسب احصائيات 2015 هي الهند
الاجابة خاطئة
والصحيح هي الصين

السؤال أحد عشر

من دول الوطن العربي التي تنخفض الكثافة السكانية فيها

تونس

لبنان

فلسطين

ليبيا

الاجابة النموذجية

الشرح





السؤال اثنا عشر

يتميز شكل الهرم في الوطن العربي ب

- اتساع القمة
- ضيق القاعدة
- ضيق القمة
- ضيق المنتصف

الاجابة النموذجية

الشرح

يتميز شكل الهرم في الوطن العربي ب
ضيق القمة

السؤال ثلاثة عشر

من الدول العربية التي تحتل المركز الأول بالتعداد السكاني الكبير هي

- العراق
- الجزائر
- مصر
- اليمن

الاجابة النموذجية

الشرح





السؤال أربعة عشر

من أسباب الزيادة السكانية في القرن الثامن عشر في أوروبا

ارتفاع معدلات الوفيات

الثورة الصناعية

انخفاض معدلات المواليد

انتشار الأمراض

الاجابة النموذجية

الشرح

من أسباب الزيادة السكانية في القرن الثامن عشر في أوروبا
الثورة الصناعية

السؤال خمسة عشر

أكبر دولة في العالم من حيث نسبة عدد السكان

الصين

نيجيريا

اليابان

الولايات المتحدة

الاجابة النموذجية

الشرح





السؤال ستة عشر

التركيب النوعي هو

- نسبة الشباب من عدد السكان
- نسبة صغار السن من عدد السكان
- نسبة كبار السن من عدد السكان
- نسبة الذكور الى نسبة الإناث من عدد السكان

الاجابة النموذجية

الشرح

التركيب النوعي هو
نسبة الذكور الى نسبة الإناث من عدد السكان

السؤال سبعة عشر

فئة صغار السن هي الفئة ..

- تزيد أعمارها عن 15 عام
- الغير منتجة
- تزيد أعمارها عن 65 عام
- المنتجة



الشرح

فئة صغار السن هي الفئة ..
الغير منتجة



السؤال ثمانية عشر

الفئة العاملة تمثل الفئة العمرية

- تتراوح بين 15 عام حتى 25 عام
- تتراوح بين 15 عام حتى 64 عام
- أقل من 15 عام
- تتراوح بين 15 عام حتى 50 عام

الاجابة النموذجية

الشرح

الفئة العاملة تمثل الفئة العمرية
تتراوح بين 15 عام حتى 64 عام

السؤال تسعة عشر

من الدول التي توصف بالمجتمعات الفتية

- العراق
- الهند
- الصين
- السويد



الشرح

من الدول التي توصف بالمجتمعات الفتية
العراق



روابط سريعة

الدورات

شبابيك

مدرسة جو اكاڊمي

معلمون - تأسيس

الملفات

منح جواكاڊمي

بكجات وعروض

الدعم

المساعدة

تواصل مع الدعم الفني

أخبار جواكاڊمي

من نحن

مكتبات

الشروط والاحكام



حمل تطبيق الهاتف المحمول لجو اكاڊمي على موبايلك

احصل عليه من
Google Play



احصل عليه من
Play Store

حمل برنامج سطح المكتب لجو اكاڊمي على جهازك

التطبيق لنظام
WINDOWS



التطبيق لنظام
MAC



صفحاتنا على مواقع التواصل الاجتماعي



جميع الحقوق محفوظة © لجواكاڊمي 2023