

أَسْتَكْشِفُ




ما عددُ فراشي الأَسنانِ جَميعِها؟



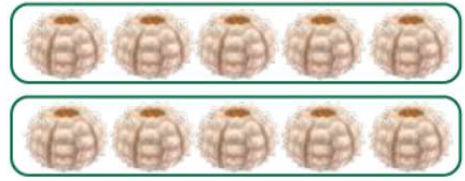
عددُ فراشي الأَسنانِ جَميعِها؟ 15 فرْشاة

حَلُّ أَسْئَلَةٍ مِنْ فَهْمِي صَفْحَةَ (17) :

1



2




$$3 \times 5 = 15$$

$$2 \times 5 = 10$$

3



4



$$1 \times 5 = 5$$

$$4 \times 5 = 20$$

أَحْلُ الْمَسْأَلَةَ

5- الْحِسُّ الْعَدَدِيُّ: تَتَكَوَّنُ لُعْبَةُ قِطَارٍ مِنْ

20 5 عَرَبَاتٍ، كَمْ عَرَبَةً فِي 4 قِطَارَاتٍ؟

$$4 \times 5 = \text{عربة}$$



Blank writing area with two horizontal dashed lines for text entry.

حَلُّ كِتَابِ التَّيَّارِينَ صَفْحَةَ (11)
أَكْتُبْ جُمْلَةَ الضَّرْبِ الْمُنَاسِبَةَ:

1 

2 

$$3 \times 5 = 15$$

$$4 \times 5 = 20$$

أَضَعُ العَدَدَ المُنَاسِبَ فِي

لِأَكْمِلَ

جُمْلَةَ الضَّرْبِ:

3



4



$$\underline{2} \times 5 = \underline{10}$$

$$\underline{4} \times 5 = \underline{20}$$

أرْسُمْ شَبَكَةً لِجِدِّ نَاطِجِ الضَّرْبِ:

5



$$1 \times 5 =$$

6

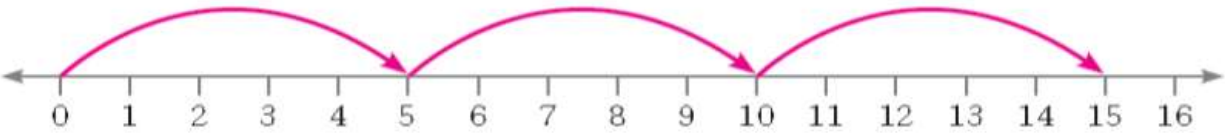
$$3 \times 5 =$$

5

15



7- أرسم عدد القفزات المناسب على خط الاعداد التي تناسب جملة الضرب، ثم أجد ناتج الضرب:



$$3 \times 5 = 15$$

8- وضعت ثقي مجموعتها الخاصة من اللوحات في 4 مجموعات، في كل منها 5 لوحات. كم لوحة؟
لوحة 20 تملك ثقي؟

المعلم الإلكتروني الشامل