

أَسْتَكْشِفُ



ما عدد الأعلام جميعها؟



عدد الأعلام : 8 أعلام

حلّ اتحقق من فهمي صفحة (15) :

أكتب جملة الضرب المناسبة

1



2

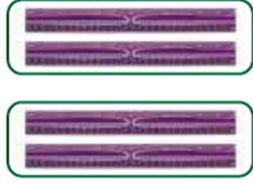


$$4 \times 2 = 8$$


1

$$x 2 = 2$$

3



4



$$2 \times 2 = 4$$

3

$$\times 2 = 6$$

: أَحْلُ الْمَسْأَلَةِ - 5

رَتَّبَ عَيْسَى حَبَّاتِ بُرْتُقَالٍ فِي 4  
مَجْمُوعَاتٍ، وَوَضَعَ فِي كُلِّ مِنْهَا 2 حَبَّةً،



كَمِ الْمَجْمُوعُ الْكُلِّيُّ لِعَدَدِ حَبَّاتِ الْبُرِّ تُقَالِ

الَّتِي رَتَّبَهَا عَيْسَى؟  $4 \times 2 = 8$

حَبَّاتِ

Blank writing area with dashed lines for practice.

(10) حَلُّ كِتَابِ التَّمَارِينِ صَفْحَةَ

أَكْتُبْ جُمْلَةَ الضَّرْبِ الْمُنَاسِبَةَ:

1



2



$$2 \times 2 = 4$$


$$3 \times 2 = 6$$

أَضَعُ العَدَدَ المُنَاسِبَ فِي


لِأَكْمِلَ

:جُمْلَةَ الضَّرْبِ

$$\underline{4} \times 2 = \underline{8}$$



$$\underline{5} \times 2 = \underline{10}$$



:أرْسُمْ شَبَكَةً لِأَجِدَ نَاتِجَ الضَّرْبِ -5

5



$$5 \times 2 =$$

6

$$3 \times 2 =$$

6

10

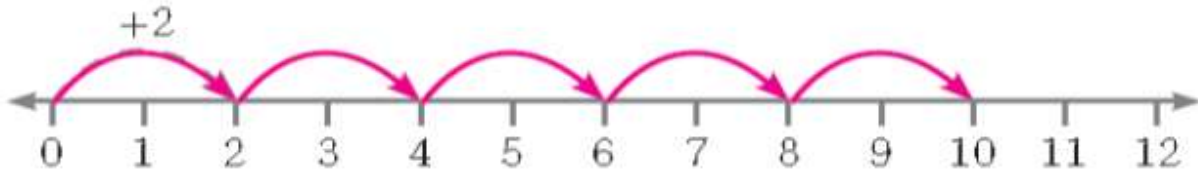


$$5 \times 2 = 10$$

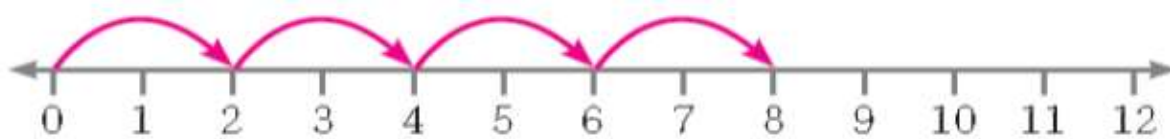
$$3 \times 2 = 6$$

6- أرسم عدد القفزات المناسب على خط الاعداد التي تناسب جملة الضرب، ثم أجد ناتج الضرب  $5 \times 2 =$

10



$$4 \times 2 = 8$$



المعلم الإلكتروني الشامل