



مركز الهاشم والسّامي للاستشارات العلمية و الإدارية
ورقة عمل رياضيات وحدة (الوقت والنقود) الصف الثّاني الأساسي

اسم الطّالبة/ة

أساسيات تعلم الوقت



السّهم الطّويل يشير إلى الدّقائِق

السّهم القصير يشير إلى السّاعات

ثروه الهاشم

قراءة السّاعة في هذه المرحلة

السّهم الطّويل باتجاه العدد 1 تقرأ السّاعة و (5 دقائق)

السّهم الطّويل باتجاه العدد 2 تقرأ السّاعة و (10 دقائق)

السّهم الطّويل باتجاه العدد 3 تقرأ السّاعة و (15 دقيقة)

السّهم الطّويل باتجاه العدد 4 تقرأ السّاعة و (20 دقيقة)

السّهم الطّويل باتجاه العدد 5 تقرأ السّاعة و (25 دقيقة)

السّهم الطّويل باتجاه العدد 6 تقرأ السّاعة و (30 دقيقة).....الخ

السهم الطويل باتجاه العدد 3 يقرأ و ربع

3  و ربع

15 دقيقة

السهم الطويل باتجاه العدد 9 يقرأ إلا ربع

9 

إلا ربع / 45 دقيقة


ثروه الهاشم

السهم الطويل باتجاه العدد 6 يقرأ و نصف
و 30 دقيقة



6

ثروه الهاشم

12  السهم الطويل باتجاه العدد 12 يقرأ تماما
تكتب بالدقائق 00

عندما تكون قراءة الساعة إلا نقوم بإنقاص (1) من الساعة لأنها لم
تصل الساعة بعد

ثروه الهاشم

مثال

4 إلا ننقص (1) من العدد 4 فتصبح (3)
إذا كانت قراءة الساعة الواحدة إلا تكتب (12)

أما إذا كانت قراءة الساعة (و) تبقى الساعة كما هي

مثال

5 وتكتب 5

ثروه الهاشم

أثبت فهمك بالتمرين

اكتب دلالات الساعات التالية

الواحدة إلا	الواحدة إلا
الخامسة إلا	الثالثة إلا
التاسعة إلا	السابعة إلا

الحادية عشرة إلّا
الرابعة إلّا
الثامنة إلّا
الثانية عشرة إلّا

الثانية إلّا
السادسة إلّا
العاشرة إلّا

ثروه الهاشم

و ربع السهم على العدد
تكتب بالدقائق

9 / 4

و نصف السهم على العدد
تكتب بالدقائق

إلّا ربع السهم على العدد
تكتب بالدقائق

تمامًا السهم على العدد تكتب بالدقائق

ملاحظة

عندما يكون الوقت إلا نضع مؤشر السّاعة العقرب الصّغير بين رقمين مثال


ثروه الهاشم

الساعة الخامسة إلا ربع

نضع مؤشر السّاعة بين العددين (4 و 5)

تمرين دعم

أكتب دلالات السّاعات التالية بالأرقام ثمّ عينه على السّاعة المجاورة له



9 / 5 إلا ربع

:

ثروه الهاشم



(2) الرّابعة و نصف

:

ثروه الهاشم



(3) التّاسعة تماما



(4) الواحدة إلا ربع



(5) الحادية عشرة و ربع



(6) السادسة و النّصف

ثروه الهاشم



(7) التّاسعة و ربع

تمرين دعم

ارسم عقارب الساعة بحسب ما هو مطلوب أسفلها



04:30



09:40



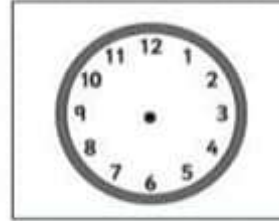
10:15



03:05



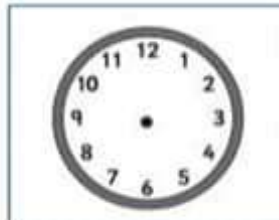
12:10



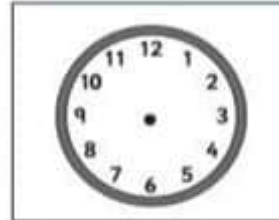
02:45



02:25



06:20



01:45

ثروة الهاشم



اكتب الوقت الذي تشير إليه العقارب في كل ساعة

تمرين دعم



:



:



:



:



:



:



:



:



:

ثروه الهاشم

ثروه الهاشم

صق الحبيب
منتديات

