



الدرس الثاني: القيم القصوى والتقعر

مسألة اليوم صفحة 93

$$C(t) = 3.95 + 8(1.5e^{-0.4t-1} - e^{-0.6t})$$

المطلوب هو قيمة t التي يكون عندها للاقتران $C(t)$ قيمة عظمى مطلقة في $[0, 12]$ ، لذا نجد القيم الحرجة:

$$C'(t) = 8(-0.6e^{-0.4t-1} + 0.6e^{-0.6t}) = 0 \rightarrow e^{-0.4t-1} = e^{-0.6t}$$

$$\rightarrow 0.4t + 1 = 0.6t$$

$$\rightarrow t = 5$$

توجد قيمة حرجة وحيدة ضمن مجال الاقتران هي $t = 5$

نقارن قيمة الاقتران عند النقطة الحرجة مع قيمته عند طرفي مجاله باستخدام الآلة الحاسبة:

$$C(0) = 3.59 + 8(1.5e^{-0.4(0)-1} - e^{-0.6(0)}) \approx 0.005$$

$$C(5) = 3.59 + 8(1.5e^{-0.4(5)-1} - e^{-0.6(5)}) \approx 3.79$$

$$C(12) = 3.59 + 8(1.5e^{-0.4(12)-1} - e^{-0.6(12)}) \approx 3.62$$

وبما أن $C(5)$ هو أكبر هذه القيم فإن تركيز الدواء يكون أكبر ما يمكن بعد 5 ساعات من تناوله.

أتحقق من فهمي صفحة 96

ليس للاقتران f قيم قصوى مطلقة

a

للاقتران قيمة عظمى محلية عند $x = 0$ هي $f(0) = 0$

وله قيمة صغرى محلية عند $x = 2$ هي $f(2) = -4$

b

للاقتران قيمة عظمى مطلقة عند $x = 1$ و $x = -1$ هي $f(\pm 1) = 1$

وله قيمة صغرى محلية ومطلقة عند $x = 0$ هي $f(0) = 0$



أتحقق من فهمي صفحة 102

a

$$f(x) = x^3 - 6x^2 + 5, \quad [-3, 5]$$
$$f'(x) = 3x^2 - 12x = 0 \rightarrow 3x(x - 4) = 0 \rightarrow x = 0, x = 4$$

وتكون قيم x الحرجة هي: $x = 0, x = 4$

نقارن قيم الاقتران عند النقط الحرجة وعند طرفي مجاله

$$f(-3) = -27 - 54 + 5 = -76, f(0) = 5$$
$$f(4) = 64 - 96 + 5 = -27, f(5) = 125 - 150 + 5 = -20$$

للاقتران قيمة صغرى مطلقة عند $x = -3$ هي $f(-3) = -76$

وله قيمة عظمى محلية ومطلقة عند $x = 0$ هي $f(0) = 5$

b

$$f(x) = x^{\frac{1}{3}}, \quad [-8, 8]$$
$$f'(x) = \frac{1}{3}x^{-\frac{2}{3}} = \frac{1}{3\sqrt{x^2}}$$

$f'(x)$ لا تساوي صفرًا لأي قيمة في $(-8, 8)$ ، وهي غير موجودة عند $x = 0$ وهذه هي القيمة الحرجة فقط.

$$f(-8) = -2$$
$$f(0) = 0$$
$$f(8) = 2$$

للاقتران قيمة صغرى مطلقة عند $x = -8$ هي $f(-8) = -2$

وله قيمة عظمى مطلقة عند $x = 2$ هي $f(8) = 2$



$$f(x) = \sin^2 x + \cos x, \quad [0, 2\pi]$$

أجد القيم الحرجة في الفترة $(0, 2\pi)$

$$f'(x) = 2 \sin x \cos x - \sin x = 0 \rightarrow \sin x (2 \cos x - 1) = 0$$

$$\rightarrow \sin x = 0 \quad \text{or} \quad \cos x = \frac{1}{2}$$

$$\rightarrow x = \pi, \text{ or } x = \frac{\pi}{3}, x = \frac{5\pi}{3}$$

وتكون قيم x الحرجة هي: $x = \pi, x = \frac{\pi}{3}, x = \frac{5\pi}{3}$

أجد قيم الاقتران عند القيم الحرجة وطرفي مجاله

c $f(0) = 1$

$$f\left(\frac{\pi}{3}\right) = \frac{3}{4} + \frac{1}{2} = \frac{5}{4}$$

$$f(\pi) = -1$$

$$f\left(\frac{5\pi}{3}\right) = \frac{3}{4} + \frac{1}{2} = \frac{5}{4}$$

$$f(2\pi) = 1$$

لاقتران قيمة صغرى محلية ومطلقة عند $x = \pi$ هي $f(\pi) = -1$

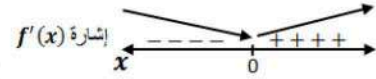
وله قيمة عظمى محلية ومطلقة عند $x = \frac{\pi}{3}, x = \frac{5\pi}{3}$ هي $\frac{5}{4}$



أتحقق من فهمي صفحة 105

$$f(x) = (x-1)e^x$$

$$f'(x) = (x-1)e^x + e^x = 0 \rightarrow xe^x = 0 \rightarrow x = 0$$



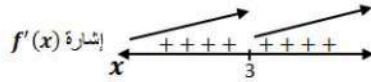
للاقتزان قيمة حرجة وحيدة هي $x = 0$
بما أن إشارة المشتقة الأولى تغيرت من السالب إلى الموجب عند هذه القيمة، لذا يكون للاقتزان قيمة
صغرى محلية هي: $f(0) = -1$

أتحقق من فهمي صفحة 106

$$f(x) = \sqrt[3]{x-3} = (x-3)^{\frac{1}{3}}$$
$$f'(x) = \frac{1}{3}(x-3)^{-\frac{2}{3}} = \frac{1}{3\sqrt[3]{(x-3)^2}}$$

$f'(x)$ لا تساوي صفرًا لأي عدد حقيقي x ، لكن $f'(x)$ غير موجودة عند $x = 3$

إذن القيمة الحرجة الوحيدة هي $x = 3$



الاقتزان f متزايد على R ولا يوجد له قيم قصوى محلية ولا مطلقة. النقطة $(3, 0)$ نقطة حرجة لكنها
ليست نقطة قيمة قصوى لعدم تغير إشارة المشتقة حولها.

أتحقق من فهمي صفحة 111



a $f(x) = (x - 2)^3(x - 1)$

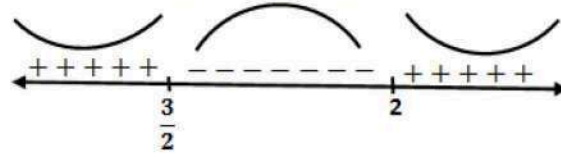
$$f'(x) = (x - 2)^3 + 3(x - 1)(x - 2)^2$$

$$f''(x) = 3(x - 2)^2 + 6(x - 1)(x - 2) + 3(x - 2)^2$$

$$= 3(x - 2)((x - 2) + 2(x - 1) + (x - 2))$$

$$= 3(x - 2)(4x - 6) = 0 \rightarrow x = 2 \text{ or } x = \frac{3}{2}$$

إشارة $f''(x)$



إن منحنى $f(x)$ مقعر للأعلى في $(-\infty, \frac{3}{2})$ و $(2, \infty)$ ، ومقعر للأسفل في $(\frac{3}{2}, 2)$

وله نقطتا انعطاف هما $(\frac{3}{2}, -\frac{1}{16})$ و $(2, 0)$

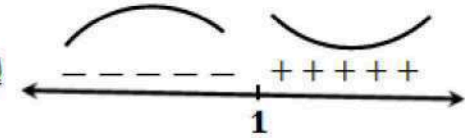
b $f(x) = \frac{x}{x - 1}$

$$f'(x) = \frac{-1}{(x - 1)^2}$$

$$f''(x) = \frac{2}{(x - 1)^3}$$

$f''(x)$ لا تساوي صفرًا لأي عدد حقيقي x ، لكن $f''(x)$ غير موجودة عند $x = 1$

إشارة $f''(x)$



إن منحنى $f(x)$ مقعر للأعلى في $(-\infty, 1)$ ، ومقعر للأسفل في $(1, \infty)$

ولا توجد نقاط انعطاف مع أن المنحنى غير من اتجاه تقعره عند $x = 1$ وذلك لأنها خارج مجال $f(x)$

أتحقق من فهمي صفحة 113



$$f(x) = xe^x$$

$$f'(x) = xe^x + e^x = 0 \rightarrow e^x(x+1) = 0 \rightarrow x = -1$$

القيمة الحرجة هي $x = -1$

$$f''(x) = xe^x + e^x + e^x = e^x(x+2)$$

$$f''(-1) = e^{-1} > 0$$

إن تـوجد قيمة صغرى محلية للافتـران f هي $f(-1) = -e^{-1}$

أتـحقـق من فـهـمـي صـفـحـة 115

$$s(t) = t^3 - 3t + 3, t \geq 0$$

$$v(t) = 3t^2 - 3 = 0 \rightarrow t = 1$$

a

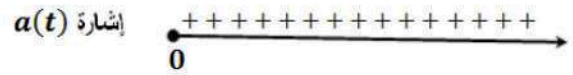


يتحرك الجسم في الاتجاه السالب في الفترة $(0, 1)$

يتحرك الجسم في الاتجاه الموجب في الفترة $(1, \infty)$

$$a(t) = 6t = 0 \rightarrow t = 0$$

b



تكون سرعة الجسم متزايدة في الفترة $(0, \infty)$ ولا تتناقص أبداً



أُتدرب وأحل المسائل صفحة 115

1

قيم x الحرجة هي: $x = 3$ (المشتقة عندها غير موجودة) ، ولا توجد قيم تكون عندها $f'(x) = 0$
توجد قيمة صغرى مطلقة عند $x = 0$ هي $f(0) = 0$
توجد قيمة عظمى محلية ومطلقة عند $x = 3$ هي $f(3) = 3.5$

2

لاحظ أن المشتقة تساوي صفرًا عند $x = 3$ و $x = 6$ ، وأنها غير موجودة عند $x = 4$ ،
إذن توجد 3 قيم حرجة هي $x = 3$ ، $x = 4$ ، و $x = 6$
توجد قيمة صغرى محلية ومطلقة عند $x = 4$ هي $g(4) = 1$
توجد قيمة عظمى محلية عند $x = 3$ هي $g(3) = 4$ ، وعند $x = 6$ هي $g(6) = 3$
لا توجد قيمة عظمى مطلقة

3

قيم x الحرجة هي: $x = 1, x = 2$ (المشتقة عندهما غير موجودة)
توجد قيمة صغرى مطلقة هي $f(-1) = -2$
توجد قيمة عظمى مطلقة هي $f(3) = 3$
لا توجد قيم قصوى محلية

4

$$f(x) = 1 + 6x - 3x^2, \quad [0, 4]$$
$$f'(x) = 6 - 6x = 0 \rightarrow x = 1$$

$$f(0) = 1$$
$$f(1) = 4$$
$$f(4) = -23$$

وتكون قيم x الحرجة هي: $x = 1$

للاقتران قيمة صغرى مطلقة عند $x = 4$ هي $f(4) = -23$
وله قيمة عظمى محلية ومطلقة عند $x = 1$ هي $f(1) = 4$



$$f(x) = (x + 3)^{\frac{2}{3}} - 5, \quad [-3, 3]$$

$$f'(x) = \frac{2}{3}(x + 3)^{-\frac{1}{3}} = \frac{2}{3\sqrt[3]{x + 3}}$$

5 $f'(x)$ لا تساوي صفرًا لأي قيمة في الفترة $(-3, 3)$ ، وهي غير موجودة عند $x = -3$ ولا توجد قيم

حرجة في الفترة $(-3, 3)$.

$$f(-3) = -5$$

$$f(3) = \sqrt[3]{36} - 5$$

للاقتزان قيمة صغرى مطلقة عند $x = -3$ هي $f(-3) = -5$

للاقتزان قيمة عظمى مطلقة عند $x = 3$ هي $f(3) = \sqrt[3]{36} - 5 \approx -1.7$

$$f(x) = \frac{x^2}{x^2 + 1}, \quad [-2, 2]$$

$$f'(x) = \frac{(x^2 + 1)(2x) - (x^2)(2x)}{(x^2 + 1)^2} = \frac{2x}{(x^2 + 1)^2} = 0 \rightarrow x = 0$$

القيم الحرجة هي: $x = 0$

$$6 \quad f(-2) = \frac{4}{5}$$

$$f(0) = 0$$

$$f(2) = \frac{4}{5}$$

للاقتزان قيمة صغرى مطلقة عند $x = 0$ هي $f(0) = 0$

وله قيمة عظمى مطلقة عند $x = 2$ و $x = -2$ هي $\frac{4}{5}$



$$f(x) = \sqrt[3]{x} = x^{\frac{1}{3}}, \quad [8, 64]$$

$$f'(x) = \frac{1}{3}x^{-\frac{2}{3}} = \frac{1}{3\sqrt[3]{x^2}}$$

7 $f'(x)$ موجودة ولا تساوي صفراً لأي عدد x ، وهي موجبة لجميع قيم x في $(8, 64)$ ، و $f(x)$ متزايد

$$f(8) = 2$$

$$f(64) = 8$$

للاقتران قيمة صغرى مطلقة عند $x = 8$ هي $f(8) = 2$

وله قيمة عظمى مطلقة عند $x = 64$ هي $f(64) = 8$

$$f(x) = 2 \cos x + \sin 2x, \quad \left[0, \frac{\pi}{2}\right]$$

$$f'(x) = -2 \sin x + 2 \cos 2x = -2 \sin x + 2(1 - 2 \sin^2 x) = 0$$

$$\rightarrow 2 \sin^2 x + \sin x - 1 = 0$$

$$\rightarrow (2 \sin x - 1)(\sin x + 1) = 0$$

$$\rightarrow \sin x = \frac{1}{2} \text{ or } \sin x = -1 \rightarrow x = \frac{\pi}{6}$$

القيمة الحرجة في الفترة $(0, \frac{\pi}{2})$ هي $x = \frac{\pi}{6}$

$$8 \quad f(0) = 2$$

$$f\left(\frac{\pi}{6}\right) = \frac{3\sqrt{3}}{2}$$

$$f\left(\frac{\pi}{2}\right) = 0$$

للاقتران قيمة صغرى مطلقة عند $x = \frac{\pi}{2}$ هي $f\left(\frac{\pi}{2}\right) = 0$

وله قيمة عظمى محلية ومطلقة عند $x = \frac{\pi}{6}$ هي $f\left(\frac{\pi}{6}\right) = \frac{3\sqrt{3}}{2} \approx 2.6$



$$f(x) = \frac{e^x}{1+x^2}, \quad [0, 3]$$

$$f'(x) = \frac{(1+x^2)e^x - 2xe^x}{(1+x^2)^2} = 0 \rightarrow e^x(x^2 - 2x + 1) = 0$$

$$\rightarrow e^x(x-1)^2 = 0 \rightarrow x = 1$$

القيم الحرجة هي $x = 1$

$$f(0) = 1$$

$$f(1) = \frac{1}{2}e$$

$$f(3) = \frac{1}{10}e^3$$

للاقتران قيمة صغرى مطلقة عند $x = 0$ هي $f(0) = 1$

وله قيمة عظمى مطلقة عند $x = 3$ هي $f(3) = \frac{1}{10}e^3 \approx 2.0$

$$f(x) = \frac{\ln x}{x^2}, \quad \left[\frac{1}{2}, 4\right]$$

$$f'(x) = \frac{(x^2)\left(\frac{1}{x}\right) - 2x \ln x}{x^4} = \frac{1 - 2 \ln x}{x^3} = 0 \rightarrow \ln x = \frac{1}{2} \rightarrow x = \sqrt{e}$$

القيمة الحرجة هي $x = \sqrt{e}$

$$f\left(\frac{1}{2}\right) = -4 \ln 2 \approx -2.8$$

$$f(\sqrt{e}) = \frac{1}{2e} \approx 0.18$$

$$f(4) = \frac{1}{16} \ln 4 = \frac{1}{8} \ln 2 \approx 0.09$$

للاقتران قيمة صغرى مطلقة عند $x = \frac{1}{2}$ هي $f\left(\frac{1}{2}\right) = -4 \ln 2 \approx -2.8$

للاقتران قيمة عظمى مطلقة عند $x = \sqrt{e}$ هي $f(\sqrt{e}) = \frac{1}{2e} \approx 0.18$



$$f(x) = \sec x, \quad \left[-\frac{\pi}{6}, \frac{\pi}{3}\right]$$

$$f'(x) = \sec x \tan x = 0$$

بما أن $\sec x \neq 0$ فإن $\tan x = 0$ ، ومنها $x = 0$

القيمة الحرجة هي $x = 0$

$$f(0) = \frac{1}{\cos(0)} = 1$$

11

$$f\left(-\frac{\pi}{6}\right) = \frac{1}{\cos\left(-\frac{\pi}{6}\right)} = \frac{2}{\sqrt{3}} \approx 1.15$$

$$f\left(\frac{\pi}{3}\right) = \frac{1}{\cos\left(\frac{\pi}{3}\right)} = 2$$

للاقتران قيمة صغرى محلية ومطلقة عند $x = 0$ هي $f(0) = 1$

وله قيمة عظمى مطلقة عند $x = \frac{\pi}{3}$ هي $f\left(\frac{\pi}{3}\right) = 2$

$$f(x) = \sqrt{4 - x^2}, \quad [-2, 2]$$

$$f'(x) = \frac{-x}{\sqrt{4 - x^2}} = 0 \rightarrow x = 0$$

12

$$f(-2) = 0$$

$$f(0) = 2$$

$$f(2) = 0$$

القيمة الحرجة هي $x = 0$

للاقتران قيمة صغرى مطلقة عند $x = -2, x = 2$ هي 0

للاقتران قيمة عظمى محلية ومطلقة عند $x = 0$ هي $f(0) = 2$

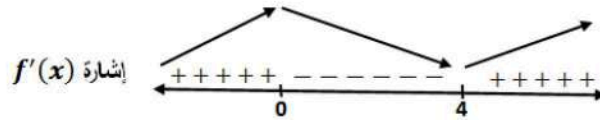


13

$$f(x) = x^3 - 6x^2 - 135$$

$$f'(x) = 3x^2 - 12x = 0 \rightarrow 3x(x - 4) = 0 \rightarrow x = 0 \text{ or } x = 4$$

القيم الحرجة هي $x = 0, x = 4$



f متزايد على $(-\infty, 0), (4, \infty)$

f متناقص على $(0, 4)$

له قيمة عظمى محلية هي $f(0) = -135$

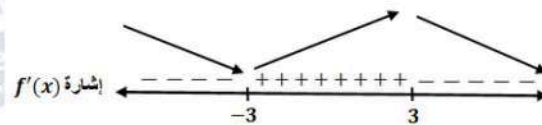
له قيمة صغرى محلية هي $f(4) = -167$

14

$$f(x) = \frac{2x}{x^2 + 9}$$

$$f'(x) = \frac{(x^2 + 9)(2) - (2x)(2x)}{(x^2 + 9)^2} = 0 \rightarrow \frac{18 - 2x^2}{(x^2 + 9)^2} = 0 \rightarrow x = 3 \text{ or } x = -3$$

القيم الحرجة هي $x = 3, x = -3$



f متناقص على $(-\infty, -3), (3, \infty)$

f متزايد على $(-3, 3)$

له قيمة عظمى محلية هي $f(3) = \frac{1}{3}$

له قيمة صغرى محلية هي $f(-3) = -\frac{1}{3}$



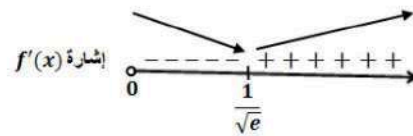
$$f(x) = x^2 \ln x, \quad x > 0$$

$$f'(x) = (x^2) \left(\frac{1}{x} \right) + (\ln x)(2x) = 0 \rightarrow x(1 + 2 \ln x) = 0$$

$$\rightarrow \ln x = -\frac{1}{2} \rightarrow x = \frac{1}{\sqrt{e}}$$

القيمة الحرجة هي $x = \frac{1}{\sqrt{e}}$

15



f متزايد على $\left(\frac{1}{\sqrt{e}}, \infty \right)$

f متناقص على $\left(0, \frac{1}{\sqrt{e}} \right)$

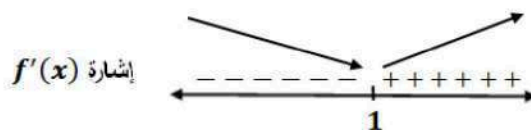
له قيمة صغرى محلية هي $f\left(\frac{1}{\sqrt{e}}\right) = -\frac{1}{2e}$

$$f(x) = \sqrt{x^2 - 2x + 2}$$

$$f'(x) = \frac{x - 1}{\sqrt{x^2 - 2x + 2}} = 0 \rightarrow x = 1$$

القيمة الحرجة هي $x = 1$

16



f متزايد على $(1, \infty)$

f متناقص على $(-\infty, 1)$

له قيمة صغرى محلية هي $f(1) = 1$



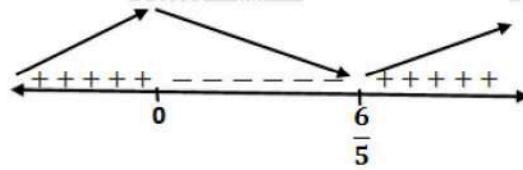
17

$$f(x) = x^{\frac{2}{3}}(x-3) = x^{\frac{5}{3}} - 3x^{\frac{2}{3}}$$

$$f'(x) = \frac{5}{3}x^{\frac{2}{3}} - 2x^{-\frac{1}{3}} = \frac{5x-6}{3\sqrt[3]{x}} = 0 \rightarrow 5x-6=0 \rightarrow x = \frac{6}{5}$$

وكذلك $f'(x)$ غير موجودة عند $x=0$
يوجد له قيمتان حرجتان هما $x=0$ و $x = \frac{6}{5}$

إشارة $f'(x)$



f متزايد على $(-\infty, 0)$, $(\frac{6}{5}, \infty)$

f متناقص على $(0, \frac{6}{5})$

له قيمة صغرى محلية هي $f(\frac{6}{5}) = -\frac{9}{5}(\frac{6}{5})^{\frac{2}{3}}$

له قيمة عظمى محلية هي $f(0) = 0$

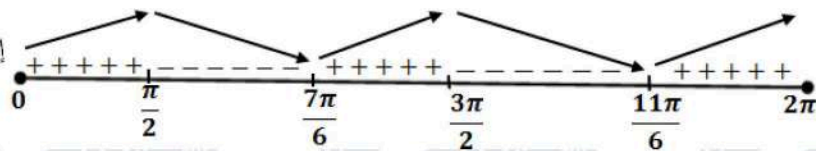
18

$$f(x) = \sin^2 x + \sin x, [0, 2\pi]$$

$$f'(x) = 2 \cos x \sin x + \cos x = \cos x (2 \sin x + 1) = 0$$

$$\rightarrow \cos x = 0 \text{ or } \sin x = -\frac{1}{2} \rightarrow x = \frac{\pi}{2}, \frac{3\pi}{2}, \frac{7\pi}{6}, \frac{11\pi}{6}$$

إشارة $f'(x)$



f متزايد على $(0, \frac{\pi}{2})$, $(\frac{7\pi}{6}, \frac{3\pi}{2})$, $(\frac{11\pi}{6}, 2\pi)$

f متناقص على $(\frac{\pi}{2}, \frac{7\pi}{6})$, $(\frac{3\pi}{2}, \frac{11\pi}{6})$

له قيمة صغرى محلية هي $f(\frac{7\pi}{6}) = -\frac{1}{4}$, $f(\frac{11\pi}{6}) = -\frac{1}{4}$

له قيمتان عظميان محليتان هما $f(\frac{\pi}{2}) = 2$, $f(\frac{3\pi}{2}) = 0$

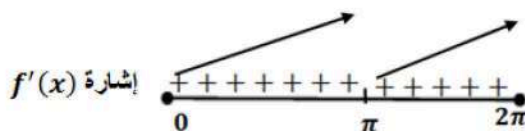


19

$$f(x) = x + \sin x, [0, 2\pi]$$

$$f'(x) = 1 + \cos x = 0 \rightarrow \cos x = -1 \rightarrow x = \pi$$

القيمة الحرجة هي $x = \pi$



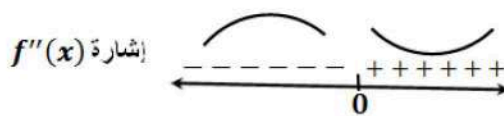
f متزايد على $(0, 2\pi)$
ليس له قيم قصوى محلية

20

$$f(x) = x^3 - 12x + 1$$

$$f'(x) = 3x^2 - 12$$

$$f''(x) = 6x = 0 \rightarrow x = 0$$



f مقعر للأعلى في $(0, \infty)$
 f مقعر للأسفل في $(-\infty, 0)$
للاقتزان f نقطة انعطاف هي $(0, 1)$

21

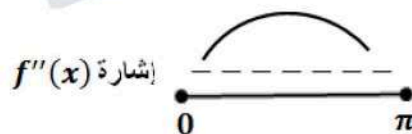
$$f(x) = \sqrt{\sin x}, [0, \pi]$$

$$f'(x) = \frac{\cos x}{2\sqrt{\sin x}}$$

$$f''(x) = \frac{(2\sqrt{\sin x})(-\sin x) - (\cos x)\left(\frac{\cos x}{\sqrt{\sin x}}\right)}{4 \sin x} = -\frac{2 \sin^2 x + \cos^2 x}{4 \sin x \sqrt{\sin x}}$$

$$= -\frac{\sin^2 x + 1}{4 \sin x \sqrt{\sin x}}$$

$$f''(x) \neq 0$$



f مقعر للأسفل على $(0, \pi)$ ، وليس له نقاط انعطاف

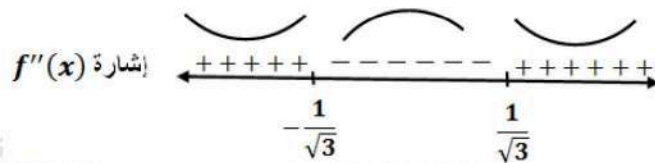


22

$$f(x) = \frac{3}{x^2 + 1}$$

$$f'(x) = \frac{-6x}{(x^2 + 1)^2}$$

$$f''(x) = \frac{(x^2 + 1)^2(-6) - (-24x^2)(x^2 + 1)}{(x^2 + 1)^4} = \frac{18x^2 - 6}{(x^2 + 1)^3} = 0 \rightarrow x = \pm \frac{1}{\sqrt{3}}$$



مقعر للأعلى على $(-\infty, -\frac{1}{\sqrt{3}}), (\frac{1}{\sqrt{3}}, \infty)$

مقعر للأسفل على $(-\frac{1}{\sqrt{3}}, \frac{1}{\sqrt{3}})$

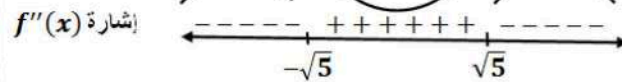
وله نقطتا انعطاف هما: $(-\frac{1}{\sqrt{3}}, \frac{9}{4})$ و $(\frac{1}{\sqrt{3}}, \frac{9}{4})$

23

$$f(x) = \ln(x^2 + 5)$$

$$f'(x) = \frac{2x}{x^2 + 5}$$

$$f''(x) = \frac{(x^2 + 5)(2) - (2x)(2x)}{(x^2 + 5)^2} = \frac{10 - 2x^2}{(x^2 + 5)^2} = 0 \rightarrow x = \pm\sqrt{5}$$



مقعر للأعلى على $(-\sqrt{5}, \sqrt{5})$

مقعر للأسفل على $(-\infty, -\sqrt{5}), (\sqrt{5}, \infty)$

وله نقطتا انعطاف هما: $(-\sqrt{5}, \ln 10)$ و $(\sqrt{5}, \ln 10)$

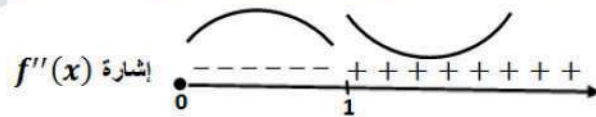


$$f(x) = \sqrt{x}(x+3) = x^{\frac{3}{2}} + 3x^{\frac{1}{2}}, \quad x \geq 0$$

$$f'(x) = \frac{3}{2}x^{\frac{1}{2}} + \frac{3}{2}x^{-\frac{1}{2}}, \quad x > 0$$

$$f''(x) = \frac{3}{4}x^{-\frac{1}{2}} - \frac{3}{4}x^{-\frac{3}{2}} = \frac{3}{4}\left(\frac{1}{x^{\frac{1}{2}}} - \frac{1}{x^{\frac{3}{2}}}\right) = \frac{3}{4}\left(\frac{x-1}{x\sqrt{x}}\right) = 0 \rightarrow x = 1$$

24



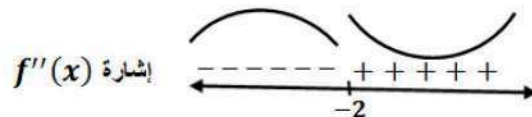
f مقعر للأعلى على $(1, \infty)$ ،
 f مقعر للأسفل على $(0, 1)$ ،
وله نقطة انعطاف هي: $(1, 4)$

$$f(x) = xe^x$$

$$f'(x) = xe^x + e^x$$

$$f''(x) = xe^x + e^x + e^x = e^x(x+2) = 0 \rightarrow x = -2$$

25



f مقعر للأعلى على $(-2, \infty)$ ،
 f مقعر للأسفل على $(-\infty, -2)$ ،
وله نقطة انعطاف هي: $(-2, -2e^{-2})$

$$f(x) = 6x - x^2$$

$$f'(x) = 6 - 2x = 0 \rightarrow x = 3$$

$$f''(x) = -2 \rightarrow f''(3) = -2 < 0$$

26

للاقتزان f قيمة عظمى محلية هي $f(3) = 9$



$$f(x) = \cos x - x, [0, 4\pi]$$

$$f'(x) = -\sin x - 1 = 0 \rightarrow \sin x = -1 \rightarrow x = \frac{3\pi}{2}, x = \frac{7\pi}{2}$$

$$f''(x) = -\cos x$$

$$\rightarrow f''\left(\frac{3\pi}{2}\right) = 0, f''\left(\frac{7\pi}{2}\right) = 0$$

27 ويكون اختبار المشتقة الثانية قد فشل في تحديد نوع القيم $f\left(\frac{3\pi}{2}\right), f\left(\frac{7\pi}{2}\right)$ ، لذا نستخدم اختبار المشتقة الأولى والذي يعتمد على دراسة إشارتها:

إشارة $f'(x)$



نلاحظ أن $f'(x)$ لا تغير إشارتها أبداً، إذن ليس للاقتران f قيم قصوى محلية.

$$f(x) = \frac{x^2}{x-1}$$

$$f'(x) = \frac{(x-1)(2x) - x^2}{(x-1)^2} = \frac{x^2 - 2x}{(x-1)^2} = 0 \rightarrow x(x-2) = 0 \rightarrow x = 0, x = 2$$

28

$$f''(x) = \frac{2}{(x-1)^3}$$

$$f''(0) = -2 < 0, f''(2) = 2 > 0$$

للاقتران f قيمة عظمى محلية هي $f(0) = 0$ وله قيمة صغرى محلية هي $f(2) = 4$

$$f(x) = x \ln x$$

$$f'(x) = (x) \left(\frac{1}{x}\right) + \ln x = 1 + \ln x = 0 \rightarrow \ln x = -1 \rightarrow x = e^{-1}$$

29

$$f''(x) = \frac{1}{x}$$

$$\rightarrow f''(e^{-1}) = e > 0$$

للاقتران f قيمة صغرى محلية هي $f(e^{-1}) = -e^{-1}$



$$f(x) = \frac{x}{2^x}$$

$$f'(x) = \frac{2^x - (x)(2^x \ln 2)}{2^{2x}} = 2^{-x} - (x)(2^{-x} \ln 2) = 2^{-x}(1 - x \ln 2) = 0$$

30

$$\rightarrow x = \frac{1}{\ln 2}$$

$$f''(x) = (2^{-x})(-\ln 2) + (1 - x \ln 2)(-2^{-x} \ln 2)$$

$$= -2^{-x} \ln 2 (2 - x \ln 2)$$

$$\rightarrow f''\left(\frac{1}{\ln 2}\right) = -2^{-\frac{1}{\ln 2}} \ln 2 \left(2 - \frac{1}{\ln 2} \times \ln 2\right) = -2^{-\frac{1}{\ln 2}} \ln 2 < 0$$

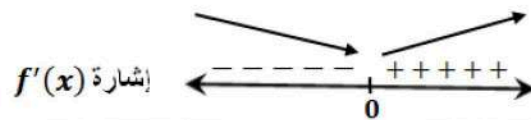
للاقتزان f قيمة عظمى محلية هي $f\left(\frac{1}{\ln 2}\right) = \frac{\frac{1}{\ln 2}}{2^{\frac{1}{\ln 2}}}$

$$f(x) = x^{\frac{2}{3}} - 3$$

$$f'(x) = \frac{2}{3}x^{-\frac{1}{3}} = \frac{2}{3\sqrt[3]{x}}$$

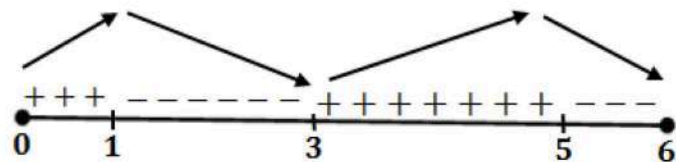
31

$f'(x)$ لا تساوي صفرًا أبدًا، لكنها غير موجودة عند $x = 0$ ، فلا يمكن تطبيق اختبار المشتقة الثانية لمعرفة القيم القصوى، لذا نستخدم اختبار المشتقة الأولى بدراسة إشارتها:



للاقتزان f قيمة صغرى محلية هي $f(0) = -3$

نلاحظ من الرسم المعطى أن $f'(x) = 0$ عند $x = 1, x = 3, x = 5$ ، وأن إشارة $f'(x)$ على النحو الآتي:



32

للاقتزان f قيمة صغرى محلية عند $x = 3$

للاقتزان f قيمة عظمى محلية عند $x = 1, x = 5$

33

الاقتزان f متزايد على $(0, 1), (3, 5)$ ، ومتناقص على $(1, 3), (5, 6)$



$$f(x) = x^3 + ax^2 + bx + c$$

الاقتران f كثير حدود فهو قابل للاشتقاق على R ، بما أن كل نقطة قيمة قصوى هي نقطة حرجة، فإن

$$f'(-3) = 0 \text{ و } f'(1) = 0$$

$$f'(x) = 3x^2 + 2ax + b$$

34

$$f'(-3) = 27 - 6a + b = 0 \dots (1)$$

$$f'(1) = 3 + 2a + b = 0 \dots (2)$$

النقطة $(1, -14)$ تقع على منحنى الاقتران، لذا فإن $f(1) = -14$

$$f(1) = 1 + a + b + c = -14 \dots (3)$$

ب طرح المعادلتين (1) و (2) نجد أن: $a = 3$

ثم بتعويض قيمة a في المعادلة (2) نجد أن: $b = -9$

ثم بتعويض قيمة كل من a و b في المعادلة (3) نجد أن: $c = -9$

$$f(x) = \sqrt{x+1} + \frac{b}{x}$$

$$f'(x) = \frac{1}{2\sqrt{x+1}} - \frac{b}{x^2}$$

35

$$f''(x) = \frac{-1}{4(x+1)\sqrt{x+1}} + \frac{2b}{x^3}$$

بما أنه يوجد نقطة انعطاف عند $x = 3$ فإما أن يكون $f''(3) = 0$ أو $f''(3)$ غير موجودة،


لكن بالنظر إلى قاعدة الاقتران f'' فإن $f''(x)$ غير موجودة عند $x = -1$ و $x = 0$ ،

إذن $f''(3) = 0$ ، ومنه:

$$f''(3) = \frac{-1}{32} + \frac{2b}{27} = 0 \rightarrow b = \frac{27}{64}$$

نلاحظ من الشكل أن $f''(x) = 0$ عند $x = 0$ و $x = 2$ ، وأن إشارة $f''(x)$ على النحو الآتي:

إشارة $f''(x)$



36

f مقعر للأسفل على $(0, 2)$ ،

f مقعر للأعلى على $(-\infty, 0)$ ، $(2, \infty)$

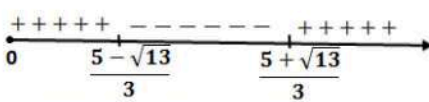
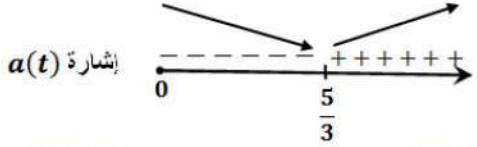
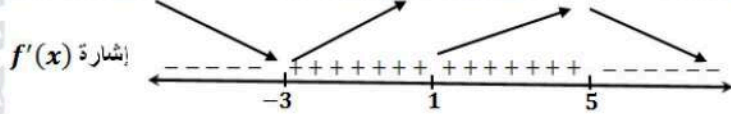
37

توجد نقطتا انعطاف عند $x = 0$ و $x = 2$



38	$B(x) = 305x^2 - 1830x^3, 0 \leq x \leq 0.16$ $B'(x) = 610x - 5490x^2 = 0 \rightarrow 610x(1 - 9x) = 0$ $\rightarrow x = 0, x = \frac{1}{9} \approx 0.11$ <p>القيمة الحرجة هي: $x = \frac{1}{9}$</p> $B(0) = 0$ $B\left(\frac{1}{9}\right) = 305\left(\frac{1}{9}\right)^2 - 1830\left(\frac{1}{9}\right)^3 \approx 1.26$ $B(0.16) = 305(0.16)^2 - 1830(0.16)^3 \approx 0.31$ <p>الحد الأقصى لضغط الدم هو 1.26 ويحدث عند تناول $\frac{1}{9} \text{ cm}^3$ من الدواء</p>
39	<p>يكون الجسم في حالة سكون عندما $v(t) = 0$ أي: $s'(t) = 0$ وهذا يحدث عندما يكون لمنحنى $s(t)$ مماس أفقي، أي عند $t = 2$ و $t = 6$</p>
40	<p>يتحرك الجسم في الاتجاه الموجب أو السالب تبعاً لإشارة $s'(t) = v(t)$، وهذه الإشارة ترتبط بكون منحنى $s(t)$ متزايداً أو متناقصاً: يتحرك الجسم بالاتجاه الموجب في كل من الفترتين: $(0, 2)$، $(6, 7)$ لأن اقتران الموقع متزايد فيهما. ويتحرك في الاتجاه السالب في الفترة $(2, 6)$ لأن اقتران الموقع متناقص فيها.</p>
41	<p>تتزايد $v(t)$ عندما $s''(t) = v'(t)$ يكون موجباً أي عندما يكون منحنى $s(t)$ مقعراً للأعلى، أي في الفترة $(4, 7)$ تتناقص $v(t)$ عندما $s''(t) = v'(t)$ يكون سالباً أي عندما يكون منحنى $s(t)$ مقعراً للأسفل، أي في الفترة $(0, 4)$</p>
42	$f(x) = \frac{1500}{x^2 - 6x + 10} - 150$ $f'(x) = \frac{-1500(2x - 6)}{(x^2 - 6x + 10)^2} = 0 \rightarrow x = 3$ <p>القيمة الحرجة الوحيدة هي $x = 3$ لأن المقام لا يساوي صفراً</p> <div style="text-align: center;"></div> <p>بدراسة إشارة $f'(x)$ نلاحظ أن للاقتران f قيمة عظمى عندما $x = 3$، أي أنّ عدد مكبرات الصوت اللازم إنتاجها وبيعها لتحقيق أكبر ربح أسبوعي ممكن هو 3</p>



43	<p>$s(t) = t^3 - 5t^2 + 4t, t \geq 0$</p> <p>$v(t) = 3t^2 - 10t + 4 = 0 \rightarrow t = \frac{5 \pm \sqrt{13}}{3}$</p> <p>إشارة $v(t)$</p>  <p>يتحرك الجسم بالاتجاه الموجب في كل من الفترتين: $(0, \frac{5-\sqrt{13}}{3})$, $(\frac{5+\sqrt{13}}{3}, \infty)$ ويتحرك في الاتجاه السالب في الفترة $(\frac{5-\sqrt{13}}{3}, \frac{5+\sqrt{13}}{3})$</p>
44	<p>تتزايد $v(t)$ وتتناقص وفقاً لإشارة $a(t) = v'(t)$</p> <p>$a(t) = 6t - 10 = 0 \rightarrow t = \frac{5}{3}$</p> <p>إشارة $a(t)$</p>  <p>تتزايد سرعة الجسم المتجهة في الفترة $(\frac{5}{3}, \infty)$ وتتناقص على الفترة $(0, \frac{5}{3})$</p>
45	<p>تكون $f'(x) > 0$ و $f''(x) > 0$ عند النقاط التي يكون عندها الاقتران f متزايداً ومنحناه مقعراً للأعلى. النقطة التي تحقق هذين الشرطين من بين النقاط المحددة على الرسم هي l:</p>
46	<p>تكون $f'(x) < 0$ و $f''(x) < 0$ عند النقاط التي يكون عندها الاقتران f متناقصاً ومنحناه مقعراً للأسفل. النقطة التي تحقق هذين الشرطين من بين النقاط المحددة على الرسم هي p:</p>
47	<p>تكون $f'(x) < 0$ و $f''(x) > 0$ عند النقاط التي يكون عندها الاقتران f متناقصاً ومنحناه مقعراً للأعلى. النقطة التي تحقق هذين الشرطين من بين النقاط المحددة على الرسم هي k:</p>
48	<p>نلاحظ من الرسم أن $f'(x) = 0$ عند $x = -3, x = 1, x = 5$، وأن إشارة $f'(x)$ على النحو الآتي:</p> <p>إشارة $f'(x)$</p>  <p>للاقتران f قيمة صغرى محلية عند $x = -3$ وله قيمة عظمى محلية عند $x = 5$</p>
49	<p>الاقتران f متزايد على $(-3, 5)$ ومتناقص على $(-\infty, -3)$, $(5, \infty)$</p>



50	<p>يكون منحنى f مقعرًا للأعلى في الفترة (أو الفترات) التي يكون فيها f' متزايدًا حيث تكون في هذه الفترات مشتقة f' أي f'' موجبة. يتضح من الرسم أن f' متزايدة في الفترتين: $(-\infty, -2)$, $(1, 4)$ وعندما تكون f' متناقصة في فترة ما تكون f'' سالبة ويكون منحنى f مقعرًا للأسفل، ويتضح من الرسم أن f' متناقصة في الفترتين: $(-2, 1)$, $(4, \infty)$، إذن، منحنى f مقعر للأسفل في الفترتين $(-2, 1)$, $(4, \infty)$، ومقعر للأعلى في الفترتين $(-\infty, -2)$, $(1, 4)$.</p>
51	<p>f له ثلاث نقاط انعطاف عند $x = -2, x = 1, x = 4$ لأن للاقتران f' قيم قصوى عندها.</p>
52	<p>$h(x)$ هو مشتقة $g(x)$ أي $g'(x) = h(x)$ وليس العكس التبرير: بما أن أحدهما هو مشتقة الآخر (من المعطيات)، يكفي ملاحظة الفترة $x < -2$ حيث g متزايد و h أكبر من الصفر، وهذا ينسجم مع كون h هو مشتقة g بينما في هذه الفترة نفسها h متناقص و g لا يحافظ على الإشارة السالبة، وهذا يؤكد أن g ليس مشتقة h والنظر لباقي الفترات بالمنهجية نفسها يؤدي إلى ذات النتيجة. كذلك للاقتران g قيمة صغرى محلية عند $x = -2$، ونلاحظ أن $h(-2) = 0$، ما يؤكد أن $g'(x) = h(x)$.</p>



$$f(x) = x^a(1-x)^b, x \in [0, 1], a > 0, b > 0$$

$$f'(x) = -bx^a(1-x)^{b-1} + ax^{a-1}(1-x)^b$$

$$= x^{a-1}(1-x)^{b-1}(a(1-x) - bx)$$

$$= x^{a-1}(1-x)^{b-1}(a - (a+b)x)$$

$$f'(x) = 0 \rightarrow x = 0, x = 1, x = \frac{a}{a+b}$$

بما أن a ، و b موجبان، فإن:

$$0 < a < a+b$$

وبقسمة حدود المتباينة على $(a+b)$ ينتج أن:

$$0 < \frac{a}{a+b} < 1$$

أي أن العدد $\frac{a}{a+b}$ يقع ضمن مجال الاقتران f وهو $[0, 1]$

إذن القيمة الحرجة في الفترة $(0, 1)$ هي: $x = \frac{a}{a+b}$

أجد قيمة الاقتران عند القيمة الحرجة وطرفي المجال.

$$f\left(\frac{a}{a+b}\right) = \left(\frac{a}{a+b}\right)^a \left(1 - \frac{a}{a+b}\right)^b = \left(\frac{a}{a+b}\right)^a \left(\frac{b}{a+b}\right)^b$$

$$f(0) = 0, f(1) = 0$$

إذن القيمة العظمى المطلقة للاقتران f هي $f\left(\frac{a}{a+b}\right) = \left(\frac{a}{a+b}\right)^a \left(\frac{b}{a+b}\right)^b$