



الرياضيات

الصف الثاني عشر- الفرع العلمي
الفصل الدراسي الأول

12

إجابات كتاب الطالب

منهاجي
متعة التعليم الهادف



الناشر: المركز الوطني لتطوير المناهج

☎ 06-5376262 / 237 ☎ 06-5376266 ☎ P.O.Box: 2088 Amman 11941

📧 @nccdjor 📧 feedback@nccd.gov.jo 🌐 www.nccd.gov.jo



إجابات كتاب الطالب - مادة الرياضيات - الصف الثاني عشر العلمي ف1

الوحدة الأولى: التفاضل

الدرس الأول: الاشتقاق

مسألة اليوم صفحة 8

1

$$x(t) = 8 \sin t \quad \rightarrow \quad x\left(\frac{2}{3}\right) = 8 \sin\left(\frac{2}{3}\right) \approx 4.95 \text{ cm}$$

$$v(t) = \frac{dx}{dt} = 8 \cos t \quad \rightarrow \quad v\left(\frac{2}{3}\right) = 8 \cos\left(\frac{2}{3}\right) \approx 6.29 \text{ cm/s}$$

$$a(t) = \frac{dv}{dt} = -8 \sin t \quad \rightarrow \quad a\left(\frac{2}{3}\right) = -8 \sin\left(\frac{2}{3}\right) \approx -4.95 \text{ cm/s}^2$$

2

بما أن إشارة السرعة المتجهة موجبة، فإن الجسم يتحرك لليمين عندما $t = \frac{2}{3}$

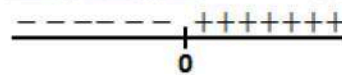
أتحقق من فهمي صفحة 11

a

$$f'(2) = \lim_{h \rightarrow 0} \frac{f(2+h) - f(2)}{h}$$

$$= \lim_{h \rightarrow 0} \frac{|(2+h) - 2| - 0}{h}$$

$$= \lim_{h \rightarrow 0} \frac{|h|}{h}$$



$$f'_+(2) = \lim_{h \rightarrow 0^+} \frac{h}{h} = 1$$

$$f'_-(2) = \lim_{h \rightarrow 0^-} \frac{-h}{h} = -1$$

بما أن النهايتين من اليمين واليسار غير متساويتين، فإن $f'(2)$ غير موجودة أي إن f غير قابل للاشتقاق عند $x = 2$





	$f'(-1) = \lim_{h \rightarrow 0} \frac{f(-1+h) - f(-1)}{h}$ $= \lim_{h \rightarrow 0} \frac{((-1+h)+1)^{\frac{1}{5}} - 0}{h}$ $= \lim_{h \rightarrow 0} \frac{h^{\frac{1}{5}}}{h} = \lim_{h \rightarrow 0} \frac{1}{h^{\frac{4}{5}}} = \infty$ <p>بما أن النهاية توول إلى ما لانهاية، فإن $f'(-1)$ غير موجودة أي إن f غير قابل للاشتقاق عند $x = -1$</p>
	<p>أتحقق من فهمي صفحة 12</p> <p>الاقتران f غير قابل للاشتقاق عندما $x = x_2, x = x_4, x = x_5$ لأن لمنحناه رأس حاد أو زاوية عند هذه النقاط، وهو غير قابل للاشتقاق عندما $x = x_7, x = x_8$ لأنه غير متصل عندهما</p>
	<p>أتحقق من فهمي صفحة 14</p>
a	$f(x) = 5e^x + 3$ $f'(x) = 5e^x$
b	$f(x) = \sqrt{x} - 4e^x = x^{\frac{1}{2}} - 4e^x$ $f'(x) = \frac{1}{2}x^{-\frac{1}{2}} - 4e^x = \frac{1}{2\sqrt{x}} - 4e^x$
c	$f(x) = 8e^x + \frac{4}{\sqrt[5]{x}} = 8e^x + 4x^{-\frac{1}{5}}$ $f'(x) = 8e^x - \frac{4}{5}x^{-\frac{6}{5}} = 8e^x - \frac{4}{5\sqrt[5]{x^6}}$
	<p>أتحقق من فهمي صفحة 16</p>
a	$f(x) = \sqrt{x} + \ln(4x) = x^{\frac{1}{2}} + \ln 4 + \ln x$ $f'(x) = \frac{1}{2}x^{-\frac{1}{2}} + \frac{1}{x} = \frac{1}{2\sqrt{x}} + \frac{1}{x}$





b	$f(x) = \ln(2x^3) = \ln 2 + 3 \ln x$ $f'(x) = \frac{3}{x}$
أتحقق من فهمي صفحة 18	
a	$y = \frac{\sin x}{2} + 3 \cos x = \frac{1}{2} \sin x + 3 \cos x$ $\frac{dy}{dx} = \frac{1}{2} \cos x - 3 \sin x$
b	$f(x) = x^2 + \cos x + \sin \frac{\pi}{2}$ $f'(x) = 2x - \sin x$
أتحقق من فهمي صفحة 19	
a	$f(x) = \ln \sqrt{x} = \frac{1}{2} \ln x \rightarrow f'(x) = \frac{1}{2x}$ $f'(e) = \frac{1}{2e}$ ميل المماس عند النقطة $(e, \frac{1}{2})$ هو: $y - \frac{1}{2} = \frac{1}{2e}(x - e)$ معادلة المماس عند النقطة $(e, \frac{1}{2})$ هي: $y = \frac{1}{2e}x$
b	بما أن ميل المماس عند النقطة $(e, \frac{1}{2})$ هو $\frac{1}{2e}$ إذن ميل العمودي على المماس عندها هو $-2e$ معادلة العمودي على المماس عند النقطة $(e, \frac{1}{2})$ هي: $y - \frac{1}{2} = -2e(x - e)$ $y = -2ex + 2e^2 + \frac{1}{2}$
أتحقق من فهمي صفحة 22	



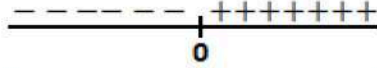
a	$s(t) = t^2 - 7t + 8$ $v(t) = 2t - 7 \rightarrow v(4) = 1 \text{ m/s}$ $a(t) = 2 \rightarrow a(4) = 2 \text{ m/s}^2$
b	$v(t) = 2t - 7 = 0 \rightarrow t = \frac{7}{2} \text{ s}$
c	$v(2) = -3 \text{ m/s}$ بما أن إشارة السرعة المتجهة سالبة، فإن الجسم يتحرك لليسار عندما $t = 2$
d	الموقع الابتدائي للجسم: $s(0) = 8 \text{ m}$ $s(t) = 8 \rightarrow t^2 - 7t + 8 = 8 \rightarrow t^2 - 7t = 0$ $t(t - 7) = 0 \rightarrow t = 0 \text{ or } t = 7$ إذن يعود الجسم إلى موقعه الابتدائي عندما $t = 7 \text{ s}$

أتحقق من فهمي صفحة 24


a	$s(t) = 7 \sin t$ $v(t) = 7 \cos t$ $a(t) = -7 \sin t$
b	بالنظر لاقتران الموقع $s(t)$ فإن قيم s تنحصر بين $\pm 7 \text{ m}$ وهذا يعني أن الجسم يتحرك بمرور الزمن صعوداً وهبوطاً بين الموقعين $s = 7 \text{ m}$ ، $s = -7 \text{ m}$ ، ويمر بنقطة الاتزان $s = 0$ عند قيم t التي تحقق $s(t) = 0$ وهي $t = n\pi$ حيث n أي عدد صحيح غير سالب. تتغير سرعة الجسم بمرور الزمن وتتراوح بين القيمتين $\pm 7 \text{ m/s}$ ويكون مقدار سرعة الجسم أكبر ما يمكن $ 7 \cos t = 7$ عندما $\cos t = \pm 1$ وذلك عندما $t = n\pi$ (نفسها لحظات مرور الجسم بنقطة الاتزان)، بينما تكون سرعة الجسم صفراً (يسكن لحظياً) عندما يكون الجسم في أقصى بعد له عن نقطة الاتزان $ s(t) = 7 \rightarrow v(t) = 0$ (اللحظات $t = \frac{n\pi}{2}$ حيث n عدد فردي موجب) نلاحظ أن قيمة تسارع الجسم عند كل لحظة هي معكوس قيمة موقعه وأن التسارع ينعدم لحظة مرور الجسم بنقطة الاتزان، وهي اللحظة التي تكون محصلة القوى المؤثرة على الجسم فيها صفراً.

أتدرب وأحل المسائل صفحة 24



1	$f'(5) = \lim_{h \rightarrow 0} \frac{f(5+h) - f(5)}{h}$ $= \lim_{h \rightarrow 0} \frac{ (5+h) - 5 - 0}{h}$ $= \lim_{h \rightarrow 0} \frac{ h }{h}$ $f'_+(5) = \lim_{h \rightarrow 0^+} \frac{h}{h} = 1$ $f'_-(5) = \lim_{h \rightarrow 0^-} \frac{-h}{h} = -1$ <p>بما أن النهايتين من اليمين واليسار غير متساويتين، فإن $f'(5)$ غير موجودة أي إن f غير قابل للاشتقاق عند $x = 5$</p> 
2	$f'(0) = \lim_{h \rightarrow 0} \frac{f(0+h) - f(0)}{h}$ $= \lim_{h \rightarrow 0} \frac{(h)^{\frac{2}{5}} - 0}{h}$ $= \lim_{h \rightarrow 0} \frac{h^{\frac{2}{5}}}{h} = \lim_{h \rightarrow 0} \frac{1}{h^{\frac{3}{5}}}$ $f'_+(0) = \infty$ $f'_-(0) = -\infty$ <p>$f'(0)$ غير موجودة إذن f غير قابل للاشتقاق عند $x = 0$</p>
3	$f'_+(1) = \lim_{h \rightarrow 0} \frac{f(1+h) - f(1)}{h}$ $= \lim_{h \rightarrow 0} \frac{(1+h)^2 - 2(1+h) - 1}{h}$ $= \lim_{h \rightarrow 0} \frac{1 + 2h + h^2 - 2 - 2h - 1}{h} = \lim_{h \rightarrow 0} \frac{h^2 - 2}{h} = -\infty$ <p>$f'_+(1)$ غير موجودة إذن f غير قابل للاشتقاق عند $x = 1$</p>



4	$f'(4) = \lim_{h \rightarrow 0} \frac{f(4+h) - f(4)}{h}$ $= \lim_{h \rightarrow 0} \frac{3}{4+h} - \frac{3}{4}$ $= \lim_{h \rightarrow 0} \frac{12 - 12 - 3h}{4h(4+h)} = \lim_{h \rightarrow 0} \frac{-3}{4(4+h)} = \frac{-3}{16}$ <p>$f'(4)$ موجودة إذن f قابل للاشتقاق عند $x = 4$</p>
5	$f'(6) = \lim_{h \rightarrow 0} \frac{f(6+h) - f(6)}{h}$ $= \lim_{h \rightarrow 0} \frac{(6+h-6)^{\frac{2}{3}} - 0}{h}$ $= \lim_{h \rightarrow 0} \frac{(h)^{\frac{2}{3}}}{h} = \lim_{h \rightarrow 0} \frac{1}{h^{\frac{1}{3}}}$ <p>$f'_+(6) = \infty$ $f'_-(6) = -\infty$</p> <p>$f'(6)$ غير موجودة إذن f غير قابل للاشتقاق عند $x = 6$</p>
6	$f'(4) = \lim_{h \rightarrow 0} \frac{f(4+h) - f(4)}{h}$ $= \lim_{h \rightarrow 0} \frac{4+h+1-3}{h}$ $= \lim_{h \rightarrow 0} \frac{h+2}{h}$  <p>$f'_+(4) = \infty$ $f'_-(4) = -\infty$</p> <p>$f'(4)$ غير موجودة إذن f غير قابل للاشتقاق عند $x = 4$</p>





7	الاقتران f غير قابل للاشتقاق عندما $x = x_3, x = x_4, x = x_6$ لأن لمنحناه رأس حاد أو زاوية عند هذه النقاط، وهو غير قابل للاشتقاق عندما $x = x_0$ لأنه غير متصل عندها، وهو غير قابل للاشتقاق عندما $x = x_{12}$ نظرًا لوجود مماس رأسي عند هذه النقطة،
8	الاقتران g غير قابل للاشتقاق عندما $x = x_3$ لأن لمنحناه زاوية عند هذه النقطة، وهو غير قابل للاشتقاق عندما $x = x_1, x = x_2, x = x_4$ لأنه غير متصل عندها
9	$f(x) = \frac{x - 8}{x^2 - 4x - 5}$ <p>اقتران نسبي منحناه متصل وأملس عند جميع نقاطه باستثناء أصفار مقامه، $x^2 - 4x - 5 = 0 \rightarrow (x - 5)(x + 1) = 0 \rightarrow x = 5 \text{ or } x = -1$ غير متصل عند $x = 5, x = -1$ إذن غير قابل للاشتقاق عندها.</p>
10	$f(x) = \sqrt[3]{3x - 6}$ $f'(x) = \frac{1}{3}(3x - 6)^{\frac{2}{3}}(3) = \frac{1}{(3x - 6)^{\frac{2}{3}}}$ <p>$f'(x)$ موجودة عند جميع قيم x الحقيقية عدا أصفار مقامها، إذن f غير قابل للاشتقاق عند $x = 2$</p>

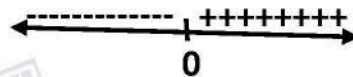




$$f(x) = |x^2 - 9| = \begin{cases} 9 - x^2, & -3 < x < 3 \\ x^2 - 9, & x \leq -3 \text{ or } x \geq 3 \end{cases}$$

نبحث قابلية الاشتقاق عند $x = 3$ و $x = -3$

$$\begin{aligned} f'(3) &= \lim_{h \rightarrow 0} \frac{f(3+h) - f(3)}{h} \\ &= \lim_{h \rightarrow 0} \frac{|(3+h)^2 - 9| - 0}{h} \\ &= \lim_{h \rightarrow 0} \frac{|6h + h^2|}{h} \end{aligned}$$



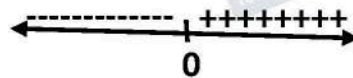
$$f'_+(3) = \lim_{h \rightarrow 0^+} \frac{6h + h^2}{h} = \lim_{h \rightarrow 0^+} (6 + h) = 6$$

$$f'_-(3) = \lim_{h \rightarrow 0^-} \frac{-6h - h^2}{h} = \lim_{h \rightarrow 0^-} (-6 - h) = -6$$

بما أن النهايتين من اليمين واليسار غير متساويتين، فإن $f'(3)$ غير موجودة أي إن f غير قابل للاشتقاق عند $x = 3$

11

$$\begin{aligned} f'(-3) &= \lim_{h \rightarrow 0} \frac{f(-3+h) - f(-3)}{h} \\ &= \lim_{h \rightarrow 0} \frac{|(-3+h)^2 - 9| - 0}{h} \\ &= \lim_{h \rightarrow 0} \frac{|6h - h^2|}{h} \end{aligned}$$



$$f'_+(-3) = \lim_{h \rightarrow 0^+} \frac{6h - h^2}{h} = \lim_{h \rightarrow 0^+} (6 - h) = 6$$

$$f'_-(-3) = \lim_{h \rightarrow 0^-} \frac{-6h + h^2}{h} = \lim_{h \rightarrow 0^-} (-6 + h) = -6$$

بما أن النهايتين من اليمين واليسار غير متساويتين، فإن $f'(-3)$ غير موجودة أي إن f غير قابل للاشتقاق عند $x = -3$

إذن f غير قابل للاشتقاق عند $x = 3, x = -3$



12	$f(x) = x x $ $f'(0) = \lim_{h \rightarrow 0} \frac{f(0+h) - f(0)}{h}$ $= \lim_{h \rightarrow 0} \frac{h h - 0}{h}$ $= \lim_{h \rightarrow 0} h $ $ h = \begin{cases} -h, & h < 0 \\ h, & h \geq 0 \end{cases}$ $f'_+(0) = \lim_{h \rightarrow 0} h = 0$ $f'_-(0) = \lim_{h \rightarrow 0} (-h) = 0$ <p>بما أن النهايتين من اليمين واليسار متساويتان، إذن $f'(0)$ موجودة</p>
13	$f'(x) = 2 \cos x - e^x$
14	$f'(x) = \frac{1}{4x} + \pi \sin x$
15	$f(x) = \ln\left(\frac{1}{x^3}\right) + x^4$ $= \ln 1 - \ln x^3 + x^4$ $= -3 \ln x + x^4$ $f'(x) = -\frac{3}{x} + 4x^3$
16	$f(x) = e^{x+1} + 1 = e \times e^x + 1$ $f'(x) = e \times e^x = e^{x+1}$
17	$f'(x) = e^x + ex^{e-1}$
18	$f(x) = \ln\left(\frac{10}{x^n}\right)$ $= \ln 10 - \ln x^n = \ln 10 - n \ln x$ $f'(x) = -n \left(\frac{1}{x}\right) = -\frac{n}{x}$





19	$f'(x) = \cos x + \frac{1}{2}e^x$ <p>ميل المماس عند النقطة $(\pi, \frac{1}{2}e^\pi)$: $f'(\pi) = \cos \pi + \frac{1}{2}e^\pi = -1 + \frac{1}{2}e^\pi$</p> <p>معادلة المماس عند النقطة $(\pi, \frac{1}{2}e^\pi)$: $y - \frac{1}{2}e^\pi = (-1 + \frac{1}{2}e^\pi)(x - \pi)$</p> $y = (-1 + \frac{1}{2}e^\pi)x + \pi - \frac{\pi}{2}e^\pi + \frac{1}{2}e^\pi$
20	<p>بما أن ميل المماس عند النقطة $(\pi, \frac{1}{2}e^\pi)$ هو $-1 + \frac{1}{2}e^\pi$ ، فإن ميل العمودي على المماس هو</p> $\frac{-1}{-1 + \frac{1}{2}e^\pi} = \frac{-2}{-2 + e^\pi} = \frac{2}{2 - e^\pi}$ <p>معادلة العمودي على المماس هي:</p> $y - \frac{1}{2}e^\pi = \frac{2}{2 - e^\pi}(x - \pi) \rightarrow y = \frac{2}{2 - e^\pi}x - \frac{2\pi}{2 - e^\pi} + \frac{1}{2}e^\pi$
21	$f(x) = e^x - 2x \rightarrow f'(x) = e^x - 2$ $f'(x) = 0 \rightarrow e^x = 2 \rightarrow x = \ln 2 \approx 0.69$
22	$f(x) = \sin x + \cos x \rightarrow f'(x) = \cos x - \sin x$ <p>عندما $x = \pi$ ، فإن:</p> $y = f(\pi) = \sin \pi + \cos \pi = -1$ <p>ميل المماس عند النقطة $(\pi, -1)$ هو: $f'(\pi) = \cos \pi - \sin \pi = -1$</p> <p>بما أن ميل المماس هو -1 إذن ميل العمودي على المماس هو 1</p> <p>معادلة العمودي على المماس:</p> $y + 1 = 1(x - \pi) \rightarrow y = x - \pi - 1$ <p>الإجابة الصحيحة هي b</p>
23	$f(x) = \ln kx = \ln k + \ln x$ $f'(x) = 0 + \frac{1}{x} = \frac{1}{x}$





24	$f'(x) = \frac{1}{x}$ $f'(e) = \frac{1}{e}$ ميل المماس عند النقطة $(e, 1)$ هو: معادلة المماس هي: $y - 1 = \frac{1}{e}(x - e) \rightarrow y = \frac{1}{e}x$ وهو مستقيم يمر بنقطة الأصل لأن النقطة $(0, 0)$ تحقق معادلته.
25	بما أن ميل المماس هو $\frac{1}{e}$ ، فإن ميل العمودي على المماس هو $-e$ معادلة العمودي على المماس: $y - 1 = -e(x - e) \rightarrow y = -ex + e^2 + 1$ لإيجاد المقطع x لهذا المستقيم نضع $y = 0$ في معادلته $0 = -ex + e^2 + 1$ $ex = e^2 + 1 \rightarrow x = \frac{e^2 + 1}{e} = e + \frac{1}{e}$
26	$s(t) = t^3 - 4t^2 + 5t$ $v(t) = 3t^2 - 8t + 5 \rightarrow v(5) = 40 \text{ m/s}$ $a(t) = 6t - 8 \rightarrow a(5) = 22 \text{ m/s}^2$
27	$v(t) = 3t^2 - 8t + 5 = 0$ $(3t - 5)(t - 1) = 0$ $\rightarrow t = \frac{5}{3} \text{ s or } t = 1 \text{ s}$
28	$v(4) = 21 \text{ m/s}$ بما أن إشارة السرعة المتجهة موجبة، فإن الجسم يتحرك لليمين عندما $t = 4$





29	<p>الموقع الابتدائي للجسم: $s(0) = 0 \text{ m}$</p> $s(t) = 0 \rightarrow t^3 - 4t^2 + 5t = 0$ $\rightarrow t(t^2 - 4t + 5) = 0$ $\rightarrow t = 0$ <p>العبرة التربيعية $t^2 - 4t + 5$ مميزها سالب وبالتالي لا تساوي صفرًا إذن لا يعود الجسم إلى موقعه الابتدائي أبدًا</p>
30	<p>الموقع الابتدائي للجسم:</p> $s(0) = e^0 - 4(0) = 1 \text{ m}$
31	$v(t) = e^t - 4$ $v(t) = 0 \rightarrow e^t = 4 \rightarrow t = \ln 4$ $a(t) = e^t \rightarrow a(\ln 4) = e^{\ln 4} = 4 \text{ m/s}^2$
32	$s(t) = 4 \cos t$ $v(t) = -4 \sin t$ $a(t) = -4 \cos t$
33	$v\left(\frac{\pi}{4}\right) = -4 \sin \frac{\pi}{4} = -4 \times \frac{1}{\sqrt{2}} = -2\sqrt{2} \text{ m/s}$ $a\left(\frac{\pi}{4}\right) = -4 \cos \frac{\pi}{4} = -4 \times \frac{1}{\sqrt{2}} = -2\sqrt{2} \text{ m/s}^2$
34	<p>من خصائص اقتران $s(t) = 4 \cos t$ نعرف أن الجسم يتحرك بمرور الزمن صعودًا وهبوطًا بين الموقعين $s = 4 \text{ m}$, $s = -4 \text{ m}$ وأنه يمر بنقطة الاتزان $s = 0$ أثناء هذه الحركة عندما $t = \frac{n\pi}{2}$ حيث n أي عدد فردي موجب</p> <p>تتغير سرعة الجسم بمرور الزمن ونعرف من خصائص الاقتران $v(t) = -4 \sin t$ أن قيم السرعة تتراوح بين 4 m/s, -4 m/s ونلاحظ أن الجسم يصل إلى هذه السرعة عند اللحظات التي يمر فيها بنقطة الاتزان</p> <p>نلاحظ أن قيمة تسارع الجسم عند كل لحظة تساوي معكوس قيمة اقتران الموقع عند تلك اللحظة، وأن التسارع ينعدم عند مرور الجسم بنقطة الاتزان حيث تكون محصلة القوى المؤثرة في الجسم صفرًا</p>



$$y = e^x - ax$$

$$x = 0 \rightarrow y = e^0 - a(0) = 1$$

$$\frac{dy}{dx} = e^x - a$$

$$\left. \frac{dy}{dx} \right|_{x=0} = e^0 - a = 1 - a$$

نقطة تقاطع منحنى الاقتران مع محور y هي: $(0,1)$

ميل المماس عند هذه النقطة هو:

معادلة المماس هي:

$$y - 1 = (1 - a)(x - 0) \rightarrow y = (1 - a)x + 1$$

منهاجي

متعة التعليم الهادف





f قابل للاشتقاق، فمن الضروري أن يكون متصلًا عند $x = 2$ ، إذن $\lim_{x \rightarrow 2} f(x)$ موجودة

$$\lim_{x \rightarrow 2^+} f(x) = \lim_{x \rightarrow 2^-} f(x)$$

$$\lim_{x \rightarrow 2^+} (mx + b) = \lim_{x \rightarrow 2^-} x^2 \rightarrow 2m + b = 4$$

لكن الاتصال شرط غير كاف لوجود المشتقة، يجب أن تكون $f'(2)$ موجودة

$$f'(2) = \lim_{h \rightarrow 0} \frac{f(2+h) - f(2)}{h}$$

$$f'_+(2) = \lim_{h \rightarrow 0^+} \frac{m(2+h) + b - 4}{h}$$

$$= \lim_{h \rightarrow 0^+} \frac{2m + hm + b - 4}{h}$$

$$= \lim_{h \rightarrow 0^+} \frac{hm}{h} = m$$

$$f'_-(2) = \lim_{h \rightarrow 0^-} \frac{f(2+h) - f(2)}{h}$$

$$= \lim_{h \rightarrow 0^-} \frac{(2+h)^2 - 4}{h}$$

$$= \lim_{h \rightarrow 0^-} \frac{h^2 + 4h}{h}$$

$$= \lim_{h \rightarrow 0^-} (h + 4) = 4$$

حتى تكون $f'(2)$ موجودة يجب أن يكون: $f'_+(2) = f'_-(2)$ ومنه: $m = 4$

بالتعويض في المعادلة $2m + b = 4$ نجد $b = -4$

ميل مماس المنحنى عند أي نقطة عليه هو $y' = 2e^x + 3 + 15x^2$

لكل x فإن $2e^x > 0$

و لكل x فإن $15x^2 \geq 0$

بالجمع نجد أنه لكل x فإن $2e^x + 15x^2 > 0$

بإضافة 3 للطرفين: لكل x فإن $2e^x + 15x^2 + 3 > 3$ أي أن $y' > 3$

إذن لا يمكن أن تكون قيمة y' تساوي 2 لأي قيمة حقيقية للمتغير x .



38	<p>الإحداثي x لنقطة تقاطع المنحنى $y = ke^x$ مع المحور y هو 0 وبالتعويض في معادلة الاقتران نجد أن $y = ke^0 = k$ ، أي أن إحداثي P هما $(0, k)$</p> <p>معادلة المماس هي:</p> $\frac{dy}{dx} = ke^x \rightarrow \frac{dy}{dx}\bigg _{x=0} = k$ $y - k = k(x - 0) \rightarrow y = kx + k$ <p>ولإيجاد نقطة تقاطعه مع المحور x نعوض $y = 0$</p> $0 = kx + k \rightarrow x = -1$ <p>إذن، نقطة تقاطع المماس عند P مع المحور x هي: $(-1, 0)$</p>
39	<p>ميل العمودي على المماس هو $-\frac{1}{k}$ معادلة العمودي على المماس هي:</p> $y - k = -\frac{1}{k}(x - 0) \rightarrow y = -\frac{1}{k}x + k$ <p>وبتعويض إحداثي نقطة التقاطع نجد أن:</p> $0 = -\frac{1}{k}(100) + k \rightarrow k^2 = 100 \rightarrow k = \pm 10$ <p>ولأن $k > 0$ ، فإن $k = 10$</p>
40	$y = \log x = \log_{10} x = \frac{\ln x}{\ln 10} = \frac{1}{\ln 10} \ln x$ $\frac{dy}{dx} = \frac{1}{\ln 10} \times \frac{1}{x} = \frac{1}{x \ln 10}$
41	$y = \log ax^2 = \log a + 2 \log x$ $\frac{dy}{dx} = 0 + 2 \times \frac{1}{x \ln 10} = \frac{2}{x \ln 10}$
42	$s(t) = 4 - \sin t$ $v(t) = -\cos t$ $a(t) = \sin t$





43	$v(t) = -\cos t = 0 \rightarrow t = \frac{\pi}{2}, \frac{3\pi}{2}, \frac{5\pi}{2}, \dots$ <p>يكون الجسم في حالة سكون لأول مرة بعد انطلاقه عندما $t = \frac{\pi}{2}$ ويكون موقعه عندها هو $s\left(\frac{\pi}{2}\right)$</p> $s\left(\frac{\pi}{2}\right) = 4 - \sin\frac{\pi}{2} = 4 - 1 = 3 \text{ m}$			
44	<p>بما أن المطلوب تحديد موقع الجسم عندما يصل إلى أقصى سرعة، فهذا يتطلب إيجاد القيم القصوى لاقتران السرعة: $v(t) = -\cos t = \cos t$ ، والتي يمكن تحديدها من خصائص الاقتران وهما قيمتان: 0 (قيمة صغرى) و 1 (قيمة عظمى) ومنه:</p> <p>$v(t) = 0 \rightarrow \cos t = 0 \rightarrow \sin t = \pm 1$ (متطابقة فيثاغورس)</p> <p>$v(t) = 1 \rightarrow \cos t = 1 \rightarrow \sin t = 0$ (متطابقة فيثاغورس)</p> <p>إن، يمكن إيجاد موقع الجسم عندما يصل إلى أقصى سرعة كالآتي:</p> <table border="1" data-bbox="351 1344 1372 1478"><tr><td>$\sin t = 1$ $s(t) = 4 - 1 = 3\text{m}$</td><td>$\sin t = -1$ $s(t) = 4 - (-1) = 5\text{m}$</td><td>$\sin t = 0$ $s(t) = 4 - 0 = 4\text{m}$</td></tr></table>	$\sin t = 1$ $s(t) = 4 - 1 = 3\text{m}$	$\sin t = -1$ $s(t) = 4 - (-1) = 5\text{m}$	$\sin t = 0$ $s(t) = 4 - 0 = 4\text{m}$
$\sin t = 1$ $s(t) = 4 - 1 = 3\text{m}$	$\sin t = -1$ $s(t) = 4 - (-1) = 5\text{m}$	$\sin t = 0$ $s(t) = 4 - 0 = 4\text{m}$		





الدرس الثاني: مشتقتا الضرب والقسمة والمشتقات العليا

مسألة اليوم صفحة 28

$$A(b) = \frac{40 + 24b^{0.4}}{1 + 4b^{0.4}}$$
$$A'(b) = \frac{(1 + 4b^{0.4})(9.6b^{-0.6}) - (40 + 24b^{0.4})(1.6b^{-0.6})}{(1 + 4b^{0.4})^2}$$
$$= \frac{9.6b^{-0.6} + 38.4b^{-0.2} - 64b^{-0.6} - 38.4b^{-0.2}}{(1 + 4b^{0.4})^2}$$
$$= \frac{-54.4b^{-0.6}}{(1 + 4b^{0.4})^2}$$

أتحقق من فهمي صفحة 30

a

$$f(x) = (x^3 - 2x^2 + 3)(7x^2 - 4x)$$
$$f'(x) = (x^3 - 2x^2 + 3)(14x - 4) + (7x^2 - 4x)(3x^2 - 4x)$$
$$= 14x^4 - 4x^3 - 28x^3 + 8x^2 + 42x - 12 + 21x^4 - 28x^3 - 12x^3 + 16x^2$$
$$= 35x^4 - 72x^3 + 24x^2 + 42x - 12$$

b

$$f(x) = \ln x \cos x$$
$$f'(x) = (\ln x)(-\sin x) + (\cos x)\left(\frac{1}{x}\right) = -\ln x \sin x + \frac{\cos x}{x}$$

أتحقق من فهمي صفحة 32

a

$$f(x) = \frac{x+1}{2x+1}$$
$$f'(x) = \frac{(2x+1)(1) - (x+1)(2)}{(2x+1)^2} = \frac{-1}{(2x+1)^2}$$

b

$$f(x) = \frac{\sin x}{e^x}$$
$$f'(x) = \frac{e^x(\cos x) - (\sin x)e^x}{e^{2x}} = \frac{\cos x - \sin x}{e^x}$$

أتحقق من فهمي صفحة 34



a	$P(t) = \frac{500t^2}{2t + 9}$ $P'(t) = \frac{(2t + 9)(1000t) - (500t^2)(2)}{(2t + 9)^2} = \frac{9000t + 1000t^2}{(2t + 9)^2}$
b	$P'(12) = \frac{9000(12) + 1000(12)^2}{(24 + 9)^2} \approx 231.405$ <p>إن في السنة 12 يتزايد عدد سكان هذه المدينة بمعدل 231 ألف نسمة سنويًا تقريبًا</p>
أتحقق من فهمي صفحة 35	
a	$f(x) = \frac{1}{5x - x^2}$ $f'(x) = \frac{-(5 - 2x)}{(5x - x^2)^2} = \frac{2x - 5}{(5x - x^2)^2}$
b	$f(x) = \frac{1}{e^x + \sqrt{x}}$ $f'(x) = \frac{-\left(e^x + \frac{1}{2\sqrt{x}}\right)}{(e^x + \sqrt{x})^2} = -\frac{2\sqrt{x}e^x + 1}{2\sqrt{x}(e^x + \sqrt{x})^2}$
أتحقق من فهمي صفحة 37	
a	$f(x) = x \cot x$ $f'(x) = (x)(-\csc^2 x) + (\cot x)(1) = -x \csc^2 x + \cot x$
b	$f(x) = \frac{\tan x}{1 + \sin x}$ $f'(x) = \frac{(1 + \sin x)(\sec^2 x) - (\tan x)(\cos x)}{(1 + \sin x)^2}$ $= \frac{\sec^2 x + \sin x \sec^2 x - \sin x}{(1 + \sin x)^2}$
أتحقق من فهمي صفحة 38	





	$f'(x) = \frac{(x)(\cos x) - (\sin x)(1)}{x^2} = \frac{x \cos x - \sin x}{x^2} = \frac{\cos x}{x} - \frac{\sin x}{x^2}$ $f''(x) = \frac{(x)(-\sin x) - (\cos x)(1)}{x^2} - \frac{(x^2)(\cos x) - (\sin x)(2x)}{x^4}$ $= \frac{-x \sin x - \cos x}{x^2} - \frac{x^2 \cos x - 2x \sin x}{x^4}$ $= \frac{-x^2 \sin x - 2x \cos x + 2 \sin x}{x^3}$ $f'''(x) = \frac{-x^3 \cos x + 3x^2 \sin x + 6x \cos x - 6 \sin x}{x^4}$ <p>ويمكن التوصل إلى الإجابة نفسها بتحويل الاقتران إلى $f(x) = x^{-1} \sin x$ وتطبيق قاعدة مشتقة ضرب اقترانين.</p>
--	---

أُتدرب وأحل المسائل صفحة 38

1	$f(x) = \frac{x^3}{2x-1}$ $f'(x) = \frac{(2x-1)(3x^2) - (x^3)(2)}{(2x-1)^2} = \frac{4x^3 - 3x^2}{(2x-1)^2}$
2	$f(x) = x^3 \sec x$ $f'(x) = (x^3)(\sec x \tan x) + (\sec x)(3x^2)$ $= x^3 \sec x \tan x + 3x^2 \sec x$
3	$f(x) = \frac{x+1}{\cos x}$ $f'(x) = \frac{(\cos x)(1) - (x+1)(-\sin x)}{(\cos x)^2} = \frac{\cos x + x \sin x + \sin x}{\cos^2 x}$
4	$f(x) = e^x(\tan x - x)$ $f'(x) = (e^x)(\sec^2 x - 1) + (\tan x - x)(e^x)$ $= e^x \tan^2 x + e^x \tan x - xe^x$





5	$f(x) = \frac{\sin x + \cos x}{e^x}$ $f'(x) = \frac{(e^x)(\cos x - \sin x) - (\sin x + \cos x)(e^x)}{(e^x)^2} = \frac{-2 \sin x}{e^x}$
6	$f(x) = x^3 \sin x + x^2 \cos x$ $f'(x) = (x^3)(\cos x) + (\sin x)(3x^2) + (x^2)(-\sin x) + (\cos x)(2x)$ $= x^3 \cos x + 2x^2 \sin x + 2x \cos x$
7	$f(x) = \sqrt[3]{x}(\sqrt{x} + 3) = x^{\frac{5}{6}} + 3x^{\frac{1}{3}}$ $f'(x) = \frac{5}{6}x^{-\frac{1}{6}} + x^{-\frac{2}{3}} = \frac{5}{6\sqrt[6]{x}} + \frac{1}{\sqrt[3]{x^2}}$
8	$f(x) = \frac{1 + \sec x}{1 - \sec x}$ $f'(x) = \frac{(1 - \sec x)(\sec x \tan x) - (1 + \sec x)(-\sec x \tan x)}{(1 - \sec x)^2}$ $= \frac{2 \sec x \tan x}{(1 - \sec x)^2}$
9	$f(x) = \frac{2 - \frac{1}{x}}{x - 3} = \frac{2x - 1}{x^2 - 3x}$ $f'(x) = \frac{(x^2 - 3x)(2) - (2x - 1)(2x - 3)}{(x^2 - 3x)^2} = \frac{-2x^2 + 2x - 3}{(x^2 - 3x)^2}$
10	$f(x) = (x^3 - x)(x^2 + 2)(x^2 + x + 1)$ $f'(x) = (x^3 - x)((x^2 + 2)(2x + 1) + (x^2 + x + 1)(2x))$ $+ (x^2 + 2)(x^2 + x + 1)(3x^2 - 1)$ $= (x^3 - x)(x^2 + 2)(2x + 1) + (x^3 - x)(x^2 + x + 1)(2x)$ $+ (x^2 + 2)(x^2 + x + 1)(3x^2 - 1)$



11	$f(x) = (\csc x + \cot x)^{-1} = \frac{1}{\csc x + \cot x}$ $f'(x) = \frac{-1(-\csc x \cot x - \csc^2 x)}{(\csc x + \cot x)^2}$ $= \frac{\csc x \cot x + \csc^2 x}{(\csc x + \cot x)^2}$ $= \frac{\csc x (\cot x + \csc x)}{(\csc x + \cot x)^2}$ $= \frac{\csc x}{\csc x + \cot x}$
12	$(fg)'(0) = f(0)g'(0) + g(0)f'(0)$ $= 5 \times 2 - 1 \times -3 = 13$
13	$\left(\frac{f}{g}\right)'(0) = \frac{g(0)f'(0) - f(0)g'(0)}{g^2(0)} = \frac{-1 \times -3 - 5 \times 2}{(-1)^2} = -7$
14	$(7f - 2fg)'(0) = 7f'(0) - 2(fg)'(0) = 7(-3) - 2(13) = -47$
15	$f(x) = \frac{x^2 - 4}{x^2 + 4}$ $f'(x) = \frac{(x^2 + 4)(2x) - (x^2 - 4)(2x)}{(x^2 + 4)^2} = \frac{16x}{(x^2 + 4)^2}$ $f''(x) = \frac{(x^2 + 4)^2(16) - (16x)(2)(x^2 + 4)^1(2x)}{(x^2 + 4)^4}$ $= \frac{(16)(x^2 + 4) - (16x)(2)(2x)}{(x^2 + 4)^3}$ $f'''(-2) = \frac{(16)(8) - (-32)(2)(-4)}{(8)^3} = -\frac{1}{4}$



16	$f(x) = \frac{1+x}{1+\sqrt[3]{x}} = \frac{(1+\sqrt[3]{x})(1-\sqrt[3]{x}+\sqrt[3]{x^2})}{1+\sqrt[3]{x}} = 1 - \sqrt[3]{x} + \sqrt[3]{x^2}$ $f'(x) = -\frac{1}{3}x^{-\frac{2}{3}} + \frac{2}{3}x^{-\frac{1}{3}}$ $f''(x) = \frac{2}{9}x^{-\frac{5}{3}} - \frac{2}{9}x^{-\frac{4}{3}} = \frac{2}{9\sqrt[3]{x^5}} - \frac{2}{9\sqrt[3]{x^4}}$ $f''(8) = \frac{2}{9\sqrt[3]{8^5}} - \frac{2}{9\sqrt[3]{8^4}} = \frac{2}{9} \left(\frac{1}{32} - \frac{1}{16} \right) = -\frac{1}{144}$
17	$f(x) = \frac{1}{1+\sqrt{x}}$ $f'(x) = \frac{-\left(\frac{1}{2\sqrt{x}}\right)}{(1+\sqrt{x})^2} = \frac{-1}{2\sqrt{x}(1+\sqrt{x})^2}$ $f''(x) = \frac{2\sqrt{x}(2)(1+\sqrt{x})^1 \left(\frac{1}{2\sqrt{x}}\right) + (1+\sqrt{x})^2 \left(\frac{1}{\sqrt{x}}\right)}{4x(1+\sqrt{x})^4}$ $= \frac{2 + \frac{1+\sqrt{x}}{\sqrt{x}}}{4x(1+\sqrt{x})^3}$ $f''(4) = \frac{2 + \frac{1+2}{2}}{16(1+2)^3} = \frac{7}{864}$
18	$f(x) = \frac{1+x}{1+e^x}$ $f'(x) = \frac{(1+e^x)(1) - (1+x)(e^x)}{(1+e^x)^2} = \frac{1-xe^x}{(1+e^x)^2}$ <p>ميل المماس عند النقطة $(0, \frac{1}{2})$ هو: $f'(0) = \frac{1}{4}$</p> <p>معادلة المماس هي:</p> $y - \frac{1}{2} = \frac{1}{4}(x - 0) \rightarrow y = \frac{1}{4}x + \frac{1}{2}$



19	$f(x) = e^x \cos x + \sin x$ $f'(x) = (e^x)(-\sin x) + (\cos x)(e^x) + \cos x$ <p>ميل المماس عند النقطة (0, 1) هو:</p> $f'(0) = (1)(0) + (1)(1) + 1 = 2$ $y - 1 = 2(x - 0) \rightarrow y = 2x + 1$ <p>معادلة المماس هي:</p>
20	$\frac{d}{dx}(\cot x) = \frac{d}{dx}\left(\frac{\cos x}{\sin x}\right)$ $= \frac{(\sin x)(-\sin x) - (\cos x)(\cos x)}{\sin^2 x}$ $= \frac{-\sin^2 x - \cos^2 x}{\sin^2 x}$ $= -\frac{1}{\sin^2 x}$ $= -\csc^2 x$
21	$\frac{d}{dx}(\sec x) = \frac{d}{dx}\left(\frac{1}{\cos x}\right)$ $= \frac{-(-\sin x)}{\cos^2 x}$ $= \frac{1}{\cos x} \times \frac{\sin x}{\cos x}$ $= \sec x \tan x$
22	$\frac{d}{dx}(\csc x) = \frac{d}{dx}\left(\frac{1}{\sin x}\right)$ $= \frac{-(\cos x)}{\sin^2 x}$ $= -\frac{1}{\sin x} \times \frac{\cos x}{\sin x}$ $= -\csc x \cot x$



23	$f''(x) = 2 - \frac{2}{x}$ $f'''(x) = \frac{2}{x^2}$
24	$f'''(x) = 2\sqrt{x}$ $f^{(4)}(x) = \frac{1}{\sqrt{x}}$
25	$f^{(4)}(x) = 2x + 1$ $f^{(5)}(x) = 2$ $f^{(6)}(x) = 0$
26	$h(t) = \frac{3t^2}{4 + t^2}$ $h'(t) = \frac{(4 + t^2)(6t) - (3t^2)(2t)}{(4 + t^2)^2} = \frac{24t}{(4 + t^2)^2}$
27	$y = e^x \sin x$ $\frac{dy}{dx} = (e^x)(\cos x) + (\sin x)(e^x) = e^x(\cos x + \sin x)$ $\frac{d^2y}{dx^2} = e^x(-\sin x + \cos x) + e^x(\cos x + \sin x) = 2e^x \cos x$
28	$2 \frac{dy}{dx} - 2y = 2e^x(\cos x + \sin x) - 2e^x \sin x$ $= 2e^x \cos x$ $= \frac{d^2y}{dx^2}$
29	$\csc \theta = \frac{r + h}{r} \rightarrow r + h = r \csc \theta$ $\rightarrow h = r(\csc \theta - 1)$





30	$\frac{dh}{d\theta} = r(-\csc \theta \cot \theta)$ $\left. \frac{dh}{d\theta} \right _{\theta=\frac{\pi}{6}} = 6371 \left(-\csc \frac{\pi}{6} \cot \frac{\pi}{6} \right)$ $= 6371(-2 \times \sqrt{3}) \approx -22070 \text{ km/rad}$
31	$f(x) = 9 \ln x + \frac{1}{2x^2}$ $f'(x) = 9 \left(\frac{1}{x} \right) + \frac{-1(4x)}{4x^4}$ $= \frac{9}{x} - \frac{1}{x^3}$ $= \frac{9x^2 - 1}{x^3}$ $= \frac{(3x - 1)(3x + 1)}{x^3}$
32	$P'(2) = F(2)G'(2) + G(2)F'(2)$ <p>$G'(2)$ ميل المستقيم الذي يمر بالنقطتين $(2, 2)$ و $(4, 3)$ ويساوي $\frac{1}{2}$ $F'(2)$ ميل المماس الأفقي، ويساوي صفرًا</p> $P'(2) = 3 \times \frac{1}{2} + 2 \times 0 = \frac{3}{2}$
33	$Q'(7) = \frac{G(7)F'(7) - F(7)G'(7)}{G^2(7)} = \frac{1 \times \frac{1}{4} - 5 \times -\frac{2}{3}}{1} = \frac{43}{12}$





34	$y = \frac{1 - e^{-x}}{1 + e^{-x}} = \frac{1 - \frac{1}{e^x}}{1 + \frac{1}{e^x}}$ $= \frac{e^x - 1}{e^x + 1}$ $\frac{dy}{dx} = \frac{(e^x + 1)(e^x) - (e^x - 1)(e^x)}{(e^x + 1)^2} = \frac{2e^x}{(e^x + 1)^2}$ $\left. \frac{dy}{dx} \right _{x=0} = \frac{2(1)}{(1 + 1)^2} = \frac{1}{2}$
35	إذا وجد مماس أفقي فإن ميله يساوي صفراً، أي أن: $\frac{2e^x}{(e^x+1)^2} = 0$ ، وهذا لا يتحقق إلا إذا كان $e^x = 0$ ، ولكن $e^x > 0$ لجميع الأعداد الحقيقية x ، ولذا لا يوجد لهذا المنحنى مماسات أفقية.
36	$y = \frac{x + 1}{x - 1}$ $\frac{dy}{dx} = \frac{(x - 1)(1) - (x + 1)(1)}{(x - 1)^2} = \frac{-2}{(x - 1)^2}$
37	$y = \frac{x + 1}{x - 1} \rightarrow x + 1 = y(x - 1) \rightarrow x(1 - y) = -y - 1$ $x = \frac{y + 1}{y - 1}$ $\frac{dx}{dy} = \frac{-2}{(y - 1)^2}$
38	$\frac{dx}{dy} = \frac{-2}{(y - 1)^2}$ $= \frac{-2}{\left(\frac{x + 1}{x - 1} - 1\right)^2}$ $= \frac{-2}{\left(\frac{2}{x - 1}\right)^2} = \frac{-2}{\frac{4}{(x - 1)^2}} = \frac{(x - 1)^2}{-2} = \frac{1}{\frac{dy}{dx}}$





39	$f(x) = \frac{\ln x}{x^2}$ $f'(x) = \frac{x^2 \left(\frac{1}{x}\right) - (\ln x)(2x)}{x^4} = \frac{1 - 2 \ln x}{x^3}$ $f''(x) = \frac{x^3 \left(-\frac{2}{x}\right) - (1 - 2 \ln x)(3x^2)}{x^6}$ $= \frac{-5x^2 + 6x^2 \ln x}{x^6}$ $= \frac{-5 + 6 \ln x}{x^4}$
40	$x^4 f''(x) + 4x^3 f'(x) + 2x^2 f(x) + 1$ $= x^4 \times \frac{-5 + 6 \ln x}{x^4} + 4x^3 \times \frac{1 - 2 \ln x}{x^3} + 2x^2 \times \frac{\ln x}{x^2} + 1$ $= -5 + 6 \ln x + 4 - 8 \ln x + 2 \ln x + 1 = 0$

منهاجي

متعة التعليم الهادف





الدرس الثالث: قاعدة السلسلة

مسألة اليوم صفحة 41

$$P(t) = \frac{100}{1 + e^{3-t}}$$
$$P'(t) = \frac{100e^{3-t}}{(1 + e^{3-t})^2}$$
$$P'(3) = \frac{100}{4} = 25$$

أي أن الانفلونزا تنتشر في المدرسة بعد 3 أيام بمعدل 25 طالباً/يوم

أتحقق من فهمي صفحة 43

a

$$f(x) = \tan 3x^2$$
$$f'(x) = 6x \sec^2(3x^2)$$

b

$$f(x) = e^{\ln x} = x$$
$$f'(x) = 1$$

c

$$f(x) = \ln \cot x$$
$$f'(x) = \frac{-\csc^2 x}{\cot x}$$

أتحقق من فهمي صفحة 44

a

$$f(x) = \sqrt[5]{(x^2 - 1)^2} = (x^2 - 1)^{\frac{2}{5}}$$
$$f'(x) = \frac{2}{5}(x^2 - 1)^{-\frac{3}{5}}(2x) = \frac{4x}{5\sqrt[5]{(x^2 - 1)^3}}$$

b

$$f(x) = \sqrt{\cos x}$$
$$f'(x) = \frac{-\sin x}{2\sqrt{\cos x}}$$





c	$f(x) = (\ln x)^5$ $f'(x) = 5(\ln x)^4 \left(\frac{1}{x}\right)$ $= \frac{5(\ln x)^4}{x}$
أتحقق من فهمي صفحة 46	
a	$f(x) = \cos^2(7x^3 + 6x - 1) = (\cos(7x^3 + 6x - 1))^2$ $f'(x) = 2(\cos(7x^3 + 6x - 1))^1(-\sin(7x^3 + 6x - 1)(21x^2 + 6))$ $= -2(21x^2 + 6) \sin(7x^3 + 6x - 1) \cos(7x^3 + 6x - 1)$ $= -(21x^2 + 6) \sin 2(7x^3 + 6x - 1)$
b	$f(x) = (2 + (x^2 + 1)^4)^3$ $f'(x) = 3(2 + (x^2 + 1)^4)^2 (4(x^2 + 1)^3(2x))$ $= 24x(x^2 + 1)^3(2 + (x^2 + 1)^4)^2$
أتحقق من فهمي صفحة 47	
a	$f(x) = (2x + 1)^5(x^3 - x + 1)^4$ $f'(x) = (2x + 1)^5(4)(x^3 - x + 1)^3(3x^2 - 1)$ $+ (x^3 - x + 1)^4(5)(2x + 1)^4(2)$ $f'(1) = (3)^5(4)(1)^3(2) + (1)^4(5)(3)^4(2) = 2754$
b	$f(x) = \frac{(\cos x)^2}{e^{2x}}$ $f'(x) = \frac{e^{2x} \times 2(\cos x)^1(-\sin x) - (\cos x)^2 \times 2e^{2x}}{e^{4x}}$ $= \frac{-\sin 2x - 2(\cos x)^2}{e^{2x}}$ $f'\left(\frac{\pi}{2}\right) = \frac{-\sin \pi - 2\left(\cos \frac{\pi}{2}\right)^2}{e^\pi} = 0$ <p>ميل المماس يساوي صفراً أي أن المماس أفقي، ومنه يكون العمودي على المماس رأسياً وميله غير معرف.</p>
أتحقق من فهمي صفحة 48	



a	$U(x) = 80 \sqrt{\frac{2x+1}{3x+4}}$ $U'(x) = 80 \times \frac{(3x+4)(2) - (2x+1)(3)}{(3x+4)^2}$ $= \frac{200}{(3x+4)^2} \sqrt{\frac{2x+1}{3x+4}}$
b	$U'(20) = \frac{200}{(64)^2} \sqrt{\frac{64}{41}} \approx 0.061$ <p>وهذا يعني أنه عند بيع 20 قطعة فإن قيمة بدل الخدمة تتزايد بمقدار 0.061 دينار/قطعة تقريباً</p>
أتحقق من فهمي صفحة 50	
a	$f(x) = \pi^{\pi x}$ $f'(x) = (\pi \ln \pi) \pi^{\pi x} = \pi^{\pi x + 1} \ln \pi$
b	$f(x) = 6^{1-x^3}$ $f'(x) = (-3x^2 \ln 6) 6^{1-x^3}$
c	$f(x) = e^{4x} + 4^{2x}$ $f'(x) = 4e^{4x} + (2 \ln 4) 4^{2x}$
أتحقق من فهمي صفحة 51	
a	$f(x) = \log \sec x$ $f'(x) = \frac{\sec x \tan x}{\ln 10 \sec x} = \frac{\tan x}{\ln 10}$
b	$f(x) = \log_8(x^2 + 3x)$ $f'(x) = \frac{2x+3}{(x^2+3x) \ln 8}$
أتحقق من فهمي صفحة 54	





	$\frac{dy}{dt} = \sec^2 t, \quad \frac{dx}{dt} = \sec t \tan t$ $\frac{dy}{dx} = \frac{\frac{dy}{dt}}{\frac{dx}{dt}} = \frac{\sec^2 t}{\sec t \tan t} = \frac{\sec t}{\tan t}$ $m = \left. \frac{dy}{dx} \right _{t=\frac{\pi}{4}} = \frac{\sec \frac{\pi}{4}}{\tan \frac{\pi}{4}} = \frac{\sqrt{2}}{1} = \sqrt{2}$ $x = \sec \frac{\pi}{4} = \sqrt{2}, \quad y = \tan \frac{\pi}{4} = 1$ $y - 1 = \sqrt{2}(x - \sqrt{2}) \rightarrow y = \sqrt{2}x - 1$ <p>معادلة المماس هي:</p>
	أُتدرب وأحل المسائل صفحة 55
1	$f(x) = e^{4x+2}$ $f'(x) = 4e^{4x+2}$
2	$f(x) = 50e^{2x-10}$ $f'(x) = 100e^{2x-10}$
3	$f(x) = \cos(x^2 - 3x - 4)$ $f'(x) = -(2x - 3) \sin(x^2 - 3x - 4)$ $= (3 - 2x) \sin(x^2 - 3x - 4)$
4	$f(x) = 10x^2 e^{-x^2}$ $f'(x) = (10x^2)(-2xe^{-x^2}) + (e^{-x^2})(20x) = 20xe^{-x^2}(1 - x^2)$
5	$f(x) = \sqrt{\frac{x+1}{x}} = \sqrt{1 + \frac{1}{x}}$ $f'(x) = \frac{-\frac{1}{x^2}}{2\sqrt{1 + \frac{1}{x}}} = -\frac{1}{2x^2\sqrt{1 + \frac{1}{x}}}$
6	$f(x) = x^2 \tan \frac{1}{x}$ $f'(x) = (x^2) \left(-\frac{1}{x^2} \sec^2 \frac{1}{x} \right) + \left(\tan \frac{1}{x} \right) (2x)$ $= -\sec^2 \frac{1}{x} + 2x \tan \frac{1}{x}$



7	$f(x) = 3x - 5 \cos(\pi x)^2$ $f'(x) = 3 + 5(2)(\pi x)(\pi) \sin(\pi x)^2 = 3 + 10\pi^2 x \sin(\pi x)^2$
8	$f(x) = \ln\left(\frac{1+e^x}{1-e^x}\right) = \ln(1+e^x) - \ln(1-e^x)$ $f'(x) = \frac{e^x}{1+e^x} + \frac{e^x}{1-e^x} = \frac{2e^x}{1-e^{2x}}$
9	$f(x) = (\ln x)^4$ $f'(x) = \frac{4}{x} (\ln x)^3$
10	$f(x) = \sin \sqrt[3]{x} + \sqrt[3]{\sin x}$ $f'(x) = \frac{1}{3\sqrt[3]{x^2}} \cos \sqrt[3]{x} + \frac{\cos x}{3\sqrt[3]{\sin^2 x}}$
11	$f(x) = \sqrt[5]{x^2 + 8x} = (x^2 + 8x)^{\frac{1}{5}}$ $f'(x) = \frac{2x + 8}{5\sqrt[5]{(x^2 + 8x)^4}}$
12	$f(x) = \frac{3^{2x}}{x}$ $f'(x) = \frac{(x)(2 \ln 3)3^{2x} - 3^{2x}}{x^2} = \frac{(-1 + 2x \ln 3)3^{2x}}{x^2}$
13	$f(x) = 2^{-x} \cos \pi x$ $f'(x) = (2^{-x})(-\pi \sin \pi x) + (\cos \pi x)(-\ln 2)2^{-x}$ $= -\pi 2^{-x} \sin \pi x - 2^{-x} (\cos \pi x) \ln 2$
14	$f(x) = \frac{10 \log_4 x}{x}$ $f'(x) = \frac{\frac{10x}{x \ln 4} - 10 \log_4 x}{x^2} = \frac{\frac{10}{\ln 4} - 10 \log_4 x}{x^2}$
15	$f(x) = \left(\frac{\sin x}{1 + \cos x}\right)^2$ $f'(x) = 2 \left(\frac{\sin x}{1 + \cos x}\right)^1 \times \frac{(1 + \cos x)(\cos x) - (\sin x)(-\sin x)}{(1 + \cos x)^2}$ $= 2 \times \frac{\sin x}{1 + \cos x} \times \frac{1}{1 + \cos x}$ $= \frac{2 \sin x}{(1 + \cos x)^2}$



16	$f(x) = \log_3(1 + x \ln x)$ $f'(x) = \frac{(x) \left(\frac{1}{x}\right) + (\ln x)(1)}{(\ln 3)(1 + x \ln x)} = \frac{1 + \ln x}{(\ln 3)(1 + x \ln x)}$
17	$f(x) = e^{\sin 2x} + \sin(e^{2x})$ $f'(x) = 2e^{\sin 2x} \cos 2x + 2e^{2x} \cos(e^{2x})$
18	$f(x) = \tan^4(\sec(\cos x)) = (\tan(\sec(\cos x)))^4$ $f'(x) = 4(\tan(\sec(\cos x)))^3 \sec^2(\sec(\cos x)) \times \sec(\cos x) \tan(\cos x) \times (-\sin x)$ $= -4 \tan^3(\sec(\cos x)) \sec^2(\sec(\cos x)) \sec(\cos x) \tan(\cos x) \sin x$
19	$f(x) = 4e^{-0.5x^2}$ $f(-2) = 4e^{-0.5(-2)^2} = \frac{4}{e^2}$ $f'(x) = -4xe^{-0.5x^2}$ $m = f'(-2) = -4(-2)e^{-0.5(-2)^2} = \frac{8}{e^2}$ <p>ميل المماس هو:</p> $y - \frac{4}{e^2} = \frac{8}{e^2}(x + 2) \rightarrow y = \frac{8}{e^2}x + \frac{20}{e^2}$ <p>معادلة المماس هي:</p>
20	$f(x) = x + \cos 2x$ $f(0) = 0 + \cos(0) = 1$ $f'(x) = 1 - 2 \sin 2x$ $m = f'(0) = 1 - 2 \sin 2(0) = 1$ <p>ميل المماس هو:</p> $y - 1 = 1(x - 0) \rightarrow y = x + 1$ <p>معادلة المماس هي:</p>
21	$f(x) = 2^x$ $f(0) = 2^0 = 1$ $f'(x) = (\ln 2)2^x$ $m = f'(0) = (\ln 2)2^0 = \ln 2$ <p>ميل المماس هو:</p> $y - 1 = (\ln 2)(x - 0) \rightarrow y = (\ln 2)x + 1$ <p>معادلة المماس هي:</p>





22	$f(x) = \sqrt{x+1} \sin \frac{\pi x}{2}$ $f(3) = 2 \sin \frac{3\pi}{2} = -2$ $f'(x) = (\sqrt{x+1}) \left(\frac{\pi}{2} \cos \frac{\pi x}{2} \right) + \left(\sin \frac{\pi x}{2} \right) \left(\frac{1}{2\sqrt{x+1}} \right)$ $m = f'(3) = (2)(0) + (-1) \left(\frac{1}{4} \right) = -\frac{1}{4}$ $y + 2 = -\frac{1}{4}(x - 3) \rightarrow y = -\frac{1}{4}x - \frac{5}{4}$ <p>ميل المماس هو: معادلة المماس هي:</p>
23	$A'(x) = f'(g(x)) \times g'(x)$ $A'(5) = f'(g(5)) \times g'(5)$ $= f'(-2) \times 6$ $= 4 \times 6 = 24$
24	$f(x) = \frac{x}{\sqrt{x^2+1}}$ $f'(x) = \frac{(\sqrt{x^2+1})(1) - (x) \left(\frac{x}{\sqrt{x^2+1}} \right)}{x^2+1}$ $= \frac{\left(\frac{x^2+1-x^2}{\sqrt{x^2+1}} \right)}{x^2+1}$ $= \frac{1}{(x^2+1)\sqrt{x^2+1}}$ $= \frac{1}{\sqrt{(x^2+1)^3}}$
25	$A(t) = Ne^{0.1t}$ $A'(t) = 0.1Ne^{0.1t}$ $A'(3) = 0.1Ne^{0.3}$
26	$A'(k) = 0.1Ne^{0.1k}$ $0.2 = 0.1Ne^{0.1k}$ $e^{0.1k} = \frac{0.2}{0.1N} = \frac{2}{N}$ $0.1k = \ln \frac{2}{N} \rightarrow k = 10 \ln \frac{2}{N}$



27	$f(x) = \sin \pi x$ $f'(x) = \pi \cos \pi x$ $f''(x) = -\pi^2 \sin \pi x$ $f'''(x) = -\pi^3 \cos \pi x$
28	$f(x) = \cos(2x + 1)$ $f'(x) = -2\sin(2x + 1)$ $f''(x) = -4 \cos(2x + 1)$ $f'''(x) = 8 \sin(2x + 1)$ $f^{(4)}(x) = 16 \cos(2x + 1)$ $f^{(5)}(x) = -32 \sin(2x + 1)$
29	$f(x) = \cos x^2$ $f'(x) = -2x \sin x^2$ $f''(x) = (-2x)(2x \cos x^2) + (\sin x^2)(-2)$ $= -4x^2 \cos x^2 - 2\sin x^2$
30	$y = e^{\sin x}$ $\frac{dy}{dx} = e^{\sin x} \cos x$ $m = \left. \frac{dy}{dx} \right _{x=0} = e^{\sin 0} \cos 0 = 1$ ميل المماس هو :
31	$A(t) = 20 \left(\frac{1}{2}\right)^{\frac{t}{140}}$ $A'(t) = \frac{20}{140} \left(\ln \frac{1}{2}\right) \left(\frac{1}{2}\right)^{\frac{t}{140}}$ $A'(2) = \frac{20}{140} \left(\ln \frac{1}{2}\right) \left(\frac{1}{2}\right)^{\frac{2}{140}} \approx -0.098$ إن يتحلل البلوتونيوم بمعدل 0.098g كل يوم عندما $t = 2$
32	$s(t) = 0.1 \sin 2.4t$ $v(t) = 2.4 \times 0.1 \cos 2.4t = 0.24 \cos 2.4t$ $v(1) = 0.24 \cos 2.4 \approx -0.177 \text{ cm/s}$





33	$v(t) = 0 \rightarrow 0.24 \cos 2.4t = 0$ $\rightarrow \cos 2.4t = 0$ $ \sin 2.4t = 1$ $\sin 2.4t = 1, \text{ or } -1$ $s(t) = 0.1 \sin 2.4t$ <p>وهذا يعني أن: أي أن: لكن موقع الكرة هو: وبتعويض قيمة $\sin 2.4t$ نجد أن الموقع هو: $s = 0.1(1) = 0.1$ or, $s = 0.1(-1) = -0.1$ إذن، عندما تكون سرعة الكرة صفرًا يكون موقعها عند 0.1cm أو -0.1cm</p>
34	$a(t) = -0.24 \times 2.4 \sin 2.4t = -0.576 \sin 2.4t$ $a(t) = 0 \rightarrow \sin 2.4t = 0$ $s(t) = 0.1 \sin 2.4t$ <p>لكن موقع الكرة هو: وبتعويض قيمة $\sin 2.4t$ نجد أن الموقع هو: $s = 0.1(0) = 0$ إذن، عندما يكون تسارع الكرة صفرًا يكون موقعها عند $s = 0$، أي عند مرورها بموقع الاتزان.</p>
35	$\frac{dy}{dt} = 2t, \quad \frac{dx}{dt} = 1$ $\frac{dy}{dx} = \frac{\frac{dy}{dt}}{\frac{dx}{dt}} = \frac{2t}{1} = 2t$ <p>ميل المماس: $m = \left. \frac{dy}{dx} \right _{t=1} = 2 \times 1 = 2$<p>نقطة التماس: $x = 1 + 2 = 3, \quad y = (1)^2 - 1 = 0$<p>معادلة المماس: $y - 0 = 2(x - 3) \rightarrow y = 2x - 6$</p></p></p>





36	$\frac{dy}{dt} = 2t, \quad \frac{dx}{dt} = \frac{1}{2}$ $\frac{dy}{dx} = \frac{\frac{dy}{dt}}{\frac{dx}{dt}} = \frac{2t}{\frac{1}{2}} = 4t$ $m = \left. \frac{dy}{dx} \right _{t=-1} = 4 \times -1 = -4$ $x = -\frac{1}{2}, \quad y = (-1)^2 - 4 = -3$ $y + 3 = -4 \left(x + \frac{1}{2} \right) \rightarrow y = -4x - 5$	ميل المماس: نقطة التماس: معادلة المماس:
37	$\frac{dy}{dt} = \sin t, \quad \frac{dx}{dt} = 1 - \cos t$ $\frac{dy}{dx} = \frac{\frac{dy}{dt}}{\frac{dx}{dt}} = \frac{\sin t}{1 - \cos t}$ $m = \left. \frac{dy}{dx} \right _{t=\frac{\pi}{3}} = \frac{\sin \frac{\pi}{3}}{1 - \cos \frac{\pi}{3}} = \frac{\frac{\sqrt{3}}{2}}{1 - \frac{1}{2}} = \sqrt{3}$ $x = \frac{\pi}{3} - \frac{\sqrt{3}}{2}, \quad y = 1 - \frac{1}{2} = \frac{1}{2}$ $y - \frac{1}{2} = \sqrt{3} \left(x - \frac{\pi}{3} + \frac{\sqrt{3}}{2} \right) \rightarrow y = \sqrt{3}x - \frac{\sqrt{3}\pi}{3} + 2$	ميل المماس: نقطة التماس: معادلة المماس:





38	$\frac{dy}{dt} = \sec^2 t , \quad \frac{dx}{dt} = 2 \times \sec t \times \sec t \tan t = 2 \sec^2 t \tan t$ $\frac{dy}{dx} = \frac{\frac{dy}{dt}}{\frac{dx}{dt}} = \frac{\sec^2 t}{2 \sec^2 t \tan t} = \frac{1}{2} \cot t$ $m = \left. \frac{dy}{dx} \right _{t=-\frac{\pi}{4}} = \frac{1}{2} \cot \left(-\frac{\pi}{4} \right) = -\frac{1}{2}$ <p>ميل المماس:</p> $x = \sec^2 \left(-\frac{\pi}{4} \right) - 1 = 1 , \quad y = \tan \left(-\frac{\pi}{4} \right) = -1$ <p>معادلة المماس:</p> $y + 1 = -\frac{1}{2}(x - 1) \rightarrow y = -\frac{1}{2}x - \frac{1}{2}$
39	$\frac{dy}{dt} = 2 \sin t , \quad \frac{dx}{dt} = 2(1 - \cos t)$ $\frac{dy}{dx} = \frac{\frac{dy}{dt}}{\frac{dx}{dt}} = \frac{2 \sin t}{2(1 - \cos t)} = \frac{\sin t}{1 - \cos t}$ $m = \left. \frac{dy}{dx} \right _{t=\frac{\pi}{4}} = \frac{\sin \frac{\pi}{4}}{1 - \cos \frac{\pi}{4}} = \frac{\frac{1}{\sqrt{2}}}{1 - \frac{1}{\sqrt{2}}} = \frac{1}{\sqrt{2} - 1} \times \frac{\sqrt{2} + 1}{\sqrt{2} + 1}$ $= \sqrt{2} + 1$ <p>ميل العمودي على المماس:</p> $m = \frac{-1}{\sqrt{2} + 1} \times \frac{\sqrt{2} - 1}{\sqrt{2} - 1} = 1 - \sqrt{2}$
40	$h'(1) = f'(g(1)) \times g'(1) = f'(4) \times g'(1)$ <p>$g'(1)$ ميل المستقيم الذي يمر بالنقطتين (3, 2) و(0, 5) ويساوي -1</p> <p>$f'(4)$ ميل المستقيم الذي يمر بالنقطتين (5, 3) و(2, 4) ويساوي $\frac{1}{3}$</p> $h'(1) = -\frac{1}{3} \times -1 = \frac{1}{3}$



41	$p'(1) = g'(f(1)) \times f'(1) = g'(2) \times f'(1)$ <p>$g'(2)$ ميل المستقيم الذي يمر بالنقطتين $(3, 2)$ و $(0, 5)$ ويساوي -1 $f'(1)$ ميل المستقيم الذي يمر بالنقطتين $(2, 4)$ و $(0, 0)$ ويساوي 2</p> $p'(1) = -1 \times 2 = -2$
42	$y = \ln(ax + b)$ $\frac{dy}{dx} = \frac{a}{ax + b}$ <p>ليكن إحداثيا P هما (x_1, y_1)، فيكون ميل المماس عند P هو:</p> $\left. \frac{dy}{dx} \right _{x=x_1} = \frac{a}{ax_1 + b} \rightarrow \frac{a}{ax_1 + b} = 1$ $\rightarrow a = ax_1 + b$ $\rightarrow x_1 = \frac{a - b}{a} = 1 - \frac{b}{a}$ <p>المقدار $1 - \frac{b}{a}$ أقل من 1 لأن $\frac{b}{a}$ مقدار موجب كون a, b موجبين</p>
43	$P(x_1, y_1) = (0, 2)$ $x_1 = 1 - \frac{b}{a} = 0 \rightarrow b = a$ $y_1 = \ln(ax_1 + b) \rightarrow 2 = \ln(b) \rightarrow b = e^2 \rightarrow a = e^2$ <p>بتعويض قيمتي a، و b في قاعدة الاقتران ينتج أن:</p> $y = \ln(e^2x + e^2)$ $= \ln e^2(x + 1)$ $= \ln e^2 + \ln(x + 1)$ $= 2 + \ln(x + 1)$ <p>ميل المماس هو: $\frac{dy}{dx} = \frac{1}{x+1}$ وهذا يساوي $\frac{1}{2}$ إذن، $\frac{1}{x+1} = \frac{1}{2}$ أي أن: $x + 1 = 2$ إذن، $x = 1$ و $y = 2 + \ln 2$ النقطة التي يكون ميل المماس عندها $\frac{1}{2}$ هي $(1, 2 + \ln 2)$</p>





44	$\frac{dy}{dt} = 2, \quad \frac{dx}{dt} = 2t$ $\frac{dy}{dx} = \frac{\frac{dy}{dt}}{\frac{dx}{dt}} = \frac{2}{2t} = \frac{1}{t}$
45	<p>ميل المماس:</p> $m = \frac{dy}{dx} = \frac{1}{t}$ <p>ميل العمودي على المماس:</p> $m = \frac{-1}{\frac{1}{t}} = -t$ <p>معادلة العمودي على المماس:</p> $y - 2t = -t(x - t^2) \rightarrow y = -tx + t^3 + 2t$ <p>إيجاد المقطع x للعمودي على المماس نضع $y=0$</p> $0 = -tx + t^3 + 2t \rightarrow x = \frac{t^3 + 2t}{t} = t^2 + 2$ <p>إيجاد المقطع y للعمودي على المماس نضع $x=0$:</p> $y = -t(0) + t^3 + 2t = t^3 + 2t$ <p>مساحة المثلث:</p>
46	$A = \frac{1}{2} t^2 + 2 t^3 + 2t $ $= \frac{1}{2} t^2 + 2 t(t^2 + 2) $ $= \frac{1}{2} t(t^2 + 2)^2 $ $= \frac{1}{2} t (t^2 + 2)^2$
47	$y = \sqrt{\sin \sqrt{x}}$ $\frac{dy}{dx} = \frac{\frac{1}{2\sqrt{x}} \cos \sqrt{x}}{2\sqrt{\sin \sqrt{x}}} = \frac{\cos \sqrt{x}}{4\sqrt{x}\sqrt{\sin \sqrt{x}}} = \frac{\cos \sqrt{x}}{4\sqrt{x \sin \sqrt{x}}}$





48	$y = e^x \sin^2 x \cos x = (e^x \sin^2 x)(\cos x)$ $\frac{dy}{dx} = (e^x \sin^2 x)(-\sin x) + (\cos x) \left((e^x)(2 \sin x \cos x) + (\sin^2 x)(e^x) \right)$ $= -e^x \sin^3 x + 2e^x \cos^2 x \sin x + e^x \cos x \sin^2 x$
49	$\frac{dy}{dx} = \frac{dy}{dt} = \frac{3 \cos 3t}{2 \cos 2t}$ $\frac{dy}{dx} = 0 \rightarrow \frac{3 \cos 3t}{2 \cos 2t} = 0$ $\rightarrow \cos 3t = 0 \rightarrow 3t = \frac{\pi}{2} \rightarrow t = \frac{\pi}{6}$ $x_A = \sin 2 \left(\frac{\pi}{6} \right) = \sin \frac{\pi}{3} = \frac{\sqrt{3}}{2}$ $y_A = \sin 3 \left(\frac{\pi}{6} \right) = \sin \frac{\pi}{2} = 1$ <p>إن، إحداثيا A هما $\left(\frac{\sqrt{3}}{2}, 1 \right)$.</p>
50	<p>عند النقطة B يكون المماس موازيا لمحور y، أي إن ميله غير معرف، ومنه يكون:</p> $\cos 2t = 0 \rightarrow 2t = \frac{\pi}{2} \rightarrow t = \frac{\pi}{4}$ $x_B = \sin 2 \left(\frac{\pi}{4} \right) = \sin \frac{\pi}{2} = 1$ $y_B = \sin 3 \left(\frac{\pi}{4} \right) = \sin \frac{3\pi}{4} = \frac{1}{\sqrt{2}}$ <p>إن، إحداثيا B هما $\left(1, \frac{1}{\sqrt{2}} \right)$.</p>





51	<p>عند نقطة الأصل $x = y = 0$</p> <p>أي أن: $\sin 2t = \sin 3t = 0$</p> <p>تتحقق هاتان المعادلتان معاً عندما $t = 0$، وعندها يكون ميل المماس:</p> $m = \left. \frac{dy}{dx} \right _{t=0} = \frac{3 \cos 3(0)}{2 \cos 2(0)} = \frac{3 \cos 0}{2 \cos 0} = \frac{3}{2}$ <p>كما تتحققان أيضاً عندما $t = \pi$، وعندها يكون ميل المماس:</p> $m = \left. \frac{dy}{dx} \right _{t=\pi} = \frac{3 \cos 3\pi}{2 \cos 2\pi} = \frac{3 \cos \pi}{2 \cos 0} = \frac{-3}{2}$
52	$s(t) = \ln(t^2 - 2t + 1.9)$ $v(t) = \frac{2t - 2}{t^2 - 2t + 1.9}$ $a(t) = \frac{(t^2 - 2t + 1.9)(2) - (2t - 2)(2t - 2)}{(t^2 - 2t + 1.9)^2}$ $= \frac{-2t^2 + 4t - 0.2}{(t^2 - 2t + 1.9)^2}$
53	$v(t) = 0 \rightarrow 2t - 2 = 0 \rightarrow t = 1$ $s(1) = \ln(1 - 2 + 1.9) = \ln 0.9 \text{ m}$ $a(1) = \frac{-2 + 4 - 0.2}{(1 - 2 + 1.9)^2} = \frac{1.8}{(0.9)^2} \approx 2.2 \text{ m/s}^2$
54	<p>الموقع الابتدائي هو:</p> $s(0) = \ln(1.9)$ $s(t) = \ln(1.9) \rightarrow \ln(t^2 - 2t + 1.9) = \ln(1.9)$ $\rightarrow t^2 - 2t + 1.9 = 1.9$ $\rightarrow t^2 - 2t = 0$ $\rightarrow t(t - 2) = 0$ $\rightarrow t = 0 \text{ or } t = 2$ <p>يعود الجسم إلى موقعه الابتدائي بعد ثانيتين من بدء حركته.</p>



الدرس الرابع: الاشتقاق الضمني

مسألة اليوم صفحة 58

$$\tan \theta = \frac{4x}{x^2 + 252}$$

باشتقاق طرفي العلاقة بالنسبة إلى x ينتج أن:

$$\sec^2 \theta \times \frac{d\theta}{dx} = \frac{(x^2 + 252)(4) - (4x)(2x)}{(x^2 + 252)^2}$$

$$\frac{d\theta}{dx} = \frac{1008 - 4x^2}{\sec^2 \theta (x^2 + 252)^2}$$

$$= \frac{1008 - 4x^2}{(1 + \tan^2 \theta)(x^2 + 252)^2}$$

$$= \frac{1008 - 4x^2}{\left(1 + \frac{16x^2}{(x^2 + 252)^2}\right)(x^2 + 252)^2}$$

$$= \frac{1008 - 4x^2}{(x^2 + 252)^2 + 16x^2}$$

أتحقق من فهمي صفحة 60

$$x^2 + y^2 = 13$$

$$2x + 2y \frac{dy}{dx} = 0$$

$$\frac{dy}{dx} = -\frac{2x}{2y} = -\frac{x}{y}$$

$$2x + 5y^2 = \sin y$$

$$2 + 10y \frac{dy}{dx} = \cos y \frac{dy}{dx}$$

$$\frac{dy}{dx} (10y - \cos y) = -2$$

$$\frac{dy}{dx} = \frac{-2}{10y - \cos y}$$

أتحقق من فهمي صفحة 62





a	$3xy^2 + y^3 = 8$ $6xy \frac{dy}{dx} + 3y^2 + 3y^2 \frac{dy}{dx} = 0$ $\frac{dy}{dx} = -\frac{3y^2}{6xy + 3y^2}$
b	$\tan(x - y) = 2xy^3 + 1$ $\left(1 - \frac{dy}{dx}\right) \sec^2(x - y) = 6xy^2 \frac{dy}{dx} + 2y^3$ $\sec^2(x - y) - \sec^2(x - y) \frac{dy}{dx} = 6xy^2 \frac{dy}{dx} + 2y^3$ $\frac{dy}{dx} (6xy^2 + \sec^2(x - y)) = \sec^2(x - y) - 2y^3$ $\frac{dy}{dx} = \frac{\sec^2(x - y) - 2y^3}{6xy^2 + \sec^2(x - y)}$
c	$x^2 = \frac{x - y}{x + y}$ $2x = \frac{(x + y) \left(1 - \frac{dy}{dx}\right) - (x - y) \left(1 + \frac{dy}{dx}\right)}{(x + y)^2}$ $2x(x + y)^2 = x - x \frac{dy}{dx} + y - y \frac{dy}{dx} - x - x \frac{dy}{dx} + y + y \frac{dy}{dx}$ $2x \frac{dy}{dx} = 2y - 2x(x + y)^2$ $\frac{dy}{dx} = \frac{2y - 2x(x + y)^2}{2x} = \frac{y - x(x + y)^2}{x}$ <p>أو يمكن تبسيط العلاقة قبل الاشتقاق كالآتي:</p> $x^2 = \frac{x - y}{x + y} \rightarrow x^3 + x^2 y = x - y$ $\rightarrow 3x^2 + x^2 \frac{dy}{dx} + 2xy = 1 - \frac{dy}{dx}$ $\rightarrow \frac{dy}{dx} + x^2 \frac{dy}{dx} = 1 - 3x^2 - 2xy$ $\rightarrow \frac{dy}{dx} (1 + x^2) = 1 - 3x^2 - 2xy$ $\rightarrow \frac{dy}{dx} = \frac{1 - 3x^2 - 2xy}{1 + x^2}$

أتحقق من فهمي صفحة 63



a	$y^2 = \ln x \rightarrow 2y \frac{dy}{dx} = \frac{1}{x}$ $\rightarrow \frac{dy}{dx} = \frac{1}{2xy}$ $\left. \frac{dy}{dx} \right _{(e,1)} = \frac{1}{2e}$
b	<p>نجد قيمة y عندما $6x =$</p> $(y - 3)^2 = 4(6 - 5) \rightarrow (y - 3)^2 = 4$ $\rightarrow y - 3 = \pm 2$ $\rightarrow y = 5 \text{ or } y = 1$ <p>باشتقاق طرفي العلاقة $(y - 3)^2 = 4(x - 5)$ بالنسبة إلى x ينتج أن:</p> $2(y - 3) \frac{dy}{dx} = 4$ $\frac{dy}{dx} = \frac{2}{y - 3}$ <p>ميل المماس عند النقطة الأولى هو:</p> $\left. \frac{dy}{dx} \right _{(6,1)} = \frac{2}{1 - 3} = -1$ <p>وميل المماس عند النقطة الثانية هو:</p> $\left. \frac{dy}{dx} \right _{(6,5)} = \frac{2}{5 - 3} = 1$

أتحقق من فهمي صفحة 65





$$x^3 + y^3 - 3xy = 17 \rightarrow 3x^2 + 3y^2 \frac{dy}{dx} - 3x \frac{dy}{dx} - 3y = 0$$

بتعويض $x=2$ و $y=3$ ينتج أن:

$$3(2)^2 + 3(3)^2 \frac{dy}{dx} - 3(2) \frac{dy}{dx} - 3(3) = 0$$

$$\rightarrow \frac{dy}{dx} \Big|_{(2,3)} = -\frac{1}{7}$$

ميل المماس هو: $-\frac{1}{7}$

إذن، معادلة المماس هي:

$$y - 3 = -\frac{1}{7}(x - 2)$$

$$y = -\frac{1}{7}x + \frac{23}{7}$$

أتحقق من فهمي صفحة 66

منهاجي

متعة التعليم الهادف





$$xy + y^2 = 2x \rightarrow x \frac{dy}{dx} + y + 2y \frac{dy}{dx} = 2$$

$$\rightarrow \frac{dy}{dx} = \frac{2 - y}{x + 2y}$$

$$\rightarrow \frac{d^2y}{dx^2} = \frac{(x + 2y) \left(-\frac{dy}{dx}\right) - (2 - y) \left(1 + 2\frac{dy}{dx}\right)}{(x + 2y)^2}$$

$$= \frac{(x + 2y) \left(\frac{y - 2}{x + 2y}\right) - (2 - y) \left(1 + 2\frac{2 - y}{x + 2y}\right)}{(x + 2y)^2}$$

$$= \frac{(x + 2y)(y - 2) - (2 - y)(x + 4)}{(x + 2y)^3}$$

$$= \frac{2xy - 4x + 2y^2 - 8}{(x + 2y)^3}$$

أتحقق من فهمي صفحة 67

$$\frac{dy}{dx} = \frac{\frac{dy}{dt}}{\frac{dx}{dt}} = \frac{3t^2 - 4t}{6t} = \frac{1}{2}t - \frac{2}{3}$$

$$\frac{d^2y}{dx^2} = \frac{\frac{d}{dt} \left(\frac{dy}{dx}\right)}{\frac{dx}{dt}} = \frac{\frac{1}{2}}{6t} = \frac{1}{12t}$$

$$\left. \frac{d^2y}{dx^2} \right|_{t=2} = \frac{1}{24}$$

أتحقق من فهمي صفحة 69

منهاجي

متعة التعليم الهادف





a	$y = x^{\sqrt{x}} \rightarrow \ln y = \ln x^{\sqrt{x}}$ $\rightarrow \ln y = \sqrt{x} \ln x$ $\rightarrow \frac{1}{y} \left(\frac{dy}{dx} \right) = \sqrt{x} \left(\frac{1}{x} \right) + \frac{1}{2\sqrt{x}} \ln x$ $\rightarrow \frac{dy}{dx} = \frac{y}{\sqrt{x}} + \frac{y}{2\sqrt{x}} \ln x \rightarrow \frac{dy}{dx} = \frac{x^{\sqrt{x}}}{\sqrt{x}} + \frac{x^{\sqrt{x}}}{2\sqrt{x}} \ln x$
b	$y = \sqrt{\frac{x-1}{x^4+1}} \rightarrow \ln y = \ln \sqrt{\frac{x-1}{x^4+1}}$ $\rightarrow \ln y = \frac{1}{2} \ln \frac{x-1}{x^4+1}$ $\rightarrow \ln y = \frac{1}{2} (\ln(x-1) - \ln(x^4+1))$ $\rightarrow \frac{1}{y} \left(\frac{dy}{dx} \right) = \frac{1}{2(x-1)} + \frac{2x^3}{x^4+1}$ $\rightarrow \frac{dy}{dx} = \left(\frac{1}{2(x-1)} + \frac{2x^3}{x^4+1} \right) \sqrt{\frac{x-1}{x^4+1}}$
أدرب وأحل المسائل صفحة 69	
1	$x^2 - 2y^2 = 4$ $2x - 4y \frac{dy}{dx} = 0$ $\frac{dy}{dx} = \frac{x}{2y}$





2	$\frac{1}{x^2} + \frac{1}{y^2} = \frac{1}{10}$ $\frac{-2x}{x^4} + \frac{-2y \frac{dy}{dx}}{y^4} = 0$ $\frac{dy}{dx} = \frac{2x}{x^4} \times \frac{y^4}{-2y} = -\frac{y^3}{x^3}$
3	$(x^2 + y^2)^2 = 50(x^2 - y^2)$ $2(x^2 + y^2) \left(2x + 2y \frac{dy}{dx} \right) = 50 \left(2x - 2y \frac{dy}{dx} \right)$ $\frac{dy}{dx} (yx^2 + y^3 + 25y) = 25x - x^3 - xy^2$ $\frac{dy}{dx} = \frac{25x - x^3 - xy^2}{yx^2 + y^3 + 25y}$
4	$e^x y = x e^y$ $(e^x) \left(\frac{dy}{dx} \right) + (y)(e^x) = (x) \left(e^y \frac{dy}{dx} \right) + (e^y)(1)$ $\frac{dy}{dx} (e^x - x e^y) = e^y - y e^x$ $\frac{dy}{dx} = \frac{e^y - y e^x}{e^x - x e^y}$
5	$3^x = y - 2xy$ $3^x \ln 3 = \frac{dy}{dx} - 2x \frac{dy}{dx} - 2y$ $\frac{dy}{dx} (1 - 2x) = 2y + 3^x \ln 3$ $\frac{dy}{dx} = \frac{2y + 3^x \ln 3}{1 - 2x}$



6	$\sqrt{x} + \sqrt{y} = 5$ $\frac{1}{2\sqrt{x}} + \frac{\frac{dy}{dx}}{2\sqrt{y}} = 0$ $\frac{dy}{dx} = \frac{-2\sqrt{y}}{2\sqrt{x}} = \frac{-\sqrt{y}}{\sqrt{x}}$
7	$x = \sec \frac{1}{y}$ $1 = -\frac{1}{y^2} \frac{dy}{dx} \sec \frac{1}{y} \tan \frac{1}{y}$ $\frac{dy}{dx} = \frac{-y^2}{\sec \frac{1}{y} \tan \frac{1}{y}} = -y^2 \cos \frac{1}{y} \cot \frac{1}{y}$
8	$(\sin \pi x + \cos \pi y)^2 = 2$ $2(\sin \pi x + \cos \pi y)^1 \left(\pi \cos \pi x - \pi \sin \pi y \frac{dy}{dx} \right) = 0$ $\frac{dy}{dx} (\pi \sin \pi y) (\sin \pi x + \cos \pi y) = (\pi \cos \pi x) (\sin \pi x + \cos \pi y)$ $\frac{dy}{dx} = \frac{(\pi \cos \pi x) (\sin \pi x + \cos \pi y)}{(\pi \sin \pi y) (\sin \pi x + \cos \pi y)} = \frac{\cos \pi x}{\sin \pi y}$
9	$\frac{x}{y^2} + \frac{y^2}{x} = 5 \rightarrow x^2 + y^4 = 5xy^2$ $\rightarrow 2x + 4y^3 \frac{dy}{dx} = 10xy \frac{dy}{dx} + 5y^2$ $\rightarrow \frac{dy}{dx} (4y^3 - 10xy) = 5y^2 - 2x$ $\rightarrow \frac{dy}{dx} = \frac{5y^2 - 2x}{4y^3 - 10xy}$



10	$x + y = \cos xy$ $1 + \frac{dy}{dx} = - \left(x \frac{dy}{dx} + y \right) \sin xy$ $\frac{dy}{dx} (-x \sin xy - 1) = 1 + y \sin xy$ $\frac{dy}{dx} = - \frac{1 + y \sin xy}{x \sin xy + 1}$
11	$x^2 + y^2 = \ln(x + y)^2$ $2x + 2y \frac{dy}{dx} = \frac{2(x + y) \left(1 + \frac{dy}{dx} \right)}{(x + y)^2}$ $x + y \frac{dy}{dx} = \frac{1 + \frac{dy}{dx}}{x + y}$ $\frac{dy}{dx} (xy + y^2 - 1) = 1 - x^2 - xy$ $\frac{dy}{dx} = \frac{1 - x^2 - xy}{xy + y^2 - 1}$
12	$\sin x \cos y = x^2 - 5y$ $(\sin x) \left(-\sin y \frac{dy}{dx} \right) + (\cos y)(\cos x) = 2x - 5 \frac{dy}{dx}$ $\frac{dy}{dx} (\sin x \sin y - 5) = \cos x \cos y - 2x$ $\frac{dy}{dx} = \frac{\cos x \cos y - 2x}{\sin x \sin y - 5}$



$$2y^2 + 2xy - 1 = 0$$

أجد قيمة y عندما $x = \frac{1}{2}$

$$2y^2 + 2\left(\frac{1}{2}\right)y - 1 = 0 \rightarrow 2y^2 + y - 1 = 0$$

$$\rightarrow (2y - 1)(y + 1) = 0 \rightarrow y = \frac{1}{2}, y = -1$$

باشتقاق طرفي العلاقة بالنسبة إلى x ينتج أن:

13 $4y \frac{dy}{dx} + 2x \frac{dy}{dx} + 2y = 0$

$$\frac{dy}{dx} = \frac{-y}{2y + x}$$

$$\left. \frac{dy}{dx} \right|_{\left(\frac{11}{2}, 2\right)} = \frac{-\frac{1}{2}}{2 \times \frac{1}{2} + \frac{1}{2}} = -\frac{1}{3}$$

$$\left. \frac{dy}{dx} \right|_{\left(\frac{1}{2}, -1\right)} = \frac{1}{-2 + \frac{1}{2}} = -\frac{2}{3}$$

منهاجي

متعة التعليم الهادف





14	$y^3 + 2x^2 = 11y$ <p>أجد قيمة x عندما $y = 1$:</p> $1 + 2x^2 = 11 \rightarrow x^2 = 5 \rightarrow x = \pm\sqrt{5}$ <p>باشتقاق طرفي العلاقة بالنسبة إلى x ينتج أن:</p> $3y^2 \frac{dy}{dx} + 4x = 11 \frac{dy}{dx}$ $\frac{dy}{dx} = \frac{4x}{11 - 3y^2}$ $\left. \frac{dy}{dx} \right _{(-\sqrt{5}, 1)} = \frac{-\sqrt{5}}{2}$ $\left. \frac{dy}{dx} \right _{(\sqrt{5}, 1)} = \frac{\sqrt{5}}{2}$
15	$x^2 + y^2 = 25$ $2x + 2y \frac{dy}{dx} = 0$ $2(3) + 2(-4) \frac{dy}{dx} = 0 \rightarrow \left. \frac{dy}{dx} \right _{(3, -4)} = \frac{3}{4}$
16	$x^2 y = 4(2 - y)$ $x^2 \frac{dy}{dx} + 2xy = -4 \frac{dy}{dx}$ $4 \frac{dy}{dx} + 2(2)(1) = -4 \frac{dy}{dx} \rightarrow \left. \frac{dy}{dx} \right _{(2, 1)} = -\frac{1}{2}$
17	$e^{\sin x} + e^{\cos y} = e + 1$ $e^{\sin x} \cos x - e^{\cos y} \sin y \frac{dy}{dx} = 0$ $e^{\sin \frac{\pi}{2}} \cos \frac{\pi}{2} - e^{\cos \frac{\pi}{2}} \sin \frac{\pi}{2} \frac{dy}{dx} = 0 \rightarrow \left. \frac{dy}{dx} \right _{\left(\frac{\pi}{2}, \frac{\pi}{2}\right)} = 0$



18	$\sqrt[3]{x^2} + \sqrt[3]{y^2} = 5$ $x^{\frac{2}{3}} + y^{\frac{2}{3}} = 5$ $\frac{2}{3}x^{-\frac{1}{3}} + \frac{2}{3}y^{-\frac{1}{3}} \frac{dy}{dx} = 0$ $\frac{2}{3}\left(\frac{1}{2}\right) + \frac{2}{3}(1) \frac{dy}{dx} = 0 \rightarrow \frac{dy}{dx}\bigg _{(8,1)} = -\frac{1}{2}$
19	$x^2 + xy + y^2 = 13$ $2x + x \frac{dy}{dx} + y + 2y \frac{dy}{dx} = 0$ $-8 - 4 \frac{dy}{dx} + 3 + 6 \frac{dy}{dx} = 0$ $\frac{dy}{dx}\bigg _{(-4,3)} = \frac{5}{2}$ $y - 3 = \frac{5}{2}(x + 4) \rightarrow y = \frac{5}{2}x + 13$ <p>ميل المماس هو: معادلة المماس هي:</p>
20	$x + y - 1 = \ln(x^2 + y^2)$ $1 + \frac{dy}{dx} = \frac{2x + 2y \frac{dy}{dx}}{x^2 + y^2}$ $1 + \frac{dy}{dx} = 2 \rightarrow \frac{dy}{dx}\bigg _{(1,0)} = 1$ $y - 0 = 1(x - 1) \rightarrow y = x - 1$ <p>معادلة المماس هي:</p>
21	$x + y = \sin y$ $1 + \frac{dy}{dx} = \cos y \frac{dy}{dx}$ $\frac{dy}{dx} = \frac{1}{-1 + \cos y}$ $\frac{d^2y}{dx^2} = \frac{\sin y \frac{dy}{dx}}{(-1 + \cos y)^2} = \frac{\sin y \left(\frac{1}{-1 + \cos y}\right)}{(-1 + \cos y)^2} = \frac{\sin y}{(-1 + \cos y)^3}$



22	$4y^3 = 6x^2 + 1$ $12y^2 \frac{dy}{dx} = 12x$ $\frac{dy}{dx} = \frac{x}{y^2}$ $\frac{d^2y}{dx^2} = \frac{y^2 - 2xy \frac{dy}{dx}}{y^4} = \frac{y - 2x \left(\frac{x}{y^2} \right)}{y^3} = \frac{y^3 - 2x^2}{y^5}$
23	$xy + e^y = e$ $x \frac{dy}{dx} + y + e^y \frac{dy}{dx} = 0$ $\frac{dy}{dx} = \frac{-y}{x + e^y}$ $\frac{d^2y}{dx^2} = \frac{(x + e^y) \left(-\frac{dy}{dx} \right) + y \left(1 + e^y \frac{dy}{dx} \right)}{(x + e^y)^2}$ $= \frac{(x + e^y) \left(\frac{y}{x + e^y} \right) + y \left(1 + e^y \frac{-y}{x + e^y} \right)}{(x + e^y)^2}$ $= \frac{(x + e^y)(y) + y(x + e^y - ye^y)}{(x + e^y)^3}$ $= \frac{2yx + 2ye^y - y^2e^y}{(x + e^y)^3}$
24	$(x - 6)(y + 4) = 2$ $(x - 6) \frac{dy}{dx} + (y + 4) = 0$ $(7 - 6) \frac{dy}{dx} + (-2 + 4) = 0 \rightarrow \frac{dy}{dx} \Big _{(7,-2)} = -2$ <p>إذن ميل العمودي على المماس هو $\frac{1}{2}$</p> <p>معادلة العمودي على المماس هي:</p> $y + 2 = \frac{1}{2}(x - 7) \rightarrow y = \frac{1}{2}x - \frac{11}{2}$



25	$3x^2 + 2xy + y^2 = 6$ $6x + 2x \frac{dy}{dx} + 2y + 2y \frac{dy}{dx} = 0$ $\frac{dy}{dx} = \frac{-3x - y}{x + y}$ $\frac{dy}{dx} = 0 \rightarrow \frac{-3x - y}{x + y} = 0 \rightarrow -3x - y = 0 \rightarrow y = -3x$ $3x^2 + 2x(-3x) + (-3x)^2 = 6 \rightarrow 6x^2 = 6 \rightarrow x = \pm 1$ <p>إذن للمنحنى مماسان أفقيان عند النقطتين $(1, -3), (-1, 3)$</p>
26	$x + y^2 = 1$ $1 + 2y \frac{dy}{dx} = 0 \rightarrow \frac{dy}{dx} = \frac{-1}{2y}$ <p>ميل المستقيم $x + 2y = 0$ هو $-\frac{1}{2}$</p> $\frac{-1}{2y} = -\frac{1}{2} \rightarrow y = 1$ $\rightarrow x + (1)^2 = 1 \rightarrow x = 0$ <p>النقطة المطلوبة هي $(0, 1)$</p>
27	$y^3 = x^2$ $3y^2 \frac{dy}{dx} = 2x \rightarrow \frac{dy}{dx} = \frac{2x}{3y^2}, y \neq 0$ <p>ميل المستقيم $y + 3x - 5 = 0$ هو -3 إذن ميل العمودي عليه يساوي $\frac{1}{3}$</p> $\frac{2x}{3y^2} = \frac{1}{3} \rightarrow 2x = y^2 \rightarrow x = \frac{1}{2}y^2$ $y^3 = x^2 \rightarrow y^3 = \frac{1}{4}y^4 \rightarrow 1 = \frac{1}{4}y \rightarrow y = 4$ $\rightarrow x = \frac{1}{2}(4)^2 \rightarrow x = 8$ <p>النقطة المطلوبة هي $(8, 4)$</p>





28

$$\sqrt{\frac{x}{y}} + \sqrt{\frac{y}{x}} = 10, x \neq 0, y \neq 0$$

$$\frac{y - x \frac{dy}{dx}}{y^2} + \frac{x \frac{dy}{dx} - y}{x^2} = 0 \rightarrow \frac{y - x \frac{dy}{dx}}{2y^2 \sqrt{\frac{x}{y}}} = \frac{y - x \frac{dy}{dx}}{2x^2 \sqrt{\frac{y}{x}}}$$

$$\rightarrow \left(y - x \frac{dy}{dx} \right) \left(x^2 \sqrt{\frac{y}{x}} \right) = \left(y - x \frac{dy}{dx} \right) \left(y^2 \sqrt{\frac{x}{y}} \right)$$

$$x^2 y \sqrt{\frac{y}{x}} - x^3 \sqrt{\frac{y}{x}} \frac{dy}{dx} = y^3 \sqrt{\frac{x}{y}} - x y^2 \sqrt{\frac{x}{y}} \frac{dy}{dx}$$

$$\left(x y^2 \sqrt{\frac{x}{y}} - x^3 \sqrt{\frac{y}{x}} \right) \frac{dy}{dx} = y^3 \sqrt{\frac{x}{y}} - x^2 y \sqrt{\frac{y}{x}}$$

$$\rightarrow \frac{dy}{dx} = \frac{y^3 \sqrt{\frac{x}{y}} - x^2 y \sqrt{\frac{y}{x}}}{x y^2 \sqrt{\frac{x}{y}} - x^3 \sqrt{\frac{y}{x}}} = \frac{y(y^2 \sqrt{\frac{x}{y}} - x^2 \sqrt{\frac{y}{x}})}{x(y^2 \sqrt{\frac{x}{y}} - x^2 \sqrt{\frac{y}{x}})} = \frac{y}{x}$$

يمكن اختصار العامل المشترك من البسط والمقام لأنه لا يساوي صفراً إلا إذا كان $x = y$ وهذا لا يتسق مع العلاقة الأصلية.

29

$$y = x^{\frac{1}{x}}, x > 0$$

$$\ln y = \ln x^{\frac{1}{x}}$$

$$\ln y = \frac{1}{x} \ln x$$

$$\frac{1}{y} \frac{dy}{dx} = \frac{1}{x} \times \frac{1}{x} - \frac{1}{x^2} \ln x$$

$$\frac{dy}{dx} = \frac{y(1 - \ln x)}{x^2}$$

$$\frac{y(1 - \ln x)}{x^2} = 0 \rightarrow \ln x = 1 \rightarrow x = e \rightarrow y = e^{\frac{1}{e}}$$

النقطة المطلوبة هي $(e, e^{\frac{1}{e}})$





$$x^2 + y^2 = 100$$

$$2x + 2y \frac{dy}{dx} = 0$$

$$\frac{dy}{dx} = -\frac{x}{y}$$

$$-\frac{x}{y} = \frac{3}{4} \rightarrow y = -\frac{4}{3}x$$

30

$$x^2 + y^2 = 100 \rightarrow x^2 + \left(-\frac{4}{3}x\right)^2 = 100$$

$$\rightarrow \frac{25}{9}x^2 = 100$$

$$\rightarrow x^2 = 36 \rightarrow x = \pm 6$$

إذا كانت $x = 6$ ، فإن $y = -\frac{4}{3}(6) = -8$

وإذا كانت $x = -6$ ، فإن $y = -\frac{4}{3}(-6) = 8$

إذن، هناك نقطتان تحققان المطلوب هما $(6, -8)$ ، $(-6, 8)$

منهاجي

متعة التعليم الهادف





31	$s(t) = t^{1/t}$ $\ln s(t) = \ln t^{1/t}$ $\ln s(t) = \frac{1}{t} \ln t$ $\frac{v(t)}{s(t)} = \left(\frac{1}{t}\right) \left(\frac{1}{t}\right) + (\ln t) \left(-\frac{1}{t^2}\right) = \frac{1 - \ln t}{t^2} \rightarrow v(t) = s(t) \times \frac{1 - \ln t}{t^2}$ $\rightarrow v(t) = t^{1/t} \times \frac{1 - \ln t}{t^2}$ $\ln v(t) = \ln \left(t^{1/t} \times \frac{1 - \ln t}{t^2} \right)$ $\rightarrow \ln v(t) = \ln t^{1/t} + \ln(1 - \ln t) - \ln t^2$ $\rightarrow \ln v(t) = \frac{1}{t} \ln t + \ln(1 - \ln t) - 2 \ln t$ $\rightarrow \frac{a(t)}{v(t)} = \frac{1 - \ln t}{t^2} + \frac{-\frac{1}{t}}{1 - \ln t} - \frac{2}{t}$ $\rightarrow a(t) = v(t) \left(\frac{1 - \ln t}{t^2} + \frac{-\frac{1}{t}}{1 - \ln t} - \frac{2}{t} \right)$ $= \left(t^{1/t} \times \frac{1 - \ln t}{t^2} \right) \left(\frac{1 - \ln t}{t^2} - \frac{1}{t(1 - \ln t)} - \frac{2}{t} \right)$ $= t^{1/t} \left(\frac{(1 - \ln t)^2}{t^4} - \frac{1}{t^3} - \frac{2(1 - \ln t)}{t^3} \right)$
32	$t^{1/t} \times \frac{1 - \ln t}{t^2} = 0 \rightarrow 1 - \ln t = 0 \rightarrow \ln t = 1 \rightarrow t = e$ $a(t) = e^{1/e} \left(\frac{(1 - \ln e)^2}{e^4} - \frac{1}{e^3} - \frac{2(1 - \ln e)}{e^3} \right) = -e^{-3} \text{ m/s}^2$



33	$y = \ln x, x > 0$ $e^y = x$ <p>بالتحويل إلى الصيغة الأسية ينتج أن: باشتقاق الطرفين ضمناً بالنسبة إلى x ينتج أن:</p> $e^y \frac{dy}{dx} = 1$ $\frac{dy}{dx} = \frac{1}{e^y}$ <p>بتعويض $e^y = x$ ينتج أن:</p> $\frac{dy}{dx} = \frac{1}{x}$
34	$y = (x^2 + 3)^x \rightarrow \ln y = \ln(x^2 + 3)^x$ $\rightarrow \ln y = x \ln(x^2 + 3)$ $\rightarrow \frac{dy}{y} = (x) \left(\frac{6x}{x^2 + 3} \right) + \ln(x^2 + 3)$ $\rightarrow \frac{dy}{dx} = \left(\frac{6x^2}{x^2 + 3} + \ln(x^2 + 3) \right) (x^2 + 3)^x$
35	$y = \frac{(x^4 + 1)(\sqrt{x + 2})}{2x^2 + 2x + 1} \rightarrow \ln y = \ln \frac{(x^4 + 1)(\sqrt{x + 2})}{2x^2 + 2x + 1}$ $\rightarrow \ln y = \ln(x^4 + 1) + \ln(\sqrt{x + 2}) - \ln(2x^2 + 2x + 1)$ $\rightarrow \ln y = \ln(x^4 + 1) + \frac{1}{2} \ln(x + 2) - \ln(2x^2 + 2x + 1)$ $\rightarrow \frac{dy}{y} = \frac{4x^3}{x^4 + 1} + \frac{1}{2x + 4} - \frac{4x + 2}{2x^2 + 2x + 1}$ $\rightarrow \frac{dy}{dx} = \left(\frac{4x^3}{x^4 + 1} + \frac{1}{2x + 4} - \frac{4x + 2}{2x^2 + 2x + 1} \right) \frac{(x^4 + 1)(\sqrt{x + 2})}{2x^2 + 2x + 1}$



36	$y = \sqrt{x^2(x+1)(x+2)} \rightarrow \ln y = \ln \sqrt{x^2(x+1)(x+2)}$ $\rightarrow \ln y = \frac{1}{2} \ln x^2(x+1)(x+2)$ $\rightarrow \ln y = \frac{1}{2} \ln x^2 + \frac{1}{2} \ln(x+1) + \frac{1}{2} \ln(x+2)$ $\rightarrow \ln y = \ln x + \frac{1}{2} \ln(x+1) + \frac{1}{2} \ln(x+2)$ $\rightarrow \frac{dy}{y} = \frac{1}{x} + \frac{1}{2(x+1)} + \frac{1}{2(x+2)}$ $\rightarrow \frac{dy}{dx} = \left(\frac{1}{x} + \frac{1}{2(x+1)} + \frac{1}{2(x+2)} \right) \sqrt{x^2(x+1)(x+2)}$
37	$y = x^{\sin x} \rightarrow \ln y = \ln x^{\sin x}$ $\rightarrow \ln y = (\sin x) \ln x$ $\rightarrow \frac{dy}{y} = (\sin x) \left(\frac{1}{x} \right) + (\ln x)(\cos x)$ $\rightarrow \frac{dy}{dx} = \left(\frac{\sin x}{x} + (\ln x)(\cos x) \right) x^{\sin x}$
38	$\frac{dy}{dx} = \frac{\frac{dy}{dt}}{\frac{dx}{dt}} = \frac{-\sin t}{\cos t} = -\tan t$ $\frac{d^2y}{dx^2} = \frac{\frac{d}{dt} \left(\frac{dy}{dx} \right)}{\frac{dx}{dt}} = \frac{-\sec^2 t}{\cos t} = -\sec^3 t$ $\left. \frac{d^2y}{dx^2} \right _{t=\frac{\pi}{4}} = -\sec^3 \frac{\pi}{4} = -2\sqrt{2}$





39	$\frac{dy}{dx} = \frac{\frac{dy}{dt}}{\frac{dx}{dt}} = \frac{3t^2 + 1}{-e^{-t}} = e^t(-3t^2 - 1)$ $\frac{d^2y}{dx^2} = \frac{\frac{d}{dt}\left(\frac{dy}{dx}\right)}{\frac{dx}{dt}} = \frac{(e^t)(-6t) + (-3t^2 - 1)(e^t)}{-e^{-t}} = e^{2t}(1 + 6t + 3t^2)$ $\left.\frac{d^2y}{dx^2}\right _{t=0} = e^0(1) = 1$
40	$x^3 + y^3 = 6xy$ $y = x \rightarrow x^3 + x^3 = 6x^2$ $\rightarrow x^3 = 3x^2$ $\rightarrow x^2(x - 3) = 0$ $\rightarrow x = 0 \text{ or } x = 3$ <p>نقطة التقاطع في الربع الأول هي (3, 3)</p> $3x^2 + 3y^2 \frac{dy}{dx} = 6x \frac{dy}{dx} + 6y \rightarrow \frac{dy}{dx} = \frac{2y - x^2}{y^2 - 2x}$ $\left.\frac{dy}{dx}\right _{(3,3)} = \frac{6-9}{9-6} = -1$ <p>ميل المماس هو:</p> $y - 3 = -(x - 3) \rightarrow y = -x + 6$ <p>معادلة المماس هي:</p>



41

بما أن المماس أفقي، فإن $\frac{dy}{dx} = 0$

$$\frac{2y - x^2}{y^2 - 2x} = 0 \rightarrow 2y - x^2 = 0 \rightarrow y = \frac{1}{2}x^2$$

$$x^3 + y^3 = 6xy \rightarrow x^3 + \frac{1}{8}x^6 = 3x^3$$

$$\rightarrow \frac{1}{8}x^6 - 2x^3 = 0$$

$$\rightarrow x^6 - 16x^3 = 0$$

$$\rightarrow x^3(x^3 - 16) = 0 \rightarrow x = 0, x = \sqrt[3]{16}$$

$$\rightarrow y = 0, y = \frac{1}{2}\sqrt[3]{(16)^2}$$

النقطة المطلوبة في الربع الأول هي: $(\sqrt[3]{16}, \frac{1}{2}\sqrt[3]{(16)^2})$

42

$$x^2 + y^2 = 1 \rightarrow 2x + 2y \frac{dy}{dx} = 0 \rightarrow \frac{dy}{dx} = -\frac{x}{y}$$

لتكن نقطة تماس الشعاع مع منحنى الدائرة:

$$m = \frac{0 - y}{1.25 - x} = -\frac{x}{y} \rightarrow y^2 = 1.25x - x^2$$

$$x^2 + y^2 = 1 \rightarrow x^2 + 1.25x - x^2 = 1$$

$$\rightarrow x = \frac{4}{5}$$

$$\rightarrow y = \sqrt{1 - \left(\frac{4}{5}\right)^2} = \frac{3}{5}$$

فتكون النقطة $P\left(\frac{4}{5}, \frac{3}{5}\right)$
ميل المماس عند النقطة P :

$$\left. \frac{dy}{dx} \right|_{\left(\frac{4}{5}, \frac{3}{5}\right)} = -\frac{\frac{4}{5}}{\frac{3}{5}} = -\frac{4}{3}$$

$$m = \frac{h - 0}{-2 - \frac{5}{4}} = -\frac{4}{3} \rightarrow h = \frac{13}{3}$$

ارتفاع المصباح يساوي $\frac{13}{3}$ وحدة



43	$x^2 - y^2 = 1 \rightarrow 2x - 2y \frac{dy}{dx} = 0$ $\rightarrow \frac{dy}{dx} = \frac{x}{y}$
44	$\frac{dy}{dx} = \frac{dy}{dt} \cdot \frac{dt}{dx} = \frac{\sec^2 t}{\sec t \tan t} = \frac{\sec t}{\tan t}$
45	$\frac{dy}{dx} = \frac{\sec t}{\tan t} = \frac{x}{y}$ <p>المقداران الجبريان اللذان يمثلان $\frac{dy}{dx}$ متكافئان، لأنه من نص السؤال: $\frac{\sec t}{\tan t} = \frac{x}{y}$ ومنه فإن $y = \tan t$ و $x = \sec t$</p>
46	$\frac{dy}{dx} = 2 \rightarrow \frac{x}{y} = 2 \rightarrow x = 2y$ $x^2 - y^2 = 1 \rightarrow (2y)^2 - y^2 = 1$ $\rightarrow y^2 = \frac{1}{3}$ $\rightarrow y = \pm \frac{1}{\sqrt{3}}$ $\rightarrow y = \frac{1}{\sqrt{3}} \rightarrow x = \frac{2}{\sqrt{3}}, y = -\frac{1}{\sqrt{3}} \rightarrow x = -\frac{2}{\sqrt{3}}$ <p>النقاط التي يكون عندها ميل المماس 2 هي: $(-\frac{2}{\sqrt{3}}, -\frac{1}{\sqrt{3}}), (\frac{2}{\sqrt{3}}, \frac{1}{\sqrt{3}})$</p>



$$\sqrt{x} + \sqrt{y} = \sqrt{k}$$

$$\frac{1}{2\sqrt{x}} + \frac{dy}{2\sqrt{y}} = 0 \rightarrow \frac{dy}{dx} = -\frac{\sqrt{y}}{\sqrt{x}}$$

نفرض نقطة التماس هي (x_1, y_1) فيكون ميل المماس:

$$\left. \frac{dy}{dx} \right|_{(x_1, y_1)} = -\frac{\sqrt{y_1}}{\sqrt{x_1}}$$

معادلة المماس:

$$y - y_1 = -\frac{\sqrt{y_1}}{\sqrt{x_1}}(x - x_1)$$

المقطع x والمقطع y للمماس:

$$x = 0 \rightarrow y - y_1 = -\frac{\sqrt{y_1}}{\sqrt{x_1}}(-x_1) \rightarrow y = y_1 + \sqrt{y_1}\sqrt{x_1}$$

$$y = 0 \rightarrow y_1 = \frac{\sqrt{y_1}}{\sqrt{x_1}}(x - x_1) \rightarrow x = x_1 + \sqrt{y_1}\sqrt{x_1}$$

مجموع المقطعين:

$$\begin{aligned} y_1 + \sqrt{y_1}\sqrt{x_1} + x_1 + \sqrt{y_1}\sqrt{x_1} &= y_1 + 2\sqrt{y_1}\sqrt{x_1} + x_1 \\ &= (\sqrt{y_1} + \sqrt{x_1})^2 \\ &= (\sqrt{k})^2 = k \end{aligned}$$

47





$$y = x^{\sqrt{x}}$$

$$\ln y = \ln x^{\sqrt{x}}$$

$$\ln y = \sqrt{x} \ln x$$

$$\frac{dy}{dx} = (\sqrt{x}) \left(\frac{1}{x} \right) + (\ln x) \left(\frac{1}{2\sqrt{x}} \right)$$

$$\rightarrow \frac{dy}{dx} = y \left(\frac{\sqrt{x}}{x} + \frac{\ln x}{2\sqrt{x}} \right)$$

$$\rightarrow \frac{dy}{dx} = x^{\sqrt{x}} \left(\frac{1}{\sqrt{x}} + \frac{\ln x}{2\sqrt{x}} \right)$$

$$= \frac{2 + \ln x}{2\sqrt{x}} (x^{\sqrt{x}})$$

48

$$\left. \frac{dy}{dx} \right|_{(4,16)} = \frac{2 + \ln 4}{2\sqrt{4}} (16) = 8 + 4 \ln 4$$

$$y - 16 = (8 + 4 \ln 4)(x - 4)$$

المقطع x والمقطع y للمماس:

$$x = 0 \rightarrow y - 16 = (8 + 4 \ln 4)(-4) \rightarrow y = -16 - 16 \ln 4$$

$$y = 0 \rightarrow -16 = (8 + 4 \ln 4)(x - 4) \rightarrow x = \frac{4 + 4 \ln 4}{2 + \ln 4}$$

مساحة المثلث OBC بوحدة المساحة هي:

$$A = \frac{1}{2} \times \frac{4 + 4 \ln 4}{2 + \ln 4} \times |-16 - 16 \ln 4| = \frac{32(1 + \ln 4)^2}{2 + \ln 4}$$

ميل المماس:

معادلة المماس:

منهاجي

متعة التعليم الهادف





اختبار نهاية الوحدة صفحة 72

1	c
2	b
3	d
4	d
5	c
6	a
7	d
8	$f(x) = e^x(x + x\sqrt{x})$ $f'(x) = (e^x) \left(1 + (x) \left(\frac{1}{2\sqrt{x}} \right) + (\sqrt{x})(1) \right) + (x + x\sqrt{x})(e^x)$ $= e^x \left(1 + \frac{3}{2}\sqrt{x} + x + x\sqrt{x} \right)$
9	$f(x) = \frac{x}{\tan x}$ $f'(x) = \frac{(\tan x)(1) - (x)(\sec^2 x)}{\tan^2 x} = \frac{\tan x - x \sec^2 x}{\tan^2 x}$
10	$f(x) = \frac{1}{x} - 12 \sec x$ $f'(x) = \frac{-1}{x^2} - 12 \sec x \tan x$
11	$f(x) = \frac{e^x}{\ln x}$ $f'(x) = \frac{(\ln x)(e^x) - (e^x) \left(\frac{1}{x} \right)}{\ln^2 x} = \frac{e^x(x \ln x - 1)}{x \ln^2 x}$
12	$f(x) = \frac{\ln x}{x^4}$ $f'(x) = \frac{(x^4) \left(\frac{1}{x} \right) - (\ln x)(4x^3)}{x^8} = \frac{1 - 4 \ln x}{x^5}$





13	$f(x) = 5^{2-x}$ $\ln f(x) = \ln 5^{2-x}$ $\ln f(x) = (2-x) \ln 5$ $\frac{f'(x)}{f(x)} = -\ln 5$ $f'(x) = -(\ln 5)f(x) = -(\ln 5)(5^{2-x})$
14	$f(x) = 10 \sin 0.5x$ $f'(x) = 5 \cos 0.5x$
15	$f(x) = \left(\frac{1}{x} + \frac{1}{x^2}\right)^3 \left(x + \frac{1}{x}\right)^2$ $f'(x) = \left(\frac{1}{x} + \frac{1}{x^2}\right)^3 \left(2\left(x + \frac{1}{x}\right)\left(1 - \frac{1}{x^2}\right)\right) + \left(x + \frac{1}{x}\right)^2 \left(3\left(\frac{1}{x} + \frac{1}{x^2}\right)^2 \left(-\frac{1}{x^2} - \frac{2}{x^3}\right)\right)$ $= \left(\frac{1}{x} + \frac{1}{x^2}\right)^2 \left(x + \frac{1}{x}\right) \left(2\left(\frac{1}{x} + \frac{1}{x^2}\right)\left(1 - \frac{1}{x^2}\right) + 3\left(x + \frac{1}{x}\right)\left(-\frac{1}{x^2} - \frac{2}{x^3}\right)\right)$ $= \left(\frac{1}{x} + \frac{1}{x^2}\right)^2 \left(x + \frac{1}{x}\right) \left(\frac{2}{x} - \frac{2}{x^3} + \frac{2}{x^2} - \frac{2}{x^4} - \frac{3}{x} - \frac{6}{x^2} - \frac{3}{x^3} - \frac{6}{x^4}\right)$ $= -\left(\frac{1}{x} + \frac{1}{x^2}\right)^2 \left(x + \frac{1}{x}\right) \left(\frac{8 + 5x + 4x^2 + x^3}{x^4}\right)$
16	$f(x) = e^{-1.5x} \cos x^2$ $f'(x) = (e^{-1.5x})(-2x \sin x^2) + (\cos x^2)(-1.5e^{-1.5x})$ $= -e^{-1.5x}(2x \sin x^2 + \cos x^2)$
17	$(fg)'(2) = f(2)g'(2) + g(2)f'(2)$ $= 3 \times 2 + 1 \times -4 = 2$
18	$\left(\frac{f}{g}\right)'(2) = \frac{g(2)f'(2) - f(2)g'(2)}{g^2(2)} = \frac{1 \times -4 - 3 \times 2}{(1)^2} = -10$
19	$(3f - 4fg)'(2) = 3f'(2) - 4(fg)'(2) = 3(-4) - 4(2) = -20$
20	$f(x) = x^7 \ln x$ $f'(x) = (x^7)\left(\frac{1}{x}\right) + (\ln x)(7x^6) = x^6 + 7x^6 \ln x$ $f''(x) = 6x^5 + (7x^6)\left(\frac{1}{x}\right) + (\ln x)(42x^5) = 13x^5 + 42x^5 \ln x$



21	$f(x) = \frac{\cos x}{x}$ $f'(x) = \frac{(x)(-\sin x) - (\cos x)(1)}{x^2} = \frac{-\sin x}{x} - \frac{\cos x}{x^2}$ $f''(x) = \frac{x \cos x - \sin x}{x^2} - \frac{-x^2 \sin x - 2x \cos x}{x^4}$ $= \frac{-x^3 \cos x + 2x^2 \sin x + 2x \cos x}{x^4}$ $= \frac{-x^2 \cos x + 2x \sin x + 2 \cos x}{x^3}$
22	$f(x) = \frac{x}{1 + \sqrt{x}}$ $f'(x) = \frac{(1 + \sqrt{x})(1) - (x)\left(\frac{1}{2\sqrt{x}}\right)}{(1 + \sqrt{x})^2} = \frac{1 + \frac{1}{2}\sqrt{x}}{(1 + \sqrt{x})^2}$ $f''(x) = \frac{(1 + \sqrt{x})^2\left(\frac{1}{4\sqrt{x}}\right) - \left(1 + \frac{1}{2}\sqrt{x}\right)\left(\frac{1}{\sqrt{x}}(1 + \sqrt{x})\right)}{(1 + \sqrt{x})^4}$ $= \frac{-3 - \sqrt{x}}{4\sqrt{x}(1 + \sqrt{x})^3}$
23	$f(x) = \frac{1 - x^2}{1 + x^2}$ $f'(x) = \frac{(1 + x^2)(-2x) - (1 - x^2)(2x)}{(1 + x^2)^2} = \frac{-4x}{(1 + x^2)^2}$ $f''(x) = \frac{(1 + x^2)^2(-4) - (-4x)(2 \times 2x(1 + x^2))}{(1 + x^2)^4}$ $= \frac{12x^2 - 4}{(1 + x^2)^3}$





24

$$f(x) = \frac{x^2}{1+x}$$

$$f(1) = \frac{1}{1+1} = \frac{1}{2} \rightarrow \left(1, \frac{1}{2}\right)$$

$$f'(x) = \frac{(1+x)(2x) - (x^2)(1)}{(1+x)^2} = \frac{x^2 + 2x}{(1+x)^2}$$

$$f'(1) = \frac{3}{4}$$

$$y - \frac{1}{2} = \frac{3}{4}(x - 1) \rightarrow y = \frac{3}{4}x - \frac{1}{4}$$

نقطة التماس:

ميل المماس:

معادلة المماس:

25

$$f(x) = \frac{x^2}{\cos x}$$

$$f\left(\frac{\pi}{4}\right) = \frac{\left(\frac{\pi}{4}\right)^2}{\cos\left(\frac{\pi}{4}\right)} = \frac{\frac{\pi^2}{16}}{\frac{1}{\sqrt{2}}} = \frac{\pi^2\sqrt{2}}{16} \rightarrow \left(\frac{\pi}{4}, \frac{\pi^2\sqrt{2}}{16}\right)$$

$$f'(x) = \frac{(\cos x)(2x) - (x^2)(-\sin x)}{(\cos x)^2}$$

$$f'\left(\frac{\pi}{4}\right) = \frac{\left(\frac{1}{\sqrt{2}}\right)\left(\frac{\pi}{2}\right) - \left(\frac{\pi^2}{16}\right)\left(-\frac{1}{\sqrt{2}}\right)}{\frac{1}{2}} = \frac{8\pi + \pi^2}{8\sqrt{2}}$$

$$y - \frac{\pi^2\sqrt{2}}{16} = \frac{8\pi + \pi^2}{8\sqrt{2}}\left(x - \frac{\pi}{4}\right)$$

نقطة التماس:

ميل المماس:

معادلة المماس:

منهجي

منعة التعليم الهادف





26	$f(x) = \ln(x + 5)$ <p>نقطة التماس:</p> $f(0) = \ln(0 + 5) = \ln(5) \rightarrow (0, \ln 5)$ <p>ميل المماس:</p> $f'(x) = \frac{1}{x + 5}$ $f'(0) = \frac{1}{5}$ <p>معادلة المماس:</p> $y - \ln 5 = \frac{1}{5}(x - 0) \rightarrow y = \frac{1}{5}x + \ln 5$
27	$f(x) = \sin x + \sin 3x$ <p>نقطة التماس:</p> $f\left(\frac{\pi}{4}\right) = \sin \frac{\pi}{4} + \sin \frac{3\pi}{4} = \frac{1}{\sqrt{2}} + \frac{1}{\sqrt{2}} = \sqrt{2} \rightarrow \left(\frac{\pi}{4}, \sqrt{2}\right)$ <p>ميل المماس:</p> $f'(x) = \cos x + 3 \cos 3x$ $f'\left(\frac{\pi}{4}\right) = \cos \frac{\pi}{4} + 3 \cos \frac{3\pi}{4} = \frac{1}{\sqrt{2}} - \frac{3}{\sqrt{2}} = -\sqrt{2}$ <p>معادلة المماس:</p> $y - \sqrt{2} = -\sqrt{2}\left(x - \frac{\pi}{4}\right) \rightarrow y = -\sqrt{2}x + \sqrt{2}\left(\frac{\pi}{4} + 1\right)$
28	$\frac{dy}{dx} = \frac{\frac{dy}{dt}}{\frac{dx}{dt}} = \frac{1}{2t}$ <p>ميل المماس:</p> $m = \left.\frac{dy}{dx}\right _{t=4} = \frac{1}{8}$ <p>نقطة التماس:</p> $x = (4)^2 = 16, y = 4 + 2 = 6 \rightarrow (16, 6)$ <p>معادلة المماس:</p> $y - 6 = \frac{1}{8}(x - 16) \rightarrow y = \frac{1}{8}x + 4$



<p>29</p>	$\frac{dy}{dx} = \frac{\frac{dy}{dt}}{\frac{dx}{dt}} = \frac{3 \cos t}{-4 \sin t} = -\frac{3}{4} \cot t$ $m = \left. \frac{dy}{dx} \right _{t=\frac{\pi}{4}} = -\frac{3}{4} \cot \frac{\pi}{4} = -\frac{3}{4}$ <p>ميل المماس:</p> $x = 4 \cos \frac{\pi}{4} = 2\sqrt{2}, \quad y = 3 \sin \frac{\pi}{4} = \frac{3\sqrt{2}}{2} \rightarrow \left(2\sqrt{2}, \frac{3\sqrt{2}}{2} \right)$ <p>معادلة المماس:</p> $y - \frac{3\sqrt{2}}{2} = -\frac{3}{4}(x - 2\sqrt{2}) \rightarrow y = -\frac{3}{4}x + 3\sqrt{2}$ <p>نقطة التماس:</p>
<p>30</p>	$y = x \ln x$ <p>ميل المماس:</p> $f'(x) = (x) \left(\frac{1}{x} \right) + (\ln x)(1) = 1 + \ln x$ $f'(1) = 1 + \ln 1 = 1$ <p>معادلة المماس:</p> $y - 0 = 1(x - 1) \rightarrow y = x - 1$
<p>31</p>	$f'(x) = 2 \rightarrow 1 + \ln x = 2$ $\rightarrow \ln x = 1$ $\rightarrow x = e \rightarrow y = e \ln e = e$ <p>النقطة المطلوبة هي (e, e)</p>
<p>32</p>	$x(x + y) = 2y^2 \rightarrow x^2 + xy = 2y^2$ $\rightarrow 2x + x \frac{dy}{dx} + y = 4y \frac{dy}{dx}$ $\rightarrow \frac{dy}{dx} = \frac{2x + y}{4y - x}$





33	$x = \frac{2y}{x^2 - y} \rightarrow x^3 - xy = 2y$ $\rightarrow 3x^2 - x \frac{dy}{dx} - y = 2 \frac{dy}{dx}$ $\rightarrow \frac{dy}{dx} = \frac{3x^2 - y}{x + 2}$
34	$y \cos x = x^2 + y^2 \rightarrow -y \sin x + \frac{dy}{dx} \cos x = 2x + 2y \frac{dy}{dx}$ $\rightarrow \frac{dy}{dx} = \frac{2x + y \sin x}{-2y + \cos x}$
35	$2xe^y + ye^x = 3 \rightarrow 2xe^y \frac{dy}{dx} + 2e^y + ye^x + e^x \frac{dy}{dx} = 0$ $\rightarrow \frac{dy}{dx} = -\frac{2e^y + ye^x}{2xe^y + e^x}$
36	$y^2 = \frac{x^3}{2-x}$ $2y \frac{dy}{dx} = \frac{(2-x)(3x^2) - (x^3)(-1)}{(2-x)^2}$ $2(-1) \frac{dy}{dx} = \frac{(2-1)(3) - (1)(-1)}{(2-1)^2} \rightarrow \frac{dy}{dx} = -2$ <p>ميل المماس:</p> $m = -2$ <p>ميل العمودي على المماس:</p> $m = \frac{-1}{-2} = \frac{1}{2}$ <p>معادلة العمودي على المماس:</p> $y + 1 = \frac{1}{2}(x - 1) \rightarrow y = \frac{1}{2}x - \frac{3}{2}$





37

$$\begin{aligned}y &= \frac{(x+1)(x-2)}{(x-1)(x+2)} \\ \ln y &= \ln \frac{(x+1)(x-2)}{(x-1)(x+2)} \\ &= \ln(x+1) + \ln(x-2) - \ln(x-1) - \ln(x+2) \\ \frac{dy}{dx} &= \frac{1}{x+1} + \frac{1}{x-2} - \frac{1}{x-1} - \frac{1}{x+2} \\ \frac{dy}{dx} &= \left(\frac{1}{x+1} + \frac{1}{x-2} - \frac{1}{x-1} - \frac{1}{x+2} \right) y \\ &= \left(\frac{1}{x+1} + \frac{1}{x-2} - \frac{1}{x-1} - \frac{1}{x+2} \right) \frac{(x+1)(x-2)}{(x-1)(x+2)} \\ &= \left(\frac{-2}{x^2-1} + \frac{4}{x^2-4} \right) \frac{(x+1)(x-2)}{(x-1)(x+2)} \\ &= \left(\frac{2x^2+4}{(x^2-1)(x^2-4)} \right) \frac{(x+1)(x-2)}{(x-1)(x+2)} \\ &= \frac{2x^2+4}{(x-1)^2(x+2)^2}\end{aligned}$$


38

$$\begin{aligned}y &= x^{\ln x} \\ \ln y &= \ln x^{\ln x} \\ &= (\ln x)(\ln x) = (\ln x)^2 \\ \frac{dy}{dx} &= 2(\ln x) \times \frac{1}{x} \\ \frac{dy}{dx} &= \left(\frac{2 \ln x}{x} \right) y \\ &= \left(\frac{2 \ln x}{x} \right) x^{\ln x}\end{aligned}$$





39	$x^2 + 3xy + y^2 = x + 3y$ $2x + 3x \frac{dy}{dx} + 3y + 2y \frac{dy}{dx} = 1 + 3 \frac{dy}{dx}$ $4 + 6 \frac{dy}{dx} - 3 - 2 \frac{dy}{dx} = 1 + 3 \frac{dy}{dx}$ $\frac{dy}{dx} \Big _{(2,-1)} = 0$ $y + 1 = 0(x - 2) \rightarrow y = -1$	ميل المماس عند $(2, -1)$: معادلة المماس:
40	$x^2 e^y = 1$ $x^2 e^y \frac{dy}{dx} + 2x e^y = 0$ $\frac{dy}{dx} + 2 = 0 \rightarrow \frac{dy}{dx} \Big _{(1,0)} = -2$ $y - 0 = -2(x - 1) \rightarrow y = -2x + 2$	ميل المماس: معادلة المماس:
41	$p'(1) = f(1)g'(1) + g(1)f'(1) = 2 \times 1 + 3 \times -2 = -4$	
42	$p'(4) = f(4)g'(4) + g(4)f'(4) = 1 \times 0 + 8 \times 0.5 = 4$	
43	$q'(7) = \frac{g(7)f'(7) - f(7)g'(7)}{(g(7))^2} = \frac{4 \times 2 - 4 \times -1}{(4)^2} = \frac{3}{4}$	
44	$R(t) = 200(0.9)^t$ $\frac{dR}{dt} = 200(0.9)^t \ln 0.9$ $\frac{dR}{dt} \Big _{t=2} = 200(0.9)^2 \ln 0.9 \approx -17.1 \text{ g/day}$	
45	$s(t) = 10 + \frac{1}{4} \sin(10\pi t)$ $v(t) = \frac{5\pi}{2} \cos(10\pi t)$ $a(t) = -25\pi^2 \sin(10\pi t)$	





إجابات كتاب الطالب - مادة الرياضيات - الصف الثاني الثانوي العلمي ف1

الوحدة الثانية: تطبيقات التفاضل

الدرس الأول: المعدلات المرتبطة

مسألة اليوم صفحة 76

$$S = \frac{\sqrt{hw}}{60} = \frac{\sqrt{170w}}{60} = \frac{\sqrt{170}}{60} \sqrt{w}$$

$$\frac{dw}{dt} = -2 \text{ kg/month}$$

معدل التغير المعطى:

$$\left. \frac{dS}{dt} \right|_{w=70}$$

معدل التغير المطلوب:

$$S = \frac{\sqrt{170w}}{60}$$

العلاقة بين الكتلة ومساحة سطح الجسم:

$$\frac{dS}{dt} = \frac{\sqrt{170}}{120\sqrt{w}} \frac{dw}{dt}$$

$$\left. \frac{dS}{dt} \right|_{w=70} = \frac{\sqrt{170}}{120\sqrt{70}} \times -2$$

$$= -0.03 \text{ cm}^2/\text{month}$$

أتحقق من فهمي صفحة 78

منهاجي

متعة التعليم الهادف





ليكن حجم الكرة V وطول نصف قطرها r

معدل التغير المعطى:

$$\frac{dV}{dt} = 80 \text{ cm}^3/\text{s}$$

معدل التغير المطلوب:

$$\left. \frac{dr}{dt} \right|_{r=6}$$

حجم البالون الكروي:

$$V = \frac{4}{3} \pi r^3$$

$$\frac{dV}{dt} = 4\pi r^2 \frac{dr}{dt}$$

$$\left. \frac{dV}{dt} \right|_{r=6} = 4\pi(6)^2 \left. \frac{dr}{dt} \right|_{r=6}$$

$$80 = 144\pi \left. \frac{dr}{dt} \right|_{r=6}$$

$$\left. \frac{dr}{dt} \right|_{r=6} = \frac{80}{144\pi}$$

$$= \frac{5}{9\pi} \text{ cm/s}$$

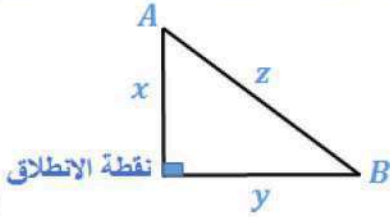
أتحقق من فهمي صفحة 80

منهاجي
متعة التعليم الهادف





ليكن بعد A عن نقطة الانطلاق يساوي x ، و بعد B عن نقطة الانطلاق يساوي y ، والبعد بين A ، و B يساوي z



$$\frac{dx}{dt} = 45 \text{ km/h} , \quad \frac{dy}{dt} = 40 \text{ km/h}$$

$$\left. \frac{dz}{dt} \right|_{t=2}$$

معدلات التغير المعطاة:

معدل التغير المطلوب:

بعد ساعتين من الحركة يكون:

$$x = 45 \times 2 = 90 \text{ km} , \quad y = 40 \times 2 = 80 \text{ km}$$

$$z^2 = x^2 + y^2$$

من نظرية فيثاغورس:

$$z = \sqrt{x^2 + y^2}$$

$$\frac{dz}{dt} = \frac{x \frac{dx}{dt} + y \frac{dy}{dt}}{\sqrt{x^2 + y^2}}$$

$$\left. \frac{dz}{dt} \right|_{t=2} = \frac{x \frac{dx}{dt} + y \frac{dy}{dt}}{\sqrt{x^2 + y^2}}$$

$$= \frac{90 \times 45 + 80 \times 40}{\sqrt{90^2 + 80^2}}$$

$$= \frac{\sqrt{8100 + 6400}}{7250} = \frac{725}{7250}$$

$$= \frac{10\sqrt{145}}{\sqrt{145}} \approx 60.21 \text{ km/h}$$

الحل بطريقة ثانية:

بعد t ساعة من الحركة يكون:

$$x = 45t \text{ km} , \quad y = 40t \text{ km}$$

$$z^2 = x^2 + y^2$$

من نظرية فيثاغورس:

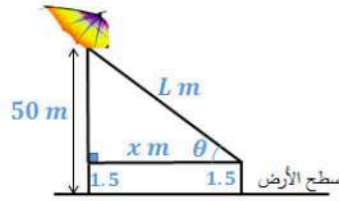
$$z = \sqrt{(45t)^2 + (40t)^2} = \sqrt{3625} t$$

$$\frac{dz}{dt} = \sqrt{3625} \approx 60.21$$

$$\left. \frac{dz}{dt} \right|_{t=2} \approx 60.21 \text{ km/h}$$

أتحقق من فهمي صفحة 82





ليكن طول الخيط L وقياس الزاوية بين الخيط والأفقي θ ، و بعد الطائرة أفقياً هو x .

$$\frac{dx}{dt} = 2 \text{ m/s}$$

$$\left. \frac{d\theta}{dt} \right|_{L=100}$$

$$\tan \theta = \frac{50 - 1.5}{x} = \frac{48.5}{x}$$

$$\sec^2 \theta \frac{d\theta}{dt} = - \frac{48.5}{x^2} \frac{dx}{dt}$$

$$\frac{L^2}{x^2} \times \frac{d\theta}{dt} = - \frac{48.5}{x^2} \frac{dx}{dt}$$

$$\frac{d\theta}{dt} = - \frac{48.5 \left(\frac{dx}{dt} \right)}{x^2} \times \frac{x^2}{L^2} = \frac{48.5 \left(\frac{dx}{dt} \right)}{L^2}$$

$$\left. \frac{d\theta}{dt} \right|_{L=100} = - \frac{48.5(2)}{(100)^2} \approx -0.0097 \text{ rad/s}$$

المعطى:

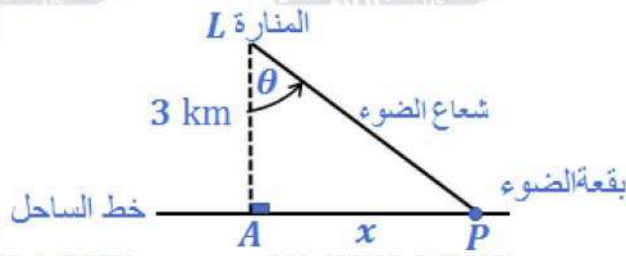
المطلوب:

أتحقق من فهمي صفحة 84

منهاجي

متعة التعليم الهادف





تكن الأبعاد والقياسات كما في الشكل أعلاه

$$\omega = \frac{d\theta}{dt} = 4(2\pi) = 8\pi \text{ rad/min}$$

المعطى:

$$\left. \frac{dx}{dt} \right|_{x=1}$$

المطلوب:

$$\tan \theta = \frac{x}{3}$$

$$\sec^2 \theta \frac{d\theta}{dt} = \frac{1}{3} \frac{dx}{dt}$$

$$\frac{x^2 + 9}{3} \times \frac{d\theta}{dt} = \frac{1}{3} \frac{dx}{dt}$$

$$\frac{dx}{dt} = (x^2 + 9) \frac{d\theta}{dt}$$

$$\left. \frac{dx}{dt} \right|_{x=1} = (1 + 9) (8\pi) = 80\pi \text{ km/min}$$

سرعة بقعة الضوء على الساحل $80\pi \text{ km/min}$ عندما تبعد 1 km عن A.

أتحقق من فهمي صفحة 86

a يصل الطرف العلوي للذراع إلى أعلى نقطة عندما يكون وضع الذراع رأسياً، وتكون النقطة المطلوبة هي (0,1)

منهاجي

متعة التعليم الهادف





b المعطى:

$$x(t) = \frac{1}{2} \sin \frac{\pi t}{6}$$

$$\left. \frac{dy}{dt} \right|_{x=\frac{1}{4}}$$

المطلوب:

عندما $x = \frac{1}{4}$ ، فإن:

$$\frac{1}{2} \sin \frac{\pi t}{6} = \frac{1}{4}$$

$$\sin \frac{\pi t}{6} = \frac{1}{2}$$

$$\rightarrow \frac{\pi t}{6} = \frac{\pi}{6} \rightarrow t = 1$$

$$x(t) = \frac{1}{2} \sin \frac{\pi t}{6}$$

العلاقة المعطاة:

$$\frac{dx}{dt} = \frac{\pi}{12} \cos \frac{\pi t}{6}$$

$$\left. \frac{dx}{dt} \right|_{x=\frac{1}{4}} = \left. \frac{dx}{dt} \right|_{t=1} = \frac{\pi}{12} \cos \frac{\pi}{6} = \frac{\sqrt{3}\pi}{24}$$

$$x^2 + y^2 = 1$$

من نظرية فيثاغورس:

$$2x \frac{dx}{dt} + 2y \frac{dy}{dt} = 0$$

$$2x \frac{dx}{dt} + 2\sqrt{1-x^2} \frac{dy}{dt} = 0$$

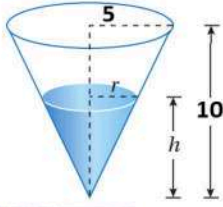
$$\frac{dy}{dt} = -\frac{x \frac{dx}{dt}}{\sqrt{1-x^2}}$$

$$\left. \frac{dy}{dt} \right|_{x=\frac{1}{4}} = -\frac{\left(\frac{1}{4}\right) \left(\frac{\sqrt{3}\pi}{24}\right)}{\sqrt{1-\frac{1}{16}}}$$

$$= -\frac{\sqrt{3}\pi}{96} \times \frac{4}{\sqrt{15}} = -\frac{\pi}{24\sqrt{5}} \text{ m/s}$$

إذن، يتحرك طرف الذراع الواقع على المحور y للأسفل بمعدل $\frac{\pi}{24\sqrt{5}}$ m/s عندما $x = \frac{1}{4}$.

أتحقق من فهمي صفحة 88



ليكن حجم الماء في الخزان V ونصف قطر قاعدته r وارتفاعه h

$$\frac{dV}{dt} = \pi \text{ m}^3/\text{min}$$

المعطى:

$$\left. \frac{dh}{dt} \right|_{h=8}$$

المطلوب:

$$\frac{r}{h} = \frac{5}{10} \rightarrow r = \frac{1}{2}h$$

من التشابه:

$$V = \frac{1}{3}\pi r^2 h = \frac{1}{3}\pi \left(\frac{1}{2}h\right)^2 h$$

$$V = \frac{\pi}{12}h^3$$

$$\frac{dV}{dt} = \frac{\pi}{4}h^2 \frac{dh}{dt}$$

$$\pi = \frac{\pi}{4}(8)^2 \frac{dh}{dt}$$

$$\left. \frac{dh}{dt} \right|_{h=8} = \frac{1}{16} \text{ m/min}$$

إذن، يزداد ارتفاع الماء في الخزان بمعدل $\frac{1}{16}$ m/min عندما يكون ارتفاعه 8 m

أتدرب وأحل المسائل صفحة 88

ليكن طول المستطيل x وعرضه y ومساحته A ومحيطه C وطول قطره R

$$\frac{dy}{dt} = -3 \text{ cm/s}, \quad \frac{dx}{dt} = 2 \text{ cm/s}$$

المعطى:

المطلوب:

1

$$A = xy \rightarrow \left. \frac{dA}{dt} \right|_{x=20, y=50} = x \frac{dy}{dt} + y \frac{dx}{dt}$$

$$\rightarrow \left. \frac{dA}{dt} \right|_{x=20, y=50} = 20(-3) + 50(2) = 40 \text{ cm}^2/\text{s}$$

2

$$C = 2x + 2y \rightarrow \frac{dC}{dt} = 2 \frac{dx}{dt} + 2 \frac{dy}{dt}$$

$$\rightarrow \left. \frac{dC}{dt} \right|_{x=20, y=50} = 2(2) + 2(-3) = -2 \text{ cm/s}$$



3	$R^2 = x^2 + y^2$ $2R \frac{dR}{dt} = 2x \frac{dx}{dt} + 2y \frac{dy}{dt}$ $\sqrt{(20)^2 + (50)^2} \frac{dR}{dt} \Big _{x=20, y=50} = 20(2) + 50(-3)$ $\frac{dR}{dt} \Big _{x=20, y=50} = -\frac{110}{10\sqrt{29}} = -\frac{11}{\sqrt{29}} \text{ cm/s}$
4	<p>في اللحظة المذكورة تكون المساحة متزايدة (لأن معدل تغيرها موجب)، بينما يتناقص كل من المحيط وطول القطر (لأن معدل تغير كل منهما سالب).</p>
5	<p>ليكن حجم المكعب V وطول ضلعه (حرفه) x المعطى:</p> <p>المطلوب:</p> <p>بعد مرور t ثانية يصبح طول ضلع المكعب: ويكون حجمه:</p> $\frac{dx}{dt} = 6 \text{ cm/s}$ $\frac{dV}{dt} \Big _{t=4}$ $x = 10 + 6t$ $V = x^3 = (10 + 6t)^3$ $\frac{dV}{dt} = 3(10 + 6t)^2 \times 6$ $\frac{dV}{dt} \Big _{t=4} = 3(34)^2(6) = 20808 \text{ cm}^3/\text{s}$
6	<p>لتكن مساحة سطح المكعب A بعد مرور t ثانية تصبح مساحة سطح المكعب:</p> $A = 6x^2 = 6(10 + 6t)^2$ $\frac{dA}{dt} = 12(10 + 6t) \times 6$ $\frac{dA}{dt} \Big _{t=6} = 12(46)(6) = 3312 \text{ cm}^2/\text{s}$





ليكن ارتفاع الوقود في الخزان h ، سيكون طول نصف قطره 1 m ، ويكون حجمه:

$$V = \pi r^2 h = \pi h$$

$$\frac{dV}{dt} = 500\text{L/min} = 0.5\text{ m}^3/\text{min}$$

المعطى:

$$\frac{dh}{dt}$$

المطلوب:

7

$$V = \pi h$$

العلاقة التي تربط الحجم بالارتفاع:

$$\frac{dV}{dt} = \pi \frac{dh}{dt}$$

$$0.5 = \pi \frac{dh}{dt}$$

$$\frac{dh}{dt} = \frac{1}{2\pi} \text{ m/min}$$

8

$$A = 2\pi r h = 2\pi h$$

$$\frac{dA}{dt} = 2\pi \frac{dh}{dt}$$

$$= 2\pi \times \frac{1}{2\pi} = 1\text{ m}^2/\text{min}$$

9

$$\frac{dR}{dt} = -0.0002\text{ mm/s}$$

$$\left. \frac{dV}{dt} \right|_{R=0.075}$$

المعطى:

المطلوب:

$$V = \frac{3125}{6} (R^2 - (0.0005)^2)$$

العلاقة المعطاة:

$$\frac{dV}{dt} = \frac{3125}{6} \left(2R \frac{dR}{dt} \right)$$

$$\left. \frac{dV}{dt} \right|_{R=0.075} = \frac{3125}{6} (2(0.075)(-0.0002))$$

$$\approx -0.0156\text{ mm/s}^2$$

منهاجي

متعة التعليم الهادف





10

$$\frac{dx}{dt} = 2 \text{ m/s}$$

$$\left. \frac{dT}{dt} \right|_{x=5}$$

$$T(x) = \frac{200}{1+x^2}$$

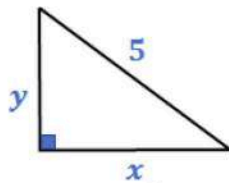
$$\frac{dT}{dt} = -\frac{400x \frac{dx}{dt}}{(1+x^2)^2}$$

$$\left. \frac{dT}{dt} \right|_{x=5} = -\frac{400(5)(2)}{(1+(5)^2)^2} = -5.9 \text{ }^\circ\text{C/s}$$

أي أن درجة الحرارة التي يشعر بها ستقل بمعدل $6 \text{ }^\circ\text{C/s}$ تقريبًا عندما يكون على بعد 5 أمتار من مصدر النار.

المعطى:

المطلوب:



نفرض أن بعد الطرف السفلي عن الجدار هو x ، وأن بعد الطرف العلوي عن الأرض هو y .

$$\frac{dy}{dt} = 0.15 \text{ m/s}$$

$$\left. \frac{dx}{dt} \right|_{x=3}$$

$$x^2 + y^2 = 25$$

$$2x \frac{dx}{dt} + 2y \frac{dy}{dt} = 0$$

$$\frac{dx}{dt} = -\frac{y}{x} \frac{dy}{dt}$$

عندما $x = 3$ ، يكون:

$$y^2 = 25 - 9 = 16 \rightarrow y = 4$$

$$\left. \frac{dx}{dt} \right|_{x=3} = -\frac{4(0.15)}{3} = -0.2 \text{ m/s}$$

إذن يتحرك الطرف السفلي في تلك اللحظة بسرعة 0.2 m/s نحو اليسار مقتربًا من الجدار.

المعطى:

المطلوب:

من نظرية فيثاغورس:

11



ليكن حجم كومة الرمل V ، وارتفاعها h ، وطول نصف قطر قاعدتها r

$$\frac{dV}{dt} = 10 \text{ m}^3/\text{min} \quad , \quad h = \frac{3}{8}(2r) \quad \text{المعطى:}$$

$$\left. \frac{dh}{dt} \right|_{h=4} \quad \text{المطلوب:}$$

$$h = \frac{3}{8}(2r) \rightarrow r = \frac{4}{3}h$$

$$V = \frac{1}{3}\pi r^2 h = \frac{1}{3}\pi \left(\frac{4}{3}h\right)^2 h$$

12

$$V = \frac{16}{27}\pi h^3$$

$$\frac{dV}{dt} = \frac{16}{9}\pi h^2 \frac{dh}{dt}$$

$$10 = \frac{16}{9}\pi (4)^2 \frac{dh}{dt}$$

$$\left. \frac{dh}{dt} \right|_{h=4} = \frac{45}{128\pi} \text{ m/min}$$

إذن يزداد ارتفاع الكومة المخروطية عند تلك اللحظة بمعدل 0.112 مترًا لكل ثانية تقريبًا.

$$r = \frac{4}{3}h$$

$$\frac{dr}{dt} = \frac{4}{3} \frac{dh}{dt}$$

13

$$\left. \frac{dr}{dt} \right|_{h=4} = \frac{4}{3} \left. \frac{dh}{dt} \right|_{h=4} = \frac{4}{3} \times \frac{45}{128\pi} = \frac{15}{32\pi} \text{ m/min}$$

إذن يزداد نصف القطر عند تلك اللحظة بمعدل 0.149 مترًا لكل ثانية تقريبًا.

منهاجي

متعة التعليم الهادف





ليكن بعد الطائرة الأولى عن نقطة التقاء المسارين في لحظة ما هو x ،

وبعد الطائرة الثانية عن نقطة التقاء المسارين في تلك اللحظة هو y ، والبعد بين الطائرتين هو s .

$$\frac{dx}{dt} = -450 \text{ km/h}$$

$$\frac{dy}{dt} = -600 \text{ km/h}$$

المعطى:

$$\left. \frac{ds}{dt} \right|_{x=225, y=300}$$

المطلوب:

$$s^2 = x^2 + y^2$$

14

$$2s \frac{ds}{dt} = 2x \frac{dx}{dt} + 2y \frac{dy}{dt}$$

$$\frac{ds}{dt} = \frac{x \frac{dx}{dt} + y \frac{dy}{dt}}{s} = \frac{x \frac{dx}{dt} + y \frac{dy}{dt}}{\sqrt{x^2 + y^2}}$$

$$\left. \frac{ds}{dt} \right|_{x=225, y=300} = \frac{225(-450) + 300(-600)}{\sqrt{(225)^2 + (300)^2}} = -750 \text{ km/h}$$

إذن في تلك اللحظة تقل المسافة بين الطائرتين بمعدل 750 كيلومتراً في الساعة.

نحسب الوقت الذي تحتاجه كل من الطائرتين للوصول لنقطة التقاء المسارين:

$$t_1 = \frac{x}{v_x} = \frac{225}{450} = 0.5 \text{ h}$$

15

$$t_2 = \frac{y}{v_y} = \frac{300}{600} = 0.5 \text{ h}$$

بما أن الطائرتين ستصلان لنقطة التقاء المسارين بعد نصف ساعة من لحظة رصدهما من قبل المراقب

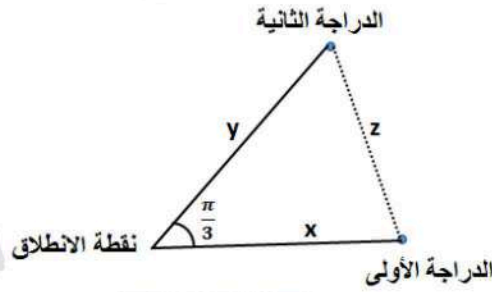
الجوي، فإن اصطدامهما متوقع، ويجب على مراقب الحركة الجوية التوجيه بالتغيير اللازم في مسار

إحدهما أو في سرعتها على الأقل حتى لا تصلان إلى نقطة التقاء المسارين معاً في الوقت نفسه.





لتكن المسافات كما في الشكل أدناه:



$$\frac{dx}{dt} = 15 \text{ km/h}$$

$$\frac{dy}{dt} = 20 \text{ km/h}$$

المعطى:

$$\left. \frac{dz}{dt} \right|_{t=2}$$

المطلوب:

16

بعد t ساعة من انطلاقهما يكون: $x = 15t$, $y = 20t$

$$z = \sqrt{x^2 + y^2 - 2xy \cos \frac{\pi}{3}}$$

$$z = \sqrt{(15t)^2 + (20t)^2 - 2(15t)(20t) \left(\frac{1}{2}\right)} = 5\sqrt{13}t$$

$$\frac{dz}{dt} = 5\sqrt{13}$$

$$\left. \frac{dz}{dt} \right|_{t=2} = 5\sqrt{13} \text{ km/h}$$

إذن بعد ساعتين من انطلاقهما تتباعد الدراجتان كل منهما عن الأخرى بسرعة $5\sqrt{13}$ كيلومتر كل ساعة

17

$$f(x) = e^{-\frac{x^2}{2}}$$

$$A = 2xe^{-\frac{x^2}{2}}$$

منهاجي

متعة التعليم الهادف





المعطى: $\frac{dx}{dt} = 4$

المطلوب: $\frac{dA}{dt} \Big|_{x=4}$

$$A = 2xe^{-\frac{x^2}{2}}$$

$$18 \quad \frac{dA}{dt} = (2x) \left(-xe^{-\frac{x^2}{2}} \frac{dx}{dt} \right) + \left(e^{-\frac{x^2}{2}} \right) \left(2 \frac{dx}{dt} \right)$$

$$= 2e^{-\frac{x^2}{2}} (1 - x^2) \frac{dx}{dt}$$

$$\frac{dA}{dt} \Big|_{x=4} = 2e^{-\frac{(4)^2}{2}} (1 - (4)^2) (4)$$

$$= -120e^{-8} \text{ cm}^2/\text{min}$$

عندما $R_1 = 80, R_2 = 100$ يكون:

$$\frac{1}{R} = \frac{1}{R_1} + \frac{1}{R_2} = \frac{1}{80} + \frac{1}{100} = \frac{180}{8000}$$

$$R = \frac{800}{18} = \frac{400}{9} \Omega$$

المعطى: $\frac{dR_1}{dt} = 0.3, \frac{dR_2}{dt} = 0.2$

المطلوب: $\frac{dR}{dt} \Big|_{R_1=80, R_2=100}$

$$19 \quad \frac{1}{R} = \frac{1}{R_1} + \frac{1}{R_2}$$

العلاقة المعطاة:

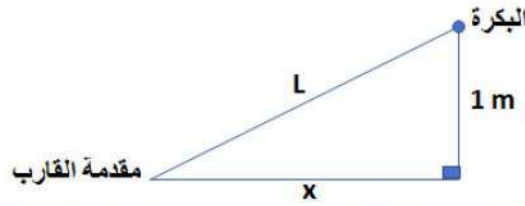
$$-\frac{dR}{R^2} = -\frac{dR_1}{R_1^2} - \frac{dR_2}{R_2^2}$$

$$\frac{dR}{dt} = R^2 \left(\frac{dR_1}{R_1^2} + \frac{dR_2}{R_2^2} \right)$$

$$\frac{dR}{dt} \Big|_{R_1=80, R_2=100} = \frac{160000}{81} \left(\frac{0.3}{6400} + \frac{0.2}{10000} \right) \approx 0.132 \Omega/s$$



لتكن الأبعاد كما في الشكل:



$$\frac{dL}{dt} = -1 \text{ m/s}$$

$$\left. \frac{dx}{dt} \right|_{x=8}$$

20 $L^2 = x^2 + 1$

$$2L \frac{dL}{dt} = 2x \frac{dx}{dt}$$

$$\frac{dx}{dt} = \frac{L}{x} \times \frac{dL}{dt} = \frac{\sqrt{x^2 + 1}}{x} \times \frac{dL}{dt}$$

$$\left. \frac{dx}{dt} \right|_{x=8} = \frac{\sqrt{8^2 + 1}}{8} \times -1 = -\frac{\sqrt{65}}{8} \text{ m/s}$$

إذن في تلك اللحظة يقترب القارب من الرصيف بسرعة $\frac{\sqrt{65}}{8} \text{ m/s}$

المعطى:

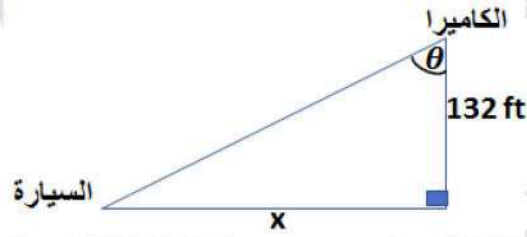
المطلوب:

منهاجي
متعة التعليم الهادف





لتكن x كما في الشكل:



المعطى:

المطلوب:

21

$$\frac{dx}{dt} = -264 \text{ ft/s}$$

$$\left. \frac{d\theta}{dt} \right|_{\theta=0}$$

$$\tan \theta = \frac{x}{132}$$

$$\sec^2 \theta \frac{d\theta}{dt} = \frac{1}{132} \frac{dx}{dt}$$

$$\frac{d\theta}{dt} = \frac{1}{132} \frac{dx}{dt} \times \cos^2 \theta$$

$$\left. \frac{d\theta}{dt} \right|_{\theta=0} = \frac{1}{132} (-264) \cos^2 0 = -2 \text{ rad/s}$$

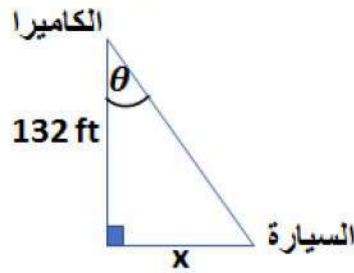
منهاجي

متعة التعليم الهادف





لتكن x كما في الشكل:



$$\frac{dx}{dt} = 264 \text{ ft/s}$$

بعد تجاوز السيارة للكاميرا تتزايد المسافة x حيث يصبح

$$\frac{d\theta}{dt} \Big|_{t=0.5 \text{ s}} \text{ المطلوب:}$$

$$x = 0.5 \times 264 = 132$$

بعد نصف ثانية:

$$\tan \theta = 1 \rightarrow \theta = \frac{\pi}{4}$$

22

$$\tan \theta = \frac{x}{132}$$

$$\sec^2 \theta \frac{d\theta}{dt} = \frac{1}{132} \frac{dx}{dt}$$

$$\frac{d\theta}{dt} = \frac{1}{132} \frac{dx}{dt} \times \cos^2 \theta$$

$$\begin{aligned} \frac{d\theta}{dt} \Big|_{t=0.5 \text{ s}} &= \frac{1}{132} (264) \times \cos^2 \left(\frac{\pi}{4} \right) \\ &= 2 \left(\frac{1}{\sqrt{2}} \right)^2 = 1 \text{ rad/s} \end{aligned}$$

يزداد قياس الزاوية θ بسرعة 1 rad/s في تلك اللحظة.



ليكن الجسيم عند النقطة $P(x, 2 \sin \frac{\pi x}{2})$ في أي لحظة، O نقطة الأصل، وليكن $PO = L$

$$\left. \frac{dx}{dt} \right|_{x=\frac{1}{3}} = \sqrt{10} \text{ units/s}$$

المعطى:

$$\left. \frac{dL}{dt} \right|_{x=\frac{1}{3}}$$

المطلوب:

$$L^2 = (x - 0)^2 + \left(2 \sin \frac{\pi x}{2} - 0\right)^2$$

$$L^2 = x^2 + 4 \sin^2 \frac{\pi x}{2}$$

$$23 \quad 2L \frac{dL}{dt} = 2x \frac{dx}{dt} + 8 \left(\frac{\pi}{2}\right) \sin \frac{\pi x}{2} \cos \frac{\pi x}{2} \frac{dx}{dt}$$

$$\frac{dL}{dt} = \frac{1}{L} \left(x + 2 \left(\frac{\pi}{2}\right) \sin \pi x\right) \frac{dx}{dt}$$

$$L = \sqrt{\left(\frac{1}{3}\right)^2 + 4 \sin^2 \left(\frac{\pi}{6}\right)} = \frac{\sqrt{10}}{3}$$

عندما $x = \frac{1}{3}$ ، فإن:

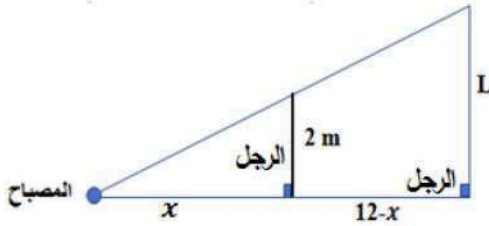
$$\left. \frac{dL}{dt} \right|_{x=\frac{1}{3}} = \frac{1}{\frac{\sqrt{10}}{3}} \left(\frac{1}{3} + 2 \left(\frac{\pi}{2}\right) \sin \frac{\pi}{3}\right) \sqrt{10}$$

$$= 1 + \frac{3\sqrt{3}\pi}{2}$$

إذن يزداد بعد الجسيم عن نقطة الأصل في تلك اللحظة بسرعة $(1 + \frac{3\sqrt{3}\pi}{2})$ وحدة/ثانية



ليكن بعد الرجل عن المصباح أفقياً x ، وطول ظله على الجدار L



$$\frac{dx}{dt} = 1.6 \text{ m/s}$$

$$\left. \frac{dL}{dt} \right|_{x=8}$$

$$\frac{L}{2} = \frac{12}{x} \rightarrow L = \frac{24}{x}$$

$$\frac{dL}{dt} = \frac{-24}{x^2} \frac{dx}{dt}$$

$$\left. \frac{dL}{dt} \right|_{x=8} = \frac{-24(1.6)}{64} = -0.6 \text{ m/s}$$

إذن يتناقص طول ظل الرجل عند تلك اللحظة بمعدل 0.6 متر لكل ثانية

المعطى:

المطلوب:

من تشابه المثلثات:

$$\omega = \frac{d\theta}{dt} = 10 \times 2\pi = 20\pi \text{ rad/s}$$

$$\frac{dx}{dt}$$

$$\cos \theta = \frac{x}{30} \rightarrow x = 30 \cos \theta$$

$$\rightarrow \frac{dx}{dt} = -30 \sin \theta \frac{d\theta}{dt}$$

$$= -30(20\pi) \sin \theta = -600\pi \sin \theta$$

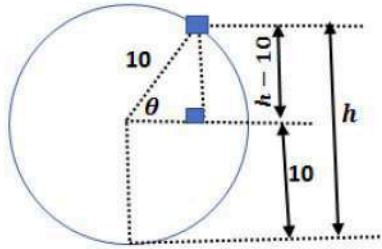
$$\left. \frac{dx}{dt} \right|_{\theta=45^\circ} = -600\pi \sin 45^\circ = -\frac{600\pi}{\sqrt{2}} \text{ cm/s}$$

المعطى:

المطلوب:



ليكن h ارتفاع الراكب عن سطح الأرض



$$\frac{d\theta}{dt} = \frac{2\pi}{2} = \pi \text{ rad/min}$$

$$\left. \frac{dh}{dt} \right|_{h=16}$$

المعطى:

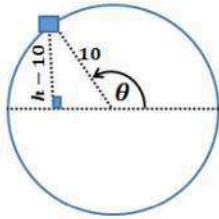
المطلوب:

بما أن $\sin \theta = \frac{h-10}{10}$ فعندما $h = 16$ يكون: $\sin \theta = 0.6$ ومنه $\cos \theta = 0.8$

$$h = 10 + 10 \sin \theta$$

$$27 \quad \frac{dh}{dt} = 10 \cos \theta \frac{d\theta}{dt}$$

$$\left. \frac{dh}{dt} \right|_{h=16} = 10 \times 0.8 \times \pi = 8\pi \text{ m/min}$$



ويمكن أن يكون الارتفاع 16 m والعربة نازلة بعد إكمال نصف دورة. عندئذ يكون

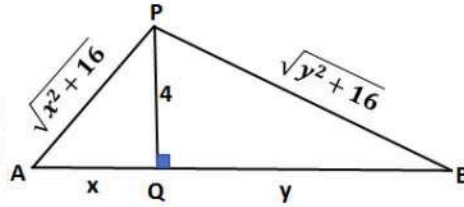
$\cos \theta = -0.8$ لأن θ تكون زاوية منفرجة، ويكون:

$$\left. \frac{dh}{dt} \right|_{h=16} = 10 \times -0.8 \times \pi = -8\pi \text{ m/min}$$

إذن، على ارتفاع 16m يكون الراكب في حالة صعود أو في حالة هبوط بسرعة مقدارها $8\pi \text{ m/min}$



لتكن الأبعاد كما في الشكل أدناه:



$$\frac{dx}{dt} = 0.5 \text{ m/s}$$

$$\left. \frac{dy}{dt} \right|_{x=3}$$

المعطى:

المطلوب:

$$AP + BP = \sqrt{x^2 + 16} + \sqrt{y^2 + 16} = 12$$

طول الحبل:

28

$$\sqrt{9 + 16} + \sqrt{y^2 + 16} = 12 \rightarrow \sqrt{y^2 + 16} = 7 \rightarrow y = \sqrt{33}$$

عندما $x = 3$ فإن:

$$\sqrt{x^2 + 16} + \sqrt{y^2 + 16} = 12$$

$$\frac{x \frac{dx}{dt}}{\sqrt{x^2 + 16}} + \frac{y \frac{dy}{dt}}{\sqrt{y^2 + 16}} = 0$$

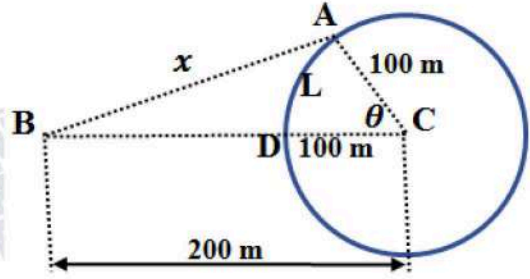
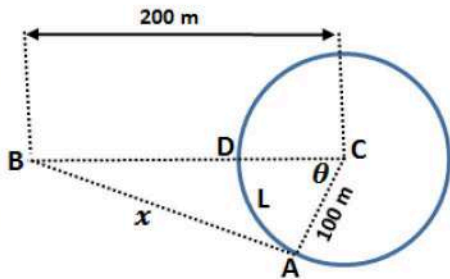
$$\frac{dy}{dt} = -\frac{x\sqrt{y^2 + 16}}{y\sqrt{x^2 + 16}} \frac{dx}{dt}$$

$$\left. \frac{dy}{dt} \right|_{x=3} = -\frac{3\sqrt{33+16}}{\sqrt{33}\sqrt{25}} \times 0.5 = -\frac{21}{10\sqrt{33}} \text{ m/s}$$

إذن، تقترب العربة B من النقطة Q بسرعة مقدارها $\frac{21}{10\sqrt{33}}$ m/s



ليكن العداء الأول A، والعداء الثاني B، والبعد بينهما x كما في الشكل، وليكن L هو طول القوس الأصغر AD . توجد حالتان لموقع العداء A كما في الرسمين الآتيين:



الحالة الأولى: العداء A إلى يمين B

$$\frac{dL}{dt} = -7 \text{ m/s}$$

المعطى: (تكون L متناقصة) ويكون:

$$\left. \frac{dx}{dt} \right|_{x=200 \text{ m}}$$

$$L = r\theta = 100\theta \rightarrow \frac{dL}{dt} = 100 \frac{d\theta}{dt}$$

المطلوب:

$$\rightarrow \frac{d\theta}{dt} = -0.07 \text{ rad/s}$$

$$x^2 = (200)^2 + (100)^2 - 2(200)(100) \cos \theta$$

$$x^2 = 50000 - 40000 \cos \theta$$

29

$$2x \frac{dx}{dt} = 40000 \sin \theta \frac{d\theta}{dt}$$

$$\frac{dx}{dt} = \frac{20000 \sin \theta}{x} \frac{d\theta}{dt}$$

$$\cos \theta = \frac{50000 - x^2}{40000}$$

$$\cos \theta = \frac{50000 - 40000}{40000} = \frac{1}{4}$$

عندما $x = 200$ فإن:

$$\sin \theta = \frac{\sqrt{15}}{4}$$

ومنه:

$$\left. \frac{dx}{dt} \right|_{x=200} = \frac{20000 \frac{\sqrt{15}}{4}}{200} \times -0.07 = -\frac{7\sqrt{15}}{4} \text{ m/s}$$

الحالة الثانية: العداء A إلى يسار B

عندئذ يتزايد طول القوس L ، ويكون $\frac{dL}{dt} = 7$ ويكون $\frac{d\theta}{dt} = 0.07 \text{ rad/s}$ ، وعليه فإن:

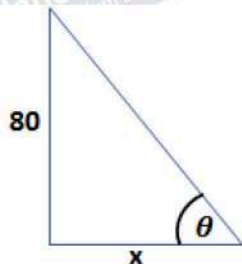
$$\left. \frac{dx}{dt} \right|_{x=200} = \frac{20000 \frac{\sqrt{15}}{4}}{200} \times 0.07 = \frac{7\sqrt{15}}{4} \text{ m/s}$$

إذن، عندما تكون المسافة بين العدائين 200 m ، فإنهما يقتربان من بعضهما أو يتباعدان عن بعضهما

بسرعة مقدارها $\frac{7\sqrt{15}}{4} \text{ m/s}$



ليكن طول ظل المبنى x ، وزاوية ارتفاع الشمس θ .



الشمس في هذا اليوم ستمر فوق المبنى تمامًا، يعني أن الزاوية θ متزايدة.

$$\frac{d\theta}{dt} = \frac{2\pi \text{ rad}}{24\text{h}} = \frac{\pi \text{ rad}}{12 \text{ h}} = \frac{\pi \text{ rad}}{12 \times 60 \text{ min}} = \frac{\pi}{720} \text{ rad/min}$$

المعطى:

$$\left. \frac{dx}{dt} \right|_{x=60}$$

المطلوب:

$$\tan \theta = \frac{80}{x}$$

العلاقة التي تربط بين المتغيرين هي:

$$\sec^2 \theta \frac{d\theta}{dt} = -\frac{80}{x^2} \frac{dx}{dt}$$

$$\frac{dx}{dt} = -\frac{x^2 \sec^2 \theta}{80} \times \frac{d\theta}{dt}$$

عندما $x = 60$ فإن: طول وتر المثلث القائم في الشكل أعلاه يساوي $\sqrt{60^2 + 80^2} = 100$

$$\sec \theta = \frac{100}{60} = \frac{5}{3}$$

$$\left. \frac{dx}{dt} \right|_{x=60} = -\frac{60^2 \left(\frac{25}{9}\right)}{80} \times \frac{\pi}{720} = -\frac{25\pi}{144} \text{ m/min}$$

إذن:

$$\left. \frac{dx}{dt} \right|_{x=60} = -\frac{2500\pi}{144} \text{ cm/min}$$
 فتكون السرعة في 100، لتحويل الوحدة إلى cm/min نضرب السرعة في 100، فتكون

إذن يتناقص طول ظل البناية في تلك اللحظة بسرعة مقدارها 54.5 cm/min تقريبًا.



الدرس الثاني: القيم القصوى والتقعر

مسألة اليوم صفحة 93

$$C(t) = 3.95 + 8(1.5e^{-0.4t-1} - e^{-0.6t})$$

المطلوب هو قيمة t التي يكون عندها للاقتران $C(t)$ قيمة عظمى مطلقة في $[0, 12]$ ، لذا نجد القيم الحرجة:

$$C'(t) = 8(-0.6e^{-0.4t-1} + 0.6e^{-0.6t}) = 0 \rightarrow e^{-0.4t-1} = e^{-0.6t}$$

$$\rightarrow 0.4t + 1 = 0.6t$$

$$\rightarrow t = 5$$

توجد قيمة حرجة وحيدة ضمن مجال الاقتران هي $t = 5$

نقارن قيمة الاقتران عند النقطة الحرجة مع قيمتيه عند طرفي مجاله باستخدام الآلة الحاسبة:

$$C(0) = 3.59 + 8(1.5e^{-0.4(0)-1} - e^{-0.6(0)}) \approx 0.005$$

$$C(5) = 3.59 + 8(1.5e^{-0.4(5)-1} - e^{-0.6(5)}) \approx 3.79$$

$$C(12) = 3.59 + 8(1.5e^{-0.4(12)-1} - e^{-0.6(12)}) \approx 3.62$$

وبما أن $C(5)$ هو أكبر هذه القيم فإن تركيز الدواء يكون أكبر ما يمكن بعد 5 ساعات من تناوله.

أتحقق من فهمي صفحة 96

ليس للاقتران f قيم قصوى مطلقة

a

للاقتران قيمة عظمى محلية عند $x = 0$ هي $f(0) = 0$

وله قيمة صغرى محلية عند $x = 2$ هي $f(2) = -4$

b

للاقتران قيمة عظمى مطلقة عند $x = 1$ و $x = -1$ هي $f(\pm 1) = 1$

وله قيمة صغرى محلية ومطلقة عند $x = 0$ هي $f(0) = 0$



أتحقق من فهمي صفحة 102

a $f(x) = x^3 - 6x^2 + 5, \quad [-3, 5]$
 $f'(x) = 3x^2 - 12x = 0 \rightarrow 3x(x - 4) = 0 \rightarrow x = 0, x = 4$
وتكون قيم x الحرجة هي: $x = 0, x = 4$
نقارن قيم الاقتران عند النقط الحرجة وعند طرفي مجاله
 $f(-3) = -27 - 54 + 5 = -76, f(0) = 5$
 $f(4) = 64 - 96 + 5 = -27, f(5) = 125 - 150 + 5 = -20$
للاقتران قيمة صغرى مطلقة عند $x = -3$ هي $f(-3) = -76$
وله قيمة عظمى محلية ومطلقة عند $x = 0$ هي $f(0) = 5$

b $f(x) = x^{\frac{1}{3}}, \quad [-8, 8]$
 $f'(x) = \frac{1}{3}x^{-\frac{2}{3}} = \frac{1}{3\sqrt{x^2}}$
 $f'(x)$ لا تساوي صفرًا لأي قيمة في $(-8, 8)$ ، وهي غير موجودة عند $x = 0$ وهذه هي القيمة الحرجة فقط.
 $f(-8) = -2$
 $f(0) = 0$
 $f(8) = 2$
للاقتران قيمة صغرى مطلقة عند $x = -8$ هي $f(-8) = -2$
وله قيمة عظمى مطلقة عند $x = 2$ هي $f(8) = 2$



$$f(x) = \sin^2 x + \cos x, \quad [0, 2\pi]$$

أجد القيم الحرجة في الفترة $(0, 2\pi)$

$$f'(x) = 2 \sin x \cos x - \sin x = 0 \rightarrow \sin x (2 \cos x - 1) = 0$$

$$\rightarrow \sin x = 0 \quad \text{or} \quad \cos x = \frac{1}{2}$$

$$\rightarrow x = \pi, \text{ or } x = \frac{\pi}{3}, x = \frac{5\pi}{3}$$

وتكون قيم x الحرجة هي: $x = \pi, x = \frac{\pi}{3}, x = \frac{5\pi}{3}$

أجد قيم الاقتران عند القيم الحرجة وطرفي مجاله

c $f(0) = 1$

$$f\left(\frac{\pi}{3}\right) = \frac{3}{4} + \frac{1}{2} = \frac{5}{4}$$

$$f(\pi) = -1$$

$$f\left(\frac{5\pi}{3}\right) = \frac{3}{4} + \frac{1}{2} = \frac{5}{4}$$

$$f(2\pi) = 1$$

لاقتران قيمة صغرى محلية ومطلقة عند $x = \pi$ هي $f(\pi) = -1$

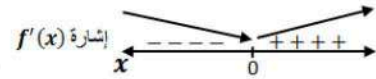
وله قيمة عظمى محلية ومطلقة عند $x = \frac{\pi}{3}, x = \frac{5\pi}{3}$ هي $\frac{5}{4}$



أتحقق من فهمي صفحة 105

$$f(x) = (x-1)e^x$$

$$f'(x) = (x-1)e^x + e^x = 0 \rightarrow xe^x = 0 \rightarrow x = 0$$

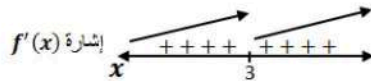


للاقتزان قيمة حرجة وحيدة هي $x = 0$ بما أن إشارة المشتقة الأولى تغيرت من السالب إلى الموجب عند هذه القيمة، لذا يكون للاقتزان قيمة صفرى محلية هي: $f(0) = -1$

أتحقق من فهمي صفحة 106

$$f(x) = \sqrt[3]{x-3} = (x-3)^{\frac{1}{3}}$$
$$f'(x) = \frac{1}{3}(x-3)^{-\frac{2}{3}} = \frac{1}{3\sqrt[3]{(x-3)^2}}$$

$f'(x)$ لا تساوي صفرًا لأي عدد حقيقي x ، لكن $f'(x)$ غير موجودة عند $x = 3$ إذن القيمة الحرجة الوحيدة هي $x = 3$



الاقتزان f متزايد على R ولا يوجد له قيم قصوى محلية ولا مطلقة. النقطة $(3, 0)$ نقطة حرجة لكنها ليست نقطة قيمة قصوى لعدم تغير إشارة المشتقة حولها.

أتحقق من فهمي صفحة 111



a $f(x) = (x - 2)^3(x - 1)$

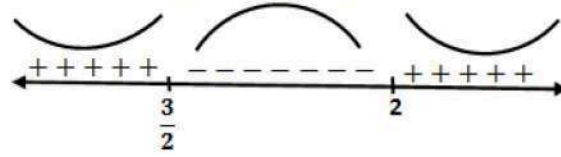
$$f'(x) = (x - 2)^3 + 3(x - 1)(x - 2)^2$$

$$f''(x) = 3(x - 2)^2 + 6(x - 1)(x - 2) + 3(x - 2)^2$$

$$= 3(x - 2)((x - 2) + 2(x - 1) + (x - 2))$$

$$= 3(x - 2)(4x - 6) = 0 \rightarrow x = 2 \text{ or } x = \frac{3}{2}$$

إشارة $f''(x)$



إن منحنى $f(x)$ مقعر للأعلى في $(-\infty, \frac{3}{2})$ و $(2, \infty)$ ، ومقعر للأسفل في $(\frac{3}{2}, 2)$

وله نقطتا انعطاف هما $(\frac{3}{2}, -\frac{1}{16})$ و $(2, 0)$

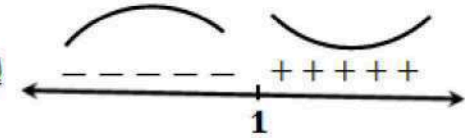
b $f(x) = \frac{x}{x - 1}$

$$f'(x) = \frac{-1}{(x - 1)^2}$$

$$f''(x) = \frac{2}{(x - 1)^3}$$

$f''(x)$ لا تساوي صفرًا لأي عدد حقيقي x ، لكن $f''(x)$ غير موجودة عند $x = 1$

إشارة $f''(x)$



إن منحنى $f(x)$ مقعر للأعلى في $(-\infty, 1)$ ، ومقعر للأسفل في $(1, \infty)$

ولا توجد نقاط انعطاف مع أن المنحنى غير من اتجاه تقعره عند $x = 1$ وذلك لأنها خارج مجال $f(x)$

أتحقق من فهمي صفحة 113



$$f(x) = xe^x$$

$$f'(x) = xe^x + e^x = 0 \rightarrow e^x(x+1) = 0 \rightarrow x = -1$$

القيمة الحرجة هي $x = -1$

$$f''(x) = xe^x + e^x + e^x = e^x(x+2)$$

$$f''(-1) = e^{-1} > 0$$

إن تـوجد قيمة صغرى محلية للافتـران f هي $f(-1) = -e^{-1}$

أتـحقـق من فـهـمـي صـفـحـة 115

$$s(t) = t^3 - 3t + 3, t \geq 0$$

$$v(t) = 3t^2 - 3 = 0 \rightarrow t = 1$$

a

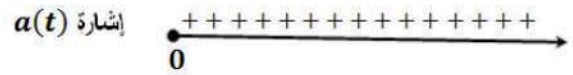


يتحرك الجسم في الاتجاه السالب في الفترة $(0, 1)$

يتحرك الجسم في الاتجاه الموجب في الفترة $(1, \infty)$

$$a(t) = 6t = 0 \rightarrow t = 0$$

b



تكون سرعة الجسم متزايدة في الفترة $(0, \infty)$ ولا تتناقص أبداً



أُتدرب وأحل المسائل صفحة 115

1

قيم x الحرجة هي: $x = 3$ (المشتقة عندها غير موجودة) ، ولا توجد قيم تكون عندها $f'(x) = 0$
توجد قيمة صغرى مطلقة عند $x = 0$ هي $f(0) = 0$
توجد قيمة عظمى محلية ومطلقة عند $x = 3$ هي $f(3) = 3.5$

2

لاحظ أن المشتقة تساوي صفرًا عند $x = 3$ و $x = 6$ ، وأنها غير موجودة عند $x = 4$ ،
إذن توجد 3 قيم حرجة هي $x = 3$ ، $x = 4$ ، و $x = 6$
توجد قيمة صغرى محلية ومطلقة عند $x = 4$ هي $g(4) = 1$
توجد قيمة عظمى محلية عند $x = 3$ هي $g(3) = 4$ ، وعند $x = 6$ هي $g(6) = 3$
لا توجد قيمة عظمى مطلقة

3

قيم x الحرجة هي: $x = 1, x = 2$ (المشتقة عندهما غير موجودة)
توجد قيمة صغرى مطلقة هي $f(-1) = -2$
توجد قيمة عظمى مطلقة هي $f(3) = 3$
لا توجد قيم قصوى محلية

4

$$f(x) = 1 + 6x - 3x^2, \quad [0, 4]$$
$$f'(x) = 6 - 6x = 0 \rightarrow x = 1$$

$$f(0) = 1$$
$$f(1) = 4$$
$$f(4) = -23$$

وتكون قيم x الحرجة هي: $x = 1$

للاقتران قيمة صغرى مطلقة عند $x = 4$ هي $f(4) = -23$
وله قيمة عظمى محلية ومطلقة عند $x = 1$ هي $f(1) = 4$



$$f(x) = (x + 3)^{\frac{2}{3}} - 5, \quad [-3, 3]$$

$$f'(x) = \frac{2}{3}(x + 3)^{-\frac{1}{3}} = \frac{2}{3\sqrt[3]{x + 3}}$$

5 $f'(x)$ لا تساوي صفرًا لأي قيمة في الفترة $(-3, 3)$ ، وهي غير موجودة عند $x = -3$ ولا توجد قيم

حرجة في الفترة $(-3, 3)$.

$$f(-3) = -5$$

$$f(3) = \sqrt[3]{36} - 5$$

للاقتزان قيمة صغرى مطلقة عند $x = -3$ هي $f(-3) = -5$

للاقتزان قيمة عظمى مطلقة عند $x = 3$ هي $f(3) = \sqrt[3]{36} - 5 \approx -1.7$

$$f(x) = \frac{x^2}{x^2 + 1}, \quad [-2, 2]$$

$$f'(x) = \frac{(x^2 + 1)(2x) - (x^2)(2x)}{(x^2 + 1)^2} = \frac{2x}{(x^2 + 1)^2} = 0 \rightarrow x = 0$$

القيم الحرجة هي: $x = 0$

$$6 \quad f(-2) = \frac{4}{5}$$

$$f(0) = 0$$

$$f(2) = \frac{4}{5}$$

للاقتزان قيمة صغرى مطلقة عند $x = 0$ هي $f(0) = 0$

وله قيمة عظمى مطلقة عند $x = 2$ و $x = -2$ هي $\frac{4}{5}$



$$f(x) = \sqrt[3]{x} = x^{\frac{1}{3}}, \quad [8, 64]$$

$$f'(x) = \frac{1}{3}x^{-\frac{2}{3}} = \frac{1}{3\sqrt[3]{x^2}}$$

7 $f'(x)$ موجودة ولا تساوي صفراً لأي عدد x ، وهي موجبة لجميع قيم x في $(8, 64)$ ، و $f(x)$ متزايد

$$f(8) = 2$$

$$f(64) = 8$$

للاقتران قيمة صغرى مطلقة عند $x = 8$ هي $f(8) = 2$

وله قيمة عظمى مطلقة عند $x = 64$ هي $f(64) = 8$

$$f(x) = 2 \cos x + \sin 2x, \quad \left[0, \frac{\pi}{2}\right]$$

$$f'(x) = -2 \sin x + 2 \cos 2x = -2 \sin x + 2(1 - 2 \sin^2 x) = 0$$

$$\rightarrow 2 \sin^2 x + \sin x - 1 = 0$$

$$\rightarrow (2 \sin x - 1)(\sin x + 1) = 0$$

$$\rightarrow \sin x = \frac{1}{2} \text{ or } \sin x = -1 \rightarrow x = \frac{\pi}{6}$$

القيمة الحرجة في الفترة $(0, \frac{\pi}{2})$ هي $x = \frac{\pi}{6}$

$$8 \quad f(0) = 2$$

$$f\left(\frac{\pi}{6}\right) = \frac{3\sqrt{3}}{2}$$

$$f\left(\frac{\pi}{2}\right) = 0$$

للاقتران قيمة صغرى مطلقة عند $x = \frac{\pi}{2}$ هي $f\left(\frac{\pi}{2}\right) = 0$

وله قيمة عظمى محلية ومطلقة عند $x = \frac{\pi}{6}$ هي $f\left(\frac{\pi}{6}\right) = \frac{3\sqrt{3}}{2} \approx 2.6$



$$f(x) = \frac{e^x}{1+x^2}, \quad [0, 3]$$

$$f'(x) = \frac{(1+x^2)e^x - 2xe^x}{(1+x^2)^2} = 0 \rightarrow e^x(x^2 - 2x + 1) = 0$$

$$\rightarrow e^x(x-1)^2 = 0 \rightarrow x = 1$$

القيم الحرجة هي $x = 1$

$$f(0) = 1$$

$$f(1) = \frac{1}{2}e$$

$$f(3) = \frac{1}{10}e^3$$

للاقتران قيمة صغرى مطلقة عند $x = 0$ هي $f(0) = 1$

وله قيمة عظمى مطلقة عند $x = 3$ هي $f(3) = \frac{1}{10}e^3 \approx 2.0$

$$f(x) = \frac{\ln x}{x^2}, \quad \left[\frac{1}{2}, 4\right]$$

$$f'(x) = \frac{(x^2)\left(\frac{1}{x}\right) - 2x \ln x}{x^4} = \frac{1 - 2 \ln x}{x^3} = 0 \rightarrow \ln x = \frac{1}{2} \rightarrow x = \sqrt{e}$$

القيمة الحرجة هي $x = \sqrt{e}$

$$f\left(\frac{1}{2}\right) = -4 \ln 2 \approx -2.8$$

$$f(\sqrt{e}) = \frac{1}{2e} \approx 0.18$$

$$f(4) = \frac{1}{16} \ln 4 = \frac{1}{8} \ln 2 \approx 0.09$$

للاقتران قيمة صغرى مطلقة عند $x = \frac{1}{2}$ هي $f\left(\frac{1}{2}\right) = -4 \ln 2 \approx -2.8$

للاقتران قيمة عظمى مطلقة عند $x = \sqrt{e}$ هي $f(\sqrt{e}) = \frac{1}{2e} \approx 0.18$



$$f(x) = \sec x, \quad \left[-\frac{\pi}{6}, \frac{\pi}{3}\right]$$

$$f'(x) = \sec x \tan x = 0$$

بما أن $\sec x \neq 0$ فإن $\tan x = 0$ ، ومنها $x = 0$

القيمة الحرجة هي $x = 0$

$$f(0) = \frac{1}{\cos(0)} = 1$$

11

$$f\left(-\frac{\pi}{6}\right) = \frac{1}{\cos\left(-\frac{\pi}{6}\right)} = \frac{2}{\sqrt{3}} \approx 1.15$$

$$f\left(\frac{\pi}{3}\right) = \frac{1}{\cos\left(\frac{\pi}{3}\right)} = 2$$

للاقتران قيمة صغرى محلية ومطلقة عند $x = 0$ هي $f(0) = 1$

وله قيمة عظمى مطلقة عند $x = \frac{\pi}{3}$ هي $f\left(\frac{\pi}{3}\right) = 2$

$$f(x) = \sqrt{4 - x^2}, \quad [-2, 2]$$

$$f'(x) = \frac{-x}{\sqrt{4 - x^2}} = 0 \rightarrow x = 0$$

12

$$f(-2) = 0$$

$$f(0) = 2$$

$$f(2) = 0$$

القيمة الحرجة هي $x = 0$

للاقتران قيمة صغرى مطلقة عند $x = -2, x = 2$ هي 0

للاقتران قيمة عظمى محلية ومطلقة عند $x = 0$ هي $f(0) = 2$

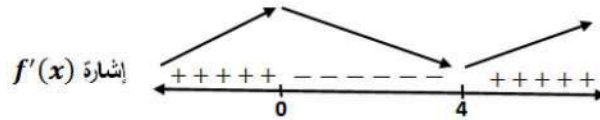


13

$$f(x) = x^3 - 6x^2 - 135$$

$$f'(x) = 3x^2 - 12x = 0 \rightarrow 3x(x - 4) = 0 \rightarrow x = 0 \text{ or } x = 4$$

القيم الحرجة هي $x = 0, x = 4$



f متزايد على $(-\infty, 0), (4, \infty)$

f متناقص على $(0, 4)$

له قيمة عظمى محلية هي $f(0) = -135$

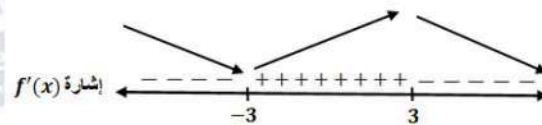
له قيمة صغرى محلية هي $f(4) = -167$

14

$$f(x) = \frac{2x}{x^2 + 9}$$

$$f'(x) = \frac{(x^2 + 9)(2) - (2x)(2x)}{(x^2 + 9)^2} = 0 \rightarrow \frac{18 - 2x^2}{(x^2 + 9)^2} = 0 \rightarrow x = 3 \text{ or } x = -3$$

القيم الحرجة هي $x = 3, x = -3$



f متناقص على $(-\infty, -3), (3, \infty)$

f متزايد على $(-3, 3)$

له قيمة عظمى محلية هي $f(3) = \frac{1}{3}$

له قيمة صغرى محلية هي $f(-3) = -\frac{1}{3}$



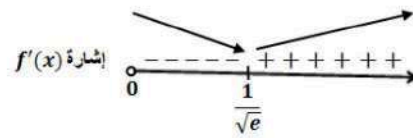
15

$$f(x) = x^2 \ln x, \quad x > 0$$

$$f'(x) = (x^2) \left(\frac{1}{x} \right) + (\ln x)(2x) = 0 \rightarrow x(1 + 2 \ln x) = 0$$

$$\rightarrow \ln x = -\frac{1}{2} \rightarrow x = \frac{1}{\sqrt{e}}$$

$x = \frac{1}{\sqrt{e}}$ هي القيمة الحرجة هي



f متزايد على $\left(\frac{1}{\sqrt{e}}, \infty \right)$

f متناقص على $\left(0, \frac{1}{\sqrt{e}} \right)$

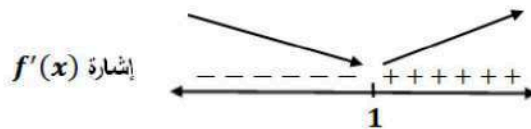
له قيمة صغرى محلية هي $f\left(\frac{1}{\sqrt{e}}\right) = -\frac{1}{2e}$

16

$$f(x) = \sqrt{x^2 - 2x + 2}$$

$$f'(x) = \frac{x - 1}{\sqrt{x^2 - 2x + 2}} = 0 \rightarrow x = 1$$

$x = 1$ هي القيمة الحرجة هي



f متزايد على $(1, \infty)$

f متناقص على $(-\infty, 1)$

له قيمة صغرى محلية هي $f(1) = 1$



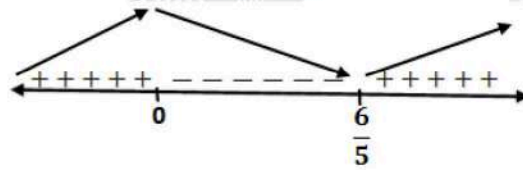
17

$$f(x) = x^{\frac{2}{3}}(x-3) = x^{\frac{5}{3}} - 3x^{\frac{2}{3}}$$

$$f'(x) = \frac{5}{3}x^{\frac{2}{3}} - 2x^{-\frac{1}{3}} = \frac{5x-6}{3\sqrt[3]{x}} = 0 \rightarrow 5x-6=0 \rightarrow x = \frac{6}{5}$$

وكذلك $f'(x)$ غير موجودة عند $x=0$
يوجد له قيمتان حرجتان هما $x=0$ و $x = \frac{6}{5}$

إشارة $f'(x)$



f متزايد على $(-\infty, 0)$, $(\frac{6}{5}, \infty)$

f متناقص على $(0, \frac{6}{5})$

له قيمة صغرى محلية هي $f(\frac{6}{5}) = -\frac{9}{5}(\frac{6}{5})^{\frac{2}{3}}$

له قيمة عظمى محلية هي $f(0) = 0$

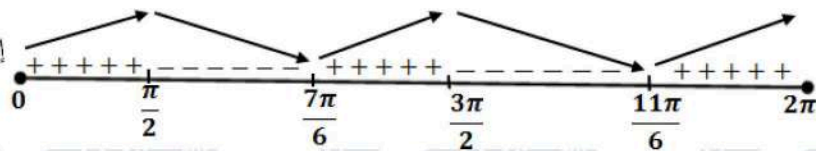
18

$$f(x) = \sin^2 x + \sin x, [0, 2\pi]$$

$$f'(x) = 2 \cos x \sin x + \cos x = \cos x (2 \sin x + 1) = 0$$

$$\rightarrow \cos x = 0 \text{ or } \sin x = -\frac{1}{2} \rightarrow x = \frac{\pi}{2}, \frac{3\pi}{2}, \frac{7\pi}{6}, \frac{11\pi}{6}$$

إشارة $f'(x)$



f متزايد على $(0, \frac{\pi}{2})$, $(\frac{7\pi}{6}, \frac{3\pi}{2})$, $(\frac{11\pi}{6}, 2\pi)$

f متناقص على $(\frac{\pi}{2}, \frac{7\pi}{6})$, $(\frac{3\pi}{2}, \frac{11\pi}{6})$

له قيمة صغرى محلية هي $f(\frac{7\pi}{6}) = -\frac{1}{4}$, $f(\frac{11\pi}{6}) = -\frac{1}{4}$

له قيمتان عظميان محليتان هما $f(\frac{\pi}{2}) = 2$, $f(\frac{3\pi}{2}) = 0$

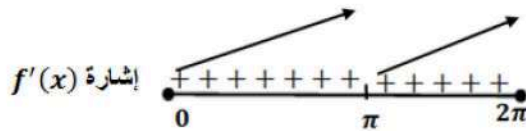


19

$$f(x) = x + \sin x, [0, 2\pi]$$

$$f'(x) = 1 + \cos x = 0 \rightarrow \cos x = -1 \rightarrow x = \pi$$

القيمة الحرجة هي $x = \pi$




f متزايد على $(0, 2\pi)$
ليس له قيم قصوى محلية

20

$$f(x) = x^3 - 12x + 1$$

$$f'(x) = 3x^2 - 12$$

$$f''(x) = 6x = 0 \rightarrow x = 0$$



f مقعر للأعلى في $(0, \infty)$
 f مقعر للأسفل في $(-\infty, 0)$
للاقتزان f نقطة انعطاف هي $(0, 1)$

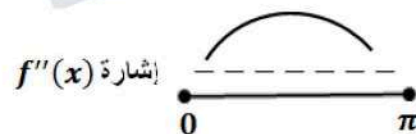
21

$$f(x) = \sqrt{\sin x}, [0, \pi]$$

$$f'(x) = \frac{\cos x}{2\sqrt{\sin x}}$$

$$f''(x) = \frac{(2\sqrt{\sin x})(-\sin x) - (\cos x) \left(\frac{\cos x}{\sqrt{\sin x}}\right)}{4 \sin x} = -\frac{2 \sin^2 x + \cos^2 x}{4 \sin x \sqrt{\sin x}} = -\frac{\sin^2 x + 1}{4 \sin x \sqrt{\sin x}}$$

$$f''(x) \neq 0$$



f مقعر للأسفل على $(0, \pi)$ ، وليس له نقاط انعطاف

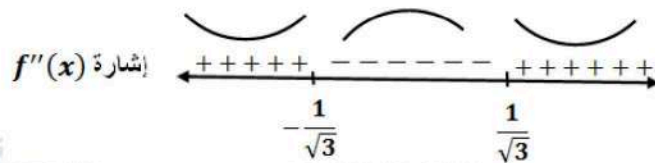


22

$$f(x) = \frac{3}{x^2 + 1}$$

$$f'(x) = \frac{-6x}{(x^2 + 1)^2}$$

$$f''(x) = \frac{(x^2 + 1)^2(-6) - (-24x^2)(x^2 + 1)}{(x^2 + 1)^4} = \frac{18x^2 - 6}{(x^2 + 1)^3} = 0 \rightarrow x = \pm \frac{1}{\sqrt{3}}$$



مقعر للأعلى على $(-\infty, -\frac{1}{\sqrt{3}}), (\frac{1}{\sqrt{3}}, \infty)$

مقعر للأسفل على $(-\frac{1}{\sqrt{3}}, \frac{1}{\sqrt{3}})$

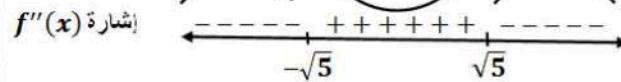
وله نقطتا انعطاف هما: $(-\frac{1}{\sqrt{3}}, \frac{9}{4})$ و $(\frac{1}{\sqrt{3}}, \frac{9}{4})$

23

$$f(x) = \ln(x^2 + 5)$$

$$f'(x) = \frac{2x}{x^2 + 5}$$

$$f''(x) = \frac{(x^2 + 5)(2) - (2x)(2x)}{(x^2 + 5)^2} = \frac{10 - 2x^2}{(x^2 + 5)^2} = 0 \rightarrow x = \pm\sqrt{5}$$



مقعر للأعلى على $(-\sqrt{5}, \sqrt{5})$

مقعر للأسفل على $(-\infty, -\sqrt{5}), (\sqrt{5}, \infty)$

وله نقطتا انعطاف هما: $(-\sqrt{5}, \ln 10)$ و $(\sqrt{5}, \ln 10)$

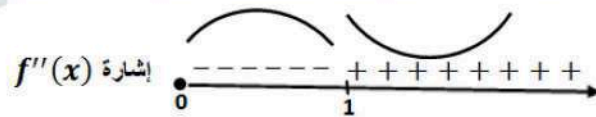


$$f(x) = \sqrt{x}(x+3) = x^{\frac{3}{2}} + 3x^{\frac{1}{2}}, \quad x \geq 0$$

$$f'(x) = \frac{3}{2}x^{\frac{1}{2}} + \frac{3}{2}x^{-\frac{1}{2}}, \quad x > 0$$

$$f''(x) = \frac{3}{4}x^{-\frac{1}{2}} - \frac{3}{4}x^{-\frac{3}{2}} = \frac{3}{4}\left(\frac{1}{x^{\frac{1}{2}}} - \frac{1}{x^{\frac{3}{2}}}\right) = \frac{3}{4}\left(\frac{x-1}{x\sqrt{x}}\right) = 0 \rightarrow x = 1$$

24




f مقعر للأعلى على $(1, \infty)$ ،
 f مقعر للأسفل على $(0, 1)$ ،
وله نقطة انعطاف هي: $(1, 4)$

$$f(x) = xe^x$$

$$f'(x) = xe^x + e^x$$

$$f''(x) = xe^x + e^x + e^x = e^x(x+2) = 0 \rightarrow x = -2$$

25



f مقعر للأعلى على $(-2, \infty)$ ،
 f مقعر للأسفل على $(-\infty, -2)$ ،
وله نقطة انعطاف هي: $(-2, -2e^{-2})$

$$f(x) = 6x - x^2$$

$$f'(x) = 6 - 2x = 0 \rightarrow x = 3$$

$$f''(x) = -2 \rightarrow f''(3) = -2 < 0$$

26

للاقتزان f قيمة عظمى محلية هي $f(3) = 9$



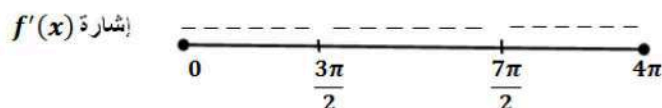
$$f(x) = \cos x - x, [0, 4\pi]$$

$$f'(x) = -\sin x - 1 = 0 \rightarrow \sin x = -1 \rightarrow x = \frac{3\pi}{2}, x = \frac{7\pi}{2}$$

$$f''(x) = -\cos x$$

$$\rightarrow f''\left(\frac{3\pi}{2}\right) = 0, f''\left(\frac{7\pi}{2}\right) = 0$$

27 ويكون اختبار المشتقة الثانية قد فشل في تحديد نوع القيم $f\left(\frac{3\pi}{2}\right), f\left(\frac{7\pi}{2}\right)$ ، لذا نستخدم اختبار المشتقة الأولى والذي يعتمد على دراسة إشارتها:



نلاحظ أن $f'(x)$ لا تغير إشارتها أبداً، إذن ليس للاقتران f قيم قصوى محلية.

$$f(x) = \frac{x^2}{x-1}$$

$$f'(x) = \frac{(x-1)(2x) - x^2}{(x-1)^2} = \frac{x^2 - 2x}{(x-1)^2} = 0 \rightarrow x(x-2) = 0 \rightarrow x = 0, x = 2$$

28

$$f''(x) = \frac{2}{(x-1)^3}$$

$$f''(0) = -2 < 0, f''(2) = 2 > 0$$

للاقتران f قيمة عظمى محلية هي $f(0) = 0$ وله قيمة صغرى محلية هي $f(2) = 4$

$$f(x) = x \ln x$$

$$f'(x) = (x) \left(\frac{1}{x}\right) + \ln x = 1 + \ln x = 0 \rightarrow \ln x = -1 \rightarrow x = e^{-1}$$

29

$$f''(x) = \frac{1}{x}$$

$$\rightarrow f''(e^{-1}) = e > 0$$

للاقتران f قيمة صغرى محلية هي $f(e^{-1}) = -e^{-1}$



$$f(x) = \frac{x}{2^x}$$

$$f'(x) = \frac{2^x - (x)(2^x \ln 2)}{2^{2x}} = 2^{-x} - (x)(2^{-x} \ln 2) = 2^{-x}(1 - x \ln 2) = 0$$

30

$$\rightarrow x = \frac{1}{\ln 2}$$

$$f''(x) = (2^{-x})(-\ln 2) + (1 - x \ln 2)(-2^{-x} \ln 2)$$

$$= -2^{-x} \ln 2 (2 - x \ln 2)$$

$$\rightarrow f''\left(\frac{1}{\ln 2}\right) = -2^{-\frac{1}{\ln 2}} \ln 2 \left(2 - \frac{1}{\ln 2} \times \ln 2\right) = -2^{-\frac{1}{\ln 2}} \ln 2 < 0$$

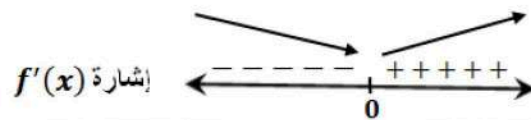
للاقتزان f قيمة عظمى محلية هي $f\left(\frac{1}{\ln 2}\right) = \frac{\frac{1}{\ln 2}}{2^{\frac{1}{\ln 2}}}$

$$f(x) = x^{\frac{2}{3}} - 3$$

$$f'(x) = \frac{2}{3} x^{-\frac{1}{3}} = \frac{2}{3\sqrt[3]{x}}$$

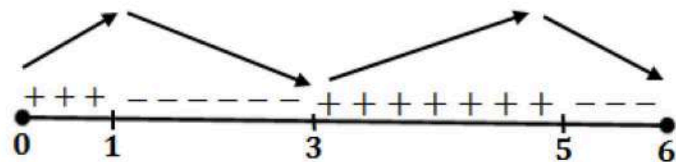
31

$f'(x)$ لا تساوي صفرًا أبدًا، لكنها غير موجودة عند $x = 0$ ، فلا يمكن تطبيق اختبار المشتقة الثانية لمعرفة القيم القصوى، لذا نستخدم اختبار المشتقة الأولى بدراسة إشارتها:



للاقتزان f قيمة صغرى محلية هي $f(0) = -3$

نلاحظ من الرسم المعطى أن $f'(x) = 0$ عند $x = 1, x = 3, x = 5$ ، وأن إشارة $f'(x)$ على النحو الآتي:



32

للاقتزان f قيمة صغرى محلية عند $x = 3$

للاقتزان f قيمة عظمى محلية عند $x = 1, x = 5$

33

الاقتزان f متزايد على $(0, 1), (3, 5)$ ، ومتناقص على $(1, 3), (5, 6)$



$$f(x) = x^3 + ax^2 + bx + c$$

الاقتران f كثير حدود فهو قابل للاشتقاق على R ، بما أن كل نقطة قيمة قصوى هي نقطة حرجة، فإن

$$f'(-3) = 0 \text{ و } f'(1) = 0$$

$$f'(x) = 3x^2 + 2ax + b$$

34

$$f'(-3) = 27 - 6a + b = 0 \dots (1)$$

$$f'(1) = 3 + 2a + b = 0 \dots (2)$$

النقطة $(1, -14)$ تقع على منحنى الاقتران، لذا فإن $f(1) = -14$

$$f(1) = 1 + a + b + c = -14 \dots (3)$$

ب طرح المعادلتين (1) و (2) نجد أن: $a = 3$

ثم بتعويض قيمة a في المعادلة (2) نجد أن: $b = -9$

ثم بتعويض قيمة كل من a و b في المعادلة (3) نجد أن: $c = -9$

$$f(x) = \sqrt{x+1} + \frac{b}{x}$$

$$f'(x) = \frac{1}{2\sqrt{x+1}} - \frac{b}{x^2}$$

35

$$f''(x) = \frac{-1}{4(x+1)\sqrt{x+1}} + \frac{2b}{x^3}$$

بما أنه يوجد نقطة انعطاف عند $x = 3$ فإما أن يكون $f''(3) = 0$ أو $f''(3)$ غير موجودة،


لكن بالنظر إلى قاعدة الاقتران f'' فإن $f''(x)$ غير موجودة عند $x = -1$ و $x = 0$ ،

إذن $f''(3) = 0$ ، ومنه:

$$f''(3) = \frac{-1}{32} + \frac{2b}{27} = 0 \rightarrow b = \frac{27}{64}$$

نلاحظ من الشكل أن $f''(x) = 0$ عند $x = 0$ و $x = 2$ ، وأن إشارة $f''(x)$ على النحو الآتي:

إشارة $f''(x)$



36

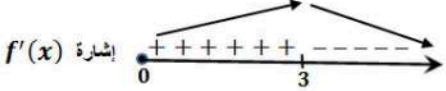
f مقعر للأسفل على $(0, 2)$ ،

f مقعر للأعلى على $(-\infty, 0)$ ، $(2, \infty)$

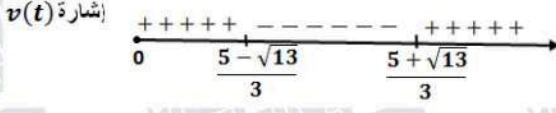
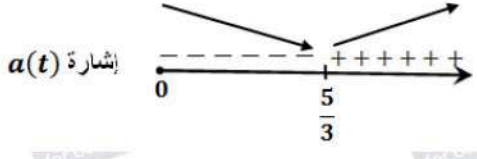
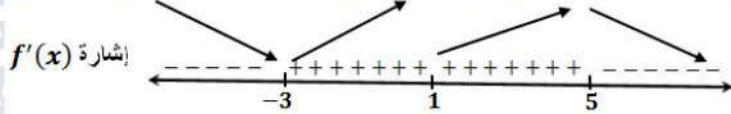
37

توجد نقطتا انعطاف عند $x = 0$ و $x = 2$



38	$B(x) = 305x^2 - 1830x^3, 0 \leq x \leq 0.16$ $B'(x) = 610x - 5490x^2 = 0 \rightarrow 610x(1 - 9x) = 0$ $\rightarrow x = 0, x = \frac{1}{9} \approx 0.11$ <p>القيمة الحرجة هي: $x = \frac{1}{9}$</p> $B(0) = 0$ $B\left(\frac{1}{9}\right) = 305\left(\frac{1}{9}\right)^2 - 1830\left(\frac{1}{9}\right)^3 \approx 1.26$ $B(0.16) = 305(0.16)^2 - 1830(0.16)^3 \approx 0.31$ <p>الحد الأقصى لضغط الدم هو 1.26 ويحدث عند تناول $\frac{1}{9} \text{ cm}^3$ من الدواء</p>
39	<p>يكون الجسم في حالة سكون عندما $v(t) = 0$ أي: $s'(t) = 0$ وهذا يحدث عندما يكون لمنحنى $s(t)$ مماس أفقي، أي عند $t = 2$ و $t = 6$</p>
40	<p>يتحرك الجسم في الاتجاه الموجب أو السالب تبعاً لإشارة $s'(t) = v(t)$، وهذه الإشارة ترتبط بكون منحنى $s(t)$ متزايداً أو متناقصاً: يتحرك الجسم بالاتجاه الموجب في كل من الفترتين: $(0, 2)$، $(6, 7)$ لأن اقتران الموقع متزايد فيهما. ويتحرك في الاتجاه السالب في الفترة $(2, 6)$ لأن اقتران الموقع متناقص فيها.</p>
41	<p>تتزايد $v(t)$ عندما $s''(t) = v'(t)$ يكون موجباً أي عندما يكون منحنى $s(t)$ مقعراً للأعلى، أي في الفترة $(4, 7)$ تتناقص $v(t)$ عندما $s''(t) = v'(t)$ يكون سالباً أي عندما يكون منحنى $s(t)$ مقعراً للأسفل، أي في الفترة $(0, 4)$</p>
42	$f(x) = \frac{1500}{x^2 - 6x + 10} - 150$ $f'(x) = \frac{-1500(2x - 6)}{(x^2 - 6x + 10)^2} = 0 \rightarrow x = 3$ <p>القيمة الحرجة الوحيدة هي $x = 3$ لأن المقام لا يساوي صفراً</p> <div style="text-align: center;"></div> <p>بدراسة إشارة $f'(x)$ نلاحظ أن للاقتران f قيمة عظمى عندما $x = 3$، أي أنّ عدد مكبرات الصوت اللازم إنتاجها وبيعها لتحقيق أكبر ربح أسبوعي ممكن هو 3</p>



43	$s(t) = t^3 - 5t^2 + 4t, t \geq 0$ $v(t) = 3t^2 - 10t + 4 = 0 \rightarrow t = \frac{5 \pm \sqrt{13}}{3}$  <p>يتحرك الجسم بالاتجاه الموجب في كل من الفترتين: $(0, \frac{5-\sqrt{13}}{3})$، $(\frac{5+\sqrt{13}}{3}, \infty)$ ويتحرك في الاتجاه السالب في الفترة $(\frac{5-\sqrt{13}}{3}, \frac{5+\sqrt{13}}{3})$</p>
44	$a(t) = 6t - 10 = 0 \rightarrow t = \frac{5}{3}$  <p>تتزايد $v(t)$ وتتناقص وفقاً لإشارة $a(t) = v'(t)$ تتزايد سرعة الجسم المتجهة في الفترة $(\frac{5}{3}, \infty)$ وتتناقص على الفترة $(0, \frac{5}{3})$</p>
45	تكون $f'(x) > 0$ ، و $f''(x) > 0$ عند النقاط التي يكون عندها الاقتران f متزايداً ومنحناه مقعراً للأعلى. النقطة التي تحقق هذين الشرطين من بين النقاط المحددة على الرسم هي l :
46	تكون $f'(x) < 0$ ، و $f''(x) < 0$ عند النقاط التي يكون عندها الاقتران f متناقصاً ومنحناه مقعراً للأسفل. النقطة التي تحقق هذين الشرطين من بين النقاط المحددة على الرسم هي p :
47	تكون $f'(x) < 0$ ، و $f''(x) > 0$ عند النقاط التي يكون عندها الاقتران f متناقصاً ومنحناه مقعراً للأعلى. النقطة التي تحقق هذين الشرطين من بين النقاط المحددة على الرسم هي k :
48	نلاحظ من الرسم أن $f'(x) = 0$ عند $x = -3, x = 1, x = 5$ ، وأن إشارة $f'(x)$ على النحو الآتي: 
49	لاقتران f قيمة صغرى محلية عند $x = -3$ وله قيمة عظمى محلية عند $x = 5$ لاقتران f متزايد على $(-3, 5)$ ومتناقص على $(-\infty, -3)$ ، $(5, \infty)$



50	<p>يكون منحنى f مقعرًا للأعلى في الفترة (أو الفترات) التي يكون فيها f' متزايدًا حيث تكون في هذه الفترات مشتقة f' أي f'' موجبة. يتضح من الرسم أن f' متزايدة في الفترتين: $(-\infty, -2)$, $(1, 4)$ وعندما تكون f' متناقصة في فترة ما تكون f'' سالبة ويكون منحنى f مقعرًا للأسفل، ويتضح من الرسم أن f' متناقصة في الفترتين: $(-2, 1)$, $(4, \infty)$، إذن، منحنى f مقعر للأسفل في الفترتين $(-2, 1)$, $(4, \infty)$، ومقعر للأعلى في الفترتين $(-\infty, -2)$, $(1, 4)$.</p>
51	<p>f له ثلاث نقاط انعطاف عند $x = -2, x = 1, x = 4$ لأن للاقتران f' قيم قصوى عندها.</p>
52	<p>$h(x)$ هو مشتقة $g(x)$ أي $g'(x) = h(x)$ وليس العكس التبرير: بما أن أحدهما هو مشتقة الآخر (من المعطيات)، يكفي ملاحظة الفترة $x < -2$ حيث g متزايد و h أكبر من الصفر، وهذا ينسجم مع كون h هو مشتقة g بينما في هذه الفترة نفسها h متناقص و g لا يحافظ على الإشارة السالبة، وهذا يؤكد أن g ليس مشتقة h والنظر لباقي الفترات بالمنهجية نفسها يؤدي إلى ذات النتيجة. كذلك للاقتران g قيمة صغرى محلية عند $x = -2$، ونلاحظ أن $h(-2) = 0$، ما يؤكد أن $g'(x) = h(x)$.</p>



$$f(x) = x^a(1-x)^b, x \in [0, 1], a > 0, b > 0$$

$$f'(x) = -bx^a(1-x)^{b-1} + ax^{a-1}(1-x)^b$$

$$= x^{a-1}(1-x)^{b-1}(a(1-x) - bx)$$

$$= x^{a-1}(1-x)^{b-1}(a - (a+b)x)$$

$$f'(x) = 0 \rightarrow x = 0, x = 1, x = \frac{a}{a+b}$$

بما أن a ، و b موجبان، فإن:

$$0 < a < a+b$$

وبقسمة حدود المتباينة على $(a+b)$ ينتج أن:

$$0 < \frac{a}{a+b} < 1$$

أي أن العدد $\frac{a}{a+b}$ يقع ضمن مجال الاقتران f وهو $[0, 1]$

إذن القيمة الحرجة في الفترة $(0, 1)$ هي: $x = \frac{a}{a+b}$

أجد قيمة الاقتران عند القيمة الحرجة وطرفي المجال.

$$f\left(\frac{a}{a+b}\right) = \left(\frac{a}{a+b}\right)^a \left(1 - \frac{a}{a+b}\right)^b = \left(\frac{a}{a+b}\right)^a \left(\frac{b}{a+b}\right)^b$$

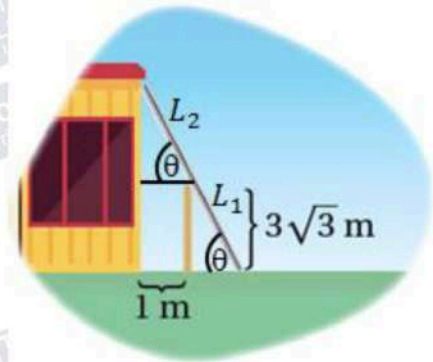
$$f(0) = 0, f(1) = 0$$

إذن القيمة العظمى المطلقة للاقتران f هي $f\left(\frac{a}{a+b}\right) = \left(\frac{a}{a+b}\right)^a \left(\frac{b}{a+b}\right)^b$

الدرس الثالث: تطبيقات القيم القسوى

مسألة اليوم صفحة 119

ليكن θ قياس الزاوية بين السلم والأرض، كما في الشكل:



$$\sin \theta = \frac{3\sqrt{3}}{L_1}, \cos \theta = \frac{1}{L_2}, 0 < \theta < \frac{\pi}{2}$$

$$L = L_1 + L_2 = \frac{3\sqrt{3}}{\sin \theta} + \frac{1}{\cos \theta}$$

$$\frac{dL}{d\theta} = \frac{-3\sqrt{3} \cos \theta}{\sin^2 \theta} + \frac{\sin \theta}{\cos^2 \theta}$$

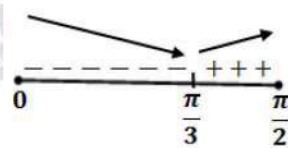
$$\frac{dL}{d\theta} = 0 \rightarrow 3\sqrt{3} \cos^3 \theta = \sin^3 \theta$$

$$\rightarrow \tan^3 \theta = 3\sqrt{3} = \sqrt{3}^3$$

$$\rightarrow \tan \theta = \sqrt{3}$$

$$\rightarrow \theta = \frac{\pi}{3}$$

$\theta = \frac{\pi}{3}$ قيمة حرجة وحيدة، نستخدم اختبار المشتقة الأولى وندرس إشارة $\frac{dL}{d\theta}$:



للافتتان L قيمة صغرى محلية عندما $\theta = \frac{\pi}{3}$

$$L\left(\frac{\pi}{3}\right) = \frac{3\sqrt{3}}{\sin \frac{\pi}{3}} + \frac{1}{\cos \frac{\pi}{3}} = 6 + 2 = 8 \text{ m}$$

إن أقل طول ممكن للسلم هو 8 m



أتحقق من فهمي صفحة 121

ليكن حجم الصندوق V ومساحة سطحه الكلية A

$$A = 4xh + x^2 = 1080 \rightarrow h = \frac{1080 - x^2}{4x}$$

$$V = x^2h$$

$$V(x) = x^2 \left(\frac{1080 - x^2}{4x} \right) = \frac{1}{4}(1080x - x^3), \quad 0 \leq x \leq \sqrt{1080}$$

$$V'(x) = \frac{1}{4}(1080 - 3x^2)$$

$$V'(x) = 0 \rightarrow x = \sqrt{360}$$

القيمة الحرجة هي: $\sqrt{360}$

أجد حجم الصندوق عند القيمة الحرجة وعند طرفي المجال.

$$V(0) = 0$$

$$V(\sqrt{360}) = \frac{1}{4}(1080\sqrt{360} - 360\sqrt{360}) = 180\sqrt{360} = 1080\sqrt{10}$$

$$V(\sqrt{1080}) = 0$$

إنه يكون الحجم أكبر ما يمكن عندما $x = 6\sqrt{10}$ cm وعندها يكون الارتفاع $h = 3\sqrt{10}$ cm

أتحقق من فهمي صفحة 124

ليكن طول السياج L ومساحة الحظيرة A

$$A = xy = 245000 \rightarrow y = \frac{245000}{x}$$

$$L = x + 2y$$

$$L(x) = x + \frac{490000}{x}, \quad x > 0$$

$$L'(x) = 1 - \frac{490000}{x^2}$$

$$L'(x) = 0 \rightarrow x = 700$$

قيمة x الحرجة هي: 700

$$L''(x) = \frac{980000}{x^3} \rightarrow L''(700) = \frac{980000}{(700)^3} > 0$$

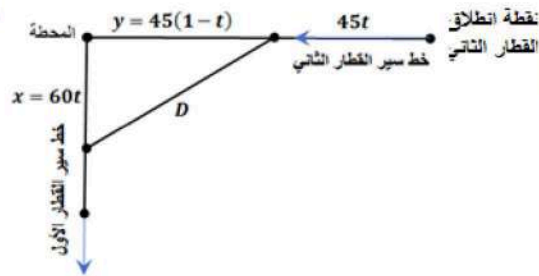
إنه، يكون طول سياج أقل ما يمكن عندما $x = 700$ m و $y = \frac{245000}{700} = 350$ m



أتحقق من فهمي صفحة 126

نفرض x بعد القطار الأول عن المحطة، y بعد القطار الثاني عن المحطة ونفرض D البعد بين القطارين،

القطار الثاني استغرق ساعة واحدة للوصول إلى المحطة، إذن فقد انطلق من نقطة تبعد 45 كيلومتراً عنها،



بعد t ساعة من انطلاقهما يكون: $x = 60t$ ، ويكون $y = 45 - 45t = 45(1 - t)$

$$D(t) = \sqrt{(60t)^2 + (45(1-t))^2} = \sqrt{3600t^2 + 2025(1-t)^2}, 0 \leq t \leq 1$$

$$D'(t) = \frac{7200t - 4050(1-t)}{2\sqrt{3600t^2 + 2025(1-t)^2}} = \frac{11250t - 4050}{2\sqrt{3600t^2 + 2025(1-t)^2}}$$

$$D'(t) = 0 \rightarrow t = \frac{4050}{11250} = \frac{9}{25}$$

القيمة الحرجة هي: $t = \frac{9}{25}$

أجد المسافة D عند القيمة الحرجة وعند طرفي المجال.

$$D(0) = \sqrt{2025} = 45$$

$$D(1) = \sqrt{3600} = 60$$

$$D\left(\frac{9}{25}\right) = \sqrt{3600\left(\frac{9}{25}\right)^2 + 2025\left(1 - \frac{9}{25}\right)^2} = 36$$

إن يكون القطاران أقرب ما يمكن إلى بعضهما عندما $t = \frac{9}{25} h$ أي بعد 21 دقيقة و36 ثانية

وتكون الساعة حينئذ 10:21:36



أتحقق من فهمي صفحة 128

ليكن سعر بيع الشاشة الواحدة هو x دينار
أي إن مقدار الخصم من سعر بيع الشاشة الواحدة هو $350 - x$ دينار
وبالتالي تحصل زيادة في عدد الشاشات المباعة مقدارها $700 - 2x$ شاشة
إذن عدد الشاشات المباعة سيكون: $200 + 700 - 2x = 900 - 2x$
الإيراد = عدد الشاشات المباعة \times سعر بيع الشاشة الواحدة بعد الخصم:

$$R(x) = (900 - 2x)x = 900x - 2x^2$$

$$R'(x) = 900 - 4x$$

$$R'(x) = 0 \rightarrow x = 225$$

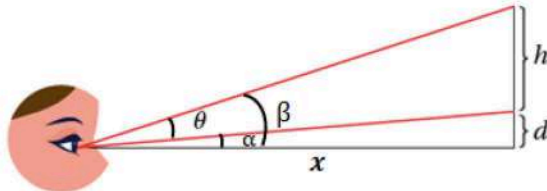
توجد قيمة حرجة وحيدة هي 225

$$R''(x) = -4 \rightarrow R''(225) = -4 < 0$$

نلاحظ أن اقتران الإيراد له قيمة عظمى عندما $x = 225$
إذن يحقق المتجر أعلى إيراد ممكن عندما يكون سعر بيع الشاشة الواحدة هو 225 ديناراً

أتحقق من فهمي صفحة 129

نسمي الأبعاد وقياسات الزوايا كما في الشكل:



$$\tan \theta = \tan(\beta - \alpha) = \frac{\tan \beta - \tan \alpha}{1 + \tan \beta \tan \alpha} = \frac{\frac{h+d}{x} - \frac{d}{x}}{1 + \frac{d(h+d)}{x^2}}, x > 0$$

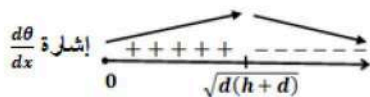
$$\tan \theta = \frac{xh}{x^2 + d(h+d)}$$

$$\sec^2 \theta \frac{d\theta}{dx} = \frac{(x^2 + d(h+d))(h) - xh(2x)}{(x^2 + d(h+d))^2}$$

$$\frac{d\theta}{dx} = \cos^2 x \times \frac{(-x^2 + d(h+d))(h)}{(x^2 + d(h+d))^2} = 0$$

$$(-x^2 + d(h+d))(h) = 0, \text{ فإن } \cos^2 x \neq 0, \text{ إذن } \theta < \frac{\pi}{2}$$

$$x^2 = d(h+d) \rightarrow x = \sqrt{d(h+d)}$$



توجد قيمة حرجة وحيدة هي $x = \sqrt{d(h+d)}$ نستخدم اختبار المشتقة الأولى، وندرس إشارة $\frac{d\theta}{dx}$

أعوض $x = \sqrt{dh}$

$$\frac{d\theta}{dx} = \cos^2 \sqrt{dh} \times \frac{(-dh + d(h+d))(h)}{(dh + d(h+d))^2}$$

$$= \cos^2 \sqrt{dh} \times \frac{d^2 h}{(dh + d(h+d))^2} > 0$$

أعوض $x = \sqrt{d(2h+d)}$

$$\frac{d\theta}{dx} = \cos^2 \sqrt{d(2h+d)} \times \frac{(-d(2h+d) + d(h+d))(h)}{(dh + d(h+d))^2}$$

$$= \cos^2 \sqrt{d(2h+d)} \times \frac{-dh^2}{(dh+d(h+d))^2} < 0$$

إذن يجب أن تبتعد سارة عن الجدار مسافة $m \sqrt{d(h+d)}$ لتكون زاوية نظرها θ أكبر ما يمكن



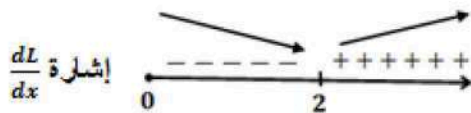
تحقق من فهمي صفحة 131

لتكن النقطة (x, y) على منحنى $f(x) = \sqrt{8x}$ ، ولتكن المسافة بينها وبين النقطة $(4, 2)$ هي L حيث:

$$L = \sqrt{(x-4)^2 + (y-2)^2} = \sqrt{(x-4)^2 + (\sqrt{8x}-2)^2}$$
$$\frac{dL}{dx} = \frac{x-4 + (\sqrt{8x}-2)\left(\frac{4}{\sqrt{8x}}\right)}{\sqrt{(x-4)^2 + (\sqrt{8x}-2)^2}} = \frac{x - \frac{8}{\sqrt{8x}}}{\sqrt{(x-4)^2 + (\sqrt{8x}-2)^2}}$$

$$\frac{dL}{dx} = 0 \rightarrow x = \frac{8}{\sqrt{8x}} \rightarrow x\sqrt{8x} = 8 \rightarrow 8x^3 = 64 \rightarrow x^3 = 8 \rightarrow x = 2$$

نستخدم اختبار المشتقة الأولى وندرس إشارة $\frac{dL}{dx}$



إذن أقرب نقطة من نقاط المنحنى f للنقطة $(4, 2)$ هي: $(2, 4)$

أدرب وأحل المسائل صفحة 131

1 $V(x) = (12-x)(9-2x)x = 2x^3 - 33x^2 + 108x$

حتى يتشكل لدينا صندوق، يجب أن تكون أبعاده كلها موجبة، وذلك بتحقق الشروط الثلاثة الآتية معاً:

2 $x > 0$ و $12-x > 0$ و $9-2x > 0 \rightarrow x > 0$ و $x < 12$ و $x < \frac{9}{2}$

أي أن مجال الاقتران $V(x)$ هو $(0, \frac{9}{2})$

3 $V'(x) = 6x^2 - 66x + 108$

$$V'(x) = 0 \rightarrow 6(x-9)(x-2) = 0 \rightarrow x = 9, x = 2$$

القيمة 9 خارج المجال، إذن تهمل، فتكون القيمة الحرجة الوحيدة ضمن المجال هي $x = 2$

3 $V''(x) = 12x - 66$

$$V''(2) = 12(2) - 66 = -42 < 0$$

وعليه فإن حجم الصندوق يكون أكبر ما يمكن عندما تكون أبعاده: 2 m, 5 m, 10m

ويكون حجمه عندئذ $V(2) = 100 \text{ m}^3$



لتكن النقطة (x, y) على منحنى العلاقة $4x^2 + y^2 = 4$ ، ولتكن المسافة بينها وبين النقطة $(0, 1)$ هي L حيث:

$$L = \sqrt{(x-0)^2 + (y-1)^2} = \sqrt{x^2 + (y-1)^2} = \sqrt{\frac{4-y^2}{4} + y^2 - 2y + 1}$$
$$= \sqrt{\frac{3}{4}y^2 - 2y + 2}, y \in [-2, 2]$$

$$\frac{dL}{dy} = \frac{\frac{3}{4}y - 1}{\sqrt{\frac{3}{4}y^2 - 2y + 2}}$$

$$4 \quad \frac{dL}{dy} = 0 \rightarrow y = \frac{4}{3}$$

إذن توجد قيمة حرجة وحيدة ضمن مجال $L(y)$ هي $y = \frac{4}{3}$ وبمقارنة $L(\frac{4}{3})$ مع $L(-2)$ و $L(2)$ نجد أن $L(\frac{4}{3})$ قيمة صغرى مطلقة لأن:

$$L(-2) = \sqrt{3 + 4 + 2} = 3$$

$$L(2) = \sqrt{3 - 4 + 2} = 1$$

$$L\left(\frac{4}{3}\right) = \sqrt{\frac{4}{3} - \frac{8}{3} + 2} = \sqrt{\frac{2}{3}} \approx 0.82$$

تكون L قيمة صغرى محلية ومطلقة عندما $y = \frac{4}{3}$ ، وتكون

$$x = \pm \sqrt{\frac{4-y^2}{4}} = \pm \sqrt{\frac{4-\frac{16}{9}}{4}} = \pm \frac{\sqrt{5}}{3}$$

إذن أقرب نقطتين من نقاط المنحنى إلى النقطة $(0, 1)$ هما: $(\frac{\sqrt{5}}{3}, \frac{4}{3})$ و $(-\frac{\sqrt{5}}{3}, \frac{4}{3})$

5

المثلث قائم ومتطابق الضلعين، إذن قياس كل زاوية من زوايا قاعدته $\frac{\pi}{4}$

ميل المستقيم \overline{AB} هو $\tan \frac{3\pi}{4} = -1$ وهو يمر بالنقطة $A(1, 0)$

معادلة \overline{AB} هي: $y - 0 = -1(x - 1) \rightarrow y = 1 - x$

إذن، الإحداثي y للنقطة P هو $1 - x$

6

مساحة المستطيل = طوله \times عرضه

$$A = 2xy = 2x(1 - x) = 2x - 2x^2, 0 < x < 1$$



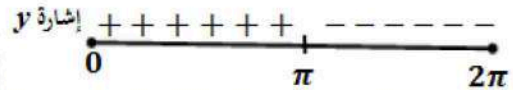
7	$A'(x) = 2 - 4x$ $A'(x) = 0 \rightarrow 2 - 4x = 0 \rightarrow x = \frac{1}{2}$ $A(0) = A(1) = 0, A\left(\frac{1}{2}\right) = \frac{1}{2}$ للاقتران A قيمة عظمى مطلقة هي: $A\left(\frac{1}{2}\right) = \frac{1}{2}$ ، إذن أكبر مساحة ممكنة للمستطيل هي $\frac{1}{2}$ وحدة مربعة.
8	الأبعاد التي تجعل مساحة المستطيل أكبر ما يمكن هي: الطول: $2x = 1$ ، والعرض: $y = 1 - x = \frac{1}{2}$
9	$s_1 = s_2 \rightarrow 2 \sin t = \sin 2t, t > 0$ $2 \sin t - 2 \sin t \cos t = 0$ $2 \sin t (1 - \cos t) = 0$ $\sin t = 0$ or $\cos t = 1$ $t = n\pi$ ، حيث n عدد طبيعي



لتكن المسافة الرأسية بين الكتلتين y حيث:

$$y = |s_1 - s_2| = |2 \sin t - \sin 2t|$$

لإعادة تعريف اقتران القيمة المطلقة ندرس إشارة $(2 \sin t - \sin 2t)$ على الفترة $[0, 2\pi]$



$$y = \begin{cases} 2 \sin t - \sin 2t, & 0 \leq t \leq \pi \\ \sin 2t - 2 \sin t, & \pi \leq t \leq 2\pi \end{cases}$$

① $y = 2 \sin t - \sin 2t, 0 \leq t \leq \pi$

$$y'(t) = 2 \cos t - 2 \cos 2t$$

$$\begin{aligned} y'(t) = 0 &\rightarrow 2 \cos t - 2 \cos 2t = 0 \rightarrow 2 \cos t - 2(2 \cos^2 t - 1) = 0 \\ &\rightarrow 2 \cos^2 t - \cos t - 1 = 0 \\ &\rightarrow (2 \cos t + 1)(\cos t - 1) = 0 \\ &\rightarrow \cos t = -\frac{1}{2} \text{ or } \cos t = 1 \\ &\rightarrow t = \frac{2\pi}{3}, t = 0 \end{aligned}$$

لإيجاد القيم القصوى نستطيع استخدام اختبار المشتقة الثانية:

$$y''(t) = -2 \sin t + 4 \sin 2t$$

$$y''\left(\frac{2\pi}{3}\right) = -2 \sin \frac{2\pi}{3} + 4 \sin 2\left(\frac{2\pi}{3}\right) = -\sqrt{3} - 2\sqrt{3} = -3\sqrt{3} < 0$$

$$y(0) = 0$$

$$y(\pi) = 0$$

$$y\left(\frac{2\pi}{3}\right) = 2 \sin\left(\frac{2\pi}{3}\right) - \sin 2\left(\frac{2\pi}{3}\right) = \frac{3\sqrt{3}}{2}$$

إذن أكبر قيمة لـ y في الفترة $[0, \pi]$ هي: $\frac{3\sqrt{3}}{2}$



② $y = \sin 2t - 2 \sin t, \pi \leq t \leq 2\pi$

$$y'(t) = 2 \cos 2t - 2 \cos t$$

$$y'(t) = 0 \rightarrow 2 \cos 2t - 2 \cos t = 0 \rightarrow 2(2 \cos^2 t - 1) - 2 \cos t = 0$$

$$\rightarrow 2 \cos^2 t - \cos t - 1 = 0$$

$$\rightarrow (2 \cos t + 1)(\cos t - 1) = 0$$

$$\rightarrow \cos t = -\frac{1}{2} \text{ or } \cos t = 1$$

$$\rightarrow t = \frac{4\pi}{3}, t = 2\pi$$

لإيجاد القيم القصوى نستطيع استخدام اختبار المشتقة الثانية:

$$y''(t) = -4 \sin 2t + 2 \sin t$$

$$y''\left(\frac{4\pi}{3}\right) = -4 \sin \frac{8\pi}{3} + 2 \sin \left(\frac{4\pi}{3}\right) = -2\sqrt{3} - \sqrt{3} = -3\sqrt{3} < 0$$

إذن، $y\left(\frac{4\pi}{3}\right)$ قيمة عظمى

$$y(\pi) = 0$$

$$y(2\pi) = 0$$

$$y\left(\frac{4\pi}{3}\right) = \sin 2\left(\frac{2\pi}{3}\right) - 2 \sin \left(\frac{2\pi}{3}\right) = \frac{3\sqrt{3}}{2}$$

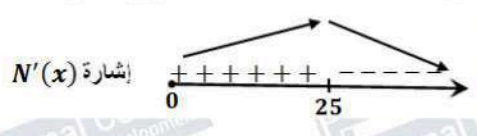
إذن أكبر قيمة لـ y في الفترة $[\pi, 2\pi]$ هي: $\frac{3\sqrt{3}}{2}$

إذن، قيم t التي تكون عندها المسافة بين الكتلتين أكبر ما يمكن هي: $t = \frac{2\pi}{3}, t = \frac{4\pi}{3}$

11 $R(x) = xp(x) = 150x - 0.5x^2$

12 $P(x) = R(x) - C(x) = 150x - 0.5x^2 - 4000 - 0.25x^2$
 $= 150x - 0.75x^2 - 4000$



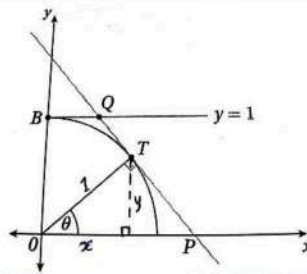
13	$P'(x) = 150 - 1.5x$ $P'(x) = 0 \rightarrow 150 - 1.5x = 0 \rightarrow x = 100$ $P''(x) = -1.5 \rightarrow P''(100) = -1.5 < 0$ إذن لتحقيق أكبر ربح ممكن يلزم بيع 100 وحدة، وتكون عندها قيمة الربح: $P(100) = 15000 - 7500 - 4000 = 3500 \text{ JD}$
14	عندما $x = 100$ ، فإن سعر البضاعة الواحدة يساوي: $p(100) = 150 - 0.5(100) = 100 \text{ JD}$
15	ليكن عدد الأشجار التي ستزرع في الفدان هو x شجرة حيث $x \geq 20$ إذن عدد الأشجار الزائدة على العشرين شجرة هو: $x - 20$ سينقص عدد الصناديق التي تنتجها كل شجرة بمقدار $(x - 20)$ صندوق ويكون عدد الصناديق التي تنتجها كل شجرة: $30 - (x - 20) = 50 - x$ سيكون اقتران الانتاج الكلي من الفدان: (عدد الأشجار \times عدد الصناديق من كل شجرة) $N(x) = x(50 - x) = 50x - x^2$ $N'(x) = 50 - 2x$ $N'(x) = 0 \rightarrow 50 - 2x = 0 \rightarrow x = 25$  إذن يتحقق أكبر إنتاج عندما يتم زرع 25 شجرة في كل فدان.
16	ليكن L طول قوس القطاع الدائري المظلّل، إذن: $P = r + r + L = 2r + r\theta = r(2 + \theta)$
17	لتكن A مساحة القطاع الدائري المظلّل، إذن: $A = \frac{1}{2}r^2\theta$ وبما أن $P = r(2 + \theta)$ فإن $\theta = \frac{P-2r}{r} = \frac{P}{r} - 2$ $A = \frac{1}{2}r^2\theta = \frac{1}{2}r^2\left(\frac{P}{r} - 2\right) = \frac{1}{2}Pr - r^2$



$$A'(r) = \frac{1}{2}P - 2r$$
$$A'(r) = 0 \rightarrow \frac{1}{2}P - 2r = 0 \rightarrow r = \frac{1}{4}P$$

18 $A''(r) = -2 \rightarrow A''\left(\frac{1}{4}P\right) = -2 < 0$

تكون مساحة الحقل أكبر ما يمكن عندما $r = \frac{1}{4}P$



$$\sin \theta = \frac{y}{1}, \cos \theta = \frac{x}{1} \rightarrow T(\cos \theta, \sin \theta)$$

19 ميل OT يساوي $\tan \theta$ لأن زاوية ميله θ ، ومنه فإن ميل TP يساوي $\frac{-1}{\tan \theta} = \frac{-\cos \theta}{\sin \theta}$ لأنه يعامد

$$y - \sin \theta = \frac{-\cos \theta}{\sin \theta} (x - \cos \theta) \rightarrow y \sin \theta - \sin^2 \theta = -\cos \theta (x - \cos \theta)$$

$$\rightarrow y \sin \theta - \sin^2 \theta = -x \cos \theta + \cos^2 \theta$$

$$\rightarrow y \sin \theta + x \cos \theta = 1$$



$$A = \frac{1}{2}(OP + BQ)(OB)$$

لإيجاد OP نضع $y=0$ في معادلة المستقيم TP فنجد أن:

$$0 + x \cos \theta = 1 \rightarrow x = \frac{1}{\cos \theta} = OP$$

20

لإيجاد BQ نضع $y=1$ في معادلة المستقيم TP فنجد أن:

$$\sin \theta + x \cos \theta = 1 \rightarrow x = \frac{1 - \sin \theta}{\cos \theta} = BQ$$

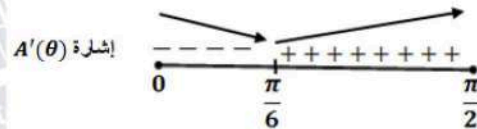
ومنه تكون مساحة شبه المنحرف هي:

$$A(\theta) = \frac{1}{2}(OP + BQ)(OB) = \frac{1}{2}\left(\frac{1}{\cos \theta} + \frac{1 - \sin \theta}{\cos \theta}\right)(1) = \frac{2 - \sin \theta}{2 \cos \theta}$$

$$A'(\theta) = \frac{(2 \cos \theta)(-\cos \theta) - (2 - \sin \theta)(-2 \sin \theta)}{4 \cos^2 \theta} = \frac{2 \sin \theta - 1}{2 \cos^2 \theta}$$

$$A'(\theta) = 0 \rightarrow 2 \sin \theta - 1 = 0 \rightarrow \sin \theta = \frac{1}{2} \rightarrow \theta = \frac{\pi}{6}$$

21



تكون مساحة شبه المنحرف أقل ما يمكن عندما $\theta = \frac{\pi}{6}$



لتكن كمية الضوء المارة خلال النافذة كاملة Q

$$Q = 3xy + \frac{1}{2} \times \pi \left(\frac{x}{2}\right)^2 = 3xy + \frac{1}{8} \pi x^2$$

محيط النافذة بالإضافة إلى القطعة الفاصلة بين الجزأين هو L

$$L = 2x + 2y + \pi \frac{x}{2} = 10 \rightarrow y = 5 - \left(1 + \frac{\pi}{4}\right)x$$

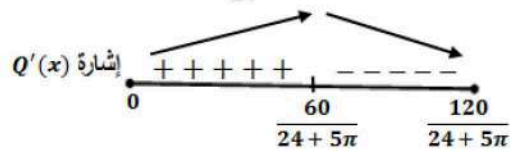
ومنه فإن كمية الضوء تصبح:

$$22 \quad Q(x) = 3x \left(5 - \left(1 + \frac{\pi}{4}\right)x\right) + \frac{1}{8} \pi x^2, \quad 0 \leq x \leq \frac{120}{24 + 5\pi}$$

$$= 15x - \left(3 + \frac{5\pi}{8}\right)x^2$$

$$Q'(x) = 15 - \left(6 + \frac{5\pi}{4}\right)x$$

$$Q'(x) = 0 \rightarrow x = \frac{60}{24 + 5\pi}$$



إذن تكون كمية الضوء المار خلال النافذة أكبر ما يمكن عندما:

$$x = \frac{60}{24 + 5\pi}, \quad y = \frac{60 + 10\pi}{24 + 5\pi}$$

$$23 \quad L = AE + EB = \sqrt{x^2 + 25} + \sqrt{(9-x)^2 + 49}, \quad 0 \leq x \leq 9$$

$$24 \quad \frac{dL}{dx} = \frac{x}{\sqrt{x^2 + 25}} + \frac{-(9-x)}{\sqrt{(9-x)^2 + 49}}$$

$$\frac{dL}{dx} = 0 \rightarrow \frac{x}{\sqrt{x^2 + 25}} = \frac{9-x}{\sqrt{(9-x)^2 + 49}} \rightarrow \sin \alpha = \sin \beta$$

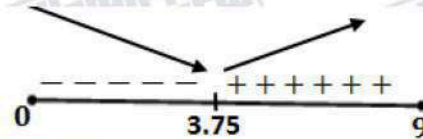


من الفرع السابق، بما أن $\sin \alpha = \sin \beta$ ، والزاويتان α و β حادتان، إذن $\beta = \alpha$ ومنه فإن $\tan \alpha = \tan \beta$ أي:

$$\frac{x}{5} = \frac{9-x}{7} \rightarrow 7x = 45 - 5x \rightarrow 12x = 45 \rightarrow x = \frac{15}{4} = 3.75$$

25

إشارة $\frac{dL}{dx}$



إذن قيمة x التي تجعل المسافة التي يقطعها يوسف أقل ما يمكن هي 3.75 km

ليكن حجم العلية V ومساحة سطحها الكلية مع الغطاء A وارتفاعها h

$$A = 2(\pi x^2) + 2\pi xh + 2\pi x = 80\pi \rightarrow x^2 + (1+h)x = 40$$

$$\rightarrow h = \frac{40}{x} - x - 1$$

$$V = \pi x^2 h = \pi x^2 \left(\frac{40}{x} - x - 1 \right) = \pi(40x - x^3 - x^2)$$

$$\frac{dV}{dx} = \pi(40 - 3x^2 - 2x)$$

26

$$\frac{dV}{dx} = 0 \rightarrow \pi(40 - 3x^2 - 2x) = 0$$

$$\rightarrow 3x^2 + 2x - 40 = 0$$

$$\rightarrow (3x - 10)(x + 4) = 0 \rightarrow x = \frac{10}{3}$$

$$\frac{d^2V}{dx^2} = \pi(-6x - 2)$$

$$\frac{d^2V}{dx^2} \Big|_{x=\frac{10}{3}} = -22\pi < 0$$

إذن قيمة x التي تجعل حجم العلية أكبر ما يمكن هي $x = \frac{10}{3}$

27

$$V\left(\frac{10}{3}\right) = \pi\left(40\left(\frac{10}{3}\right) - \left(\frac{10}{3}\right)^3 - \left(\frac{10}{3}\right)^2\right) = \frac{2300}{27}\pi \text{ cm}^3$$



لتكن مساحة الغطاء الكلية A_c

$$A_c = \pi x^2 + 2\pi x(1) = \pi x(x + 2)$$

$$A_c\left(\frac{10}{3}\right) = \pi\left(\frac{10}{3}\right)\left(\frac{10}{3} + 2\right) = \frac{160\pi}{9}$$

28

النسبة المئوية للجزء المستعمل لصنع الغطاء من مساحة الصفيحة هي:

$$\begin{aligned} \frac{A_{cc}}{80\pi} \times 100\% &= \frac{160\pi}{9} \times 100\% \\ &= \frac{200}{9}\% \approx 22.2\% \end{aligned}$$

29

$$T = T_{AD} + T_{DC} = \frac{200 - x}{10} + \frac{\sqrt{x^2 + 6400}}{6}$$

30

$$\frac{dT}{dx} = -\frac{1}{10} + \frac{x}{6\sqrt{x^2 + 6400}}$$

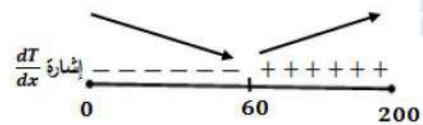
$$\frac{dT}{dx} = 0 \rightarrow \frac{x}{6\sqrt{x^2 + 6400}} = \frac{1}{10}$$

$$\rightarrow 10x = 6\sqrt{x^2 + 6400}$$

$$\rightarrow 25x^2 = 9(x^2 + 6400)$$

$$\rightarrow 16x^2 = 9(6400)$$

$$\rightarrow x = 60 \text{ m}$$



إذن قيمة x التي يكون عندها الزمن T أقل ما يمكن هي: $x = 60 \text{ m}$

منهاجي

متعة التعليم الهادف





ليكن L طول AB ، النقاط A و B و P على استقامة واحدة، إذن المثلثان القائمان AQP, PRB متشابهان،

$$\frac{BR}{1} = \frac{8}{x} \rightarrow BR = \frac{8}{x}$$

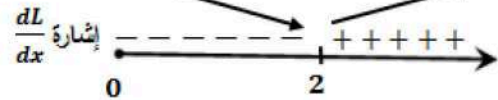
ينتج عن ذلك:

$$\begin{aligned} L &= AP + PB = \sqrt{1+x^2} + \sqrt{64 + \left(\frac{8}{x}\right)^2} \\ &= \sqrt{1+x^2} + \sqrt{\frac{64x^2 + 64}{x^2}} \\ &= \sqrt{1+x^2} + \frac{8}{x}\sqrt{1+x^2} \\ &= \sqrt{1+x^2} \left(1 + \frac{8}{x}\right), x > 0 \end{aligned}$$

31

$$\begin{aligned} \frac{dL}{dx} &= \sqrt{1+x^2} \left(-\frac{8}{x^2}\right) + \left(1 + \frac{8}{x}\right) \left(\frac{x}{\sqrt{1+x^2}}\right) \\ &= \frac{-8\sqrt{1+x^2}}{x^2} + \frac{8+x}{\sqrt{1+x^2}} \end{aligned}$$

$$\begin{aligned} \frac{dL}{dx} = 0 &\rightarrow \frac{8\sqrt{1+x^2}}{x^2} = \frac{8+x}{\sqrt{1+x^2}} \\ &\rightarrow 8(1+x^2) = 8x^2 + x^3 \\ &\rightarrow x^3 = 8 \rightarrow x = 2 \end{aligned}$$

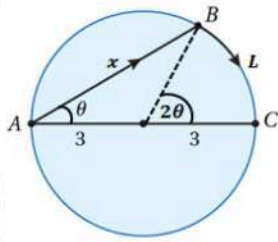


إذن قيمة x التي تجعل طول الطريق الجديد أقصر ما يمكن هي: $x = 2 \text{ km}$

منهاجي

متعة التعليم الهادف





المثلث ABC قائم الزاوية في B لأن الزاوية ABC محيطية على قطر، ومنه

$$\text{فإن: } \cos \theta = \frac{x}{6}$$

قياس الزاوية COB يساوي 2θ لأنها مركزية مشتركة مع المحيطية CAB بالقياس نفسه.

ليكن الزمن الكلي الذي يحتاجه الرجل للوصول إلى النقطة C هو T

$$\begin{aligned} T &= T_{A \rightarrow B} + T_{B \rightarrow C} = \frac{x}{3} + \frac{L}{6} \\ &= \frac{6 \cos \theta}{3} + \frac{3(2\theta)}{6} = 2 \cos \theta + \theta, \quad 0 \leq \theta \leq \frac{\pi}{2} \end{aligned}$$

$$32 \quad \frac{dT}{d\theta} = 1 - 2 \sin \theta$$

$$\frac{dT}{d\theta} = 0 \rightarrow \sin \theta = \frac{1}{2} \rightarrow \theta = \frac{\pi}{6}$$

نقارن الزمن عند النقطة الحرجة مع الزمن عند طرفي المجال وهما $0, \frac{\pi}{2}$

$$T(0) = 2 \text{ h}$$

$$T\left(\frac{\pi}{6}\right) = \sqrt{3} + \frac{\pi}{6} \approx 2.25 \text{ h}$$

$$T\left(\frac{\pi}{2}\right) = \frac{\pi}{2} \approx 1.57 \text{ h}$$

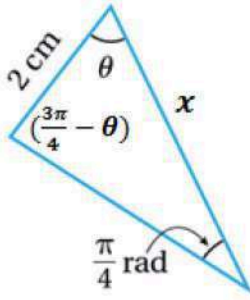
إذن القيمة الصغرى للزمن تكون عندما $\theta = \frac{\pi}{6}$ ، أي عندما تنطبق B على A ويقطع الرجل القوس AB

كاملاً راضياً على اليابسة دون تجديف في الماء.

منهاجي

متعة التعليم الهادف





ليكن طول الضلع الآخر من ضلعي الزاوية θ هو x ، فيكون قياس الزاوية المقابلة له هو $(\pi - \theta - \frac{\pi}{4})$ أي $(\frac{3\pi}{4} - \theta)$

ولتكن مساحة هذا المثلث A ، فإن:

$$A = \frac{1}{2} \times 2 \times x \times \sin \theta$$

ويتطبيق قانون الجيوب على هذا المثلث ينتج أن:

$$\frac{2}{\sin \frac{\pi}{4}} = \frac{x}{\sin(\frac{3\pi}{4} - \theta)}$$

$$x = 2\sqrt{2} \sin(\frac{3\pi}{4} - \theta)$$

$$= 2\sqrt{2} \left(\sin \frac{3\pi}{4} \cos \theta - \cos \frac{3\pi}{4} \sin \theta \right)$$

$$= 2\sqrt{2} \left(\frac{1}{\sqrt{2}} \cos \theta + \frac{1}{\sqrt{2}} \sin \theta \right)$$

$$= 2(\cos \theta + \sin \theta)$$

$$A = \frac{1}{2} \times 2 \times 2(\cos \theta + \sin \theta) \times \sin \theta$$

$$= 2(\cos \theta + \sin \theta) \times \sin \theta$$

$$= 2\cos \theta \sin \theta + 2\sin^2 \theta$$

$$= 2\cos \theta \sin \theta + \sin^2 \theta + 1 - \cos^2 \theta$$

$$= 2\cos \theta \sin \theta - (\cos^2 \theta - \sin^2 \theta) + 1$$

$$= \sin 2\theta - \cos 2\theta + 1$$

إذن، مساحة المثلث المعطى هي: $A = \sin 2\theta - \cos 2\theta + 1$

المجال هو الفترة التي تكون فيها مساحة المثلث عددًا حقيقيًا موجبًا وهو هنا الفترة $(0, \frac{3\pi}{4})$ التي طرفاها جذري اقتران المساحة لأن المساحة عند هذين الحدين تكون صفرًا وعند أي عدد بينهما تكون عددًا موجبًا،

فإذا كانت $\theta = \frac{\pi}{6}$ ، تكون مساحة المثلث:

$$A = \sin \frac{\pi}{3} - \cos \frac{\pi}{3} + 1 = \frac{\sqrt{3}}{2} - \frac{1}{2} + 1 \approx 1.37 > 0$$



$$A'(\theta) = 2\cos 2\theta + 2\sin 2\theta = 0$$

$$2\sin 2\theta = -2\cos 2\theta$$

$$\tan 2\theta = -1 \rightarrow 2\theta = \frac{3\pi}{4} \rightarrow \theta = \frac{3\pi}{8}$$

توجد قيم حرجة وحيدة ضمن مجال الاقتران هي $\theta = \frac{3\pi}{8}$

لذلك نقارن قيمة الاقتران عند النقطة الحرجة مع قيمتيه عند طرفي المجال.

35

$$A(0) = \sin 0 - \cos 0 + 1 = 0$$

$$A\left(\frac{3\pi}{8}\right) = \sin \frac{3\pi}{4} - \cos \frac{3\pi}{4} + 1 = \frac{1}{\sqrt{2}} - \left(-\frac{1}{\sqrt{2}}\right) + 1 = \frac{2}{\sqrt{2}} + 1 = \sqrt{2} + 1$$

$$A\left(\frac{3\pi}{4}\right) = \sin \frac{3\pi}{2} - \cos \frac{3\pi}{2} + 1 = -1 - 0 + 1 = 0$$

إذن، أكبر قيمة ممكنة (العظمى المطلقة) لمساحة المثلث هي: $A\left(\frac{3\pi}{8}\right) = \sqrt{2} + 1 = 1 + \sqrt{2}$

منهاجي

متعة التعليم الهادف





اختبار نهاية الوحدة الثانية صفحة 136

1	b
2	c
3	c
4	d
5	b
6	b
7	d
8	c
9	<p>$f(x) = 3x^2 - 2x^3$, $[-5, 1]$ $f'(x) = 6x - 6x^2$ $f'(x) = 0 \rightarrow 6x(1 - x) = 0 \rightarrow x = 0, x = 1$ مجموعة قيم x الحرجة ضمن الفترة $(-5, 1)$ هي: $x = 0$ نقارن قيم الاقتران عند النقطة الحرجة مع قيمته عند طرفي الفترة: $f(0) = 0$ $f(1) = 1$ $f(-5) = 75 + 250 = 325$ إن لهذا الاقتران قيمة عظمى مطلقة هي $f(-5) = 325$ وقيمة صغرى مطلقة هي $f(0) = 0$</p>





$$f(x) = \frac{x}{x+3}, [-1, 6]$$

$$f'(x) = \frac{x+3-x}{(x+3)^2} = \frac{3}{(x+3)^2}$$

$f'(x) > 0$ لجميع قيم x ولذا فإن $f(x)$ متصل ومرتفع على مجاله.

ولا يوجد له قيم حرجة ضمن $(-1, 6)$ ، قيمة القصوى تكون عند طرفي مجاله.

10

$$f(-1) = -\frac{1}{2}$$

$$f(6) = \frac{2}{3}$$

إن هذا الاقتران قيمة عظمى مطلقة هي $f(6) = \frac{2}{3}$ وقيمة صغرى مطلقة هي $f(-1) = -\frac{1}{2}$

$$f(x) = xe^{\frac{x}{2}}, [-3, 1]$$

$$f'(x) = \frac{1}{2}xe^{\frac{x}{2}} + e^{\frac{x}{2}} = e^{\frac{x}{2}}\left(\frac{1}{2}x + 1\right)$$

$$f'(x) = 0 \rightarrow x = -2$$

له قيمة حرجة وحيدة هي: $x = -2$

تقارن قيمته عند النقطة الحرجة مع قيمته عند طرفي المجال

11

$$f(-3) = -3e^{-\frac{3}{2}} = \frac{-3}{\sqrt{e^3}} \approx -0.6694$$

$$f(-2) = -2e^{-1} = \frac{-2}{e} \approx -0.7358$$

$$f(1) = e^{\frac{1}{2}} \approx 1.6487$$

إن هذا الاقتران قيمة عظمى مطلقة هي $f(1) = e^{\frac{1}{2}}$ وقيمة صغرى مطلقة هي $f(-2) = \frac{-2}{e}$

منهاجي

متعة التعليم الهادف





12

$$f(x) = 3 \cos x, [0, 2\pi]$$

$$f'(x) = -3 \sin x$$

$$f'(x) = 0 \rightarrow \sin x = 0 \rightarrow x = 0, x = \pi, 2\pi$$

له قيمة حرجة وحيدة هي: $x = \pi$

نقارن قيمته عند النقطة الحرجة مع قيمته عند طرفي المجال

$$f(0) = 3$$

$$f(\pi) = -3$$

$$f(2\pi) = 3$$

إذن لهذا الاقتران قيمة عظمى مطلقة هي $f(0) = f(2\pi) = 3$

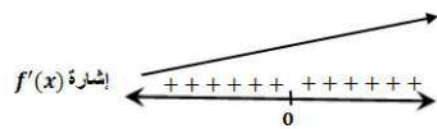
وقيمة صغرى مطلقة هي $f(\pi) = -3$

13

$$f(x) = x^5 + x^3$$

$$f'(x) = 5x^4 + 3x^2$$

$$f'(x) = 0 \rightarrow x^2(5x^2 + 3) = 0 \rightarrow x = 0$$



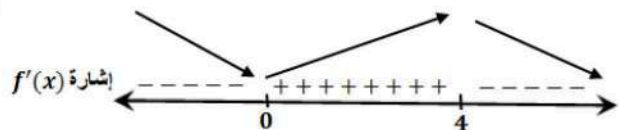
الاقتران f متزايد على \mathbb{R} وليس له قيم قصوى محلية ولا مطلقة.

14

$$f(x) = x^4 e^{-x}$$

$$f'(x) = -x^4 e^{-x} + 4x^3 e^{-x} = e^{-x} x^3 (4 - x)$$

$$f'(x) = 0 \rightarrow x = 0, x = 4$$



الاقتران f متزايد على $(0, 4)$ ومتناقص على $(-\infty, 0)$ و $(4, \infty)$

وله قيمة عظمى محلية هي $f(4) = \frac{256}{e^4}$ ، وقيمة صغرى محلية ومطلقة هي $f(0) = 0$

منهاجي

متعة التعليم الهادف



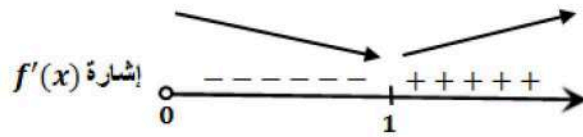


$$f(x) = \frac{1}{3}x^3 - \ln x, \quad x > 0$$

$$f'(x) = x^2 - \frac{1}{x}$$

$$f'(x) = 0 \rightarrow x^2 = \frac{1}{x} \rightarrow x^3 = 1 \rightarrow x = 1$$

15



الاقتران f متزايد على $(1, \infty)$ ومتناقص على $(0, 1)$

وله قيمة صغرى محلية ومطلقة هي $f(1) = \frac{1}{3}$

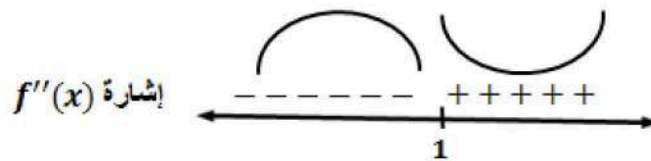
$$f(x) = x^3 - 3x^2 - 9x + 4$$

$$f'(x) = 3x^2 - 6x - 9$$

$$f''(x) = 6x - 6$$

$$f''(x) = 0 \rightarrow x = 1$$

16



الاقتران مقعر للأعلى في $(1, \infty)$ ومقعر للأسفل في $(-\infty, 1)$

وله نقطة انعطاف هي: $(1, -7)$

منهاجي

منعة التعليم الهادف





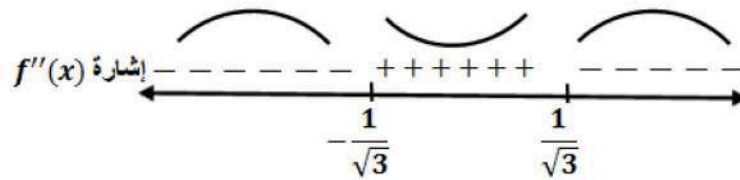
17

$$f(x) = \frac{x^2}{x^2 + 1}$$

$$f'(x) = \frac{(x^2 + 1)(2x) - (x^2)(2x)}{(x^2 + 1)^2} = \frac{2x}{(x^2 + 1)^2}$$

$$f''(x) = \frac{2 - 6x^2}{(x^2 + 1)^3}$$

$$f''(x) = 0 \rightarrow x^2 = \frac{1}{3} \rightarrow x = \pm \frac{1}{\sqrt{3}}$$



الإقتران مقعر للأعلى في $(-\frac{1}{\sqrt{3}}, \frac{1}{\sqrt{3}})$ ومقعر للأسفل في $(-\infty, -\frac{1}{\sqrt{3}})$ و $(\frac{1}{\sqrt{3}}, \infty)$

وله نقطتا انعطاف هما: $(-\frac{1}{\sqrt{3}}, \frac{1}{4})$ و $(\frac{1}{\sqrt{3}}, \frac{1}{4})$

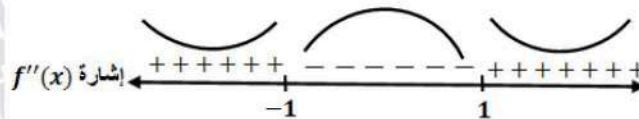
18

$$f(x) = (3 - x^2)^2$$

$$f'(x) = 2(3 - x^2)(-2x) = 4x^3 - 12x$$

$$f''(x) = 12x^2 - 12$$

$$f''(x) = 0 \rightarrow x^2 = 1 \rightarrow x = \pm 1$$



الإقتران مقعر للأسفل في $(-1, 1)$ ومقعر للأعلى في $(-\infty, -1)$ و $(1, \infty)$

وله نقطتا انعطاف هما: $(-1, 4)$ و $(1, 4)$





19	<p>نلاحظ من الشكل أن إشارة الاقتران f'' كالآتي:</p> <p>إذن منحنى f مقعر للأعلى في الفترة $(-\infty, 1)$ ومقعر للأسفل في الفترة $(1, \infty)$</p>
20	<p>للاقتران f نقطة انعطاف عند $x = 1$</p>
21	<p>سعر المنتج الواحد هو: $p(x) = 5 - 0.002x$</p> <p>إذن اقتران الإيراد:</p> $R(x) = xp(x) = 5x - 0.002x^2$
22	$P(x) = R(x) - C(x) = 5x - 0.002x^2 - 3 - 1.1x$ $= 3.9x - 0.002x^2 - 3$
23	$P'(x) = 3.9 - 0.004x$ $P'(x) = 0 \rightarrow x = \frac{3.9}{0.004} = \frac{3900}{4} = 975$ $P''(x) = -0.004 \rightarrow P''(975) = -0.004 < 0$ <p>إذن أكبر ربح ممكن يتحقق عند إنتاج وبيع 975 قطعة</p> <p>أكبر ربح ممكن يساوي: $P(975) = 3.9(975) - 0.002(975)^2 - 3 = 1898.25$ JD</p>
24	$p(975) = 5 - 0.002(975) = 5 - 1.950 = 3.05$ JD
25	<p>نقطة قيمة صغرى محلية $(b, f(b))$</p> <p>نقطة قيمة عظمى محلية $(c, f(c))$</p> <p>نقطة قيمة صغرى محلية ومطلقة $(r, f(r))$</p> <p>نقطة قيمة عظمى مطلقة $(s, f(s))$</p>





ليكن y طول الضلع الثالث لهذا الحقل

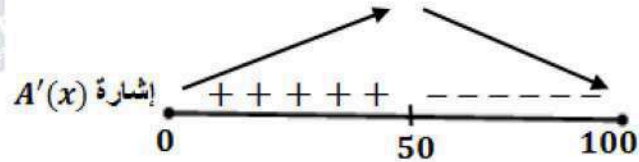
$$400 = x + 3x + y \rightarrow 4x + y = 400$$

$$A = \frac{1}{2}(x + 3x)(y) = \frac{1}{2}(4x)(400 - 4x)$$

$$A(x) = 800x - 8x^2, 0 \leq x \leq 100$$

$$26 \quad A'(x) = 800 - 16x$$

$$A'(x) = 0 \rightarrow x = \frac{800}{16} = 50$$



إن أكبر مساحة ممكنة هي: $A(50)$

$$A(50) = 800(50) - 8(50)^2 = 20000 \text{ m}^2$$

منهاجي
متعة التعليم الهادف





المعدلات المعطاة: سرعة البالون $\frac{dy}{dt} = 17 \text{ ft/s}$ ، وسرعة الدراجة $\frac{dx}{dt} = 17 \text{ ft/s}$

المطلوب: $\left. \frac{ds}{dt} \right|_{t=3}$

بعد t ثانية من مرور الدراجة يكون ارتفاع البالون فوق سطح الأرض هو: $y = 65 + t$

وتكون الدراجة قطعت مسافة أفقية هي: $x = 17t$

وتكون المسافة بين الدراجة والبالون هي s

ومن نظرية فيثاغورس نجد أن:

$$s^2 = x^2 + y^2$$

$$27 \quad s^2 = (17t)^2 + (65 + t)^2$$

$$s = \sqrt{(17t)^2 + (65 + t)^2}$$

$$\frac{ds}{dt} = \frac{2(17t)(17) + 2(65 + t)(1)}{2\sqrt{(17t)^2 + (65 + t)^2}} = \frac{289t + 65 + t}{\sqrt{(17t)^2 + (65 + t)^2}}$$

$$= \frac{290t + 65}{\sqrt{(17t)^2 + (65 + t)^2}}$$

$$\left. \frac{ds}{dt} \right|_{t=3} = \frac{290(3) + 65}{\sqrt{(17 \times 3)^2 + (65 + 3)^2}} = \frac{935}{85} = 11 \text{ ft/s}$$

إذن تتزايد المسافة بين البالون والدراجة بمعدل 11 قدمًا في الثانية وذلك بعد مرور 3 ثوانٍ من لحظة

مرور الدراجة تحت البالون.

منهاجي

متعة التعليم الهادف





إجابات كتاب الطالب - مادة الرياضيات - الصف الثاني الثانوي العلمي ف1

الوحدة الثالثة: الأعداد المركبة

الدرس الأول: الأعداد المركبة

مسألة اليوم صفحة 140

إذا تصورنا وجود جذر تربيعي للعدد -1 في مجموعة من مجموعات الأعداد، فإن:

$$(\sqrt{-1})^2 + 1 = -1 + 1 = 0$$

وبالتالي يكون $\sqrt{-1}$ حلاً للمعادلة $x^2 + 1 = 0$

أتحقق من فهمي صفحة 141

a $\sqrt{-75} = \sqrt{-1 \times 25 \times 3} = \sqrt{-1} \times \sqrt{25} \times \sqrt{3} = 5i\sqrt{3}$

b $\sqrt{-49} = \sqrt{-1 \times 49} = \sqrt{-1} \times \sqrt{49} = 7i$

أتحقق من فهمي صفحة 142

a
$$\begin{aligned}\sqrt{-27} \times \sqrt{-48} &= \sqrt{-1 \times 27} \times \sqrt{-1 \times 48} \\ &= i\sqrt{9 \times 3} \times i\sqrt{16 \times 3} \\ &= i^2 \sqrt{9 \times 3 \times 16 \times 3} \\ &= 36i^2 = -36\end{aligned}$$

b
$$\begin{aligned}\sqrt{-50} \times -4i &= \sqrt{-1 \times 50} \times (-4i) \\ &= 5i\sqrt{2} \times (-4i) = -20\sqrt{2}i^2 = 20\sqrt{2}\end{aligned}$$

c $i^{2021} = (i^2)^{1010} \times i = (-1)^{1010} \times i = i$

أتحقق من فهمي صفحة 144

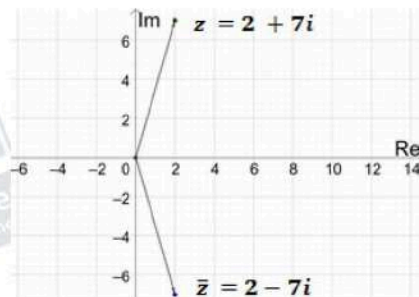
$$\begin{aligned}x + 5 + (4y - 9)i &= 12 - 5i \rightarrow x + 5 = 12 \text{ و } 4y - 9 = -5 \\ &\rightarrow x = 7, y = 1\end{aligned}$$



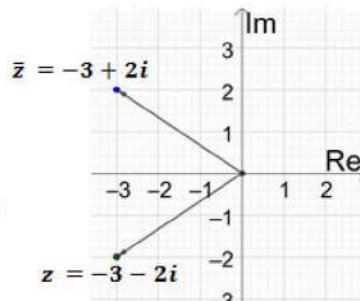


أتحقق من فهمي صفحة 145

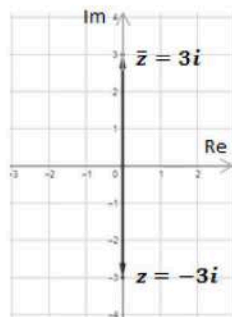
a $z = 2 + 7i, \bar{z} = 2 - 7i$



b $z = -3 - 2i, \bar{z} = -3 + 2i$



c $z = -3i, \bar{z} = 3i$



أتحقق من فهمي صفحة 146

a $z = -3 - 6i\sqrt{2} \rightarrow |z| = \sqrt{(-3)^2 + (-6\sqrt{2})^2} = \sqrt{81} = 9$

b $z = -2i \rightarrow |z| = \sqrt{(0)^2 + (-2)^2} = \sqrt{4} = 2$

c $z = 4 + \sqrt{-20} = 4 + \sqrt{-1} \times \sqrt{20} = 4 + i\sqrt{20}$

$\rightarrow |z| = \sqrt{(4)^2 + (\sqrt{20})^2} = \sqrt{36} = 6$



أتحقق من فهمي صفحة 150

a	$z = 8 + 2i$ $Arg(z) = \tan^{-1}\left(\frac{2}{8}\right) \approx 0.24$
b	$z = -5 + 12i$ $Arg(z) = \pi - \tan^{-1}\left(\frac{12}{5}\right) \approx 1.97$
c	$z = -2 - 3i$ $Arg(z) = -\left(\pi - \tan^{-1}\left(\frac{3}{2}\right)\right) \approx -2.16$
d	$z = 8 - 8i\sqrt{3}$ $Arg(z) = -\tan^{-1}\left(\frac{8\sqrt{3}}{8}\right) \approx -\frac{\pi}{3}$

أتحقق من فهمي صفحة 152

a	$ z = 4\sqrt{2}, Arg(z) = -\frac{3\pi}{4}$ $z = r(\cos \theta + i \sin \theta) = 4\sqrt{2} \left(\cos\left(-\frac{3\pi}{4}\right) + i \sin\left(-\frac{3\pi}{4}\right) \right)$
b	$z = -4 - 4i$ $\rightarrow r = z = \sqrt{(-4)^2 + (-4)^2} = 4\sqrt{2}$ $Arg(z) = -\left(\pi - \tan^{-1}\left(\frac{4}{4}\right)\right) \approx -\frac{3\pi}{4}$ $z = r(\cos \theta + i \sin \theta) = 4\sqrt{2} \left(\cos\left(-\frac{3\pi}{4}\right) + i \sin\left(-\frac{3\pi}{4}\right) \right)$
c	$z = 2i$ $\rightarrow r = z = \sqrt{(0)^2 + (2)^2} = 2$ $Arg(z) = \frac{\pi}{2}$ $z = r(\cos \theta + i \sin \theta) = 2 \left(\cos\left(\frac{\pi}{2}\right) + i \sin\left(\frac{\pi}{2}\right) \right)$

أتدرب وأحل المسائل صفحة 152

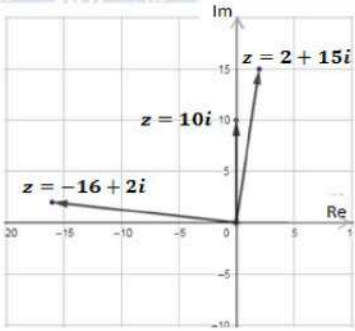
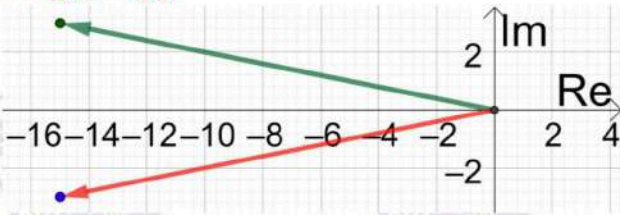
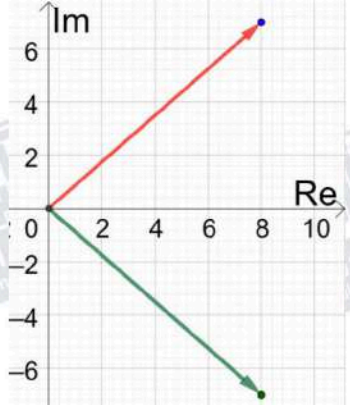
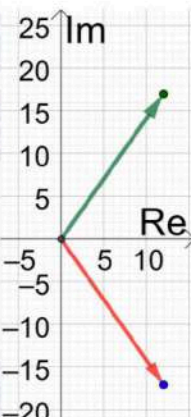
1	$\sqrt{-19} = \sqrt{-1 \times 19} = \sqrt{-1} \times \sqrt{19} = i\sqrt{19}$
---	--



2	$\sqrt{-\frac{12}{25}} = \sqrt{-1 \times \frac{12}{25}} = \sqrt{-1} \times \sqrt{\frac{12}{25}} = \frac{2\sqrt{3}}{5} i$
3	$\sqrt{-\frac{9}{32}} = \sqrt{-1 \times \frac{9}{32}} = \sqrt{-1} \times \sqrt{\frac{9}{32}} = \frac{3}{4\sqrt{2}} i$
4	$\sqrt{-53} = \sqrt{-1 \times 53} = \sqrt{-1} \times \sqrt{53} = i\sqrt{53}$
5	$i^{26} = (i^2)^{13} = -1$
6	$i^{39} = (i^2)^{19} \times i = (-1)^{19} \times i = -i$
7	$(i)(2i)(-7i) = (2i^2)(-7i) = (-2)(-7i) = 14i$
8	$\begin{aligned}\sqrt{-6} \times \sqrt{-6} &= \sqrt{-1 \times 6} \times \sqrt{-1 \times 6} \\ &= i\sqrt{6} \times i\sqrt{6} \\ &= 6i^2 = -6\end{aligned}$
9	$\begin{aligned}\sqrt{-4} \times \sqrt{-8} &= \sqrt{-1 \times 4} \times \sqrt{-1 \times 8} \\ &= 2i \times 2\sqrt{2}i \\ &= 4\sqrt{2}i^2 = -4\sqrt{2}\end{aligned}$
10	$\begin{aligned}2i \times \sqrt{-9} &= 2i \times \sqrt{-1 \times 9} \\ &= 2i \times 3i \\ &= 6i^2 = -6\end{aligned}$
11	$\frac{2 + \sqrt{-4}}{2} = \frac{2 + 2i}{2} = 1 + i$
12	$\frac{8 + \sqrt{-16}}{2} = \frac{8 + 4i}{2} = 4 + 2i$
13	$\frac{10 - \sqrt{-50}}{5} = \frac{10 - 5i\sqrt{2}}{5} = 2 - i\sqrt{2}$





14	$z = 2 + 15i$ $\rightarrow Re(z) = 2, Im(z) = 15$	
15	$z = 10i$ $\rightarrow Re(z) = 0, Im(z) = 10$	
16	$z = -16 - 2i$ $\rightarrow Re(z) = -16, Im(z) = -2$	
17	$z = -15 + 3i, \bar{z} = -15 - 3i$	
18	$z = 8 - 7i, \bar{z} = 8 + 7i$	
19	$z = 12 + 17i, \bar{z} = 12 - 17i$	



20	$z = -3 - 25i$, $\bar{z} = -3 + 25i$
21	$z = 3i$, $\bar{z} = -3i$
22	$z = 15$, $\bar{z} = 15$
23	$z = -5 + 5i$ $\bar{z} = -5 - 5i$ $ z = \sqrt{(-5)^2 + (5)^2} = 5\sqrt{2}$

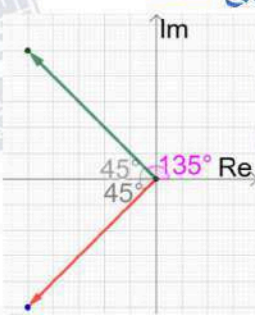


24	$z = 3 + 3\sqrt{3}i$ $\bar{z} = 3 - 3\sqrt{3}i$ $ z = \sqrt{(3)^2 + (3\sqrt{3})^2} = \sqrt{9 + 27} = 6$
25	$z = 6 - 8i$ $\bar{z} = 6 + 8i$ $ z = \sqrt{(6)^2 + (-8)^2} = \sqrt{36 + 64} = 10$
26	$x^2 - 1 + i(2y - 5) = 8 + 9i \rightarrow x^2 - 1 = 8 \quad \text{و} \quad 2y - 5 = 9$ $\rightarrow x = \pm 3 \quad \text{و} \quad y = 7$
27	$2x + 3y + i(x - 2y) = 8 - 3i \rightarrow 2x + 3y = 8 \quad \text{و} \quad x - 2y = -3$ $\rightarrow x = 1 \quad \text{و} \quad y = 2$
28	$y - 3 + i(3x + 2) = 9 + i(y - 4) \rightarrow y - 3 = 9 \quad \text{و} \quad 3x + 2 = y - 4$ $\rightarrow y = 12 \quad \text{و} \quad x = 2$
29	$i(2x - 5y) + 3x + 5y = 7 + 3i \rightarrow 2x - 5y = 3 \quad \text{و} \quad 3x + 5y = 7$ $\rightarrow x = 2 \quad \text{و} \quad y = \frac{1}{5}$
30	$z = 1$ $Arg(z) = \tan^{-1}\left(\frac{0}{1}\right) = 0$
31	$z = 3i$ $Arg(z) = \frac{\pi}{2}$
32	$z = -5 - 5i$ $Arg(z) = -\left(\pi - \tan^{-1}\left(\frac{5}{5}\right)\right) = -\frac{3\pi}{4}$
33	$z = 1 - i\sqrt{3}$ $Arg(z) = -\tan^{-1}\left(\frac{\sqrt{3}}{1}\right) = -\frac{\pi}{3}$

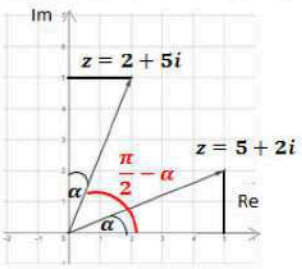


34	$z = 6\sqrt{3} + 6i$ $Arg(z) = \tan^{-1}\left(\frac{6}{6\sqrt{3}}\right) = \frac{\pi}{6}$
35	$z = 3 - 4i$ $Arg(z) = -\tan^{-1}\left(\frac{4}{3}\right) \approx -0.93$
36	$z = -12 + 5i$ $Arg(z) = \pi - \tan^{-1}\left(\frac{5}{12}\right) \approx 2.75$
37	$z = -58 - 93i$ $Arg(z) = -\left(\pi - \tan^{-1}\left(\frac{93}{58}\right)\right) \approx -2.13$
38	$z = -4 + 2i$ $Arg(z) = \pi - \tan^{-1}\left(\frac{2}{4}\right) \approx 2.68$
39	$r = z = 2$ $Arg(z) = \frac{\pi}{2}$ $z = r(\cos \theta + i \sin \theta) = 2\left(\cos\left(\frac{\pi}{2}\right) + i \sin\left(\frac{\pi}{2}\right)\right)$
40	$r = z = 3, Arg(z) = \frac{\pi}{3}$ $z = r(\cos \theta + i \sin \theta) = 3\left(\cos\left(\frac{\pi}{3}\right) + i \sin\left(\frac{\pi}{3}\right)\right)$
41	$r = z = 7, Arg(z) = \frac{5\pi}{6}$ $z = r(\cos \theta + i \sin \theta) = 7\left(\cos\left(\frac{5\pi}{6}\right) + i \sin\left(\frac{5\pi}{6}\right)\right)$
42	$r = z = 1, Arg(z) = \frac{\pi}{4}$ $z = r(\cos \theta + i \sin \theta) = 1\left(\cos\left(\frac{\pi}{4}\right) + i \sin\left(\frac{\pi}{4}\right)\right) = \cos\left(\frac{\pi}{4}\right) + i \sin\left(\frac{\pi}{4}\right)$

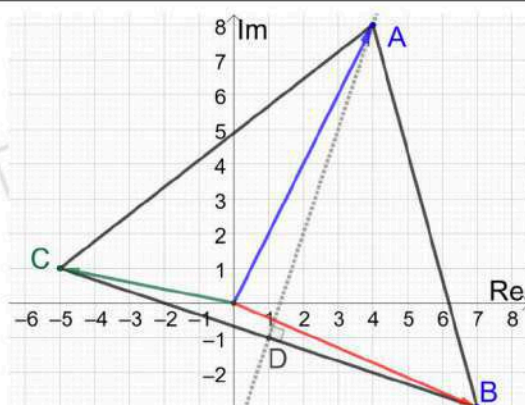


43	$z = 6$ $\rightarrow r = z = \sqrt{(6)^2 + (0)^2} = 6$ $Arg(z) = 0$ $z = r(\cos \theta + i \sin \theta) = 6(\cos(0) + i \sin(0))$
44	$z = 1 + i$ $\rightarrow r = z = \sqrt{(1)^2 + (1)^2} = \sqrt{2}$ $Arg(z) = \tan^{-1}\left(\frac{1}{1}\right) = \frac{\pi}{4}$ $z = r(\cos \theta + i \sin \theta) = \sqrt{2}\left(\cos\left(\frac{\pi}{4}\right) + i \sin\left(\frac{\pi}{4}\right)\right)$
45	$z_1 = 4\sqrt{3} - 4i \rightarrow \bar{z}_1 = 4\sqrt{3} + 4i$ $Arg(z_2) = Arg(\bar{z}_1) = \tan^{-1}\left(\frac{4}{4\sqrt{3}}\right) = \frac{\pi}{6}$ $z_2 = r(\cos \theta + i \sin \theta) = 40\left(\cos\frac{\pi}{6} + i \sin\frac{\pi}{6}\right)$ $= 40\left(\frac{\sqrt{3}}{2} + \frac{1}{2}i\right) = 20\sqrt{3} + 20i$ $z_2 = 20\sqrt{3} + 20i$ ، إذن
46	$z = r(\cos \theta + i \sin \theta) = 10\sqrt{2}\left(\cos\left(\frac{3\pi}{4}\right) + i \sin\left(\frac{3\pi}{4}\right)\right)$ $= 10\sqrt{2}\left(-\frac{1}{\sqrt{2}} + \frac{1}{\sqrt{2}}i\right) = -10 + 10i$ $z = -10 + 10i$ ، إذن
47	بما أن z في الربع الثاني إذن \bar{z} في الربع الثالث  فتكون الزاوية بينهما هي $\frac{\pi}{2}$



48	$z = -8 + 8i$ $ z = \sqrt{(-8)^2 + (8)^2} = 8\sqrt{2}$
49	$Arg(z) = \pi - \tan^{-1}\left(\frac{8}{8}\right) = \frac{3\pi}{4}$
50	$ \bar{z} = z = 8\sqrt{2}$
51	$\bar{z} = -8 - 8i \rightarrow Arg(\bar{z}) = -\left(\pi - \tan^{-1}\left(\frac{8}{8}\right)\right) = -\frac{3\pi}{4}$ $Arg(\bar{z}) = -Arg(z) = -\frac{3\pi}{4}$ أو نكتب مباشرة:
52	$Arg(5 + 2i) = \alpha = \tan^{-1}\left(\frac{2}{5}\right)$ $Arg(-5 - 2i) = -\left(\pi - \tan^{-1}\left(\frac{2}{5}\right)\right) = -(\pi - \alpha) = -\pi + \alpha$
53	$Arg(5 - 2i) = -\tan^{-1}\left(\frac{2}{5}\right) = -\alpha$
54	$Arg(-5 + 2i) = \pi - \tan^{-1}\left(\frac{2}{5}\right) = \pi - \alpha$
55	 <p>يوضح الرسم المجاور العلاقة بين سعة كل من العددين $z = 2 + 2i$ و $z = 5 + 2i$</p> $Arg(2 + 5i) = \tan^{-1}\left(\frac{5}{2}\right) = \frac{\pi}{2} - \tan^{-1}\left(\frac{2}{5}\right) = \frac{\pi}{2} - \alpha$
56	$Arg(-2 + 5i) = \pi - \tan^{-1}\left(\frac{5}{2}\right) = \pi - \left(\frac{\pi}{2} - \alpha\right) = \frac{\pi}{2} + \alpha$
57	$z = 5 + im$, $ z = 6$, $0 < Arg(z) < \frac{\pi}{2}$ $ z = \sqrt{(5)^2 + (m)^2} = \sqrt{25 + m^2} = 6 \rightarrow 25 + m^2 = 36 \rightarrow m = \pm\sqrt{11}$ لكن $0 < Arg(z) < \frac{\pi}{2}$ وهذا يعني أن z في الربع الأول، ومنه $m = \sqrt{11}$



58	$z = 5 + 3ik$, $ z = 13$ $ z = \sqrt{(5)^2 + (3k)^2} = \sqrt{25 + 9k^2} = 13 \rightarrow 25 + 9k^2 = 169 \rightarrow k = \pm 4$
59	$ z_1 = r = 4\sqrt{5}$, $Arg(z_1) = \tan^{-1}(2) = \theta$ (نستنتج هنا أن z_1 يقع في الربع الأول، ففي الأرباع الأخرى تكون السعة بإشارة سالبة أو تحتوي π) $\tan \theta = 2 \rightarrow \sin \theta = \frac{2}{\sqrt{5}}$, $\cos \theta = \frac{1}{\sqrt{5}}$ $z_1 = r(\cos \theta + i \sin \theta) = 4\sqrt{5}(\cos \theta + i \sin \theta) = 4\sqrt{5}\left(\frac{1}{\sqrt{5}} + i\frac{2}{\sqrt{5}}\right) = 4 + 8i$
60	$z_1 = 4 + 8i$, $z_2 = 7 - 3i$, $z_3 = -5 + i$ $AC = \sqrt{(4 - (-5))^2 + (8 - 1)^2} = \sqrt{130}$ $AB = \sqrt{(4 - 7)^2 + (8 - (-3))^2} = \sqrt{130}$ $BC = \sqrt{(7 - (-5))^2 + (-3 - 1)^2} = \sqrt{160}$  <p>ومنه فإن المثلث ABC متطابق الضلعين، نأخذ BC قاعدة له ونجد إحداثيي النقطة D نقطة منتصف القاعدة BC:</p> $D\left(\frac{7-5}{2}, \frac{-3+1}{2}\right) \rightarrow D(1, -1)$ <p>ارتفاع هذا المثلث هو القطعة المستقيمة الواصلة بين الرأس ومنتصف القاعدة وهو AD</p> $AD = \sqrt{(4-1)^2 + (8-(-1))^2} = \sqrt{90}$ <p>لتكن مساحة المثلث ABC هي A فإن:</p> $A = \frac{1}{2} \times \sqrt{160} \times \sqrt{90} = 60$ <p>إذن، مساحة المثلث ABC تساوي 60 وحدة مربعة.</p>



مسألة اليوم صفحة 155

$$z_1 = -1 + 3i, \quad z_2 = 3 + i$$
$$z_1 z_2 = (-1 + 3i)(3 + i)$$
$$= -3 - i + 9i - 3 = -6 + 8i$$
$$|z_1 z_2| = \sqrt{36 + 64} = 10$$
$$\text{Arg}(z_1 z_2) = \pi - \tan^{-1}\left(\frac{8}{6}\right) \approx 2.21$$

أتحقق من فهمي صفحة 156

a $(7 + 8i) + (-9 + 14i) = -2 + 22i$

b $(11 + 9i) - (4 - 6i) = 7 + 15i$

أتحقق من فهمي صفحة 157

a $-3i(4 - 5i) = -12i + 15i^2 = -15 - 12i$

b $(5 + 4i)(7 - 4i) = 35 - 20i + 28i - 16i^2 = 35 + 8i + 16 = 51 + 8i$

c $(3 + 6i)^2 = 9 + 36i + 36i^2 = 9 + 36i - 36 = -27 + 36i$

أتحقق من فهمي صفحة 158



a	$\begin{aligned}\frac{-4+3i}{1+i} &= \frac{-4+3i}{1+i} \times \frac{1-i}{1-i} \\ &= \frac{-4+4i+3i-3i^2}{1-i^2} \\ &= \frac{-4+7i+3}{1+1} \\ &= \frac{-1+7i}{2} = -\frac{1}{2} + \frac{7}{2}i\end{aligned}$
b	$\begin{aligned}\frac{2-6i}{-3i} &= \frac{2-6i}{-3i} \times \frac{i}{i} \\ &= \frac{2i-6i^2}{-3i^2} \\ &= \frac{2i+6}{3} = 2 + \frac{2}{3}i\end{aligned}$
c	$\begin{aligned}\frac{7i}{4-4i} &= \frac{7i}{4-4i} \times \frac{4+4i}{4+4i} \\ &= \frac{28i+28i^2}{16-16i^2} \\ &= \frac{28i-28}{16+16} \\ &= \frac{28i-28}{32} = -\frac{7}{8} + \frac{7}{8}i\end{aligned}$
أتحقق من فهمي صفحة 160	
a	$\begin{aligned}6\left(\cos\frac{\pi}{3} + i\sin\frac{\pi}{3}\right) \times 2\left(\cos\frac{\pi}{6} + i\sin\frac{\pi}{6}\right) \\ = 6 \times 2\left(\cos\left(\frac{\pi}{3} + \frac{\pi}{6}\right) + i\sin\left(\frac{\pi}{3} + \frac{\pi}{6}\right)\right) = 12\left(\cos\frac{\pi}{2} + i\sin\frac{\pi}{2}\right)\end{aligned}$



$$6 \left(\cos \left(-\frac{\pi}{3} \right) + i \sin \left(-\frac{\pi}{3} \right) \right) \div 2 \left(\cos \frac{5\pi}{6} + i \sin \frac{5\pi}{6} \right)$$

$$= \frac{6}{2} \left(\cos \left(-\frac{\pi}{3} - \frac{5\pi}{6} \right) + i \sin \left(-\frac{\pi}{3} - \frac{5\pi}{6} \right) \right)$$

$$b = 3 \left(\cos \left(-\frac{7\pi}{6} \right) + i \sin \left(-\frac{7\pi}{6} \right) \right)$$

$$= 3 \left(\cos \left(-\frac{7\pi}{6} + 2\pi \right) + i \sin \left(-\frac{7\pi}{6} + 2\pi \right) \right)$$

$$= 3 \left(\cos \frac{5\pi}{6} + i \sin \frac{5\pi}{6} \right)$$

أتحقق من فهمي صفحة 161

$$\sqrt{-5 - 12i} = x + iy \rightarrow -5 - 12i = x^2 + 2ixy + i^2y^2$$

$$\rightarrow -5 - 12i = x^2 - y^2 + 2ixy$$

$$\rightarrow -5 = x^2 - y^2 \quad \text{و} \quad -12 = 2xy$$

$$y = -\frac{6}{x}$$

$$a \quad x^2 - y^2 = -5 \rightarrow x^2 - \frac{36}{x^2} = -5$$

$$\rightarrow x^4 + 5x^2 - 36 = 0$$

$$\rightarrow (x^2 + 9)(x^2 - 4) = 0 \rightarrow x = \pm 2$$

عندما $x = 2$ ، فإن $y = -3$ ، وعندما $x = -2$ ، فإن $y = 3$ ،

إذن الجذران التربيعيان للعدد المركب $-5 - 12i$ هما: $2 - 3i$ ، $-2 + 3i$



$$\sqrt{-9i} = x + iy \rightarrow -9i = x^2 + 2ixy + i^2y^2$$

$$\rightarrow -9i = x^2 - y^2 + 2ixy$$

$$\rightarrow 0 = x^2 - y^2 \text{ و } -9 = 2xy$$

$$y = -\frac{9}{2x}$$

$$b \quad x^2 - y^2 = 0 \rightarrow x^2 - \frac{81}{4x^2} = 0$$

$$\rightarrow 4x^4 - 81 = 0$$

$$\rightarrow (2x^2 + 9)(2x^2 - 9) = 0 \rightarrow x = \pm \frac{3}{\sqrt{2}}$$

عندما $x = \frac{3}{\sqrt{2}}$ ، فإن $y = -\frac{3}{\sqrt{2}}$ ، وعندما $x = -\frac{3}{\sqrt{2}}$ ، فإن $y = \frac{3}{\sqrt{2}}$ ،

إذن الجذران التربيعيان للعدد المركب $-9i$ هما: $\frac{3}{\sqrt{2}} - \frac{3}{\sqrt{2}}i$ ، $-\frac{3}{\sqrt{2}} + \frac{3}{\sqrt{2}}i$

$$\sqrt{-\frac{1}{2} + \frac{\sqrt{3}}{2}i} = x + iy \rightarrow -\frac{1}{2} + \frac{\sqrt{3}}{2}i = x^2 + 2ixy + i^2y^2$$

$$\rightarrow -\frac{1}{2} + \frac{\sqrt{3}}{2}i = x^2 - y^2 + 2ixy$$

$$\rightarrow -\frac{1}{2} = x^2 - y^2 \text{ و } \frac{\sqrt{3}}{2} = 2xy$$

$$c \quad y = \frac{\sqrt{3}}{4x}$$

$$x^2 - y^2 = -\frac{1}{2} \rightarrow x^2 - \frac{3}{16x^2} = -\frac{1}{2}$$

$$\rightarrow 16x^4 + 8x^2 - 3 = 0$$

$$\rightarrow (4x^2 - 1)(4x^2 + 3) = 0 \rightarrow x = \pm \frac{1}{2}$$

عندما $x = \frac{1}{2}$ ، فإن $y = \frac{\sqrt{3}}{2}$ ، وعندما $x = -\frac{1}{2}$ ، فإن $y = -\frac{\sqrt{3}}{2}$ ،

إذن الجذران التربيعيان للعدد المركب $-5 - 12i$ هما: $\frac{1}{2} + \frac{\sqrt{3}}{2}i$ ، $-\frac{1}{2} - \frac{\sqrt{3}}{2}i$

أتحقق من فهمي لمثال 6 صفحة 165



$$z^3 - z^2 - 7z + 15 = 0$$

عوامل الحد الثابت هي: $\pm 1, \pm 3, \pm 5, \pm 15$

بالتعويض، نجد أن العدد -3 يحقق المعادلة لأن: $(-3)^3 - (-3)^2 - 7(-3) + 15 = 0$

إذن $(z + 3)$ هو أحد عوامل كثير الحدود، نجري عملية القسمة فنجد أن:

$$z^3 - z^2 - 7z + 15 = (z + 3)(z^2 - 4z + 5) = 0$$

$$z = -3, z = \frac{4 \pm \sqrt{16 - 20}}{2} = 2 \pm i$$

إذن لهذه المعادلة 3 جذور هي: $-3, 2 + i, 2 - i$



أتحقق من فهمي لمثال 7 صفحة 165

$$x = 2 \pm i$$

$$x - 2 = \pm i$$

$$(x - 2)^2 = -1$$

$$x^2 - 4x + 4 = -1$$

$$x^2 - 4x + 5 = 0$$

بمقارنة هذه المعادلة مع المعادلة المعطاة ($x^2 + ax + b = 0$) نجد أن: $a = -4$, $b = 5$

أتدرب وأحل المسائل صفحة 165

1 $(7 + 2i) + (3 - 11i) = 10 - 9i$

2 $(5 - 9i) - (-4 + 7i) = 9 - 16i$

3 $(4 - 3i)(1 + 3i) = 4 + 12i - 3i + 9 = 13 + 9i$

4 $(4 - 6i)(1 - 2i)(2 - 3i) = (4 - 6i)(2 - 3i - 4i - 6)$
 $= (4 - 6i)(-4 - 7i)$
 $= -16 - 28i + 24i - 42$
 $= -58 - 4i$

5 $(9 - 2i)^2 = 81 - 36i - 4 = 77 - 36i$

6 $\frac{48 + 19i}{5 - 4i} = \frac{48 + 19i}{5 - 4i} \times \frac{5 + 4i}{5 + 4i}$
 $= \frac{240 + 192i + 95i - 76}{25 + 16}$
 $= \frac{164 + 287i}{41}$
 $= 4 + 7i$

7 $6(\cos \pi + i \sin \pi) \times 2 \left(\cos \left(-\frac{\pi}{4} \right) + i \sin \left(-\frac{\pi}{4} \right) \right)$
 $= 12 \left(\cos \left(\pi - \frac{\pi}{4} \right) + i \sin \left(\pi - \frac{\pi}{4} \right) \right) = 12 \left(\cos \frac{3\pi}{4} + i \sin \frac{3\pi}{4} \right)$



8	$\left(\cos\left(\frac{3\pi}{10}\right) + i\sin\left(\frac{3\pi}{10}\right)\right) \div \left(\cos\frac{2\pi}{5} + i\sin\frac{2\pi}{5}\right)$ $= \cos\left(\frac{3\pi}{10} - \frac{2\pi}{5}\right) + i\sin\left(\frac{3\pi}{10} - \frac{2\pi}{5}\right)$ $= \cos\left(-\frac{\pi}{10}\right) + i\sin\left(-\frac{\pi}{10}\right)$
9	$12\left(\cos\left(\frac{\pi}{4}\right) + i\sin\left(\frac{\pi}{4}\right)\right) \div 4\left(\cos\frac{\pi}{3} + i\sin\frac{\pi}{3}\right)$ $= \frac{12}{4}\left(\cos\left(\frac{\pi}{4} - \frac{\pi}{3}\right) + i\sin\left(\frac{\pi}{4} - \frac{\pi}{3}\right)\right)$ $= 3\left(\cos\left(-\frac{\pi}{12}\right) + i\sin\left(-\frac{\pi}{12}\right)\right)$
10	$11\left(\cos\left(-\frac{\pi}{6}\right) + i\sin\left(-\frac{\pi}{6}\right)\right) \times 2\left(\cos\left(\frac{3\pi}{2}\right) + i\sin\left(\frac{3\pi}{2}\right)\right)$ $= 22\left(\cos\left(-\frac{\pi}{6} + \frac{3\pi}{2}\right) + i\sin\left(-\frac{\pi}{6} + \frac{3\pi}{2}\right)\right)$ $= 22\left(\cos\left(\frac{4\pi}{3}\right) + i\sin\left(\frac{4\pi}{3}\right)\right)$ $= 22\left(\cos\left(\frac{4\pi}{3} - 2\pi\right) + i\sin\left(\frac{4\pi}{3} - 2\pi\right)\right)$ $= 22\left(\cos\left(-\frac{2\pi}{3}\right) + i\sin\left(-\frac{2\pi}{3}\right)\right)$
11	$(a + 6i) + (7 - bi) = -2 + 5i$ $a + 7 + (6 - b)i = -2 + 5i \rightarrow a + 7 = -2 \text{ , } 6 - b = 5$ $\rightarrow a = -9, b = 1$
12	$(11 - ia) - (b - 9i) = 7 - 6i$ $11 - b + (9 - a)i = 7 - 6i \rightarrow 11 - b = 7 \text{ , } 9 - a = -6$ $\rightarrow b = 4, a = 15$



$$(a + ib)(2 - i) = 5 + 5i$$

$$2a + b + (2b - a)i = 5 + 5i \rightarrow 2a + b = 5 \text{ و } 2b - a = 5 \\ \rightarrow b = 3, a = 1$$

طريقة ثانية للحل:

$$a + ib = \frac{5 + 5i}{2 - i}$$

$$13 \quad = \frac{5 + 5i}{2 - i} \times \frac{2 + i}{2 + i} \\ = \frac{10 + 5i + 10i - 5}{4 + 1}$$

$$= \frac{5 + 15i}{5}$$

$$= 1 + 3i$$

$$\rightarrow a = 1, b = 3$$

$$\frac{a - 6i}{1 - 2i} = b + 4i \rightarrow \frac{a - 6i}{1 - 2i} \times \frac{1 + 2i}{1 + 2i} = b + 4i$$

$$\rightarrow \frac{a + 2ai - 6i + 12}{1 + 4} = b + 4i$$

$$\rightarrow \frac{a + 12}{5} + \frac{2a - 6}{5}i = b + 4i$$

$$\rightarrow \frac{a + 12}{5} = b, \quad \frac{2a - 6}{5} = 4 \rightarrow a = 13$$

14

بتعويض قيمة a في المعادلة الأولى ينتج أن: $b = 5$

طريقة ثانية للحل:

$$a - 6i = (b + 4i)(1 - 2i) \rightarrow a - 6i = b + 8 + (-2b + 4)i$$

$$\rightarrow a = b + 8, \quad -6 = -2b + 4$$

$$\rightarrow b = 5, a = 13$$



$$z = 8 \left(\cos \left(\frac{\pi}{4} \right) - i \sin \left(\frac{\pi}{4} \right) \right) = 8 \left(\cos \left(\frac{-\pi}{4} \right) + i \sin \left(\frac{-\pi}{4} \right) \right)$$

$$\rightarrow \bar{z} = 8 \left(\cos \left(\frac{\pi}{4} \right) + i \sin \left(\frac{\pi}{4} \right) \right)$$

$$\begin{aligned} \rightarrow z\bar{z} &= 8 \left(\cos \left(\frac{\pi}{4} \right) - i \sin \left(\frac{\pi}{4} \right) \right) \times 8 \left(\cos \left(\frac{\pi}{4} \right) + i \sin \left(\frac{\pi}{4} \right) \right) \\ &= 64 \left(\cos^2 \left(\frac{\pi}{4} \right) + \sin^2 \left(\frac{\pi}{4} \right) \right) = 64 \end{aligned}$$

الحل الثاني: نكتب كلا من العددين بالصورة المثلثية أولاً ثم نطبق القاعدة:

$$15 \quad z = 8 \left(\cos \left(\frac{\pi}{4} \right) - i \sin \left(\frac{\pi}{4} \right) \right) = 8 \left(\cos \left(\frac{-\pi}{4} \right) + i \sin \left(\frac{-\pi}{4} \right) \right)$$

$$\rightarrow \bar{z} = 8 \left(\cos \left(\frac{\pi}{4} \right) + i \sin \left(\frac{\pi}{4} \right) \right)$$

$$\rightarrow z\bar{z} = 64 \left(\cos \left(\frac{-\pi}{4} + \frac{\pi}{4} \right) + i \sin \left(\frac{-\pi}{4} + \frac{\pi}{4} \right) \right) = 64$$

الحل الثالث: كتابة العددين بالصورة القياسية أولاً ثم إجراء عملية الضرب:

$$z = 8 \left(\cos \left(\frac{\pi}{4} \right) - i \sin \left(\frac{\pi}{4} \right) \right) = 8 \left(\frac{1}{\sqrt{2}} - \frac{1}{\sqrt{2}} i \right) = 4\sqrt{2} - 4\sqrt{2}i$$

$$\rightarrow \bar{z} = 4\sqrt{2} + 4\sqrt{2}i$$

$$\rightarrow z\bar{z} = (4\sqrt{2} - 4\sqrt{2}i)(4\sqrt{2} + 4\sqrt{2}i) = 32 + 32 = 64$$



16	$z_1 = 2\sqrt{3} - 2i, \quad z_2 = \sqrt{5} - i\sqrt{15}, \quad z_3 = 2 - 2i$ $ z_1 = \sqrt{12 + 4} = 4$ $ z_2 = \sqrt{5 + 15} = 2\sqrt{5}$ $ z_3 = \sqrt{4 + 4} = 2\sqrt{2}$ $\text{Arg}(z_1) = -\tan^{-1}\left(\frac{2}{2\sqrt{3}}\right) = -\tan^{-1}\left(\frac{1}{\sqrt{3}}\right) = -\frac{\pi}{6}$ $\text{Arg}(z_2) = -\tan^{-1}\left(\frac{\sqrt{15}}{\sqrt{5}}\right) = -\tan^{-1}(\sqrt{3}) = -\frac{\pi}{3}$ $\text{Arg}(z_3) = -\tan^{-1}\left(\frac{2}{2}\right) = -\tan^{-1}(1) = -\frac{\pi}{4}$ $\left \frac{z_2}{z_1}\right = \frac{ z_2 }{ z_1 } = \frac{2\sqrt{5}}{4} = \frac{\sqrt{5}}{2}$ $\text{Arg}\left(\frac{z_2}{z_1}\right) = \text{Arg}(z_2) - \text{Arg}(z_1) = -\frac{\pi}{3} - \left(-\frac{\pi}{6}\right) = -\frac{\pi}{6}$
17	$\left \frac{1}{z_3}\right = \frac{ 1 }{ z_3 } = \frac{1}{2\sqrt{2}}$ $\text{Arg}\left(\frac{1}{z_3}\right) = \text{Arg}(1) - \text{Arg}(z_3) = 0 - \left(-\frac{\pi}{4}\right) = \frac{\pi}{4}$



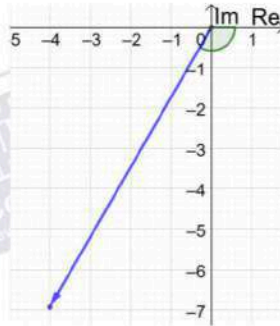
$$\bar{z}_2 = \sqrt{5} + i\sqrt{15} \rightarrow |\bar{z}_2| = |z_2| = 2\sqrt{5}, \text{Arg}(\bar{z}_2) = -\text{Arg}(z_2) = \frac{\pi}{3}$$

$$\left| \frac{z_3}{z_2} \right| = \frac{|z_3|}{|z_2|} = \frac{2\sqrt{2}}{2\sqrt{5}} = \frac{\sqrt{2}}{\sqrt{5}}$$

$$18 \quad \text{Arg}\left(\frac{z_3}{z_2}\right) = \text{Arg}(z_3) - \text{Arg}(z_2) = -\frac{\pi}{4} - \frac{\pi}{3} = -\frac{7\pi}{12}$$

$$19 \quad z = 8 \left(\cos \frac{2\pi}{3} - i \sin \frac{2\pi}{3} \right) = 8 \left(\cos \left(-\frac{2\pi}{3} \right) + i \sin \left(-\frac{2\pi}{3} \right) \right)$$

إذن مقياس z يساوي 8 وسعته $-\frac{2\pi}{3}$





$$z = 8 \left(\cos \frac{2\pi}{3} - i \sin \frac{2\pi}{3} \right) = 8 \left(-\frac{1}{2} - \frac{\sqrt{3}}{2} i \right) = -4 - 4\sqrt{3}i$$

$$\sqrt{-4 - 4\sqrt{3}i} = x + iy \rightarrow -4 - 4\sqrt{3}i = x^2 + 2ixy + i^2 y^2$$

$$\rightarrow -4 - 4\sqrt{3}i = x^2 - y^2 + 2ixy$$

$$\rightarrow -4 = x^2 - y^2 \quad \text{و} \quad -4\sqrt{3} = 2xy$$

$$20 \quad y = -\frac{2\sqrt{3}}{x}$$

$$x^2 - y^2 = -4 \rightarrow x^2 - \frac{12}{x^2} = -4$$

$$\rightarrow x^4 + 4x^2 - 12 = 0$$

$$\rightarrow (x^2 + 6)(x^2 - 2) = 0 \rightarrow x = \pm\sqrt{2}$$

عندما $x = \sqrt{2}$ ، فإن $y = -\sqrt{6}$ ، وعندما $x = -\sqrt{2}$ ، فإن $y = \sqrt{6}$ ،
إذن الجذران التربيعيان للعدد المركب z هما: $-\sqrt{2} + i\sqrt{6}$ ، $\sqrt{2} - i\sqrt{6}$

$$\sqrt{3 - 4i} = x + iy \rightarrow 3 - 4i = x^2 + 2ixy + i^2 y^2$$

$$\rightarrow 3 - 4i = x^2 - y^2 + 2ixy$$

$$\rightarrow 3 = x^2 - y^2 \quad \text{و} \quad -4 = 2xy$$

$$y = -\frac{2}{x}$$

$$21 \quad x^2 - y^2 = 3 \rightarrow x^2 - \frac{4}{x^2} = 3$$

$$\rightarrow x^4 - 3x^2 - 4 = 0$$

$$\rightarrow (x^2 + 1)(x^2 - 4) = 0 \rightarrow x = \pm 2$$

عندما $x = 2$ ، فإن $y = -1$ ، وعندما $x = -2$ ، فإن $y = 1$ ،

إذن الجذران التربيعيان للعدد المركب $3 - 4i$ هما: $2 - i$ ، $-2 + i$



$$\sqrt{-15 + 8i} = x + iy \rightarrow -15 + 8i = x^2 + 2ixy + i^2y^2$$

$$\rightarrow -15 + 8i = x^2 - y^2 + 2ixy$$

$$\rightarrow -15 = x^2 - y^2 \text{ و } 8 = 2xy$$

$$y = \frac{4}{x}$$

$$22 \quad x^2 - y^2 = -15 \rightarrow x^2 - \frac{16}{x^2} = -15$$

$$\rightarrow x^4 + 15x^2 - 16 = 0$$

$$\rightarrow (x^2 + 16)(x^2 - 1) = 0 \rightarrow x = \pm 1$$

عندما $x = 1$ ، فإن $y = 4$ ، وعندما $x = -1$ ، فإن $y = -4$

إذن الجذران التربيعيان للعدد المركب $-15 + 8i$ هما: $1 + 4i$ ، $-1 - 4i$

$$\sqrt{5 - 12i} = x + iy \rightarrow 5 - 12i = x^2 + 2ixy + i^2y^2$$

$$\rightarrow 5 - 12i = x^2 - y^2 + 2ixy$$

$$\rightarrow 5 = x^2 - y^2 \text{ و } -12 = 2xy$$

$$y = -\frac{6}{x}$$

$$23 \quad x^2 - y^2 = 5 \rightarrow x^2 - \frac{36}{x^2} = 5$$

$$\rightarrow x^4 - 5x^2 - 36 = 0$$

$$\rightarrow (x^2 + 4)(x^2 - 9) = 0 \rightarrow x = \pm 3$$

عندما $x = 3$ ، فإن $y = -2$ ، وعندما $x = -3$ ، فإن $y = 2$

إذن الجذران التربيعيان للعدد المركب $5 - 12i$ هما: $3 - 2i$ ، $-3 + 2i$



24	$\sqrt{-7 - 24i} = x + iy \rightarrow -7 - 24i = x^2 + 2ixy + i^2y^2$ $\rightarrow -7 - 24i = x^2 - y^2 + 2ixy$ $\rightarrow -7 = x^2 - y^2 \text{ و } -24 = 2xy$ $y = -\frac{12}{x}$ $x^2 - y^2 = -7 \rightarrow x^2 - \frac{144}{x^2} = -7$ $\rightarrow x^4 + 7x^2 - 144 = 0$ $\rightarrow (x^2 + 16)(x^2 - 9) = 0 \rightarrow x = \pm 3$ <p>عندما $x = 3$ ، فإن $y = -4$ ، وعندما $x = -3$ ، فإن $y = 4$ إذن الجذران التربيعيان للعدد المركب $-7 - 24i$ هما: $-3 + 4i$ ، $3 - 4i$</p>
25	<p>بما أن $a - 3i$ هو جذر للعدد المركب $55 - 48i$، إذن:</p> $(a - 3i)^2 = 55 - 48i \rightarrow a^2 - 6ia - 9 = 55 - 48i$ $\rightarrow a^2 - 9 = 55 , -6a = -48 \rightarrow a = 8$ <p>و بما أن $b + ic$ هو جذر للعدد المركب $55 - 48i$، إذن:</p> $(b + ic)^2 = 55 - 48i \rightarrow b^2 + 2ibc - c^2 = 55 - 48i$ $\rightarrow b^2 - c^2 = 55 , 2bc = -48$ $\rightarrow c = -\frac{24}{b} \rightarrow b^2 - \frac{576}{b^2} = 55$ $\rightarrow b^4 - 55b^2 - 576 = 0$ $\rightarrow (b^2 - 64)(b^2 + 9) = 0 \rightarrow b = \pm 8$ <p>عندما $b = 8$ ، فإن $c = -3$ ، وعندما $b = -8$ ، فإن $c = 3$ جذرا هذا العدد المركب هما $8 - 3i$ و $-8 + 3i$ وبمقارنة هذين الجذرين مع الجذرين المعطيين $(a - 3i, b + ic)$ نلاحظ أن: $a = 8, b = -8, c = 3$ الحل الأسهل هو: بما أن $a - 3i$ جذر للعدد المركب $55 - 48i$ إذن $-a + 3i$ هو أيضاً جذر له، ومنه: بالمقارنة مع الجذرين $a - 3i$ و $b + ic$ نجد أن: $b = -a$ و $c = 3$ ومنه: $(a - 3i)^2 = 55 - 48i \rightarrow a^2 - 6ia - 9 = 55 - 48i$$\rightarrow a^2 - 9 = 55 , -6a = -48 \rightarrow a = 8 \rightarrow b = -8$</p>



26	$z = 2 \left(\cos \frac{\pi}{4} - i \sin \frac{\pi}{4} \right) = 2 \left(\cos \left(\frac{-\pi}{4} \right) + i \sin \left(\frac{-\pi}{4} \right) \right), w = 2 \left(\cos \frac{\pi}{3} + i \sin \frac{\pi}{3} \right)$ $zw = 4 \left(\cos \left(\frac{-\pi}{4} + \frac{\pi}{3} \right) + i \sin \left(\frac{-\pi}{4} + \frac{\pi}{3} \right) \right) = 4 \left(\cos \frac{\pi}{12} + i \sin \frac{\pi}{12} \right)$
27	$\frac{z}{w} = 1 \left(\cos \left(\frac{-\pi}{4} - \frac{\pi}{3} \right) + i \sin \left(\frac{-\pi}{4} - \frac{\pi}{3} \right) \right) = \cos \left(\frac{-7\pi}{12} \right) + i \sin \left(\frac{-7\pi}{12} \right)$
28	$\frac{w}{z} = 1 \left(\cos \left(\frac{\pi}{3} - \frac{-\pi}{4} \right) + i \sin \left(\frac{\pi}{3} - \frac{-\pi}{4} \right) \right) = \cos \frac{7\pi}{12} + i \sin \frac{7\pi}{12}$
29	$1 = 1(\cos 0 + i \sin 0)$ $\frac{1}{z} = \frac{1}{2} \left(\cos \left(0 - \frac{-\pi}{4} \right) + i \sin \left(0 - \frac{-\pi}{4} \right) \right) = \frac{1}{2} \left(\cos \frac{\pi}{4} + i \sin \frac{\pi}{4} \right)$
30	$w^2 = ww = 4 \left(\cos \left(\frac{\pi}{3} + \frac{\pi}{3} \right) + i \sin \left(\frac{\pi}{3} + \frac{\pi}{3} \right) \right) = 4 \left(\cos \frac{2\pi}{3} + i \sin \frac{2\pi}{3} \right)$
31	$5i = 5 \left(\cos \frac{\pi}{2} + i \sin \frac{\pi}{2} \right)$ $5iz = 5 \left(\cos \frac{\pi}{2} + i \sin \frac{\pi}{2} \right) \times 2 \left(\cos \left(\frac{-\pi}{4} \right) + i \sin \left(\frac{-\pi}{4} \right) \right)$ $= 10 \left(\cos \left(\frac{\pi}{2} + \frac{-\pi}{4} \right) + i \sin \left(\frac{\pi}{2} + \frac{-\pi}{4} \right) \right)$ $= 10 \left(\cos \frac{\pi}{4} + i \sin \frac{\pi}{4} \right)$
32	$z^2 + 104 = 20z \rightarrow z^2 - 20z + 104 = 0$ $z = \frac{-b \pm \sqrt{b^2 - 4ac}}{2a} = \frac{20 \pm \sqrt{400 - 416}}{2} = \frac{20 \pm \sqrt{-16}}{2}$ $z = \frac{20 \pm 4i}{2} = 10 \pm 2i$ <p>إذن، لهذه المعادلة جذران هما: $10 + 2i$ و $10 - 2i$</p>



$$z^2 + 18z + 202 = 0$$

$$z = \frac{-b \pm \sqrt{b^2 - 4ac}}{2a}$$

$$= \frac{-18 \pm \sqrt{324 - 808}}{2}$$

$$= \frac{-18 \pm \sqrt{-484}}{2}$$

$$= \frac{-18 \pm 22i}{2} = -9 \pm 11i$$

33

إذن، لهذه المعادلة جذران هما: $-9 + 11i$ ، و $-9 - 11i$

$$9z^2 + 68 = 0 \rightarrow z^2 = -\frac{68}{9} \rightarrow z = \pm \sqrt{-\frac{68}{9}} = \pm i \frac{\sqrt{68}}{3}$$

34

إذن، لهذه المعادلة جذران هما: $i \frac{\sqrt{68}}{3}$ و $-i \frac{\sqrt{68}}{3}$

$$3z^3 - 2z^2 + 2z + 1 = 0$$

الأصفر النسبية المحتملة هي: $\pm 1, \pm \frac{1}{3}$

بالتعويض، نجد أن العدد $z = -\frac{1}{3}$ يحقق المعادلة لأن:

$$3\left(-\frac{1}{3}\right)^3 - 2\left(-\frac{1}{3}\right)^2 + 2\left(-\frac{1}{3}\right) + 1 = 0$$

35

$$z = -\frac{1}{3} \rightarrow 3z = -1 \rightarrow 3z + 1 = 0$$

إذن $(3z + 1)$ هو أحد عوامل كثير الحدود، نجري عملية القسمة فنجد أن:

$$3z^3 - 2z^2 + 2z + 1 = (3z + 1)(z^2 - z + 1) = 0$$

$$\rightarrow z = -\frac{1}{3}, z = \frac{1 \pm \sqrt{1 - 4}}{2} = \frac{1 \pm i\sqrt{3}}{2} = \frac{1}{2} \pm i \frac{\sqrt{3}}{2}$$

إذن لهذه المعادلة 3 حلول (جذور) هي: $-\frac{1}{3}, \frac{1}{2} + i \frac{\sqrt{3}}{2}, \frac{1}{2} - i \frac{\sqrt{3}}{2}$



$$z^3 + 4z + 10 = 5z^2 \rightarrow z^3 - 5z^2 + 4z + 10 = 0$$

الأصفار النسبية المحتملة هي: $\pm 1, \pm 2, \pm 5, \pm 10$
بالتعويض، نجد أن العدد $z = -1$ يحقق المعادلة لأن:

$$(-1)^3 - 5(-1)^2 + 4(-1) + 10 = 0$$

36

إذن $(z + 1)$ هو أحد عوامل كثير الحدود، نجري عملية القسمة فنجد أن:

$$z^3 - 5z^2 + 4z + 10 = (z + 1)(z^2 - 6z + 10) = 0$$

$$\rightarrow z = -1, z = \frac{6 \pm \sqrt{36 - 40}}{2} = \frac{6 \pm 2i}{2} = 3 \pm i$$

إذن لهذه المعادلة 3 حلول (جذور) هي: $-1, 3 + i, 3 - i$

$$2z^3 = 8z^2 + 13z - 87 \rightarrow 2z^3 - 8z^2 - 13z + 87 = 0$$

الأصفار النسبية المحتملة هي: $\pm 1, \pm \frac{1}{2}, \pm \frac{3}{2}, \pm 3, \pm 29, \pm \frac{29}{2}, \frac{87}{2}, \pm 87$
بالتعويض، نجد أن العدد $z = -3$ يحقق المعادلة لأن:

$$2(-3)^3 - 8(-3)^2 - 13(-3) + 87 = 0$$

إذن $(z + 3)$ هو أحد عوامل كثير الحدود، نجري عملية القسمة فنجد أن:

37

$$2z^3 - 8z^2 - 13z + 87 = (z + 3)(2z^2 - 14z + 29) = 0$$

$$\rightarrow z = -3, z = \frac{14 \pm \sqrt{196 - 232}}{4}$$

$$\rightarrow z = -3, z = \frac{14 \pm \sqrt{-36}}{4} = \frac{14 \pm 6i}{4} = \frac{7}{2} \pm \frac{3}{2}i$$

إذن لهذه المعادلة 3 حلول (جذور) هي: $-3, \frac{7}{2} + \frac{3}{2}i, \frac{7}{2} - \frac{3}{2}i$



$$x = 2 \pm 5i$$

$$x - 2 = \pm 5i$$

$$(x - 2)^2 = -25$$

$$x^2 - 4x + 4 = -25$$

$$x^2 - 4x + 29 = 0$$

38

طريقة أخرى للحل:

نعلم أنه إذا كان h و k هما جذرا المعادلة التربيعية $x^2 - bx + c = 0$

فإن: $b = h + k$ و $c = hk$

مجموع الجذرين يساوي: 4، وناتج ضربهما يساوي: $4 + 25 = 29$

إذن، المعادلة هي: $x^2 - 4x + 29 = 0$

$$x = 7 \pm 4i$$

$$x - 7 = \pm 4i$$

$$(x - 7)^2 = -16$$

$$x^2 - 14x + 49 = -16$$

$$x^2 - 14x + 65 = 0$$

39

طريقة أخرى للحل:

مجموع الجذرين يساوي: 14، وناتج ضربهما يساوي: $49 + 16 = 65$

إذن، المعادلة هي: $x^2 - 14x + 65 = 0$



40	$x = -8 \pm 20i$ $x + 8 = \pm 20i$ $(x + 8)^2 = -400$ $x^2 + 16x + 64 = -400$ $x^2 + 16x + 464 = 0$	<p>طريقة أخرى للحل:</p> <p>مجموع الجذرين يساوي: -16، وناتج ضربيهما يساوي: $64 + 400 = 464$</p> <p>إذن، المعادلة هي: $x^2 + 16x + 464 = 0$</p>
41	$x = -3 \pm 2i$ $x + 3 = \pm 2i$ $(x + 3)^2 = -4$ $x^2 + 6x + 9 = -4$ $x^2 + 6x + 13 = 0$	<p>طريقة أخرى للحل:</p> <p>مجموع الجذرين يساوي: -6، وناتج ضربيهما يساوي: $9 + 4 = 13$</p> <p>إذن، المعادلة هي: $x^2 + 6x + 13 = 0$</p>
42	$x^3 + x^2 + 15x = 225 \rightarrow x^3 + x^2 + 15x - 225 = 0$	<p>بما أن 5 جذر لهذه المعادلة، إذن $(x - 5)$ أحد عوامل كثير الحدود، بالقسمة عليه نحصل على:</p>
	$x^3 + x^2 + 15x - 225 = (x - 5)(x^2 + 6x + 45) = 0$	
	$x = 5, x = \frac{-6 \pm \sqrt{36 - 180}}{2} = \frac{-6 \pm \sqrt{-144}}{2} = \frac{-6 \pm 12i}{2} = -3 \pm 6i$	
	$x = 5, x = -3 + 6i, x = -3 - 6i$	<p>حلول هذه المعادلة هي:</p>



$$x^3 + 7x^2 - 13x + 45 = 0$$

بما أن 9- جذر لهذه المعادلة، إذن $(x + 9)$ أحد عوامل كثير الحدود، بالقسمة عليه نحصل على:

43

$$x^3 + 7x^2 - 13x + 45 = (x + 9)(x^2 - 2x + 5) = 0$$

$$x = -9, x = \frac{2 \pm \sqrt{4-20}}{2} = \frac{2 \pm \sqrt{-16}}{2} = \frac{2 \pm 4i}{2} = 1 \pm 2i$$

حلول هذه المعادلة هي: $x = -9, x = 1 + 2i, x = 1 - 2i$

$$3x(x^2 + 45) = 2(19x^2 + 37) \rightarrow 3x^3 - 38x^2 - 135x - 74 = 0$$

بما أن $(6 - i)$ جذر لهذه المعادلة، إذن مرافقه $(6 + i)$ هو أيضًا جذر لهذه المعادلة،

نكون المعادلة التربيعية التي جذراها $(6 - i), (6 + i)$:

$$x = 6 \pm i$$

$$x - 6 = \pm i$$

$$(x - 6)^2 = -1$$

44

$$x^2 - 12x + 36 = -1$$

$$x^2 - 12x + 37 = 0$$

ثم نقسم كثير الحدود $3x^3 - 38x^2 - 135x - 74$ على $x^2 - 12x + 37$ فنجد أن:

$$3x^3 - 38x^2 - 135x - 74 = (x^2 - 12x + 37)(3x - 2) = 0$$

$$\rightarrow x = \frac{2}{3}, x = 6 \pm i$$

حلول هذه المعادلة هي: $x = \frac{2}{3}, x = 6 + i, x = 6 - i$



45	$x^3 + 10x^2 + 29x + 30 = 0$ بما أن $(-2 + i)$ جذر لهذه المعادلة، إذن مرافقه $(-2 - i)$ هو أيضاً جذر لهذه المعادلة، نكون المعادلة التربيعية التي جذراها $(-2 + i)$ ، $(-2 - i)$: $x = -2 \pm i$ $x + 2 = \pm i$ $(x + 2)^2 = -1$ $x^2 + 4x + 4 = -1$ $x^2 + 4x + 5 = 0$ ثم نقسم كثير الحدود $x^3 + 10x^2 + 29x + 30$ على $x^2 + 4x + 5$ فنجد أن: $x^3 + 10x^2 + 29x + 30 = (x^2 + 4x + 5)(x + 6) = 0$ $\rightarrow x = -6, x = -2 \pm i$ حلول هذه المعادلة هي: $x = -6, x = -2 + i, x = -2 - i$
46	الجذر الآخر هو مرافق الجذر الأول، أي $4 - 11i$
47	$k = (4 - 11i)(4 + 11i) = 16 - 121i^2 = 16 + 121 = 137$
48	$(p + iq)^2 = p^2 + 2ipq + i^2q^2 = p^2 + 2ipq - q^2$



49	$(p + iq)^2 = 45 + im = p^2 - q^2 + 2ipq$ $\rightarrow p^2 - q^2 = 45 , m = 2pq$ $\rightarrow p^2 - q^2 = 45 \rightarrow (p + q)(p - q) = 45$ <p>بما أن p و q عددان صحيحان موجبان و $p > q$ فإن $(p + q)$ و $(p - q)$ عددان صحيحان موجبان أيضاً و $(p + q) > (p - q)$ ومنه يكفي تحليل العدد 45 إلى عاملين صحيحين موجبين أحدهما أكبر من الآخر، لدينا ثلاث حالات لتحليل 45 إلى عاملين صحيحين موجبين هي:</p> <p><u>الحالة الأولى: $45 = 45 \times 1$ فإن: $p + q = 45$ و $p - q = 1$</u></p> <p>ومنه: $p = 23$ و $q = 22$ أي أن: $m = 2pq = 1012$</p> <p><u>الحالة الثانية: $45 = 15 \times 3$ فإن: $p + q = 15$ و $p - q = 3$</u></p> <p>ومنه: $p = 9$ و $q = 6$ أي أن: $m = 2pq = 108$</p> <p><u>الحالة الثالثة: $45 = 9 \times 5$ فإن: $p + q = 9$ و $p - q = 5$</u></p> <p>ومنه: $p = 7$ و $q = 2$ أي أن: $m = 2pq = 28$</p> <p>قيم m المطلوبة هي: 28, 108, 1012</p>
50	<p>المطلوب إيجاد الجذرين التربيعيين للعدد المركب $45 - 108i$</p> <p>بما أن $m = 2pq = -108$ إذن العددين p و q مختلفان بالإشارة، من السؤال السابق نجد أن:</p> <p>$p = -9, q = 6$ أو $p = 9, q = -6$</p> <p>الجذران المطلوبان هما: $9 - 6i, -9 + 6i$</p>
51	<p>ليكن $z = x + iy$، إذن: $\bar{z} = x - iy$</p> $z\bar{z} = (x + iy)(x - iy) = x^2 - y^2i^2 = x^2 + y^2 = (\sqrt{x^2 + y^2})^2 = z ^2$



$$|z| = 5\sqrt{5}, \text{Arg}(z) = \tan^{-1}\left(\frac{1}{2}\right), \frac{z}{3+4i} = p+iq$$

$$z = x + iy \text{ ليكن}$$

بما أن $\text{Arg}(z) = \tan^{-1}\left(\frac{1}{2}\right)$ ، إذن يقع العدد المركب z في الربع الأول، ويكون $x = 2y$

$$\rightarrow z = 2y + iy$$

$$|z| = 5\sqrt{5}$$

$$(2y)^2 + y^2 = 125 \rightarrow y^2 = 25 \rightarrow y = 5, x = 10$$

$$\text{إذن، } z = 10 + 5iy$$

$$\frac{z}{3+4i} = \frac{10+5iy}{3+4i} = \frac{10+5iy}{3+4i} \times \frac{3-4i}{3-4i}$$

$$p+iq = \frac{30-40iy+15iy+20}{9+16} = \frac{50-25iy}{25} = 2-iy$$

$$\text{إذن، } p=2, q=-1 \text{ ويكون، } p+q=1$$

52



$$z^3 - 20z^2 + 164z - 400 = 0$$

بما أن $(8 + 6i)$ جذر لهذه المعادلة، فإن مرافقه $(8 - 6i)$ هو أيضاً جذر لهذه المعادلة،
نكون المعادلة التربيعية التي جذراها $(8 + 6i)$ ، $(8 - 6i)$:

$$(8 + 6i) + (8 - 6i) = 16$$

$$(8 + 6i) \times (8 - 6i) = 64 + 36 = 100$$

$$\rightarrow z^2 - 16z + 100 = 0$$

ثم نقسم كثير الحدود $z^3 - 20z^2 + 164z - 400$ على $z^2 - 16z + 100$ فنجد أن:

$$z^3 - 20z^2 + 164z - 400 = (z^2 - 16z + 100)(z - 4) = 0$$

$$\rightarrow z = 4, z = 8 \pm 6i$$

حلول هذه المعادلة هي: $z = 4, z = 8 + 6i, z = 8 - 6i$

المعادلة الجديدة هي: $x^6 - 20x^4 + 164x^2 - 400 = 0$

إذا عوضنا $z = x^2$ ، تتحول هذه المعادلة إلى $z^3 - 20z^2 + 164z - 400 = 0$

إذن، حلول المعادلة $x^6 - 20x^4 + 164x^2 - 400 = 0$ هي الجذور التربيعية لحلول المعادلة

$$z^3 - 20z^2 + 164z - 400 = 0$$

إذن، حلول هذه المعادلة هي: $x = \pm\sqrt{8 - 6i}$ ، $x = \pm\sqrt{8 + 6i}$ ، $x = \pm 2$

نجد الجذرين التربيعيين للعدد $8 + 6i$

$$\sqrt{8 + 6i} = h + ik \rightarrow 8 + 6i = h^2 - k^2 + 2ihk$$

$$\rightarrow 8 = h^2 - k^2 \text{ و } 6 = 2hk$$

$$h = \frac{3}{k}$$

$$h^2 - k^2 = 8 \rightarrow h^2 - \frac{9}{k^2} = 8$$

$$\rightarrow h^4 - 8h^2 - 9 = 0$$

$$\rightarrow (h^2 + 1)(h^2 - 9) = 0 \rightarrow h = \pm 3 \rightarrow k = \pm 1$$

إذن الجذران التربيعيان للعدد المركب $8 + 6i$ هما: $3 + i$ ، $-3 - i$

بالمثل نجد أن الجذرين التربيعيين للعدد المركب $8 - 6i$ هما: $3 - i$ ، $-3 + i$

ويكون للمعادلة $x^6 - 20x^4 + 164x^2 - 400 = 0$ ستة حلول هي:

$$x = 2, x = -2, x = 3 + i, x = 3 - i, x = -3 + i, x = -3 - i$$



الدرس الثالث: المحل الهندسي في المستوى المركب

مسألة اليوم صفحة 168

المنطقة المظللة تمثل الأعداد المركبة التي تبعد عن العدد $2 + 3i$ مسافة تقل عن 4 وحدات، فتكون المتباينة المطلوبة هي:

$$|z - (2 + 3i)| < 4$$

أتحقق من فهمي صفحة 169

$$|z + 5 - 4i| = 7 \rightarrow |z - (-5 + 4i)| = 7$$

وهذه معادلة دائرة في المستوى المركب مركزها $(-5, 4)$ وطول نصف قطرها 7

$$|z + 5 - 4i| = 7 \rightarrow |x + iy + 5 - 4i| = 7$$

$$\rightarrow |(x + 5) + (y - 4)i| = 7$$

$$\rightarrow \sqrt{(x + 5)^2 + (y - 4)^2} = 7$$

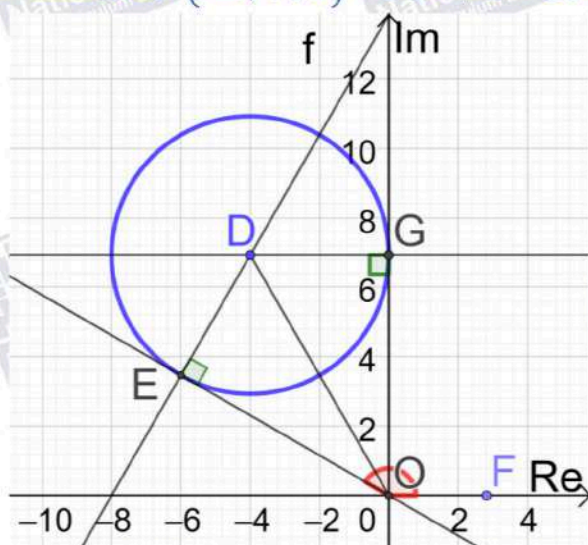
$$\rightarrow (x + 5)^2 + (y - 4)^2 = 49$$

وهذه معادلة دائرة مركزها $(-5, 4)$ وطول نصف قطرها 7

أتحقق من فهمي صفحة 171

$$|z + 4 - 4\sqrt{3}i| = 4 \rightarrow |z - (-4 + 4\sqrt{3}i)| = 4$$

وهذه معادلة دائرة في المستوى المركب مركزها $(-4, 4\sqrt{3})$ وطول نصف قطرها 4





أكبر سعة للعدد المركب z تساوي قياس الزاوية $\angle FOE$ المحصورة بين مماس الدائرة OE والمحور الحقيقي الموجب

مماسا الدائرة OG و OE عموديان على الترتيب على نصفي القطرين DE و DG ،
المثلثان OED و OGD متطابقان بثلاثة أضلاع، إذن الزاويتان $\angle EOD$ و $\angle GOD$ متطابقتان

$$b \quad \tan \angle GOD = \frac{4}{4\sqrt{3}} = \frac{1}{\sqrt{3}} \rightarrow \angle GOD = \frac{\pi}{6}$$

$$\text{Arg}(z) = \frac{\pi}{2} + \frac{\pi}{6} + \frac{\pi}{6} = \frac{5\pi}{6}$$

القيمة العظمى لسعة الأعداد المركبة z التي تحقق المعادلة المعطاة هي $\frac{5\pi}{6}$

أتحقق من فهمي صفحة 172

$$|z + 1| = |z - 5i| \rightarrow |z - (-1)| = |z - (5i)|$$

هذه هي معادلة المنصف العمودي للقطعة المستقيمة الواصلة بين النقطتين $(-1, 0)$, $(0, 5)$

$$|z + 1| = |z - 5i| \rightarrow |x + iy + 1| = |x + iy - 5i|$$

$$\rightarrow |(x + 1) + iy| = |x + i(y - 5)|$$

$$\rightarrow \sqrt{(x + 1)^2 + y^2} = \sqrt{x^2 + (y - 5)^2}$$

$$\rightarrow (x + 1)^2 + y^2 = x^2 + (y - 5)^2$$

$$\rightarrow x^2 + 2x + 1 + y^2 = x^2 + y^2 - 10y + 25$$

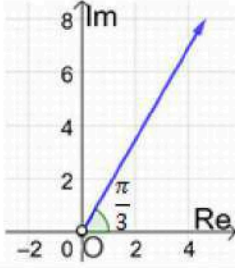
$$\rightarrow 2x + 10y - 24 = 0$$

إذن معادلة المنصف العمودي للقطعة المستقيمة بالصيغة الديكارتية هي: $x + 5y - 12 = 0$

أتحقق من فهمي صفحة 174

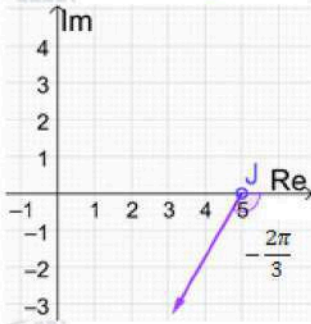


a $Arg(z) = \frac{\pi}{3} \rightarrow Arg(z - (0)) = \frac{\pi}{3}$



هذه معادلة شعاع يبدأ بالنقطة $(0, 0)$ ولا يشملها، ويصنع زاوية قياسها $\frac{\pi}{3}$ مع المحور الحقيقي

b $Arg(z - 5) = -\frac{2\pi}{3} \rightarrow Arg(z - (5)) = -\frac{2\pi}{3}$



هذه معادلة شعاع يبدأ بالنقطة $(5, 0)$ ولا يشملها، ويصنع زاوية قياسها $-\frac{2\pi}{3}$ مع المحور الحقيقي

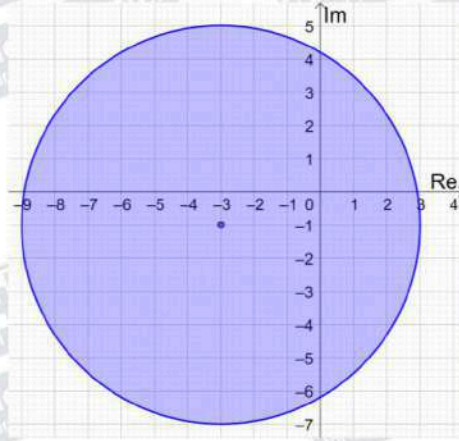
أتحقق من فهمي صفحة 177



$$|z + 3 + i| \leq 6$$

المنحنى الحدودي لهذه المتباينة معادلته $|z + 3 + i| = 6$ وهو دائرة مركزها $(-3, -1)$ ، وطول نصف قطرها 6 وحدات.

وبما أنه توجد مساواة في رمز المتباينة، فإننا نرسم المنحنى الحدودي متصلًا. أما منطقة المحل الهندسي فهي داخل الدائرة وعلى محيطها وليس خارجها، لأن الأعداد المركبة التي تحقق المتباينة تبعد مسافة تقل عن 6 وحدات عن مركز الدائرة أو تساويها.



$$|z + 3 + i| < |z - 4|$$

المنحنى الحدودي لهذه المتباينة معادلته $|z + 3 + i| = |z - 4|$

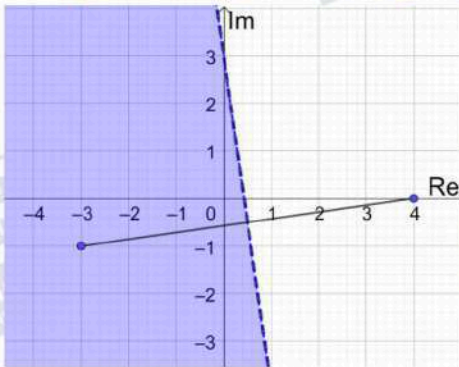
وهو المنصف العمودي للقطعة المستقيمة الواصلة بين $(-3, -1)$ و $(4, 0)$.

وبما أنه لا توجد مساواة في رمز المتباينة، فإننا نرسم المنحنى الحدودي متقطعًا.

نحدد جهة المنحنى الحدودي التي تحقق المتباينة باختيار نقطة الأصل مثلًا وتعويضها في المتباينة،

$$|0 + 3 + i| < |0 - 4| \rightarrow \sqrt{10} < 4 \quad \checkmark$$

بما أن نقطة الأصل تحقق المتباينة، فإن منطقة الحلول الممكنة هي المنطقة التي تحوي نقطة الأصل.

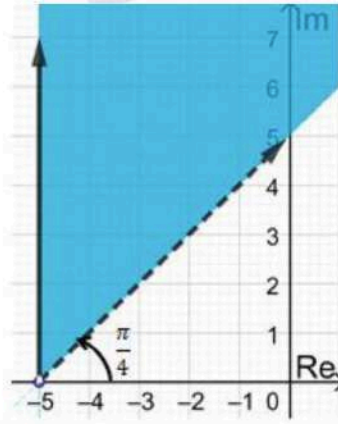




$$\frac{\pi}{4} < \text{Arg}(z + 5) \leq \frac{\pi}{2}$$

يمثل منحنى المعادلة $\text{Arg}(z + 5) = \frac{\pi}{2}$ شعاعاً (نرسمه متصلًا بسبب وجود مساواة في المتباينة) يبدأ من النقطة $(-5, 0)$ ولا يشملها، ويصنع زاوية قياسها $\frac{\pi}{2}$ مع المحور الحقيقي.

و يمثل منحنى المعادلة $\text{Arg}(z + 5) = \frac{\pi}{4}$ شعاعاً (نرسمه منقطعاً بسبب عدم وجود مساواة في المتباينة) يبدأ من النقطة $(-5, 0)$ ولا يشملها، ويصنع زاوية قياسها $\frac{\pi}{4}$ مع المحور الحقيقي. المحل الهندسي للنقاط التي تحقق المتباينة المطلوبة هو الجزء المظلل من المستوى المركب كالآتي:



c



أتحقق من فهمي صفحة 178

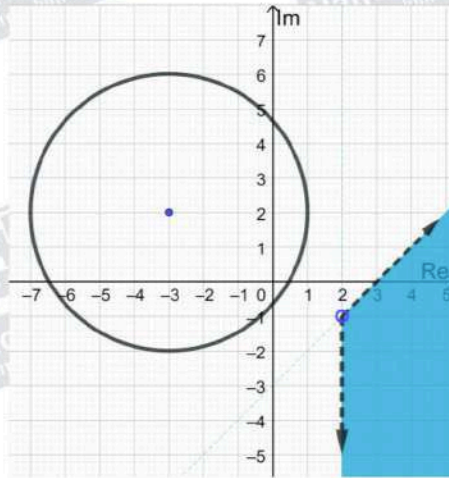
$$|z + 3 - 2i| \geq 4, \quad -\frac{\pi}{2} < \text{Arg}(z - 2 + i) < \frac{\pi}{4}$$

تمثل المعادلة $|z + 3 - 2i| = 4$ دائرة مركزها النقطة $(-3, 2)$ وطول نصف قطرها 4 وحدات،
وبما أنه توجد مساواة في رمز المتباينة فإننا نرسم المنحنى الحدودي متصلًا.

تمثل المعادلة $\text{Arg}(z - 2 + i) = \frac{\pi}{4}$ شعاعاً يبدأ بالنقطة $(2, -1)$ ويصنع زاوية قياسها $\frac{\pi}{4}$ مع
مستقيم يوازي المحور الحقيقي، وبما أنه لا توجد مساواة في رمز المتباينة، فإننا نرسم الشعاع متقطعاً.

تمثل المعادلة $\text{Arg}(z - 2 + i) > -\frac{\pi}{2}$ شعاعاً يبدأ بالنقطة $(2, -1)$ ويصنع زاوية قياسها $\frac{\pi}{2}$
مع مستقيم يوازي المحور الحقيقي، وبما أنه لا توجد مساواة في رمز المتباينة، فإننا نرسم الشعاع
متقطعاً.

تمثل المتباينة $|z + 3 - 2i| \geq 4$ النقاط الواقعة على الدائرة أو خارجها، وتمثل المتباينة
 $-\frac{\pi}{2} < \text{Arg}(z - 2 + i) < \frac{\pi}{4}$ النقاط الواقعة بين الشعاعين. المنطقة التي تحقق المتباينتين هي
الجزء المظلل في الرسم أدناه.



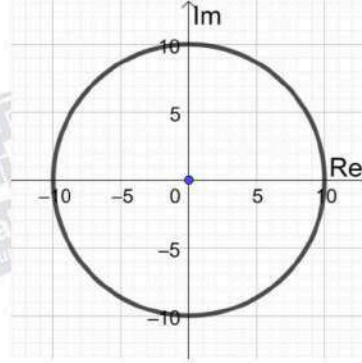
أتدرب وأحل المسائل صفحة 178



1

$$|z| = 10 \rightarrow |x + iy| = 10 \rightarrow x^2 + y^2 = 100$$

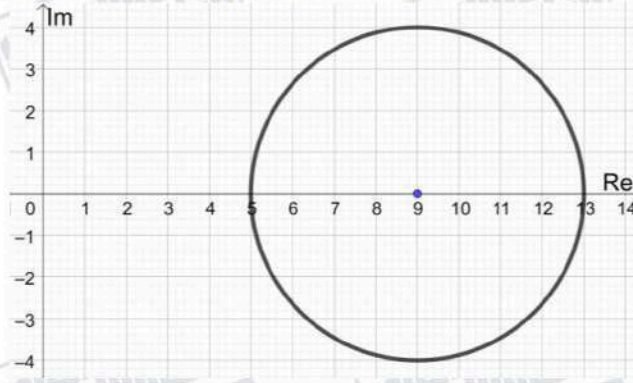
المحل الهندسي الذي تمثله هذه المعادلة هو دائرة مركزها $(0, 0)$ وطول نصف قطرها 10 وحدات



2

$$|z - 9| = 4 \rightarrow |(x - 9) + iy| = 4 \rightarrow (x - 9)^2 + y^2 = 16$$

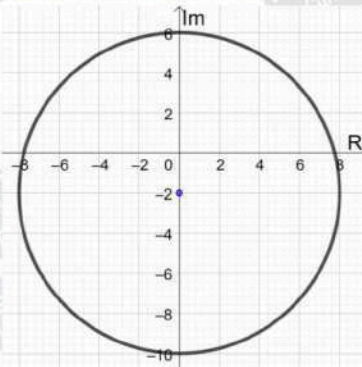
المحل الهندسي الذي تمثله هذه المعادلة هو دائرة مركزها $(9, 0)$ وطول نصف قطرها 4 وحدات



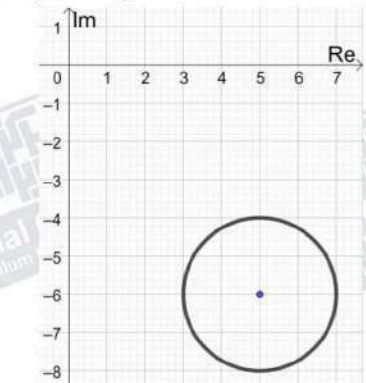
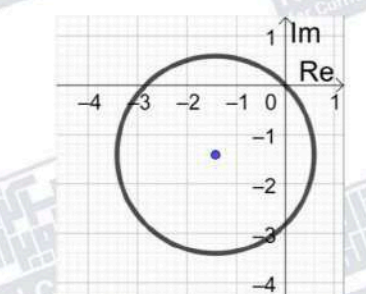
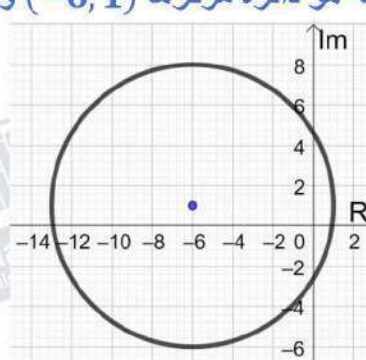
3

$$|z + 2i| = 8 \rightarrow |x + i(y + 2)| = 8 \rightarrow x^2 + (y + 2)^2 = 64$$

المحل الهندسي الذي تمثله هذه المعادلة هو دائرة مركزها $(0, -2)$ وطول نصف قطرها 8 وحدات





4	<p>$z - 5 + 6i = 2 \rightarrow (x - 5) + i(y + 6) = 2 \rightarrow (x - 5)^2 + (y + 6)^2 = 4$</p> <p>المحل الهندسي الذي تمثله هذه المعادلة هو دائرة مركزها $(5, -6)$ وطول نصف قطرها وحدتان</p> 
5	<p>$z + \sqrt{2} + i\sqrt{2} = 2 \rightarrow (x + \sqrt{2}) + i(y + \sqrt{2}) = 2$</p> <p>$\rightarrow (x + \sqrt{2})^2 + (y + \sqrt{2})^2 = 4$</p> <p>المحل الهندسي الذي تمثله هذه المعادلة هو دائرة مركزها $(-\sqrt{2}, -\sqrt{2})$ وطول نصف قطرها وحدتان</p> 
6	<p>$z + 6 - i = 7 \rightarrow (x + 6) + i(y - 1) = 7 \rightarrow (x + 6)^2 + (y - 1)^2 = 49$</p> <p>المحل الهندسي الذي تمثله هذه المعادلة هو دائرة مركزها $(-6, 1)$ وطول نصف قطرها 7 وحدات</p> 



$$|z - 5| = |z - 3i| \rightarrow |z - (5)| = |z - (3i)|$$

هذه هي معادلة المنصف العمودي للقطعة المستقيمة الواصلة بين النقطتين $(5, 0)$, $(0, 3)$

$$|z - 5| = |z - 3i| \rightarrow |(x - 5) + iy| = |x + i(y - 3)|$$

$$\rightarrow \sqrt{(x - 5)^2 + y^2} = \sqrt{x^2 + (y - 3)^2}$$

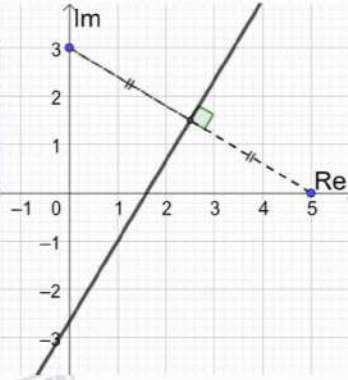
$$\rightarrow (x - 5)^2 + y^2 = x^2 + (y - 3)^2$$

$$\rightarrow x^2 - 10x + 25 + y^2 = x^2 + y^2 - 6y + 9$$

$$\rightarrow 10x - 6y - 16 = 0$$

7

إن معادلة المنصف العمودي للقطعة المستقيمة بالصيغة الديكارتية هي: $5x - 3y - 8 = 0$





$$|z + 3i| = |z - 7i| \rightarrow |z - (-3i)| = |z - (7i)|$$

هذه هي معادلة المنصف العمودي للقطعة المستقيمة الواصلة بين النقطتين $(0, -3), (0, 7)$

$$|z + 3i| = |z - 7i| \rightarrow |x + i(y + 3)| = |x + i(y - 7)|$$

$$\rightarrow \sqrt{x^2 + (y + 3)^2} = \sqrt{x^2 + (y - 7)^2}$$

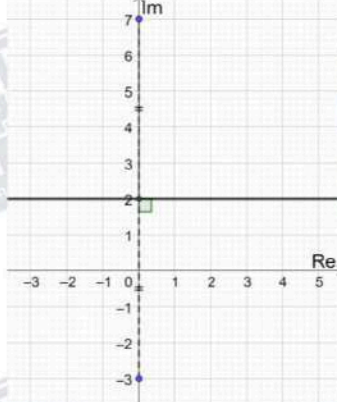
$$\rightarrow x^2 + (y + 3)^2 = x^2 + (y - 7)^2$$

$$\rightarrow x^2 + y^2 + 6y + 9 = x^2 + y^2 - 14y + 49$$

$$\rightarrow 20y - 40 = 0$$

8

إن معادلة المنصف العمودي للقطعة المستقيمة بالصيغة الديكارتية هي: $y = 2$





$$|z + 5 + 2i| = |z - 7| \rightarrow |z - (-5 - 2i)| = |z - (7)|$$

هذه هي معادلة المنصف العمودي للقطعة المستقيمة الواصلة بين النقطتين $(-5, -2), (7, 0)$

$$|z + 5 + 2i| = |z - 7| \rightarrow |(x + 5) + i(y + 2)| = |(x - 7) + iy|$$

$$\rightarrow \sqrt{(x + 5)^2 + (y + 2)^2} = \sqrt{(x - 7)^2 + y^2}$$

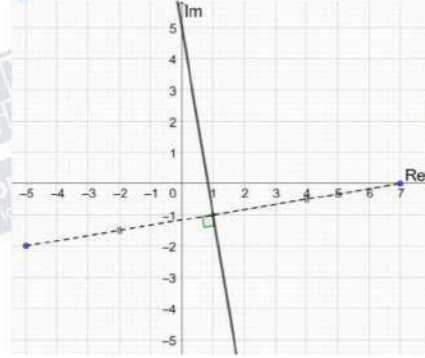
$$\rightarrow (x + 5)^2 + (y + 2)^2 = (x - 7)^2 + y^2$$

$$\rightarrow x^2 + 10x + 25 + y^2 + 4y + 4 = x^2 - 14x + 49 + y^2$$

$$\rightarrow 24x + 4y - 20 = 0$$

9

إن معادلة المنصف العمودي للقطعة المستقيمة بالصيغة الديكارتية هي: $6x + y - 5 = 0$



$$|z - 3| = |z - 2 - i| \rightarrow |z - (3)| = |z - (2 + i)|$$

هذه هي معادلة المنصف العمودي للقطعة المستقيمة الواصلة بين النقطتين $(3, 0), (2, 1)$

$$|z - 3| = |z - 2 - i| \rightarrow |(x - 3) + iy| = |(x - 2) + i(y - 1)|$$

$$\rightarrow \sqrt{(x - 3)^2 + y^2} = \sqrt{(x - 2)^2 + (y - 1)^2}$$

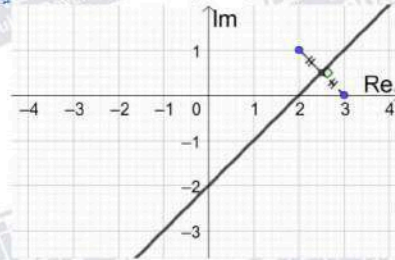
$$\rightarrow (x - 3)^2 + y^2 = (x - 2)^2 + (y - 1)^2$$

$$\rightarrow x^2 - 6x + 9 + y^2 = x^2 - 4x + 4 + y^2 - 2y + 1$$

$$\rightarrow 2x - 2y - 4 = 0$$

10

إن معادلة المنصف العمودي للقطعة المستقيمة بالصيغة الديكارتية هي: $x - y - 2 = 0$





$$\frac{|z + 6 - i|}{|z - 10 - 5i|} = 1 \rightarrow |z + 6 - i| = |z - 10 - 5i|$$

$$\rightarrow |z - (-6 + i)| = |z - (10 + 5i)|$$

هذه هي معادلة المنصف العمودي للقطعة المستقيمة الواصلة بين النقطتين $(-6, 1), (10, 5)$

$$|z + 6 - i| = |z - 10 - 5i| \rightarrow |(x + 6) - i(y - 1)| = |(x - 10) + i(y - 5)|$$

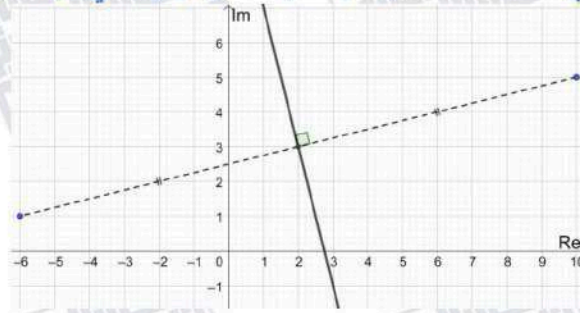
$$\rightarrow \sqrt{(x + 6)^2 + (y - 1)^2} = \sqrt{(x - 10)^2 + (y - 5)^2}$$

$$\rightarrow (x + 6)^2 + (y - 1)^2 = (x - 10)^2 + (y - 5)^2$$

$$11 \rightarrow x^2 + 12x + 36 + y^2 - 2y + 1 = x^2 - 20x + 100 + y^2 - 10y + 25$$

$$\rightarrow 32x + 8y - 88 = 0$$

إذن معادلة المنصف العمودي للقطعة المستقيمة الديكارتية هي: $4x + y - 11 = 0$





$$|z + 7 + 2i| = |z - 4 - 3i| \rightarrow |z - (-7 - 2i)| = |z - (4 + 3i)|$$

هذه هي معادلة المنصف العمودي للقطعة المستقيمة الواصلة بين النقطتين $(-7, -2)$, $(4, 3)$

$$|z + 7 + 2i| = |z - 4 - 3i| \rightarrow |(x + 7) + i(y + 2)| = |(x - 4) + i(y - 3)|$$

$$\rightarrow \sqrt{(x + 7)^2 + (y + 2)^2} = \sqrt{(x - 4)^2 + (y - 3)^2}$$

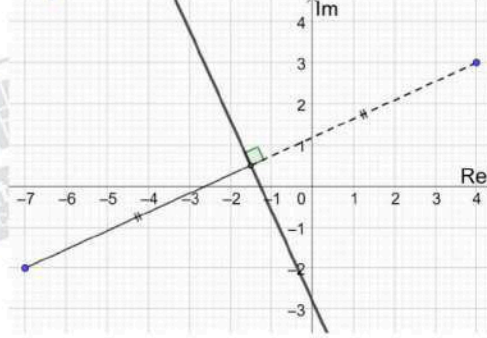
$$\rightarrow (x + 7)^2 + (y + 2)^2 = (x - 4)^2 + (y - 3)^2$$

$$\rightarrow x^2 + 14x + 49 + y^2 + 4y + 4 = x^2 - 8x + 16 + y^2 - 6y + 9$$

$$\rightarrow 22x + 10y + 28 = 0$$

12

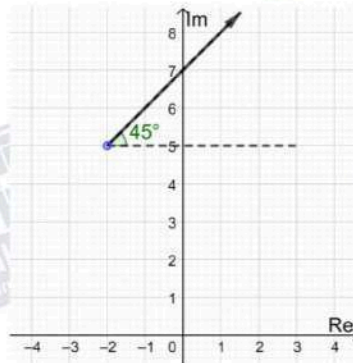
إن معادلة المنصف العمودي للقطعة المستقيمة بالصيغة الديكارتية هي: $11x + 5y + 14 = 0$



$$\text{Arg}(z + 2 - 5i) = \frac{\pi}{4} \rightarrow \text{Arg}(z - (2 + 5i)) = \frac{\pi}{4}$$

المحل الهندسي لهذه المعادلة هو شعاع ينطلق من النقطة $(-2, 5)$ ولا يشملها، ويصنع زاوية قياسها $\frac{\pi}{4}$ مع مستقيم يوازي المحور الحقيقي.

13



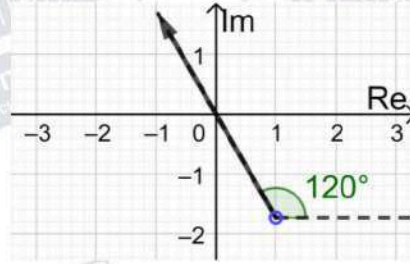


$$\text{Arg}(z - 1 + i\sqrt{3}) = \frac{2\pi}{3} \rightarrow \text{Arg}(z - (1 - i\sqrt{3})) = \frac{2\pi}{3}$$

المحل الهندسي لهذه المعادلة هو شعاع ينطلق من النقطة $(1, -\sqrt{3})$ ولا يشملها، ويصنع زاوية قياسها

مع مستقيم يوازي المحور الحقيقي. $\frac{2\pi}{3}$

14

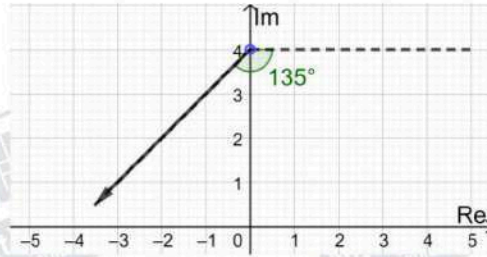


$$\text{Arg}(z - 4i) = -\frac{3\pi}{4} \rightarrow \text{Arg}(z - (4i)) = -\frac{3\pi}{4}$$

المحل الهندسي لهذه المعادلة هو شعاع ينطلق من النقطة $(0, 4)$ ولا يشملها، ويصنع زاوية قياسها

مع مستقيم يوازي المحور الحقيقي. $-\frac{3\pi}{4}$

15





$$|z - 2| < |z + 2|$$

المنحنى الحدودي لهذه المتباينة معادلته $|z - 2| = |z + 2|$ وهو المنصف العمودي للقطعة المستقيمة الواصلة بين $(-2, 0)$ و $(2, 0)$.

وبما أنه لا توجد مساواة في رمز المتباينة، فإننا نرسم المنحنى الحدودي متقطعاً.

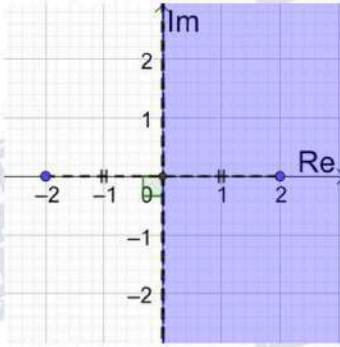
نحدد جهة المنحنى الحدودي التي تحقق المتباينة باختيار $z = 1 + i$ مثلاً وتعويضه في المتباينة،

$$|1 + i - 2| < |1 + i + 2| \rightarrow |-1 + i| < |3 + i| \rightarrow \sqrt{2} < \sqrt{10} \quad \checkmark$$

بما أن $z = 1 + i$ حقق المتباينة، فإن منطقة الحلول الممكنة هي المنطقة التي تحوي $z = 1 + i$

(أي نختار الجهة التي يكون فيها بعد النقاط عن النقطة $(2, 0)$ أقل من بعدها عن النقطة $(-2, 0)$)

16



$$|z - 4 - 2i| \leq 2 \rightarrow |z - (4 + 2i)| \leq 2$$

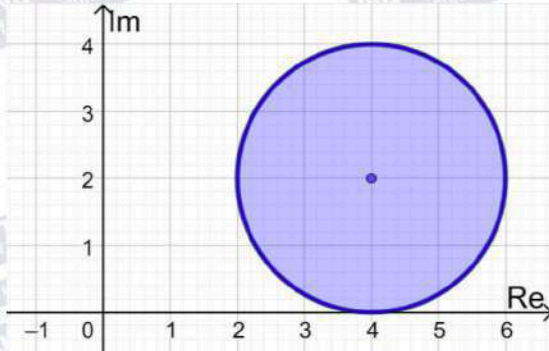
المنحنى الحدودي لهذه المتباينة معادلته $|z - 4 - 2i| = 2$ ، وهو دائرة مركزها $(4, 2)$ وطول نصف قطرها وحدتان.

وبما أنه توجد مساواة في رمز المتباينة، فإننا نرسم المنحنى الحدودي متصلًا.

أما منطقة المحل الهندسي فهي داخل الدائرة وعلى محيطها وليس خارجها، لأن الأعداد المركبة التي

تحقق المتباينة تبعد عن مركز الدائرة مسافة تقل عن طول نصف القطر أو تساويها.

17





$$|z - 4| > |z - 6|$$

المنحنى الحدودي لهذه المتباينة معادلته $|z - 4| = |z - 6|$ وهو المنصف العمودي للقطعة المستقيمة الواصلة بين $(6, 0)$ و $(4, 0)$.

وبما أنه لا توجد مساواة في رمز المتباينة، فإننا نرسم المنحنى الحدودي متقطعاً.

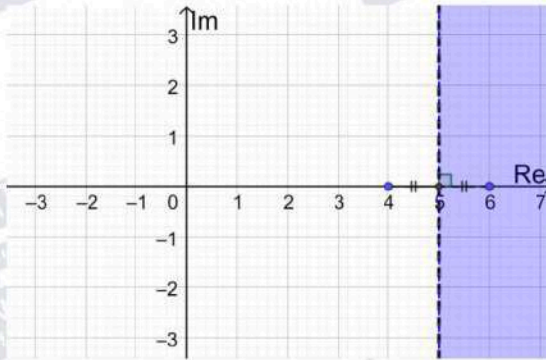
نحدد جهة المنحنى الحدودي التي تحقق المتباينة باختيار $z = 0$ مثلاً وتعويضه في المتباينة،

$$|0 - 4| > |0 - 6| \rightarrow 2 > \sqrt{6} \quad *$$

بما أن العدد لا يحقق المتباينة، فإن منطقة الحل الممكنة هي المنطقة التي لا تحوي $z = 0$.

(أي نختار الجهة التي يكون فيها بعد النقاط عن النقطة $(4, 0)$ أكبر من بعدها عن النقطة $(6, 0)$)

18



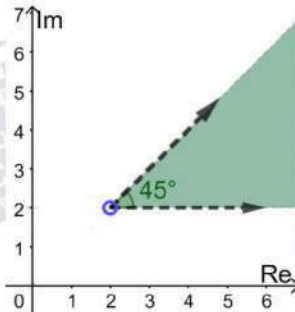
$$0 < \text{Arg}(z - 2 - 2i) < \frac{\pi}{4}$$

يمثل منحنى المعادلة $\text{Arg}(z - 2 - 2i) = \frac{\pi}{4}$ شعاعاً (نرسمه متقطعاً بسبب عدم وجود مساواة في المتباينة) يبدأ من النقطة $(2, 2)$ ولا يشملها، ويصنع زاوية قياسها $\frac{\pi}{4}$ مع مستقيم يوازي المحور الحقيقي.

ويمثل منحنى المعادلة $\text{Arg}(z - 2 - 2i) = 0$ شعاعاً (نرسمه متقطعاً بسبب عدم وجود مساواة في المتباينة) يبدأ من النقطة $(2, 2)$ ولا يشملها، ويوازي المحور الحقيقي.

المحل الهندسي للنقاط التي تحقق المتباينة المطلوبة هو الجزء من المستوى المركب المحصور بين هذين الشعاعين.

19



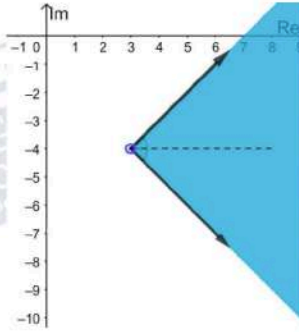


$$-\frac{\pi}{4} \leq \text{Arg}(z - 3 + 4i) \leq \frac{\pi}{4}$$

يمثل منحنى المعادلة $\text{Arg}(z - 3 + 4i) = \frac{\pi}{4}$ شعاعاً (نرسمه متصلًا بسبب وجود مساواة في المتباينة) يبدأ من النقطة $(3, -4)$ ولا يشملها، ويصنع زاوية قياسها $\frac{\pi}{4}$ مع مستقيم مواز للمحور الحقيقي.

و يمثل منحنى المعادلة $\text{Arg}(z - 3 + 4i) = -\frac{\pi}{4}$ شعاعاً (نرسمه متصلًا بسبب وجود مساواة في المتباينة) يبدأ من النقطة $(3, -4)$ ولا يشملها، ويصنع زاوية قياسها $-\frac{\pi}{4}$ مع مستقيم مواز للمحور الحقيقي.

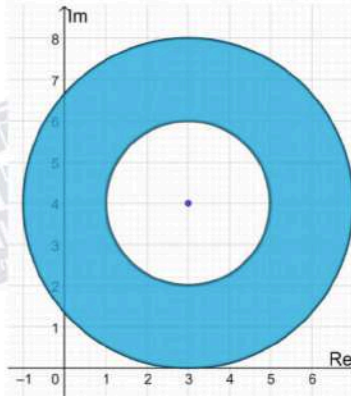
المحل الهندسي للنقاط التي تحقق المتباينة المطلوبة هو الجزء من المستوى المركب كما في الشكل:



20

$$2 \leq |z - 3 - 4i| \leq 4 \rightarrow 2 \leq |z - (3 + 4i)| \leq 4$$

يمثل منحنى المعادلة $|z - (3 + 4i)| = 2$ دائرة مركزها $(3, 4)$ وطول نصف قطرها وحدتان، وبما أنه توجد مساواة في رمز المتباينة، فإننا نرسم المنحنى الحدودي متصلًا. ويمثل منحنى المعادلة $|z - (3 + 4i)| = 4$ دائرة مركزها $(3, 4)$ وطول نصف قطرها 4 وبما أنه توجد مساواة في رمز المتباينة، فإننا نرسم المنحنى الحدودي متصلًا. أما منطقة المحل الهندسي فهي المنطقة التي تحوي جميع الأعداد الواقعة على الدائرتين أو بينهما.



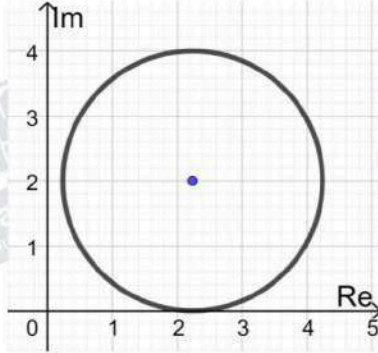
21



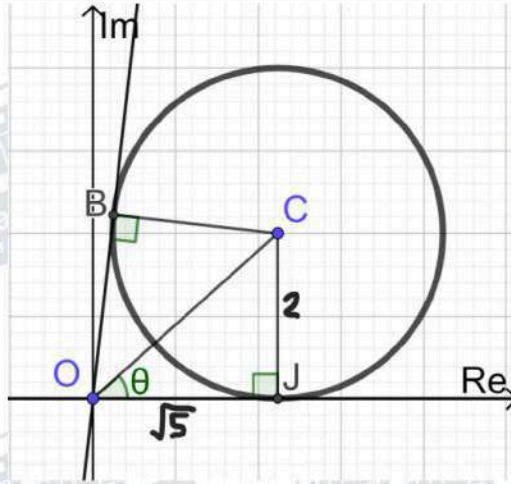
22

$$|z - \sqrt{5} - 2i| = 2 \rightarrow |z - (\sqrt{5} + 2i)| = 2$$

المحل الهندسي الذي تمثله هذه المعادلة هو دائرة مركزها $(\sqrt{5}, 2)$ وطول نصف قطرها وحدتان



23



أكبر سعة للعدد المركب z تساوي قياس الزاوية $\angle JOB$ المحصورة بين مماس الدائرة OB والمحور الحقيقي الموجب

مماسا الدائرة OJ و OB عموديان على الترتيب على نصفي القطرين CJ و CB ،

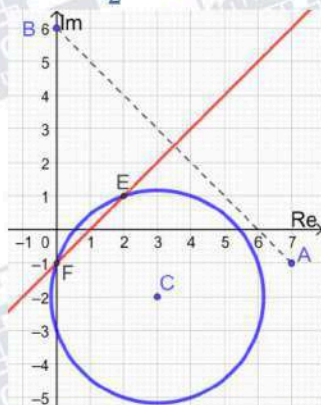
المثلثان OJC و OBC متطابقان بثلاثة أضلاع، إذن الزاويتان $\angle JOC$ و $\angle BOC$ متطابقتان

$$\tan \angle \theta = \frac{2}{\sqrt{5}} \rightarrow \theta = \tan^{-1} \frac{2}{\sqrt{5}} \rightarrow \angle JOB = 2 \times \tan^{-1} \frac{2}{\sqrt{5}} \approx 1.46$$

القيمة العظمى لسعة الأعداد المركبة z التي تحقق المعادلة المعطاة هي 1.46



المحل الهندسي الذي تمثله المعادلة $|z - 3 + 2i| = \sqrt{10}$ هو دائرة مركزها $(3, -2)$ وطول نصف قطرها $\sqrt{10}$ وحدات، ومعادلتها الديكارتية هي: $(x - 3)^2 + (y + 2)^2 = 10$
المحل الهندسي الذي تمثله المعادلة $|z - 6i| = |z - 7 + i|$ هو المنصف العمودي للقطعة المستقيمة التي طرفاها $(0, 6)$ و $(7, -1)$ ، نستطيع إيجاد معادلته الديكارتية عن طريق ميل العمودي ونقطة منتصف القطعة المستقيمة: $m = 1 \rightarrow y - \frac{5}{2} = x - \frac{7}{2} \Rightarrow y = x - 1$



لإيجاد الأعداد المركبة التي تحقق المعادلتين معاً، نجد نقاط تقاطع المنحنيين:

$(x - 3)^2 + (y + 2)^2 = 10$ و $y = x - 1$ بالتعويض:

$$(x - 3)^2 + (y + 2)^2 = 10 \rightarrow (x - 3)^2 + (x - 1 + 2)^2 = 10$$

$$\rightarrow 2x^2 - 4x = 0 \rightarrow 2x(x - 2) = 0$$

$$\rightarrow x = 0, x = 2 \rightarrow y = -1 \text{ or } y = 1$$

العددان المركبان اللذان يحققان المعادلتين معاً هما: $z_1 = -i, z_2 = 2 + i$

$$|z - 3| = |z + 2i| \rightarrow |(x - 3) + iy| = |x + i(y + 2)|$$

$$\rightarrow (x - 3)^2 + y^2 = x^2 + (y + 2)^2$$

$$\rightarrow -6x + 9 = 4y + 4$$

$$\rightarrow 6x + 4y = 5 \dots \dots \dots (1)$$

$$|z + 3 - i| = |z - 1 + 5i| \rightarrow |(x + 3) + i(y - 1)| = |(x - 1) + i(y + 5)|$$

$$\rightarrow (x + 3)^2 + (y - 1)^2 = (x - 1)^2 + (y + 5)^2$$

$$\rightarrow x^2 + 6x + 9 + y^2 - 2y + 1 = x^2 - 2x + 1 + y^2 + 10y + 25$$

$$\rightarrow 8x - 12y - 16 = 0$$

$$\rightarrow 2x - 3y = 4 \dots \dots \dots (2)$$

بحل المعادلتين (1) و (2) نجد: $x = \frac{31}{26}$ و $y = -\frac{7}{13}$

ويكون العدد المركب الذي يحقق كلاً من المعادلتين هو: $z = \frac{31}{26} - \frac{7}{13}i$

24

25



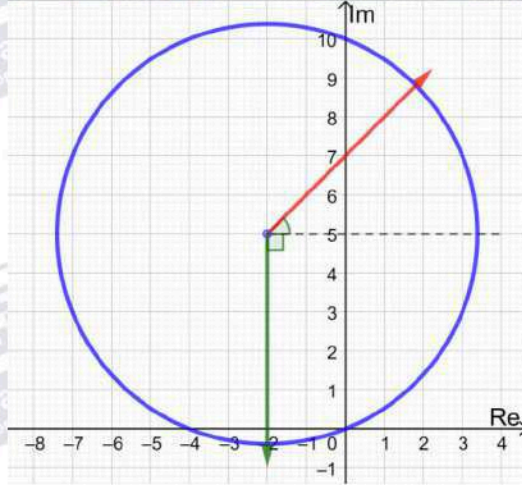
يمثل منحنى المعادلة $\text{Arg}(z + 2 - 5i) = \frac{\pi}{4}$ شعاعاً يبدأ من النقطة $(-2, 5)$ ولا يشملها، ويصنع

زاوية قياسها $\frac{\pi}{4}$ مع مستقيم يوازي المحور الحقيقي

و يمثل منحنى المعادلة $\text{Arg}(z + 2 - 5i) = -\frac{\pi}{2}$ شعاعاً يبدأ من النقطة $(-2, 5)$ ولا يشملها،

ويصنع زاوية قياسها $-\frac{\pi}{4}$ مع مستقيم يوازي المحور الحقيقي

و يمثل منحنى المعادلة $|z + 2 - 5i| = \sqrt{29}$ دائرة مركزها $(-2, 5)$ وطول نصف قطرها $\sqrt{29}$





1) $|z - 3| > |z + 2i|$

المنحنى الحدودي لهذه المتباينة معادلته $|z - 3| = |z + 2i|$ وهو المنصف العمودي للقطعة المستقيمة التي طرفاها $(0, -2)$ و $(3, 0)$. وبما أنه لا توجد مساواة في رمز المتباينة، فإننا نرسم المنحنى الحدودي متقطعاً.

نحدد جهة المنحنى الحدودي التي تحقق المتباينة باختيار $z = 0$ مثلاً وتعويضه في المتباينة،

$|0 - 3| > |0 + 2i| \rightarrow 3 > 2$ ✓

بما أن العدد 0 يحقق المتباينة، فإن منطقة الحلول الممكنة هي المنطقة التي تحوي $z = 0$ (نقطة الأصل)

2) $|z + 3 - i| < |z - 1 + 5i|$

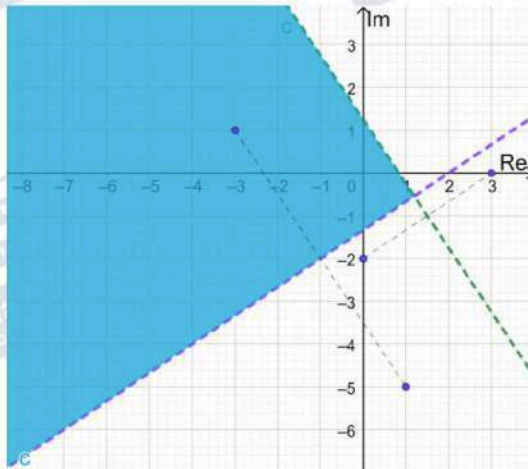
المنحنى الحدودي لهذه المتباينة معادلته $|z + 3 - i| = |z - 1 + 5i|$ وهو المنصف العمودي للقطعة المستقيمة التي طرفاها $(1, -5)$ و $(-3, 1)$. وبما أنه لا توجد مساواة في رمز المتباينة، فإننا نرسم المنحنى الحدودي متقطعاً.

نحدد جهة المنحنى الحدودي التي تحقق المتباينة باختيار $z = 0$ مثلاً وتعويضه في المتباينة،

27 $|0 + 3 - i| < |0 - 1 + 5i| \rightarrow \sqrt{10} < \sqrt{26}$ ✓

بما أن العدد 0 يحقق المتباينة، فإن منطقة الحلول الممكنة هي المنطقة التي تحوي $z = 0$ (نقطة الأصل)

المحل الهندسي للنقاط التي تحقق المتباينتين معاً هو المنطقة المظللة في الشكل أدناه:





1) $-\frac{\pi}{2} < \text{Arg}(z + 2 - 5i) < \frac{\pi}{4}$

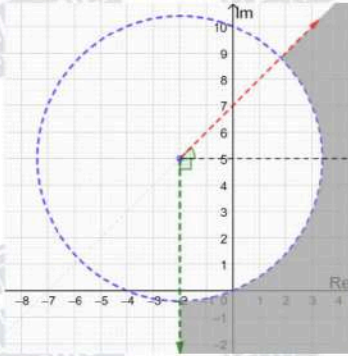
يمثل منحنى المعادلة $\text{Arg}(z + 2 - 5i) = \frac{\pi}{4}$ شعاعًا (نرسمه متقطعًا بسبب عدم وجود مساواة في المتباينة) يبدأ من النقطة $(-2, 5)$ ولا يشملها، ويصنع زاوية قياسها $\frac{\pi}{4}$ مع مستقيم مواز للمحور الحقيقي.

و يمثل منحنى المعادلة $\text{Arg}(z + 2 - 5i) = -\frac{\pi}{2}$ شعاعًا (نرسمه متقطعًا بسبب عدم وجود مساواة في المتباينة) يبدأ من النقطة $(-2, 5)$ ولا يشملها، ويصنع زاوية قياسها $-\frac{\pi}{2}$ مع مستقيم مواز للمحور الحقيقي.

2) $|z + 2 - 5i| > \sqrt{29}$

28

و يمثل منحنى المعادلة $|z + 2 - 5i| = \sqrt{29}$ دائرة مركزها $(-2, 5)$ وطول نصف قطرها $\sqrt{29}$ ونرسمها متقطعة بسبب عدم وجود مساواة في المتباينة المحل الهندسي للنقاط التي تحقق المتباينتين معًا هو المنطقة المظللة في الشكل أدناه:





1) $-\frac{\pi}{4} \leq \text{Arg}(z - 2i) \leq \frac{\pi}{3}$

يمثل منحنى المعادلة $\text{Arg}(z - 2i) = -\frac{\pi}{4}$ شعاعاً (نرسمه متصلًا بسبب وجود مساواة في المتباينة) يبدأ من النقطة $(0, 2)$ ولا يشملها، ويصنع زاوية قياسها $-\frac{\pi}{4}$ مع مستقيم مواز للمحور الحقيقي.

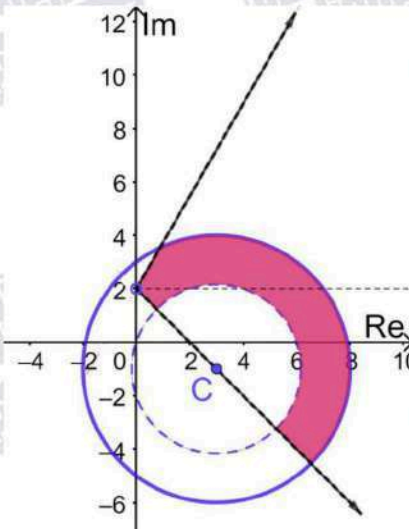
و يمثل منحنى المعادلة $\text{Arg}(z - 2i) = \frac{\pi}{3}$ شعاعاً (نرسمه متصلًا بسبب وجود مساواة في المتباينة) يبدأ من النقطة $(0, 2)$ ولا يشملها، ويصنع زاوية قياسها $\frac{\pi}{3}$ مع مستقيم مواز للمحور الحقيقي.

2) $2 < |z - 3 + i| \leq 5$

و يمثل منحنى المعادلة $|z - 3 + i| = 5$ دائرة مركزها $(3, -1)$ وطول نصف قطرها 5
نرسمها متصلة بسبب وجود مساواة في المتباينة

و يمثل منحنى المعادلة $|z - 3 + i| = 2$ دائرة مركزها $(3, -1)$ وطول نصف قطرها 2
نرسمها متقطعة بسبب عدم وجود مساواة في المتباينة

المحل الهندسي للنقاط التي تحقق المتباينتين معا هو المنطقة المظللة في الشكل أدناه:



29

30 $|z - (1 + i)| = 3$

نبدأ بالتحقق من أن المستقيم المرسوم هو فعلاً العمود المنصف القطعة المستقيمة التي طرفاها $(3, 2)$ و $(-1, 0)$:

ميل القطعة المستقيمة يساوي $\frac{1}{2}$ وميل المستقيم يساوي -2 فهما متعامدان،

31 معادلة المستقيم هي $y = 3 - 2x$ ، ونقطة منتصف القطعة المستقيمة هي $(1, 1)$ وهي واقعة على المستقيم لأن إحداثيها يحققان معادلته،

إذن المستقيم المرسوم هو المنصف العمودي للقطعة، ومعادلته:

$|z - (3 + 2i)| = |z - (-1)|$



32	$\text{Arg}(z + 1 - 2i) = -\frac{3\pi}{4}$
33	$r = \sqrt{(4-0)^2 + (1-7)^2} = \sqrt{52}$ $ z - (4+i) \geq \sqrt{52}$
34	قياس الزاوية بين الشعاع والمستقيم الموازي للمحور الحقيقي هو $-\frac{\pi}{4}$ لأن ميل الشعاع -1 $-\frac{\pi}{4} \leq \text{Arg}(z + 2 - i) < 0$
35	$ z + 2 + i \leq 3$ $ z + 6 \geq z + 4i $
36	<p>نفرض أن $a \neq 0$:</p> $ z - a = z + a(2 + i) \rightarrow x - a + iy = x + 2a + i(y + a) $ $\rightarrow (x - a)^2 + y^2 = (x + 2a)^2 + (y + a)^2$ $\rightarrow y = -3x - 2a \dots \dots \dots (1)$ $ z - a = 2a \rightarrow (x - a) + iy = 2a$ $\rightarrow (x - a)^2 + y^2 = 4a^2 \dots \dots \dots (2)$ $(x - a)^2 + (-3x - 2a)^2 = 4a^2$ $x^2 - 2ax + a^2 + 9x^2 + 12ax + 4a^2 = 4a^2$ $10x^2 + 10ax + a^2 = 0$ $x = \frac{-10a \pm \sqrt{100a^2 - 40a^2}}{20}$ $= \frac{-10a \pm \sqrt{60a^2}}{20} = \frac{-10a \pm 2a\sqrt{15}}{20}$ $x = -\frac{a}{2} \pm \frac{a\sqrt{15}}{10}$ $y = -3\left(-\frac{a}{2} \pm \frac{a\sqrt{15}}{10}\right) - 2a = -\frac{a}{2} \mp \frac{3a\sqrt{15}}{10}$ <p>إذا كان $a \neq 0$ فإن العددين المطلوبين هما:</p> $-\frac{a}{2} + \frac{a\sqrt{15}}{10} - \left(\frac{a}{2} + \frac{3a\sqrt{15}}{10}\right)i, -\frac{a}{2} - \frac{a\sqrt{15}}{10} - \left(\frac{a}{2} - \frac{3a\sqrt{15}}{10}\right)i$ <p>أما إذا كان $a = 0$ فيوجد عدد مركب وحيد يحقق المعادلتين وهو: $z = 0$</p>

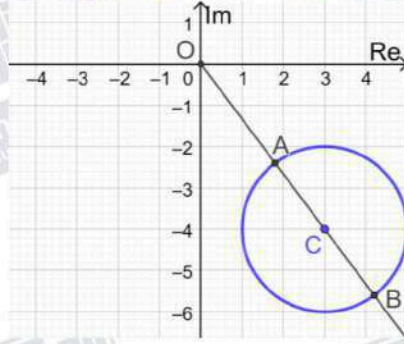


$$|z - 3 + 4i| = 2 \rightarrow |z - (3 - 4i)| = 2$$

z يقع على الدائرة التي مركزها $(3, -4)$ وطول نصف قطرها 2

نفرض $z = x + iy$ فإن:

$|z|$ يساوي $\sqrt{x^2 + y^2}$ وهو يمثل البعد بين النقطة (x, y) ونقطة الأصل في المستوى الديكارتي



من الشكل أعلاه نجد أن:

$$OC = \sqrt{9 + 16} = 5$$

أقل قيمة لـ $|z|$ هي: $|z| = OC - r = 5 - 2 = 3$

أكبر قيمة لـ $|z|$ هي: $|z| = OC + r = 5 + 2 = 7$

$$z = 5 + 2i \rightarrow \bar{z} = 5 - 2i$$

$$38 \quad \frac{z}{\bar{z}} = \frac{5 + 2i}{5 - 2i} \times \frac{5 + 2i}{5 + 2i} = \frac{25 + 20i - 4}{25 + 4} = \frac{21 + 20i}{29} = \frac{1}{29}(21 + 20i)$$

$$Arg(z) = \tan^{-1} \frac{2}{5}$$

$$Arg(\bar{z}) = -\tan^{-1} \frac{2}{5}$$

$$39 \quad Arg\left(\frac{z}{\bar{z}}\right) = \tan^{-1} \frac{20}{21}$$

$$Arg\left(\frac{z}{\bar{z}}\right) = Arg(z) - Arg(\bar{z}) \rightarrow \tan^{-1} \frac{20}{21} = \tan^{-1} \frac{2}{5} - (-\tan^{-1} \frac{2}{5})$$
$$\rightarrow \tan^{-1} \frac{20}{21} = 2 \tan^{-1} \frac{2}{5}$$



40	$ z - 6 = 2 z + 6 - 9i \rightarrow x - 6 + iy = 2 (x + 6) + i(y - 9) $ $\rightarrow (x - 6)^2 + y^2 = 4((x + 6)^2 + (y - 9)^2)$ $\rightarrow x^2 - 12x + 36 + y^2 = 4(x^2 + 12x + 36 + y^2 - 18y + 81)$ $\rightarrow x^2 + y^2 + 20x - 24y + 144 = 0$ $\rightarrow (x + 10)^2 + (y - 12)^2 = 100$ <p>وهي معادلة دائرة مركزها $(-10, 12)$ وطول نصف قطرها 10</p>
41	$\text{Arg}(z - 2 + 3i) = \frac{\pi}{8}$ <p>المحل الهندسي لهذه المعادلة هو شعاع ينطلق من النقطة $(2, -3)$ ولا يشملها، ويصنع زاوية قياسها $\frac{\pi}{8}$ مع مستقيم يوازي المحور الحقيقي، وهو الممثل بالشكل b</p> <p>أما الشكل a فنقطة بداية الشعاع ليست صحيحة</p> <p>والشكل c فنقطة بداية الشعاع مشمولة، وهو ليس صحيحاً</p> <p>والشكل d فسعة العدد المركب هي $-\frac{\pi}{8}$ وهو مخالف للسعة المعطاة بالمعادلة.</p>



1	c
2	b
3	c
4	b
5	a
6	d
7	$\sqrt{45 - 28i} = x + iy \rightarrow 45 - 28i = x^2 - y^2 + 2ixy$ $\rightarrow x^2 - y^2 = 45, 2xy = -28 \rightarrow y = -\frac{14}{x}$ $\rightarrow x^2 - \frac{196}{x^2} = 45$ $\rightarrow x^4 - 45x^2 - 196 = 0$ $\rightarrow (x^2 - 49)(x^2 + 4) = 0$ $\rightarrow x = 7, y = -2 \text{ or } x = -7, y = 2$ <p>الجذران التربيعيان للعدد $45 - 28i$ هما: $7 - 2i$ و $-7 + 2i$</p>
8	$ w = \sqrt{\left(-\frac{\sqrt{3}}{3}\right)^2 + \left(-\frac{1}{2}\right)^2} = \sqrt{\frac{7}{12}}$ $\text{Arg}(w) = -\left(\pi - \tan^{-1}\left(\frac{\frac{1}{2}}{\frac{\sqrt{3}}{3}}\right)\right) = -\left(\pi - \tan^{-1}\left(\frac{\sqrt{3}}{2}\right)\right) = -2.28$
9	$z + w = a - 8 + 10i \rightarrow z + w = \sqrt{(a - 8)^2 + 100} = 26$ $\rightarrow (a - 8)^2 + 100 = 676 \rightarrow (a - 8)^2 = 576 \rightarrow a - 8 = -24 \rightarrow a = -16$
10	$\omega = \frac{14 - 31i}{3 - 2i} \times \frac{3 + 2i}{3 + 2i} = \frac{104 - 65i}{9 + 4} = 8 - 5i$



11

$$(8 - 5i)^2 + c(8 - 5i) + d = 0 \rightarrow 64 - 80i - 25 + 8c - 5ci + d = 0$$
$$\rightarrow 39 + d + 8c - i(80 + 5c) = 0$$
$$\rightarrow 39 + d + 8c = 0, 80 + 5c = 0$$
$$\rightarrow c = -16, d = 89$$

حل آخر:

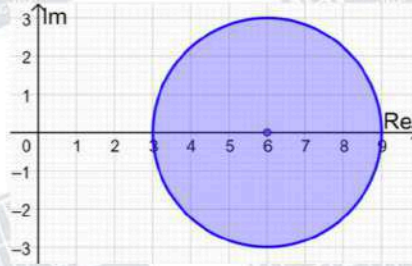
$$\omega = 8 - 5i \rightarrow \bar{\omega} = 8 + 5i$$
$$\rightarrow c = -(\omega + \bar{\omega}) = -16$$
$$\rightarrow d = \omega \times \bar{\omega} = 64 + 25 = 89$$

12

$$|z - 6| \leq 3$$

المنحنى الحدودي لهذه المتباينة معادلته $|z - 6| = 3$ ، وهو دائرة مركزها $(6, 0)$ وطول نصف قطرها 3 وحدات.

وبما أنه توجد مساواة في رمز المتباينة، فإننا نرسم المنحنى الحدودي متصلًا. أما منطقة المحل الهندسي فهي داخل الدائرة وعلى محيطها وليس خارجها، لأن الأعداد المركبة التي تحقق المتباينة تبعد عن مركز الدائرة مسافة تقل عن طول نصف القطر أو تساويها.





$$\frac{\pi}{4} \leq \text{Arg}(z - 2) \leq \frac{2\pi}{3}$$

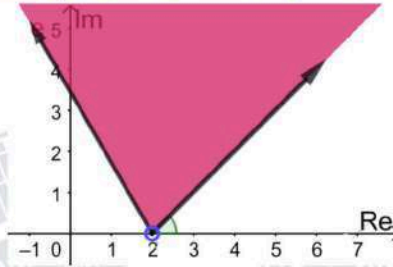
يمثل منحنى المعادلة $\text{Arg}(z - 2) = \frac{\pi}{4}$ شعاعاً (نرسمه متصلًا بسبب وجود المساواة في المتباينة) يبدأ

من النقطة $(2, 0)$ ولا يشملها، ويصنع زاوية قياسها $\frac{\pi}{4}$ مع المحور الحقيقي

ويمثل منحنى المعادلة $\text{Arg}(z - 2) = \frac{2\pi}{3}$ شعاعاً (نرسمه متصلًا بسبب وجود المساواة في المتباينة)

ببدأ من النقطة $(2, 0)$ ولا يشملها، ويصنع زاوية قياسها $\frac{2\pi}{3}$ مع المحور الحقيقي

المحل الهندسي للنقاط التي تحقق المتباينة هو المنطقة المظللة في الشكل أدناه:



13

$$|z + 1 + i| > |z - 3 - 3i|$$

المنحنى الحدودي لهذه المتباينة معادلته $|z + 1 + i| = |z - 3 - 3i|$

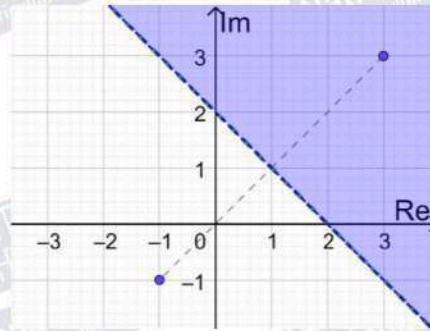
وهو المنصف العمودي للقطعة المستقيمة التي طرفاها $(3, 3)$ و $(-1, -1)$.

وبما أنه لا توجد مساواة في رمز المتباينة، فإننا نرسم المنحنى الحدودي متقطعاً.

نحدد جهة المنحنى الحدودي التي تحقق المتباينة باختيار $z = 0$ مثلاً وتوضيحه في المتباينة،

$$|0 + 1 + i| > |0 - 3 - 3i| \rightarrow \sqrt{2} > \sqrt{18} \quad \times$$

بما أن العدد لا يحقق المتباينة، فإن منطقة الحلول الممكنة هي المنطقة التي لا تحوي $z = 0$



14

$$NO = \sqrt{16 + 49} = \sqrt{65}$$

$$15 \quad MO = \sqrt{1 + 64} = \sqrt{65}$$

إذن المثلث OMN متطابق الضلعين



باستخدام قانون جيبس التمام في المثلث OMN:

16

$$(NM)^2 = (NO)^2 + (MO)^2 - 2(NO)(MO) \cos \angle MON$$

$$\rightarrow \cos \angle MON = -\frac{234 - 130}{130} = -\frac{4}{5}$$

17

$$A = \frac{1}{2}(NO)(MO) \sin \angle MON = \frac{1}{2} \times 65 \times \frac{3}{5} = \frac{39}{2}$$

$$|z - 8| > |z + 2i|$$

المنحنى الحدودي لهذه المتباينة معادلته $|z - 8| = |z + 2i|$

وهو المنصف العمودي للقطعة المستقيمة التي طرفاها $(0, -2)$ و $(8, 0)$.

وبما أنه لا توجد مساواة في رمز المتباينة، فإننا نرسم المنحنى الحدودي متقطعاً.

$$-\frac{\pi}{4} < \text{Arg}(z + 3 - 6i) < \frac{\pi}{4}$$

يمثل منحنى المعادلة $\text{Arg}(z + 3 - 6i) = \frac{\pi}{4}$ شعاعاً (نرسمه متقطعاً بسبب عدم وجود مساواة في

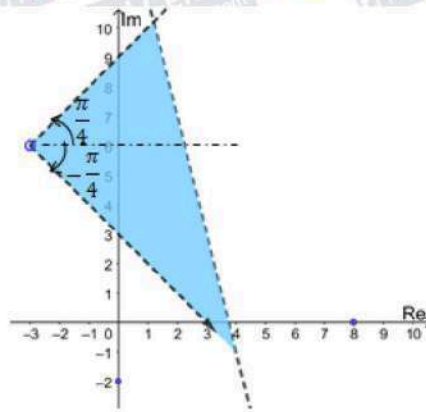
المتباينة) يبدأ من النقطة $(-3, 6)$ ولا يشملها، ويصنع زاوية قياسها $\frac{\pi}{4}$ مع مستقيم مواز للمحور الحقيقي

18

ويمثل منحنى المعادلة $\text{Arg}(z + 3 - 6i) = \frac{2\pi}{3}$ شعاعاً (نرسمه متقطعاً بسبب عدم وجود مساواة في

المتباينة) يبدأ من النقطة $(-3, 6)$ ولا يشملها، ويصنع زاوية قياسها $-\frac{\pi}{4}$ مع مستقيم مواز للمحور

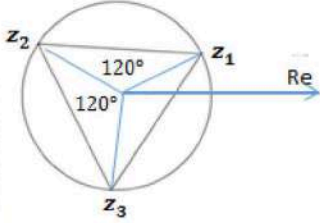
الحقيقي. المحل الهندسي للنقاط التي تحقق المتباينتين هو المنطقة المظللة في الشكل أدناه:





$$r = |4 + 2i| = \sqrt{16 + 4} = \sqrt{20} = |z_1| = |z_2| = |z_3|$$

إذا وقعت رؤوس مثلث متطابق الأضلاع على دائرة، فإن قياس الزاوية المركزية التي ضلعاها يمران برأسين من رؤوس هذا المثلث يساوي $\frac{2\pi}{3}$



نفرض z_1, z_2, z_3 الأعداد المركبة التي تمثل هذه الرؤوس، حيث $z_1 = 4 + 2i$ ، وهو في الربع الأول، فإن العدد z_2 يقع في الربع الثاني، والعدد z_3 يقع في الربع الثالث.

$$Arg(z_2) = Arg(z_1) + \frac{2\pi}{3}, Arg(z_3) = Arg(z_1) - \frac{2\pi}{3}$$

بما أن $Arg(z_2) = Arg(z_1) + \frac{2\pi}{3}$ ، $|z_1| = |z_2|$ ، فإن z_2 هو ناتج ضرب z_1 في العدد المركب الذي مقياسه 1، و ساعته $\frac{2\pi}{3}$ وهو:

19

$$z = 1 \left(\cos \frac{2\pi}{3} + i \sin \frac{2\pi}{3} \right) = -\frac{1}{2} + i \frac{\sqrt{3}}{2}$$

$$z_2 = (4 + 2i) \left(-\frac{1}{2} + i \frac{\sqrt{3}}{2} \right) = -2 + 2i\sqrt{3} - i - 2\sqrt{3}$$
$$= -(2 + 2\sqrt{3}) + (2\sqrt{3} - 1)i$$

بما أن $Arg(z_3) = Arg(z_1) - \frac{2\pi}{3}$ ، $|z_1| = |z_3|$ ، فإن z_3 هو ناتج قسمة z_1 على العدد $-\frac{1}{2} + i \frac{\sqrt{3}}{2}$

$$z_3 = \frac{4 + 2i}{-\frac{1}{2} + i \frac{\sqrt{3}}{2}} = \frac{4 + 2i}{-\frac{1}{2} + i \frac{\sqrt{3}}{2}} \times \frac{-\frac{1}{2} - i \frac{\sqrt{3}}{2}}{-\frac{1}{2} - i \frac{\sqrt{3}}{2}} = \frac{-2 - 2i\sqrt{3} - i + \sqrt{3}}{\left(-\frac{1}{2}\right)^2 + \left(\frac{\sqrt{3}}{2}\right)^2}$$
$$= \frac{-2 - 2i\sqrt{3} - i + \sqrt{3}}{1} = -2 + \sqrt{3} - (2\sqrt{3} + 1)i$$



$$z^4 - 6z^3 + 14z^2 - 64z + 680 = 0$$

بما أن العدد $-2 + 4i$ هو حل لهذه المعادلة، إذن مرافقه $-2 - 4i$ يكون حلاً أيضاً ويكون ناتج ضربهما أحد عوامل كثير الحدود المرتبط بهذه المعادلة.

$$(z - (-2 + 4i))(z - (-2 - 4i)) = z^2 + 4z + 20$$

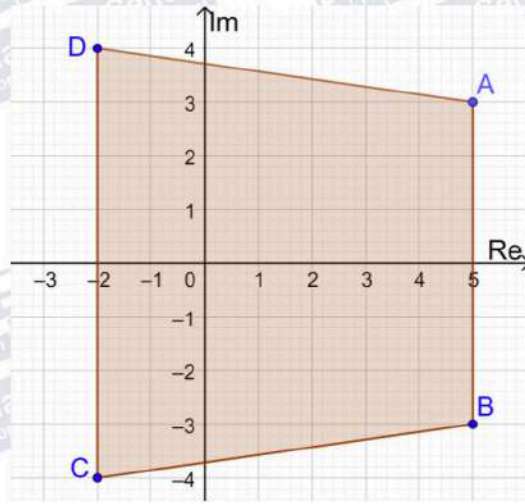
نقسم $z^4 - 6z^3 + 14z^2 - 64z + 680$ على $z^2 + 4z + 20$ فنجد أن:

$$z^4 - 6z^3 + 14z^2 - 64z + 680 = (z^2 + 4z + 20)(z^2 - 10z + 34) = 0$$

لإيجاد جذور المعادلة $z^2 - 10z + 34 = 0$ نستخدم القانون العام لحل المعادلة التربيعية:

$$z = \frac{10 \pm \sqrt{-36}}{2} = \frac{10 \pm 6i}{2} = 5 \pm 3i$$

فتكون الجذور الثلاثة المطلوبة هي: $5 + 3i, 5 - 3i, -2 - 4i$

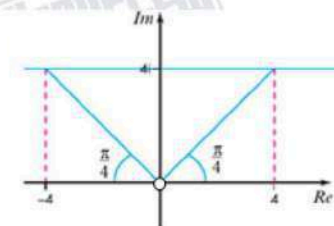


الرباعي ABCD هو شبه منحرف، مساحته بالوحدات المربعة تساوي:

$$A = \frac{1}{2}(7)(6 + 8) = 49$$

$$22 \quad 0 \leq \text{Arg}(z - 3i) \leq \frac{\pi}{3}$$



23	$z^2 + 2z + 10 = 0$ $\Delta = 4 - 40 = -36$ مميز المعادلة التربيعية سالب، إذن لهذه المعادلة جذران مركبان مترافقان، وحسب النظرية فإن العدان المركبان المترافقان لهما المقياس نفسه
24	$z_1 = \frac{-2 + \sqrt{-36}}{2} = -1 + 3i \rightarrow \text{Arg}(z_1) = \pi - \tan^{-1} 3$ $z_2 = \frac{-2 - \sqrt{-36}}{2} = -1 - 3i \rightarrow \text{Arg}(z_2) = -(\pi - \tan^{-1} 3)$
25	$w = \frac{22 + 4i}{(2 - i)^2} = \frac{22 + 4i}{3 - 4i} \times \frac{3 + 4i}{3 + 4i} = \frac{50 + 100i}{25} = 2 + 4i$
26	$\frac{\pi}{4} \leq \text{Arg}(w + p) \leq \frac{3\pi}{4}$ $\rightarrow \frac{\pi}{4} \leq \text{Arg}(2 + 4i + p) \leq \frac{3\pi}{4}$ $\rightarrow \frac{\pi}{4} \leq \text{Arg}(2 + p + 4i) \leq \frac{3\pi}{4}$  <p>نفرض أن العدد $2 + p + 4i$ هو z، فيكون التمثيل البياني للمتباينة $\frac{\pi}{4} \leq \text{Arg}(z) \leq \frac{3\pi}{4}$ كما في الشكل المجاور والأعداد التي تحقق هذه المتباينة هي الأعداد الواقعة بين الشعاعين المارين بنقطة الأصل ونلاحظ من الرسم أن الجزء الحقيقي للعدد z الذي يحقق هذه المتباينة ينحصر بين -4، و4، إذن، $-4 \leq 2 + p \leq 4 \rightarrow -6 \leq p \leq 2$</p>
27	$u + 2v = 2i \dots \dots \dots (1)$ $iu + v = 3 \dots \dots \dots (2)$ $i \times (2) + (1): v(2 + i) = 5i \rightarrow v = \frac{5i}{2 + i} \times \frac{2 - i}{2 - i} = \frac{10i + 5}{4 + 1} = 1 + 2i$ $\rightarrow u = 2i - 2(1 + 2i) = -2 - 2i$

