



## مراجعة الاختبار

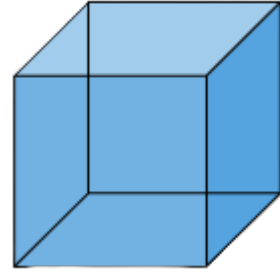
الصف الأول - التقويم النهائي - الرياضيات

نتيجة الاختبار 0 / 20



### السؤال الأول

يُسَمَّى الشَّكْل الآتي



هَرَم

أُسْطُوَانِي

مُتَوَازِي مُسْتَطِيلَات

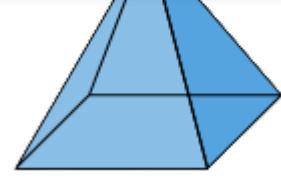
مُكَّعَب

الاجابة النموذجية

### الشرح

يُسَمَّى الشَّكْل مُكَّعَب

### السؤال الثاني



هرم

أسطواني

مُتوازي مستطيلات

مُكَّعَب

الاجابة النموذجية

### الشرح

يُسَمَّى الشَّكْل هَرَم

### السؤال الثالث

يُسَمَّى الشَّكْل الآتي



هرم

مخروط

مكعب

كرة

الاجابة النموذجية



يُسَمَّى الشَّكْل كُرَّة

السؤال الرابع

يُسَمَّى الشَّكْل الآتي



هَرَم

مَخْرُوط

مُكَّعَب

كُرَّة


الاجابة النموذجية

الشرح

يُسَمَّى الشَّكْل مَخْرُوط

السؤال الخامس

يُسَمَّى الشَّكْل الآتي



المُثَلَّث



المستطيل

الاجابة النموذجية

### الشرح

يُسَمَّى الشَّكْل المُمَثَّل

f

Instagram icon

Twitter icon

WhatsApp icon

YouTube icon

### السؤال السادس

عَدَد أضلاع المُسْتَطِيل

1

2

3

4

الاجابة النموذجية

### الشرح

عَدَد أضلاع المُسْتَطِيل 4 أضلاع

### السؤال السابع

عَدَدُ زُؤوس الدَّائِرَة

0

1

2



## الشرح

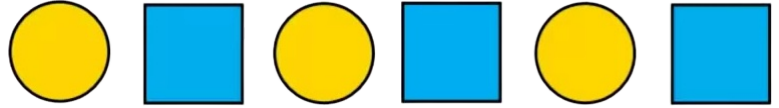
ليس للدائرة رؤوس ولا أضلاع

f




## السؤال الثامن

الشكل التالي في النمط



هُوَ



True

False

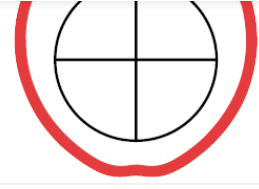
الاجابة النموذجية

## الشرح

الشكل التالي في النمط هو الدائرة

## السؤال التاسع

الشكل الذي داخل التفاحة يُمثّل 4 أجزاء مُتطابقة



True

False

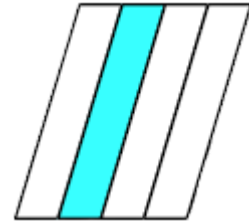
الاجابة النموذجية

### الشرح

العبارة صحيحة، حيث أنّ الشُّكل الذي داخل التُّفاحة يُمَثَّلُ 4 أجزاء مُتطابقة

### السؤال العاشر

الشُّكل الآتي يُمَثَّلُ نِصْفًا



True

False


الاجابة النموذجية

### الشرح



### السؤال أحد عشر

عَدَدُ الأجزاء المُتطابقة في الشَّكل هُوَ



3

4

5

6

الاجابة النموذجية

### الشرح

عَدَدُ الأجزاء المُتطابقة هُوَ 5 أجزاء

### السؤال اثنا عشر

إذا كان اليوم هُوَ السَّبْت، فإنَّ يوم أمس هُوَ

الخميس

الجمعة

السَّبْت

الأحد

## الشرح

إذا كان اليوم هُوَ **السَّبْت**، فإنَّ يوم أمس هُوَ **الجُمعة**

## السؤال ثلاثة عشر

عَدَدُ أَيَّامِ الأُسبوعِ هُوَ

5 أَيَّام

6 أَيَّام

7 أَيَّام

8 أَيَّام


الاجابة النموذجية

## الشرح

عَدَدُ أَيَّامِ الأُسبوعِ هُوَ 7 أَيَّام

## السؤال أربعة عشر

تُشير السَّاعةُ إلى الثَّامِنة والنِّصفِ



True

False




## الشرح

تُشير السّاعة إلى الثّامنة تمامًا

### السؤال خمسة عشر

تُشير السّاعة إلى الثّامنة والنّصف



True

False

الاجابة النموذجية

## الشرح

السّاعة الثّامنة والنّصف

### السؤال ستة عشر

عند قراءة السّاعة الآتية، أقول: السّاعة الرّابعة تمامًا



True

False

الاجابة النموذجية

الشرح

الساعة الرَّابِعة تَمَامًا



السؤال سبعة عشر

مَجْموع القطع النَّقدية الآتية هُوَ



65 قِرْشًا

56 قِرْشًا

60 قِرْشًا


61 قِرْشًا

## الشرح

مجموع القطع النقدية هو 56 قرشاً

### السؤال ثمانية عشر

أطول الحيوانات الآتية هو



الكلب

الزرافة

الفأر

أطوالهم متساوية

الاجابة النموذجية

## الشرح

أطول الحيوانات هو الزرافة

### السؤال تسعة عشر

أثقل الحيوانات الآتية هو



الوَظَةُ

كُتْلُهُمْ مُتَسَاوِيَةٌ

الاجابة النموذجية

## الشرح

أثْقَلُ الْحَيَوَانَاتِ هُوَ الْخَرُوفُ

## السؤال عشرون

الْوَعَاءُ الْأَكْثَرُ سَعَةً مِنْ بَيْنِ الصُّورِ الْآتِيَةِ هُوَ

1



2



3



1

2

3

جميعها لها نفس السعة

الاجابة النموذجية

## الشرح

الْوَعَاءُ الْأَكْثَرُ سَعَةً هُوَ الْوَعَاءُ رَقْم (1)



## روابط سريعة

الدورات

نافذة المعلم

مدرسة جو اكايمي

معلمون

الملفات

منح جواكايمي

بكجات وعروض

## الدعم

المساعدة

تواصل مع الدعم الفني

أخبار جواكايمي


من نحن

مكتبات

الشروط والاحكام

سياسة الخصوصية

حمل تطبيق الهاتف المحمول لجو اكايمي على موبايلك



حمل برنامج سطح المكتب لجو اكايمي على جهازك



صفحاتنا على مواقع التواصل الاجتماعي



جميع الحقوق محفوظة © لجواكاديمي 2024

