

حل اسئلة الدرس

حل أسئلة درس وَحَدَاتُ الكُتْلَةِ غَيْرُ القِياسِيَّةِ (كتاب

الطالب + كتاب التمارين)

كتاب الطالب

أَتَحَقَّقُ مِنْ فَهْمِي ✓

أَبْحَثُ عَنِ الْأَشْيَاءِ الْآتِيَةِ، وَأَقِيسُ كُتْلَهَا، مُسْتَعْمِلًا



1



تَقْرِيْبًا 10

2



تَقْرِيْبًا 15

3



تَقْرِيْبًا 20

4



تَقْرِيْبًا 5

5



تَقْرِيْبًا 50

6



تَقْرِيْبًا 40

7



تَقْرِيْبًا 30

8

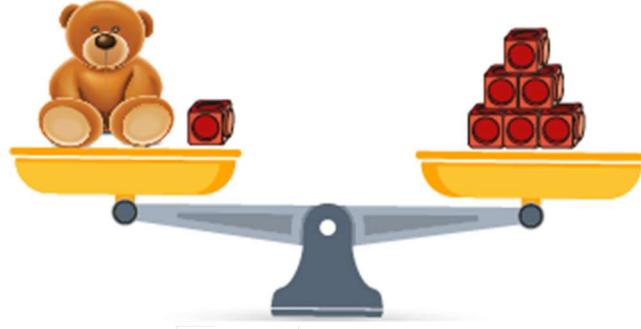


تَقْرِيْبًا 15

أَحُلُّ الْمَسْأَلَةَ



تَبْرِيْرٌ: كَمْ مُكْعَبًا كُتْلَةُ لَعْبَةِ الدُّبِّ؟ اُبْرِّرْ إِجَابَتِي.

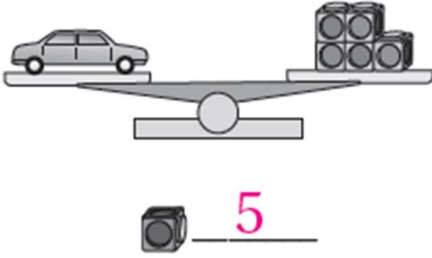


الإجابة: 5

كتاب التمارين

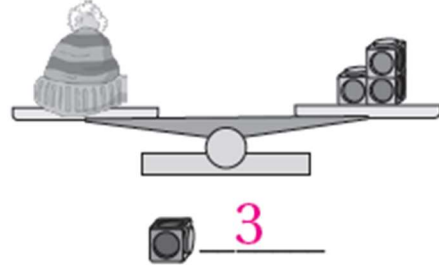
اكتب عدد المكعبات التي تمثل قياس الأشياء الآتية:

1



5

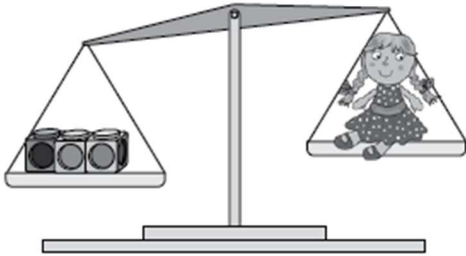
2



3

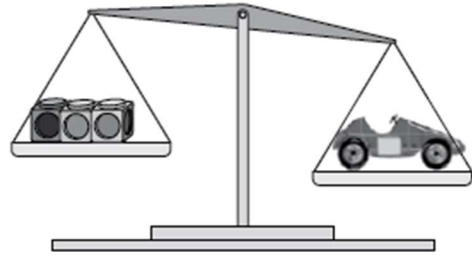
هل أضيف مكعبات أم أنقص منها ليتزن الميزان؟

3




أضيف أنقص

4



أضيف أنقص

إذا كانَ  ،  ،  فأرسمُ مَكْعَبَاتٍ لِيَتَّزْنَ الميزانُ.

