

## حل أسئلة الدرس

حل أسئلة درس استعمال القطع النقدية (كتاب الطالب

+ كتاب التمارين)

كتاب الطالب

أتحقق من فهمي ✓

أجد مجموع القطع النقدية، ثم أرسم ☺ أو ☹ لتحدد إذا كانت القطع النقدية التي معي تكفي لشراء الشيء المُبين في ما يأتي:

1



65 قرشًا.



2



40 قرشًا.



3



12 قرشًا.



أحلّ المسألة

التفكير المنطقي: أرسم قطعاً نقدية تكفي لشراء القصة.



95 قرشاً.

القطع النقدية (ثمن القصة):



كتاب التمارين

أحوط القطع النقدية اللازمة لشراء الأشياء الآتية:

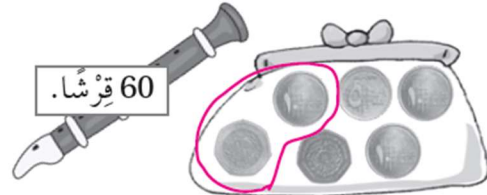
1




85 قرشاً.



2



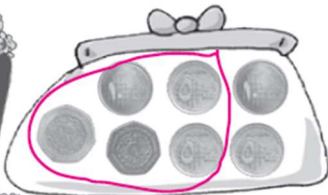
60 قرشاً.



3



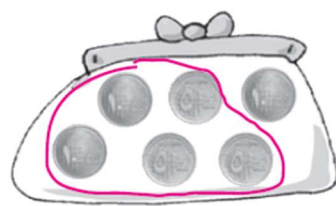
95 قرشاً.



4



35 قرشاً.



أجِدْ مَجْمُوعَ الْقِطَعِ النَّقْدِيَّةِ، ثُمَّ أَرَسِّمْ 😊 أَوْ 😞 لِتَحْدِيدِ  
إِذَا كَانَتْ الْقِطَعُ النَّقْدِيَّةُ الَّتِي مَعِيَ تَكْفِي لِشِرَاءِ الشَّيْءِ  
الْمُبَيَّنِ فِي مَا يَأْتِي:

5	 55 قِرْشًا.	 .65	
6	 80 قِرْشًا.	 75	
7	 90 قِرْشًا.	 95	

بيت الشامل