

حل اسئلة الدرس

حل أسئلة درس الوقت بالساعات الكاملة (كتاب

الطالب + كتاب التمارين)

كتاب الطالب

أَتَحَقَّقُ مِنْ فَهْمِي ✓

أَقْرَأُ الْوَقْتَ، ثُمَّ أَكْتُبُهُ فِي السَّاعَةِ الرَّقْمِيَّةِ :

1




الساعة الواحدة



2



الساعة الثالثة



أَرَسُمُ عَقْرَبِي الدَّقَائِقِ وَالسَّاعَاتِ بِحَسَبِ الْوَقْتِ الْمُعْطَى :

3



4



أَحُلُّ الْمَسْأَلَةَ



أَكْتَشَفُ الْخَطَأَ: رَسَمَ خَالِدٌ عَقْرَبِي السَّاعَةِ كَمَا فِي
السَّاعَةِ الْمُجَاوِرَةِ لِتُشِيرَ إِلَى السَّاعَةِ التَّاسِعَةِ.

أَكْتَشِفُ الْخَطَأَ الَّذِي وَقَعَ فِيهِ خَالِدٌ، ثُمَّ أَصَحِّحُهُ.



يتضح من رسم خالد أنّ عقرب الساعات لا يشير إلى الساعة التاسعة وعقرب الدقائق لا يشير إلى الساعة

12

أي أنّ الخطأ في رسم خالد أنّ موقع العقربين معكوس، فالأصل أن يكون عقرب الدقائق مكان عقرب الساعات وعقرب الساعات مكان عقرب الدقائق.

كتاب التمارين

أقرأ الوقت، ثمّ أكتبه في الساعة الرّقميّة:

1



07 : 00

الساعة السابعة

2



10 : 00

الساعة العاشرة

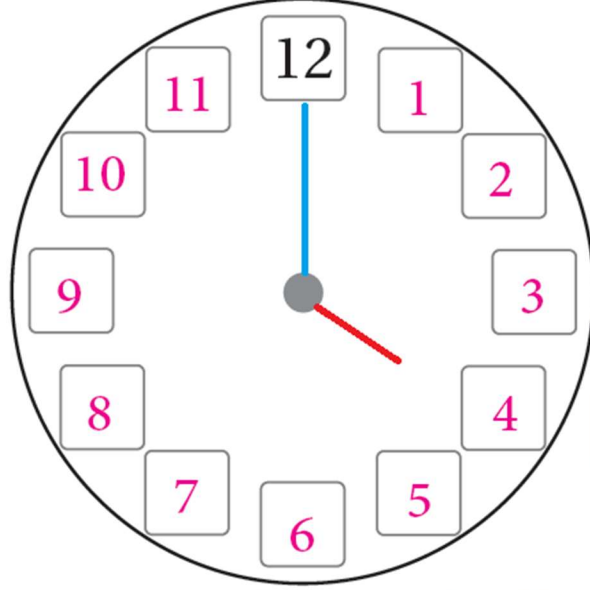
3



12 : 00

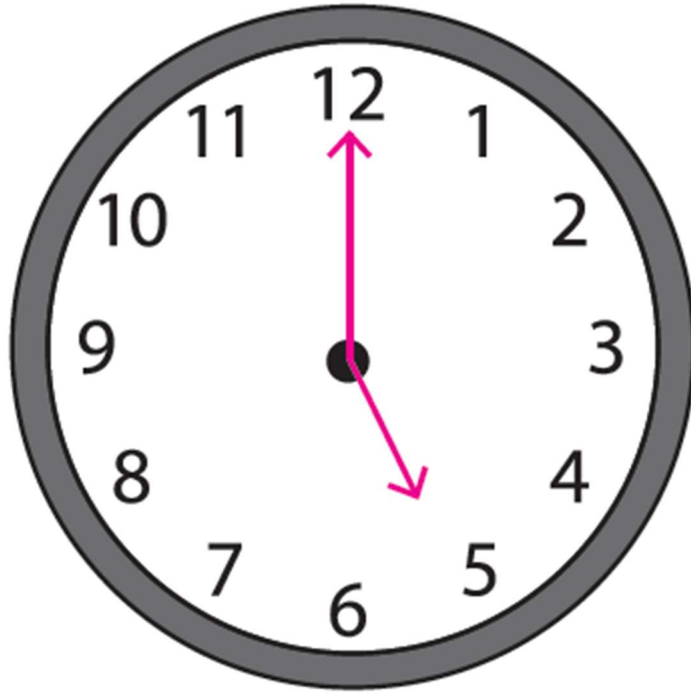
الساعة الثانية عشرة

أَكْتُبِ الْأَعْدَادَ الْمَفْقُودَةَ فِي السَّاعَةِ، ثُمَّ ارْسُمْ عَقْرَبِي
السَّاعَاتِ وَالِدَّقَائِقِ، بِحَيْثُ يُشِيرَانِ إِلَى السَّاعَةِ الرَّابِعَةِ:



بَدَأَ عَرْضُ بَرْنَامَجٍ عَلَى التِّلْفَازِ السَّاعَةَ الثَّلَاثَةَ، وَاسْتَمَرَ
عَرْضُهُ مُدَّةَ سَاعَتَيْنِ.

ارْسُمْ عَقْرَبِي السَّاعَاتِ وَالِدَّقَائِقِ عَلَى السَّاعَةِ الْمُجَاوِرَةِ،
بِحَيْثُ يُشِيرَانِ إِلَى وَقْتِ انْتِهَاءِ الْبَرْنَامَجِ.



المعلم الإلكتروني الشامل