

حل أسئلة الدرس

حل أسئلة درس الرُّبَع (كتاب الطالب + كتاب

التمارين)

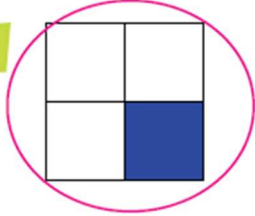
كتاب الطالب

أَتَحَقَّقُ مِنْ فَهْمِي

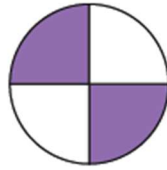


أَحْوِطُ الشَّكْلَ الَّذِي يُمَثِّلُ الرُّبْعَ، وَأَضَعُ إِشَارَةَ (خَطَأَ) عَلَى الشَّكْلِ الَّذِي لَا يُمَثِّلُ الرُّبْعَ:

1

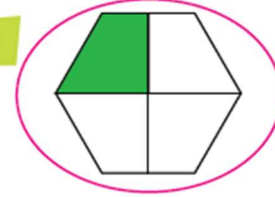


2




X

3



4

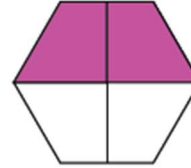


5



X

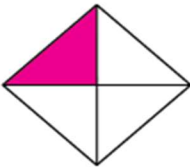
6



X

أَلَوِّنُ رُبْعَ الشَّكْلِ، ثُمَّ أَكْتُبُ الْكَسْرَ الَّذِي يُمَثِّلُ عَدَدَ الأجزاء التي لَوَّنتها:

7



1

عَدَدُ الأجزاء الملوَّنة:

4

عَدَدُ الأجزاء المتطابقة:

8



1

عَدَدُ الأجزاء الملوَّنة:

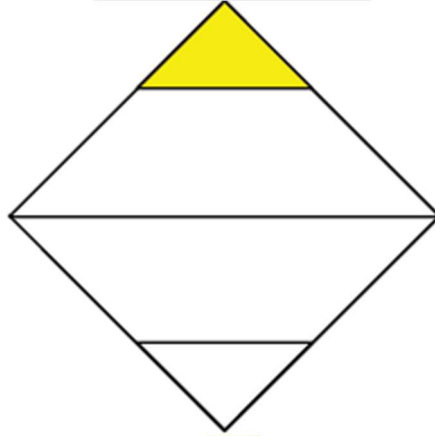
4

عَدَدُ الأجزاء المتطابقة:

أحل المسألة



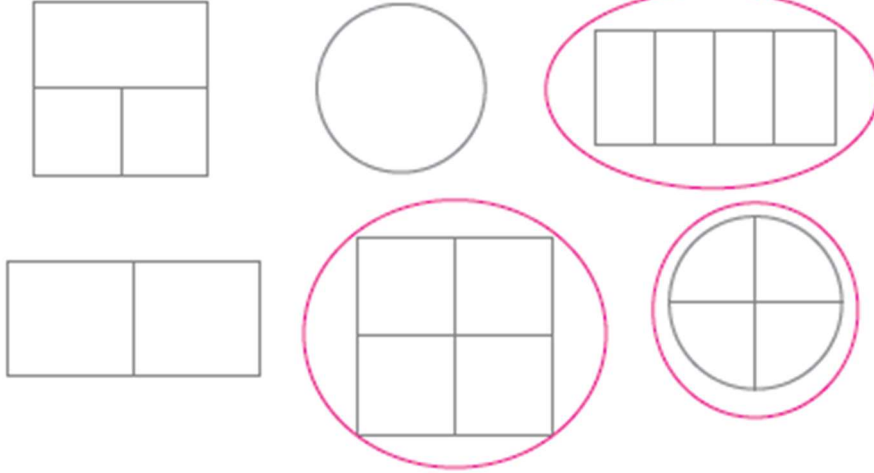
أكتشف الخطأ: قالت يارا: "إن الجزء المُظلل في الشكل المجاور يُمثّل ربعًا"، هل قولُ يارا صحيحٌ؟
أبرّر إجابتِي.



الإجابة: لا يُمثّل ربعًا؛ لأنّ الأجزاء الأربعة غير متطابقة.

كتاب التمارين

أحوط الشكل المُقسّم إلى 4 أجزاءٍ متطابقة:

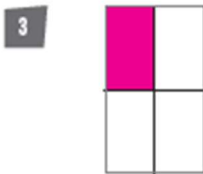


ألون رُبْعَ الشَّكْلِ، ثُمَّ أَكْتُبِ الْكَسْرَ الَّذِي يُمَثِّلُ عَدَدَ الأجزاء التي لَوْنَتها:



1 عَدَدُ الأجزاء المُلَوَّنة:

4 عَدَدُ الأجزاء المُنْتَطَبِقَةِ:



1 عَدَدُ الأجزاء المُلَوَّنة:

4 عَدَدُ الأجزاء المُنْتَطَبِقَةِ:

أضَعُ إِشارةً (صَح) بِجانِبِ الشَّكْلِ الَّذِي يُمَثِّلُ الرُّبْعَ:

