

حل أسئلة درس: الأنماط الهندسية (كتاب الطالب

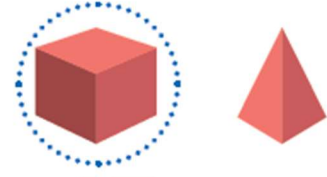
+ كتاب التمارين)

كتاب الطالب

أنتق من فهمي

أحوظ الشكل التالي في النمط:

1



2



أحوظ وحدة النمط، وأكملهُ برسم الشكل الناقص:

3



4



أحل المسألة



5 أَكْتَشِفُ الْخَطَأَ: "قَالَ سَامِرٌ: إِنَّ الشَّكْلَ التَّالِيَّ فِي

النَّمَطِ الْمُجَاوِرِ مُرَبَّعٌ لَوْنُهُ أَزْرَقٌ". هَلْ قَوْلُ سَامِرٍ

صَحِيحٌ؟ أَبْرِّرْ إِجَابَتِي.



لَيْسَ صَحِيحًا، الشَّكْلُ التَّالِيَّ فِي النَّمَطِ هُوَ مُسْتَطِيلٌ

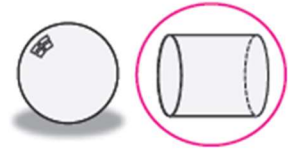
أَزْرَقٌ، التَّبْرِيرُ: لِأَنَّ وَحْدَةَ النَّمَطِ هِيَ مُثَلَّثٌ مُثَلَّثٌ

مُسْتَطِيلٌ

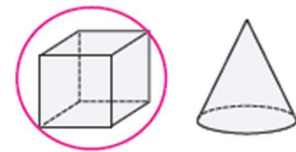
كتاب التمارين

أَحْوَطُ الشَّكْلَ التَّالِيَّ فِي النَّمَطِ:

1

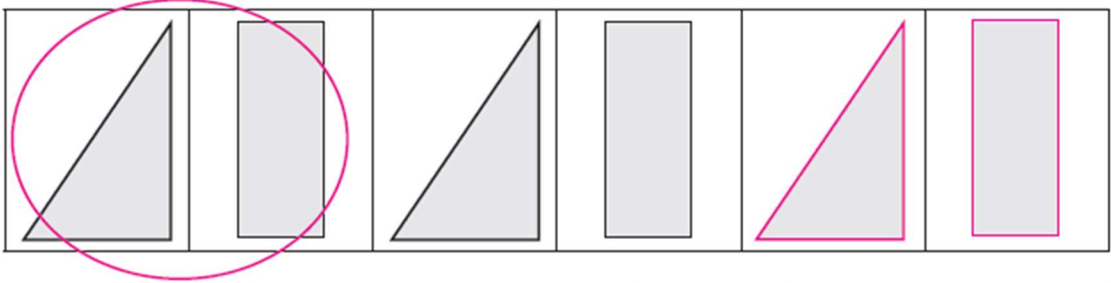


2

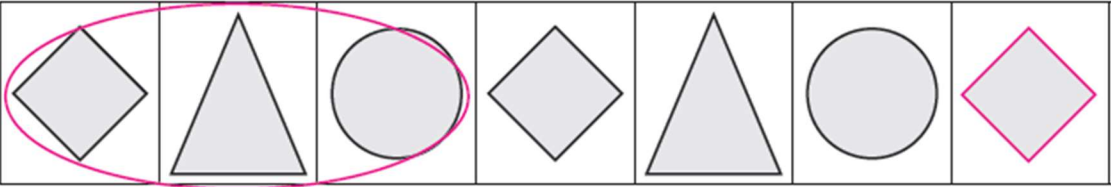


أَحْوَطُ وَحْدَةَ النَّمَطِ، ثُمَّ أَكْمِلُهُ بِرَسْمِ الْأَشْكَالِ الْمُنَاسِبَةِ:

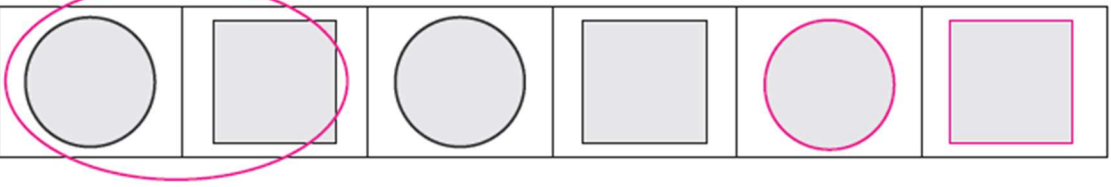
3



4



5



تذليل جو أكاديمي

المعلم الإلكتروني الشامل