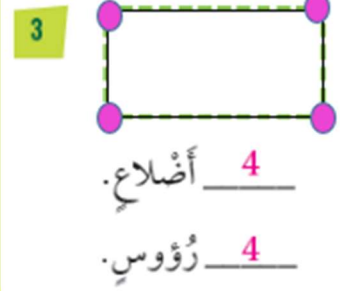
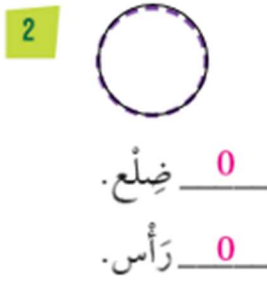
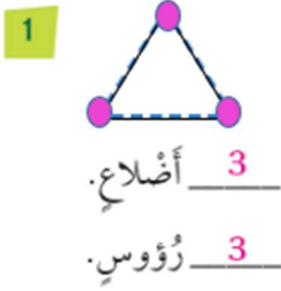


حل أسئلة درس: أضلاع الأشكال المستوية  
ورؤوسها (كتاب الطالب + كتاب التمارين)

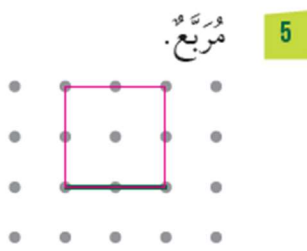
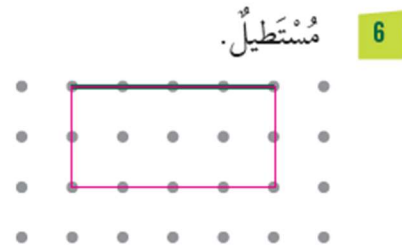
## كتاب الطالب

أنتق من فهمي

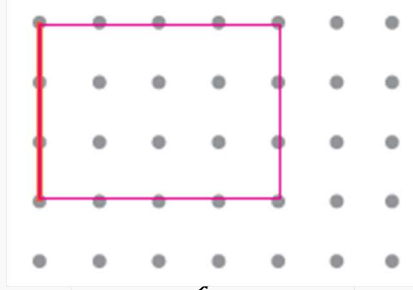
أمّر قلمي فوق الخط المنقط، ثم أرسم • على كل رأس، ثم أعدد الأضلاع والرؤوس:



أكمل في ما يأتي تمثيل كل شكل مستوي على الشبكة:  
المنقطة:



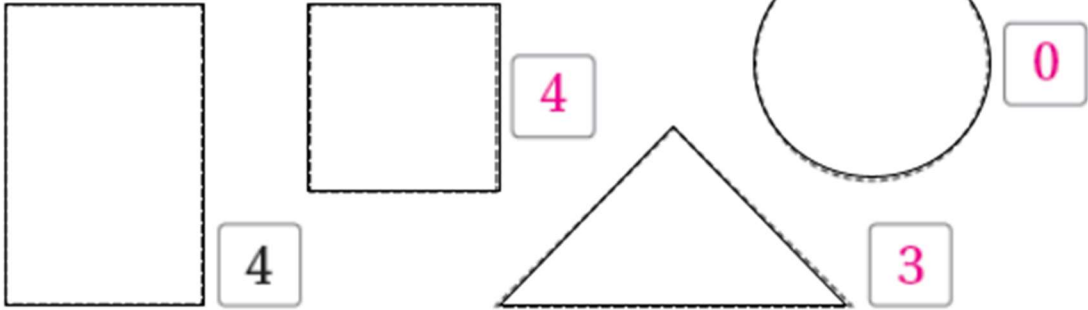
7 التفكير المنطقي: أكمّل الشكل المجاور لـ رَسْم مُسْتَطِيلٍ (أعطي 3 حلولٍ مختلفة).



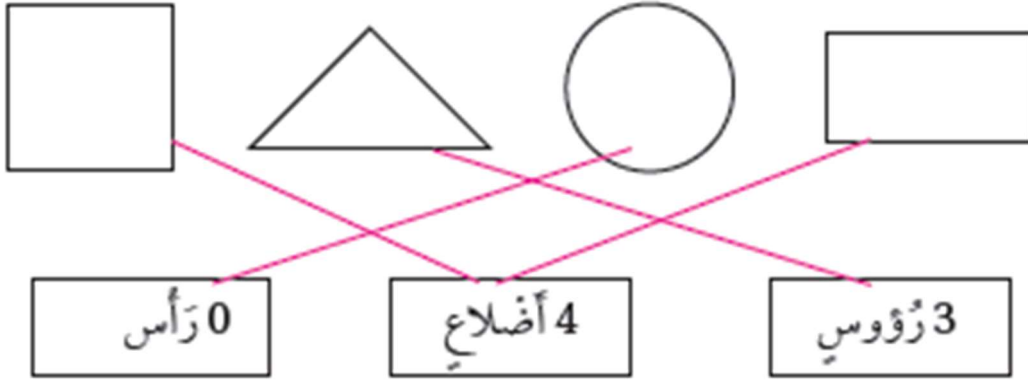
حلول أخرى

## كتاب التمارين

1 أمرُّ قلمي فوق الخطِّ المنقَّط، ثمَّ أكتبُ عددَ  
الضَّلَاعِ:



2: أصلُ الشَّكْلِ بالصَّنْدُوقِ الْمُنَاسِبِ



3 أَرَسُمُ عَلَى الشَّبَكَةِ الْمُنْقَطَةِ مِثْلًا، وَمُرَبَّعًا،  
وَمُسْتَطِيلًا:

