

حل أسئلة الدرس

حل أسئلة درس: الأشكال المُستويّة (كتاب الطالب

+ كتاب التمارين)

كتاب الطالب

أَتَحَقَّقُ مِنْ فَهْمِي



أَتَعَرَّفُ الشَّكْلَ الْمُسْتَوِيَّ فِي بَدَايَةِ الصَّفِّ، وَأُحَوِّطُ
الشَّيْءَ الَّذِي لَهُ الشَّكْلُ نَفْسُهُ:

1



2



3



أحل المسألة

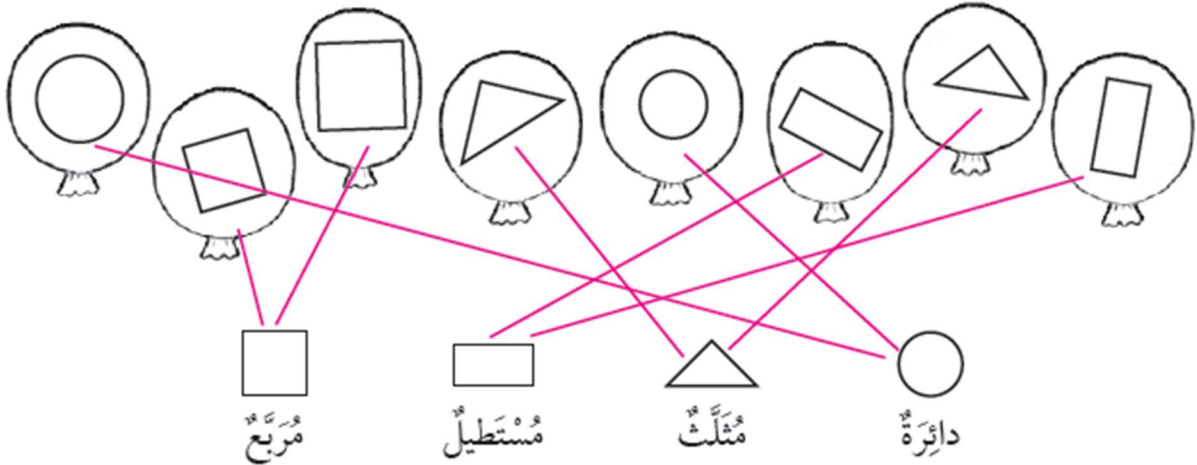
4 أيها مختلف: أحوط الشكل المختلف، مبرراً إجابتي:




التبرير: الدائرة، والمثلث، والمربع هي أشكال
مستوية، أما المكعب فهو مجسم.

كتاب التمارين

أصل البالون بالشكل المناسب:

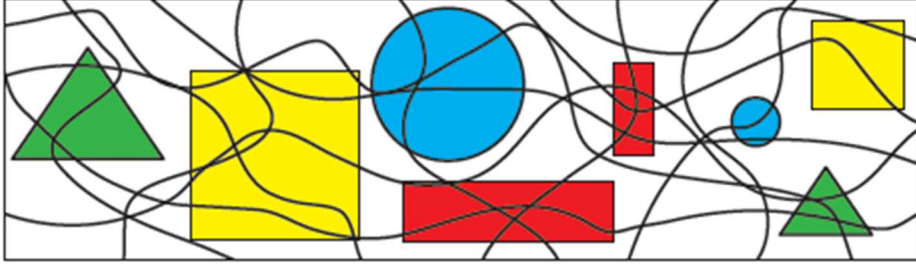


الْوْنُ الْمَنْزِلَ الْمُجَاوِرَ بِحَسَبِ مِفْتَاحِ الْوْنِ:



أَحْمَرُ: ▲
أَصْفَرُ: □
أَزْرَقُ: ○
أَخْضَرُ: □

الْوْنُ بِحَسَبِ مِفْتَاحِ الْوْنِ:



أَصْفَرُ: □
أَحْمَرُ: □
أَزْرَقُ: ○
أَخْضَرُ: ▲

تذليل جو أكاديمي

المعلم الإلكتروني الشامل